


新北市立鷺江國中 113 學年度第一學期第二次定期評量  
七 年 級 國 文 科 試 題 分 析

題號	答對率/ 鑑別度指標	題目
11	0	關於〈背影〉一文的敘述，下列何者正確？(A)從頭到尾都流露出兒子對父親的不捨之情(B)全文採用倒敘法描寫，最後才點出難忘的背影(C)藉由替兒子買橘子的事件，更加凸顯出父子間的深情(D)文中安排多個轉折點，描述父子情感的迂迴曲折
分析 內容	此題分析看到高分群語低分群無明顯差異。可加強學生對於課文的熟悉度，及對文章的理解及分析能力。順敘法、倒敘法、鏡框式寫法，可以再加強學生的認知。	
16	-0.125	一篇文章的寫作，通常不只一個面向，試問以下對〈背影〉一文所括的題材內容描述，何者完全正確？(A)表達對父親的不屑、對求職及求學困難的抒發(B)表達對困頓生活的無奈、對禍不單行的感傷(C)表達突破困境的心理歷程、表達對父愛的體會(D)表達對父親的關心、作者本身的追悔
分析 內容	此題分析看到高分群語低分群無明顯差異。此題改寫自課本後面的課後閱讀題目，選項僅排列組合、或小幅修改，因此看出學生對於課本的內容熟悉度可以再加強。	
22	0	 <p>上圖為環保署「一次用產品源頭減量宣導網」的政策說</p>

		明，下列敘述何者正確？(A) 本處的「一次用產品」指的是一次用塑膠製品 (B) 主要宣導一次用產品最後的製造期限是 2030 年 (C) 以表格方式宣導一次用產品減量的作法及時程 (D) 此政策宣示我國將於 2030 年成為「無塑」國家
分析 內容		圖表資料的檢索是本題的主要設計目的，學生必須從圖表中理解圖表的說明，並從中篩選出正確的選項，考驗學生的文意理解能力與圖表的判讀力，選項中的免洗餐具，很明確非屬一次性用產品，且 D 選項並無法由圖表中得到判讀
25	0.125	<p>題文節錄</p> <p>長頸鹿的睡眠時間是所有哺乳動物中最短，一天睡眠總時間低於兩小時，進入深度睡眠狀態只有幾分鐘。牠們通常站著打瞌睡，長長的脖子往下垂或掛在樹梢，就是最奢侈的休息。因為從睡夢階段醒來、在地上站起來，長頸鹿要花一分鐘，這很危險，嚴重地減低牠的逃生能力。所以，當長頸鹿真想趴著睡時，它的三條腿彎曲在肚子下，留另一條後腿伸展在一邊，長脖子呈弓形彎向後腿。這種奇特的睡姿既能縮小目標，又可在緊急情況下一躍而起。不只如此，長頸鹿還能睜著眼睛睡覺。</p> <p>要在非洲活下來，目前數量超過十萬隻的長頸鹿，已練就了多項本事。</p> <p>「要在非洲活下來，目前數量超過十萬隻的長頸鹿，已練就了多項本事。」下列何者不是長頸鹿為了生活練就出的本事？(A) 每天總共只睡三分鐘 (B) 真想趴著睡時也保持隨時警戒的狀態 (C) 能睜著眼睛睡 (D) 怕影響逃生通常站著打瞌睡</p>
分析 內容		本題為選讀課文，學生對於長文的理解，常會有因句子較長，或文章長而形成誤解文意的錯誤判讀，這是未來會考的文意理解趨勢，宜在教學上再做加強練習。

## 113-1-2 七年級國文閱讀測驗 第二次段考試題分析

### 一、難易度

難易度	題數	題號
易	1	5
中	15	
難	4	2、7、12、14

### 二、鑑別度

鑑別度	題數	題號
非常優良	11	
優良	5	6、7、11、14、18
尚可	4	2、9、12、20

### 三、答對率

答對率	題號
50%以上	
40~49%	1、9、10、13、16
30~39%	11、18
20~29%	2、7、12、14、20

### 四、試題分析

#### 一、林良〈在火車上〉

- ( ) 1. 依據上文觀點，請問下列選項中的寫作手法，何者與本文所提及之「水力發電」不同？
- (A) 日頭是追不到的，我沒有夸父的荒誕，但晚景的溫存卻被我這樣偷嘗了不少
- (B) 月光如流水一般，靜靜地瀉在這一片葉子和花上，薄薄的青霧浮起在荷塘裡，葉子和花彷彿在牛乳中洗過一樣
- (C) 帶一絲寒意的微語，使整個翡冷翠的古老屋宇和曲折巷道都蒙上一層幽暗與晦澀
- (D) 那天夜航到了漁場後，當水下燈垂入海面，才一、兩分鐘，舷邊就熱鬧地游聚了一群飛魚。

**試題分析** ◎難易度：0.45(中) ◎鑑別度：0.56(非常優良) ◎答對率：45.1%

✎ 答題狀況：(A) 16.5% (B) 18.1% (C) 19.9% (D) 45.1%

✎ 本題考點在理解作者的「觀點」，學生需能透過比喻理解「抒情」與「直言」的差別，應多加強學生梳理文字的能力，以及對文體的辨識能力。

#### 二、彭紹宇〈《富都青年》：關於愛，也關於愛的無能〉

《富都青年》是一部關於愛的電影，

(甲) 兄弟倆之間的情感，在社會現實之前渺小不堪

- (乙) 相對地，它也是一部展現「愛的無能」的作品  
 (丙) 甚至犧牲自己也無妨  
 (丁) 可正是那份盼望，使哥哥窮盡全力欲改變弟弟的生活  
 (戊) 乍聽矛盾，其實不然

( ) 2. 請依據文意，將(甲)、(乙)、(丙)、(丁)、(戊)重新排列為適當順序：

- (A) 乙丙戊丁甲 (B) 甲丁乙戊丙 (C) 乙戊甲丁丙 (D) 甲乙丁丙戊

**試題分析** ◎難易度：0.30(難) ◎鑑別度：0.20(尚可) ◎答對率：23.7%

✎ 答題狀況：(A) 9% (B) 32.1% (C) 23.7% (D) 35%

✎ 本題為句意重組的題型，此題型對七、八年級學生而言較為陌生，因此答對率稍低。多數學生誤答為(B)、(D)，顯示對連接詞的掌握度不夠精準，答題僅靠「感覺」，應多加強答題策略及句與句之間詞語運用的邏輯。

#### 六、田思怡《好讀周報 779 期·太陽風暴怎因應》

( ) 7. 根據文章內容，下列關於「太陽風暴」的敘述，何者正確？

- (A) 倫敦、加州等緯度較低的地方，即使沒有太陽風暴影響，也能看見五彩絢麗的極光  
 (B) NOAA 將太陽風暴引起的磁暴強度分為五級，其中，G4 級小於 G2 級  
 (C) Space X 旗下的衛星受到太陽風暴影響，承受很大壓力，造成電網出現異常  
 (D) 由於經歷過 1989 年磁暴干擾的影響，北美電力系統並未受到此次太陽風暴的影響。

**試題分析** ◎難易度：0.24(難) ◎鑑別度：0.31(優良) ◎答對率：21%

✎ 答題狀況：(A) 30.1% (B) 4.9% (C) 43.9% (D) 21%

✎ 本題主要考驗學生對字句的掌握程度，多數學生誤答為(C)，但從文章中「Space X 執行長馬斯克在 X 上表示，旗下衛星「感受到了」太陽風暴，衛星「承受很大壓力，但到目前為止挺住了」。」可以判斷出來 Space X 並未受到影響。誤答第二多的為(A)，從文章中「地球在今年 5 月間遭到太陽風暴引起的強大磁暴襲擊，讓倫敦、加州等緯度較低的地方也能看到五彩絢麗的極光，連更南方的墨西哥都看得到。」可知平時這些地方可能是看不到極光的，顯示學生對文字的掌握度不足。

#### 七、鄭愁予〈水巷〉

( ) 9. 關於本詩的解讀，下列選項中的敘述何者有誤？

- (A) 「四圍的青山太高了，顯得晴空／如一描藍的窗」是指從水巷往上看的景象高樓林立。  
 (B) 「我原是愛聽磬聲與鐸聲的／今卻為你戚戚於小院子的陰晴」表示「我」為你改變了自己本來的志向。  
 (C) 「算了吧／管他一世的緣分是否相值於千年慧根」可見「我」的個性直爽明快、瀟灑自在。  
 (D) 「誰讓你我相逢／且相逢於這小小的水巷如兩條魚」象徵「你」、「我」是一對偶然相逢卻決定悠然廝守的愛侶。

**試題分析** ◎難易度：0.42(中) ◎鑑別度：0.25(尚可) ◎答對率：42.1%

✎ 答題狀況：(A) 42.1% (B) 13.6% (C) 25.1% (D) 18.6%

- ✎ 本題重點在於測驗學生關於新詩的判讀能力。多數學生誤答為(C)、(D)，而較為直觀的(B)選項誤答率較低，可見學生對於詩句背後隱藏的意思掌握度並不高。應多加強學生對於新詩閱讀的理解能力。

七、鄭愁予〈水巷〉

( )10. 根據全詩脈絡，□處依序應填入下列那一個選項的字最為恰當？

- (A) 屋／風 (B) 雲／雨 (C) 夜／星 (D) 樹／葉。

**試題分析** ◎難易度：0.49(中) ◎鑑別度：0.55(非常優良) ◎答對率：48.7%

✎ 答題狀況：(A) 23.1% (B) 11.6% (C) 16.0% (D) 48.7%

✎ 本題重點在於測驗學生能否掌握新詩中用字的邏輯關係。對七年級學生而言，因閱讀量較少，也未能完全掌握文字脈絡的邏輯關係。其實由原詩中「那是陰了」，便可判斷前後應填入的字與「天氣」相關。

八、曾子易簣

( )11. 根據文章所述，曾子堅持易簣的原因為何？

- (A) 子春擔心燭火燃燒，請求曾子易簣 (B) 官不及大夫，使用此簣不合乎禮節  
(C) 大夫要求曾子易簣，對病情較有助益 (D) 曾子不愛此簣，因而堅持易簣

**試題分析** ◎難易度：0.37(中) ◎鑑別度：0.35(優良) ◎答對率：32.2%

✎ 答題狀況：(A) 16.5% (B) 32.2% (C) 30.9% (D) 19.8%

✎ 本題考點在理解文章內容，但學生對於「古代禮節」、「官位名稱」的背景知識不足，再加上本文為文言文，因此較難讀懂文章內容。多數學生誤答為(C)，顯示學生不知「大夫」為官名，而非「醫生」。

八、曾子易簣

( )12. 文中代詞所指稱的對象，下列何者正確？

- (A) 曾子聞「之」：他，指「子春」 (B) 「斯」季孫之賜也：這個東西，指「竹席」  
(C) 請敬易「之」：這個東西，指「燭火」 (D) 爾之愛我也，不如「彼」：他，指「曾元」

**試題分析** ◎難易度：0.27(難) ◎鑑別度：0.27(尚可) ◎答對率：23%

✎ 答題狀況：(A) 26.6% (B) 23.1% (C) 24% (D) 26.3%

✎ 本題在考代名詞的辨析，但本文既為文言文，學生亦缺乏讀懂文中的背景知識，答題分布較平均，顯示可能多數學生都未讀懂文章內容，以致難以判別答案。往後出題可能需要再注意難易度的掌握。

九、紀昀《閱微草堂筆記》

( )13. 根據上文內容，董思任咄咄不怡的原因為何？

- (A) 被狐仙困在書室中多日，最後才狼狽逃走 (B) 狐仙揚言若董思任不辭官，就要繼續作亂  
(C) 自己無法將狐仙趕跑，反倒被羞辱一番 (D) 自責自己因害怕狐仙報仇，而不敢將之驅逐。



**試題分析** ◎難易度：0.4(中) ◎鑑別度：0.45(優良) ◎答對率：40%

✎ 答題狀況：(A) 20.1% (B) 24.7% (C) 40% (D) 14.9%

✎ 本題考點在理解文言文故事內涵，可從「公為官，頗愛民，亦不取錢，故我不敢擊公。然公愛民乃好名，不取錢乃畏後患耳，故我亦不避公。公休矣，毋多言取困。」找出答案，顯示學生閱讀文言文的能力需要再加強。

九、紀昀《閱微草堂筆記》

( )14. 下列關於故事中狐仙的敘述，何者正確？

- (A) 避畏劉婦的端醇德行，因而離開書室 (B) 白天會幻化成人形，以瓦石丟人  
(C) 為求見良吏，因而在劉家書室中襲擊人 (D) 認為劉婦愚蠢，不構成威脅，而不攻擊她。

**試題分析** ◎難易度：0.26(難) ◎鑑別度：0.33(優良) ◎答對率：22.4%

✎ 答題狀況：(A) 22.4% (B) 35.3% (C) 16.2% (D) 25.4%

✎ 本題考點在理解文言文故事內涵，多數學生誤答為(B)，然而在本文第一段「白晝與人對語，擲瓦石擊人，但不睹其形耳。」即可看出答案，顯示學生對文言文字義的理解仍待加強。

十、劉芝吟〈鄭成功究竟是海盜，還是民族英雄？中研院臺史所研究員這麼說〉與《文化部典藏網·最後的訣別》兩文對讀

( )16. 分析【甲】、【乙】二文的內容，下列敘述何者有誤？

- (A) 自清末起，鄭成功曾被不同種族以不同形式封為「民族英雄」  
(B) 從倭寇到民族英雄，再到嚴苛蠻橫的侵略者，鄭成功的形象十分多變  
(C) 日治時期的臺灣畫家顏水龍，亦曾以相同故事繪製成畫  
(D) 《最後的訣別》是由傳教士范無如區繪製而成，展現荷蘭人的不屈態度。

**試題分析** ◎難易度：0.49(中) ◎鑑別度：0.52(非常優良) ◎答對率：46.7%

✎ 答題狀況：(A) 18.4% (B) 18.1% (C) 16.5% (D) 46.7%

✎ 本題題組為兩文對文的長篇文本，選項答案都可以從文章中找到線索，不是太難的題目，或許因為篇幅較長，要從文章中找到解題的細節較需要耐心，從答題表現來看，顯現學生的答題耐心仍有待加強。

十一、袁宏道〈晚遊六橋待月記〉、張岱〈西湖七月半〉、余秋雨〈西湖夢〉三文對讀

( )18. 根據【甲】文，下列選項中的敘述何者最為正確？

- (A) 杏樹、桃樹還沒開花前，梅花就已凋謝了  
(B) 綠煙紅霧是形容柳樹、桃花生長得極為茂密  
(C) 杭人常在下午遊湖，因此深得湖光、山嵐美景  
(D) 時逢中秋佳節，月景特別美麗，遊客們陶醉其中。

**試題分析** ◎難易度：0.36(中) ◎鑑別度：0.32(優良) ◎答對率：34.7%

✎ 答題狀況：(A) 14.6% (B) 34.7% (C) 35.7% (D) 14.0%

✎ 本題重點在於測驗學生對於文言文的閱讀能力。本題正確答案為(B)，但多數

學生誤答為(C)。七年級學生尚未學習到古代時辰的表示方式，因此判斷上可能有困難；至於八、九年級學生已有先備知識，誤答為(C)選項應是未能掌握原文「皆在朝日始出，夕春未下，始極其濃媚」的意思。因此，需要加強學生對於文言的閱讀能力。另，本文屬高中核心古文 15 篇選文，文字上雖無特別困難之處，但對國中學生的程度而言似乎尚有挑戰性，日後選文時亦要特別留意難易度的掌握。

十一、袁宏道〈晚遊六橋待月記〉、張岱〈西湖七月半〉、余秋雨〈西湖夢〉三文對讀

( )20. 以上三篇文章的主題都和西湖有關，下列哪一個選項中所敘述的觀點是三文皆有提及的？

- (A) 西湖春天的景色最為美麗，因此造成遊人如織的壯觀景象
- (B) 西湖既有美食又有美景，適合生活，卻也消磨了人們的志氣
- (C) 西湖是備受歡迎的景點，但遊客卻未必能完全領略其深深刻底蘊
- (D) 西湖適合邊划船邊欣賞岸上風光，可以同時見識自然及人文景觀。

**試題分析** ◎難易度：0.31(中) ◎鑑別度：0.25(尚可) ◎答對率：28.6%

✎ 答題狀況：(A) 24.7% (B) 22.4% (C) 28.6% (D) 23.4%

✎ 本題重點在測驗學生對於文白對讀的閱讀能力。由於三篇文章的文字份量皆偏重，加上需要對照判讀，因此答對率偏低。日後在設計題目時，應注意文章的選擇，篇章過長時，即選擇文、白各一篇出題即可。

新北市立鷺江國中 113 學年度第一學期第 2 次定期評量

七 年 級 英 語 科 試 題 分 析

題 號	答對率/ 鑑別度 指標	題 目
6	37.98	台灣地區冬季的天氣現象包括哪些？(甲)東北季風盛行，全島天氣溼冷；(乙)主要受到大陸冷氣團影響；(丙)常會有冷鋒通過；(丁)滯留鋒在此季節經常影響台灣北部 (A) 甲、乙 (B) 乙、丙 (C) 甲、乙、丙 (D) 甲、乙、丙、丁
分析 內容	東北季風盛行時，只有北部、東北部地區濕冷，中南部地區乾燥。學生沒看清楚甲選項的內容就選，所以答錯者以選 C 者居多，可見粗心者眾。	
25	0.125	21.( ) Our family dog, Momo, is really warm and cute. I like _____ very much (非常) . (A) him (B) them (C) its (D) his
分析 內容	高低分群學生充分了解 like 之後須接受格形式代名詞。	
43	0.125	Cody: 43. _____, Yuki. 43. ( ) (A) Carefully (B) You are careful (C) Be careful (D) Don't be careful
分析 內容	高低分學生對於形容詞的祈使句句型充分了解，且答案明顯，答對率高。	



新北市立鷺江國中 113 學年度第一學期第二次定期評量

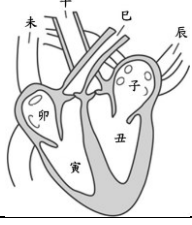
\_\_七\_\_ 年級 \_\_數學\_\_ 科 試題分析

題號	答對率/ 鑑別度指標	題目
二、  (A)	0.0625 (試題難度)  0.125 (鑑別度指標)	<p>1. 下列敘述哪些是正確的？__ (A) __ (請以代號作答)</p> <p>(a) 一個正整數的個位數字為 7，則此數為質數。</p> <p>(b) 如果兩個整數「互質」，則這兩個整數的最小公倍數必為 1。</p> <p>(c) 2 是最小的質數，也是質數中唯一的偶數。</p> <p>(d) <math>\left(\frac{5}{6}\right)^{10} &gt; 1</math>。</p> <p>(e) 1 是任何正整數的因數；0 是任何整數的倍數。</p> <p>(f) 因為 101 只有 2 個正因數，所以 101 是質數。</p> <p><span style="border: 1px solid black; padding: 2px;">答</span>：(c) (f)</p>
分析 內容	<p>學生對於 <u>0 是任意正整數的倍數，任意正整數是 0 的因數</u> 的觀念較薄弱，容易認為只要是整數即可</p>	

7 年級 生物科 試題分析

題號	答對率/ 鑑別度指標	題目
3	45.4/0.25	(C) 哪一種消化液的酶主要在小腸中作用，幫助脂質的消化？ (A) 唾液 (B) 胃液 (C) 胰液 (D) 膽汁。
分析 內容	45.4% 學生選胰液，另 39.4% 選膽汁。學生易忘記膽汁不含酵素(酶)，故 D 不可選。	
6	39.8/0.27	<p>(C) 右圖為公園中榕樹的段木，根據附圖判斷下列敘述何者正確？ (A) 木材中「*」的部分為韌皮部 (B) 木材均由老化且不具功能的木質部所構成 (C) 樹皮由韌皮部以外的構造與韌皮部所構成 (D) 形成層可以不斷生成新的維管束組織，向內生成韌皮部，向外生成木質部。</p>
分析 內容	31.6% 選 B，39.8% 選 C。課本明確表示：「樹皮為包含韌皮部及其向外的部分」，「木材中，靠近形成層的新生木質部，具有運水功能；靠近樹幹中心，較早形成的木質部，多已失去運輸的功能」，學生需再熟讀課文內容。	
12	46.1/0.28	(C) 【甲】氣體交換【乙】運送養分【丙】運送消化液【丁】排除廢物，上述那些是人體心血管系統的功能？(A) 只有【甲】 (B) 只有【甲】【乙】 (C) 只有【甲】【乙】【丁】 (D) 【甲】【乙】【丙】【丁】。
分析 內容	A, B, D 選項比例差不多，應是不熟悉課文內容。此題需理解肺循環可交換氣體，血漿可載運養分、廢物。	

18	49.4/0.30	(B) <u>驚小江</u> 利用複式顯微鏡，觀察小魚尾鰭內血液流動的方向，視野影像如右圖所示，圖中的箭頭表示血液流動方向。請問心臟的實際位置位於何處？ (A)上方 (B)右方 (C)下方 (D)左方。	
分析內容	49.4%選B，38.4%選D。此題學生易忘複式顯微鏡左右、上下皆相反方向的概念，需多複習過去所學內容。		
25	77.9/0.36	(A,C)哪兩支試管的實驗結果，可推論低溫下唾液中酵素能分解澱粉？ (A)甲乙 (B)丙丁 (C)甲丙 (D)乙丁。	
分析內容	此題修正答案改A、C皆可。		
31	32.5/0.38	(A)關於消化器官「丁」的敘述何者正確？ (A)小腸消化完成後，剩餘的殘渣會進入「丁」 (B)「丁」屬於消化道，必進行消化作用 (C)「丁」可以吸收剩餘的養分及水分 (D)「丁」的末端是「癸」，可以排除剩餘的食物殘渣，此過程稱為排泄。	
分析內容	選A,C兩種答案的學生比例差不多。此題需理解大腸僅吸收剩餘水分，故學生需多熟悉課文內容與圖片。		
33	21/0.19	(D)關於圖(五)中A、B兩血管的敘述，下列何者正確？ (血管旁的箭頭表示血流方向) (A)A血管為靜脈，B血管為動脈 (B)進食後，血液中養分的濃度，A血管>B血管 (C)右心室的血液流經A血管後才會進入左心房 (D)B血管的血液會先經過肺動脈後才會通過大動脈。	
分析內容	選B,C,D的學生居多。學生需結合小腸吸收養分及血液運送養分的概念，並知悉小腸是體循環，流入絨毛的A是小動脈，B則為小靜脈，此題需熟讀課本概念。		

37	36.6/0.32	<p>(B)右圖為心臟示意圖，冠狀動脈內的血液路徑近似於下列何者？</p> <p>(A)辰→子 (B)丑→午 (C)未→卯 (D)寅→巳。</p>	
分析 內容	<p>選 A, B, C 的學生居多。此閱讀題關鍵在第一段「...心臟每天跳動 10 萬次以上，透過主動脈運送 7500 公升富含氧氣的血液到身體各處，這些血液約有 5% 流向兩條冠狀動脈…」，敘述從左心室往主動脈的充氧血，一部分會分流至冠狀動脈，故學生需仔細閱讀。</p>		

新北市立鷺江國中 113 學年度第 1 學期第 1 次定期評量

\_\_7\_\_ 年級 \_\_社會\_\_科 試題分析

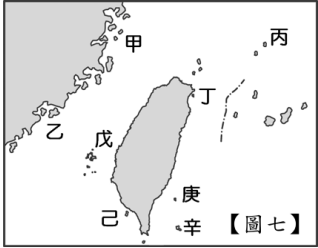
題號	答對率/ 鑑別度指標	題目
1	48.4%	<p>芬芬利用假日去淡水一日遊,,她在班週會和同學分享她在淡水踏查歷史景點後感想。請問下列芬芬分享的内容何者有誤?</p> <p>(A)我從淡水搭渡輪到八里,八里曾經挖掘出金屬器時代的遺址 (B)當年西班牙人將部分淡水軍隊調往馬尼拉,是因為日本實施海禁政策(C)淡水最有名的建築物之一「紅毛城」,它的前身就是西班牙人蓋的建築 (D)清法戰爭期間,淡水曾遭到戰火波及。</p>
試題 分析	學生對日本實施的為鎖國政策和中國所實施的海禁政策觀念混淆不清,建議老師在上課時可再度強調兩者的不同	
8	48.4%	<p>「清朝甲官員命人開闢北中南三條山路,其中北路從蘇澳至花蓮,是今天蘇花公路的前身;中路從林圯埔至璞石閣,是今日八通關古道的前身...」有關上述短文中的内容敘述,我們可以做何解讀? (A)短文中的甲官員,指的是劉銘傳 (B)此三條道路的開闢是清朝政府希望能進入山區傳教 (C)興建此三條山路的原因是牡丹社事件後,日方所提出來的要求 (D)清政府準備將之前所實施的為防臺而治臺的政策加以調整,因此所做的一連串改變。</p>
試題 分析	此題有 30%的學生選 A,表示學生對開山撫番的政策是由沈葆楨推行的觀念不夠清楚	
13	48.4%	<p>(圖六)中的甲乙丙丁四個圖,我們該如何解讀才會最正確? (A)甲圖中臺灣宣布建省後,臺灣出現全球第一條鐵道 (B)乙圖的開港通商,讓外國勢力初次進入臺灣(C)丙圖的政策實施後,清朝政府仍多次重定番界 (D)此四個圖若依事件發生的先後順序,依序應是丙→丁→乙→甲。</p> <div data-bbox="981 1413 1396 1684"> </div> <p>圖(十九)</p>
31	34.1%	<p>育哲與太太、女兒、爸爸、媽媽、哥哥、嫂嫂共七人同住。一家人常到全家福量販店消費。全家福量販店推出「家庭卡」會員申請方案。申請後家庭成員可以共同使用一張卡片且同時享有店內多項優惠。收費說明如右圖所示。育哲在申請人填入自己,共用卡片的家庭成員填入太太、女兒、爸爸、媽媽、哥哥、嫂嫂的名字。育哲與太太、女兒、爸爸、媽媽、哥哥</p>

萬聖節歡樂 Party 收費說明

1. 辦卡人享有免費入場
2. 與辦卡人同住的直系血親享八折優惠
3. 與辦卡人同住的旁系血親享九折優惠
4. 與辦卡人同住的姻親購票入場可享來店好禮



		<p>31.右圖四為全家福量販店推出萬聖節歡樂 Party。有關萬聖節歡樂 Party 的優惠說明，下列敘述何者正確？</p> <p>(A)享有九折優惠的有只有哥哥 (B)可享來店好禮的有 2 人</p> <p>(C)可享八折優惠的有 4 人 (D)太太購票入場可享來店好禮</p> <p>答:(A)</p>
試題分析		<p>這題主要是考學生知不知道夫妻間的親屬關係為配偶，學生容易將其歸屬於姻親關係，故答(D)</p>
41	36.2(B)	<p>米粉是新竹的特產，一年之中，特別是在東北季風期間，本市因處於<u>山脈</u>的背風側，因此降雨量不甚豐沛，再加上「喇叭狀」的地形，使得季風來到新竹，有加壓、增強的作用。風強雨少是風乾米粉的有利條件，特別是十月到一月空氣冷冽且水份少，若稍微有一點陽光出現，就是米粉業者曬米粉的最佳季節。根據地理位置判斷，造成本市擁有此一氣候優勢的主因，與其位於哪座山脈的背風側有關？(A)中央山脈 (B)雪山山脈 (C)玉山山脈 (D)海岸山脈。</p>
分析內容		<p>大部分的學生選擇了(A)選項，有可能是認為中央山脈是台灣最長的山脈，所以最有可能阻擋東北季風。影響台灣北部的山脈應該是最北的雪山山脈。</p>
42	34.6 (C)	<p>臺灣地形多樣，地表景觀多變，但受地形空間分布的影響，各行政區的地形比例不盡相同。【圖四】為臺北市、彰化縣、嘉義縣及花蓮縣四個行政區的地形比例圖，其中<u>彰化縣</u>應為下列何者？</p> <p>(A)A (B)B (C)C (D)D</p> <div style="text-align: center;"> </div>
分析內容		<p>很多學生看到(C)就誤以為是嘉義，因為認為嘉義有全台最大的平原。其實(C)是彰化，因為彰化有濁水溪沖積平原，主要以平原為主，平原面積廣大。</p>
45	47.4(A)	<p>【圖六】是某地的等高線圖，近日該地區發生強降雨的極端氣象事件，某生利用地理資訊系統建立數值地形模型，進行地勢分析與災害風險評估。</p> <p>【圖六】甲-丁 4 個地點，哪個點最有可能因為水流匯集，發生水位暴漲？</p> <p>(A)甲 (B)乙 (C)丙 (D)丁。</p> <div style="text-align: right;"> </div>
分析內容		<p>甲的等高線為河谷，因為 V 字等高線尖端指向高處。需加強學生 V 字型等高線的判讀。</p>
47	38.9(D)	<p>【圖六】中河流的主要流向為何？(A)由東向西流 (B)由西向東流 (C)由北向南流 (D)由南向北流。</p>
分析內容		<p>因為河流是由高處流向低處，所以只要能判斷出河川位置就判斷出河川流向。但許多學生無法判斷出河川位置。</p>

49	45.4(C)	<p>見【圖七】有關離島的地理概況，何者的敘述<u>錯誤</u>？(A)丁-蘭陽平原東面的太平洋上一座火山島 (B)金門在臺北的西南方，馬祖在臺北的西北方 (C)己辛-海底珊瑚礁露出海面所形成 (D)甲乙-中國沿海丘陵因海水上升淹沒谷地所形成。</p>	 <p>【圖七】</p>
分析 內容	辛為火山島。學生對於各離島的成因記得不夠精熟。		