

地理：第 1-17 題。



圖 1



圖 2



圖 3

- 傳說「百慕達三角」是個非常特殊的海域，有不少船隻、飛機在穿越此地時會離奇失蹤，因此也成為小說、電影或電視的熱門題材。即使資料顯示，百慕達三角並非是全世界最危險的區域，事故率也沒有特別高，但還是染上神秘色彩。根據圖 1，百慕達三角介於甲、乙、丙三個海域之間，請問：甲、乙、丙海域依序為何？
(A)墨西哥灣、哈德孫灣、大西洋 (B)加勒比海、墨西哥灣、印度洋
(C)墨西哥灣、加勒比海、大西洋 (D)加勒比海、哈德孫灣、太平洋。
- 圖 2 為南美洲的人口分布圖，其中居住於「X」地區的人卻相當稀少與分散，其主要原因為下列何者？
(A)熱帶雨林，高溫潮濕 (B)地勢高聳，空氣稀薄 (C)地震頻繁，地形破碎 (D)沙漠廣布，乾熱難耐。
- 美洲跨越南北半球，依照文化的不同，分為盎格魯美洲與拉丁美洲。根據圖 3，下列何者為兩個文化區的分界？
(A)甲 (B)乙 (C)丙 (D)丁。
- 巴西為中南美洲最大的國家，早期主要都市皆位於東部沿海，如里約、聖保羅等，其實在沿海地區並沒有任何重要物產，但卻能發展成為重要的都市，相同的情況在中南美洲十分常見，其主要原因為下列何者？
(A)有暖流經過，氣候暖溼 (B)地形平坦，農牧業發達 (C)勞工眾多，加工出口多 (D)農礦輸出，多港口都市。

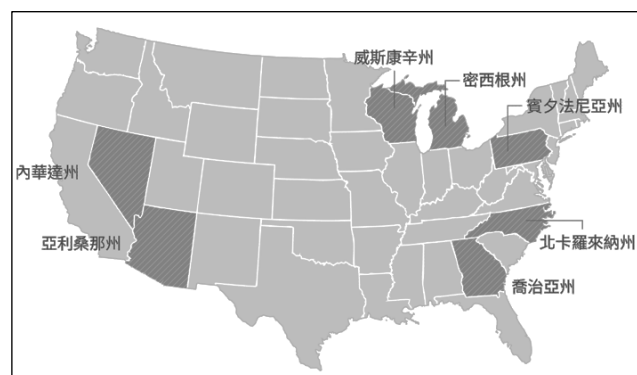


圖 4



圖 5

- 2024 年美國總統大選選情膠著，專家紛紛指出贏得選戰關鍵在於拿下七個「搖擺州」(如圖 4 所示)，搖擺州選民沒有明確的支持傾向，難以預測投票結果，因此候選人會花更多力氣前往該州造勢，其中，位於五大湖區附近的賓夕法尼亞州被喻為是「最搖擺的搖擺州」。根據上文所述，賓夕法尼亞州是以下列何項產業聞名？
(A)石化工業 (B)航空產業 (C)鋼鐵工業 (D)高科技業。
- 墨西哥國徽是一隻雄鷹銜著蛇站在仙人掌上，其意象來自阿茲提克神話中的建城故事。從國徽中繪製仙人掌可知其環境較為乾燥少雨，在圖 5 南美洲的何地也可以看見此種作物分佈？
(A)甲 (B)乙 (C)丙 (D)丁。
- 今年巴黎奧運閉幕交接儀式上出現一大亮點，由好萊塢巨星湯姆克魯斯從體育場上空特技垂降登場，並跨上重型機車，帶著奧運會旗帥氣登場，展現 2028 年奧運主辦城市的產業特色，該城市位於溫帶地中海型氣候，陽光充足，鄰近山與海，成為發展該產業的有利條件。請問下屆主辦城市與產業配對，何者正確？
(A)洛杉磯—電影產業 (B)休士頓—航太工業 (C)舊金山—電影產業 (D)紐約—金融業。




圖 6

8. 圖 6 為某一洲於赤道沿線的地形剖面圖，下列何者敘述正確？

- (A) ①是北美洲的洛磯山脈 (B) ①的山間盆地人口眾多 (C) ②的農業機械化程度高 (D) ②屬於熱帶莽原氣候。

9. 美洲分成北美洲及中南美洲，此兩個地區的共同特色為下列何者？

- (A) 仰賴熱帶栽培業出口 (B) 溫帶大陸性氣候廣布 (C) 陸地範圍皆深入極區 (D) 西側皆多火山、地震

10. 早在 10 年前，美國就已經開啟全新網路電視的新視界，Netflix、Apple TV、iTunes、YouTube 等串流平台興起。反觀台灣，在吃到飽有線電視的影視環境，串流平台一直沒有立身之地，直到近年來電視開始數位轉型，海外各大影音串流平台逐漸成為多數人看電視的新選擇，在疫情肆虐的期間更加蓬勃發展。根據上文所述，可以得知何種現象？

- (A) 美國企業在海外廣設分公司 (B) 紐約曼哈頓為世界金融中心
(C) 美式文化影響擴及世界各地 (D) 有線電視收視收益不受影響。

11. 美國具有多樣化的氣候類型，圖 7 是將美國各區域與世界上其他國家的氣候特徵相比，把具有類似氣候特徵的國家標示在該區域上。西班牙最可能標示在圖中甲、乙、丙、丁 何處？

- (A) 甲 (B) 乙 (C) 丙 (D) 丁

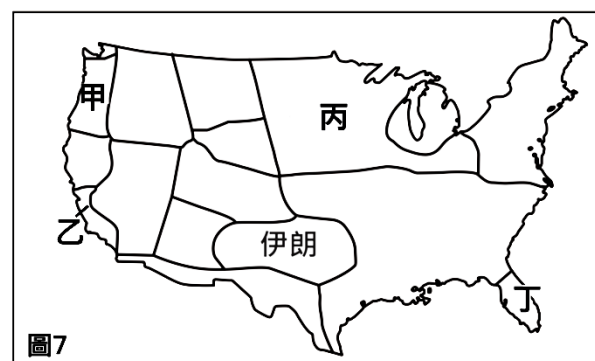


圖 7

12. 隨著全球區域經濟整合加速，加入區域貿易組織成為各國提升貿易競爭力的手段之一，像是加入歐盟後的東歐各國，以低廉的勞力等優勢，吸引企業前往投資，成為歐盟的「組裝基地」。同樣的情形也發生在「USMCA」簽署的地區。為打進北美市場，下列哪一個國家是企業設廠的首選，以利降低生產成本？

- (A) 加拿大 (B) 巴拿馬 (C) 墨西哥 (D) 阿根廷。

13. 亞利桑那州位於美國西南部，「亞利桑那」在印地安語指的是「水源稀少」。請問該區水源稀少的成因主要為下列何者？

- (A) 涼流經過 (B) 位居背風坡 (C) 距海遙遠 (D) 副熱帶低氣壓籠罩。

14. 周杰倫有一首歌《Mojito》，歌詞提到：「麻煩給我的愛人來一杯 Mojito，我喜歡閱讀她微醺時的眼眸...」。「Mojito」是傳統的古巴調酒，是蘭姆酒、檸檬、蘇打水和薄荷等材料調製而成。配方中蘭姆酒的原料，是 16 世紀初，歐洲殖民者廣泛種植於古巴，將此一經濟作物加工處理，發酵、蒸餾後製成。請問此種經濟作物可能為下列何者？

- (A) 柑橘 (B) 葡萄 (C) 咖啡 (D) 甘蔗。

【題組題】根據圖 8 回答第 15-17 題：

15. 美國作為全球發生龍捲風頻率最高的國家，因其獨特的地形分布及氣候因素，易形成之處更被稱為「龍捲風走廊」，吸引好萊塢電影《龍捲風暴》取材，拍攝團隊為了講求真實，特地進駐該地取景。請問電影拍攝團隊應前往哪一地區較為合適？

- (A) 甲 (B) 乙 (C) 丙 (D) 丁。

16. 美國國家海洋暨大氣總署預測，2024 年美國颶風季可能將出現 17 個~24 個颶風，其中 3 個將會是強烈颶風，是颶風發展活躍的一年。下列何地最容易受到颶風侵襲？

- (A) 甲 (B) 乙 (C) 丙 (D) 丁。

17. 大西洋颶風季指的是大西洋水域所產生的熱帶氣旋，會為大西洋周邊的國家帶來許多威脅。在美國某段時間，許多民眾常因此需遠離家鄉，以躲避災難。美國颶風季特別活躍的時間，可能為下列何者？

- (A) 1-2 月 (B) 4-5 月 (C) 8-9 月 (D) 11-12 月。

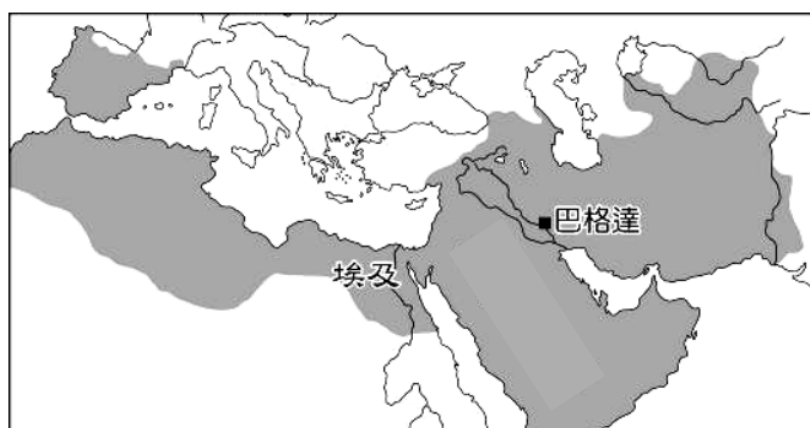


圖 8

歷史：第 18~34 題。

18. 14 世紀的一位詩人曾說：「我不想變成上帝，或者居住在永恆中。我自己是凡人，我只要求凡人的幸福。」這樣的觀念，也反映在他的作品中。請問：上述現象可以說明下列何者正在發生？
 (A)宗教改革 (B)文藝復興 (C)政教衝突 (D)基督教世界的首次分裂。
19. 以下政令由西元 4 世紀時的某位皇帝所頒布：「我們願賜給基督徒及其他所有人奉行自己宗教的權利。……我們議決：任何人不得被剝奪其尊奉基督教、或任何一自認最合適的宗教的機會。……因此，你們(指各地方官長)應該知道，有關基督徒的一切禁令均已取消，今後凡欲崇奉基督教者，能自由並公開行之，不得受阻。」根據上述，這位皇帝應是下列何人？ (A)屋大維 (B)狄奧多西 (C)君士坦丁 (D)查士丁尼。
20. 小宇以「文藝復興時期的名作」為主題製作 youtube 影片，請問他介紹這些名作時，可能會提到作品的共同特色為下列何者？ (A)深受伊斯蘭文化的影響 (B)充滿嚴肅的宗教色彩 (C)擺脫希臘、羅馬文化的影響 (D)展現人性肯定「人」的價值。
21. 關於基督教、伊斯蘭教、佛教三大普世宗教的比較，下列何者正確？
 (A)皆為一神信仰 (B)皆起源於亞洲 (C)皆為東南亞主要宗教 (D)皆成為歐洲文明的重要元素。
22. 【圖一】為 2016 年的新聞報導，請問：關於此一標題中的「千年寒冰」，下列解釋何者才符合史實？
 (A)始於羅馬帝國滅亡後分裂為東西兩世界
 (B)源於羅馬教宗於 11 世紀號召十字軍東征
 (C)源於拜占庭帝國在查士丁尼時期另立新教派
 (D)源於君士坦丁堡教會與羅馬教會在 中世紀爭奪領導權。
23. 假如鷺江書苑計畫舉辦一個「文藝復興時期」書展，請問下列哪些書較適合放在書展中？ (甲)《古蘭經》 (乙)薄伽丘《十日談》 (丙)《馬丁路德與九十五條論綱》 (丁)《拉斐爾作品集》 (戊)但丁《神曲》 (己)《穆斯林眼中的十字軍東征》 (庚)《莎士比亞全集》
 (A)乙丁戊庚 (B)甲丙丁庚 (C)丁戊己庚 (D)乙丙丁戊。
24. 以下為歐洲史上某帝國皇帝統治情形的描述：「皇帝被神化為上帝在人間的代表，具有至高無上的神聖性。皇帝可以召開宗教大會，任免教會領袖和高級教士。皇帝的寶座很寬，是個雙人座，皇帝坐在右邊；在禮拜天或節日的時候，皇帝則坐在左邊，右邊的座位上放著一本福音書，據說這裡坐著基督本人。」請問：此種情形最有可能發生在下列哪一時空中？
 (A)1 世紀的羅馬 (B)6 世紀的君士坦丁堡 (C)8 世紀的巴格達 (D)11 世紀的巴黎。
25. 【圖二】為中世紀某帝國全盛時期的疆域圖，請問：關於此帝國的說明，下列何者正確？
 (A)是鄂圖曼土耳其人所建立 (B)曾滅拜占庭帝國，並壟斷東西方的貿易
 (C)是蒙古西征所征服的領土 (D)曾經與唐朝發生戰爭，促成造紙術西傳。

圖一



圖二

【題組一】【圖三】是歐洲於 16 世紀的版畫，圖中將一位當時的日耳曼神父描繪為魔鬼手中的風笛，因為他對教會當時的作為公開提出質疑，並且引起很大的爭議。

圖三



26. 此版畫最可能出自下列哪一教派之手？
 (A)羅馬公教 (B)希臘正教 (C)路德教派 (D)英國國教派。
27. 版畫出現的背景，最早可能與下列何事有關？
 (A)馬丁路德反對贖罪券 (B)馬丁路德主張預選說
 (C)亨利八世與教宗決裂 (D)喀爾文提出預選說。
28. 此版畫反映了當時基督教世界正發生重要的衝擊，請問：以下何者並非此一事件的影響？
 (A)新教的教義有助於歐洲經濟成長 (B)許多君主藉此控制教會，有助近代國家興起
 (C)促進教育的發展與識字率的提升 (D)爆發宗教戰爭，各國始終無法容許信仰自由。

【題組二】請根據以下資料回答 29~30 題：

【「再見了，聖索菲亞大教堂！」——世界遺產「正名」推翻國父決議，土耳其人反應兩極】
 (改寫自：Aylin／讓我們一起住下吧！土耳其 2020.07.16)

2020 年 7 月，土耳其政府發出新聞稿，宣布「聖索菲亞博物館」(即俗稱的聖索菲亞大教堂)將「恢復」為清真寺，並由土耳其宗教事務局接管，供穆斯林聚禮使用。但事實上，這座教堂自從土耳其共和國建國初期以來，都被稱為「聖索菲亞博物館」。這起源於土耳其國父——凱末爾總統，在 1934 年召開的內閣會議中，將聖索菲亞「大清真寺」改名為「博物館」，象徵著聖索菲亞並不專屬於某一個宗教，而是人類共同的文化遺產；也意味著當時的土耳其，在宗教上的多元與包容。因此，推翻國父的決議，不但土耳其人的反應兩極，在國際社會上也引起了很大的注目與爭議，聯合國教科文組織也將對聖索菲亞大教堂在世界遺產名錄中的位置重新評估。

29. 根據上文，土耳其國父當年將此教堂更名為「博物館」，想呈現「在宗教上的多元與包容」，是指這座教堂乘載了哪些宗教的文化？(A)東正教、伊斯蘭教 (B)天主教、東正教 (C)天主教、伊斯蘭教 (D)天主教、新教派。
30. 文中這座引起爭議的教堂，位於【圖四】中的何地？(A)甲 (B)乙 (C)丙 (D)丁。

圖四



【題組三】請根據以下資料回答 31~34 題：

【主曆 1191 年 7 月 23 日】

今日，我們終於抵達了聖地。抬頭望去，城牆在夕陽下閃耀著金色的光芒。這座乘載著無數基督徒信仰的城市，如今卻被異教徒佔據。我心潮澎湃，既為即將到來的戰鬥感到興奮，又為聖城的淪落而感到悲傷。

31. 根據資料所述，日記的主人抵達的最可能為【圖四】中的哪一地點？
 (A)甲 (B)乙 (C)丙 (D)丁。
32. 日記中提到的異教徒應為下列何者？(A)日耳曼人 (B)阿拉伯人 (C)塞爾柱土耳其人 (D)鄂圖曼土耳其人。
33. 根據你對此時期的了解，請問這一史事後來還造成了下列哪一影響？
 (A)拜占庭帝國滅亡 (B)帶動歐洲商業復甦 (C)歐洲爆發宗教戰爭 (D)中世紀西歐的政教衝突。
34. 請問這篇日記適合用來作為以下哪一史實的史料依據？
 (A)蒙古西征 (B)宗教改革 (C)十字軍東征 (D)阿拉伯帝國的繁榮。

公民：第 35-50 題。

35. 台灣目前有中油和台亞兩家石油煉製廠，在國內以中油提供的油品占最多。由上述可知，台灣石油供應市場有何種特色？
 (A)市場競爭程度高，消費者選擇多 (B)廠商透過各種價格競爭策略吸引消費者
 (C)缺乏競爭，廠商進入市場的門檻低 (D)因為競爭程度較低，兩家廠商較能控制油價
36. 有關開放進口的影響何者敘述正確？
 (A)對消費者來說進口商品標示不清會有安全疑慮 (B)對消費者來說需花更多成本取得商品
 (C)對生產者來說不會面臨競爭壓力 (D)對生產者來說只能被迫轉行別無他法

題組 37-38

[Newtalk 新聞] 石油輸出國家組織 (OPEC) 領袖沙烏地阿拉伯近日警告，各產油國如果不肯承諾限制石油產量，原油價格可能會跌至每桶 50 美元。《商業內幕》(Business Insider) 稍早報導，沙烏地可能會一反近幾年來減產維持高油價的政策，反而供應大量原油，以懲罰不配合減產的產油國。首當其衝的俄羅斯，將面臨經濟危機。標準普爾全球評級數據將俄羅斯列為 OPEC 生產過剩國家之一。根據最新可用數據，莫斯科 7 月產量超出每日配額 122,000 桶。伊朗和哈薩克也違反了商定的門檻。就俄羅斯而言，莫斯科面臨著盡可能籌集資金的壓力，因為在三年的戰爭中導致國防和安全支出激增。這些部門明年將佔俄羅斯所有聯邦支出的 40%。同時，俄羅斯的財政嚴重依賴石油收入。該國財政部長表示，幾年前，天然氣和石油生產佔國家預算收入的 35%-40%。正是因為這個原因，西方才如此專注於遏制俄羅斯的石油利潤。倫敦經濟學院研究員庫柏 (Luke Cooper) 寫道：「由於俄羅斯已經以折扣價和更高的生產成本出售石油，石油市場的低價環境可能會影響其資助其侵略烏克蘭的能力。」庫柏認為，與沙烏地阿拉伯打價格戰對俄羅斯來說是個壞消息。「與沙烏地阿拉伯不同的是，俄羅斯的石油開採成本並不便宜，因此其應對低價條件的能力較差。這推動了俄羅斯對烏克蘭戰爭的短期升級邏輯，需要在低油價出現之前在戰場上迅速取得成功。」

37. 根據上文內容判斷何者錯誤？
 (A)俄羅斯透過出口石油賺取貿易收入
 (B)莫斯科、伊朗和哈薩克違反了商定的門檻導致沙烏地阿拉伯利潤減少
 (C)俄羅斯在三年的戰爭中導致國防和安全支出激增排擠教育資源是一種機會成本的概念
 (D)台灣不屬於石油輸出國家組織 (OPEC)，因此俄羅斯與沙烏地阿拉伯之間的石油戰與我們無關
38. 俄羅斯與沙烏地阿拉伯的在石油市場的競爭模式與下列何者相同？
 (A)多克萊書店以電子支付結帳提供「下水道演唱會門票抽獎機會一次」
 (B)星發客推出「咖啡好友分享買一送一」
 (C)左丹丹服飾店推出「你買一件我捐一元」
 (D)KOKO 飲料店推出「會員來店禮蠟筆小新環保飲料背帶一只」

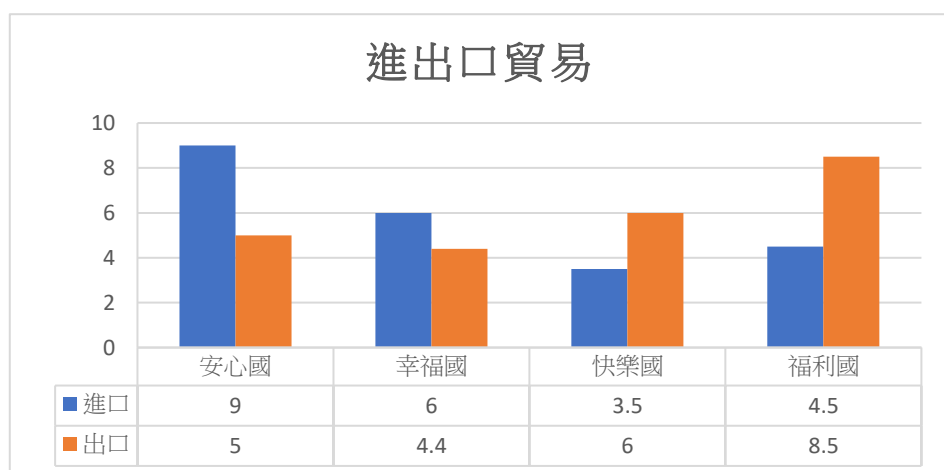
題組 39-40

2018 年開春新年甫過，全民突然瘋狂搶購起衛生紙，以致各大實體賣場的貨架被一掃而空、網購平台紛紛缺貨，被媒體戲稱為「安屎之亂」，加拿大多倫多星報還將「台灣衛生紙危機」列為「本週全球趣聞」。這股搶購肇因於大潤發公司為推銷自家 2 月 23 日至 2 月 27 日的衛生紙促銷檔期，於是在 2 月 23 日上午主動向媒體發出「衛生紙確定大漲 30%，賣場業績急飆 5 倍」等訊息，使得民眾聞訊後趕緊趁漲價前搶購囤貨，形成亂潮。該事件最後在 2018 年 3 月 14 日由某單位宣布，大潤發公司藉由發布不實資訊進行促銷行為，並且誤導消費者造成搶購亂潮，讓市場交易秩序失衡，違反了《某法》第 25 條，開罰 350 萬元。

39. 上文某單位是下列何者？
 (A)行政院消費者服務中心 (B)行政院公平交易委員會 (C)地方法院 (D)消費者保護處
40. 違反了《某法》是下列何者？
 (A)社會秩序維護法 (B)民法 (C)消費者保護法 (D)公平交易法

題組 41-42

41. 右圖是四個國家今年進出口總額統計，由資料判斷，哪一個國家最可能從貿易中獲取最大利潤？
 (A)安心國 (B)幸福國 (C)快樂國 (D)福利國
42. 福利國近年來約有 40% 的商品出口至安心國，因此當安心國經濟成長減緩時，福利國的產業可能衰退。根據內容判斷，福利國最可能採取下列何項政策因應？
 (A)鼓勵國內勞力密集產業外移至其他國
 (B)政府開放商品進口補足國內市場需求
 (C)從其他國家引進廉價勞動力降低生產成本
 (D)加速產業創新轉型及尋找新的貿易夥伴



題組 43-44

小智因家中馬桶蓋已使用多年，趁雙十一購物節特價優惠期間，於快樂網站向 A 業者訂購加長型抗菌馬桶蓋，並給付價金 888 元成立買賣契約，但小智收到 A 業者寄送之商品後，發現所訂購之馬桶蓋尺寸與家中馬桶座不符，故小智於收到商品次日即通知 A 業者解除本件買賣契約並透過宅配方式退還商品，惟業者認為馬桶蓋係屬個人衛生用品，不適用消保法七日契約解除權之規定，故拒絕小智之退貨申請，於是小智向臺北市政府提起申訴。本案馬桶蓋究竟是否屬於前揭通訊交易解除權合理例外情事適用準則第 2 條所稱之「個人衛生用品」，而排除消保法第 19 條第 1 項解除權之適用？參照 106 年 3 月 2 日臺灣彰化地方法院 106 年員簡字第 13 號民事判決略以：「惟本件原告所購買之系爭商品為價值數千元之免治馬桶座，屬衛浴空間之電器用品，與上開準則例示所稱內褲、刮鬍刀等衛生用品顯然有別，是被告辯稱系爭商品屬個人衛生用品而不得解除契約等語，難認可採。」是以，依照上開法院實務見解對於衛生用品之定義似採從嚴解釋，小智得主張馬桶蓋非屬於個人衛生用品，依消保法第 19 條規定向 A 業者解除本案契約。

43. 請問小智向哪個單位提起申訴？
(A)臺北市消費者保護處 (B)臺北市消費者服務中心 (C)臺北市消費者文教基金會 (D)行政院消費者服務中心
44. 請問下列何者是《消費者保護法》七日猶豫期的例外規定？
(A)燦坤買的未拆封影音商品 (B)線上畢業照大頭貼馬克杯 (C)無法安裝的遊戲光碟 (D)蝦皮買的洗髮精

題組 45-46

公民老師擷取光華路飲料店地圖

45. 根據右圖，請同學判斷該地區的競爭狀況可能呈現什麼現象？

- (甲)飲料店會採取各種行銷策略來吸引消費者
(乙)消費者在喝飲料會有比較多選擇
(丙)飲料市場的進入門檻較高
(丁)飲料市場競爭程度與廠商數有關聯
(A)甲乙丙 (B)乙丙丁 (C)甲丙丁 (D)甲乙丁

46. 請問圖中的飲料店老闆到線上 104 人力銀行找工讀生，是透過哪種市場類型滿足所需？

- (A)有形市場、商品市場 (B)無形市場、商品市場 (C)有形市場、勞動市場 (D)無形市場、勞動市場



題組 47-48

巧克力從可可果到可可豆，再成為可可膏等原料製成最終成品，可能橫跨了半個地球、甚至四大洲才終於到消費者手上！位於赤道以北或以南 20 度以內、可開發土地廣闊、人均薪資低且容易找到工人的發展中國家一一成為可可種植國，非洲西岸就是在這樣的背景下成為可可主要產區。2019 年，光是象牙海岸、迦納、喀麥隆與奈及利亞 4 個西非國家，就貢獻了全球 74% 的可可豆產量。而荷蘭成為最主要加工國，也得歸功於其得天獨厚的氣候與發達的交通系統。阿姆斯特丹港是可可進口的世界第一大港，不僅擁有超過 70 萬公噸的倉儲能力，溫和的氣溫也減少了對空調設備的需求。良好的水上運輸設施更讓滿載可可豆的船隻可以輕鬆卸貨，而極其發達的鐵路與公路設備，則讓巧克力半成品可以在 48 小時內運輸到全歐洲。

47. 根據上文判斷下列何者正確？
(A)西非國家是可可豆進口國 (B)象牙海岸在可可豆貿易中無利可圖
(C)荷蘭透過加工出口賺取貿易收入 (D)荷蘭的生產優勢容易被模仿
48. 上文畫底線部分說明巧克力是透過什麼方式到消費者手上？
(A)國際貿易 (B)國際分工 (C)在地生產 (D)技術進步

題組 49-50

公民老師在網路上的關鍵評論網站看到右圖

49. 請同學判斷表格內容的主題可能是報導什麼？
(A)國際貿易 (B)國際分工
(C)經濟轉型 (D)市場競爭
50. 各家廠商規劃的生產據點主因是下列何者？
(A)掠奪當地資源 (B)規避課稅
(C)改善工作環境 (D)降低生產成本

	主要生產據點	其他生產據點
高爾夫球頭龍頭復盛應用(6670)	中國近四成、越南近六成	台灣、美國、泰國
製鞋龍頭寶成(9904)	印尼48%、越南35%、中國12%	孟加拉、柬埔寨、緬甸
NIKE運動鞋大廠豐泰(9910)	越南51%、印度26%、印尼14%	中國
成衣雙雄聚陽(9921)	越南40%、印尼37%、柬埔寨18%	中國、菲律賓、中美洲
成衣雙雄儒鴻(1476)	台灣約兩成、越南近五成	柬埔寨、印尼
羽絨服大廠廣越(4438)	越南68%、中國17%、約旦10.7%	羅馬尼亞