

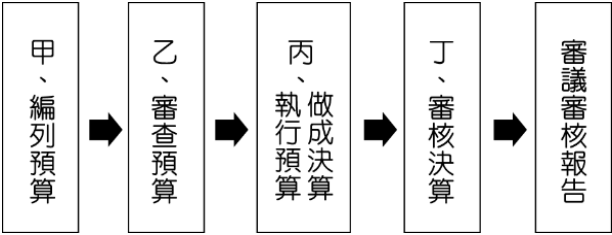
命題教師：社會領域教師 日期：11 月 26 日 第 4 節 班級： 座號： 姓名：

共 50 題，每題 2 分，總分 100 分。

【公民部分 第 1~16 題】

1. 現行規定公務人員一般警員考試於「消防警察人員」類別範圍內設有身高限制，女性至少需 160 公分以上，該規定導致 55% 的女性無法參加考試，加深消防人員男女人數的懸殊比例，造成對女性不利的差別待遇。法院認為消防設備可根據國人需求採購，身高不應成為性別歧視理由。請問：上文畫底線處提及哪些憲法保障之人民的基本權利未受重視？
(A)平等權、受益權 (B)平等權、參政權 (C)自由權、受益權 (D)自由權、參政權
2. 我國以(甲)《憲法》及《憲法增修條文》規範政府的主要職權，藉由(乙)三權分立的原則，將權力劃分給不同機構，使其相互制衡，才能建立一個權力受到限制的(丙)無限政府，藉以 (丁)控制人民的行動。請問：上文畫線處何者正確？
(A)甲 (B)乙 (C)丙 (D)丁
3. 下列有關自由權的配對何者錯誤？
(A)居住及遷徙自由:阿強因傷害罪遭判五年有期徒刑 (B)言論及著作自由:莉莉出版新書「跟我一起追 kpop」
(C)秘密通訊自由:美美的手機遭到政府非法監聽 (D)集會自由:阿吉參加了爭取勞工權益的上街遊行
4. 鷺鷺國中 8 年 23 班的學生到立法院進行參訪，立委們正在忙著處理國家大事。請問：下列何者不是同學們能看到的景象？
(A)審查行政院編列的政府總預算 (B)針對公務員提出彈劾案並移送懲戒法院
(C)針對防疫的相關政策質詢行政院長 (D)提出投票年齡下修至 18 歲的憲法修正案
5. 同學們正在輪流舉出有關憲法保障人民基本權利的例子，請問：誰的例子舉錯了？
(A)小安:受益權—前幾天被車撞對方竟不願賠償，我要提出訴訟！
(B)采采:自由權—政府提供職業訓練的管道，讓人民就業更順利！
(C)太民:平等權—法律保障人民不該受到同工不同酬的待遇！
(D)阿賢:參政權—我們可以連署罷免不符合人民期待的市長！

【6-7 為題組】



6. 附圖為我國政府預算及決算經費的流程圖，請問：哪兩個步驟是相同的機關所負責？
(A)甲=乙 (B)甲=丙 (C)甲=丁 (D)乙=丁
7. 呈上題，下列敘述何者正確？
(A)不信任案由乙向甲提出 (B)乙可直接發布緊急命令
(C)丁提出彈劾案後送去丙 (D)甲掌管考試部及銓敘部

【8-10 為題組】

A 院於今年 5 月 28 日修正通過《立法院職權行使法》部分條文，重點包括總統國情報告常態化採即時回答、被質詢人藐視國會最高罰新台幣 20 萬元等，也增訂《刑法》第 141 條藐視國會罪，相關函文 6 月 5 日送抵 B 院。B 院認為條文窒礙難行，因此獲得 C 之核可後，向 A 院提出□□案。最終 A 院投票過半數贊成維持原決議，即反對□□案。

而行政院等單位則先後聲請釋憲，○○○於 10 月 25 日做出 113 年憲判字第 9 號判決，認定《立法院職權行使法》相關條文部分合憲、部分違憲，違憲部分自宣判日起立即失效。

<改編自中央社 2024.06.21、公視新聞網 2024.10.25 的報導>

8. 根據本文，A 院、B 院及 C 應為下列何者？
(A)A 院:行政院、B 院:立法院、C:行政院長 (B)A 院:行政院、B 院:立法院、C:總統
(C)A 院:立法院、B 院:行政院、C:行政院長 (D)A 院:立法院、B 院:行政院、C:總統
9. 根據本文，向 A 院提出的應為何種案件？
(A)彈劾案 (B)不信任案 (C)法律修正案 (D)覆議案
10. 文中○○○應為哪一個單位？
(A)法務部 (B)銓敘部 (C)懲戒法院 (D)憲法法庭

【11-12 為題組】

長期以來考試院及監察院功能不彰，朝野已多次提出廢除兩院的相關議題。近日國民黨和民眾黨提案廢除監察院和考試院，民進黨也有 30 名立委共同提案廢除。而若要廢考監兩院就得啟動修憲，因為我國《憲法》中明定政府體制為五權分立，但根據《憲法增修條文》，修憲門檻相當高，恐不易通過。

考試院長則強調考試院超越黨派，存在對國家有貢獻，我國《憲法》將考試權獨立於□□權之外，旨在透過公正公開的考試，使人人均有機會參與國家治理，並藉由專業中立的文官，確保民主政治的穩定發展，因此籲請各界正視考試院的價值。

- 11. 根據本文，□□權應為下列何者？
(A)司法 (B)立法 (C)行政 (D)監察
- 12. 關於五權分立的相關敘述，下列何者正確？
(A)五權分立是孟德斯鳩提出的學說 (B)監察權獨立於行政權之外是為了避免國會專制
(C)西方多數國家都是採用五權分立 (D)五權分立是權力分立的一種，是為了避免專制

【13-16 為題組】

內政部聲請宣告政黨解散首例！內政部於 6 日表示，「中華統一促進黨」系統性、組織性為中國在台發展，不僅介入選舉，15 年來更多達 134 人涉入多起刑案，光是違反國安法、反滲透法、總統選罷法，就有 8 案 11 人，黨員涉及殺人、強盜、跨國人口販運等等犯罪，已嚴重危害國家安全，因此將依政黨法查處，並且聲請□□解散統促黨。對此統促黨主席不滿回應「個人造業應個人擔」「內政部憑什麼註銷我們？」表示將提訴願。

<改編自台視新聞 2024.11.06 的報導>

- 13. 根據本文，關於□□機構的敘述，下列何者錯誤？
(A)立法院提出領土變更案後由此機構審理 (B)依職權可審理正副總統彈劾案
(C)組成人員由總統提名立法院同意後任命 (D)依職權可審理法律是否違反憲法
- 14. 文中提及之內政部，其部長的產生方式與下列何者相同？
(A)大法官 (B)考試委員 (C)行政院副院長 (D)行政院院長
- 15. 民眾可以自由加入或退出政黨的權利，與下列何項憲法保障之人民基本權利的性質相同？
(A)小容擔任本屆議員選舉的候選人 (B)信信在公民投票投下神聖的一票
(C)洋洋參加支持環境的保育大遊行 (D)阿赫苦讀成為公務人員考試榜首
- 16. 關於訴願的敘述，下列何者錯誤？
(A)要向原處分機關或上級機關提起 (B)行政機關的處分不當損害個人權益時可提出
(C)是請願的一種，屬於積極的權利 (D)與受國民教育的權利一樣屬於受益權的一種

接著還有地理歷史!再接再厲!

【地理部分 第 17~33 題】

17. 圖 1 為中國三級產業就業人口比例統計圖，從圖 1 中資料可推論中國農業發展最需要推動哪一項改變？
 (A)採機械化耕作 (B)改種糧食作物 (C)農地轉作他用 (D)控管農地品質。

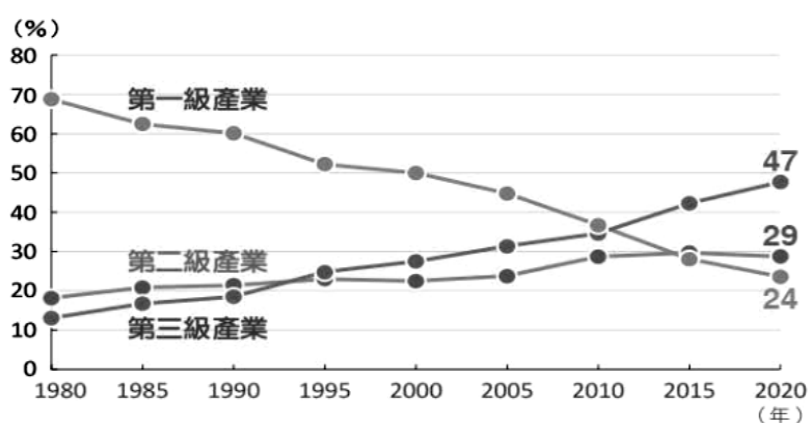
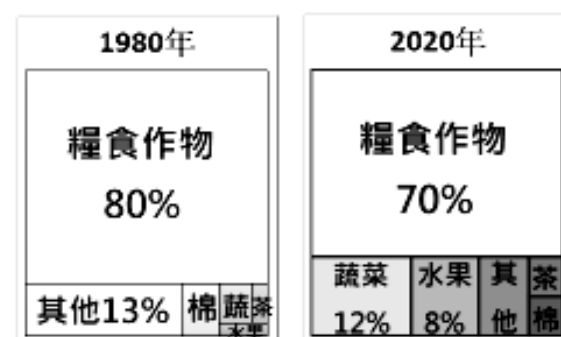


圖 1

圖 2



18. 圖 2 為中國 1980 年和 2020 年間的作物栽種面積比例變化圖，請問這樣的作物栽種面積變化和下列哪一因素有關？
 (A)因應自然環境調整 (B)以市場需求為導向 (C)朝向粗放農業發展 (D)朝向有機農業發展。

19. 圖 3 為中國水資源短缺分布圖，這些水資源短缺的地區，具備以下哪一個特點？

- (A)多在乾燥氣候區內 (B)多為礦產資源短缺區域 (C)多為傳統畜牧區域 (D)多為中國人口和工業集中區。

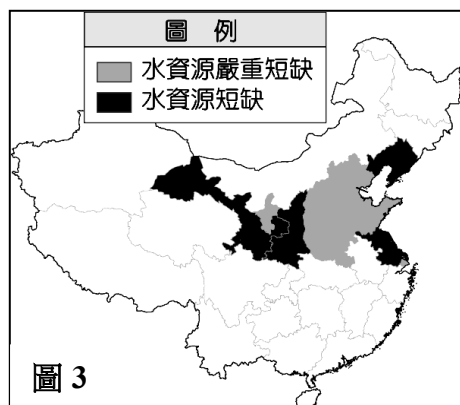


圖 3

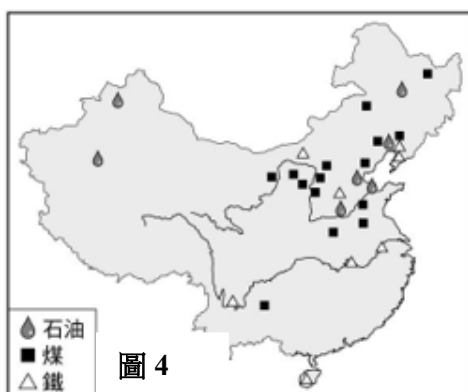


圖 4

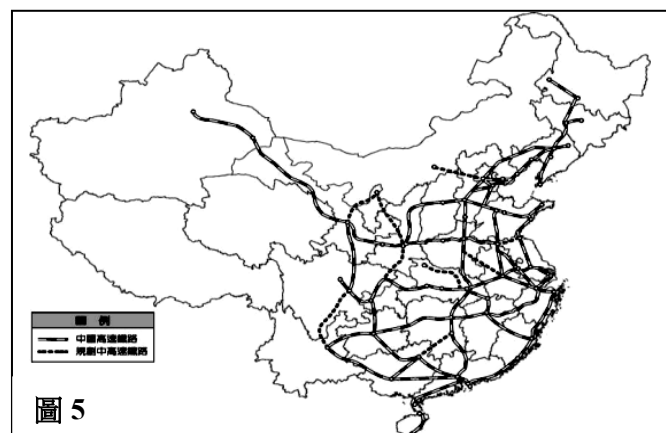


圖 5

20. 地理老師用圖 4 來解釋中國某個主題，根據圖 4 中資訊判斷，地理老師講述的主題最可能為下列何者？

- (A)改革開放的起點 (B)經濟特區的設置 (C)重工業的發展條件 (D)高科技工業的集中區。

21. 圖 5 為中國高速鐵路路線圖，由圖 5 中可推論中國鐵路分布具有哪些特色？(甲)多集中於高階梯(乙)多分布於乾燥氣候(丙)多分布於農業區(丁)多集中於東部經濟帶。(A)甲乙 (B)甲丙 (C)乙丁 (D)丙丁。

22. 1978 年起中國陸續在東南沿海成立五大經濟特區，若和台灣不同時代推出的經濟政策相比，和哪一個時期的發展方向較相似？(A)40 年代農產加工業 (B)50 年代加工出口區 (C)60 年代十大建設 (D)70 年代後高科技工業。

23. 《沒有中國製造的一年》是一本由美國記者觀察到中國的經濟崛起，決定大膽嘗試過著沒有中國製造的生活而撰寫的書籍。書中作者發現若不買中國製造的產品，荷包被迫縮水不少；另外也發現所購買的商品雖不是來自於中國，但該品的零件卻還是中國製造。請問上述敘述的現象，和中國擁有的哪項優勢最有關係？(改寫自 103 會考)

- (A)交通便利 (B)礦產充足 (C)人口眾多 (D)資源豐富。

24. 承第 23 題，「中國製造」商品從民生用品到電腦、電子相關產品皆有；此外，中國創立手機品牌，如華為，是世界主要的手機製造商之一。請問：下列哪一項說明，最能吻合上述中國工業活動的特徵？

- (A)由原料密集逐漸轉型為勞力密集 (B)由勞力密集逐漸轉型為技術密集

- (C)由勞力密集逐漸轉型為動力密集 (D)由原料密集逐漸轉型為動力密集。

25. 「每年農曆春節前後，中國有數億離鄉工作人口，透過鐵、公路往返於家鄉與工作地點間，龐大人潮常造成運輸壅塞，此即為『春運現象』。請根據上述及中國經濟發展來判斷，圖 6 中哪一條移動路線在除夕前的需求量相對較高？(A)甲→乙 (B)乙→丙 (C)丙→丁 (D)丁→甲。

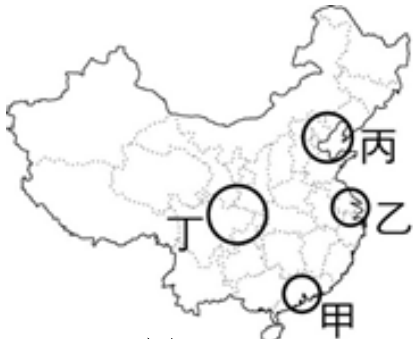


圖 6

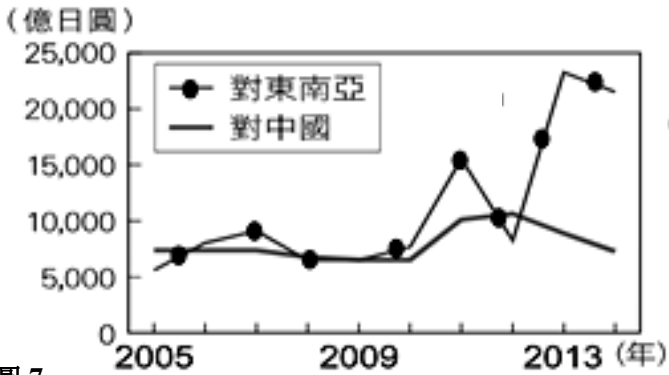


圖 7

26. 圖 7 為日本近年來對中國和東南亞國家的投資金額統計，發現日本對兩國投資金額差距逐年擴大。請問這和中國近年發展何者關係最為密切?(改寫自 108 會考)
- (A)中國的薪資成本較高 (B)中國交通條件優越 (C)中國實施全面開放二胎 (D)中國礦產資源枯竭。
27. 某周刊指出:2008 年中國城市人口中，收入前 20%的富人擁有金融資產的 66.4%，而後 20%的窮人僅擁有金融資產的 1.3%，顯示多數財富集中於少數人手中。上述的現象與中國推行哪一項措施有關？(改寫自 109 會考補考)
- (A)一胎化政策 (B)改革開放 (C)南水北調 (D)一帶一路。

題組一 表 8 為中國 2006 至 2015 年外商投資總額最多和最少的四個行政區，請根據表 8 回答第 28~30 題。

投資總額 前四名	比例 (%)	投資總額 後四名	比例 (%)
江蘇省	18.89	西藏自治區	0.03
廣東省	15.64	青海省	0.11
上海市	13.43	寧夏回族自治區	0.14
浙江省	6.92	新疆維吾爾自治區	0.19

表 8



圖 9

28. 根據表 8 中外商投資的空間差異來看，外商投資主要集中在中國哪一個經濟區?(改寫自 109 會考)
- (A)東北 (B)東部 (C)中部 (D)西部。
29. 承第 28 題，為什麼外商會想前來中國投資主要考量的因素有那些？(甲)礦產豐富，重工業發達 (乙)人口眾多，勞動力低廉 (丙)市場廣大，消費力強大 (丁)鄰國多，可方便使用鐵路運輸貨物。
- (A)甲乙 (B)乙丙 (C)丙丁 (D)甲丁。
30. 2014 年中國在某經濟區與俄羅斯合作，擴建了圖 9 中的甲港口，使得中國可以不經由大連港，而是透過甲港口來運送，這大幅縮短中國與鄰近國家部分港口的航運時間。請問中國在此經濟區，除了積極和俄羅斯合作外，也提出了哪一個政策來加以發展?(改寫自 111 會考)(A)東部率先發展 (B)東北振興 (C)中部崛起 (D)西部開發。

題組二 圖 10 為中國一帶一路路線圖，請根據圖 10 回答第 31~33 題。

31. 請問根據圖 10 中國一帶一路路線圖，其經過的國家所歸屬的區域不包括下列何者？(A)歐洲 (B)亞洲 (C)北美洲 (D)非洲。
32. 根據圖 10 中的「一帶」行經路線來看，對於中國哪一個經濟區的幫助最大?(A)東部 (B)中部 (C)西部 (D)東北。
33. 2022 年 7 月 6 日斯里蘭卡因經濟危機宣布破產，根據外媒報導，分析師認為這和斯里蘭卡加入「一帶一路」而欠下大量債務有關。因斯里蘭卡積欠中國債務，並須將深水港租給中國 198 年，而此舉將可擴展中國在哪一個海域的勢力？
- (A)太平洋 (B)大西洋 (C)印度洋 (D)北極海。

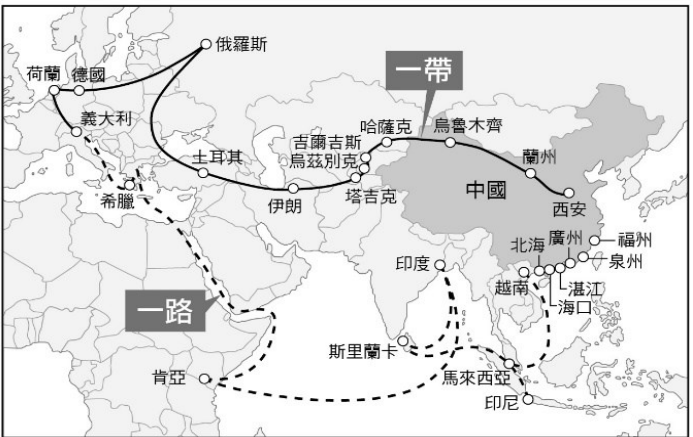
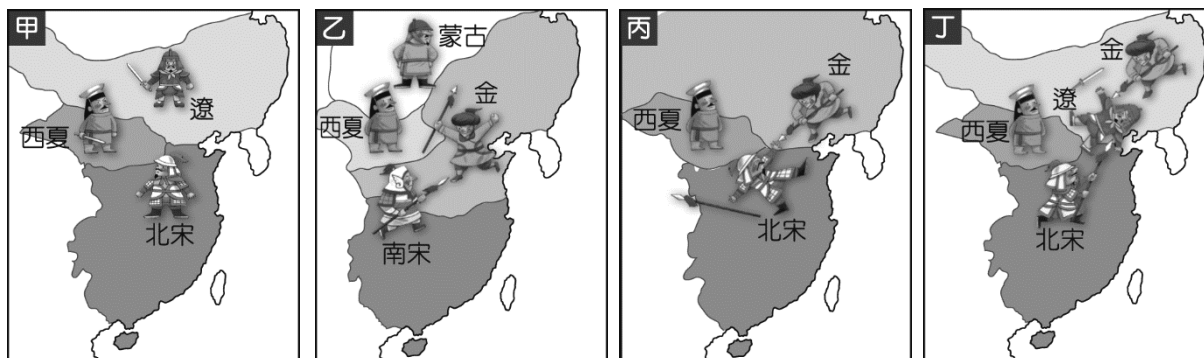


圖 10

【歷史部分 第 34~50 題】

34.() 老師在講解宋、遼、西夏、金、蒙古對立形勢演變歷史時，貼了四幅地圖（如附圖）在黑板上，請同學將地圖依時間順序排列。正確的順序應為何？



(A) 甲乙丙丁 (B) 甲丙丁乙 (C) 丁丙甲乙 (D) 甲丁丙乙

35.() 豆豆搭乘時光機回到元代，他到了一家店擔任店員，(甲)店裡平時會有客人用紙鈔付錢。生活挺是愜意，(乙)平時的伙食有來自占城的白米飯、肉類等菜餚，(丙)晚上閒暇時還可以去夜市逛街，唯獨衣服老是穿不習慣，(丁)這時候還是以麻衣為主，尚未出現棉布衣服。請問：上述畫線部分，何者不合理？

(A) 甲 (B) 乙 (C) 丙 (D) 丁。

36.() 王老師整理了一個表格（如附表），這份表格內容的主題最有可能為下列何者？

漢	張騫通西域
元	蒙古西征
明	鄭和出使西洋
明末清初	耶穌會傳教士東來

(A) 中西文化的交流 (B) 差別待遇的政策 (C) 宗法血緣的繼承 (D) 國家聲威的遠播

37.() 秋草一家生活在明代時的廣東沿海，下列何者不是秋草一家會有的遭遇？

(A) 秋草的爸爸出海捕魚被官府逮捕 (B) 秋草買東西時使用黃金與銅錢付款
(C) 秋草的哥哥加入海商集團遠走他鄉 (D) 秋草的弟弟加入鄭和的出使團

38.() 14 世紀時，為了進行貿易而東來的阿拉伯商人，在跨越海洋前往中國貿易時，需要將船停靠在指定的設施，接受貨物的檢查及入境的登記，檢查完之後，還需要支付貨物的稅金，請問：此設施為何？

(A) 驛站 (B) 夜市 (C) 市舶司 (D) 坊市

39.() 有些古氣候變遷學者認為，一個王國或朝代的興衰，氣候因素有著很大的影響，舉例來說蒙古帝國的擴張，正好遇到氣候較溫暖，降水較多的氣候；又像是明末的年均溫比過往的一百年大概低了 2 ~ 3 ℃，導致連年收成欠佳，最後讓帝國覆滅。請問：明末的氣候問題，正好呼應造成明朝衰亡的哪一個問題？

(A) 內政腐敗 (B) 外患 (C) 流寇 (D) 倭寇

40.() 理學之所以能在元代之後繼續流傳發展，是因為當時元代朝廷實施了下列哪一項政策？

(A) 以《四書集注》作為科舉考試的標準 (B) 實行公平公正的科舉制度推崇
(C) 積極展開漢化運動 (D) 以經學傳家的世家大族

41.() 同學們針對歷史上的某一制度進行討論，根據下列同學們討論的內容判斷，這個制度應該為何？

凱克：「明代與清初時，當時民間的海外貿易幾乎停頓，只剩下官方許可的貿易。」
巴丹：「外國必須接受中國的冊封，才能與中國進行貿易。」

(A) 坊市制度 (B) 海禁政策 (C) 朝貢貿易 (D) 市舶司制度

42.() 番薯這種耐旱的新作物非常容易耕種，連不宜種稻的山坡地都能種植，成為糧食不足的解方，有效的舒緩中國人口壓力。這種新作物是從下列何處傳入中國？

(A) 澳洲 (B) 歐洲 (C) 非洲 (D) 美洲

43.() 金剛將北宋與南宋的發展歷史作比較，下列結論何者正確？

(A) 均重視武人政治 (B) 均始終無法解除來自北方外患威脅 (C) 均亡於蒙古族 (D) 均遭到契丹族的侵略

44.() 滿清以少數民族的身份統治中國，為鞏固政權，採取高壓與懷柔並行的策略。請問：下列何者屬於當時清朝實施的高壓措施？

(A) 薙髮留辮 (B) 強迫改變服裝 (C) 舉行科舉 (D) 以宗教拉攏

45. () 宋元時期，影響世界的中國三大發明隨著蒙古西征以及貿易傳入西方。請問：當時的發明對西方造成的影響不包括下列何者？
 (A)火藥改變了戰爭的型態 (B)活字印刷術促進知識的傳播與交流
 (C)指南針促進遠洋航行技術的改革 (D)造紙術西傳取代原本的羊皮紙
46. () 阿拉罕一家人世居中國西域一帶，自蒙古人統一中國後，他因擅長理財而受到政府的器重，負責國家徵稅的工作。請問：阿拉罕最有可能是當時哪一個階級的人？
 (A)蒙古人 (B)色目人 (C)漢人 (D)南人
47. () 18 世紀初期，日本限制傳教和通商，只允許哪兩國的人可至日本貿易？
 (A)中國、荷蘭 (B)葡萄牙、西班牙 (C)法國、德國 (D)美國、英國
48. () 利瑪竇是天主教在華傳播的開拓者之一，以下哪些事蹟不是利瑪竇的成就？
 (A)允許中國教徒可以祭拜祖先與孔子 (B)與徐光啟合譯幾何原本
 (C)創辦中國第一間西醫醫院 (D)繪製坤輿萬國全圖

49-50 題為題組，請閱讀文章後回答以下問題：

寇與商同是人

市通則寇轉為商

市禁則商轉為寇

皇明經世文編·疏通海禁疏

49. () 從文章內容判斷，「市通」與「市禁」指的是下列哪個制度或政策的實施狀況？
 (A)坊市制度 (B)朝貢貿易 (C)海禁政策 (D)種族制度。
50. () 關於此文章內容，下列敘述何者正確？
 (A)市場的開放有時間限制，不在規定時間內交易的商人就是違法的 (B)海盜和海商都是違法的壞人
 (C)海禁政策的實施讓海商淪為海盜，加劇海盜的猖獗 (D)海禁政策的實施有效的控制了海盜的數量

試卷結束！

若還有時間請再檢查一次！