

新北市立鷺江國民中學 113 學年度 第 1 學期 7 年級 社會 科 第 2 次段考 題目卷

命題教師： 社會科教師 日期： 11 月 26 日 第 4 節 班級： 座號： 姓名：

歷史科 1-17 題

1. 芬芬利用假日去淡水一日遊,她在班週會和同學分享她在淡水踏查歷史景點後感想。請問下列芬芬分享的内容何者有誤?
(A)我從淡水搭渡輪到八里,八里曾經挖掘出金屬器時代的遺址 (B)當年西班牙人將部分淡水軍隊調往馬尼拉,是因為日本實施海禁政策(C)淡水最有名的建築物之一「紅毛城」,它的前身就是西班牙人蓋的建築 (D)清法戰爭期間,淡水曾遭到戰火波及。
2. 以下是一群不同時期的原住民,他們跨越時空相聚,請根據他們的言行判斷他們在歷史上出現的先後順序何者正確?(甲)公司對鹿皮的需求量日益增加,我們只得加緊捕捉,但數量越來越少,實在是難為我們了(乙)政府劃定了界線,要求我們不得越線,好多漢人沒有遵守約定,常常越界開墾 (丙)國姓爺要求他的部下耕種,我們的土地逐漸被他們入侵,實在很傷腦筋 (丁)新來的長官架設了幾條通往部落的道路,廢止了入山的禁令、在部落裡設立學校,對我們的管制也增多了。(A)丙丁乙甲 (B)乙甲丁丙 (C)甲丙乙丁 (D)甲丙丁乙
3. 以下是學者對歷史上臺灣土地開發模式所做出的分析：「十七世紀初期時,『甲』透過提供土地、耕牛、資金借貸,招募『乙』修築城堡、耕種稻米與甘蔗。甲、乙兩者之間雖然互相依賴,但甲常透過強制力懲罰不願受約束的乙。」關於上述「甲」與「乙」的敘述,何者最正確?(A)甲是指鄭氏政權;乙則是大肚社原住民_(B)故意越界開墾土地製造衝突和糾紛,是乙對甲發出的無聲抗議 (C)郭懷一事件的發生就肇因於甲和乙之間所產生的矛盾 (D)朱一貴事件也發生於此段期間。
4. 「琉球因與臺灣的地理位置接近,彼此時有互動。1870 年代,琉球王國居民因船難漂流至臺灣,不幸被殺害,日本藉機出兵臺灣,形成國際外交事件,影響了清帝國對臺治理政策。後來日本併吞琉球,改制為沖繩縣,並因甲午戰爭取得臺灣,琉球與臺灣兩地往來更加密切,有些琉球人因工作選擇來臺定居。」上面短文中提到該事件的發生「影響了清帝國對臺的治理政策」,請問政策的轉變最可能是指下列何者?(A)更嚴格執行劃界封山政策 (B)開港通商,允許洋行建立據點 (C)廢除渡臺禁令,實施開山撫番鼓勵墾殖 (D)開始在臺灣推動現代化建設,例如購置輪船往來臺灣及中國和東南亞間。
5. 十九世紀後期,一位美國學者到臺南考察,當地西拉雅族頭目帶著二十餘份文件讓他瀏覽,這些文件以羅馬字母、漢字拼寫,標注清朝雍正、乾隆及嘉慶的年號和日期,又蓋有印章。他認為這是極有價值的史料,因此便以槍枝換取了這些文件。關於這些文件的内容下列何者的敘述最正確?(A)文件内容均是紀錄荷蘭東印度公司在臺灣的貿易狀況 (B)文件上的文字是由西拉雅族麻豆社語言所拼注出來的 (C)文件内容提到許多關於天主教教義的解說 (D)文件主要是記載原住民與漢人土地交易的契約内容。
6. 保存古蹟的意義,在於它們能引領後人回到歷史現場,去感受當時的重大變遷或現象。右圖兩處均為國定古蹟,關於這兩處古蹟的敘述,下列何者最不正確?
(A) (圖一)古蹟的重建和清法戰爭有關
(B) (圖二)古蹟的興建是因沈葆楨積極推動海防政策
(C)當時為防止外敵,所以興建了此兩處古蹟
(D)此兩處古蹟的出現和民變頻繁有關。
7. (圖三)是基隆和平島上的「諸聖教堂遺址」,它是臺灣近期重要歷史遺跡發掘成果,2022 年基隆市博覽會,有對外向民眾展示考古的成果,請問這個遺址最能證明什麼事情? (A)此教堂主要傳述的是基督教的宗教觀 (B)鄭氏政權實施過軍屯的政策 (C)英法聯軍曾佔領臺灣的證據 (D)西班牙曾經控制過台灣北方。
8. 「清朝甲官員命人開闢北中南三條山路,其中北路從蘇澳至花蓮,是今天蘇花公路的前身;中路從林圯埔至璞石閣,是今日八通關古道的前身...」有關上述短文中的内容敘述,我們可以做何解讀?(A)短文中的甲官員,指的是劉銘傳 (B)此三條道路的開闢是清朝政府希望能進入山區傳教 (C)興建此三條山路的原因是牡丹社事件後,日方所提出來的要求 (D)清政府準備將之前所實施的為防臺而治臺的政策加以調整,因此所做的一連串改變。
9. 鷺江國中位於新北市的蘆洲區,往前追溯百餘年在清朝嘉慶年間,鷺江國中最可能歸下列哪一個行政區管轄?(A)臺灣府 (B)諸羅縣 (C)臺北府 (D)淡水廳。
10. 下表為某作家的三部長篇小說内容簡介,該作家藉此構築十七至十九世紀臺灣歷史的發展過程。根據表中内容判斷,這三小說呈現的時代先後順序,最可能是下列何者? (A) 丙→甲→乙 (B)丙→乙→甲 (C)乙→甲→丙 (D)乙→丙→甲。



圖一：基隆——海門天險

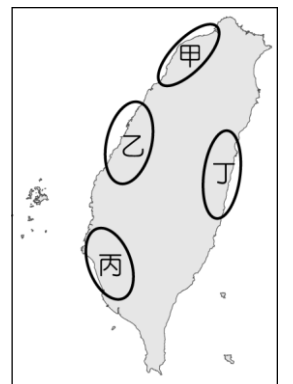


圖二：臺南——億載金城



圖三

著作	內容簡介
甲	刻畫多位漢人男子在偷渡黑水溝的過程中，所遭受的危險，來臺後又擔憂因禁令而無法同行的家鄉妻小安全的煎熬心情。
乙	書中內容提及哈利是 19 世紀在臺灣北部經營國際貿易的英國人，因為當時臺灣北部發生戰事。哈利擔心自己的生活會受影響，因此向淡水英國領事館尋求協助。
丙	某外來政權主要透過各原住民部落選出的長老進行間接統治，而部落長老每年須參加一次「地方會議」。



圖四

11.(圖四)是十八世紀時，有一位歐洲貴族乘船漂流至臺灣時所劃下的地圖，他發現清廷有在部分地區設置廳、縣治理，但也有些地方當時尚未增設行政單位，因此當他返回歐洲後，大力遊說各國派兵來此區建立殖民地。關於上述短文中的敘述，何者最正確？(A)當時的臺灣才剛進入清朝治理初期 (B)林爽文事件的發生讓地圖中的乙地某地區的地名而因此改名 (C)吳沙的越界開墾，讓圖中的丁地因此而增設為廳進行管理 (D)地圖中的丙區是清朝治臺初期，臺灣府的所在地。

12.(圖五)呈現某一歷史事件前後，清朝治臺措施的差異。從圖中內容我們該如何解讀最合理？(A)圖中的差異是因為清法戰爭帶來的影響 (B)郭懷一是此政策下其中之一的受益者 (C)原住民的權益在新政策推動後，進一步獲得更大的保障 (D)沈葆楨在政策改變過程中，扮演非常重要的角色。

圖五



13.(圖六)中的甲乙丙丁四個圖，我們該如何解讀才會最正確？(A)甲圖中臺灣宣布建省後，臺灣出現全球第一條鐵道 (B)乙圖的開港通商，讓外國勢力初次進入臺 (C)丙圖的政策實施後，清朝政府仍多次重定番界 (D)此四個圖若依事件發生的後順序，依序應是丙→丁→乙→甲。



圖六

★題組題

荷蘭人觀察到的臺灣島，周圍有一百三十荷蘭哩，包括許多村落，人口眾多。在台南平原地區較大的聚落與社群有八個地方，包括：麻豆社(現在麻豆鎮西南)、蕭壠社(現在佳里鎮西方)、目加溜灣社(現在台南市的灣裡一帶)、大目降社(現在的新化)……。這地方的人有相同的風俗、習慣宗教，也講相同的語言。聚落由海邊往山區分佈，最遠的社群聚落離荷蘭人所居住的熱蘭遮城(今之安平古堡)約有一天的路程。其中，最遠的聚落位於深山之間。從熱蘭遮城到聚落往返需要三天。
節錄自〈劉斌雄田野普查 1957~1962〉

14.上述文章中所提到的聚落和社群，最可能是下列何者？(A)西拉雅族 (B)大肚王國 (C)凱達格蘭族 (D)達悟族。
15.關於上述文章內容的解讀，下列何者最正確？(A)在荷蘭人的影響下，這些聚落和社群民眾，全部改信基督教 (B)這些聚落社群一開始就全部臣服於荷蘭人之下 (C)荷蘭人對這些聚落採取直接統治 (D)每年召開的地方會議，荷蘭授予長老權杖，是榮耀和權力的象徵。

甲官員:臣下奉旨征討臺灣，親自來到這個地方，看見土地肥沃、物產豐富……硫磺、蔗糖、鹿皮以及一切日常所需的物資，沒有一項缺乏的。……逆賊因為皇上的威嚴和恩德而投降歸順了，這個地方實在是上天幫助皇上鞏固東南的保障，可以永遠杜絕沿海邊境的禍患。

乙官員:臺灣只是海外的丸泥小島，不足以拓展中國的版圖；住在臺灣的是裸體紋身的番人，不值得和他們共同守護(臺灣)。花費國家的金錢治理臺灣實在沒有好處，不如把住在臺灣的漢人都遷回中國，讓臺灣的土地空著就好。

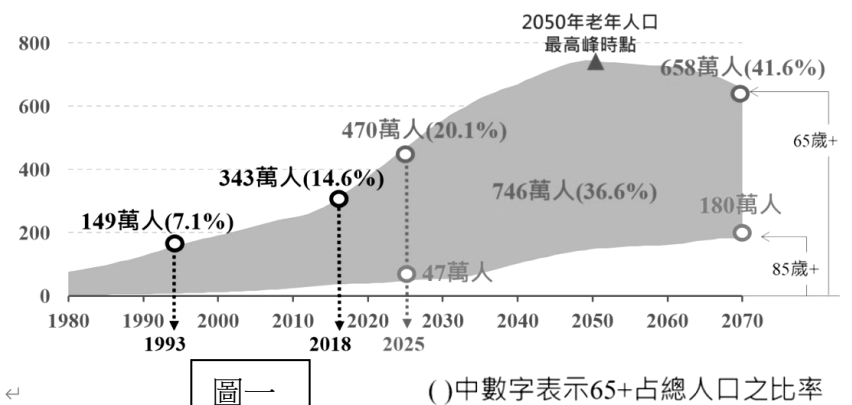
16.上述兩位官員正在討論關於臺灣前途的未來，甲官員提到的「臣下奉旨征討臺灣，……逆賊因為皇上的威嚴和恩德而投降歸順了」，關於這段文字的解讀，下列何者最不正確？(A)文中的皇上後來將諸羅縣改為嘉義縣 (B)文中的臣指的是施琅 (C)逆賊指的是鄭氏政權 (D)皇上當時將臺灣設於福建省之下，隸屬福建省管轄。
17.臺灣最後被保留下來，但當時政府的治理態度、政策及影響，下列何者的敘述最正確？(A)積極推動各項現代化建設，期待臺灣成為最進步的省分 (B)臺灣諺語中所提到的「红柿若出頭，羅漢腳目屎流」，是當時許多台灣漢人男性同胞的寫照(C)鼓勵來臺漢人舉家遷臺，好增加臺灣的人口數 (D)設立番界的目的是為保護來臺漢人的生命及財產安全。

公民科 18-33 題

★單選題

18. 圖一為國家發展委員會推估 2020 至 2070 年台灣人口發展。根據圖中內容判斷，政府若想改善這種社會現狀帶來的問題，下列哪一項政策最有直接的幫助？

- (A) 加強宣導鼓勵生育觀念 (B) 簡化家庭暴力通報流程
(C) 強化職業訓練就業安全 (D) 增設高齡安養照護機構。



19. 「台灣 25-34 歲的雙薪家長正面臨『照顧時間貧窮』的困境，他們必須以高工時換取薪資才養得起小孩。但工時長與加班頻繁，即使有小孩也沒時間陪伴…」關於文中內容，下列敘述何者正確？

- (A) 現代家庭面臨保護與照顧功能的困境 (B) 可看出家務分工上的性別不平權
(C) 應積極宣導節制生育 (D) 應鼓勵女性回歸照顧家庭

20. 15 歲少年無照駕車撞死 3 人的新聞事件震驚台灣社會。律師蘇家宏在臉書粉專發文坦言，這名 15 歲少年在 3 天前就曾提到想學開車，如果父母親能夠及早瞭解孩子的想法，或許可以用其他方式滿足他的好奇心，而不是讓他冒著巨大風險偷開車上路。他直言，父母也需要教導孩子要有同理心，讓他們明白若因自己的行為造成他人受傷，不僅內心會感到難過，法律責任也難以逃避。由此可知，這位 15 歲少年的家庭哪一項功能沒有發揮作用？

- (A) 生育功能 (B) 教育功能 (C) 經濟功能 (D) 保護與照顧功能

21. 新聞報導：「因母親有酗酒、精神困擾，五歲的阿邦長期遭母親家暴，成為母親棍下的受虐兒，五歲的他全身青一塊紫一塊，新傷舊傷遍布小小身軀，被花蓮社工通報後緊急安置。」根據上述內容及我國相關法規的規定，下列敘述何者最正確？

- (A) 對阿邦施暴的媽媽將會由警察宣告停止親權
(B) 社工可協助阿邦向法院申請保護令以保護其人身安全
(C) 政府可依民法所核發的保護令禁止媽媽不可再加害阿邦
(D) 阿邦未來可依家庭暴力防治法請求法院免除扶養媽媽的義務

22. 根據圖二內容判斷，下列政府的對策何者最適切？

- (A) 政府可以考慮開放移民相關政策 (B) 政府應該增建老人日間照護中心
(C) 顯示小家庭較多，政府應協助發揮保護與照顧功能
(D) 未來勞動力可能短缺，政府應增加育兒津貼



23. 公民課中，老師請同學說明家庭中的親屬關係。根據我國法律規定，下面哪位同學的敘述正確？

- (A) 子隆：伯母的兒子跟我稱兄道弟，是我的直系血親 (B) 宸新：大姨丈跟二姨丈彼此之間的關係，稱為連襟
(C) 家妤：爺爺奶奶跟外公外婆之間是姻親關係 (D) 雨婕：養父與養子之間沒有血緣關係，所以不是親屬。

24. 台灣生育率全球墊底，低薪、高物價、高房價及公托不足等狀況，都讓年輕人沒有生小孩，甚至是結婚的意願。養不起小孩，所以選擇養寵物。內政部及農委會資料顯示，二〇二一年全台犬貓數已達二九五萬隻，十四歲以下人口數為二八九萬，寵物數量首度超過幼年人口。台灣動物保護行政監督聯盟秘書長何宗勳觀察近年社會現象，貓狗已成許多人的生活重心、感情寄託，可以沒有另一半，可以不婚、不生，但一定飼養毛小孩。「毛小孩」正式取代「小小孩」，成為多數現代人家中最小的那個成員。上述說明現代家庭的哪一種現象？

- (A) 小家庭數量上升 (B) 女性經濟自主能力提高 (C) 現代人婚姻價值的轉變 (D) 工作環境與家庭的變遷。

25. 俊佑的老婆即將臨盆，為了能在孩子出生後全心全意的照顧，俊佑開始研究我國有關「育嬰假」的法律規定。下列關於「育嬰假」的敘述，何者正確？

- (A) 規定於《性別平等教育法》中 (B) 只有女性才可以請育嬰假
(C) 員工任職滿 6 個月後，在子女滿 5 歲前都可以申請 (D) 育嬰假的制定是為了提高生育率。

26. 隨著社會變遷，家庭的許多功能也被許多社會機構所取代，但家庭的哪種功能是無法被取代的？

- (A) 經濟 (B) 教育 (C) 生育 (D) 保護與照顧

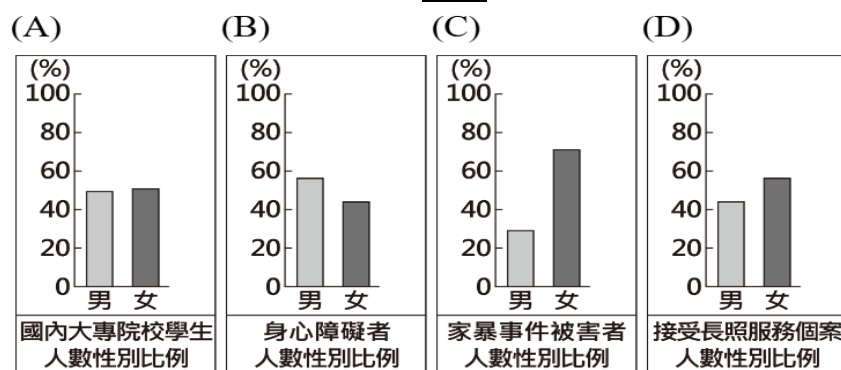
27. 根據圖三內容判斷，女藝人的做法應是基於民法哪一項監護權歸屬的原則？

- (A) 將由經濟較佳的一方取得 (B) 法院會考量子女的最佳利益
(C) 跨國訴訟不易取的監護權 (D) 女兒監護權一律歸屬父親。

圖三

台灣某位女藝人與加拿大籍丈夫結婚十多年，婚姻遇到問題、女方已正式向法院訴請離婚。兩人育有一位未成年的女兒，女藝人正在蒐集自己更適合扶養女兒的證據，希望能成為女兒的主要照顧者，避免法院將女兒的監護權判給父親。

28. 彦成參加辯論比賽，辯論主題是「目前天龍國社會尚未達到性別平等」，若他是站在正方的立場，須提出支持主題的論點，下列關於天龍國不同面向的統計圖，何者最適合彦成作為強化論點的證據？



★題組題

(一)

<p>育哲與太太、女兒、爸爸、媽媽、哥哥、嫂嫂共七人同住。一家人常到全家福量販店消費。全家福量販店推出「家庭卡」會員申請方案。申請後家庭成員可以共同使用一張卡片且同時享有店內多項優惠。收費說明如右圖所示。育哲在申請人填入自己，共用卡片的家庭成員填入太太、女兒、爸爸、媽媽、哥哥、嫂嫂的名字。</p>	<p>「家庭卡」收費說明</p> <p>*基本會費：一卡 500 元</p> <p>可使用對象：本人、配偶、直系血親</p> <p>*額外增加可使用對象收費：</p> <ol style="list-style-type: none"> 1. 申請人的旁系血親，每位加收會費 50 元 2. 申請人的姻親，每位加收會費 100 元
---	---

29. 請問：有關育哲的家庭，屬於下列哪一種家庭型態？

- (A) 大家庭 (B) 折衷家庭 (C) 小家庭 (D) 重組家庭

30. 請問育哲一共要繳納多少會費？

- (A) 500 元 (B) 600 元 (C) 650 元 (D) 700 元

31. 右圖四為全家福量販店推出萬聖節歡樂 Party。有關萬聖節歡樂 Party 的優惠說明，下列敘述何者正確？

- (A) 享有九折優惠的有只有哥哥 (B) 可享來店好禮的有 2 人
(C) 可享八折優惠的有 4 人 (D) 太太購票入場可享來店好禮

<p>萬聖節歡樂 Party 收費說明</p> <ol style="list-style-type: none"> 1. 辦卡人享有免費入場 2. 與辦卡人同住的直系血親享八折優惠 3. 與辦卡人同住的旁系血親享九折優惠 4. 與辦卡人同住的姻親購票入場可享來店好禮
--

圖四

(二)

77 歲婦人小萱（化名）遭 2 名孩子指控，他們自幼由外公外婆獨自扶養長大，直到求學畢業後自食其力，成長過程母親皆在外地，不曾支付他們扶養費，父親也另組家庭，皆未盡扶養義務。日前社會局通知，要求他們負擔母親安置費用，不滿母親未盡人母之責，憤而訴請免除扶養義務。

法官審酌，小萱當年本應善盡對未成年子女教養保護責任，不但未能在經濟上給予扶養費，精神上也完全未提供任何關懷，身為母親之功能完全喪失，無正當理由未盡扶養義務，並且情節重大。日前依法宣判，2 個孩子請求免除扶養義務，應予准許。

中時新聞網 2024/9/22

32. 根據上文敘述「自幼由外公外婆獨自扶養長大」可知文中兩名孩子小時候的家庭型態屬於下列何者？

- (A) 聯合家庭 (B) 小家庭 (C) 隔代教養家庭 (D) 頂客家庭。

33. 針對上述案例，下列哪一項敘述是正確的？

- (A) 法律規定子女應孝敬父母，應該絕對遵守 (B) 棄養父母或子女主要應依據性別平等教育法來處理
(C) 現代社會父母的權益愈來愈不受重視 (D) 曾被父母棄養的兒女，可以請求法院免除或減輕扶養義務

題目尚未寫完，請繼續加油

地理部分 34-50

34. 女王頭【圖一】是野柳地質公園的地標，本身為蕈狀岩，民國 51 至 52 年間因頂部結核上的節理斷裂，讓岩石形狀改變，遠觀時外形雍容大方，頸部修長、臉部線條優美，貌似英國伊莉莎白女王頭像，因而得名。經過數十多年的風化與侵蝕作用，女王頭脖子越來越細，目前已委託學術研究單位進行補強計畫，以確保女王頭地標長久存在。請問：關於女王頭的地形作用力與下列何者的成因屬於同一種營力作用？(A)陽明山小油坑 (B)921 大地震 (C)佳陽沖積扇 (D)海岸山脈造山運動。

圖一

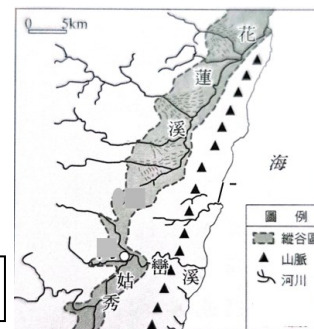


35. 承上題，下列哪項觀光旅遊體驗所在地，有可能看到【圖一】的海岸地形？(A)站在高大山壁斷崖上，俯瞰海天一色，山海對峙的絕景 (B)在鹽田溼地上，觀賞遠道而來的候鳥、體驗傳統晒鹽生活 (C)搭乘遊艇繞行多重岬角與灣澳間，夕陽西下，滿天星斗與海面漁船燈火相輝映 (D)浮潛於色彩繽紛的海底世界，與熱帶魚同游、一窺珊瑚之美。

36. 下列哪些現象與「臺灣位於板塊接觸帶上」此事實較沒有關係？(A)臺灣多火山、地震 (B)山脈多呈南北走向 (C)3000 公尺以上的山脈林立 (D)臺灣沒有高原地形。

37. 秀姑巒溪是臺灣熱門的泛舟地點，尤其是下游水量充沛、河道地形陡峻，沿途多激流與險灘，並有峽谷、曲流、河階地形景觀。由【圖二】判斷，該河川下游是切穿哪一座山脈，造就出陡峭的峽谷等地形？(A)中央山脈 (B)雪山山脈 (C)海岸山脈 (D)玉山山脈。

圖二

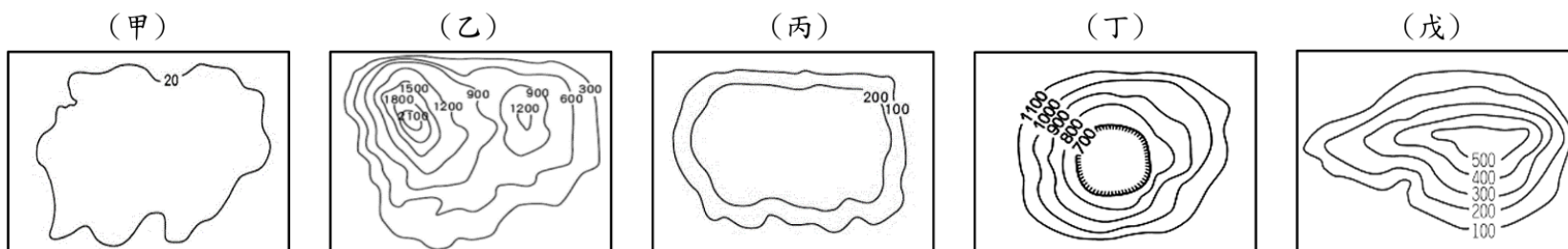


38. 暑假時，超人在台灣進行環島之旅，在途中他看到了【圖三】中的景象，有橋樑橫跨兩個板塊交界，因此在橋上設置板塊交界地標。請問：關於【圖三】的敘述下列何者錯誤？(A)圖中景點位在花蓮、台東縣境內 (B)圖中 B 山的主峰為臺灣的最高峰 (C)圖中 A 山為臺灣脊梁山脈 (D)該照片拍攝點應位於縱谷平原區。



圖三

39. 下列為五大地形的等高線圖，請根據題目敘述選出相對應的等高線圖。



漫威魔法學堂針對新生的校外教學安排了三種套裝行程(表一)。請問：三種行程所提及的地點，其主要地形區的等高線圖依序可能為何？(A)甲→戊→丙 (B)乙→戊→丁 (C)丁→甲→戊

(D)戊→甲→乙。

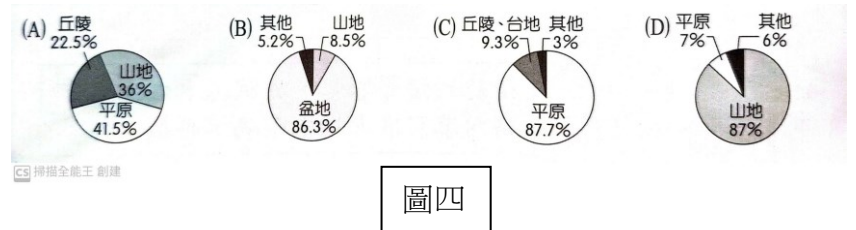
表一

方案一	苗栗採茶體驗之旅
方案二	宜蘭田園風光農村生活之旅
方案三	挑戰台灣百岳文化之旅

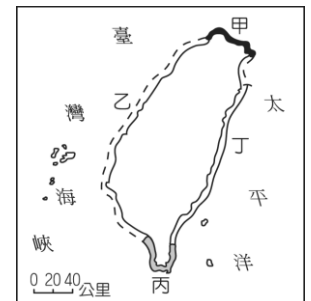
40. 「日本位於西太平洋小笠原群島中的「硫磺島」，周圍海域自 10 月 21 日以來出現頻繁火山活動，日前傳有座新島嶼在火山噴發中誕生，日本海上保安廳觀測後證實該新島嶼南北長約 400 公尺，東西長約 200 公尺，並且不時噴出數十公尺高蒸汽。然而，專家認為火山爆發情況已經逐漸平穩，隨著海浪沖刷，小島留存的時間可能不會長久。」請問：下列台灣的離島中何者的形成原因與文中小島相同？(A)太平島 (B)金門列嶼 (C)龜山島 (D)東沙島。

41. 米粉是新竹的特產，一年之中，特別是在東北季風期間，本市因處於山脈的背風側，因此降雨量不甚豐沛，再加上「喇叭狀」的地形，使得季風來到新竹，有加壓、增強的作用。風強雨少是風乾米粉的有利條件，特別是十月到一月空氣冷冽且水份少，若稍微有一點陽光出現，就是米粉業者曬米粉的最佳季節。根據地理位置判斷，造成本市擁有此一氣候優勢的主因，與其位於哪座山脈的背風側有關？(A)中央山脈 (B)雪山山脈 (C)玉山山脈 (D)海岸山脈。

42. 臺灣地形多樣，地表景觀多變，但受地形空間分布的影響，各行政區的地形比例不盡相同。【圖四】為臺北市、彰化縣、嘉義縣及花蓮縣四個行政區的地形比例圖，其中彰化縣應為下列何者?(A)A (B)B (C)C (D)D。



43. 臺灣沿海地名中有「岬」、「頭」、「鼻」、「角」者甚多，例如：「野柳岬」、「貓鼻頭」、「鵝鑾鼻」、「富貴角」等。請問這種「岬」、「頭」、「鼻」、「角」的地形景觀、有可能位於【圖五】中哪一個海岸?(A)甲 (B)乙 (C)丙 (D)丁。



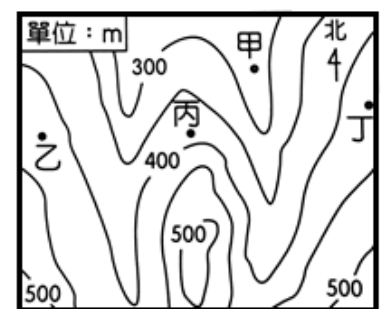
圖五

44. 不同類型的海岸，會有不同的利用方式。下列哪些產業活動容易在岩岸地形發展？
(甲)農業 (乙)捕撈漁業 (丙)鹽業 (丁)航運 (戊)養殖漁業
(A)甲丙 (B)甲丁 (C)乙丁 (D)丙戊。

題組(一):

【圖六】是某地的等高線圖，近日該地區發生強降雨的極端氣象事件，某生利用地理資訊系統建立數值地形模型，進行地勢分析與災害風險評估。

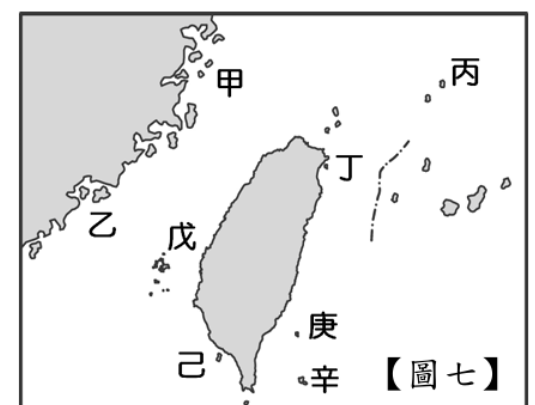
45. 【圖六】甲-丁 4 個地點，哪個點最有可能因為水流匯集，發生水位暴漲？
(A)甲 (B)乙 (C)丙 (D)丁。
46. 【圖六】甲-丁 4 個地點，高度相同的是(A)甲丙 (B)乙丁 (C)乙丙 (D)丙丁。
47. 【圖六】中河流的主要流向為何?(A)由東向西流 (B)由西向東流 (C)由北向南流 (D)由南向北流。



圖六

題組(二):

48. 以下是四位漫威英雄人物對於暑假台灣離島之旅的聊天內容，請根據他們的聊天內容，判斷出哪位英雄人物講述的離島位置是正確的？
蟻人：『這次的行程中我印象最深刻的是見到了罕見的海底溫泉，在晨間泡湯觀看日出，夜晚能靜聽海濤聲，欣賞滿天星斗，或品嚐以海底溫泉煮出滋味特別的各種美食料理，真是一大享受!』
超人：『我覺得柱狀玄武岩才奇特!而且許多菜園邊都用砵咕石堆成圍牆以抵禦強勁的海風，別有一番風情!』
蜘蛛人：『我喜歡體驗島上人民的人文風情，可以和島上的人一樣穿著丁字褲乘獨木舟去捕飛魚，好難忘的經驗!』
鋼鐵人：『我對美景沒什麼興趣!不過旅程中讓我嚐到了高粱酒和好吃的貢糖，就讓我心滿意足了。』
(A)蟻人—丁地 (B)超人—己地 (C)蜘蛛人—辛地 (D)鋼鐵人—甲地。



【圖七】

49. 見【圖七】有關離島的地理概況，何者的敘述錯誤? (A)丁-蘭陽平原東面的太平洋上一座火山島 (B)金門在臺北的西南方，馬祖在臺北的西北方 (C)己辛-海底珊瑚礁露出海面所形成 (D)甲乙-中國沿海丘陵因海水上升淹沒谷地所形成。
50. 東海地區火藥味濃厚，島嶼的主權問題備受關注，而【圖七】中台灣哪一座島嶼，因位在臺灣、中國、日本三地之間，而屢屢成為國際注目的焦點? (A)丙 (B)丁 (C)己 (D)辛。

題目結束，謝謝你的努力!