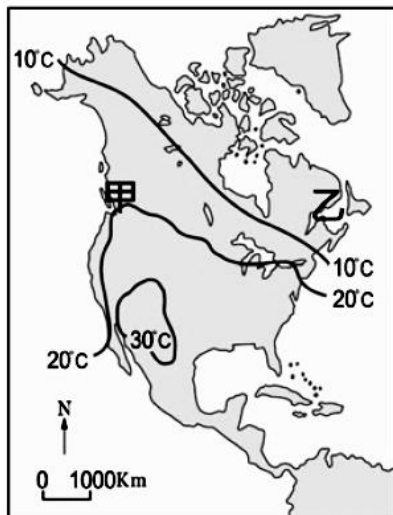


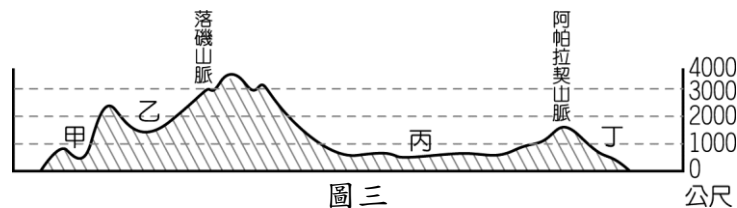
【地理科】1題~17題



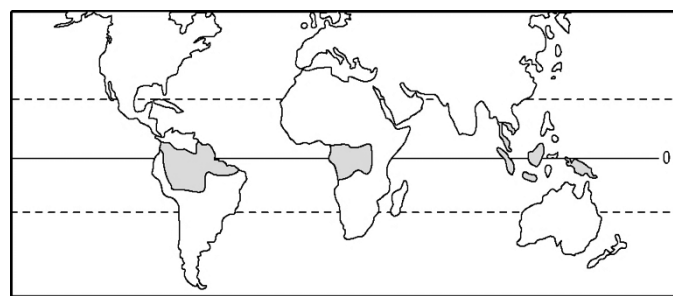
圖一



圖二



圖三



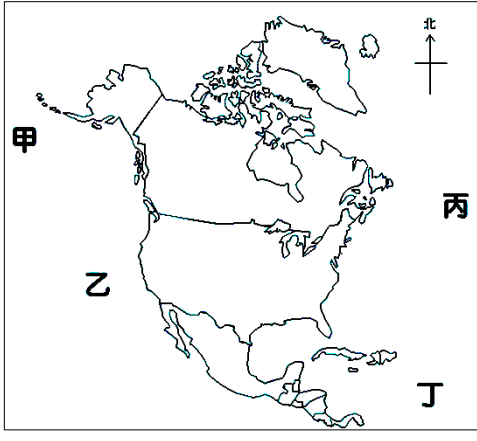
圖四

- 圖一為美洲的區域範圍，請問下列何者為中美洲、南美洲兩地區的畫分界線？
(A)甲 (B)乙 (C)丙 (D)丁
- 圖二為北美洲七月等溫線分布圖，甲、乙兩地分屬北美洲的西、東岸沿海地區，由圖中可知甲地的氣溫較乙地高，請問影響兩地氣溫差異的主要原因為何下列何者？
(A)洋流性質 (B)緯度高低 (C)地勢高低 (D)盛行風向
- 圖三為北美洲的地形剖面圖，請根據圖三判斷下列有關北美洲地形的敘述何者正確？
(A)甲：屬環太平洋火山地震帶
(B)乙：蘊藏豐富的礦產資源
(C)丙：由聖羅倫斯河沖積而成
(D)丁：東側緊鄰太平洋
- 圖四為某地理學者所繪出來的氣候分布圖，請問圖中深色區域的氣候類型最可能為下列何者？
(A)熱帶季風氣候 (B)熱帶莽原氣候 (C)熱帶沙漠氣候 (D)熱帶雨林氣候
- 下列為美國城市與當地產業的配對，請問何者有誤？
(A)休士頓：航太工業
(B)西雅圖：航空工業
(C)洛杉磯：電影產業
(D)底特律：石化工業
- 自2020年10月起，中美洲各國頻繁受到多個來自大西洋的某種天氣災害侵擾，造成我國邦交國貝里斯、瓜地馬拉、宏都拉斯及尼加拉瓜等四國皆傳出淹水與土石流災情，其中以宏都拉斯、瓜地馬拉兩國災情最為嚴重，約上百人死亡，大量民宅與道路損毀，上萬人流離失所。根據上文所述，此一造成中美洲各國災情慘況的天氣災害為下列何者？
(A)地震
(B)颶風
(C)龍捲風
(D)暴風雪
- 關於中美洲的特色敘述，下列敘述何者最正確？
(A)位置：屬板塊交界帶，火山、地震頻繁
(B)氣候：屬於七月乾燥的熱帶莽原氣候區
(C)地形：巴拿馬運河主要位在高原地形
(D)族群：以因紐特人、印地安人、黑人混血為主
- 巴拿馬運河被譽為「世界七大工程奇蹟」之一，為美洲相當重要的航行要道。若以最短距離考量，下列哪兩個地區之間的船運不需要經過該運河？
(A)美國舊金山至巴西里約
(B)美國休士頓至日本大阪
(C)美國紐約至韓國釜山
(D)中國廣州至希臘雅典

2016 年美國川普總統上任後，為了平衡美國、加拿大與墨西哥三國之間的貿易關係，替美國創造更多高薪工作，遂於 2018 年促使三國重啟協商自 1994 年起所簽訂的舊有貿易協定，而該經貿協定曾被川普形容是「美國史上最糟糕的貿易協定」。爾後，經過長達 13 個月的談判協商，「美國－墨西哥－加拿大協議」，簡稱「美墨加協議」(USMCA) 將取代舊有貿易協定，並於 2020 年 7 月 1 日起正式上路。

11 題：

9. 根據上文報導，曾被川普總統形容是「美國史上最糟糕的貿易協定」，指的是下列何者？
 (A)WTO (B)OPEC (C)ASEAN (D)NAFTA
10. 舊有的貿易協定生效後，美國對墨西哥的貿易逆差逐漸加大，美國製造業的工作機會不斷外流，主因是會員國中的墨西哥吸引大量美國企業前往投資設廠。請問墨西哥具有下列何種優勢，吸引美國企業前往投資？
 (A)充裕的資金與技術
 (B)豐富的工業原料
 (C)勞工的工資低廉
 (D)廣大的消費市場
11. 在「美墨加協議」中，加拿大製造的汽車與零件將免除高額關稅，但相對地加拿大放寬對乳品市場的限制、擴大美國農產品進口，請問美國與加拿大的酪農業主要分布在下列何處？



圖五

- (A)落磯山區
 (B)五大湖區
 (C)拉布拉多高原
 (D)北美大平原
12. 號稱「永不沉沒」的英國鐵達尼號，1912 年 4 月初從英格蘭南安普敦首航，目的地是美國紐約，但卻不幸地在首航五天時，在距離加拿大拉布拉多高原外海約 650 公里處，一分為二，沉入海底，時至今日已在海底超過百年。此悲劇後來被拍成電影，在全球掀起一波鐵達尼號的熱潮，現在更有旅遊公司，想帶領民眾到海底參觀，開價約 357 萬台幣，就有機會近距離一睹這艘沉睡海底的著名沉船。請問若想參加此旅遊行程參觀鐵達尼號沉船，最有可能在圖五的何處海域？
 (A)甲 (B)乙 (C)丙 (D)丁

13. 位於南美洲的玻利維亞有「坐在金礦上的驢」之稱，首都拉巴斯海拔高度 3829 公尺，為世界海拔最高的首都，當地人房屋選建在山巒相間之處，依著地勢起伏層疊建起，市區內的街道基本上都有坡度。正因如此，拉巴斯主要的交通方式不像一般城市以地鐵、公共汽車等運輸工具，民眾則是以乘坐纜車通勤。請問造成該地人口集中於高海拔地區的主要因為下列何者？
 (A)移民依循原鄉環境居住 (B)沿海地區發展過度飽和 (C)高山空氣清新且汙染少 (D)平地大多過於潮溼或炎熱

14. 根據巴西航太研究中心研究指出，從 2019 年 8 月到 2020 年 7 月，亞馬孫雨林遭砍伐的面積打破 12 年來的紀錄，雨林消失的面積等同 3 分之 1 個台灣，甚至有專家表示「每分鐘就消失一片足球場大小的森林」，但實際上雨林消失的速度已不只如此。請問亞馬孫雨林快速地消失，最主要的原因為下列何者？
 (A)開發成為大型市鎮 (B)開墾土地種植作物 (C)受大量火山灰覆蓋 (D)外來物種繁衍迅速

15. 近年來，非政府組織「熱帶雨林聯盟」為維持生物多樣性、地球生態永續發展，保護森林、保護野生動物、減少貧窮等因素，提倡對符合標準的產品或服務項目給予「雨林聯盟認證」(如圖六)，提供一般大眾在購買商品時能選購經認證友善雨林的產品。請問下列農產品最有可能取得「雨林聯盟認證」標章？
 (A)咖啡 (B)棉花 (C)茶葉 (D)葡萄



圖六

16. 在地表水資源較缺乏的地區，如西亞的沙烏地阿拉伯常使用深井技術，挖掘深達一公里地層中的地下水，並以水井為中心灌溉出圓形的農地，從高空往下望，彷彿一張張綠色唱片，這些農地的直徑有的數百公尺，有的可達三公里長，採用機械化全自動噴灌設備，為高度機械化的耕作方式。根據上文所敘述的農地景觀，除了在西亞常見，在下列哪個地區也最常見？
 (A)巴西高原 (B)拉布拉他平原 (C)拉布拉多高原 (D)北美大平原

17. 世界各洲的農業活動類型，依照目的不同可分為自給式農業、商業性農業兩種，下表為兩種農業經營方式的比較，請問下列何者**錯誤**？

- (A)耕作方式
 (B)單位面積產量
 (C)作物類型
 (D)人口分布

農業經營方式	耕作方式	單位面積產量	作物類型	人口分布
自給式農業	集約	高	多樣作物	地廣人稀
商業性農業	粗放	低	單一作物	地狹人稠

【歷史科】18題~34題

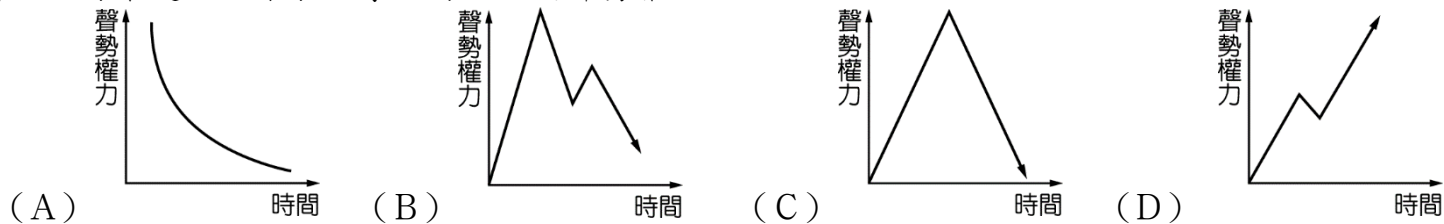
18. 法國大革命後續所帶來的影響，引起歐洲各國君主的強烈反應。請問：在維也納會議中，採取何種原則，讓原有王室復辟，重建歐洲政治？
 (A)補償原則
 (B)保守原則
 (C)正統原則
 (D)懲罰原則。

19. 阿君對 18 世紀的法國史事很感興趣，請協助她按下列事件發生先後時間排列，正找出正確答案。(甲)拿破崙稱帝(乙)法國大革命(丙)召開三級會議(丁)處死路易十六
 (A)甲乙丙丁
 (B)乙甲丙丁
 (C)丙乙丁甲
 (D)甲乙丁丙。

20. 阿鴻整理關於工業革命的筆記，其內容哪些有誤？ (甲)時間：18 世紀中期開始 (乙)地點：從法國開始 (丙)傳播：傳往歐洲大陸和美國，再傳到其他各地 (丁)影響：解決了貧富懸殊、階級對立的問題。
 (A)甲丁 (B)乙丁 (C)甲丙 (D)乙丙。

21. 龍龍在某本介紹英國歷史的書中，看到對中產階級有這樣的形容：「他們在財富上有雄厚的憑藉，是國家社會的菁英，在政治上卻毫無地位……工業城市曼徹斯特和伯明罕等在國會中並無代表權，許多工商界人士因非國教徒而受各種歧視。」這種情況最後導向了一連串的政治改革，請問改革的名稱？
 (A)人權宣言 (B)權利法案 (C)獨立宣言 (D)改革法案。

22. 拿破崙是一位非常偉大的政治家、軍事家，他不僅穩定了法國大革命後的混亂，更用強大的軍事力洗捲歐洲，下列哪一曲線最適合用來表示拿破崙一生的聲勢權力？



23. 17~20 世紀中外歷史裡發生了非常多的革命，請將下列項目照時間先後順序排列。
 (甲)中國武昌起義(乙)英國光榮革命(丙)美國獨立(丁)法國大革命
 (A)甲乙丙丁
 (B)乙丙丁甲
 (C)丙乙甲丁
 (D)丁丙乙甲。

24. 靜靜在圖書館翻到一篇西方歷史上著名的文件內容，這個文件最有可能是指下列何項？

1. 譴責英王詹姆斯二世破壞法律的行為。
 2. 指出以後英王未經議會同意不能停止任何法律效力；未經議會同意不能徵收賦稅；天主教徒不能擔任國王，國王不能與天主教徒結婚等。
 3. 威廉接受要求後，此文件於當年10月經議會正式批准定為法律。

(A)《大憲章》 (B)《權利法案》 (C)《人權宣言》 (D)《獨立宣言》。

25. 「整理法典，去蕪存菁，功在後世」，下列哪些人物有此成就？
 (甲)查理曼 (乙)漢摩拉比 (丙)凱薩 (丁)拿破崙 (戊)查士丁尼 (己)狄奧多西
 (A)甲丙戊 (B)乙丙丁 (C)甲乙丁 (D)乙丁戊。

26. 請協助蓉蓉將 18 世紀的事蹟與人物的配對，找出正確的組合。(甲)批評政府與天主教會，並強調言論自由 (乙)主張生命、自由與財產是不可剝奪的「天賦人權」 (丙)提出行政、立法、司法三權分立，彼此制衡，以免造成專制 (丁)主張「主權在民」，強調普遍意志
 (A)伏爾泰、洛克、孟德斯鳩、盧梭
 (B)洛克、伏爾泰、盧梭、孟德斯鳩
 (C)盧梭、孟德斯鳩、伏爾泰、洛克
 (D)孟德斯鳩、洛克、伏爾泰、盧梭。

27. 英國的議會政治，在經過無流血的光榮革命後通過《權利法案》，此後英國哪些制度逐漸形成？
 (甲)議會政治(乙)兩黨政治(丙)監察制度(丁)內閣制度
 (A)甲乙丙
 (B)乙丙丁
 (C)甲乙丁
 (D)甲丙丁。
28. 云云整理科學革命時期下列各人物的重大成就，正確的有哪些？(甲)培根：提出「三大運動定律」(乙)牛頓：提出「萬有引力定律」(丙)笛卡兒：提出「我思故我在」(丁)哥白尼：強調演繹法的重要
 (A)甲乙 (B)乙丁 (C)甲丁 (D)乙丙。
29. 嘉嘉看到書上的一句話：「君主是上帝在世上的代理人，上帝經由君主統治世界，所以君主是神聖的。國王的權利是絕對的，不需要為其行為解釋……。」請協助嘉嘉找出這段話應為下列哪些專制王權帝王的治國理念？
 (甲)法王路易十四 (乙)俄皇彼得大帝 (丙)俄皇凱薩琳二世 (丁)普魯士腓特烈二世
 (A)甲乙 (B)乙丙 (C)甲丙 (D)丙丁。

題組

壹、請根據下列三則資料，回答問題：

資料一：「我們認為這些真理是不言而喻的：人人生而平等，造物主賦予他們若干不能讓渡的權利，其中包括生命權、自由權和追求幸福等權利。」

資料二：「這些聯合一致的殖民地從此是自由和獨立的國家，並且按照其權利也必須是自由和獨立的國家；我們取消一切對英國王室效忠的義務，把我們和大不列顛王國之間的一切政治關係，全部斷絕。」

資料三：「人人生而平等，上帝賦予他們若干不能出讓的權利，其中包括生命權、自由權和追求幸福的權利。為了保障這些權利，人們才建立政府組織。……任何政府一旦破壞這些權利，人們便有權將它改變或廢除，再建立一個新政府。」

30. 資料一、資料二中，「並無」下列何人的思想或參與？(A)洛克 (B)盧梭 (C)伽利略 (D)孟德斯鳩。
31. 根據上述三則資料的敘述，此為 18 世紀哪一份文件？這份文件內容最能反映下列哪一時期的精神？請找出合適的組合。
 (A)〈獨立宣言〉、科學革命
 (B)〈人權宣言〉、君權神授
 (C)《權利法案》、工業革命
 (D)〈獨立宣言〉、啟蒙運動。

貳、雨果的作品《悲慘世界》曾改編為舞臺劇、電影，描寫 19 世紀初法國社會的生活狀況。雨果在前言寫下：「……只要本世紀的三個問題——貧窮使男子潦倒，饑餓使婦女墮落，黑暗使兒童羸弱——還得不到解決；只要在某些地區還可能發生社會的毒害，換句話說，同時也是從更廣的意義來說，只要這世界上還有愚昧和困苦，那麼，和本書同一性質的作品就不會是無益的。」請問：

32. 雨果《悲慘世界》中不可能會出現下列何種社會狀況？
 (A)人民仰賴莊園經濟
 (B)資本家與工人對立
 (C)社會貧富差距加大
 (D)資本家罔視勞工福祉。
33. 雨果《悲慘世界》中描述城市中人民生活困苦的社會問題，主要由於下列哪一變革所導致的？
 (A)科學革命
 (B)啟蒙運動
 (C)工業革命
 (D)地理大發現。
34. 為了改善雨果寫下的三個問題，當時出現了哪一位學者與學說，請選出正確的組合？
 (A)羅伯斯比爾、恐怖統治
 (B)馬克思、社會主義
 (C)亞當斯密、自由經濟主義
 (D)馬思克、社會主義。

【公民科】35題~50題

(一) 長榮航空國內宅配電商平台—長榮樂e購，此次全新上市並造成熱烈搶購的「機能防護夾克」，就是為了讓民眾出門在外或搭機時安心自在，同時兼具防疫與時尚潮流，特殊材質製作的布料具備輕量、防風、防潑水的功能，並通過歐規高等級有害因子阻隔穿透測試；有效阻擋液體滲透，帽簷延伸可拆式面罩，更可阻擋飛沫直接噴濺，穿著舒適有型，除了提供高規格的防護，也解決隔離衣用完即丟所造成的環保問題。2020/12/11 三立新聞

35. 「機能防護夾克」消息甫於官網曝光後，首發限量已火速售罄，因詢問度破表，12月14日將開放第二波預購，預計2021年2月下旬陸續出貨。此商品成功地運用環保減塑來提升旅客的何項意識？

- (A)綠色消費 (B)永續經營 (C)創新產品 (D)綠色生產。

36. 長榮航空公司除對環保盡心，去年開始舉辦城市觀光馬拉松，這回不僅顧健康，更將捐贈兩百萬給社福基金會，響應社會公益。今年跟多國馬拉松合作，要帶民眾全世界跑透透。這說明該企業的何項理念？

- (A)促進產業升級 (B)善盡企業社會責任 (C)擴大營運的整體規模 (D)提供售後服務。



37. 請問：根據上述新聞內容，長榮航空公司的做法符合下列何種概念？

- (A)綠色消費 (B)生產行為 (C)科技倫理 (D)綠色生產。

38. 企業的經營型態有三種：

長榮航空是屬於股份有限公司的企業型態。而另外二種企業型態為獨資和合夥，將二者做個比較表，則右表中只有哪一項敘述是錯誤？

項目	獨資	合夥
甲	決策自主性較高	決策自主性較低
乙	出資者為經營者	出資者為所有合夥人
丙	虧損時須以經營者的私人財產支付	虧損時共同經營者不須以私人財產支付
丁	風險由經營者承擔	合夥人須承擔風險

- (A)甲 (B)乙 (C)丙 (D)丁

(二) 麥當勞宣布與7-11在商品和數位服務上進行合作，除了透過麥當勞App網路訂餐、在7-11取餐的「外送店取」模式，也首度推出雙通路兌換的COUPON券。消費者在麥當勞兌換炸雞套餐，在7-ELEVEN兌換海尼根，也達成產品結構的互補，並進一步達到數位換粉的目的。日式連鎖餐廳大戶屋也透過「全家點數換餐點」的服務，民眾只要憑全家便利商店點數，即可直接或加價兌換大戶屋指定餐點，可藉由會員將超商客人導入到餐廳消費，達到雙贏與互惠。
2020/10/17 經濟日報

39. 企業經營以獲取利潤為目的，對於上述新聞內容可知，企業經營行為的說明，下列何者正確？

- (A)進行投資行為，以提升產品品質 (B)進行員工訓練，以發揮生產力 (C)進行風險管理，以避免虧損 (D)進行企業合作，以提升公司競爭力。

40. 上述超商店員私下分享甘苦談，下列何人的做法最具有職業倫理？

(A) (B) (C) (D)

41. 鷺江的學生若能認真吸收課程知識，將來藉由實習的機會累積閱歷及實務經驗。未來必能具備就業的何項基本要素？ (A)工作的資格 (B)找工作的行動 (C)工作的意願 (D)工作的能力。

(三) 今年受新型冠狀病毒(COVID-19)疫情衝擊，國外旅遊已暫停約10個月，許多旅行社以裁員、縮小規模方式苦撐，今年包含行健、加利利、鳳凰、五福、飛達等知名業者都已裁員，現又傳出東南旅行社也要裁員。東南旅行社昨日證實，因海外業務全面停擺，裁員幅度約15%、171人。觀光局統計，台灣旅行社從今年1月至10月底，總計有25家停業、46家解散，現仍有3187家旅行社。2020/11/14 自由時報

42. 依據上文所述，因受疫情衝擊，國外旅遊已暫停，許多旅行社因停業、裁員、解散而造成下列何類型的失業？
 (A)常態性失業 (B)摩擦性失業
 (C)循環性失業 (D)結構性失業。

甲	法律依據	《勞動基準法》
乙	給付對象	符合自願性失業者
丙	給付期限	原則上以6個月為限
丁	目的	維持失業者基本生活，並輔導其儘速就業

43. 附表(一)中有關我國目前「失業給付」的相關敘述，何者錯誤？
 (A)甲、乙 (B)乙、丙 (C)丙、丁 (D)甲、丁。

表(一)

44. 請問：下列何項屬於「非勞動力人口」？

(A)中年失業轉而擺小吃攤的納豆哥 (B)任教三十多年已退休的吳老師 (C)大學畢業廣投履歷表，仍未收到回訊的Lulu (D)剛被公司裁員的中年大叔阿Ken。

45. 新聞報導：「針對過勞死及工安意外，勞動部將展開勞動檢查，包括工資、工時，還有投保薪資，都是勞檢重點，違規業者不但要被重罰，還會公布企業名稱。」根據內容判斷，勞動部加強勞動檢查，主要是希望業者善盡下列哪方面的責任？

(A)維護消費權益 (B)從事公益活動 (C)落實員工福利 (D)重視環境保育。

(四) 根據投資理財的相關概念，請回答下列問題：

46. 根據表(二)的四種理財工具進行投資，請問：

理財工具	獲利金額	投資金額
甲商品	200元	1,000元
乙商品	3,000元	100,000元
丙商品	20元	400元
丁商品	600元	14,000元

表(二)

表(二)的四項商品，依其投資報酬率的高低順序排列，判斷甲、乙、丙、丁分別為下列何項理財投資工具？

(A)存款、股票、基金、債券 (B)股票、債券、基金、存款
 (C)存款、債券、基金、股票 (D)股票、存款、基金、債券。

47. 這是子瑜11月份的記帳收支概況如附表(三)。請問：子瑜11月份的收入是40000元，請問：這個月的「支出」金額應是多少元？

(A)10000元 (B)15000元
 (C)20000元 (D)26000元。

項目	餐費	股票	存款	儲蓄保險	房租	水電費
金額	9200元	6000元	5000元	3000元	10000元	800元

表(三)

48. 債券與共同基金兩者都是投資理財的工具，然而兩者還是有許多差別，根據表(四)比較兩者差異表現，下列何者為正確？

項目	共同基金	債券
甲	為籌借資金而發行	為募集資金而發行
乙	委託專家管理與運用	持有者為債權人
丙	盈虧由股東平均分擔	能分散投資風險
丁	風險承擔較低	風險承擔較高

(A)甲 (B)乙
 (C)丙 (D)丁。

表(四)

49. 家庭收入必須針對各種開銷等經濟目標進行規劃，下列達成目標的理財方式，何者與其他三者不同？

(A)宇潔減少逛街，是為了避免不必要的花費 (B)毓翔將薪水的一部份拿去購買股票賺取利益 (C)本貫自願加班賺取加班費 (D)有為下課後兼職家教老師。

50. 圖(五)為康盈2020年11月的財務記錄。根據圖(五)資料判斷，康盈該月的投資報酬率，可透過下列兩項記錄內容得知，其投資報酬率的分子、分母各為何項？

(A)甲、丁 (B)丙、乙
 (C)乙、丙 (D)丁、甲。

圖(五)

2020年11月財務紀	
甲、	月初時總共有現金40萬元。
乙、	拿出30萬元現金進行投資。
丙、	投資結果共獲利了10萬元。
丁、	現金因獲利增加為50萬元。

本試題卷結束