

【公民科:1~16 題】

單選題：

1. 憲法第 8 條規定：「人民身體之自由應予以保障。」是強調何者的重要？
(A)婦女工作權益 (B)維護社會秩序 (C)消除性別歧視 (D)保障人身自由
2. 聯合國通過多項國際法以保障人權，我國為順應這股國際潮流，由立法院通過「兩公約施行法」。請問：目前世界上有關人權三份重要的文件，其中不包含下列何者？
(A)《經濟社會文化權利國際公約》 (B)《公民與政治權利國際公約》
(C)《中華民國憲法》 (D)《世界人權宣言》
3. 2013 年 3 月，八里岸邊出現兩具浮屍，死者分別為 79 歲富商陳進福、57 歲實踐大學教師張翠萍，起初很少人相信看似柔弱的媽媽嘴店長謝依涵涉案，檢警又指出以傷勢來看很可能是男性所為，呂炳宏與其友人便遭捲入。一個殺人犯是這樣被「製造」出來的：呂炳宏被帶去偵訊當天，即有晚報繪聲繪影寫著他如何在擠了 6 個人的小客車裡「幹掉」2 名死者；沒去過的金紙店，老闆娘卻指證歷歷說他當晚去買紙錢要燒給往生者。請問：許多的警察抓到嫌疑犯時，媒體時常會有「媒體公審」或「未審先判」的情況，而這種情況則違反哪一個原則？
(A)無罪推定 (B)有罪推定 (C)公開審判 (D)偵查公開
4. 《公民和政治權利國際公約》第四條明文禁止純粹基於種族、膚色、性別、語言、宗教或社會出身等理由的歧視。上述規定的內涵屬於何種權利？
(A)平等 (B)自由 (C)生存 (D)安全
5. 《經濟社會文化權利國際公約》於 1966 年的聯合國大會通過，並交由各成員國批准。其中包「人民亦有享受維持適當生活程度之權利」，並規範各國政府應協助民眾滿足基本生活需求。上述屬於對人民何種基本權利的保障？
(A)平等權 (B)生存權 (C)隱私權 (D)自由權
6. 人權保障是以「甲」為核心，「甲」最適合填入下列何者？
(A)財產權 (B)工作權 (C)人身自由 (D)人性尊嚴
7. 原住民族於特定區域內，依其傳統規範，共同生活結合而成的團體，經中央原住民族主管機關核定者，稱之為何？
(A)社區 (B)部落 (C)聚落 (D)鄉里
8. 承上題：原住民族可以為下列非營利行為：一、獵捕野生動物。二、採集野生植物及菌類。三、採取礦物、土石。四、利用水資源。但以傳統文化、祭儀或自用為限。是基於下列何種法律的規範？
(A)《原住民族基本法》 (B)《原住民族教育法》
(C)《槍砲彈藥刀械管制條例》 (D)《原住民族工作權保障法》
9. 美國佛羅里達州黑人少年馬丁在未持武器的情況下，遭到社區管理員齊默曼槍殺身亡，但警方卻以「正當防衛」為由拒絕逮捕齊默曼，本案因此引發公憤。上述事件顯示，被害人可能因為何種原因遭受不平等對待？
(A)種族 (B)性別 (C)宗教 (D)國籍

題組(一)：

大法官釋字第 748 號解釋中提及：民法親屬編婚姻章，未使相同性別二人，得為經營共同生活之目的，成立具有親密性及排他性之永久結合關係，是否違反憲法第 22 條保障婚姻自由及第 7 條保障平等權之意旨？

1. 民法第 4 編親屬第 2 章婚姻規定，未使相同性別二人，得為經營共同生活之目的，成立具有親密性及排他性之永久結合關係，於此範圍內，與憲法第 22 條保障人民婚姻自由及第 7 條保障人民平等權之意旨有違。
 2. 以何種形式達成婚姻自由之平等保護，屬立法形成之範圍。
 3. 逾期未完成相關法律之修正或制定者，相同性別二人為成立上述永久結合關係，得依上述婚姻章規定，持二人以上證人簽名之書面，向戶政機關辦理結婚登記。資料來源：司法院大法官釋字節錄
請回答下列問題（44~45 題）
10. 立法院通過《司法院釋字第七四八號解釋施行法》，讓同性伴侶也能登記結婚，與普通的夫妻一樣受到《民法》的保障。上述立法的目的為下列何者？
(A)維護人類和平 (B)落實權利平等 (C)促進言論自由 (D)保障生存權利
 11. 大法官釋憲對《司法院釋字第七四八號解釋施行法》提到的人權價值，符合《世界人權宣言》的何種基本精神？
(A)正義 (B)博愛 (C)平等 (D)和平

題組(二):

港口部落黑土地

花蓮縣豐濱鄉港口部落的阿美族人，緊臨太平洋海岸生活，百年來部落族人開闢出一塊又一塊黑色沃土的水梯田，種植所謂的「海稻米」，但在 1980 年代政府把土地強制收歸國有，規劃開發石梯坪風景區。

部落族人為了爭回土地，成立港口部落土地自救會，2011 年 12 月，港口部落產生共識，結合鄰近有土地爭議的部落，發動大規模抗爭。

在石梯坪風景區，自救會邀請部落中具有土地爭議的 30 多位地主，指認土地位置，建立完整的部落地圖。在 2013 年 9 月 21 日的部落會議中，決議「地界圖由舒米 (Sumi) 詢問鄉公所和雅荳詢問原住民族委員會來取得，若僅有地主才可取得，則另行處理。」

繪製部落地圖的同時，港口部落也開始思考及規劃未來部落的願景。從 2010 年開始，港口部落就在廢耕的水梯田上，以自然生態農法，展開水稻復耕。港口水梯田濕地計畫的負責人是部落族人舒米·如妮 (Sumi Dongi)，她與部落族人合力修復水圳，復耕水梯田，讓休耕 30 年的梯田再度揚起稻浪。

舒米·如妮復耕水梯田的同時也復育了輪傘草，並重新找回傳統的編織技術。論傘草的莖日曬後可製成草蓆或遮陽之用的太陽蓆，也可編織成桌墊、杯墊及燈飾浪草燈，舒米並與在地的「Kamaro'an」工作室合作，希望透過編織輪傘草為部落婦女及青年創造就業的機會。

舒米·如妮的兒子勒嘎·舒米 (Lckal Sumi) 將部落復耕水梯田的歷程，製作成紀錄片《海稻米的願望》，當時的勒嘎·舒米還用著漢名王亞梵。《海稻米的願望》後來改編為電影《太陽的孩子》，片中許多情節來自部落傳統，比如阿公帶著孫子上阿美族聖山「奇拉雅山」(Cilangasan) 時，阿公向孫子述說了這座山的故事，原來清朝時阿美族先人為了逃避清兵追殺，躲進了奇拉雅山才得以存活，到今日他們的祖靈還居住在這座山中，阿公說，阿美族的年輕人要將長輩給的獵刀綁在身上，在長輩的帶領下爬一次聖山，進入聖山感受祖靈，百年的歷史記憶在族人爬山的過程裡，一次次被重述傳遞。

參考資料來源：節錄自港口部落網路文章

請回答下列問題(46~50 題)：

12. 港口部落從事抗爭行動爭取部落權益，展現出下列何種精神？
 - (A)彼此照顧的互助精神
 - (B)部落的共享互惠精神
 - (C)以部落為單位的分配概念
 - (D)落實部落的公民參與
13. 港口部落的族人在為了爭回土地，成立港口部落土地自救會，並召開部落會議，進行抗爭。依據文中判斷，對於港口部落的阿美族人而言，此舉最主要是彰顯何種意義？
 - (A)發揮經濟共享
 - (B)尋找文化根源
 - (C)學習祖先智慧
 - (D)土地和部落的連結
14. 電影《太陽的孩子》的導演之一王亞梵，後來將其漢名王亞梵改回阿美族名字勒嘎·舒米 (Lckal Sumi)。此舉表達下列何種精神？
 - (A)原住民族的部落自治
 - (B)原住民族的生產共享
 - (C)原住民族的文化認同
 - (D)原住民族的公民參與
15. 文中有關「輪傘草」的敘述，展現部落對原住民族的何種重要性？(甲)傳統信仰重心；(乙)傳統文化傳承；(丙)基本政治組織；(丁)經濟活動中心。
 - (A)甲丙
 - (B)乙丁
 - (C)甲丙丁
 - (D)乙丙丁
16. 港口部落從爭回土地的抗爭行動，到規劃部落的未來願景及部落的營造工作，下列何者是較佳的說明？
 - (A)政府蠻橫無理，迫使部落族人放棄世耕之地
 - (B)政府設置風景區，創造部落族人的就業機會
 - (C)透過公民參與爭取部落權益，永續經營部落
 - (D)落實部落會議組織，奠定原住民族自治基礎

【地理科:17~33 題】

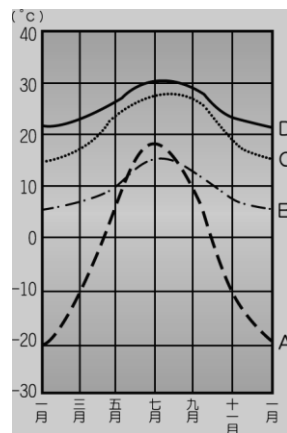
一、單選題

17. 甲、乙、丙、丁四名嫌疑人涉及某年 1 月 18 日中午發生在蘆洲的重大竊案，檢察官根據各地氣候特性，從他們的描述中判斷，誰說的才是**真話**：甲：「記得那時在台東的朋友家吃飯，還聽到氣象報告說隔天會有颱風來…」；乙：「那天我到曾文水庫去參觀水庫的洩洪，場面真的好壯觀!」；丙：「我一直待在基隆老家，那幾天陰雨綿綿的，真難受…」；丁：「案發時我正在打電話回高雄，媽媽告訴我連續下了半個月的大雨終於停了…」(A)甲 (B)乙 (C)丙 (D)丁。
18. 臺灣平均年降水量約為世界平均值 2.5 倍，但每人每年可分配到的用水量卻是世界平均值的五分之一，造成此現象主要與下列何者有關？(A)地處熱帶，蒸發旺盛 (B)河川東西分流 (C)地下水含量太少 (D)人口密度高。
19. 高鐵新設苗栗、彰化、雲林三站在 104 年 12 月啟用，地方引頸期盼多年的夢想成真。為了避免彰化、雲林『 』擴大，影響高鐵通車安全，雲林縣政府表示將加強查緝超抽地下水，並禁止新挖水井。請問：『 』裡指的是什麼問題？(A)水汙染 (B)地層下陷 (C)山坡地濫伐 (D)土石流
20. 下列關於天氣因子的敘述，何者**正確**？ (A)風：空氣由低氣壓向高氣壓流動便形成風 (B)降水：降水包括雨、雪、霧、霜、冰雹等形式 (C)氣溫：氣溫會隨著高度和緯度增加而增加 (D)氣壓：氣壓隨高度和溫度的增加而遞減
21. 台灣河川頗具特色，下列有關台灣河川特色的敘述何者**錯誤**？(A)河流坡陡流急適合航運、發電 (B)河川流量變化大，只有淡水河較適合航運 (C)河川東西分流，中央山脈為河川分水嶺 (D)台灣地質脆弱，坡陡沖刷力強，河川含沙量高。
22. 圖(一)中，依照氣壓高低影響氣流方向的原則，風向應為何？ (A)東南 (B)西北 (C)東北 (D)西南

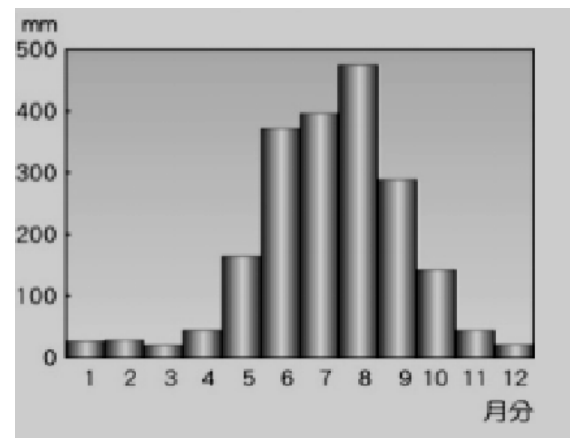


圖(一)

23. 氣溫的變化受到地理位置的影響甚大。附圖(二)為某四個平地地區的氣溫變化曲線。請問：下列何者所在的緯度最高？ (A)A (B)B (C)C (D)D。



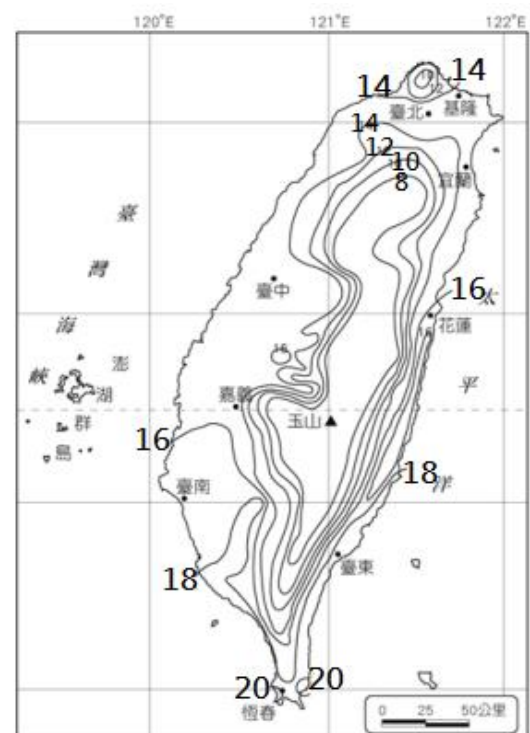
圖(二)



圖(三)

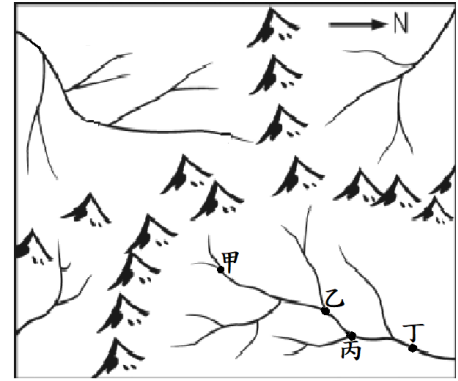
24. 圖(三)為台灣某地區的降水量圖，由圖判斷台灣哪一條河川最有可能位於此地區？(A)蘭陽溪 (B)高屏溪 (C)淡水河 (D)濁水溪
25. 圖(四)為台灣一月等溫線圖，影響台灣一月等溫線分布的主要原因為何？(甲)地勢高低 (乙)距海遠近 (丙)緯度 (丁)季風 (A)甲乙 (B)乙丙 (C)甲丙 (D)丙丁

圖(四)



題組(一):

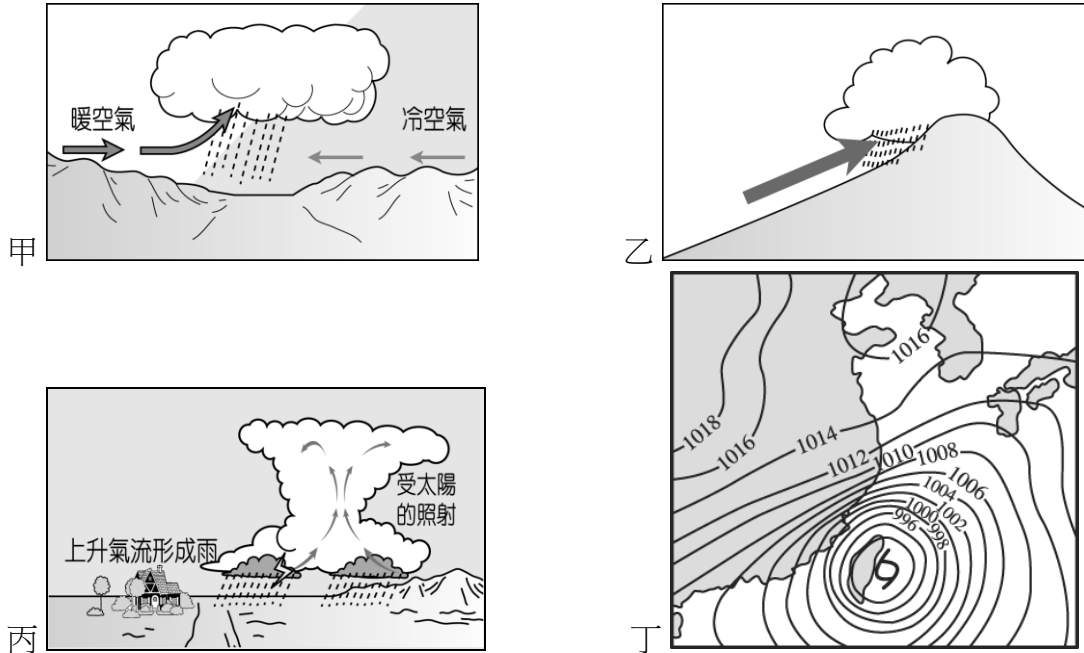
26. 請問圖(五)中共有幾個水系?(A)2個 (B)3個 (C)4個 (D)5個。
 27. 圖中甲、乙、丙、丁哪一點的污染程度最嚴重?
 (A)甲 (B)乙 (C)丙 (D)丁。
 28. 圖中右下角水系主流是流向哪個方向?
 (A)東北 (B)東南 (C)西北 (D)西南。



圖(五)

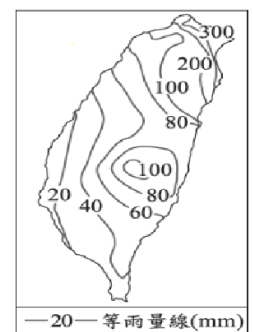
題組(二)

氣流上升冷卻，成雲致雨的原因不同，大致可分為如附圖中的降水類型示意圖。



『依據疾病管制署監測資料顯示，國內近一個月登革熱境外移入病例數增加，感染國家以越南為多，其次為馬來西亞。鄰近東南亞國家登革熱疫情持續升溫，且近期國內各地多雨，各縣市均有登革熱流行疫情發生風險，民眾應提高警覺。正值暑期出國旅遊旺季，疾管署呼籲，民眾至登革熱流行地區，務必做好防蚊措施；返國入境時如有發燒等疑似症狀，應主動告知機場檢疫人員；返國後兩週內如出現不適症狀應儘速就醫，並主動告知近期旅遊史，以利醫師早期診斷、通報及治療。』
 發佈日期：2017-07-18

29. 依據此新聞內容，可推斷國內各地多雨，當時有可能下的是哪種類型的降雨?(A)甲 (B)乙 (C)丙 (D)丁。
 30. 圖(六)為臺灣某月份的平均等雨量線圖，根據圖中雨量的分布狀況判斷，造成此種現象主要是因為哪種類型的降雨？ A)甲 B)乙 (C)丙 (D)丁。



圖(六)

31. 台灣雨季時經常造成水災，而水災的發生最常發生在哪兩種類型的降雨時期？ (A)甲乙 (B)甲丁 (C)乙丙 (D)丙丁。

題組(三)

※某旅遊網站對於澎湖的描述：「澎湖群島為一海底火山爆發後熔岩冷卻的方山島嶼，由 64 座大小島嶼羅列而成，地勢低緩，海拔最高點的貓嶼僅達 79 公尺。天工鑿就的奇岩怪石，與蔚藍海水相映成趣。金色沙灘也是澎湖得天獨厚的國際級美景，吉貝沙灘最富盛名，望安沙灘因為世界保育的綠蠵龜迴游產卵而聲名大噪。」根據上文回答題目 16-17：

32. 「地勢低緩，海拔最高點的貓嶼僅達 79 公尺」，以上的地形特色與下列哪項描述關係最密切？ (A)地勢平坦，利於農業發展 (B)早期為先民渡海來台的中繼站 (C)是全台灣雨量最少的地區 (D)漁業為當地主要經濟活動之一。
 33. 澎湖縣白沙鄉中屯的風力發電機組，這個德國製的風力發電設備，葉面可因風向不同調整葉面朝的方位（葉面迎風），以充分發揮效能。如果暑假到澎湖旅遊的話，最有可能看到風車的葉面朝向何方？ (A)東北方 (B)西南方 (C)西北方 (D)東南方。

【歷史科 34~50 題：】

一、題組題

* 曾正率是乾隆末年福建省漳州人氏，嘉慶年間來臺。

34. 因為家鄉山多平原少，因此決定來臺開墾，請問下列有關敘述何者最為正確？(A) 因當時清帝國實施海禁政策，所以來臺之前必須先向當地官府申請渡臺證照 (B) 來到臺灣後居住在北部丘陵，以便種植稻米輸出到美國 (C) 為開墾臺北地區土地，須向諸羅縣官府申請墾照 (D) 為求傳宗接代，但因漢人男女比例失衡，最後選擇與原住民結婚。

35. 隨著移民農業拓墾，臺灣農產品長年豐收，因此足以外銷。請問下列有關當時商業貿易活動的敘述，何者最為正確？(A) 當時農產品主要外銷到歐美地區 (B) 商人為維護自身商業利益，通常會加入洋行 (C) 當時三大貿易港口可反映臺灣由西向東的開拓過程 (D) 由農產品的外銷，可反映農業與商業關係的密切。

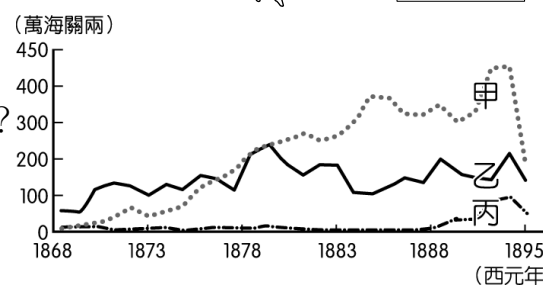
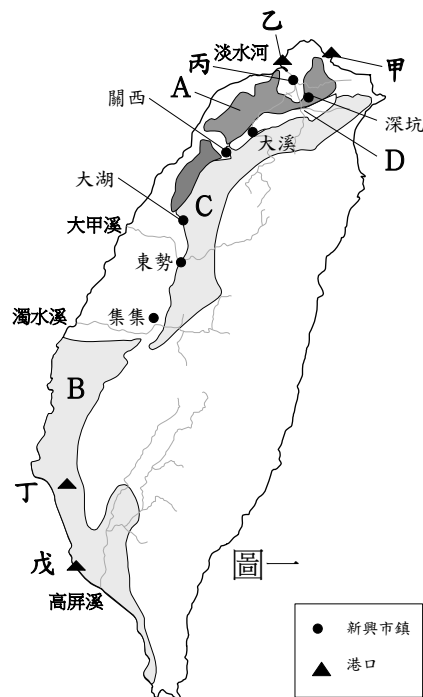
36. 下列是曾正率來臺後，看到某本書對當時臺灣的描述，請問下列何者「最不正確」？

(A) 此時期臺灣居民不得與外國往來 (B) 統治者為了管制移民、稽查海盜，限定臺灣與中國大陸的對渡港口 (C) 當時臺灣所輸出的茶葉幾乎全部銷往福建及其附近地區 (D) 負責貨物運銷的商人所自行組成的組織，最有可能是郊。

37. 曾正率去世後，他的兒子曾可艾從某一時期起，改種不同農產品並開始擴大經營範圍，與怡和洋行從事買賣活動，因此逐漸成為郊商的領袖。請問下列有關敘述何者「最不正確」？(A) 曾可艾所處年代正當英法聯軍之後 (B) 臺灣最初所開主要港口是位於圖一的乙跟戊 (C) 因為開港通商，曾可艾最後成為「買辦」階級 (D) 隨著貿易商品大量輸出，臺灣國際貿易成長快速。

38. 有關開港通商後的經濟貿易狀況，下列敘述何者最為正確？(A) 圖一 A 產區商品產量曾位居世界第一 (B) 開港通商後最大宗的輸出品主要位於圖一 B 產區 (C) 圖一 C 產區所生產的商品出口歷史最為悠久 (D) 因北部港口貿易量大增，逐漸超越南部港口，因此經濟重心逐漸北移。

39. 圖二是臺灣開港通商後主要商品出口值比較圖。請問下列有關敘述何者最為正確？(A) 甲商品的產區位於圖一的 B 產區 (B) 丙商品的主要出口港位於圖一的乙地 (C) 乙商品的產區主要是圖一的 A 產區 (D) 丙商品出口量少主要是因為大部分留給臺灣自己使用。



圖二

二、選擇題

40. 「1878 年 6 月 18 日，居住在今花蓮地區的加禮宛人攔截清兵請撥糧食的文書，次日分路圍攻清軍營堡，清廷要求查明起因。當地官員在報告中提出事件是因漢人購買糧食而發生爭執，加上漢人長期的欺凌，而導致加禮宛人不滿決心反抗。中間雙方雖有調停，卻因清廷加派武力導致嫌隙增大談判破局，以致清軍再度攻擊加禮宛社斬殺部落百餘人達到殺雞儆猴之效，最後鄰近部落如撒奇萊雅族及太魯閣族紛紛表示歸順清廷。」根據上述資料，下列敘述何者最為正確？(A) 上述內容發生時間應該在劉銘傳來臺之後 (B) 這個事件讓清帝國確實達成撫番的成效 (C) 這個事件讓原住民更加團結，使得原住民族群規模再度擴大 (D) 最後倖存的加禮宛人可能選擇遷移他鄉。

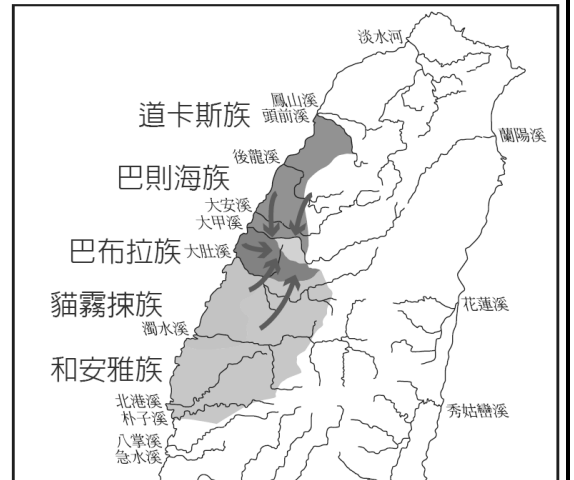
41. 開港通商後，臺灣社會再次接觸到西方近代文明，傳教士在臺灣建教堂、傳福音，並以醫療、教育作為傳教的方式。請問如果想參觀臺灣第一間西醫醫館，應到圖一中的哪一個地區？這間西醫館由何人設立？(A) 戊，馬雅各 (B) 乙，馬偕 (C) 丁，馬雅各 (D) 甲，馬雅各。

42. 「馬偕在五股傳福音時，曾貼出告示，若有 12 歲以上年輕人願意來讀書者，每個月要發 1 元白銀(當時 1 斗白米大約 2 角錢)。因為讀書可以賺錢，就有百餘人來報名，馬偕教他們讀白話字，也做禮拜敬畏上帝，……，馬偕婚後夫妻倆經常帶門徒四處遊行佈道，數年間先後開設五十餘間教會，……，亦深入到平埔族群的區域。」有關上述內容，下列敘述何者最為正確？(A) 這個內容最有可能發生在 17 世紀初年 (B) 馬偕走遍全臺各地進行傳教，使臺灣人深入接觸基督教 (C) 馬偕所接觸的平埔族群最有可能是賽德克族 (D) 馬偕來臺期間除了傳教外，也致力於推動新式教育。

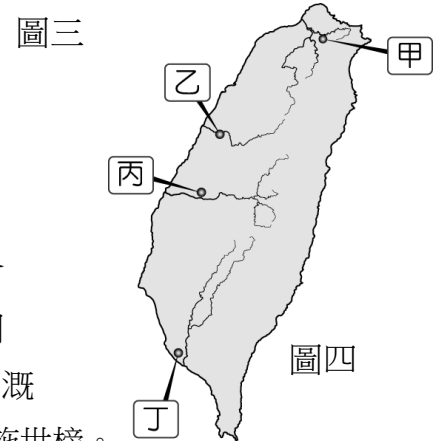
43. 清朝統治時期的臺灣社會族群複雜，一旦發生糾紛，常以祖籍、姓氏等名義聚眾互相敵對，其中規模較大的武力衝突就有數十次之多。下列何者「最不可能」是造成上述社會衝突的主要原因？(A) 臺灣沒有建省 (B) 為了爭奪生存資源 (C) 為了爭奪經濟利益 (D) 為了爭奪土地。

44.萬華舊名「艋舺」，意指獨木舟或獨木舟聚集之處。早期僅許多平埔族居住於此，他們以一種叫 Manka 的獨木舟為交通工具，循著河流往來於山地和平地之間，與漢人交易載運茶葉、番薯等作物，漢人墾民至此見舟船雲集，因而命「艋舺」之名。乾隆年間，艋舺靠著濱臨河川的優越地理位置，成為貨物的集散中心。請問有關此地的敘述下列何者最為正確？(A) 當時居住在此地的原住民族應該是噶瑪蘭族 (B) 艋舺因濱臨基隆河，因此有航運之利 (C) 艋舺後來因為河流改道加上漳泉械鬥多，因此逐漸沒落 (D) 將今萬華一地命名為艋舺的漢人墾民，所開墾的主要是蘭陽平原一帶。

45.西元 1804 年（嘉慶 9 年），臺灣部分地區平埔族群在大乳汗毛格（Toanianmoke）（漢名潘賢文）的號召下聚集，隨後沿著大甲溪溯溪北上（如圖三所示），遷移到現今的宜蘭地區，請問當時這群原住民所以選擇這個地區的原因最有可能是下列何者？(A) 該地因清帝國實施劃界封山，因此未設官府治理 (B) 該地所有資源都很豐富，適合生存定居 (C) 該地尚未有其他原住民族居住 (D) 該地漢人甚為和善，較易與外來族群融合。



46.清代巡臺御史黃叔璥著有《臺海使槎錄》，內容提到：「肄業番童，拱立背誦，句讀鏗鏘，頓革侏離舊習。陳觀察大輦有司教之責，語以有能讀四子書、習一經者，復其身，給樂舞衣巾，以風厲之。」請問下列有關原住民族群的敘述，何者最為正確？(A) 平埔族群勢力強大，來臺漢人多被其同化 (B) 西班牙人曾利用「新港文書」教授原住民族《聖經》教義 (C) 清帝國教育平埔族群，要求學習漢文，加速平埔族群的漢化 (D) 因原住民漢化明顯，使所有原住民風俗習慣完全消失。



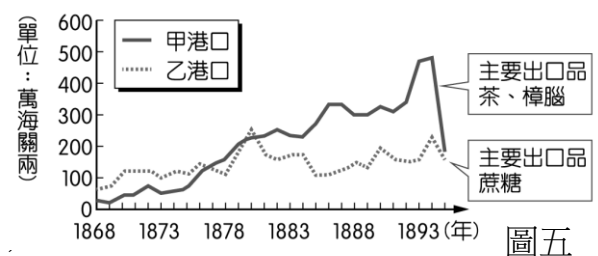
47.乾隆 23 年(西元 1758 年)，清帝國廣設學校，對原住民推動同化政策，諭令臺灣熟番「習漢俗、剃髮蓄辮，穿戴冠履，從漢姓，令同姓不婚」，加速原住民傳統家庭、社會、文化的瓦解。請問臺中岸裡社原住民曾透過土官潘敦仔與張達京合力開墾水圳。請問有關這個的水圳的敘述下列何者最為正確？(A) 該水圳位於圖四的丙區 (B) 該水圳灌溉地區包括整個臺中、彰化地區 (C) 該水圳主要引大甲溪溪水灌溉 (D) 該水圳興建者為施世榜。

48.以下為有關臺北市迪化街霞海城隍廟的敘述：「城隍信仰起源於都城守護神，……省府縣各級官吏在新官上任時必先往城隍廟履新報到，遇有水災、旱災等祈禱於城隍，……霞海城隍信仰在道光年間，隨著福建泉州府同安人渡臺，原奉祀於艋舺八甲庄同安人聚落。……後因咸豐 3 年(西元 1853 年)的頂郊(晉江、惠安、南安三縣移民)和下郊(同安人移民組成)發生械鬥事件，艋舺同安人遂奉城隍遷移至大稻埕地區發展，……，霞海城隍廟成為大稻埕地區的信仰中心，也見證了大稻埕地區的發展。……」根據上述內容，請問下列何者「最不正確」？(A) 想了解這些事件相關歷史可以參閱《臺北縣志》(B) 大稻埕崛起的關鍵是因茶葉在此加工集散 (C) 因當時民變與械鬥事件頻傳，使臺灣社會長期處於動盪不安局面 (D) 原鄉神明的奉祀，成為當時移民心靈重要寄託。

49.

資料一：圖五是臺灣某時期起，兩大港口的海關出口值統計圖。

資料二：本市港口在開港通商後，漸漸自漁港轉型為商港。1860 年代初期，正式開放成為國際貿易港，出口貨物以蔗糖為主。1879 年，英國政府在港口北側山丘，興建領事館處理商務。1880 年代前期，臺灣蔗糖產量與對外出口量達到高峰。不料因被法國海軍封鎖港口一段時間，導致糖價暴跌，使得臺灣糖業受挫。



圖五

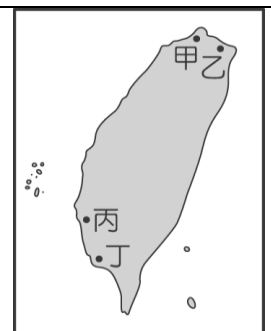
根據上述資料，該港口應該位於圖六中何處？(A) 甲 (B) 乙 (C) 丙 (D) 丁。

50.表一是臺灣三個不同時期對外貿易的主要進出口貨物。請問下列敘述何者最為正確？

- (A) 三個時期依照時間先後順序排列為乙→甲→丙
- (B) 丙時期政權結束於施琅攻臺
- (C) 乙時期臺灣正處於大航海時代
- (D) 甲時期開始於牡丹社事件之後

表一

時期	出口大宗	進口大宗
甲	茶、糖、樟腦	紡織品、鴉片
乙	稻米、糖	絲織品、藥材
丙	糖、鹿皮	布匹、武器



圖六