

新北市立鷺江國民中學 114 學年度 第 1 學期 9 年級 社會科 第 2 次段考 題目卷

命題教師：社會領域教師 日期：11 月 26 日 第 4 節 班級： 座號： 姓名：

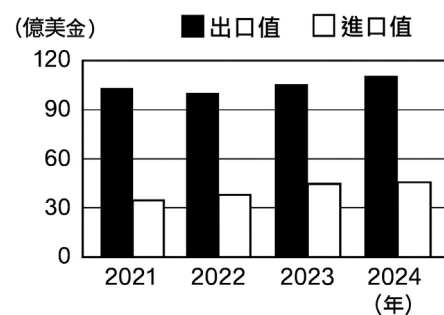
共 50 題，每題 2 分。

【公民部分 第 1~16 題】

- 為了幫克莉絲慶生，奇奇在假日時去臺北花市買了一束玫瑰花，蒂蒂則透過手機向店家訂了客製化蛋糕，準備給克莉絲驚喜。請問：奇奇和蒂蒂的交易行為分別屬於哪一種市場型態？
(A)奇奇的交易屬於無形市場，蒂蒂的交易屬於有形市場 (B)奇奇的交易屬於有形市場，蒂蒂的交易屬於無形市場
(C)奇奇的交易屬於商品市場，蒂蒂的交易屬於勞動市場 (D)奇奇的交易屬於勞動市場，蒂蒂的交易屬於商品市場
- 某連鎖披薩店為了在競爭激烈的餐飲市場中脫穎而出，推出了多項行銷策略：
甲、在特定時段推出「買大送小」活動 乙、買特定口味披薩，披薩店捐 50 元給慈善機構
丙、研發「和牛披薩」、「火山披薩」等新產品 丁、增設手機 App 線上點餐功能，並提供送餐進度查詢
請問：上述哪一項策略屬於價格競爭？
(A)甲 (B)乙 (C)丙 (D)丁
- 下列哪些選項屬於我國法律規定中七天猶豫期的保障範圍？
甲、透過網路購物平臺購買衣服 乙、在實體店購買電鍋但有瑕疵 丙、在傳統市場購買新鮮的蔬菜
丁、透過電視購物購買內衣內褲 戊、在網路購物平臺購買保溫杯 己、在連鎖超商內選購零食飲料
(A)甲、戊 (B)甲、己 (C)乙、戊 (D)丙、丁
- 經濟學家亞當·史密斯 (Adam Smith) 提出「看不見的手」的概念，用以說明市場運作模式。請問：下列關於「看不見的手」在市場中的運作敘述，何者最為正確？
(A)「看不見的手」主要指政府透過《公平交易法》來介入市場，確保交易公平
(B)當政府制定政策或法律以規範市場時，這種行為即為「看不見的手」在發揮作用
(C)在市場機制中，「看不見的手」主要透過價格引導，讓買賣雙方做出對自己最有利的選擇
(D)廠商為了避免價格競爭，改以非價格競爭的手段，如研發新產品，來吸引顧客，這就是一種「看不見的手」
- 下表列出四種不同產業的市場特徵，請問：根據資料判斷，哪一種產業的競爭程度最低，廠商對價格的控制能力最強？

產業	廠商數量	產品性質	進入市場門檻
甲	極多	極相似或相同	極低
乙	數家	具差異性	高
丙	眾多	相似或相同	低
丁	僅一家	無近似替代品	極高

- (A)甲 (B)乙 (C)丙 (D)丁
- 上公民課時，老師要同學舉例說明「一日之所需，百工斯為備」的道理。請問：下列何者的舉例有誤？
(A)莉莉：魚與熊掌不可兼得 (B)小民：我的早餐是豆漿店買的
(C)莎莎：我每天搭公車上學 (D)小允：我的鉛筆盒是中國製的
- 附圖是某國 2021 年至 2024 年農產品的進出口值，請問：根據圖中資料判斷，下列敘述何者較正確？
(A)該國生產農產品的機會成本較高
(B)農產品進口，代表可以賺取貿易支出
(C)該國多數農產品較他國農產品具有競爭優勢
(D)出口值大於進口值，代表該國不利於農業發展
- 熱愛健身的洋洋在社群媒體上看到一則「5 折超低優惠」的跑步機廣告，立刻透過該廣告中的連結訂購了一台跑步機。然而，三天後因為不符合運動習慣，他反悔想退貨，店家卻以「發票已開立，且屬於特價商品」為由拒絕退款。請問：根據我國法律規定，下列敘述何者正確？
(A)洋洋應向公平交易委員會申訴，主張商家廣告不實
(B)遭商家拒絕退貨，洋洋可向行政院消費者文教基金會提出申訴
(C)洋洋的消費行為發生在無形市場，依法享有七天猶豫期因此可以退貨
(D)由於發票已開立，洋洋的退貨行為不屬於《消費者保護法》的保障範圍
- 「國際分工」是指世界各國之間的生產分工，跨國企業會運用各地最有利的生產條件，將不同階段的生產活動分散在各國，以降低生產成本，獲取更多利潤。請問：下列何者非屬於「國際分工」的例子？
(A)某電子大廠將產品的設計留在美國，但將組裝移至越南
(B)某連鎖咖啡店在臺灣各地的分店推出在地化特色的甜點
(C)某國際大廠在臺灣設置研發中心，研發半導體關鍵技術
(D)某臺灣科技大廠董事長前往美國工廠進行年度視察工作



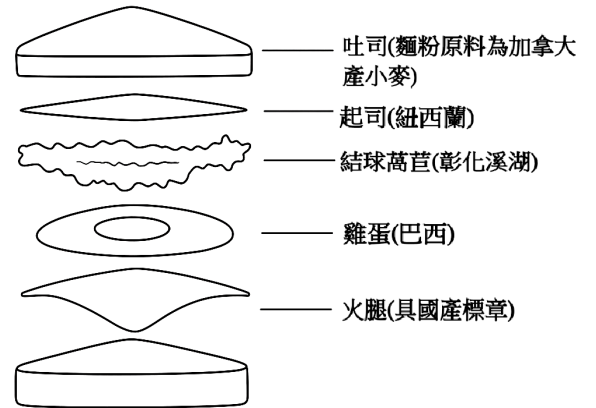
10.附圖為四位同學分析我國開放商品進口後，對本國消費者及生產者的影響。請問：哪一位同學的分析最正確？

- (A)甲：商品滯銷，面臨更大的競爭壓力
- (B)乙：商品來源標示不清，有安全疑慮
- (C)丙：商品選擇多樣化，提升生活福祉
- (D)丁：廠商轉型，提升商品品質及服務

項目	對消費者	對生產者
優點	甲	丙
缺點	乙	丁

11.阿信在報告某項主題時舉附圖為例，請問：依據此圖判斷，報告的主題最可能為下列何者？

- (A)本土農民的援助
- (B)國際貿易的現象
- (C)關稅政策的保護
- (D)資源分配的衝突



12-13 為題組

12.容容計畫在大學校園附近開設一間咖啡廳，因此在人力銀行刊登招募工讀生的徵才訊息。正在就讀大學的小安剛好想要找打工，便投遞了履歷。而容容準備了一些促銷手段，開幕後，小沅看到海報上的促銷廣告便前來咖啡廳買了杯咖啡。請問：關於容容、小安以及小沅行為的敘述，下列何者正確？

- (A)小安是商品市場的供給者；小沅是勞動市場的需求者
- (B)小安是勞動市場的供給者；容容是商品市場的需求者
- (C)容容招募工讀生是在有形市場；小沅購買咖啡是在無形市場
- (D)容容招募工讀生是在勞動市場；小沅購買咖啡是在商品市場

13.承上題，請問：根據圖片中容容採取的促銷手段說明，下列何者正確？

- (A)第一項為價格競爭，利用提高商品價格來增加利潤
- (B)第一項為非價格競爭，對非學生客群提供平日優惠
- (C)第二項為價格競爭，對學生客群提供全時段優惠
- (D)第三項為價格競爭，透過集點方式降低商品價格

開幕期間限定！ 大優惠

1. 平日享第二杯半價
2. 學生憑學生證享85折優惠
3. 消費一杯集一點
滿十點送小點心

14-16 為題組

根據近三年資料顯示，日本是臺灣主要農產品前三大出口國。表為近三年臺灣農產品出口到日本的出口值及臺灣從日本進口農產品的進口值統計表。臺灣出口至日本的品項，主要為冷凍鮭魚、蝴蝶蘭、羽毛及羽絨等產品。然而，臺灣也從日本進口生鮮牛肉、蘋果與酒類。

近三年臺灣農產品出口到日本		近三年臺灣從日本進口農產品	
年分	出口值	年分	進口值
111年	8億5612.6萬	111年	10億5791.9萬
112年	7億1956.3萬	112年	10億2927.8萬
113年	6億4750.9萬	113年	10億4337.3萬

整體而言，臺灣農產品貿易呈現逆差（即進口值大於出口值）。農業部指出，這是因為臺灣地狹且資源有限，玉米、黃豆、小麥等大宗農產原物料多仰賴進口。此外，近年來全球高通膨、日圓貶值與國際穀物價格上漲等因素，導致臺灣對日本的農產品出口值微幅下降。這顯示了臺灣在享受國際貿易便利的同時，也面臨著資源限制與全球市場波動的挑戰。<改編自中央社 2025.03.11>

14.臺灣大量出口蝴蝶蘭、冷凍鮭魚等產品到日本，而進口牛肉、蘋果等產品。請問：關於此種國際貿易模式的說明，下列何者正確？

- (A)各國會選擇出口價格最高的產品來獲取最大利潤
- (B)為了保障國內產業，需對進口產品實施高額關稅
- (C)國際貿易的最終目的是使各國達到完全自給自足
- (D)各國會選擇生產機會成本較低的產品再將其出口

15.根據本文，關於臺灣與日本進出口的相關敘述，下列說明何者**錯誤**？

- (A)日本生產蘋果的機會成本較臺灣高
- (B)臺灣農產品對日本出口值呈逐年下降趨勢
- (C)臺灣生產蝴蝶蘭的機會成本較日本低
- (D)近三年臺日農產品貿易皆為進口值高於出口值

16.根據本文，臺灣農產品貿易呈現逆差（即進口值大於出口值），主要的原因是什麼？

- (A)臺灣出口產品的品質標準過於嚴苛，導致國際買家卻步
- (B)臺灣國內面臨高通膨問題，因此改以購買進口產品為主
- (C)臺灣市場上的消費者偏好進口農產品，不購買國產商品
- (D)臺灣地狹且資源有限，導致大宗農產原物料須仰賴進口

【地理部分 第 17~33 題】

17.某篇國際新聞報導指出：「邊境牆的爭議凸顯了持續不斷的『拉丁美洲移民壓力』，來自墨西哥、中美洲與南美洲的移民潮，對美國的邊境政策與社會經濟構成嚴峻考驗。」報導中提及的『拉丁美洲』主要是依據哪一種標準來劃分美洲區域？(A)歷史文化 (B)經濟發展 (C)政治制度 (D)地理位置

18.江小鷺正在規劃「世界極點探索之旅」，發現世界著名四個岬角分布於不同大洲(如圖 1)。請根據圖 1 中四個岬角的緯度與經度資訊，判斷哪一個最有可能位於北美洲？(改寫自 111 會考)(A)甲 (B)乙 (C)丙 (D)丁




圖 1

19.地理老師到北美洲旅行，在 FB 上寫道：「…我看到哈德孫灣的景觀後就前往著名大都市底特律，然後順著密西西比河航行至墨西哥灣出海。」請問此趟旅行主要都位在北美洲的哪一個地形？

(A)洛磯山脈 (B)北美大平原 (C)阿帕拉契山脈 (D)拉布拉多高原

20.圖 2 為貫穿美洲的泛美公路示意圖，主幹線北起美國阿拉斯加，南至智利。美洲多國可透過這個公路系統相互連結。根據圖 2 中資訊判斷，該公路最不可能經過下列哪一個地形？(改寫自 112 會考)

(A)洛磯山脈 (B)西印度群島 (C)中美地峽 (D)安地斯山脈

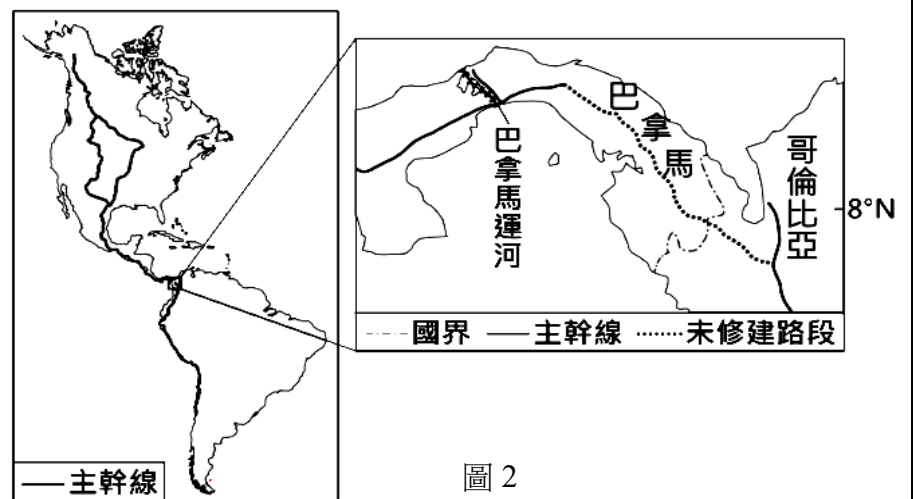


圖 2

21.承第 20 題，此泛美公路從巴拿馬到哥倫比亞之間的路段至今尚未修建。根據圖 2 資訊判斷，若未來在此路段施工，最不可能遇到的天然災害為何？(改寫自 112 會考)(A)暴風雪 (B)地震 (C)水災 (D)颶風

22.「這裡的氣候極為溼潤，植物呈現分層結構。世界上已知物種中有多達一半以上的物種在此發現，擁有高度的生物多樣性。」請問上述的生態景觀最有可能出現在下列哪一個地區？

(A)墨西哥高原 (B)亞馬孫盆地 (C)巴西高原 (D)巴塔哥尼亞高原

23.美國具有多樣化的氣候類型，圖 3 是將美國各區域與世界上其他國家的氣候特徵相比，把具有類似氣候特徵的國家標示在該區域上。請問英國最可能標示在圖 3 中的甲、乙、丙、丁何處？(改寫自 111 會考)(A)甲 (B)乙 (C)丙 (D)丁

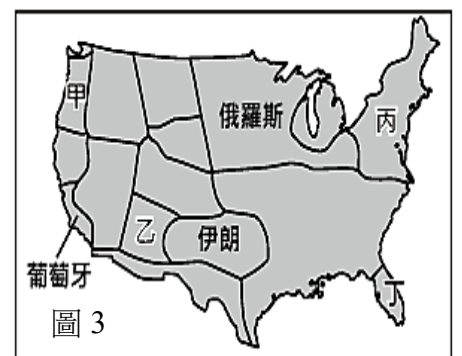


圖 3

24.美國的酪農業多分布在五大湖區附近，因為該地區緯度較高、氣溫低，不適合種植玉米等喜暖作物，且靠近人口密集的東北部大都市帶。請問：酪農業的這種區位選擇與下列哪一種工廠的區位因素最相似？

(A)水泥工廠 (B)成衣工廠 (C)冰淇淋工廠 (D)煉鋁工廠

25.下表為北美洲的商業性農業和中美洲的熱帶栽培業之比較，請問下列哪一項目比較「完全正確」？

	(甲)耕作方式	(乙)機械化程度	(丙)耕作目的	(丁)代表作物
北美洲商業性農業	集約	低	市場導向	玉米、小麥
中南美洲熱帶栽培業	粗放	高	市場導向	咖啡、甘蔗

(A)甲乙 (B)乙丙 (C)丙丁 (D)乙丁

26.圖 4 為北美洲工業分布圖，新聞報導：「受到颶風挾帶強勁風勢與豪雨的影響，美國某工業區沿岸煉油廠電力中斷、設備倒塌，石油出口港口被迫關閉。」根據上述，某工業區最有可能是指圖 4 中何處？(A)甲 (B)乙 (C)丙 (D)戊



27.一地的人口密度常隨海拔高度的不同而異，表 5 為某國家兩種海拔高度分區的人口疏密狀況，請問某國最有可能出現在圖 6 中的哪一個位置？(改寫自 105 和 111 會考)(A)甲 (B)乙 (C)丙 (D)丁

表 5

海拔高度	人口密度
1000 公尺以下	較稀疏
1000 公尺以上	較稠密

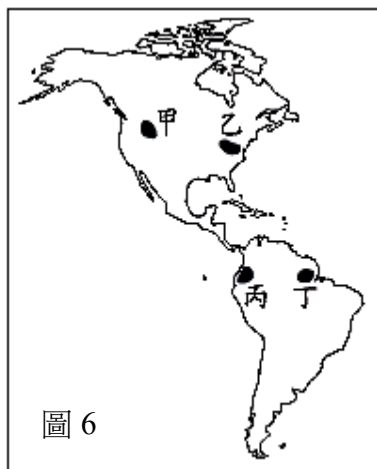


表 7

酒名	原料	著名產地
清酒	米	日本
香檳	葡萄	法國
伏特加	穀類	俄羅斯
蘭姆酒	甘蔗	古巴

28.根據表 7 酒類的原料來源判斷，蘭姆酒的著名產地其氣候最可能具有下列哪項氣候特徵？(改寫自 109 會考)
(A)夏雨冬乾 (B)炎熱乾燥 (C)寒冷少雨 (D)高溫多雨

表 8

運河	連結海域
甲	太平洋與大西洋
乙	地中海與紅海

表 9

項目	特徵
位置	位於美洲，臨大西洋
氣候	熱帶雨林氣候、熱帶莽原氣候
語言	葡萄牙語
經濟	盛產鐵礦、水力充沛，鋼鐵、汽車等工業發達
特色	有世界上最大的熱帶雨林

29.表 8 為世界上兩條重要運河的資訊。若美國欲從其東岸以海運出口貨物至他國，僅考量最短路徑，下列運輸路線的選擇何者正確？(改寫自 106 會考)

(A)經甲運河至中國 (B)經乙運河至英國 (C)經甲運河至巴西 (D)經乙運河至以色列

30.小鷺上網查詢某個國家的資料，作為地理課報告的內容，表 9 是他所歸納出來該國的特徵簡介。根據內容判斷，他所要報告的國家為下列何者？(改寫自 105 會考)(A)美國 (B)墨西哥 (C)阿根廷 (D)巴西

31.某跨國製造商於 2013 年決定將其在中国的工廠遷往墨西哥。假設該工廠的主要市場為美國，相較於留在中國持續生產，該製造商將工廠遷至墨西哥，其生產成本結構最主要的變化趨勢為下列何者？

(A)關稅成本大幅降低 (B)產品運費支出增加 (C)研發技術顯著提高 (D)原料取得更為便利

32.中南美洲在殖民時期發展大規模商業性「熱帶栽培業」，高度仰賴咖啡、香蕉等少數農產品原料外銷。這種被稱為「殖民地式經濟」的生產模式，從區域經濟發展的角度來看，其最主要的潛在風險為何？

(A)大部分農地閒置浪費 (B)資本技術累積速度快 (C)易受國際價格波動影響 (D)本地糧食作物供應充足


33.巴西的里約熱內盧和聖保羅是南美洲的大型城市。近年來，由於鄉村人口大量湧入都市，這些大城市面臨嚴重的「貧民窟」問題。請問造成這種現象的根本原因是？

(A)政府建築法規管理不善 (B)鄉村就業條件差引發外移 (C)醫療教育資源普遍缺乏 (D)鄰近戰亂國家難民湧入

【歷史部分 第 34~50 題】

- 34.「殉道」一詞譯自希臘字 martyr，原義為「作證」或「證人」。基督徒採用此詞專指為信仰作證而失去生命的人。基督教從 1 世紀到 3 世紀末之間，受到基督教被當時的政權迫害的影響，殉教者數量極高，但到 4 世紀初，殉道人數驟然陡降。請問陡降的原因是下列何者？
(A)耶穌在巴勒斯坦地區傳教 (B)君士坦丁宣布基督教合法 (C)狄奧多西宣布基督教為國教 (D)基督教第一次分裂
- 35.歷史上，有一場被稱為「百年翻譯運動」的文化盛事：「當時，某一民族傾全國之力在首都**巴格達**建立宏偉的圖書館、聘請學者蒐羅典籍，並翻譯成該民族的文字。這些努力，讓巴格達成為當時世界上文化最豐富，最發達的城市之一。當時翻譯的典籍也成為日後歐洲文藝復興的養分。」上述的這場「百年翻譯運動」，最可能是由哪一個民族發起的？(A)羅馬人 (B)蒙古人 (C)土耳其人 (D)阿拉伯人
- 36.小太陽在做田野調查時發現臺灣山區的一座教堂，教堂內裝飾簡單樸素，沒有華麗的擺設與雕刻，教堂整體呈現簡約樸實的風格，建立該教堂的教派認為人應過著節制、樸素的生活；但同時肯定工作的價值，認為人可以透過勤奮工作以榮耀上帝。請問建立這間教堂的教派還有可能會認同下列哪個概念或思想？
(A)強調羅馬教會的權威地位 (B)認為追求財富是一種罪惡
(C)人是否得救已由上帝預先決定 (D)諸神和人一樣，都有喜怒哀樂
- 37.老師上課時提到：「當時的基督教教會是人們生活的重心，大部分人出生時的受洗禮、婚喪儀式，都是由教會所主持。」請問老師所描述的時代背景為下列何者？
(A)羅馬共和時期的義大利半島 (B)「羅馬和平」時期的伊比利半島
(C)西羅馬帝國滅亡後的西歐各國 (D)亞歷山大大帝統治下的希臘地區
- 38.秋草在暑假與家人前往土耳其旅遊，在伊斯坦堡參觀聖索菲亞大教堂。該教堂有著數百年的歷史，最初是在 6 世紀，由基督教政權所建立的教堂，在當時伊斯坦堡這個地方被稱為君士坦丁堡；後來在政權更迭後，被改為清真寺，稱為阿亞索菲亞大清真寺。此教堂的建立與改變為清真寺，應該各別為哪個政權所為？
(A)西羅馬帝國；塞爾柱帝國 (B)西羅馬帝國；鄂圖曼帝國
(C)東羅馬帝國；塞爾柱帝國 (D)東羅馬帝國；鄂圖曼帝國
- 39.凱克研究《世界宗教史》時，發現佛教、基督教與伊斯蘭教就其形成的背景而言，有何共同的特徵？
(A)都是在追求天堂世界的永生 (B)都根源於一神信仰
(C)都是為對抗政府的高壓統治 (D)都對固有宗教的教義提出改革
- 40.西元 64 年，羅馬發生嚴重大火，事後當時的羅馬皇帝誣指該次火災為基督徒所為，因此大肆逮捕基督徒並對其施以殘酷的刑罰。當時羅馬政府對基督徒的迫害，最可能是基於下列哪一原因？
(A)宣揚平等博愛理念 (B)拒絕膜拜羅馬皇帝畫像 (C)對猶太教義進行改革 (D)主張政教分離
- 41.豆豆暑假到西班牙南部旅遊時，來到了中世紀名城哥多華 (Cordoba)，導遊介紹城市中的某個建築物：「這些雄偉的建築 (如圖一)，充滿了異國文化的特色，這都是曾經統治當地的伊斯蘭勢力留下的。」這些建築物，最有可能是什麼政權留下來的紀念物？
(A)阿拉伯帝國 (B)塞爾柱帝國 (C)鄂圖曼帝國 (D)西班牙王國

圖一



- 42.1095 年，羅馬教宗烏爾班二世在克列芒召開宗教會議，向廣場上群眾發表激情的演說。他向貴族與教士們描述朝聖者與東方基督徒如何遭受土耳其人的暴行，並宣稱只要參與這場聖戰，犧牲者的靈魂便能進入天堂。這些話點燃了歐洲各地民眾的熱情，許多人為此踏上通往「聖地」的漫長征途。上述「聖地」指的是地圖上(圖二)何處？
(A)甲 (B)乙 (C)丙 (D)丁

圖二



- 43.著名的畫家達文西曾為了創作需要，對人體進行解剖研究，並在其手稿中留下了詳細的記錄。上述行為最能凸顯當時藝術創作的哪一特色？
 (A)藝術風格兼具復古與創新特色 (B)以宗教題材為主要的創作元素
 (C)重視呈現人物寫實的表情與姿態 (D)人物造型較刻板，表現神聖形象
- 44.金剛想進一步了解被稱為是「中國使徒」的利瑪竇，尤其是利瑪竇身為傳教士被派到中國來傳教的背景，更讓金剛對這個宗教感到好奇。請問下列關於利瑪竇所屬的宗教教派，何者敘述正確？
 (A)要求教士嚴格自律，積極向海外傳教 (B)清末來臺灣傳教的馬偕也同樣屬其教派
 (C)認為信徒努力工作、有所成就是上帝的榮耀 (D)認為每一個人能否得救是靠個人對上帝的信仰
- 45.「歐洲中世紀人民飽受了死亡流離的痛苦，宗教成為人民的唯一堡壘，這是很好的避風港。但如今風消雨歇，又到了春光明媚、鳥語花香的時候了。歐洲的人民還能甘心伏居在黑暗的屋子裡嗎？所以，上古希臘羅馬的入世觀念，又重新受到群眾的歡迎，這是中世紀與近代分界的最重要關鍵，也是歷史家所說的『人文主義的重生』」根據上文作者的看法，中世紀與近代的畫分應以何史事為依據？
 (A)宗教改革 (B)文藝復興 (C)西羅馬帝國滅亡 (D)東羅馬帝國滅亡
- 46.「大赦」指的是天主信徒在領受聖事後，雖然罪過已獲得赦免，但仍然會受制於罪過遺留下的思想或行為，被稱為「暫罰」，這時候必須透過教會頒布大赦，給信徒分施基督及歷代聖人的功勞寶藏，使自身的暫罰得以在神前獲得免除。各時代對於如何抵銷暫罰各有不同的詮釋，中世紀後期，教會為籌措資金，開始販售「大赦證明書」，至此大赦淪為教會的斂財工具。上述事件造成下列何者的發生？
 (A)教宗要求十字軍出征 (B)開始進行宗教改革
 (C)信仰的解釋權掌握在教會手中 (D)基督宗教分裂為天主教與東正教
- 47.豆豆是 16 世紀的歐洲人，同時也是位虔誠的基督徒，他所屬的教會屬於新教，且其國家的國王兼任教會領袖。豆豆最有可能是當時哪個國家的人民？
 (A)英國 (B)西班牙 (C)法國 (D)俄羅斯
- 48.歷史學者曾有以下評論：「事實上，16 世紀仍是一個神啟的世紀，一個誠心信奉基督的世紀。大多數近代世界的開創者都滿懷著宗教熱忱。但是，承認每個基督教徒都有自由解釋《聖經》的權力，就等於確定了一項可能直接威脅《聖經》本身的反教會原則。」上文中否定教宗的權威，認為「每個基督教徒都有自由解釋《聖經》的權力」，應是下列何人？
 (A)喀爾文 (B)亨利八世 (C)馬丁路德 (D)羅耀拉

49-50 為題組，請閱讀文章後回答問題：

西元 1053 年，東方教會牧首將首都的拉丁禮教堂全數關閉，因其拒絕使用希臘禮拜儀式。並致函羅馬，指責教宗篡改《聖經》內容以及教義，質問西方教會聖餐用無酵餅是源自猶太教異端、安息日守大齋、准許食未出血的肉、四旬大齋期不唱《哈利路亞》等。隔年，教宗指派代表到東方帝國首都與希臘教會協商，但使節團並未達成任務。最後，教宗和君士坦丁堡牧首互相將對方破門，象徵著東、西方教會的決裂。

(註：牧首：相當於西方教會的主教。破門：將神職人員逐出教會。)

- 49.由文中判斷，下列何者**不是**東西方教會決裂的原因之一？
 (A)教義解釋分歧 (B)儀式執行差異 (C)互相爭奪權力 (D)否認《聖經》地位
- 50.關於文中東方教會的敘述，下列何者正確？
 (A)實施政教合一政策 (B)最高宗教領袖為教宗
 (C)努力傳教使日耳曼人改信基督教 (D)以羅馬為主要宗教中心