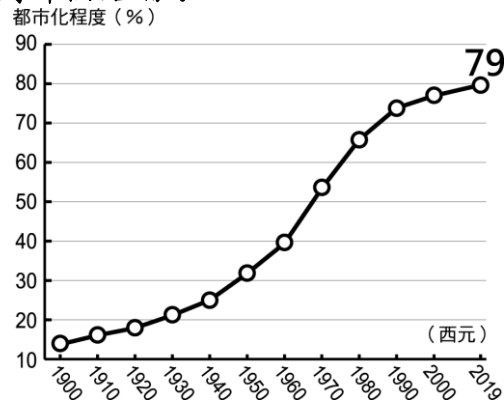


地理部分

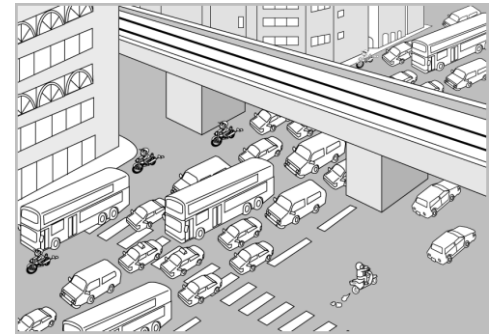
【單選題 1-13】：

1.請觀察統計圖，圖中的資料可以推得下列哪個結論？



▲臺灣都市化程度統計圖 (資料來源：行政院國家發展委員會，民國 108 年)

- (A) 2019 年住在鄉村的人口比例約為 21% (B) 全國的人數不斷增加
(C) 人口移動到都市的現象不增反減 (D) 老年人口的比例增加
- 2.政府規畫的「國土空間發展策略計畫」中，主要為平衡產業與自然環境的發展。請問：其中西部創新發展軸以何產業為發展策略重點，對於臺灣經濟的影響最為明顯？
(A) 科技產業 (B) 觀光產業 (C) 鋼鐵產業 (D) 家電產業。
- 3.在現今環保意識高漲的情況下，我國國土空間規畫架構多加入環境保護概念。請問：下列何者不屬於「中央山脈保育軸」範圍？ (A) 雪霸國家公園 (B) 台江國家公園 (C) 太魯閣國家公園 (D) 玉山國家公園。
- 4.附圖是連接都市和郊區的直線道路的部分路段。若當時是上班時間，請根據圖中景象判斷，都市和郊區的對應位置與當時的人潮流向最可能為下列哪一項？



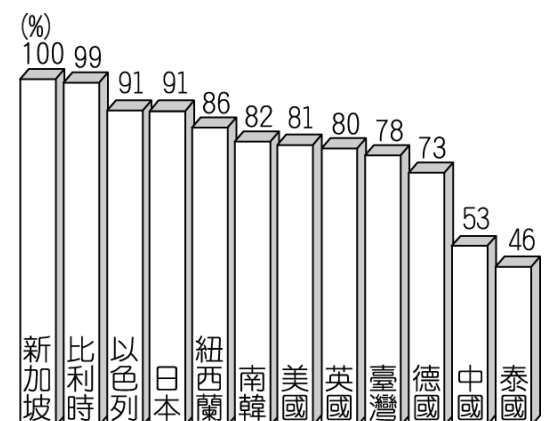
- (A) (B) (C) (D)

5.為維繫自然系統確保自然海岸零損失，並保護復育海岸資源以推動海岸整合管理，民國 104 年通過海岸管理法，以促進海岸地區的永續發展。請問：右圖中的海岸最可能位在臺灣的哪段海岸？



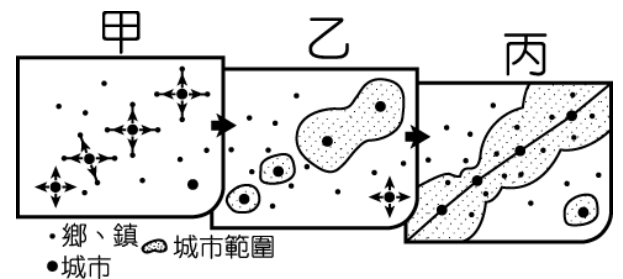
- (A) 北部 (B) 西部 (C) 南部 (D) 東部。

6.都市聚落已成為現在社會主要的發展趨勢，附圖為 2013 年臺灣與其他國家都市化程度比較圖。請問：其高低變化和下列何者關係最大？



- (A) 地勢高低 (B) 人口密度 (C) 產業發展 (D) 氣候環境。

7. 東部區域工業活動較不發達，當地居民除觀光業外，近年來亦積極發展農業活動。請問：若根據當地條件判斷，當地最適合的農業類型中不包括下列何者？ (A)無毒農業 (B)粗放農業 (C)精緻農業 (D)有機農業。
8. 比較陸運、空運、海運的運輸速度，請問：由快到慢的排列順序應如何？
(A)陸運、空運、海運 (B)海運、空運、陸運 (C)空運、陸運、海運 (D)空運、海運、陸運。
9. 行政院正積極推動的前瞻基礎建設中，包含了各種鄉村建設的計畫，希望藉由其發展來降低城鄉之間的差異，呈現各地方的區域特色。若以鄉村的相關需求而言，該地區對於下列哪一項公共建設的需求及急迫性相對較低？
(A)公園 (B)醫院 (C)車站 (D)圖書館。
10. 臺灣境內各區域的發展受到不同因素的影響而有所差異，其中哪些區域在經濟發展、平均所得、教育程度等相對較為落後，因此出現明顯的落差？ (A)北部、南部 (B)中部、東部 (C)東部、離島 (D)南部、離島。
11. 附圖為某聚落發展的示意圖，當聚落發展到圖中丙階段時，由於許多人上下班通勤往返市中心造成塞車，為促進郊區發展，縮短通勤時間，並解決塞車問題，政府會興建哪一建設？



- (A)運河設施 (B)國際機場 (C)高速鐵路 (D)捷運系統。
12. 行政院為規畫整體的發展策略，制定了「國土空間發展策略計畫」，以打破行政區界，有利於整體規畫的制定。請問：若依其計畫而言，新竹、雲林兩個縣市規劃是哪個國土規畫發展方向？
(A)中央山脈保育軸 (B)東部優質生活產業軸 (C)海洋環帶 (D)西部創新發展軸。
13. 請問下列何者是高雄市成為工業重鎮的原因？
(A)人口密度低 (B)港口運輸便利 (C)盛產煤、鐵、石油等工業原料 (D)都市化程度較低。

【題組 14-15】

聚落受到產業結構的變遷而有不同發展，附表為四個聚落的都市化程度和都市人口數量的統計表，請依附表回答問題：

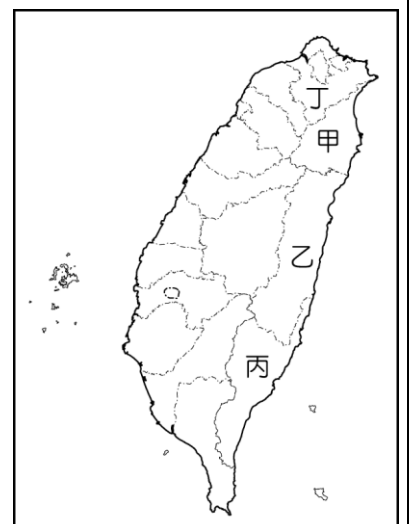
	甲	乙	丙	丁
都市化程度	20 %	30 %	50 %	70 %
都市人口數	500 萬	400 萬	800 萬	280 萬

14. 根據附表資料判斷，下列何地的人口總數最多？ (A)甲 (B)乙 (C)丙 (D)丁。
15. 根據附表資料判斷，何者最可能出現都市擴張的現象？ (A)甲 (B)乙 (C)丙 (D)丁。

【題組 16-17】

臺灣東部區域的發展雖然較晚，但相對汙染較少，風景相當秀麗，成為著名的觀光景點。請問：

16. 曉禎聽說太魯閣國家公園景色壯麗，因此希望到當地一睹奇景。請問：曉禎應該到附圖中哪一個地區？
(A)甲 (B)乙 (C)丙 (D)丁。
17. 綠島的海底溫泉國際馳名，在藍天碧海下欣賞星光非常愜意。若曉禎想搭船前往當地旅行，從附圖中哪一個縣市出發搭船最近？
(A)甲 (B)乙 (C)丙 (D)丁。



【歷史部分】【單選題 18-23】：

18. 柏林是民國 70 年代畢業的大學生，請問他畢業後，如果要依循當時政府推行的新興產業找工作，下列哪一項工作機會是他的最佳選擇？(A) 前往東南亞地區投資發展 (B) 到竹科投入高科技產業 (C) 進入加工出口區的外商公司 (D) 進入石油化學產業工作。

19. 下列圖片是某一時期發行的海報與結婚喜帖，請問對這些文物的解讀，何者正確？

- (A) 甲和丁由「海基會」印製，乙和丙由「海協會」印製 (B) 甲和丁由「陸委會」印製，乙和丙由「國臺辦」印製
(C) 乙和丙是中共為了宣傳「一國兩制」政策而印製發行 (D) 這些文宣品的發行與八二三炮戰的爆發屬於同一時期



甲



乙



丙



丁

20. 老師在上歷史課時，以右列表格說明某一時代臺灣社會的發展，請問下列何者會是老師說明的內容？

- (A) 當時臺灣社會的發展，因為受到政治掌控，自主空間有限
(B) 民國 60 年代，臺灣社會日趨開放，各種新興社會運動興起
(C) 民國 70 年代，已經出現經濟發展帶來的環保、勞工等問題
(D) 多元文化與族群平等的價值，已是當時臺灣文化發展的主流

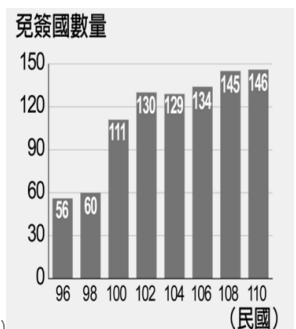
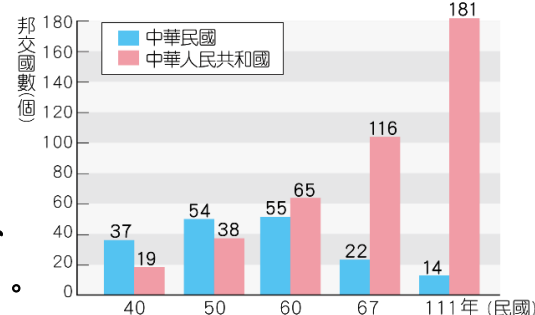
(1)	反六輕運動(1986~1991)、反核四運動(1984~)
(2)	1988「二法一案」大遊行(要求修正工會法、勞動基準法)
(3)	1980 年代，女性抗議職場上禁婚禁孕的潛規則
(4)	正名運動(1984~)、還我土地運動(1988~)
(5)	還我客家話運動(1988)

21. 近年來，國外曾有某一所大學在校園中舉辦臺灣文化節，多名來自臺灣的交換學生，熱情的介紹臺灣的文化特色。他們播放曾在臺灣不同時期流行的各種音樂，包括：臺式搖滾樂風的新臺語歌、美國搖滾之王貓王的歌曲、強調鄉土情感的校園民歌、以及彭湃的反共歌曲。請將上述的音樂依據開始流行的時代加以排列。

- 甲. 校園民歌 乙. 反共歌曲 丙. 新臺語歌 丁. 西洋歌曲
(A) 乙丁甲丙 (B) 乙甲丁丙 (C) 丁乙甲丙 (D) 乙甲丙丁。

22. 右列兩張統計圖表，可以反映臺灣的外交發展情形，請問下列對圖表的解讀何者正確？

- (A) 我國在鞏固外交階段，邦交國數量低於中華人民共和國
(B) 我國邦交國數量大幅減少，是在被迫退出聯合國之後
(C) 我國邦交國數量大幅減少後，免簽國的數量也一直減少
(D) 我國在彈性外交階段，積極爭取免簽證國家且成效顯著。



23. 右邊照片是臺灣在民國 70 年代的一個社會運動，參加者高舉他們的訴求，期盼政府能聽見他們的聲音。請問：政府後來推動了下列哪一政策，以回應他們的訴求？

- (A) 開放大陸探親
(B) 實施兩岸三通
(C) 提倡說母語運動
(D) 推行南向政策。



【題組 24-25】下文是美國與我國簽訂的〈臺灣關係法〉部份內容，請閱讀後，回答下列問題：

- 表明西太平洋地區的和平及安定符合美國的政治、安全及經濟利益，而且是國際關切的事務。
- 任何企圖以非和平方式來決定臺灣的前途之舉 -- 包括使用經濟抵制及禁運手段在內，將被視為對西太平洋地區和平及安定的威脅，而為美國所嚴重關切。
- 提供防禦性武器給臺灣人民。

24. 請問該份文件簽訂的時代背景，應為下列何者？

- (A) 美國將臺灣納入東亞反共防衛體系的一環 (B) 中華人民共和國剛獲得聯合國的「中國席位」
(C) 美國與我國正式斷交，不再維持官方往來 (D) 李登輝繼任為總統後，推動務實外交政策。

25. 根據上述〈臺灣關係法〉的內容，下列哪一立場是美國所主張的？

- (A) 美國不再關切西太平洋地區的和平及安定 (B) 美國不反對中華人民共和國以武力統一臺灣
(C) 美國承諾在任何時候都將派軍保護臺灣安全 (D) 美國將出售武器給臺灣以提高臺灣防禦能力。

【題組 26-29】下文是某一部電影的介紹，該電影是以臺灣史上的一場戰爭為背景改編，請閱讀後回答下列問題：

本片故事描述民國 47 年 8 月 23 日，中共無預警對某地發動炮擊，在一個多小時內發射 3 萬多發砲彈，強烈的炮擊使當地立即陷入火海。電影中有一幕，是兩名美國中央情報局特派員到當地了解戰況，他們表示美國總統艾森豪贊成蔣中正的看法——當地的防禦不僅僅是中國內戰的重要關鍵，而且是防衛共產主義侵略整個西太平洋國家的第一步，因此後來美軍也派出艦隊在臺灣海峽巡防。而面對中共無情的炮擊，當地守軍也展開反擊，試圖扭轉戰爭局勢。

26. 電影拍攝若要在戰爭所在地取景，應該要到圖甲中的何處？

- (A) 甲 (B) 乙 (C) 丙 (D) 丁。

27. 電影中美國總統艾森豪贊成蔣中正的看法，應該與下列哪一歷史事件產生的影響，有最密切關聯？ (A) 國共內戰 (B) 古寧頭戰役 (C) 八二三炮戰 (D) 韓戰。

28. 電影中美國派出艦隊巡防臺灣海峽，是因為下列哪一文件簽署所帶來的影響？

- (A) 聯合國憲章 (B) 中美共同防禦條約 (C) 臺灣關係法 (D) 中（中國）美建交公報。

29. 請問若現在到戰爭所在地旅行，「不」可能在當地看到下列哪一個歷史標語或宣傳？

- (A) 小三通～來趣廈門 (B) 共匪不滅，誓死不歸 (C) 三民主義統一中國 (D) 一國兩制統一中國。



【題組 30-32】電影《兒子的大玩偶》為民國 70 年代的電影，改編自黃春明的同名小說，請閱讀下文後回答問題：

故事以民國 50 年代的嘉義鄉下為背景，因當時政府的經濟政策的影響，衝擊鄉間的發展，造成電影中主角坤樹找不到工作，無奈之下以「廣告人」為業。當時在美國文化的引進之下，臺灣的電影業也開始發展，鄉下電影院的宣傳手法之一，就是在人的身體前後懸掛電影海報，並扮作小丑遊走於大街小巷，吸引人的注意。電影中，別人對坤樹都已經不當作一般人看待，連小孩都拿他尋開心，最後，甚至連兒子都認不得他原本的面目。對坤樹而言，小丑廣告人的職業不得不做，卻充分顯示了他的無奈與悲情。

30. 根據電影內容，請問黃春明的同名小說《兒子的大玩偶》，最有可能被歸類為是哪一種風格的小說？

- (A) 鄉土文學 (B) 懷鄉文化 (C) 反共文學 (D) 美國文學。

31. 電影中的主角坤樹當時在嘉義鄉下，之所以難以找到工作，最可能與政府所推動哪一項政策有關？

- (A) 實施耕者有其田，地主失去許多土地 (B) 設置加工出口區，經濟型態從農業轉型為工業
(B) 推動十大建設，重化工業造成環境污染 (D) 加入世界貿易組織，衝擊臺灣農產品的銷售

32. 請問電影中，「小丑廣告人」這種職業的出現，與下列哪一種流行歌曲風的出現，有相同的時代背景？

- (A) 為培養國家認同，曲風多延續上海、香港風格 (B) 年輕人高唱「自己的歌」，開啟校園民歌的時代
(C) 駐臺美軍廣播電台成立，西洋歌曲蔚為風行 (D) 解嚴後臺灣社會文化解放，開啟臺式搖滾樂風。

【題組 33-34】以下是兩則時事新聞，請閱讀後回答問題：

【新聞一：2023 年 3 月 26 日】

洪都拉斯政府發佈聲明，世界上只有一個中國，中華人民共和國政府是代表全中國的唯一合法政府。台灣是中國領土不可分割的一部分，從今天起，洪都拉斯政府已通知同台灣方面斷絕「外交關係」，承諾不再與台灣有任何官方關係或接觸。中國外交部發言人表示，中國對於洪都拉斯承認並承諾恪守「一個中國」原則，並決定與台灣斷交，與中國大陸建交表示高度讚賞，形容此舉順應大勢，合乎民心。

【新聞二：2023 年 3 月 27 日】

我國 26 日已和宏都拉斯斷交，而與宏都拉斯的斷交，使得與台灣建交的國家進一步減少到 13 個。不過，外交部長吳釗燮表示我國「不接受雙重承認」政策已經轉變，只要有國家希望與台灣強化關係，我們都不排除。

33. 根據上述兩則新聞，請問我國目前面臨的外交處境為何？

- (A) 文中邦交國反對「一個中國」原則，堅守與我國的關係
(B) 我國已接受邦交國可與中國建交，因此邦交國越來越多
(C) 我國堅持「一個中國」原則，因此邦交國數目逐漸減少
(D) 中國堅持「一個中國」原則，導致我國的外交處境艱困。

34. 根據新聞二，外交部長吳釗燮表示，我國「不接受雙重承認」政策已經轉變，請問此一立場的轉變，是從哪一位總統開始提出？ (A) 李登輝 (B) 陳水扁 (C) 馬英九 (D) 蔡英文。

公民部分

【單選題 35-40】：

35. AI 教父之稱的輝達 (NVIDIA) 執行長黃仁勳，抵台後旋風熱潮不斷，不僅一舉一動受到矚目，更刮起一股 AI 旋風。黃仁勳 9 歲就被送往美國教會寄宿學校，要跟各種不同背景的人交流，學校也強迫勞動服務，例如清掃全校宿舍的廁所。十幾歲當服務生打工、擦球場地板打工賺錢參加球賽，特別的生活經驗及勇於挑戰的創意精神，讓黃仁勳在全球充滿競爭的環境中，30 歲就實現年輕時的夢想，創立一間 AI 技術領先全球的公司。這位「台灣囡仔」黃仁勳被封為全球 AI 之王，也成了開啓新時代的巨人。請問：AI 教父黃仁勳所獲得的社會地位的途徑為何？



(A)是屬於與生俱來的 (B)是屬於後天努力取得 (C)是靠繼承取得的 (D)是因為朋友的協助。

36. 承上題，「AI 教父」黃仁勳執行長身價超過新台幣 1 兆元，排名彭博億萬富豪榜第 37 位，是今年全球身價竄升最快的億萬富豪。黃仁勳執行長的成就過程，正是下列何種現象的典範？

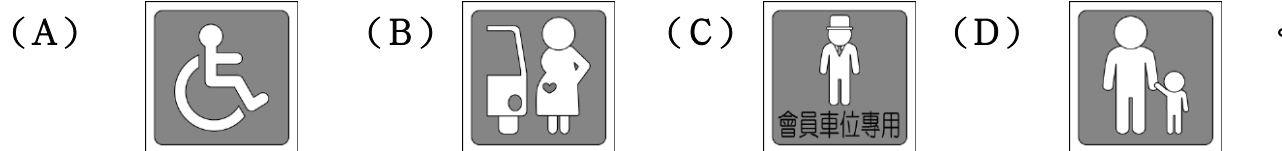
(A)社會流動 (B)社會正義 (C)社會變遷 (D)社會規範。

37. 表(一)中，哪些是屬於政府所開辦的社會福利措施？

表(一)	甲	環保署推行舊車換新補助金 2023/6/1 全台再加碼
	乙	新北市府推動 111 綠能屋頂發電計畫開跑
	丙	2023 新北市舉行「議長盃第十三屆龍舟錦標賽」
	丁	行政院通過房貸補貼 3 萬元 2023/6/1 申請開跑 符合資格者不要錯過
	戊	新北市提供老人免費健康檢查

(A)甲乙丙 (B)乙丙丁 (C)丙丁戊 (D)甲丁戊。

38. 政府為照顧弱勢族群，要求大賣場依法在公共停車場域畫設特殊用途停車格，以下哪一張停車格標示不是以照顧弱勢為目的？



39. 台北市服務業近 150 萬人，工作時間卻非都朝九晚五，接送孩子常有困難。議員建議新辦托育，時間從早上 10 點半到晚上 9 點時段的公托。市府規畫在懷生小家園試辦，先收托 0 到 2 歲幼兒 4 名，若試辦成功再擴大至少 12 名，預定試辦半年；市長蔣萬安說，最快今年 9 月試辦。請問這項福利措施和下列何者性質不相同？

(A)身心障礙者家務服務 (B)建設無障礙環境設施 (C)新住民生活適應輔導班 (D)政府提供育兒津貼。

40. 下列有關社會福利項目的配對，何者正確？(A)婦女生育補助--福利服務 (B)政府辦理疫苗接種--健康與醫療照顧 (C)提供民眾就業諮詢 --居住正義 (D)提供低收入戶生活扶助--社會津貼。

【題組 41-43】：新聞報導：

台南市勞工局為提供身障就業截至 2023 年度，進用身心障礙者的機構有 1259 個單位，進用身心障礙者達 5927 人，為提升身心障礙者技能部分，將陸續開設身心障礙者職訓專班。勞工局總計超額進用 1978 人，超額進用率達 150%，顯示有越來越多企業、機構願意提供身心障礙者工作機會，也讓更多身心障礙朋友建立信心。 中華日報報導 2023/5/31

41. 根據上文所述，請問：上述內容與下列哪一項社會不公平現象相關？

(A)利益分配 (B)責任負擔 (C)貢獻程度 (D)需求滿足。

42. 請問：上述屬於台南市勞工局的何項社會福利政策？

(A)社會保險 (B)社會津貼 (C)就業安全 (D)社會救助。

43. 請問：上述政府的決策是為了達成哪一方面的公平正義？

(A)使每個人都享有基本自由與權利 (B)確保每個人都擁有公平的機會 (C)對不同方面的弱勢群體提供一樣的照顧 (D)對弱勢群體提供較多的照顧與利益。

【題組 44-45】新聞報導：

中高齡者及高齡者促進法於 2020 年正式上路，並明定不得年齡歧視。中高齡促進聯盟表示，中高齡就業專法想用多種方法增加中高齡者及高齡者勞參率，但與此同時，就業保險法卻設有 65 歲上限、國營聯招也要求所屬事業機構人員年滿 65 歲者應辦理屆齡退休，導致高齡勞工無法使用就業服務資源。因此才盼打開年齡上限，才能協助高齡者再就業，加強高齡者勞動參與意願。高齡勞工面對失業風險比率甚至比其他年齡來得高，因此建議納入高齡者才能彰顯就業保險法的原始目的。

摘錄中國時報 2023/05/28

44. 為協助高齡者打開年齡上限再就業，加強高齡者勞動參與意願。因此建議納入高齡者才能彰顯就業保險法的原始目的，屬於哪一項社會福利措施的內容？
 (A)社會保險 (B)社會救助 (C)居住正義與社區營造 (D)健康與醫療照護。
45. 上述民團的做法，是運用下列何種理念達成公平正義？ (A)對不同遭遇的弱勢群體提供一樣的生活照顧 (B)每個人都享有基本的自由與權利 (C)社會必須確保每個人都有公平的機會 (D)對弱勢群體提供更多的照顧與利益。

【題組 46-48】新聞報導：

今日是「國際勞動婦女節」，日前勞動部發布今年的「同酬日」為 2 月 27 日，男女勞工薪資差距仍維持 58 天，根據 yes123 求職網的調查，高達 68% 的女性曾遭遇求職歧視、逾 7 成同工不同酬，女性受訪者認為，平均月薪需增加 7341 元才可拉平差距。若要建立更友善女性的職場環境，企業主管、老闆指派公務時，要先打破性別刻板印象，避免外派、出差洽商、簽約場合排斥女性，也應給予男女員工同等競爭加薪、升遷機會，以發揮「一加一大於二」的職場效能。

2023/03/08 自由財經網報導

46. 根據新聞內容畫線的部分，顯示出社會的哪一種不公平現象？
 (A)利益分配 (B)責任負擔 (C)貢獻程度 (D)需求滿足。
47. 由新聞內容可知，無法建立「友善女性職場環境」的主要原因為何？
 (A)給移工不公平待遇 (B)阻礙社會流動
 (C)排擠弱勢族群 (D)對於求職者性別歧視。



48. 驚江公司技術、維修等專業技能及體力負荷較大之部門皆以男性為主，女性大多參與人事、行政部門工作。請問：該公司反映出哪一社會不公平現象？ (A)利益分配 (B)責任負擔 (C)貢獻程度 (D)需求滿足。

【題組 49-50】

急難救助是針對遭逢一時急難的民眾，及時給予救助使其得以渡過難關，迅速恢復正常生活的臨時救助措施。當您或您身邊的朋友在生活上遭遇困難，家中負擔家庭主要生計者死亡、失蹤、罹患重傷病、失業或因其他原因無法工作，導致家庭生活陷於困境，此時您可申請急難紓困：通報後即會進行實地訪視，送核定機關當日核定後 24 小時內發放關懷救助金一至三萬；若您經過認定屬急迫個案，訪視時將立即先發給新台幣五千元救助金。歡迎直撥「1957」福利諮詢免付費專線。

資料來源：衛生福利部社

49. 請問：上述為哪一項社會福利政策的內容？
 (A)社會保險 (B)社會救助
 (C)居住正義與社區營造 (D)健康與醫療照護。
50. 我國政府所推行的何種制度，是為了協助生活上遭遇困難，導致家庭生活陷於困境的國民能維持基本生活？
 (A)社會階級 (B)社會地位 (C)社會安全 (D)社會規範。

