

命題教師：所有社會科老師 日期：6 月 28 日 第四節 班級： 座號： 姓名：

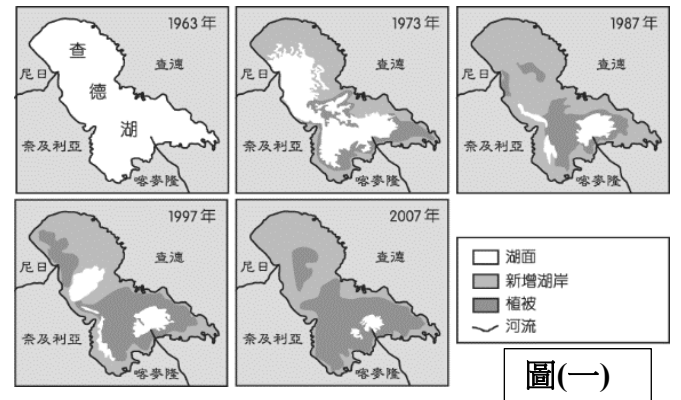
共 50 題，每題 2 分。

【地理部分第 01-17 題】

題組 1-3

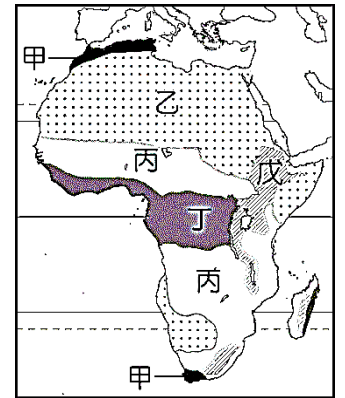
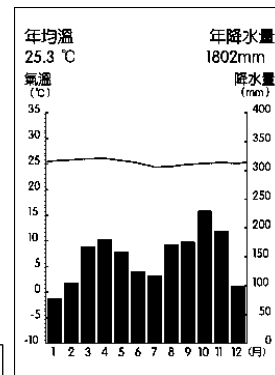
查德湖位於撒哈拉沙漠南緣，由三條主要河流所匯集而成，水域面積高達 1540 平方公里，為周圍國家主要的水源來源。圖(一)為查德湖近年來的湖泊面積變化情形。請問：

- 湖泊面積的變化受到周圍環境因素的影響甚大，造成圖(一)中變化的主要原因不包括下列何者？
(A)工業快速發展 (B)耕地面積增加
(C)溫室效應加劇 (D)民生用水增加。
- 漠南非洲近年來出現的各種生態危機，最主要是受到哪一項因素的影響？
(A)死亡率快速上升 (B)人口快速增加 (C)勞工數量不足 (D)工業快速發展。
- 近年來漠南非洲國家普遍思考著如何改善境內人地關係，希望能兼顧經濟發展與環境保護。下列何者對於達到此項目標最有幫助？
(A)使用化肥以減少耕地面積擴張
(B)欄牧方式飼養牛羊來限制草地破壞
(C)推廣生態旅遊來增加國家收入
(D)發展石化工業以降低對農牧業的依賴。



- 圖(二)是漠南非洲某區的氣候圖，請由氣候圖判斷，該氣候位於圖(三)中的何處？
(A)甲 (B)乙 (C)丙 (D)丁。

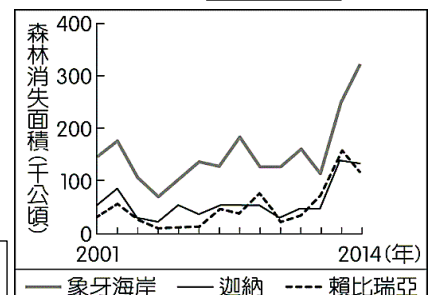
圖(二)



- 森林的消失受各種不同的自然及人為因素影響，大規模種植作物為重要的因素之一。圖(四)為某國際組織運用衛星影像資料，推算非洲三個國家自 2001 至 2014 年森林消失面積的統計資料。圖中森林面積的變化最可能反映何種作物的大量種植？—改寫自【110.會考】

- (A)茶葉 (B)棉花 (C)橄欖 (D)可可。

圖(四)



題組 6-7 請閱讀下文，並回答問題：

法國文化部在今年的活動中聯手多家學術機構及法語國家國際組織，共同推出了一部法語使用者網絡辭典，將以手機 APP 形式上線，這是一部開放的，與時俱進並資源共享的電子辭典。新上線的辭典已經搜集到 50 多萬個來自 52 個國家的詞條，這將極大地豐富法語，使法語語言多樣性隨時被辭典收納記錄和確認，把法語圈國家有代表性的地方常用語變成全球法語使用者的共同語言。

法語圈國際組織中壓倒多數的成員國來自非洲，法語是 29 個獨立的非洲主權國家的官方語言。非洲是世界上法語使用者最多的大洲，也必將成為法語語言多樣性的最大貢獻洲。

據法語國家國際組織提供的資料，目前有大約四億人口生活在說法語的非洲國家，也就是說，非洲有半數國家的相當於非洲總人口三分之一的非洲人日常使用法語。而這個數字正在快速增長。到本世紀中葉，全球法語圈人口將提升至近八億，其中 85% 的法語使用者將生活在非洲。

- 根據上述文章，為何非洲 54 個國家中，以法語為官方語言的國家有 29 個？

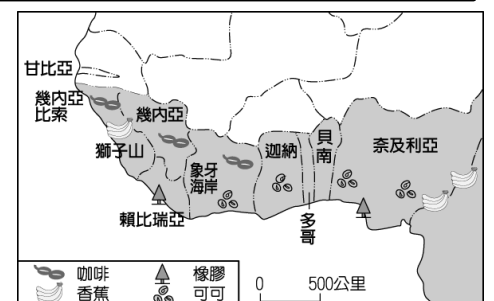
- (A)融合多元文化 (B)殖民歷史影響 (C)經濟發展快速 (D)交通地位重要。

- 承上題，除了上述的原因使法語在非洲佔有較大的版圖之外，同時也因下列哪個原因使非洲成為全世界最多人使用法語的洲別？

- (A)乾旱改善 (B)戰亂不斷 (C)人口急增 (D)工廠增加。

- 漠南非洲的經濟發展相對較為落後，產業以農業為主。圖(五)為西非主要農業的分布特色，下列哪些選項是該地區的農業發展特徵？(甲)以經濟作物為主 (乙)須大量勞力 (丙)以出口為主 (丁)須引進勞工。

- (A)甲乙丙 (B)乙丙丁 (C)甲丙丁 (D)甲乙丁。



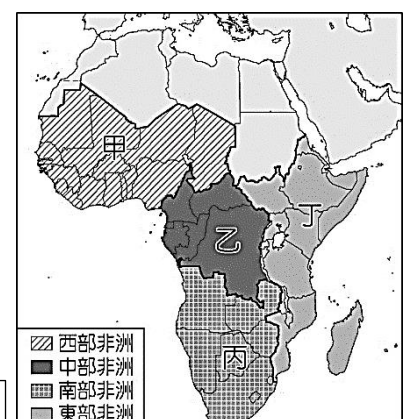
- 馬拉松史上前十快的跑者都來自肯亞和衣索比亞，普遍認為長期生活在海拔 2,500 公尺的高原環境，有助於訓練選手的肌耐力與肺活量，因此近年也有各國的長跑選手到此進行訓練，以貼近肯亞與衣索比亞跑者的訓練環境。上述的這些超級跑者大多來自圖(六)中的何處？

- (A)甲 (B)乙 (C)丙 (D)丁。

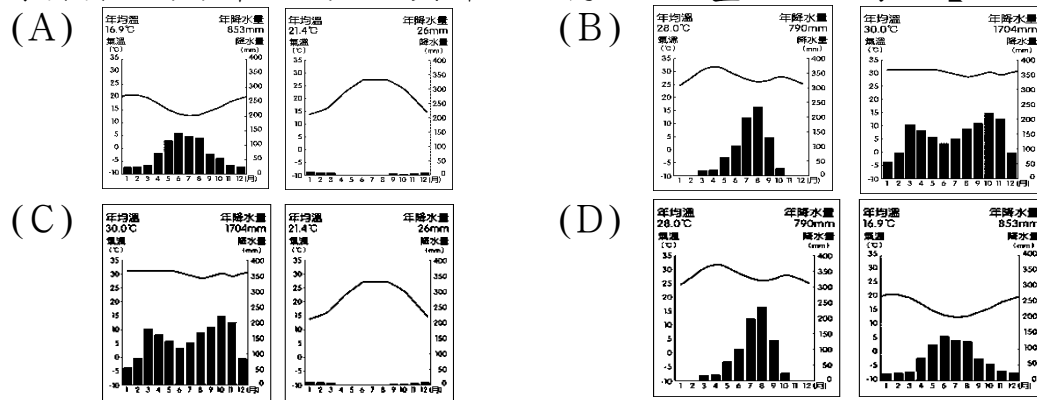
- 「樹頂飯店」(37°E, 1°N) 位於肯亞「阿布岱爾國家公園」(Aberdare National Park)內，因每逢雨季時能目睹動物大遷徙，生意絡繹不絕。由此判斷，該飯店的旅遊旺季應為何時，需提早預訂房間？

- (A)1 月 (B)5 月 (C)8 月 (D)11 月。

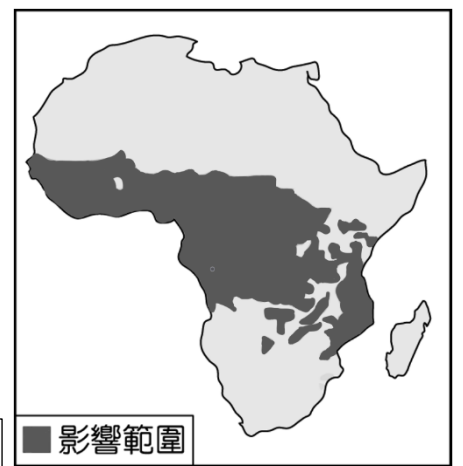
圖(六)



11.非洲的昏睡症是由嗜睡蠅傳播的一種疾病，圖(七)是嗜睡蠅的影響範圍。請問嗜睡蠅的分布區域大致與哪兩個氣候區重疊？—改寫自【105.會考】



圖(七)



12.國家間因為國界上的糾紛，經常導致相關的衝突。一般常見的國界多採用「自然邊界」畫分，如山脈、河川等，但是非洲各國採取經緯線來畫分國界。請問以經緯線來畫分國界，最有可能產生哪一種問題？

- (A)不同族群間易發生衝突 (B)經濟發展較為落後 (C)文化封閉缺乏國際交流 (D)社會貧富差距過大。

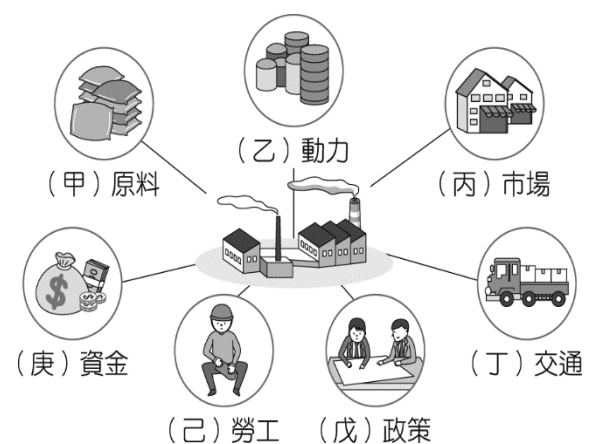
題組 13-15 請閱讀下文，並回答問題：

世界各個主要大國都在爭奪在非洲政治經濟影響力。但為何非洲大地重新引起關注？

非洲大陸有豐富的礦產資源、未開發的農業用地，非洲國家在聯合國擁有具有影響力的 54 票，在阻擋來自伊斯蘭激進分子日益增長的威脅方面有重要作用。另外，非洲因自然增加率的上升，帶來足以翻轉經濟的人口紅利，同時也因對種族主義的擔憂使得各方對非洲重新產生興趣。

贊比亞經濟學家丹比薩·莫約博士(Dr. Dambisa Moyo)在她 2018 年的文章《非洲威脅》中曾這樣指出：「世界需要與非洲打交道，幫助解決非洲的問題，這些問題遲早會成為全世界的问题…在這片大陸上，進行建設性國際交往的需求從未如此迫切。而全球經濟可以從積極參與中得到豐厚回報。」。

雖然非洲有吸引各國投資之處，但也有其目前不得不面對的困境：基礎建設不足、傳染病難以控制、貧窮與飢餓。



圖(八)

13.上文中提及各國的製造業部門對非洲重新產生興趣，打算前往設廠製造。請問非洲所具有的區位優勢，是指圖(八)中的哪兩項工業區位條件？

- (A)(甲)(丁) (B)(甲)(己) (C)(丙)(丁) (D)(戊)(庚)。

14.上文提及當地缺乏基礎建設，從各方報導觀察，不難發現當地缺乏健全的交通建設。若以非洲的經濟狀況、交通易達性、目的性…等方面進行考量，請問：非洲當地最迫切需要的是哪種運輸系統？

- (A)鐵路系統 (B)捷運系統 (C)公路系統 (D)高鐵系統。

15.上文提及漠南非洲的傳染病難以控制，而當地的瘧疾、愛滋病、肺結核被並列的三大傳染病，同時，寄生蟲所引發的相關疾病也在當地肆虐。下列何者為造成這種現象的主要原因？

- (A)人口高度集中 (B)工業汙染嚴重 (C)交通網絡稀疏 (D)公衛系統低落。

題組 16-17 請閱讀下文，並回答問題：

作為一個由 54 個國家、超過 13 億人口組成的世界第二大洲，這片土地快速而蓬勃的發展，很可能早已超越了你我的想像。2015-2019 年間，非洲的新創產業獲得的投資基金成長了 7 倍，奈及利亞誕生出非洲大陸第一個新創公司：Jumia—跨境電商平台，2019 年該公司於紐約證交所上市。

2020 年因為 Covide-19 嚴重影響全世界的景氣程度，原先預計醫療落後的非洲也會深受大環境的影響，使得整體經濟發展呈現疲軟、一蹶不振的趨勢。但出乎意料的是，非洲整體不似其他經濟大國深受 Covide-19 影響，且非洲各國的景氣於 2021 年復甦，GDP 平均成長了 3.3%，外國直接投資 (FDI) 更較前年成長 147%。各界將非洲不受 Covide-19 嚴重影響，歸因於其特殊的人文與自然背景。

在非洲這個新興市場，正因為一切都還「未完成」，所以才有相應的發揮空間與彈性。但相對地，在巨大的發展潛能背後，有著風險與挑戰。因著兼容並蓄的精神，創造出此地自成一格的秩序與節奏，使得整個大陸從時代的陣痛中脫胎換骨，以嶄新的面貌，迎向一個有 5G、有 FinTech、有外送服務，還能孵化出一個個新創公司的新紀元。

16.根據上述文章，為何全世界願意持續增加對非洲新創產業的投資？

- (A)內需消費市場崛起 (B)多元經營因地制宜 (C)教育機構持續增加 (D)發揮在地生產優勢。

17.根據上述文章，發現非洲出乎意料地躲過了 Covide-19 所帶來的疫情與經濟方面的災難。請問下列哪些因素降低了 Covide-19 對非洲整體的衝擊？(甲)年輕的人口結構 (乙)交通網絡較稀疏 (丙)上升的自然增加率 (丁)整體氣候較溫暖。

- (A)(甲)(乙)(丙) (B)(乙)(丙)(丁) (C)(甲)(丙)(丁) (D)(甲)(乙)(丁)。

【歷史部分第 18-34 題】

18.中華人民共和國於北京成立，由中共一黨專政，建國初期為鞏固共黨政權，對內嚴格推動各項措施，請選出正確的配對。

(甲)公地放領 (乙)民間工商企業收歸國有 (丙)改革開放 (丁)控制知識分子的言論思想，清除政治反對勢力。

(A)甲乙 (B)甲丁 (C)乙丙 (D)乙丁

19.下圖中共政權在某一時期的國家發展路線，圖中的標語是：「多出鋼快出鋼，澆死美國狼。」這是哪一時期的宣傳品？



(A)1949 (B)1958 (C)1966 (D)1971。

20.中國共產黨於 1921 年創立，早期發展深受蘇聯影響，請將下列中共與蘇聯及國際的歷年互動之相關事件，排出正確順序。(甲)聯共抗日 (乙)中蘇友好 (丙)聯俄容共 (丁)中美抗蘇 (戊)中蘇交惡。

(A)丙甲乙戊丁 (B)甲乙丙丁戊 (C)乙丙丁甲戊 (D)丙甲乙丁戊

21.經典電影《活著》裡描繪 1940~1970 年代中國政局變化，其中主角曾經歷青年學子把毛澤東當成神、太陽一樣的崇拜。請問：主角經歷的是中共哪一階段？



(A)文化大革命 (B)大躍進 (C)人民公社 (D)改革開放。

22.文化大革命不但在中國境內造成深遠的影響，對世界也造成一定程度的衝擊。請問：下列何者不是文化大革命的影響之一？ (A)擴大援助亞、非、拉丁美洲的共產革命勢力 (B)中國全面改制為資本主義社會 (C)助長歐美地區的學生運動 (D)美國黑人民權運動人士利用集會討論、學習《毛語錄》。

23.1980 年代起，中國實施經濟改革開放政策，並在沿海地區設立經濟特區，以吸引國外的資金、技術和管理經驗。請問：早期在沿海所設立的經濟特區多位於何處？(A)廣東、福建 (B)河北、山東 (C)山西、陝西 (D)東北、新疆。

24.中央委員總書記趙紫陽於凌晨 4 時 50 分對學生發表了感情激動的談話：「同學們，我們來得太晚了。對不起同學們了。你們說我們、批評我們，都是應該的。我這次來不是請你們原諒。我想說的是，現在同學們身體已經非常虛弱，絕食已經到了第七天，不能再這樣下去了。……北京是首都，各方面情況一天天嚴重，這種情況不能再繼續下去了，同學們都是好意，為了我們國家好，但是這種情況發展下去，失去控制，會造成各方面的嚴重影響。」請問上述發言的背景為何？ (A)文化大革命 (B)六四天安門事件 (C)中美建交 (D)大饑荒。

25.香港、澳門回歸中國前，分別是哪國的殖民地？(A)法國、西班牙 (B)葡萄牙、英國 (C)英國、葡萄牙 (D)西班牙、法國

26.請依序排列中國近代大事，(甲)中國主辦北京奧運(乙)中美建交(丙)中國加入WTO(丁)中國加入聯合國(戊)港澳回歸。

(A)丁乙戊丙甲 (B)乙丁甲丙戊 (C)乙丁戊甲丙 (D)丙甲乙戊丁

27.某書的內文：「這個時期，雙方陣營為了自己的中心思想而相互交鋒，不斷拉攏己方陣營的國家，形成各式同盟。其次，世界各地陸續發生武裝衝突，但卻未演變成雙方陣營全面開戰。雙方都監視著彼此，但誰也無法勝出。」請問這個時期的時代背景應該是下列何者？ (A)二次世界大戰 (B)國共內戰 (C)韓戰 (D)冷戰。

28.靜靜正在撰寫有關韓戰的歷史報告，下列哪個內容不會出現在她的報告中？(A)最後南北韓簽訂停戰協定 (B)美國組織軍隊協助南韓 (C)中國出兵支援北韓 (D)戰爭起因是南韓進攻北韓

29.我國政府一向希望加強與鄰近地區的經貿合作、人才交流、資源共享與區域聯結等面向，創造互利共贏的新合作模式。尤其，近年來我國政府積極推動「新南向政策」，鼓勵臺商前往□□地區設廠，並與□□地區建立合作共識，希望藉此開創外交新局面。請問：□□地區最可能是何處？ (A)歐洲聯盟 (B)美國 (C)東協國家 (D)中國大陸。

題組一

哥倫比亞大學曾發表一份針對美軍在越戰期間空投落葉劑的調查，在該份報告中驚人的指出：「越南有大量的畸形兒，斷手、斷腳或器官缺陷，畸胎比例始終居高不下，這一切其實都跟美國當年在此使用落葉劑有關。」

右圖為越戰時期，美軍 UC-123 運輸機空投“橙劑”。



30.越南在哪一場戰爭成為法國的殖民地？(A)甲午戰爭 (B)清法戰爭 (C)鴉片戰爭 (D)英法聯軍。

31.越戰於哪一年結束，越南最後變成什麼政治體制的國家？

(A)1971 民主國家 (B)1975 共產國家 (C)1961 民主國家 (D)1975 改革開放國家。

題組二

台灣位於東亞島弧上，地理位置重要，雖然冷戰期間未直接參與區域性的戰事。然而韓戰的爆發，加強了美國為了防堵共產勢力的擴張意識，台灣成為東亞反共的重要角色。

32.美國因應共黨國家在東亞的擴張，聯合友好國家建立圍堵體系。請問：下列選項中，何者是圍堵體系的產物？

(A)雅爾達密約 (B)東協自由貿易區 (C)東南亞公約組織 (D)東南亞國家協會。

33.韓戰爆發前，中華民國政府剛經歷了哪一場戰爭，最後政府播遷至台灣？

(A)甲午戰爭 (B)清法戰爭 (C)國共內戰 (D)越戰。

34.韓戰爆發之際，美國派遣第七艦隊協防台灣，並於戰後與中華民國簽屬哪一個條約，完成東亞反共體系？(A)開羅宣言 (B)臺灣關係法 (C)雅爾達密約 (D)中美共同防禦條約。

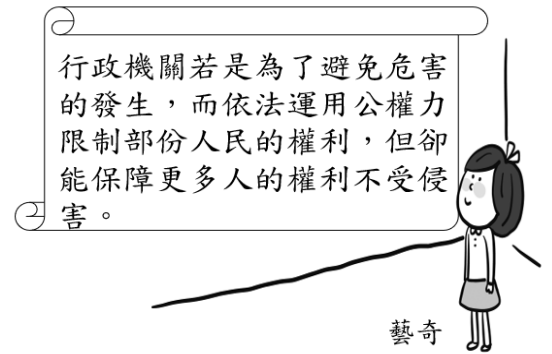
【公民部分第 35-50 題】

35. 史騰堡在南投縣國道上開車時，手持智慧型手機講電話，因違反《道路交通管理處罰條例》第 31-1 條，被南投縣警察局舉發，處以新臺幣三千元罰鍰。請問：國道巡邏警察對史騰堡開出交通管理事件通知單的作為，屬於下列哪一個法律概念？

(A)行政處分
(B)行政救濟
(C)行政責任
(D)行政訴訟。

36. 老師要求全班都要選擇一種與法律有關的主題進行報告，(圖 1)是藝奇報告的內容，以下何者最可能是藝奇報告的主題？

(A)侵權行為
(B)預防犯罪
(C)行政管制
(D)行政責任。



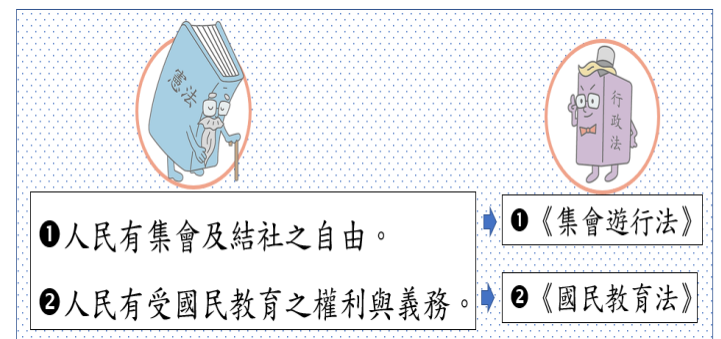
(圖 1)

37. 老師說從出生到死亡的各種生活型態都有行政法的蹤跡，所以要同學嘗試提出一例與行政法相關的事例，請問：下列何者的舉例符合老師的要求？

(A)小美人魚：告發謊稱超商有炸彈的藏鏡人
(B)高飛：操作不慎造成學校的實驗器材破裂
(C)樂佩公主：我國國民須參加全民健康保險
(D)安娜：公務員貪汙被法官宣告拘役及罰金。

38. 老師在公民課介紹憲法與行政法時，使用了(圖 2)的內容，請問：以下何者最適合作為此圖的標題？

(A)《憲法》具體保障人民權利
(B)《憲法》是行政法的具體化
(C)《憲法》是活生生的行政法
(D)行政法實現《憲法》的內涵。



(圖 2)

39. (圖 3)的大老闆氣沖沖地來找律師問一則法律問題。以下是與(圖 3)相關的敘述，何者正確？

(A)律師被詢問的問題與民事法律有關
(B)律師建議此事應向教育部提出訴願
(C)律師建議此事應向教育部提出行政訴訟
(D)教育部若維持原處分，就不能提起訴訟。

(圖 3)



40. (表 4)是 109 年 1 月至 6 月兒童及少年受虐類型及受虐因素的部分分析，以下是有關(表 4)的敘述，何者正確？

單位：％

資料來源：衛生福利部

兒少受虐類型	身心虐待			
	身體虐待	精神虐待	性虐待	疏忽
	12.24	2.22	25.24	8.8
兒少受虐因素 (可複選)	缺乏親職教育	婚姻失調	經濟因素	酗酒、藥物濫用
	70.16	9.5	7.39	7.2

(表 4)

(A)保護兒童及少年免受性虐待的法規是《兒童及少年福利與權益保障法》
(B)依據此表統計數據顯示，兒童及少年遭到虐待最常見的類型是身體虐待
(C)為大幅度降低兒少受虐的可能，政府應建立多元管道提供親職教育服務
(D)若兒少的家長有酗酒、藥物濫用的情形，可能違反《少年事件處理法》。

41. 依據《兒童及少年福利與權益保障法》有關年齡的規定，請問：以下何者被此法稱為為少年？

(A)大武：我剛符合公民投票的年齡資格
(B)蘇蘇：明年我可以參加國中畢業旅行
(C)白宇：我二年後能領到國小畢業證書
(D)聖君：《兒童權利公約》無法保護我了。

42. 台南市的某水產店在 10 秒內被開了 20 槍，導致 1 人死亡 5 人受傷，案發當日警察即依附近的攝影機錄影，逮捕到嫌犯，令人震驚的是嫌犯只有 14 歲。以下是此嫌犯可能會經歷的程序，請問：何者正確？

(A)此案是少年保護事件
(B)此案是少年刑事案件
(C)由少年保護官起訴
(D)由少年法官起訴。

43. 鄧曉雯在 13 歲時，由於家境貧窮，被迫到陳姓老闆開的酒家坐檯及提供與性相關的招待服務，檢察官臨檢時，發現她竟然還未成年，此外，她為貼補家用還在鄭姓老闆開立的直播平台，做出猥褻的行為，由於曉雯的心受創，使她以吸食 K 他命為慰藉，以下是與她相關的法律討論，請問：何者正確？
- (A) 提供鄧曉雯直播工作的鄭老闆，違反《兒童及少年福利與權利保障法》應受有期徒刑的處罰
(B) 提供鄧曉雯陪酒工作的陳老闆，違反《少年事件處理法》可能因此被公布姓名、勒令歇業等
(C) 鄧曉雯從事性交易工作，已違反《社會秩序維護法》是少年刑事案件，應交由少年法院審理
(D) 鄧曉雯是曝險少年，因為有吸 K 他命及攜帶危險器械的習慣，被少年法庭列為少年保護事件。
44. 17 歲的胖虎，沉迷電玩，急於購買遊戲點數，趁宿舍無人時，竊走室友的 1,000 元。少年法庭的法官認為胖虎的犯罪情節輕微，當少年法官在決定對胖虎施以處罰前，他要助理擬一份對胖虎的處罰清單。請問：法官可以對胖虎施以的處罰，有哪些選擇？
- (A) 甲乙丙丁
(B) 甲乙丁戊
(C) 甲丙丁戊
(D) 甲丁戊己。
- ☐ 甲、訓誡
☐ 乙、拘役
☐ 丙、罰鍰
☐ 丁、安置輔導
☐ 戊、保護管束
☐ 己、感化教育
- (圖 5)

【題組一】

為充分供應國人雞蛋消費需求，行政院農委會自今年 3 月起專案進口國外雞蛋，進口蛋除需符合來源農場 28 天以上未發生高病原性禽流感及未施打禽流感疫苗等規範，亦須符合相關食品衛生安全檢驗規定。有關農產品進口的中央主管機關是行政院農委會；在地方主管機關是直轄市、縣市政府。然而蛋價在市場已經逐漸平穩，卻接二連三在台灣各縣市發生，泰國進口蛋出現發霉的情況，甚至延伸出不肖廠商將外觀看起來沒發霉的蛋，製成蛋液，最後被依被《食品安全衛生管理法》罰鍰 15 萬元。請依據以上的敘述，回答 45-47 的問題：

45. 以下何者事例的目的及法律概念與農委會對國外進口雞蛋進行嚴格把關的作為相同？
- (A) 政府嚴格限制機場附近的建築物高度
(B) 政府呼籲民眾到醫院自費打流感疫苗
(C) 總統在就職典禮上說年金制度須修正
(D) 政府為推動雙語政策整合跨部會資源。
46. 由於不肖廠商將外觀看起來沒發霉的蛋，製成蛋液，因此被行政機關依《食品安全衛生管理法》罰鍰 15 萬元。從行政機關對不肖廠商的處罰，顯示出行政機關要此廠商負擔的責任為下列何者？
- (A) 刑事責任 (B) 民事責任
(C) 連帶責任 (D) 行政責任。
47. 以下是有關《食品安全衛生管理法》的相關敘述，何者正確？
- (A) 《食品安全衛生管理法》屬於刑法的規範
(B) 《食品安全衛生管理法》屬於民法的規範
(C) 《食品安全衛生管理法》屬於行政法的規範
(D) 《食品安全衛生管理法》是行政機關的命令。

【題組二】

少子化與未來國家的勞動力及國家競爭力有深遠的影響。針對少子化問題政府提出了許多因應方案，來解決與此相關的問題，例如：行政院於 2018 年 7 月核定「我國少子女化對策計畫」，提出提升幼兒照顧品質、杜絕兒少使用或獲得有害身心的商品、友善生養的配套措施、鼓勵婚育與家庭教育等措施，而提升生育率。請回答 48-50 的問題：

48. 政府為了落實此計畫的友善生養措施，在高鐵站設置了哺乳室及親子廁所，並提出月台與車廂齊平的改善計畫，使嬰兒推車可輕鬆便利進出月台。請問上述的措施最符合以下何項法律的規範？
- (A) 《兒童及少年福利與權益保障法》 (B) 《兒童及少年性剝削防制條例》
(C) 《少年事件處理法》 (D) 《國民教育法》。
49. 世界各國對於兒童及少年有不同方式的保護，請問：我國政府為與國際接軌，而制定了保護兒童及少年的相關法律，請問：在保護兒童及少年的措施上主要是根據以下聯合國通過的何項法律？
- (A) 《獨立宣言》 (B) 《兒童權利公約》
(C) 《世界人權宣言》 (D) 《全民健康保險法》。
50. 請問：題組二中畫底線的部分，有幾項是屬於對於兒童的保護措施？
- (A) 1 項 (B) 2 項
(C) 3 項 (D) 4 項。

本試題卷結束