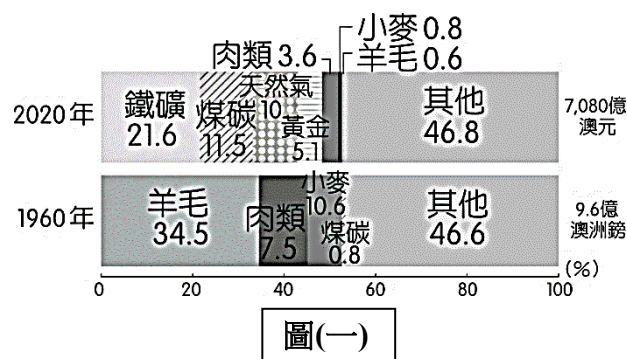


共50題，每題2分。

【地理部分第01-17題】

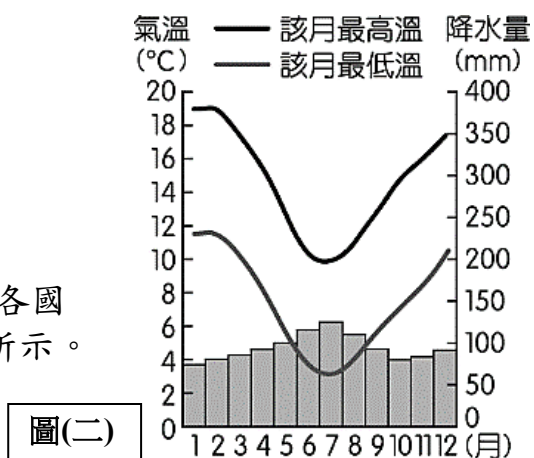
- 美國主辦首場太平洋島國峰會，宣布提供上億美金援助，供太平洋島國對抗氣候變遷，並宣布一系列外交行動，以其拉近與太平洋島國間的關係。根據文中敘述可知，太平洋島國亟需美國的經濟援助以對抗氣候變遷帶來的種種問題與成本，太平洋島國多數都面臨氣候變遷的挑戰，是因與其島嶼的何種條件有關？  
(A)地理位置 (B)戰略地位 (C)島嶼成因 (D)特有種生態系。
- 位於大洋洲的澳洲與紐西蘭，皆為四面環海的島嶼，但兩國的自然環境不同，「澳洲是褐色大陸，紐西蘭是綠色島嶼」。由上述內容，澳洲、紐西蘭分布最廣的氣候類型應分別為何？  
(A)熱帶沙漠氣候、溫帶海洋性氣候  
(B)溫帶沙漠氣候、溫帶海洋性氣候  
(C)溫帶沙漠氣候、溫帶地中海型氣候  
(D)熱帶沙漠氣候、溫帶地中海型氣候。
- 圖(一)是不同年代澳洲出口品變化圖，從1960年到2020年出口品有何改變？  
(A)由礦產變成以農產品出口 (B)由農產品變成以礦產出口  
(C)由農產品變成以工業產品出口 (D)由工業產品變成以礦產出口。



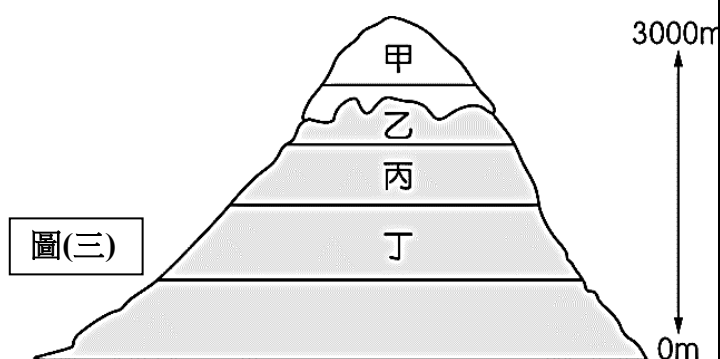
題組 4-5

第一級產業的產品外銷為澳洲重要外匯來源之一，但曾因降水不足，而面臨「百年大旱」的危機。當時澳洲總理曾經警告說：「若近期內沒有足夠的降水，即將停止大部分農地的灌溉。」請問：

- 受到全球化的影響，澳洲農牧業由於長期乾旱而大受影響，這將對國際市場造成何種衝擊？  
(A)乳品原料價格上漲 (B)市售咖啡價格變貴 (C)橡膠價格波動 (D)棉紡織工業缺乏原料。
- 我國在進行農牧業轉型的過程中，曾參考澳洲的農業發展過程。下列有關澳洲農牧業發展條件的敘述，何者正確？  
(A)位於北回歸線經過地區，氣候乾燥，促成粗放的畜牧業  
(B)降水的分布，明顯受到山脈和信風的影響  
(C)鄰近歐美主要市場，有利畜牧產品的輸出  
(D)勞工充足且面積廣大，單位面積產量高。
- 太平洋上各島國位於藍天碧海之中，當地的觀光活動相當發達，成為各國主要的收入來源。王先生打算到當地旅遊，其目的地的氣候如圖(二)所示。請問：他所要前往的旅遊地點最可能為下列何者？  
(A)菲律賓 (B)帛琉 (C)紐西蘭 (D)夏威夷。
- 澳洲海洋科學院年度報告指出，澳洲大堡礁區域三分之二的珊瑚礁覆蓋面積創36年來新高，顯示復育有成。澳洲之所以能孕育世界最大的珊瑚礁群，是因為其地理優勢適合珊瑚礁生長，下列關於生長環境的敘述，何者正確？  
(A)陽光充足——一年中永晝時間長 (B)位在淺海地區——海底火山活動劇烈  
(C)穩固的岩石底質——澳洲主體為新褶曲地形 (D)水溫在18°C以上——澳洲北部近熱帶氣候區。



- 2021年7月，瑞士策馬特地區因受到全球氣候暖化的影響，當地氣溫接近30°C，致使當地山脈雪線退至海拔5184公尺的高處，創歷史新高，而當地夏季的正常雪線在海拔3000至3500公尺之間。圖(三)為地表上某山地的積雪覆蓋狀況。請問：在正常情況下，圖中山頂積雪所覆蓋的面積將出現何種變化？

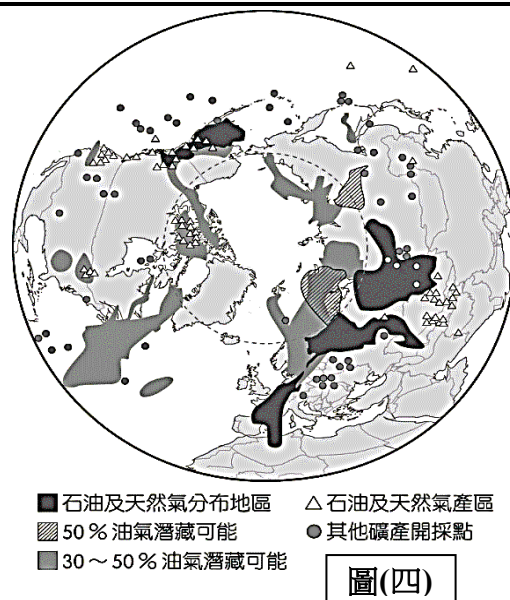


- 積雪範圍維持在乙 (B)積雪範圍由乙變成丙  
(C)積雪範圍由乙變成甲 (D)積雪範圍由乙變成丁。



### 題組 9-11

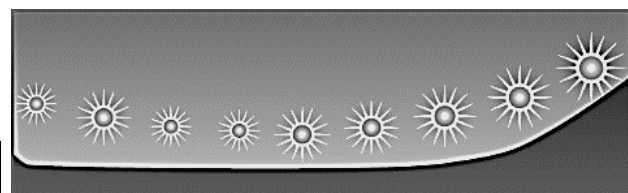
北極理事會在 1996 年成立，成為鄰近北極的國家政府合作論壇，只有領土位於北極圈內的國家，可成為正式成員，目前有加拿大、美國、俄羅斯、冰島、挪威、丹麥、瑞典及芬蘭等 8 個會員國。但隨著北極航道的暢通，這樣的制衡局勢也被打破，繼烏俄戰爭之後，能源貿易市場動盪，遭歐美國家經濟制裁的俄羅斯，亟欲開發北極地區的油礦資源，勢必又會再掀各國競奪。圖(四)為北極地區的油礦資源分布。



9. 關於北極理事會成員國的敘述，下列何者正確？  
 (A)皆為未開發國家 (B)皆位在熱帶氣候區  
 (C)成員國較為歐洲 (D)與美墨加協定成員國相同。
10. 北極航道愈趨暢通，代表下列何種情形愈發嚴重？  
 (A)海水面下降 (B)全球平均溫度上升  
 (C)臭氧層破洞 (D)生物棲息地往南移。
11. 根據圖中內容判斷，掌握北極地區的主導權對俄羅斯存在的下列優勢，何者為非？  
 (A)操縱能源市場 (B)掌握軍事要道  
 (C)獲得經濟收入 (D)生活空間擴張。

12. 圖(五)是北極從晚上 8 點到凌晨 4 點某種特殊景象的連續照片，當地何種季節較容易看到此種特殊奇景？  
 (A)春季 (B)夏季 (C)秋季 (D)冬季。

圖(五)

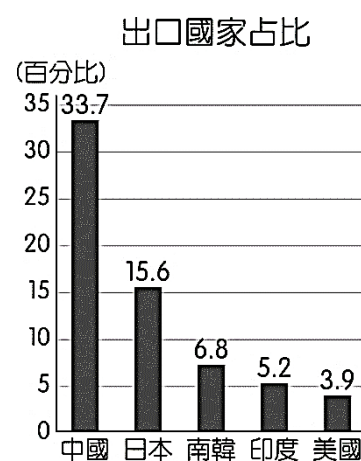


### 題組 13-15

近年中澳關係急遽惡化，因此中方大量進口澳洲小麥特別引發關注。澳洲自 2020 年調查新冠疫情起源的呼籲激怒中方，兩國關係急轉直下。而中方不甘示弱，針對澳洲煤炭、大麥、龍蝦和葡萄酒在內的商品採取了懲罰性的貿易限制措施，期間中澳雙方甚至切斷所有高層接觸。

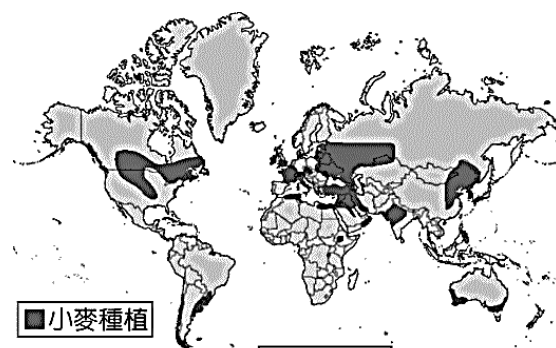
儘管中澳外交關係緊張，但雙方商業往來仍蓬勃發展。據彭博新聞社報導，由中國海關數據的推算，2022 年 1-10 月，澳洲出口小麥占中國小麥進口量的 63%，比 2021 年全年的 28%和 2020 年的 15%都還要高。如以噸數計，今年前 10 個月，中國自澳洲進口的小麥年增逾一倍至 497 萬噸，創下 2004 年以來的最高水平。

受到俄烏戰爭阻礙黑海糧倉出口，加上小麥產區氣候惡劣，導致全球小麥供應受到影響，而澳洲小麥成為搶手貨。



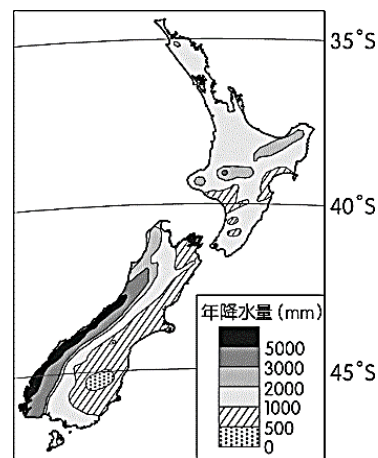
圖(六)

13. 根據上文，可知 2022 年澳洲小麥對中國呈現何種貿易狀態？  
 (A)出超 (B)入超 (C)逆差 (D)進口大於出口。
14. 圖(六)為近年澳洲的主要出口貿易對象，與下列哪一個組織成員國最相近？  
 (A)東南亞國家協會 (B)美墨加協定  
 (C)藍色太平洋伙伴 (D)亞太經濟合作會議。
15. 圖(七)為全球的小麥產地分布圖，由圖中內容判斷，上文中提及的氣候問題最可能為下列何者？  
 (A)光照不足 (B)乾旱炎熱 (C)連日降雪 (D)龍捲風頻發。



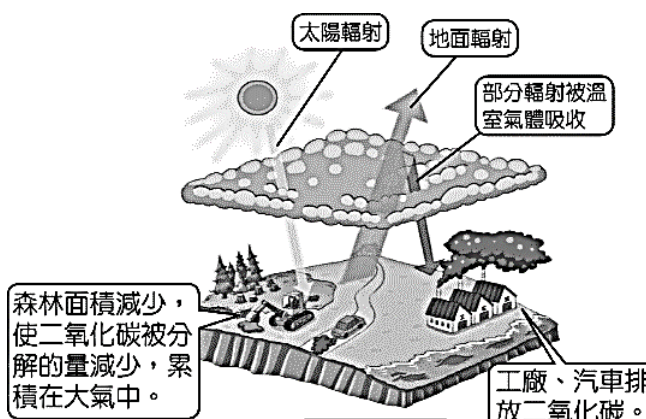
圖(七)

16. 請根據圖(八)中紐西蘭的降水量分布圖判斷，影響紐西蘭降水量分布的原因為下列何者？  
 (A)暖流經過 (B)緯度較低  
 (C)地勢較高 (D)西風吹拂。



圖(八)

17. 隨著全球人口數增加及經濟快速發展，人類對地球資源的耗用以及對自然環境的破壞日益嚴重，環境保育已成為當前最迫切的全球議題。根據圖(九)的內容推測，最有可能是全球何種環境議題的示意圖？  
 (A)全球暖化 (B)水土流失  
 (C)板塊擠壓 (D)生態系統失衡。



圖(九)



【歷史部分第 18-34 題】

18. 右圖是我國在「拉丁美洲及加勒比海地區」7 個邦交國之一：瓜地馬拉。小劉說出他對瓜地馬拉的基本認識，請問哪些是正確的？



- 甲：該國原住民曾經在西元 3~13 世紀之間建立文明古國  
乙：16 世紀時，該地曾遭西班牙人入侵統治  
丙：馬丘比丘遺址是當地知名的文明證據  
丁：現今該國最主要經濟作物咖啡也是曾遭殖民統治的歷史證據  
(A)甲乙丙 (B)乙丙丁 (C)甲丙丁 (D)甲乙丁。

19. 伽利略生於 1564 年的義大利，他是一位偉大的物理學家、也是天文學家，他求知的精神與行動使他成為科學革命時代的代表人物，但他的晚景淒涼，曾因為出版科學書籍而遭宗教裁判所起訴，被判處終身監禁。如果有時光機能夠穿越時空，請問下列哪一位思想家最有可能為伽利略辯護？ (A)亞當斯密 (B)盧梭 (C)孟德斯鳩 (D)伏爾泰。

20. 小吳在阿公蒐藏的骨董裡發現了右圖這枚硬幣，阿公向小吳娓娓道來這枚硬幣背後的故事，請問阿公哪個部分記錯了？ (A)發行硬幣的是一家龐大的跨國公司 (B)該公司曾在臺灣經營轉口貿易 (C)該公司曾在印尼大量種植經濟作物 (D)該公司獲准在印度種植棉花。



21. 在澳洲，每年的 1 月 26 日是澳大利亞日(Australia Day)，也就是澳洲的國慶日。某國艦隊於 1788 年 1 月 26 日抵達雪梨灣，當天被視為澳洲殖民地的誕生日。然而也有越來越多不同意見的出現，對澳洲原住民而言，1 月 26 日不是國慶，反而是苦難的開始。殖民者佔領土地、開發資源，澳洲原住民從土地的主人變成被奴役的對象，原有的政治、社會組織隨之瓦解。請問下列敘述何者正確？ (A)「澳大利亞日」象徵西班牙開始統治澳洲 (B)某國艦隊於 1788 年前往澳洲的目標主要是為了流放囚犯 (C)澳洲原住民因奴隸貿易的盛行而導致人口大量減少 (D)將 1 月 26 日訂為國慶日受到越來越多印第安人的反對。

22. 歷史的發展有其前因後果，下列關於歐洲近代歷史發展何者正確？ (A)宗教改革引發文藝復興時代的來臨 (B)科學革命的風潮帶出啟蒙運動 (C)啟蒙運動的精神影響了工業革命 (D)工業革命的發展帶動了科學革命。

23. 工業革命帶動了人類生產技術與生產模式的改變，請問根據右圖所示，工業革命的發源地在何處？ (A)甲 (B)乙 (C)丙 (D)丁。




24. 瓦特的新型蒸汽機比改良前的蒸汽機效率增加了 5 倍，穩定且有效率的蒸汽動力為世界帶來了巨大的變革—工業革命，請問工業革命為後世帶來的影響何者不正確？ (A)新出現的工廠制度為城鎮帶來就業機會，形成都市化現象 (B)資本家為了賺取更多利潤，不顧工人福祉，形成勞資對立、童工問題等 (C)當時產生各種社會主義學說，其中馬克思主張要以改革、立法到革命的進程來解決社會問題 (D)進入工業革命的歐洲各國為了尋求更多的原料與市場，積極爭奪海外殖民地，彼此競爭。

25. 歐洲波蘭的弗龍堡大教堂於 2010 年為這位科學革命的天才設立墓碑，當時他提出的學說被天主教教會視為異端，但卻是現代天文學的起點，墓碑上的行星運行雕塑說明了他的成就。請問：關於這位偉大的科學天才，哪一項敘述不正確？ (A)這應該是哥白尼的墓碑 (B)他提出的「地心說」挑戰了教會傳統的宇宙觀 (C)他剛提出學說的年代正處於宗教改革時期 (D)他觀察天象多年所得出的理論學說後來被伽利略證實。

26. 民國 4 年，陳獨秀在《青年雜誌》創刊號中撰寫〈敬告青年〉一文，內容提到「科學者何？吾人對於事物之概念，綜合客觀之現象，訴之主觀之理性而不矛盾之謂也。」換句話說，陳獨秀認為的「科學」就是「我們面對事物，『觀察、綜合客觀的現象，並憑著主觀的理性描述、解釋它而不產生矛盾』。」請問：陳獨秀描述的「科學」呈現下列哪位學者的論點？ (A)培根 (B)牛頓 (C)洛克 (D)笛卡兒。

27. 老師在課堂上介紹著名古蹟：「這座建築建於 1632 年至 1653 年，見證了國王沙賈汗對皇后慕塔芝·瑪哈美麗動人的愛情。皇后在生第 14 個孩子時，不幸感染產褥熱而死，國王承諾為她建造一座全世界最美麗的陵墓，且終身不再娶。」小蔡若針對此古蹟查閱相關資料，請問下列何者為其結果？ (A)興建時當地已由英國東印度公司所統治 (B)沙賈汗為蒙古帝國的君主 (C)沙賈汗在位時帝國走向衰亡，而後淪為法國的殖民地 (D)建築風格融合波斯、印度與伊斯蘭教色彩。





28. 他想要全面總結科學、藝術和技術成果，希望透過這一本書整理並推廣知識，他邀請當時不少著名的思想家來參與書本的編寫工作。這部書主題明確，並勇於攻擊政治專制與宗教迷信，因而受到政府的阻撓，但他不畏強權，擔負主編的權責，親自撰寫 1000 多條的條目或文章。經過 20 多年（1745-1772 年）的努力，共 28 卷的巨作終於完成。請問：上文是描述何人的事蹟？ (A) 盧梭 (B) 孟德斯鳩 (C) 狄德羅 (D) 伏爾泰。

### 題組 29-30

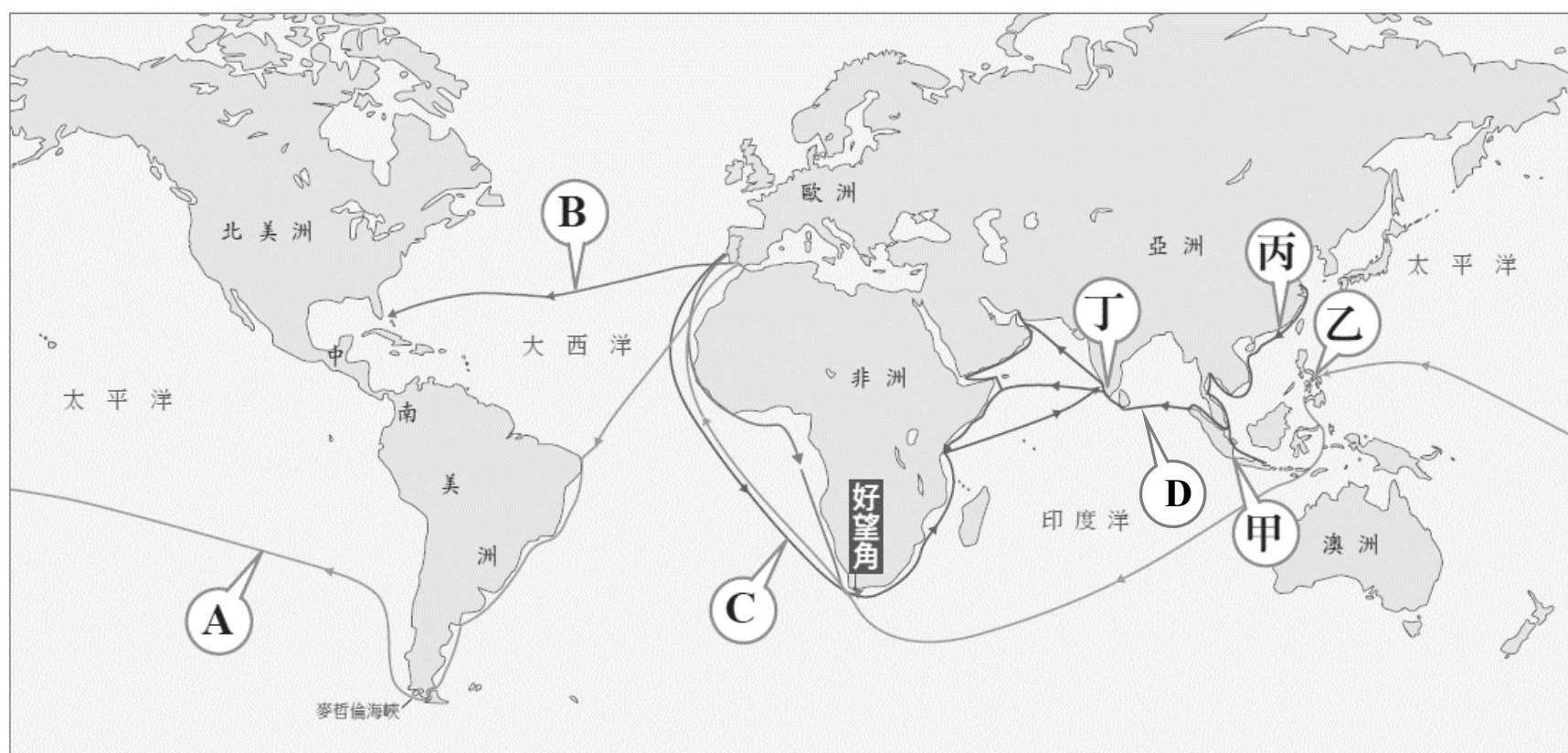
下面文章節錄自美國《獨立宣言》：

……我們認為下述真理是不言而喻的：人人生而平等，(甲)造物主賦予他們若干不可讓與的權利，其中包括生存權、自由權和追求幸福的權利。為了保障這些權利，人類才在他們中間建立政府，而(乙)政府的正當權力，則是經被治者同意所授予的。任何形式的政府一旦對這些目標的實現起破壞作用時，人民便有權予以更換或廢除，以建立一個新的政府。而政府的正當權力，則是經被治者同意所授予的。任何形式的政府一旦對這些目標的實現起破壞作用時，人民便有權予以更換或廢除，以建立一個新的政府。……

29. 從甲段落可以看出《獨立宣言》所認定的真理是來自哪位啟蒙運動思想家的論述？ (A) 洛克 (B) 伏爾泰 (C) 孟德斯鳩 (D) 盧梭。
30. 從乙段落當中對於政府權力的描述，應該是引用自哪本著作的精神？ (A) 《法意》 (B) 《百科全書》 (C) 《民約論》 (D) 《國富論》。

### 題組 31-34

下圖是大航海時代航線圖 (A~D) 與重要貿易據點 (甲~丁)：



31. 關於「大航海時代」的背景因素，請問下列哪個說法有誤？ (A) 中世紀後期歐洲人對亞洲香料、絲綢的需求日增 (B) 歐亞陸路貿易遭義大利與塞爾柱土耳其人控制 (C) 航海技術的進步、羅盤的使用有助於歐洲人的海外探險 (D) 王室貴族願意出資贊助探險船隊。
32. 最早開啟通往亞洲新航路的某國家，其取得絲綢、瓷器等產品的最主要貿易據點在何處？ (A) 甲地 (B) 乙地 (C) 丙地 (D) 丁地。
33. 「哥倫布交換」(Columbian Exchange) 指的是東半球與西半球之間，生物、農作物、人種、文化、傳染病，甚至思想觀念的突發性交流，是人類歷史上跨種族、跨地域的重要事件，請問這場「交換」最早是因為哪一條航線引起的？ (A) A 航線 (B) B 航線 (C) C 航線 (D) D 航線。
34. 關於「大航海時代」所產生的後續影響，請問下列哪個說法正確？ (A) 傳染病隨著航海冒險而四處傳播，造成美洲、澳洲等地人口銳減 (B) 美洲作物番薯、馬鈴薯、小麥成功解決了歐、亞、非的糧食問題 (C) 大量的非洲黑人被運到亞洲販賣為奴、協助開發 (D) 歐洲歷史發展重心逐漸由地中海轉移到太平洋。



【公民部分第 35-50 題】

35. 四個好友聚會聊天，各自聊著近況，請問：下列何人正處於「失業」狀態？  
 (A)麗莎：因工廠去年已遷移東南亞但自己不想去那麼遠，正在投履歷  
 (B)智秀：下定決心向公司辭職專心在家帶小孩、整理家務  
 (C)賢貞：工作 40 多年日前已退休閒賦在家、含飴弄孫  
 (D)賢雅：大學畢業後沒去外面找工作一直在家做直播網拍。
36. 交通部觀光局邀請日本知名藝人為臺灣拍攝觀光宣傳影片，以吸引日本人來臺旅遊。同時，在宣傳活動期間，因匯率波動促成當時日本人來臺旅遊人次呈現大幅增加。上述觀光局作法所希望影響的消費行為因素，與該段期間匯率變化的情況，最可能為下列何項組合？  
 (A)預期心理、新臺幣相對日幣升值 (B)個人偏好、新臺幣相對日幣升值  
 (C)預期心理、新臺幣相對日幣貶值 (D)個人偏好、新臺幣相對日幣貶值。
37. 住在美國的麗君經常出國旅遊，她蒐集了 4 個國家貨幣兌換美金的匯率變化，如附表所示。請問：若現在以同樣數量的美金去兌換這 4 個國家的貨幣，哪 2 個國家所換到的貨幣將比去年多？ (A)甲國、乙國 (B)甲國、丙國  
 (C)乙國、丙國 (D)乙國、丁國。
- | 年度      | 去年    | 今年    |
|---------|-------|-------|
| 甲國貨幣：美金 | 242：1 | 262：1 |
| 乙國貨幣：美金 | 30：1  | 29：1  |
| 丙國貨幣：美金 | 9：1   | 10：1  |
| 丁國貨幣：美金 | 130：1 | 99：1  |
38. 美國某名商人買了新車後想詢問繳納稅金的細節，不料，遭遇公家單位踢皮球，連打數通電話皆無人受理，一怒之下將要繳納的 3000 美金稅款換成 30 萬枚的 1 美分硬幣，並親自雇用了 11 個人將這筆稅款裝運到當地的監理站，重達 725 公斤的硬幣讓監理人員足足花了 7 個小時才點清。請問：該名商人使用硬幣繳交稅金的主要原因為何？  
 (A)硬幣可以儲藏 (B)硬幣不易變質 (C)硬幣本身具有一定價值 (D)政府以法令強制規定其具有價值
39. 為了避免到大買場購物而出現群聚，業者紛紛將自家商品的樣式照片搭配價格，放在線上購物的平臺上，讓民眾挑選。民眾只要上網搜尋就可得知所欲購買商品的價格，然後考慮要不要購買。請問：上述畫線顯示貨幣的何種功能？  
 (A)價值衡量 (B)價值儲存 (C)債務清償 (D)交易媒介。
40. 同學們正在閱讀以下新聞時事，下列哪位同學的解讀正確？
- 臺灣女性勞動參與率在 30 歲之前近 9 成，但 40~44 歲下降到 77.4%，50~54 歲隨年齡上升而下滑。學者分析，我國的女性勞動參與率從 30 歲以後持續下降且無法回升，與生育、照顧家人有密切的關係，例如平均生育年齡為 31 歲、勞工 50 歲左右可能開始面臨家中長輩需要照顧等需求而離開職場。
- (A)傑元：女性 50 歲之後，多數因追求實現自我而離職  
 (B)志鴻：女性 30 歲以後，多數喪失工作能力  
 (C)靜靜：女性 50 歲之後，只從事非市場勞動  
 (D)中翰：女性 30 歲之前，多數從事有酬勞動。
41. 陳先生：「上個月我刷卡買了一件牛仔褲，這個月信用卡帳單要繳 1000 元。」  
 陳太太：「抽屜裡有 1000 元，你拿去便利商店繳，順便幫我買一瓶洗碗精。」  
 陳先生：「那我從抽屜多拿 200 元去買洗碗精囉！」  
 根據對話，請判斷下列敘述何者正確？  
 (A)「抽屜的 1000 元」發揮了貨幣的「價值衡量」功能  
 (B)「付信用卡帳單 1000 元」發揮貨幣的「債務清償」功能  
 (C)「信用卡」在交易時是普遍被雙方接受的一種法定貨幣  
 (D)「買洗碗精的 200 元」發揮貨幣的「價值儲存」功能。
42. 附表中四位老闆互相分享自己聘僱員工的標準，哪一位老闆的回答最符合「勞動權益」的保障原則？
- | 行業別   | 回答                |
|-------|-------------------|
| 飾品店老闆 | 我一律僱用正妹，這樣比較吸引客人。 |
| 超商老闆  | 我只僱用男生，因為搬貨需要力氣。  |
| 速食店老闆 | 我只在意工作能力，其他的沒差。   |
| 家具行老闆 | 我不錄取中年人，年紀太大了。    |
- (A)飾品店老闆 (B)超商老闆 (C)速食店老闆 (D)家具行老闆。

43. 同學於下課時間討論有酬勞動與無酬勞動的相關內容。請問：哪位同學的觀念正確？

(A) 有酬勞動比無酬勞動更有價值。



(B) 無酬勞動可以促進經濟發展。



(C) 兩者對社會都有重要的貢獻。



(D) 無酬勞動可以獲得勞動所得。



44. 繼 (甲) 三倍券後，政府又推出 (乙) 五倍券，一樣分成紙本券和數位券，紙本面額有 3 張 1000 元、2 張 500 元、5 張 200 元，數位券則是以 (丙) 信用卡、(丁) 電子票證 (悠遊卡、一卡通) (戊) 行動支付擇一綁定。民眾須在 2022 年 4 月 30 日前使用完畢，而商家拿到五倍券後，依規定到銀行換取 (己) 現金。請問：上述何者屬於法定貨幣？

(A) 己 (B) 丙、丁、戊 (C) 甲、乙、己 (D) 甲、乙、丙、丁、戊、己。

45. 龍龍正在閱讀一份新聞時事，請問文中 [甲] 應為下列哪一部法律？

〈員工遲到 10 分鐘扣 100 元，合理嗎？〉

依照 [甲] 規定：「工資應全額直接給付勞工。」、「雇主不得預扣勞工工資作為違約金或賠償費用。」老闆不可以因為員工遲到早退就扣薪水，但老闆可以針對員工遲到早退「未提供勞務」的時段「不計薪」，但不能「扣薪」。假設員工月薪是 3 萬元，日薪是 1 千元，除以每日 8 小時工時，時薪為 125 元，若員工遲到 1 小時，老闆只能不付 1 小時時薪。

(A) 《勞工職業災害保險及保護法》 (B) 《性別工作平等法》  
(C) 《勞動基準法》 (D) 《就業保險法》。

#### 題組 46-47

我國在 1946 至 1949 年的舊台幣發行量暴增 175 倍，光是這段期間的每年平均物價漲幅達 922%。光是雞蛋就漲價到每顆 7,200 元。當時有民眾甚至放棄使用貨幣，改把家裡養的雞、鴨，拿去市場上換米、柴及豬肉。於是，我國政府 1949 年 6 月 15 日透過主管機關發行新台幣，以黃金當作新台幣發行準備金，規定 4 萬元舊台幣換 1 元新台幣，並限定發行額不得超過 5 億元。

46. 文中劃雙底線處的職權，在現今我國應為以下哪個主管機關的任務？又下列何者不是文中提及的主管機關所發揮的功能？

(A) 台灣銀行、民眾存放款業務 (B) 消費者保護處、制定相關的貨幣政策  
(C) 公平交易委員會、制定相關的貨幣政策 (D) 中央銀行、民眾存放款業務。

47. 根據文章內容判斷，我國在 1946 至 1949 年將可能出現以下何種現象？

(A) 物價上漲，舊台幣貨幣購買力上升 (B) 舊台幣已不再具有商品貨幣的性質  
(C) 舊台幣的價值持續下降 (D) 舊台幣在當時不具備貨幣的「普遍接受性」。

#### 題組 48-50

「勞雇雙方協商減少工時」(俗稱無薪假)是指當事業單位受景氣因素影響，為避免資遣員工，造成更多社會問題，雇主與勞工先行協商減少工時。但事業單位實施無薪假並沒有強制通報機制，倘若企業實施無薪假卻未向地方勞政主管機關通報，並沒有違法，導致部分被放無薪假的勞工淪於黑數。勞動部幕僚表示，減班休息法制化目前正在研議中，規畫將修正《就業服務法》且加上罰則，細節尚待評估。

根據上述內容，請問：

48. 雇主做出減班休息的決策與下列何者無關？

(A) 對職場的安全衛生有影響 (B) 會降低受僱者的工作時數  
(C) 可以降低雇主的成本 (D) 會影響受僱者的工作收入。

49. 根據上文判斷，下列敘述何者正確？

(A) 事業單位未通報實施減班休息將會遭罰款 (B) 雇主可單方面決定讓受僱者減少工作時數  
(C) 政府將修改《勞動基準法》內容以改善問題 (D) 政府目前統計的減班休息人數可能有誤。

50. 文末提及減班休息法制化目前正在研議中。請問：政府在勞雇雙方協商的過程中，應扮演怎樣適當的角色？

(A) 政府應保障雇主利益 (B) 政府應公平保障各方利益  
(C) 政府應保障受僱者權益 (D) 政府應保障自身利益。

本試題卷結束