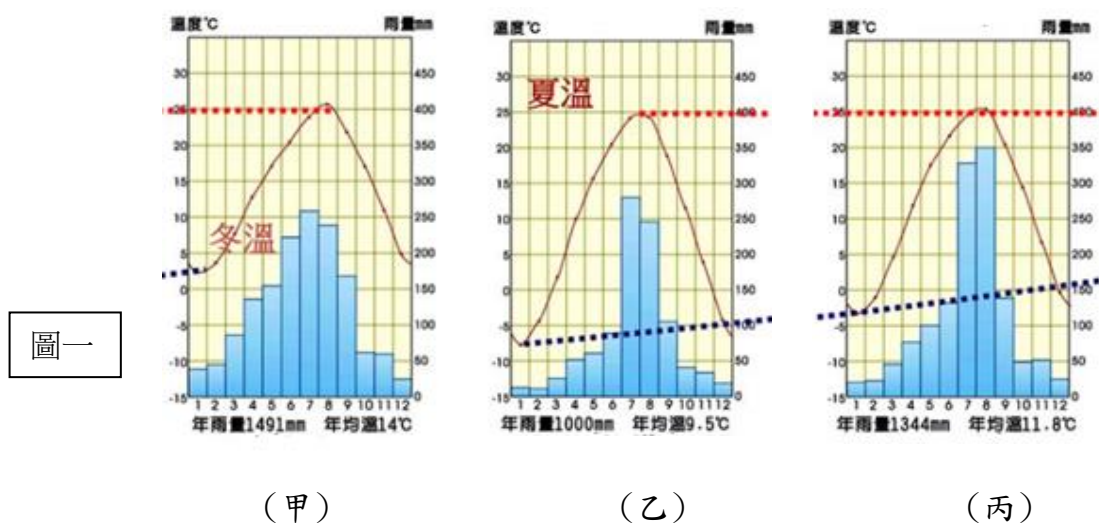


新北市立鶯江國民中學 112 學年度 第 1 學期 8 年級 社會科 第 3 次段考 題目卷

命題教師： 日期： 1 月 17 日 第 四 節 班級： 座號： 姓名：

一、地理部份：1~17 題

1. 疫情三年讓國人被迫在台灣「禁足」，使得酷愛出國旅遊的台灣旅客在疫後湧現出國旅遊熱潮。蜘蛛人也計畫於明年寒假前往日本旅遊，於是開始上網搜尋許多相關資料。以下是蜘蛛人列出的旅遊清單，請問何者有錯誤？
(A)購買日本國產電器國際牌 PANASONIC 吹風機 (B)品嚐當地國民美食歐姆蛋包飯 (C)參觀宮崎駿動漫美術館
(D)到釜山去吃海鮮大餐。
2. 圖一為朝鮮半島三大都市的氣候圖。下列關於三地氣候圖的解釋何者錯誤？ (A)三地夏天雨量豐沛，主要是受到夏季西南季風的影響 (B)乙圖年溫差較大，代表緯度較高 (C)甲圖年均溫較高，與緯度有關 (D)三地乾溼季分明，皆為季風氣候區。



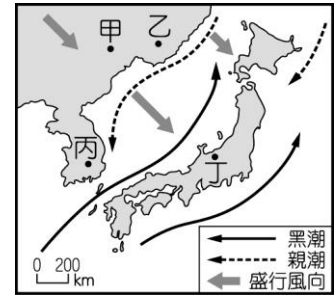
3. 承上題，若要將以上三張圖(甲、乙、丙)由低緯度排至高緯度，其排列順序應該為何？
(A)甲→乙→丙 (B)甲→丙→乙 (C)乙→丙→甲 (D)丙→乙→甲。
4. 作為一個日本人，魚對於日本人來說應該是伴隨著他一生的一種食物。日本自古即非常重視漁業活動，漁獲量、魚產消費量位居世界前茅。請問：日本人的飲食文化，發展出許多以「魚」為食材的料理，主要是與日本哪項環境條件有關？(甲)海岸線曲折 (乙)耕地狹小 (丙)有寒、暖流交會 (丁)多火山、地震 (戊)氣候溫暖、溼潤。
(A)甲、乙、丙 (B)甲、丙、丁 (C)乙、丙、戊 (D)丙、丁、戊。
5. 日本是一個多地震多火山的國家，並且是世界上地震頻率最高的國家。日本每年地震達到1500次以上，平均每天發生四次之多。請問日本多火山、地震與下列哪個現象較無關？ (A)位於板塊擠壓帶上 (B)地形山多平原少
(C)夏、秋多颱風 (D)發展出泡湯的溫泉文化。
6. 日本政府一再強調「百歲人生時代」即將來臨，並積極推動勞動力市場改革，讓銀髮族繼續留在勞動隊伍。2013年，日本《老年人就業穩定法》正式實施，規定企業有義務讓員工繼續工作至 65 歲。這個法令去年再修訂，將退休年齡延長至 70 歲。面對人口結構老化的社會，以下何者不是日本政府可能採取的因應措施？(甲)開放全面二胎，鼓勵生育並給予育兒津貼 (乙)鼓勵企業到海外投資，以解決勞工短缺的問題 (丙)推出無人商店，推行自動化機器服務系統 (丁)創新科技產業，如醫療發展遠距看診與外骨骼輔具 (A)甲 (B)乙 (C)丙 (D)丁。
7. 鋼鐵人很想看櫻花盛開，他已經錯過了本州開花的時間了，接下來他比較有可能在哪裡看到櫻花？ (A)琉球群島 (B)四國 (C)九州 (D)北海道。
8. 北韓長期存在糧食生產不足的問題，因此嚴重依賴進口，即便如此，在該國2600萬的人口中，仍有約40％的人營養不良。2020年1月27日，北韓政府因應COVID-19實施嚴格的邊境封鎖，並且中斷向其北方的陸上鄰國進口糧食，以及生產作物的肥料，使得糧食供應短缺更嚴重。北韓經常遇到嚴重的飢荒問題，這和下列哪個因素的關係較小？(A)耕地較少 (B)生長季短 (C)緯度較高 (D)火山活動與地震頻繁。
9. 承上題，文中『北方的陸上鄰國』有可能是指哪個國家？(A)俄羅斯 (B)日本 (C)中國 (D)南韓。

10. 1945年之前的幾個世紀，朝鮮半島一直處於統一狀態。第二次世界大戰之後，朝鮮半島大致以38°N為界線，分為北韓與南韓。同樣位在朝鮮半島的南北韓，儘管語言、傳統文化上大致相似，但發展背景與現狀上卻有不小的差異，下列有關南北韓的相異之處，何者有誤？（A）北韓礦產資源較南韓豐富（B）南韓為民主國家；北韓為共產國家（C）南韓高科技產業發達；北韓重視國防工業（D）北韓農業條件比南韓佳，故北韓從事農業的人口比例較南韓高。

11. 圖二是東北亞某季節的盛行風向示意圖。下列何地在這個季節的降水量最多？

（A）甲（B）乙（C）丙（D）丁。

圖二



12. 朴研美，今年 23 歲，一個來自北韓的女生。13 歲時與母親橫越結冰的【 】，從北韓逃到中國，逃離的原因只是太餓、太想活下來罷了。逃亡時，她曾被賣給中國人做小妾，曾徒步穿越整片戈壁沙漠，曾在蒙古邊境監禁了一段日子…，重返南韓後，她第一個願望是上大學。朴研美的演講引起全球關注，因為她用直白的英語呼籲世人「那裡的人民正在發生什麼事」。請問從文章中可以判斷出朴研美橫越渡過的是哪一條河川？（A）黑龍江（B）黃河（C）鴨綠江（D）漢江。

13. 承上題，脫北者不顧生命的危險想要逃離北韓，並希望讓世人了解北韓人的處境以及「脫北者」的艱辛。關於北韓的真實現況，以下敘述何者正確？（甲）北韓人在高原上種植茶葉，農業為北韓的主要產業（乙）傳統民居多設有「溫突」，因此人民習慣席地而坐、就地而眠（丙）街上都是充滿共產主義的宣傳海報和領導者的肖像（丁）冬天吹起了東北季風，寒風刺骨讓人受不了。（A）甲乙（B）甲丙（C）乙丙（D）丙丁。

14. 台灣、日本與南韓都屬礦產資源缺乏、人口密度高的地區，也是近百年亞洲地區經濟成長最快速的地區。以下為台灣、日本與南韓三國共同點，請問何者正確？（A）政府均採扶植大型財團的經濟政策（B）人口密集的平原區均為國土西南側（C）皆位於季風氣候區，冬天吹東北季風，夏天吹西南季風（D）國際貿易為台日韓主要的經濟命脈。

15. 圖三是日本四個主要工業帶示意圖，這些工業帶的分布位置和下列何者的關係較大？（甲）缺乏原料

（乙）技術人材多（丙）出口為主（丁）接近礦產區

（戊）富廉價水電

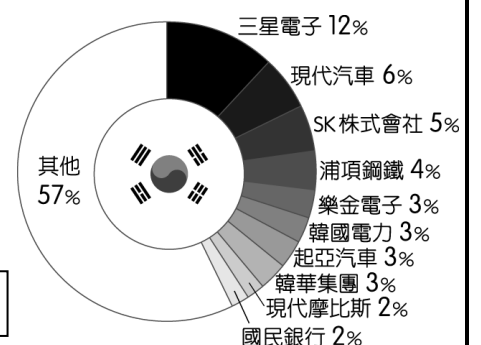
（A）甲乙（B）甲丙（C）乙丁（D）丁戊。

圖三



16. 圖四為 2020 年南韓前十大企業營收占南韓 GDP 的比例圖，請問：由圖四中資料可判斷，這些企業的特色主要為下列何者？（A）多為國營事業（B）汽車產業佔的比例最高（C）主要為高科技產業（D）以國內市場為導向。

圖四



17. 「近年來，半導體產業面臨供過於求危機，記憶體晶片更是淪為重災區，根據韓聯社報導，南韓大廠三星及 SK 海力士第二季晶片業務恐持續虧損，其中三星第二季獲利恐大減 99.3%，南韓政府下修今年 GDP（國內生產毛額）成長可能從先前預測的 1.6% 下調至 1.4%~1.5%。」根據此報導顯示南韓的經濟發展具有何特色？（A）過度依賴國際貿易（B）經濟過度集中大型財閥（C）國內貧富差距持續擴大（D）產品以國內市場為導向。

二、歷史部份：18~34 題

18. 右圖為18世紀末，英國畫家所繪製的英使馬加爾尼謁見乾隆皇帝的情景。請根據歷史發展，判斷下列對此一幅畫的解讀，何者正確？

- (A) 此幅畫為畫家想像，英國從未派遣使者來到中國請求開放通商
- (B) 此幅畫為畫家想像，可以反映出英國人對清朝皇帝的印象不佳
- (C) 此幅畫為真實情景，英國特使順利謁見了皇帝並解決通商問題
- (D) 此幅畫為真實情景，英國當時為鴉片問題派遣特使謁見了皇帝。



19. 查理是鴉片戰爭前到中國貿易的英商，請問下列何者是他最有可能遇到的情況？

- (A) 他與中國商人發生貿易糾紛時，需透過總理衙門解決
- (B) 他向上海城裡的茶商，直接購買大批茶葉回英國販賣
- (C) 他從印度將鴉片走私至中國販賣，賺取了大量的白銀
- (D) 他平時居住在廣州城的租界裡，不需受中國法律約束。

20. 下文為清朝官員林則徐上書給皇帝的部份內容：「吸食者呼朋引伴，以誘人上癮為能，陷溺愈深，愈無忌憚。為了警惕玩心並挽回頹廢的風俗，不得不訂定更嚴格的法律來處罰吸食的人。…如果隨便看待此事，將會使數十年後中原將沒有可以抵禦敵人的士兵，而且沒有可以補充軍餉的銀兩。」請問根據林則徐的這份上書，下列解讀何者正確？

- (A) 這是林則徐上書給光緒皇帝的部份內容
- (B) 林則徐主張對販賣鴉片的英商抽取重稅
- (C) 林則徐認為吸食鴉片會影響到國防安全
- (D) 林則徐的上書後來引發了英法聯合進攻

21. 靜怡在書上看到右圖的照片，書中說明這是清末上海租界所設立的審判機關，由中西共同審理牽涉到外國人的案件，請問下列關於這張照片的說明何者正確？

- (A) 這張照片的拍攝時間最有可能是在乾隆年間
- (B) 上海是當時唯一中西會一起審理案件的地方
- (C) 照片中外國人一起審理案件是合乎天朝體制
- (D) 這張照片反應中國領土與司法主權遭受侵害。



22. 右圖是出自 1905 年《時事畫報》，身著清廷官服的男子，口喊立憲，心懷專制，為此不惜顛倒輿論，試圖隱藏真心。請問下列清廷的哪一項作為，就是此畫最好的例證？

- (A) 守舊派發動政變，戊戌變法改革幾乎全廢止
- (B) 慈禧太后默許義和團燒毀教堂，殺害外國人
- (C) 慈禧太后為挽回民心，下令推動庚子後新政
- (D) 清廷成立責任內閣，但滿族閣員佔了大多數。



23. 老師要同學以自強運動為主題做一份報告，請問下列哪一個同學選的題目「不」恰當？(A) 京師大學堂的沿革 (B) 劉銘傳在台的建設 (C) 中國第一批留美學生的故事 (D) 總理各國事務衙門的設立。

24. 下文是清末的知識份子，對某一個改革運動最終失敗的感慨：「規模太廣，志氣太銳，包攬太多，同志太孤，舉行太大。當此排者、忌者、擠者，盈衢塞巷，而上又無權，安能有成？」請根據清末的歷史發展判斷，下列對這一改革運動的說明何者正確？

- (A) 此一改革運動應該是立憲運動
- (B) 沒有得到皇帝支持是失敗的原因
- (C) 慈禧太后發動政變導致改革失敗
- (D) 此改革運動仍然停留在器物層次

25. 柏林翻閱一本上海老照片集，書中的照片都是拍攝於晚清的上海，請問照片中最「不」可能出現下列哪一種景象？

- (A) 街道上電線桿、煤氣燈矗立，人力車行駛於人群間
- (B) 各國租界區的街道上，清朝的官兵正在四處巡邏著
- (C) 市井小民正翻閱著報刊，附近還有設有電報局、郵局
- (D) 西式餐館、咖啡廳並列，人們穿著西服和洋裝進出。

26. 對於自強運動的評價，李鴻章晚年曾自述：「我辦了一輩子的事，練兵也，海軍也，都是紙糊的老虎，何嘗能實在放手辦理？不過勉強塗飾，虛有其表，不揭破，猶可敷衍一時。」請問下列對上文的解讀何者正確？

- (A) 李鴻章是守舊派官員，認為自強運動毫無成效可言
- (B) 李鴻章是改革派官員，認為自強運動大幅增強中國國力
- (C) 李鴻章是守舊派官員，但後來認同自強運動的改革
- (D) 李鴻章是自強運動的推動者，但認為自強運動成效有限。


【題組一】請閱讀下列資料，並回答問題：

函館古稱為「箱館」，位於日本北海道南部，19 世紀中葉，率領艦隊迫使日本開港通商的將軍，曾經讚賞箱館為「世界最棒的港口」。當時日本政府因不敵外力，最後被迫與之簽訂條約，箱館便成為日本首座貿易港口，之後外國商人往來頻繁，造就富有異國風情的函館。1868 年，宣揚全面西化的日本新政府成立，同一年，一名為抵抗新政府的海軍將領在箱館宣佈獨立，立國號為「蝦夷共和國」，剛成立的新政府頗感威脅，最後決定攻取蝦夷共和國，並將蝦夷地改為「北海道」，設立新的行政區進行統治。

27. 函館異國風情特色的形成，與下列哪一歷史事件有最密切的關係？（A）鎖國政策的實施（B）黑船事件的爆發（C）「蘭學」的傳入（D）日俄戰爭的影響。
28. 日本新政府將蝦夷地改為「北海道」之後，最有可能在當地推行下列哪一政策？（A）明治維新運動（B）大化革新運動（C）鎖國政策（D）庚子後新政。

【題組二】小宇在書中看到右側的圖文，這是清末所留下的一份史料，標題「京城各國暫分界址全圖」，地圖上標示出北京城內外各國暫管地面和衙門的範圍，並且提及還有某一國士兵進據東北地區，請回答下列問題：

29. 這份史料的出現，應該與下列哪一件史事的發展有最密切關係？
- （A）英法聯軍攻下首都北京，皇帝與官員等出逃東北
- （B）義和團仇殺外國人，清朝與各國軍隊一起進行圍剿
- （C）義和團以扶清滅洋為口號，在北京殺害外國公使
- （D）清朝歷次的改革失敗後，各國想要趁機瓜分中國
30. 根據清末歷史發展判斷，請問下列哪一場戰爭，是由於當時進據東北地區的國家所引起？（A）日俄戰爭（B）八國聯軍（C）英法聯軍（D）甲午戰爭。



【題組三】下文是對晚清發行的某一份報刊的介紹，請閱讀後回答下列問題：

該報刊原名《教會公報》，1860 年在上海創刊，主辦人是美國傳教士林樂知，後來於 1874 年改名，改名後報刊性質發生變化，以刊登政治時事、中外關係內容為主，且熱衷於「西學」，在每期扉頁上，都附印一行字：「本刊是為了推廣泰西各國有關的地理、歷史、文明……及一般進步知識的期刊。」

31. 請問關於此份報紙的說明，下列敘述何者「錯誤」？
- （A）該份報刊應該為《萬國公報》（B）主要是介紹教會在中國傳教情形（C）可增進當時人對西方文化的了解（D）有助於人民對公眾文化的關心。
32. 請問下列哪些人可能是《萬國公報》的忠實讀者？甲. 宣揚西方新思想的傳教士 乙. 欲以西學救國的知識份子 丙. 想掙脫婚姻束縛的女性 丁. 想要扶助清朝的義和團團民（A）甲乙丙（B）甲乙丁（C）甲丙丁（D）乙丙丁。

【題組四】下列兩段資料為梁啟超在清末所發表的言論：

資料一：「彼方毀人肢體，潰人血肉，一以人為廢疾，一以人為刑戮，以快其一己之耳目玩好。…我中國豈無人之國乎？然纏足之習不除，則女人二萬萬已去其半也；且不持去其半，減其數而已。人子之生，得父母氣各半，其母既殘其筋骸，痺其血脈，行立操作，無不勉強，日損無幾，所生之子女，自必脆弱多病。今者欲救國，先救種，欲救種，先去其害種者而已。夫害種之事，孰有如纏足乎？」

資料二：「…且中國之積弱，至今日極矣！欲強國本，必儲人才；欲植人才，必開幼學；欲端幼學，必稟母儀；欲正母儀，必由母教。」

33. 從這兩段資料可知，下列何者應為梁啟超所提倡的觀點？ 甲. 為強種救國，女子不應纏足 乙. 主張女子有受教育的權利 丙. 遵從「男主外，女主內」的觀念 丁. 以「父母之命，媒妁之言」進行婚配（A）甲乙（B）甲丙（C）乙丙（D）丙丁。
34. 下列哪一個歷史人物的形象，最符合梁啟超所提倡的觀點？（A）林則徐（B）曾國藩（C）李鴻章（D）秋瑾。

三、公民部份

【題組 35-37】新聞報導：

〔甲〕召開第 20 屆第 2 次定期會，由縣長進行縣府施政總報告，針對各項縣政重點工作向〔甲〕說明。縣府團隊打造南投「觀光首都、宜居城市」，持續推動觀光發展與各項大型觀光活動，並加強各項基層建設與道路交通，不管是國民運動中心還是農產運銷工作，已有初步成果。至於 113 年總預算案，歲出預算約 370 億元，其中償還債務為 32 億元左右，達到收支平衡，整體財政體質健全。 節錄改寫自《青年日報》- 2023 年 10 月 19 日

35. 請問：本文中的〔甲〕最可能是下列哪一地方政府機關？
 (A)南投縣議會 (B)南投縣政府 (C)南投市公所 (D)南投市民代表會
36. 根據本文，可知南投目前推動的施政項目是偏重於下列哪一項地方政府事務？
 (A)安全衛生 (B)教育文化 (C)經濟發展 (D)社會福利
37. 文中提及的 113 年總預算應是由①編列提出，經②審查通過始可動用的經費。請問：①②依序應是下列何者？
 (A)行政院、立法院 (B)南投市公所、南投市民代表會
 (C)南投縣政府、南投縣議會 (D)南投縣政府、南投市民代表會

【題組 38-39】短文閱讀：

行政院長在聽取交通部報告「2030 年客運車輛電動化推動計畫（113 年至 119 年）」後表示，經由 2020 年至 2022 年示範型計畫的推動，已成功扶植國內車廠投入電動公車自主設計開發及生產。而「2030 市區公車全面電動化」為達成「2050 淨零排放」非常重要的一步，除中央政府持續精進車輛技術、產業與補貼制度外，亦請各地方政府視各地情況與需求，協助輔導市區公車業者推動電動大客車，共同打造節能減碳的生活環境，讓民眾享受高品質的公共運輸。
 節錄改寫自《行政院網頁-新聞與公告》- 2023 年 06 月 01 日

38. 根據本文畫線段落，推知該政策能用以說明下列哪一項政治理念？
 (A)地方自治 (B)均權制度 (C)分權制衡 (D)主權在民
39. 關於本文所展現出的政府職權，下列敘述何者正確？
 (A)屬於社會福利的地方自治項目，不受中央的指揮管轄 (B)由單一政府運籌帷幄，節省人力、物力和財力
 (C)中央與地方各自為政，有助提高節能減碳的執行成效 (D)中央統籌規劃與挹注資源，地方政府協力推動

【題組 40-42】小鷺瀏覽中選會的網頁，發現 112 年選罷法修正宣導專區，其中三張內容圖卡如下：



(圖卡一)



(圖卡二)



(圖卡三)

40. 根據圖卡(一)，《公職人員選舉罷免法》第 14 條修法後，中華民國國民，年滿二十歲，有選舉權，有關受監護宣告者無選舉權之規定已經刪除。請問：上述符合下列哪一項投票原則？
 (A)普通 (B)直接 (C)平等 (D)無記名
41. 除了圖卡(二)新增的參選規定，關於 113 年第 16 屆正副總統候選人的法定資格，下列何者錯誤？
 (A)具有中華民國國籍 (B)戶籍設籍於選舉區四個月以上 (C)未受監護宣告 (D)未受褫奪公權
42. 圖卡(三)增加「選舉流程」要遵守的法律規定，請問：下列相關規定何者正確？
 (A)流程：登記參選→ 競選活動→ 開票、計票→ 投票→ 公告結果
 (B)經由政黨提名或自行參選，在法定期間向選務機關辦理登記參選
 (C)投票日當天，忘記帶身分證也無妨，投票通知單即能夠驗明身分
 (D)投票時，須於選票上親自簽名或個人印章圈選，以示負責的態度

【題組 43-44】附圖為我國第 17 案全國性公民投票的主文與投票數據：

公投主文： 您是否同意核四啟封商轉發電？

註：這一項公投案將決定政府是否要規劃核四啟封並放入燃料棒運轉發電，或是維持封存狀態。



重啟核四

同意 3804755

不同意 4262451

43. 關於第 17 案全國性公投，下列相關敘述何者正確？

- (A) 本案公投結果是通過，核四重啟商轉發電 (B) 形成集體決議，展現間接民主的理念
(C) 實踐《憲法》保障人民的基本權利-複決權 (D) 等待一年之後，可重新提出議案討論

44. 有關「公民投票」的資格和規定，下列敘述何者正確？

- (A) 公職人員替人民處理公共事務，落實人民主權精神
(B) 公民投票流程依序：提案→公告→人民連署→投票
(C) 年滿 20 歲的國民，設籍投票區四個月，享有投票權
(D) 年滿 18 歲的國民，若被褫奪公權者，仍享有投票權

【題組 45-47】附圖為新北市行政區劃圖，下轄 29 區：

45. 下列關於「新北市」的敘述，何者正確？

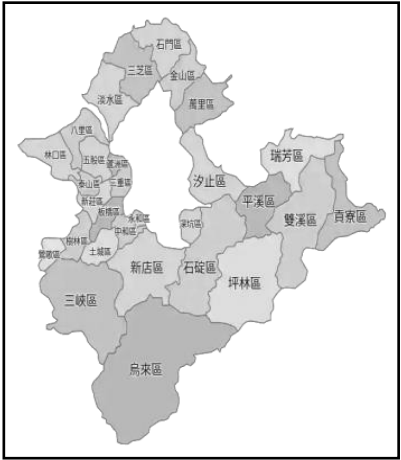
- (A) 與臺南市屬同一層級的地方自治團體 (B) 地方行政機關為新北市議會
(C) 地方民意機關為新北市市民代表會 (D) 區公所為行政院의 派出機關

46. 關於「蘆洲區」與「烏來區」的說明，何者正確？

- (A) 皆享有地方自治團體的地位 (B) 蘆洲區區民代表由新北市市長依法派任
(C) 年滿 26 歲可參選蘆洲區區長 (D) 烏來區區長則是由烏來區居民投票選出

47. 根據我國地方自治內涵，下列何者屬於「新北市政府」的工作職權？

- (A) 執行中央政府委辦事項 (B) 審查公共建設預算
(C) 質詢新北市議會的議員 (D) 議決地方自治條例



【題組 48-50】新聞快訊：「中央選舉委員會公布，經中選會委員會議討論通過第 16 任總統、副總統與第 11 屆立法委員選舉投票日期及工作進程序表，定於 113 年 1 月 13 日（星期六）同日舉行投票。」

48. 關於「總統、副總統」與「立法委員」兩項公職選舉的比較，下列何者正確？

項目	總統、副總統	立法委員
(A) 公職種類	地方行政首長	中央民意代表
(B) 任期限制	四年，連任一次	四年，不限制
(C) 參選年齡	年滿 40 歲	年滿 30 歲
(D) 依據法律	公職人員選舉罷免法	總統副總統選舉罷免法


49. 不斷有人呼籲當日於投票所要注意如右宣導事項(如右二則附圖)，請問：關於宣導圖片所示的措施，下列相關敘述何者正確？

- (A) 右列措施是為了符合選舉的直接原則 (B) 祕密投票原則，落實主權在民的精神
(C) 保障不受威脅利誘，自由表達支持誰 (D) 亮票是展現民主風度，並非違法行為



50. 上述兩項公職選舉於 1 月 13 日合併舉行，下列相關敘述何者正確？

- (A) 定期舉行上述公職選舉，落實《憲法》保障人民的受益權
(B) 我國總統、副總統選舉制度別有特色，採用單一選區兩票制
(C) 政黨票得票比率 3% 以上的政黨，才能分配全國不分區立委
(D) 投票當日，原則上每位符合資格的選民，應領取三張選票



不可以讓別人看到我投給誰。

考題結束！謝謝你耐心作答，若有時間，請再檢查一次。