

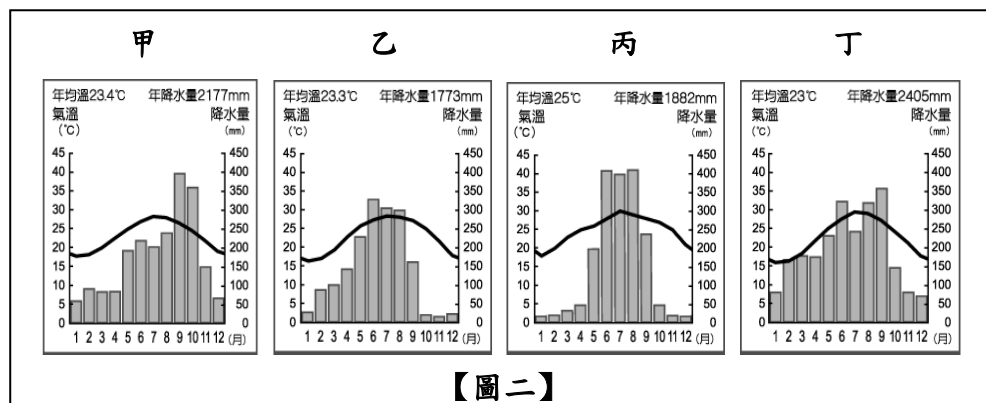
※請將答案劃記在答案卡上，以讀卡成績為主※

選擇題：共50題，每題2分，總分100分

地理部分



【圖一】

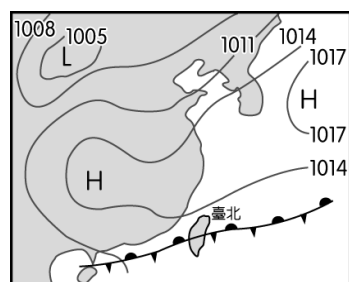


【圖二】


【表一】

月分	1	2	3	4	5	6	7	8	9	10	11	12
氣溫(°C)	18	20	23	25	26	28	30	29	28	27	25	21
降水量(mm)	20	23	35	50	200	410	400	412	240	50	22	20

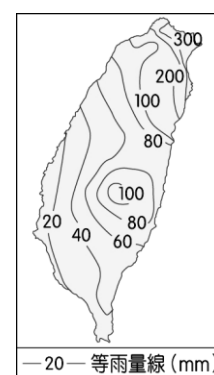
- 1、即將過年，各地紛紛舉辦慶祝晚會，除了勁歌熱舞外，當然少不了五彩繽紛的高空煙火秀。若打算在「微風運河」設立晚會會場燃放煙火，請依【圖一】中位置判斷，當會場燃放煙火時，哪裡最容易被當時的盛行風影響，煙霧瀰漫而影響觀賞煙火的視野？
(A)鷺江國中 (B)自行車租賃站 (C)賞燕平台 (D)微風停車場
- 2、【圖二】為四張臺灣的氣候圖。請問【表一】的氣候資料，符合【圖二】中的哪張氣候圖？
(A)甲 (B)乙 (C)丙 (D)丁
- 3、【圖二】的甲~丁四張氣候圖分別代表臺北、臺中、高雄、花蓮的氣候狀況。請分析氣候特徵後判斷，下列敘述何者正確？
(A)甲氣候圖乾溼季最為分明，可能最需要建設儲水設施 (B)四個城市的主要降水集中在夏季
(C)丙圖的一月氣溫較高於丁圖，主要是因為地勢較低 (D)丁圖冬季降水較多主要受西南季風影響



【圖三】

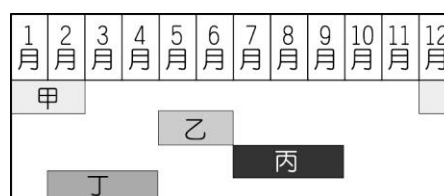


【圖四】

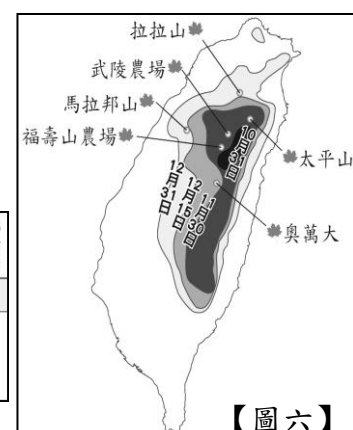


【圖五】

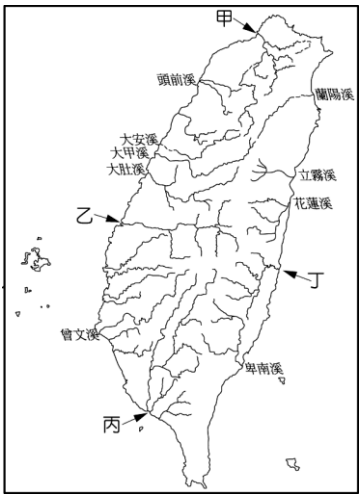
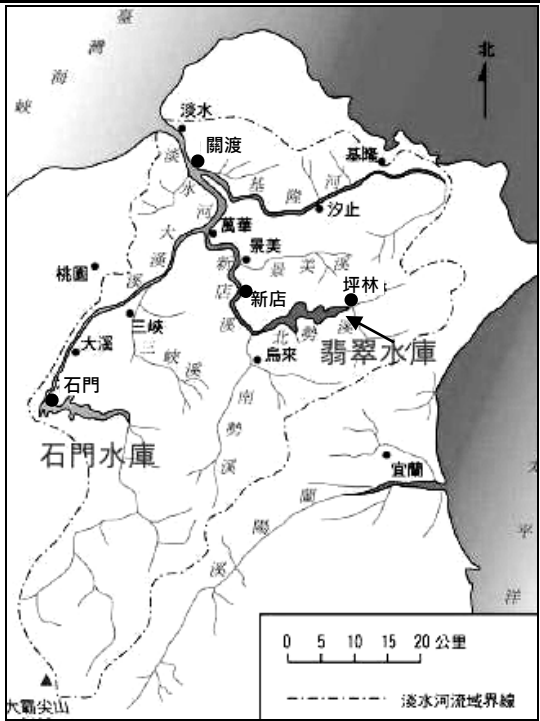
- 4、【圖三】為台灣地面天氣圖，請問下列對台灣此時的天氣說明何者較為適當？
(A)午後容易下起大雨，請記得攜帶雨具 (B)颱風即將登陸，請民眾做好防颱準備
(C)本週依然陰雨綿綿，請記得攜帶雨具 (D)大陸冷氣團南下，寒流來襲請注意保暖
- 5、【圖五】為臺灣某月份的月平均等雨量線圖，根據圖中降水量的分布狀況判斷，該月份北部地區較多雨，主要為【圖四】中的何種降水類型所致？ (A)甲 (B)乙 (C)丙 (D)丁
- 6、【圖六】為臺灣各地楓葉轉紅日期預測圖，是根據氣溫變化推算繪製而成。圖中各地日期的差異最主要是和下列何種因素有關？ (A)季風風向 (B)地勢高度 (C)緯度高低 (D)風力大小
- 7、高、低氣壓對於氣候分布的影響相當明顯。請問：下列有關氣壓特色的敘述，何者錯誤？ (A)海拔高度愈高時，氣壓愈低 (B)氣溫溫度愈高時，氣壓愈低
(C)空氣由高氣壓(H)往低氣壓(L)水平流動 (D)高氣壓氣流上升容易成雲致雨
- 8、【圖七】為颱風、梅雨、寒害、乾旱在臺灣西南部主要發生的月分，下列說明何者正確？
(A)甲發生時，北部若降水不足且乾季長易影響用水
(B)乙發生時，可能會使農作物或養殖魚類凍死
(C)丁發生時，強烈對流常造成午後下大雨成災
(D)乙和丙可能會造成災害，卻是台灣水資源主要來源



【圖七】



【圖六】



【表二】

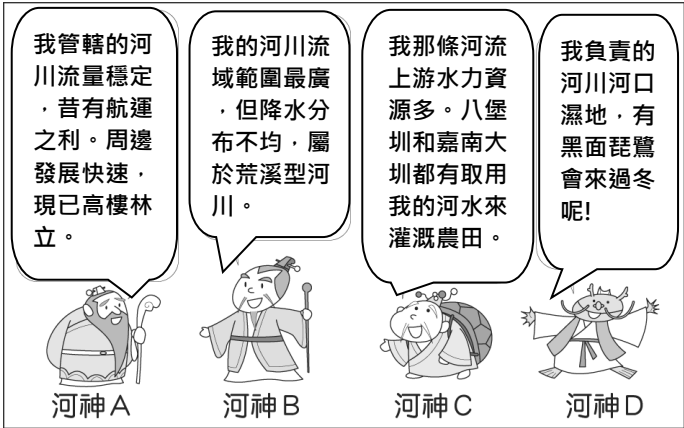
地區	年降水量 (毫米)	各時期降水量占 全年降水量的比例 (%)			
		1-4 月	5-6 月	7-9 月	10-12 月
ㄅ	1885	8	32	56	4
ㄆ	1773	20	31	44	5
ㄇ	2408	25	23	39	13
ㄘ	2177	15	19	39	27

【圖八】

【圖九】

【圖十】

- 9、臺灣各地受到自然環境因素影響，水資源分布各地不同。請由【圖八】中的資料判斷，當地可用水量和下列何項水資源的循環過程關係最大？ (A)降水 (B)凝結 (C)逕流 (D)蒸發
- 10、【圖九】為淡水河流域，若河川某處被傾倒廢棄物，導致翡翠水庫受到汙染。你認為以下何處是最可能被傾倒的地點？ (A)坪林 (B)石門 (C)新店 (D)關渡
- 11、依【圖九】判斷，淡水河和蘭陽溪的分水嶺，應該是下列哪一座山脈？
(A)中央山脈 (B)雪山山脈 (C)海岸山脈 (D)大屯火山
- 12、【圖十】為台灣河川分布圖，台灣河川短小，大部分向西流入台灣海峽或是向東流入太平洋，且西部河川較東部長，請問：下列何者不是造成這些地理特徵的原因？ (A)地勢高低落差大 (B)中央山脈偏東 (C)山脈呈現南北走向 (D)台灣島形狀狹長
- 13、【表二】為臺灣ㄅ~ㄘ四個地區1~4月、5~6月、7~9月、10~12月四個時期的降水量占全年總降水量比例的統計資料。根據臺灣的降水季節分布特性判斷，【圖十】中的「丙」河川，最可能位於【表二】中的哪一區？
(A)ㄅ (B)ㄆ (C)ㄇ (D)ㄘ
- 14、【圖十一】是四位河神的聊天內容。請問：河神 C 最有可能是【圖十】中的哪條河川？
(A)甲 (B)乙 (C)丙 (D)丁
- 15、『以媽祖為祀奉主神的鹿港天后宮，坐落昔日的鹿港溪口。鹿港因屬於河港型態，易受河沙堆積影響，雍正年間，濁水溪夾帶大量泥沙，淤積更為嚴重。日治時期，港口更因泥沙淤積，出口被幾座沙洲壅塞。鹿港因為港口貿易而興盛，也隨著港口貿易的衰弱，盛況不再，過去的黃金歲月，只能在歷史中追憶。』上述文章說到鹿港的港口因濁水溪夾帶大量泥沙而淤積，這與何種地理特性有關？
(A)降水不均且夏乾冬雨，只有在雨季才會出現滾滾流水
(B)上游坡度較緩高低落差小，導致下游泥沙容易淤塞
(C)下游地區降水量多，將上游泥沙沖到港口
(D)上游坡度陡地質脆弱，大雨時河水夾帶大量泥沙造成淤積
- 16、臺灣水庫淤積程度嚴重，影響水庫蓄水功能。下列何項策略最能有效改善此現象？
(A)增加都市柏油路的鋪蓋，減少雨水入滲地下 (B)改善地層下陷狀態，抽取海水做為養殖漁業水源
(C)強化集水區崩塌裸露地的森林復育與嚴格管制山坡開墾 (D)擴大在河川下游種植防風林的面積
- 17、地理課時，老師請同學發表在課本上看到的內容，依同學所說的內容，判斷□□指的是哪個季節？
小恩：從台灣的氣候特徵研判，台灣大部分的水庫在□□時水位可能最低。
小晴：因季風翻過中央山脈，產生強勁落山風，導致恆春的洋蔥品質優良，其主要收成季節為□□。
小傑：台灣經常可見許多水利設施，尤其是在中部和南部的平原區，這些水利設施在□□時最能發揮效用。
(A)冬末春初 (B)春末夏初 (C)夏末秋初 (D)秋末冬初



【圖十一】


歷史部分

18. 小雨在《吃的台灣史》一書中，看到一則有趣的內容：台灣最早開始進口歐美製造的鮭魚罐頭，是透過英國、美國等洋行，當時台灣人稱之為「三文魚」罐頭。請問：根據上述，鮭魚罐頭最早出現在台灣，應該是下列何時？
(A)17 世紀 (B)18 世紀 (C)19 世紀 (D)20 世紀。

19. 小恩過年去萬華夜市逛街時，發現有條巷子的牆上出現了如下的紀念照片與說明(如右圖)，請問：根據圖片上的訊息，下列對於這個遺跡的說明何者正確？

- (A)此處是清代台北城牆遺址 (B)當地在清代常有械鬥發生
(C)是瑠公圳流經此地的證據 (D)這裡曾是漢番衝突所在地

20. 1880 年，英國領事館在報告中如此描述：「臺灣○○的消費量，平均還超過大陸。據統計，從開港起，臺灣每年的進口品總值中，○○佔的比例平均佔 90%以上。」請問：根據上述，○○最可能為下列何者？ (A)茶葉 (B)樟腦 (C)蔗糖 (D)鴉片。



21. 小蘭到三峽老街旅遊時，發現當地著名的信仰中心是清帝國時期所建，於是她拍下了照片留念(如右圖)。請問：這座廟宇反映三峽的移民主要最可能是來自下列何地？

- (A)福建漳州 (B)廣東潮州 (C)福建汀州 (D)福建泉州。

22. 下表為清帝國時期，臺灣 3 項外銷經濟作物的統計表。請問：根據表中訊息，無法做為下列哪一現象的輔助證據？ (A)一府二鹿三艋舺 (B)台北地位的提升 (C)大稻埕快速崛起 (D)開港通商後臺灣國際貿易快速成長。



1880 年代	茶	糖	樟腦
占出口總值比例	54%	36%	4%
從業人口	30 萬人	15 萬人	13,000 人

23. 台灣某地區年年舉辦「跑水節」的活動，據說是自清代至今的傳統。2023 年，除了在舊八堡圳舉辦「跑水」的馬拉松活動外，還有各種與水圳相關的祭典。請問：此一節日是右圖中哪一地區所舉辦的活動？ (A)甲 (B)乙 (C)丙 (D)丁。

24. 小宇計畫假日去淡水旅遊，右表是他規劃的參觀地點。請問：根據他的行程，下列敘述何者正確？

- (A)可以體會馬雅各牧師在臺灣的付出與貢獻
(B)可以了解天主教長老教會在臺傳教的歷史
(C)可以看見清政府對臺灣醫學、教育的建設
(D)可以認識開港通商之後所遺留的各種古蹟

淡水禮拜堂
滄尾偕醫館
理學堂大書院
前清淡水關稅務司官邸(小白宮)



25. 小尋想要寫一份關於清代臺灣著名商人李春生的研究報告，請問她應該參考以下哪些書籍，對她的研究會有較大的幫助？ (甲)《羅漢腳悲歌》 (乙)《洋行與買辦》 (丙)《穿越大稻埕歷史之旅》 (丁)《台南—從府城到國際化》 (戊)《台灣茶的故事》 (A)甲乙丙 (B)乙丙丁 (C)乙丙戊 (D)甲乙戊。

26. 小楓在博物館中看到一張清代噶瑪蘭族與漢人的土地契約，上面只有漢字。根據你對當時歷史的了解，請問：以下對於此一史料的解讀，何者正確？

- (A)當時漢人很可能會在契約中對原住民有所欺騙 (B)這份史料可以做為南部原住民被迫遷徙的證據
(C)可以反映噶瑪蘭族在大甲西社事件後逐漸漢化 (D)這份契約簽訂的時間只可能是在牡丹社事件後

27. 新聞報導：「144 年前世居於花蓮奇萊平原的撒奇萊雅族，在加禮宛事件中慘遭清軍火攻滅村，頭目夫婦慘遭凌虐而死，倖存族人被迫隱姓埋名躲進阿美族部落中。為了紀念這場上百年的歷史事件，撒奇萊雅族將逝去的頭目古穆·巴吉克夫妻追奉為『火神』，並於每年十月舉辦『火神祭』。」請問：根據上述，這場戰役的歷史背景與下列哪一政策的實施有關？ (A)開港通商 (B)開山撫番 (C)劃界封山 (D)渡台禁令。

28. 小雪在清代的《乾隆番界圖》中，發現地圖上的番界界線在不同時期有改變，請問：下列對於此一現象的解釋，何者符合史實？ (A)反映劃界封山政策有確實執行 (B)反映漢人在拓墾時常越界開墾 (C)舊番界離山區較近，新番界離山區較遠 (D)可做為平埔族生存空間被壓縮的證據。

【題組一】歷史老師請同學們假日進行古蹟踏查，地點是位於蘆洲的李氏古宅，請你閱讀相關資料後回答問題：

李氏古宅是清代臺灣的著名古蹟，距今已有 200 多年的歷史。據李氏家族的族譜記載，第一代祖先李正一於乾隆 42 年(1777 年)與兄長自泉州來台，自北部港口登陸之後，隨族人落腳在和尚洲(今蘆洲)開墾。第二代時由佃農逐漸發展成為大地主，更開始經營農產品的買賣，並成立「李長利記商號」；也因家中人口愈來愈多，因此開始興建今日的李氏古宅。除此之外，第三代的李樹華也於光緒年間考上科舉，成為李氏家族第一位當官的子孫。



29. 根據上述資料，請問李氏家族第一代渡台的背景說明，下列何者正確？
(A)李氏家族祖先最可能屬於客家族群 (B)李氏家族祖先應是從鹿耳門抵台
(C)當時是「一府二鹿三艋舺」的時期 (D)當時已有外國商人在淡水設洋行。
30. 關於李氏家族在台的發展，下列解釋何者符合史實？
(A)李氏家族成為地主必須向官府申請墾照 (B)李樹華考上科舉反映清領初期文教發達
(C)李氏家族祭拜李正一屬於唐山祖的類型 (D)李長利記商號買賣的產品最可能是蔗糖


【題組二】小皓為了做歷史報告，上網找資料，右圖是他要報告的歷史人物小檔案，是一位清代臺灣中部地區的著名開墾者。請你根據右圖這份資料回答以下問題：

31. 這位歷史人物的生平，可以印證下列哪一句諺語的出現？
(A)輸人不輸陣，輸陣歹看面 (B)有唐山公，無唐山媽
(C)紅柿出頭，羅漢腳眼屎流 (D)少年若無一擺憨，路邊哪有有應公。
32. 這位歷史人物的經歷中，曾經促成了一條水圳的興建，最可能是下列何者？
(A)八堡圳 (B)瑠公圳 (C)鳳山圳 (D)貓霧揀圳。

張達京	
大清臺灣府彰化縣岸裡社通事	
籍貫	廣東潮州府大埔縣清遠都源高甲赤山村下灣莊
族裔	漢族客家人
字號	字振萬，號東齋，綽號番仔駙馬
出生	康熙二十九年（1690年） 廣東潮州府大埔縣黃塘
逝世	乾隆三十八年（1773年） 廣東潮州府大埔縣高陂
配偶	土官阿穆之女
親屬	兄弟：張達朝、張達標
經歷	
<ul style="list-style-type: none">雍正元年（1723年）岸裡社第一任通事，採「割地換水」方式獨資興建下埤圳雍正九年至十年（1731年）平亂有功，雍正皇帝賜七品京官銜，並欽頒御衣一襲雍正十年（1733年）與土目潘敦仔等，洽請六館業戶共同訂立割地換水墾約	

【題組三】曉萱全家在寒假規劃了一趟旅遊，以下是她在著名古蹟拍下的照片。請根據圖片訊息回答問題：

【第一天】吳沙紀念館



【第二天】金廣福公館



【第三天】鹿港老街



33. 根據上面的照片，請問下列何者才是她的行程路線？
(A)宜蘭→新竹→彰化 (B)台北→台中→彰化 (C)台北→新竹→台中 (D)新竹→宜蘭→彰化。
34. 曉萱在旅遊結束後，寫了一篇關於這三個古蹟的歷史背景介紹，請問哪一個敘述與史實不符？
(A)吳沙率領漢人開墾宜蘭時，清政府在台灣實施劃界封山的政策。
(B)吳沙被稱為「開蘭第一人」，可見他是合法進入原住民地區開墾。
(C)金廣福公館是閩粵人士設立，反映清代漢人以合資方式進行開墾。
(D)鹿港老街最初繁榮的原因，是因為鹿港是清代前期三大貿易港口。

【尚有試題，請繼續作答】

公民部分

35. 下課時間—
- 妮妮：「我剛剛偷看了一下小靜的聯絡簿，他說我們上課聊天吵到他，所以跟老師告狀耶！」
- 言言：「他自己不專心還怪我們耶！」
- 請問：關於上述對話與學生權利，下列何者正確？
- (A)妮妮偷看聯絡簿的行為侵犯小靜的學習權與受教權 (B)妮妮和言言上課聊天的行為侵犯他人的人格發展權
- (C)以言語辱罵他人造成名譽毀損也是侵害人格發展權 (D)小靜不應該偷偷跟老師告狀，損害同學聊天的權利
36. 老師請班上同學試著將學生自治的步驟寫出來，請問：哪一位同學寫對了？
- (A)驚驚：訂定自治規範→成立自治組織→推展自治活動 (B)江江：成立自治組織→訂定自治規範→推展自治活動
- (C)國國：成立自治組織→推展自治活動→訂定自治規範 (D)中中：推展自治活動→訂定自治規範→成立自治組織
37. 狩獵在原住民族的傳統文化中有其重要價值和意涵，須依據傳統規範和禁忌來進行，而這些規範透露出原住民族的智慧。例如禁止在春季獵捕雌鹿，以免誤殺懷孕或撫育幼獸的母鹿，而瀕危保育類黑熊也不可獵捕。請問：上述畫線處原住民族的智慧，指的是原住民族的何種觀念？
- (A)部落會議奠定自治 (B)共享互助的價值觀 (C)與大自然和諧共存 (D)歲時祭儀文化傳承
38. 下圖為學生發生校園性騷擾事件時的處理流程，請問：下列敘述何者正確？
- 

```
graph LR; A[被害人提出申訴] --> B[學校00處受理]; B --> C[移送XX委員會調查]; C --> D[彙報主管機關];
```
- (A)此流程根據《性騷擾防治法》 (B)被害人應向學校教務處提出申訴
- (C)學校應將此案件彙報給社會局 (D)案件移送性別平等教育委員會調查
39. 布農族人王光祿因使用非法槍枝以及獵捕保育類動物被判刑，推進《獵槍管理辦法》的訂定。獵槍在政府眼中是危險工具，必須收束管理，但對原住民而言，槍枝只是整個文化體系中，最基本的單位。一名原住民族獵人說：「在開槍之前，我們要學習的是如何認識山林，不要為了管制一把工具，減了一整個文化」。<節錄改編自 報導者 2023. 03. 05>請問：關於上文的敘述，下列何者為最適當的註解？
- (A)動物保育與環境汙染的問題 (B)狩獵文化與現代法律的衝突
- (C)傳統領域與經濟開發的衝突 (D)部落傳統文化的變革與創新
40. 部落是原住民族文化與認同的根源、生產分配的單位，也是自治的基礎，對原住民族而言是十分重要的生活空間與信仰中心。請問：關於部落的敘述，下列何者錯誤？
- (A)部落須經過原住民族委員會的核定而成立 (B)部落的定義規範在《原住民族基本法》中
- (C)各族對領袖稱呼不一，但皆經由世襲產生 (D)起源大致來自同一祖先、血緣相近的成員
41. 下表是阿材參加原住民族部落深度旅遊的行程表，請問：行程表中哪一項較不可能發生？
- | | 時間 | 項目 |
|-----|-------|-----------------|
| (A) | 09:00 | 由族人擔任導覽員導覽並介紹文化 |
| (B) | 12:00 | 擔任健康廚房志工為部落長輩送餐 |
| (C) | 14:00 | 旁聽部落領袖帶領族人召開的會議 |
| (D) | 19:00 | 討論以經濟為主的傳統領域開發案 |
42. 原本居住在卑南山與雙鬼湖之間的布農族，在政府的壓迫下往淺山平原遷移，這樣的分離讓家的記憶蒸發、讓祖先建立的文明崩塌，回家的路就這樣被拉得很長、很遠。但耆老 Siwa 這樣鼓勵著：「要有智慧，就像前人在山林建立文明的智慧一般，要有愛，用愛和智慧持續不斷的走。」<節錄改編自 微笑台灣 2023. 12. 20>
- 請問：文中為什麼往淺山平原遷移會讓布農族祖先建立的文明崩塌？
- (A)遷至該處與原住民族的法律相衝突 (B)部落領袖需要留在原本的所在地，無法跟隨族人遷移
- (C)部落不可遷移至非傳統領域的場域 (D)原住民族認為部落與土地不可分割，否則文化易變質
43. 原住民族委員會公告的「原住民族部落活力計畫」中，屬於「復振部落傳統文化」的項目應為下列何者？
- (A)為遊客入山管制召開部落會議 (B)將部落傳統技能轉變為觀光導覽的職業
- (C)部落搬遷、重建營造安全場域 (D)噶瑪蘭族新社部落香蕉絲編織技藝傳承

【44-45 為題組】

44. 右邊兩張圖為教育部的反霸凌宣導，為了協助學生在校園中能健全成長，政府以法律明確規定學生不受任何形式的霸凌。請問：關於霸凌的敘述，下列何者正確？



- (A)上文的法律指的是《國民教育法》
- (B)同學單方嬉鬧的行為不構成霸凌
- (C)霸凌是故意且具有傷害性的行為
- (D)長期言語謾罵不會構成霸凌行為

45. 承上題，面對霸凌該抱持何種心態及行為，才能有助於減少校園霸凌的發生？

- (A)霸凌他人顯示自己是學校老大，很威風
- (B)應向家長、師長求助，杜絕校園霸凌
- (C)一起排擠別人，不然可能換自己被排擠
- (D)不管他人喜不喜歡，開玩笑有趣就好

【46-47 為題組】

部落青年人口的外移，不只影響到部落發展，也讓文化傳承發生斷層，花蓮食農教育創辦人決定回到部落，利用野菜和苦茶油創造經濟價值，吸引部落青年回鄉，發展部落的同時，也實踐原住民文化的傳承。

創辦人以野菜做為媒介，利用工作坊、移地參訪，讓參與者學習環境思辨、人與土地、採集應用和生態人文，將永續概念導入體驗經濟，產生土地價值，目的是讓大眾去認識孕育野菜成長的土地，從知識中傳承文化。〈節錄改編自 食力 2023. 05. 29〉

46. 請問：從上文敘述中無法推知下列何項敘述？

- (A)人口外移使部落文化傳承發生斷層
- (B)將土地用高價賣出使部落永續經營
- (C)透過體驗經濟加深大眾對土地認識
- (D)農作物創造經濟價值吸引青年回鄉

47. 請問：文中提及的做法，較無法解決何項部落所面臨的問題？

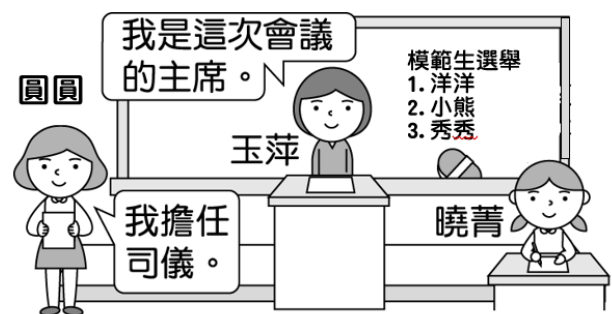
- (A)文化與法律的衝突
- (B)部落經濟的停滯
- (C)傳統文化的斷層
- (D)部落人口的流失

【48-50 為題組】

鷺鷥國中 7 年 1 班正在進行班會，此次班會主要目的是選出班上的模範生，已經由班上同學提出三位候選人，正要進行投票表決時，選舉宣傳車經過……

雪莉：「■■，我要提出□□問題，宣傳車的聲音太大聲了，我聽不清楚現在在說什麼！」

■■：「我們先暫停一分鐘，等宣傳車經過後再進行投票！」



48. 依照班會的議事規則，雪莉應向■■提出□□問題，請問：■■和□□應分別填入下列何者？

- (A)主席；權宜問題
- (B)主席；秩序問題
- (C)老師；權宜問題
- (D)司儀；秩序問題

49. 請問：下列何種狀況，需與雪莉提出相同問題？

- (A)有同學不斷發出怪聲音，且與周圍的同學嬉鬧
- (B)宣布班會開始後，就進行臨時動議
- (C)在討論班遊地點時，有同學提議討論班服樣式
- (D)班遊地點票數相同時，用抽籤決定

50. 請問：關於班會的整體程序與相關人員的職責，下列敘述何者正確？

- (A)順序應為報告事項→討論事項→臨時動議
- (B)洋洋和小熊同票時，應由圓圓加入投票
- (C)由圓圓負責宣達會議程序並主持表決
- (D)表決的順序應為秀秀→小熊→洋洋

【試題結束，請仔細檢查】