

新北市立鷺江國民中學 114 學年度 第 1 學期 8 年級 社會科 第 1 次段考 題目卷

命題教師：社會科教師 日期：10月16日 第7節 班級： 座號： 姓名：

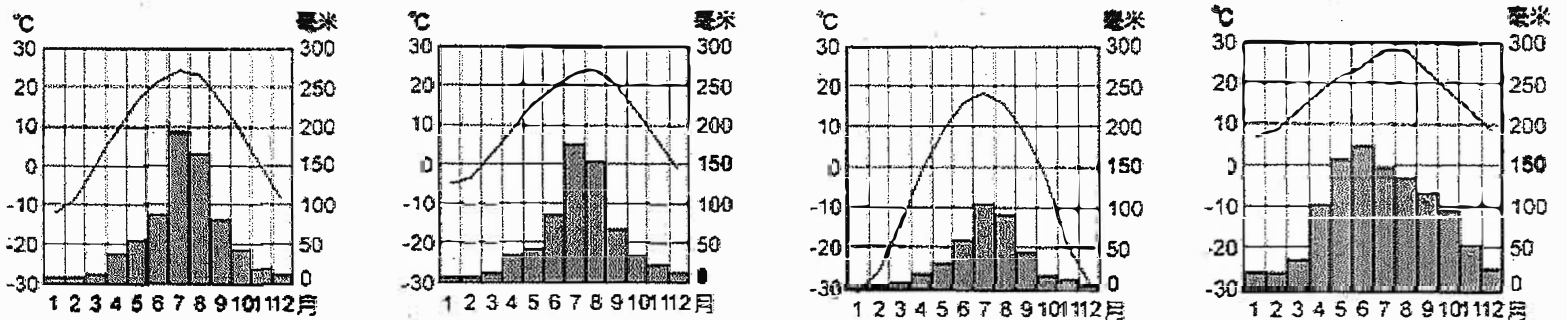
地理科 1-17

- 關於新疆的水果，有一首膾炙人口的順口溜：吐魯番的葡萄哈密瓜，葉城的石榴人人誇；庫爾勒的香梨甲天下，伊犁蘋果頂呱呱；阿圖什的無花果名聲大，下野地的西瓜甜又沙；喀什櫻桃賽珍珠，伽師甜瓜甜掉牙；和田的薄皮核桃不用敲，庫車白杏味最佳；一年四季有瓜果，來到新疆不想家。新疆地區水果特別香甜多汁，又被譽為「瓜果之鄉」。請問這和新疆地區的哪一項自然條件最有關係？(A)日溫差大 (B)綠洲廣布 (C)沙漠廣佈 (D)溫暖溼潤。
- 冬蟲夏草是一種名貴的中藥材，中醫藥書記載有補肺益腎等療效，據稱該藥材產地海拔愈高，其質量、營養價值愈佳。目前全球的冬蟲夏草產量以中國占比最高，產地有明顯集中的現象，其分布與採挖時間如表(一)所示。依據資料判斷，下列何者最能正確展現中國的冬蟲夏草主要產地分布？(A)青藏高原 (B)塔里木盆地 (C)黃土高原 (D)內蒙古高原。

採挖時間	海拔高度
3~4月	3,000~3,500m
4~5月	3,500~4,300m
5~6月	4,500~5,500m

表一

- 中國的地勢可依平均海拔高度分成三級階梯，下列哪個地理現象受地勢的「影響最小」？(甲)人口主要集中東部地區 (乙)海洋暖溼氣流深入內陸，有利農業 (丙)冬季氣溫，南北顯著不同 (丁)山脈的走向分布 (戊)主要河川東流入海 (A)甲乙 (B)乙丙 (C)丙丁 (D)丁戊。
- 圖(一)是中國四個都市的氣候圖，請由圖中資訊判斷，四個市由低緯度排列至高緯度的順序為何？(A)甲乙丙丁 (B)丁乙甲丙 (C)丙甲乙丁 (D)丙乙甲丁。



甲

乙

丙

丁

- 承上題，從圖(一)中中國四個城市的氣候圖，依據圖中資訊判斷，下列哪張氣候圖最可能為「上海」？(A)甲 (B)乙 (C)丙 (D)丁
- 圖(二)所示為西藏僧侶服飾，藏袍(藏裝)的設計深受青藏高原氣候特性影響，其主要特點為肥大、寬袖、長袍，適合保暖禦寒。服飾的實用性高，白天可將寬大的袖子解開或束於腰間以散熱，夜晚則可利用寬大的袍身作為臨時睡袋。材質上，傳統藏袍多採用耐用的綿羊皮或保暖的氈氍(一種毛織品)，以適應青藏高原的環境。請問藏袍(藏裝)的設計，最能反映出當地具有下列哪種氣候特色？(A)日溫差大 (B)年溫差小 (C)雨量稀少 (D)蒸發旺盛。

圖二



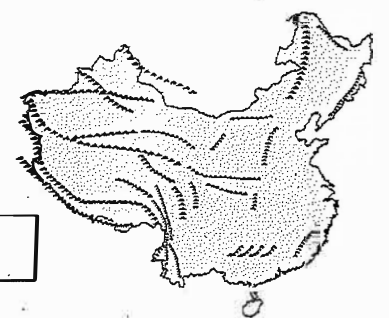
- 中國西北地區因為深居內陸、距海遙遠形成乾燥氣候，以下是關於乾燥氣候區特徵的敘述，何者是「正確」的？(A)年、日溫差大 (B)年溫差小、日溫差大 (C)全境皆為沙漠氣候 (D)年雨量250mm以下。
- 中國民間以農曆立春作為春季的開始，但氣象學上通常把連續5天日平均氣溫超過10°C的第一天視為春季的開始。圖(三)為中國各地平均入春時間等溫線分布圖。請問影響中國入春日程的主要影響因素為何？(A)地勢高低 (B)緯度高低 (C)海陸位置 (D)日出時間。
- 承上題，關於全年皆冬區和無冬區的敘述，何者「錯誤」？(A)全年皆冬區位於青藏高原，受地形影響全年低溫 (B)全年皆冬區屬於高地氣候 (C)全年無冬區年降水量750mm以上 (D)無冬區全境位於副熱帶季風氣候。

圖三



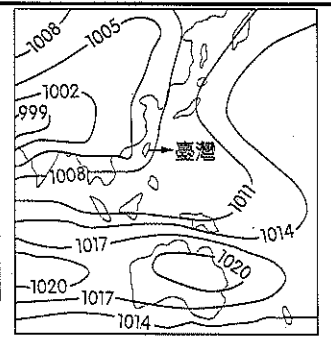
- 中國山脈的走向，受到板塊擠壓方向不同而呈現空間差異，山脈走向會對當地的氣候與交通運輸產生影響。請問：圖(四)為中國山脈走向圖，影響圖中「西部」山脈形成的主因為下列何者？(A)歐亞板塊擠壓太平洋板塊 (B)印度-澳洲板塊擠壓歐亞板塊 (C)印度-澳洲板塊擠壓太平洋板塊 (D)歐亞板塊擠壓菲律賓海板塊。

圖四



11. 中國的氣候受到海陸性質的影響，形成季節性的差異。圖(五)為某時間的地面天氣圖。請問：此時北京盛行的風向性質為何？(A)西北風；乾燥氣流 (B)東北風；乾燥氣流 (C)西南風；溼潤氣流 (D)東南風；溼潤氣流。

圖五



12. 有關中國疆域的敘述，下列何者「錯誤」？(A)領土面積居世界第四 (B)跨熱帶、溫帶、寒帶三帶，幅員廣大 (C)位於歐亞大陸的東南側，東臨太平洋 (D)國土位於東半球、北半球。

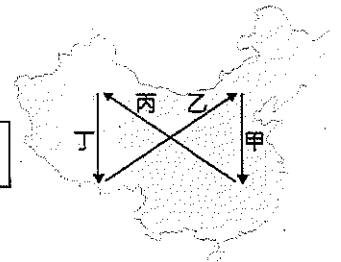
13. 1942年，中國的對外陸上交通被日軍阻斷，所以開闢了一條空中通道，由甲地(阿薩姆邦)運送戰略物資至雲南昆明，如圖(六)所示。該航線因受限於當時螺旋槳飛機的性能，僅能順著山峰與谷地飛行，軌跡高低起伏狀似駝峰而被稱為「駝峰航線」。根據上文，該航線應是越過下列何者？(A)喜馬拉雅山脈 (B)青藏高原 (C)橫斷山脈 (D)內蒙古高原。

圖六

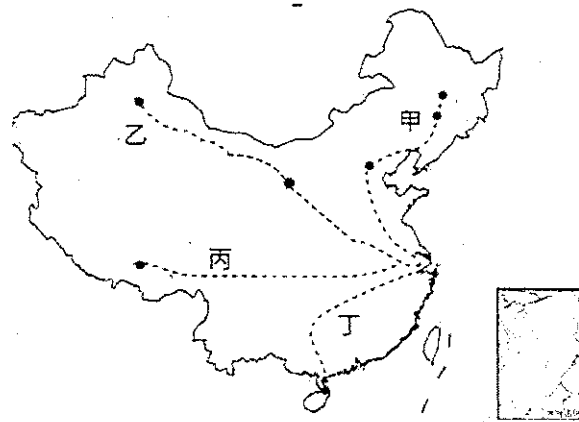


14. 中國的氣候受地形、緯度、距海遠近等因素影響，而有空間上的差異。圖(七)甲、乙、丙、丁哪一路線夏季氣候的空間變化趨勢，具有明顯的「由溼熱，變乾熱」的特性？(A)甲 (B)乙 (C)丙 (D)丁。

圖七




題組:(15-17 題)



15. 寒假時，住在上海的超人一家利用假期開車出遊，他們設計了甲、乙、丙、丁四條路線，其中哪一條路線會經過「黃土高原」？(A)甲 (B)乙 (C)丙 (D)丁。

16. 超人在旅程拍了許多照片，以下是超人在四條路線的所拍攝的照片，請問其中哪一組照片的配對是「正確」的？(A)甲地---ㄉㄛ (B)乙地---ㄉㄚ (C)丙地---ㄇㄚ (D)丁地---ㄉㄨ



ㄉㄛ



ㄉㄚ



ㄇㄚ




ㄉㄚ



ㄉㄨ

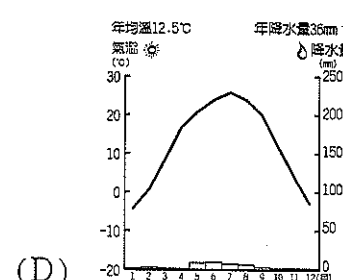
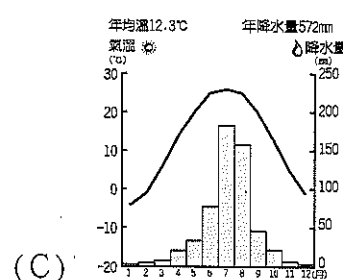
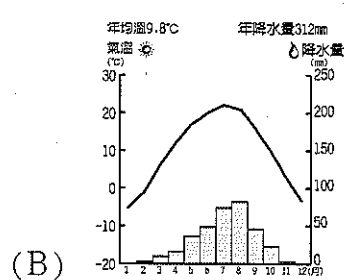
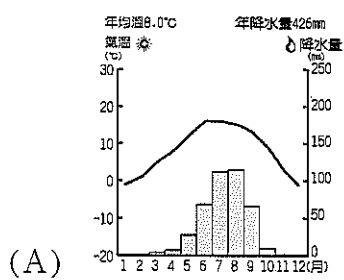


ㄉㄨ



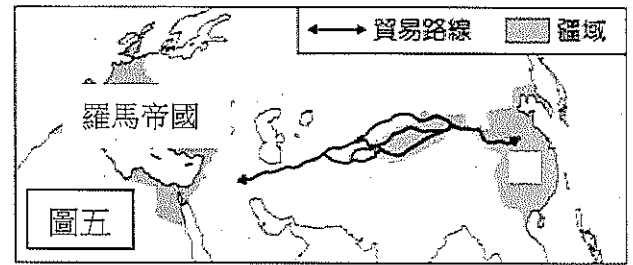
ㄉㄛ

17. 承上題，下列四個地區的氣候圖，哪一張是丙路線終點站的氣候圖？



試題尚未結束，請繼續作答

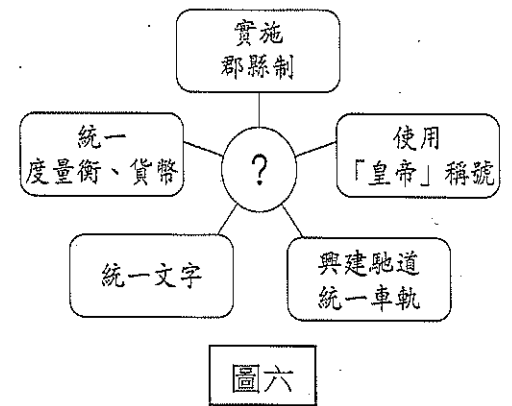
26.「因戰亂頻仍，知識分子四散遷徙，人才難覓。曹丕在正式建立曹魏政權前，為改善人才選用方式，於延康元年（西元 220 年）實施此方法，在各郡設置中正官，……。」關於上文中未完的內容，下列何者的說明最正確？(A)若能得中正官推薦進入太學就讀，成績優異者可以擔任官員(B)長期戰亂導致地方制度轉變，郡縣制度正式取代封建制度 (C) 由中正官主辦地方層級的科舉考試，使平民任官機會逐漸增加 (D)由中正官挑選各地賢能者，根據才學、品德、家世，加以評定分成九等



27.圖(五)呈現某一時期中外交流概況，下列關於該時期往來情形的述說明，何者最不正確？(A)農業民族與草原民族在此常有互動，偶而也有衝突發生 (B)羅馬帝國在當時被稱之為「大秦」(C)在此條道路上，經常可見載著絲綢、鐵器的馬匹和駱駝，以及忙著交易的商人在路上往來 (D)此條中外交流路線被稱之為絲路，是因當時中國向羅馬帝國大量購買絲綢因而得名

28.民族融合及文化交流對歷史上任一個民族來說都是非常重要的，因為它可能讓原本的民族文化產生更具多元性、包容性的特質，但也可能導致特定民族文化的衰敗或消失，關於中國民族融合的相關敘述，下列何者錯誤？(A)魏晉南北朝是民族融的重要時期 (B)隋唐時期，一改魏晉時期胡漢融合的風氣，對各族群的態度轉為嚴苛，和各族互動大幅減少 (C)鮮卑族君主北魏孝文帝積極推行漢化，甚至不惜遷移首都，以達到漢化目的 (D) 中國經濟文化重心南移，和西晉永嘉之禍晉室南遷有關係

29.珊珊同學在筆記上畫了如圖(六)中的圖形筆記，其中「？」是筆記的主題，關於圖(六)筆記內容判斷，下列敘述何者錯誤？(A)此筆記內容記錄的是戰國時期秦國的歷史 (B)此筆記所記錄的朝代，因統治嚴厲，用刑殘酷，又壓迫人民興修許多大型工程，故人民群起反抗，導致滅亡 (C)此朝代曾面臨來自北方草原民族的威脅 (D)筆記中的「？」指的應是秦始皇。

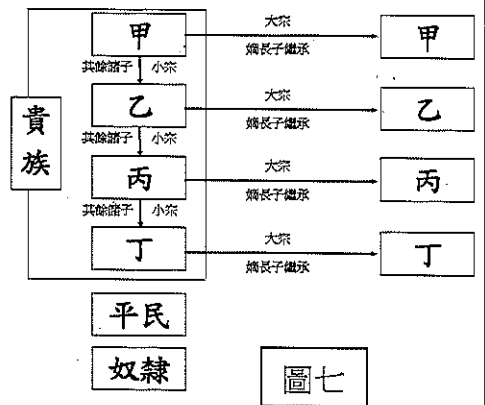


30.關於佛教的敘述，下列何者最正確？(A)唐朝興建雲岡石窟雕刻大型佛像，象徵佛教在唐朝達到巔峰 (B)玄奘去大食取經，回國後大量翻譯佛經,進一步促進佛教中國化 (C)佛教和伊斯蘭教均在漢朝時，藉由絲路從西域傳入中國 (D)魏晉南北朝時期政權更迭頻繁，社會動盪不安，宗教成為精神寄託，佛教隨之盛行

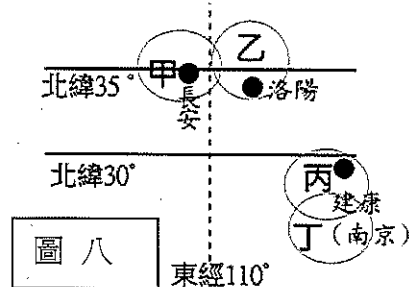
31.(甲)他協助秦國變法，厲行法治，按軍功授予爵位，並編列戶籍，為日後國家統一奠下基礎 (乙)他設立「太學」，專門教授儒學，成績優異者可以任官 (丙)他要求胡人說漢語，改漢姓，穿漢服，並鼓勵胡漢通婚 (丁)他滅東突厥後，西北各族君長尊稱他為「天可汗」，意為普天下的君王。上述甲、乙、丙、丁為中國歷史上四位有名的人物，請依照上述四位人物在中國歷史上出現的時間，按照先後順序正確的排列出來。(A)甲乙丙丁 (B)丁甲丙乙 (C)甲丙乙丁 (D)甲丁乙丙

32.君君同學在電視上看到一部有關於隋唐時期，東亞不同民族文化交流的紀錄片，下列選項中哪一句旁白才最符合史實？(A) 大秦曾以唐代制度為藍本進行「大化革新」 (B)新羅模仿漢字創造自己的文字「片假名」和「平假名」 (C)文成公主嫁到吐蕃將佛教及農業技術帶入此地 (D)但羅斯的那場戰爭，讓阿拉伯人學會了絲綢的製作技術

33.導致西周滅亡的重要原因是，幽王寵愛褒姒，廢申后及宜白，改立褒姒為后，其子伯服為太子，申后的父親大怒，聯合外族進攻，幽王被殺，西周滅亡。幽王的行為違反了西周的宗法制度，關於西周的封建制度，下列敘述何者錯誤？(A)在西周時只有貴族才能擁有土地，更能有接受教育的權利 (B)宗法制度是以血緣來確立繼承的先後關係 (C)若根據圖(七)的示意圖，宜白應位在圖中的乙，伯服應在圖中的甲 (D)禮樂制度是封建得以順利運作中非常重要的一環，因為它規範了貴族的日常生活禮儀，並彰顯了階級之間的差異



34.圖(八)為中國地理位置的示意圖，關於此示意圖下列敘述何者最正確？(A)絲路是由圖中的乙區開始，一路向西行 (B)北魏孝文帝將首都從平城遷移到丁區 (C)丙區為永嘉之禍皇室遇難之地 (D)長城修建的位置是在甲乙兩區的上方



試題尚未結束，請繼續作答

公民科 35-50

35.據內政部最新人口統計，2025年5月全台出生人口再度創下新低紀錄，台灣自2021年2月起正式進入「生不如死」時代，也就是每月出生人數皆低於死亡人數，截至今年5月，這樣的趨勢已持續53個月。儘管政府陸續推出生育津貼、托育補助等多項措施，整體生育率仍難見起色，少子化問題愈發嚴峻。推估2035年臺灣將會成為全球總生育率最低的國家，屆時少子化衍生的衝擊，包括勞動力不足、生產力衰退、消費力降低、國家稅收減少等，恐將形成國安危機。關於上述內容，下列敘述何者有誤？

- (A)少子化會直接影響到國家組成要素中的「人民」 (B)生育津貼、托育補助是為了落實「社會福利」政策
(C)生產力衰退、消費力降低有違國家「促進經濟發展」的存在目的 (D)勞動部與衛福部屬於國家組成要素中的「主權」

36. 隨著外籍移工、新移民的人口增多，司法院自2006年起採行「特約通譯制度」，聘用合格且經過完整訓練的特約通譯，以維護民眾訴訟權益。請問，司法院採行此制度的目的為何？

通譯：指庭上翻譯不同語言(將原住民族語、客語、閩南語、外國語言、手語等語言翻譯成中文)，協助法庭上的參與者互相溝通的人

- (A)經由通譯維護民眾秘密通訊的自由權 (B)透過制度落實民眾在司法上的平等權
(C)善盡責任維持國民基本生存的受益權 (D)藉由社會規範保障人民的參政權。

37.內政部日前宣布將在新北土城、中和再新增千戶社宅，預計明年動工。社會住宅協助無法負擔市場租金的經濟弱勢族群，以低於市場行情的價格優先承租社會住宅，以減輕民眾的居住負擔，達到居住正義的目標。請問：社會住宅的目的是為了落實憲法保障人民的哪項基本權利？ (A)自由權 (B)平等權 (C)受益權 (D)參政權。

38. 雲林縣長愛家園育幼院因中央聯合評鑑查出逾30項缺失，被評定丙等，且在輔導期間仍發生不當對待事件，今年複評再度未過。雲林縣府7月25日發文裁處育幼院停業一年，17名兒少安置他處，育幼院不服結果，已向衛福部提出甲，盼能復業。請問甲應為下列哪項基本權利？ (A) 訴願權 (B) 請願權 (C) 訴訟權 (D) 申訴權。

39. 甲、乙二則資料呈現不同時代官方興建公共建設的相關情況：

甲資料：統治者為了加強對國內各地的控制，便於運送物資及兵力，下令修鑿運河，強行徵召數百萬人民從事勞役。

乙資料：某地方政府研擬興建社會住宅，當地議會要求依法召開公聽會聽取附近居民的意見，作為後續制定政策的參考。

根據甲、乙二項資料判斷，關於不同時代官方興建公共建設作法的敘述，下列何者最適當？

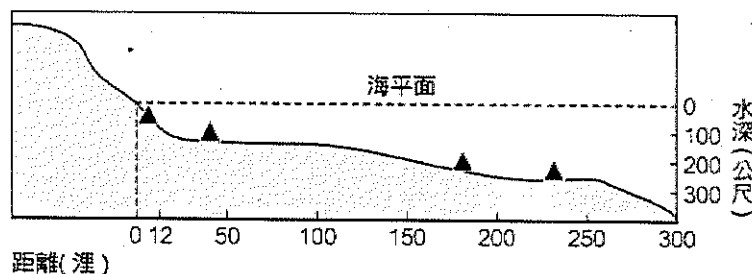
- (A)甲資料顯示當時的市場勞動權利受法律保障 (B)乙資料顯示當時的政府權力受到約束與制衡
(C)二則資料皆顯示公共建設以促進公平正義為主要考量 (D)二則資料皆顯示公共意見是經由大眾反覆討論而形成

40. 高雄市政府規劃將鳳山舊市場遷建至新興區，引發當地居民擔憂交通壅塞與環境影響。地方說明會上，多位居民表達反對意見，要求市府重新評估計畫。內政部提醒市府，若要變更原已核定的計畫，必須依法提出修正方案，並兼顧公共設施回饋與地方公平性，避免程序瑕疵影響市民權益。請問：根據畫線部分依序可以表現出民主政治中的哪些內涵？

- (A)民意政治、法治政治 (B)法治政治、責任政治 (C)責任政治、政黨政治 (D)政黨政治、民意政治。

41.一架從中國海警船上起飛的直升機侵入沖繩縣石垣市尖閣諸島(釣魚台列嶼)海域上空約15分鐘，日本航空自衛隊緊急出動2架F-15戰鬥機因應。這是自去年8月中國軍機侵犯長崎縣男女群島近海領空以來，中國第4次侵犯日本領空，針對尖閣諸島(釣魚台列嶼)則是第3次。日本政府已透過外交管道向中方嚴正抗議，要求防止類似事件再次發生。請問：中日之間的緊張衝突為的是下列哪幾項國家的組成要素？ 甲：人民 乙：領土 丙：政府 丁：主權
(A)乙丁 (B)甲丙 (C)甲丁 (D)甲乙。

42.右圖為某一國家海底地形剖面示意圖，▲記號為油氣蘊藏區的位。依「領海及經濟海域」的劃分方式判斷，這個國家在圖中擁有幾個油氣蘊藏區的開採權？



- (A) 1個 (B) 2個 (C) 3個 (D) 4個。

題組題

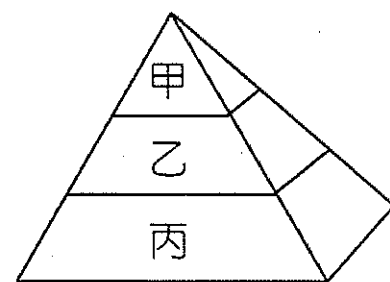
(一)

丹娜絲颱風以及後續西南氣流重創南台灣，由於災情不斷擴大，依照現行災害防救法相關規定，辦理災後復原所需經費已經有所不足，為了給予災區民眾更多支持與實際協助，行政院今天通過「丹娜絲颱風及七二八豪雨災後復原重建特別條例」草案，爭取編列特別預算560億元，並納入嘉義縣市、台南市、高雄市及屏東縣等縣市，加速推動災區各項復原的重建工作。

2025/8/7 網路新聞

43. 根據右圖(法律位階圖)與法律的內涵判斷，有關「丹娜絲颱風及七二八豪雨災後復原重建特別條例」草案的敘述，下列何者正確？

- (A)屬於甲位階，僅具「原則性」的規定 (B)屬於乙位階，必須由立法院三讀通過
(C)屬於丙位階，行政機關可訂定及修改 (D)屬於丙位階，是乙制定時的依據來源



44. 承上題。關於右圖甲的敘述，下列何者正確？

- (A)乙丙不能抵觸甲，否則無效，這是彰顯甲的固定性
(B)甲的修改必須經過立法院提案，司法院憲法法庭審理，經公民投票複決
(C)甲規定民眾可依法拒絕非依法定程序的逮捕，這是在保障人民的自由權 (D)廣義法律的位階，由高至低依序是乙、甲、丙

45. 根據上文，丹娜絲颱風及七二八豪雨災後復原重建特別條例的法律位階與下列何者相同？

- (A)中華民國憲法增修條文 (B)國民教育法施行細則 (C)鷺江國中學生輔導與管教辦法 (D)總統副總統選舉罷免法。

(二)

據估計，到了 2030 年，台灣將會有 26 萬護理人力缺口，為解決台灣護理人力嚴重不足的問題。考選部更於去（2023）年 11 月 9 日公告降低護理國考門檻，針對難度較高的科目「基礎醫學」，將比重由原來的 20% 調降為 10%，並且從一年舉辦 2 次國考增加為 3 次。

國立臺灣大學醫學院附設醫院企業工會發出聲明表示：我們都很清楚台灣缺的從來不是護理執照數，而是留得住護理師的職場環境，勞動環境的革新改善才是留才關鍵。建議「衛生主管機關應積極輔導用人單位，加強醫護執業環境改善，才可有效提升考試及格人員執業與留任意願」。

2023/11/11

46. 請問：參加考選部辦理的護理師國家考試與下列哪一種人民的基本權利最類似？

- (A)護理師要求加強醫護執業環境的改善 (B)名嘴在政論節目上批評政府政策
(C)禁止因性別差異而同工不同酬 (D)在全國大罷免中投下神聖的一票。

47. 相同的困境也發生在韓國。韓國政府擬在 2025 年度大幅增加 2,000 個醫學院招生名額，解決醫護人手不足問題，但當地醫界認為，國內尤其偏鄉醫療人手不足，並非醫生人數不夠，而是當地醫療資源不足、待遇不佳，應該改善的是制度，而非大量增聘人手。韓國數千名實習醫生及住院醫生去年2月20日開始罷工，上街遊行，希望政府撤回醫改。韓國醫師發動無限期的全國大罷工，嚴重癱瘓醫療系統。請問：上述畫線部分的行為在我國是屬於《憲法》保障人民的哪些基本權利？

- (甲)人身自由；(乙)集會自由；(丙)請願權；(丁)訴願權 (A)甲丙 (B)乙丙 (C)乙丁 (D)乙丙。

(三)

甲機關 2024 年 5 月底三讀通過的國會職權修法（《立法院職權行使法》及《刑法》條文修正案），在歷經行政院覆議失敗、向乙機關申請釋憲。近日乙機關做出釋憲案宣判，關鍵條文多屬違憲或部分違憲。牽涉總統國情報告、調查權和聽證會的罰則等多數宣判違憲，即日起失效。

48. 根據乙機關作出解釋文，其內容可以說明憲法的哪一個特性？ (A)最高性 (B)固定性 (C)原則性 (D)簡潔性。

49. 根據文中所述，若甲、乙機關應分別指政府哪一個單位？

- (A)總統府、立法院 (B)憲法法庭、立法院 (C)立法院、憲法法庭 (D)大法官會議、立法院。

50. 2022 年，台灣首次修憲，推動 18 歲公民權，最終獲得 564 萬多張同意票，和選舉人半數的 962 萬票門檻相距甚遠，最終修憲宣告破局。由上可知台灣修憲程序的困難度非常的高，可以說明憲法的哪一個特性？

- (A)最高性 (B)固定性 (C)原則性 (D)簡潔性。

本試題卷結束