

共50題，每題2分。【地理部分第01-17題】

題組 1-4

臺灣為南島語族的活動範圍，位於海陸交會和南北往來的中樞位置，所以在進入航海時期後，便成為各國船隻前往中國、日本與東南亞間貿易的停泊港口與貨物轉運站，當時的荷蘭帝國和西班牙帝國分別在臺灣興建城堡，並進行殖民統治。1661年4月，鄭成功率兩萬五千大軍及數百艘戰艦擊潰荷蘭人，1662年臺灣進入明鄭時期，漢人大量移民臺灣。17世紀後期，清帝國將領施琅率清軍攻臺，進入清治時期，也開始有了正式的行政區畫分，命名為臺灣府。

1. 往來海上貿易活動的荷蘭人，當時在圖(一)建立據點及城堡，成為其主要的活動區域？

(A)甲 (B)乙 (C)丙 (D)丁。

2. 當時前往日本貿易的西方水手在航行通過臺灣之時，曾讚嘆於所見的到高山美景、翠綠林相，因此出現下列何項名稱來形容這個他們口中的美麗之島，也成了現在臺灣廣為人知的別名？

(A)小琉球 (B)福爾摩沙 (C)大員 (D)高山國。

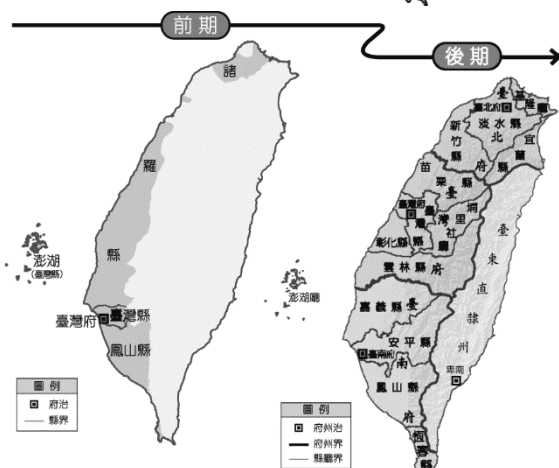
3. 鄭氏王朝在驅離荷蘭人後，於當地進行統治，並畫分行政區。當時將荷蘭人活動的區域正式改名為下列何者？

(A)臺灣 (B)大灣 (C)安平 (D)大員。

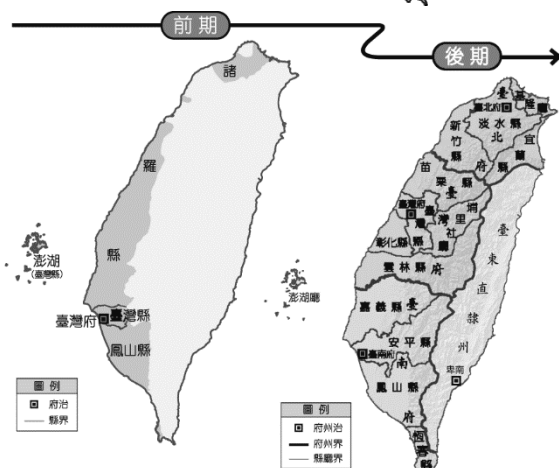
4. 圖(二)為清代的臺灣行政區畫分，由圖中位置判斷，前、後期的臺灣府分別位於今日何縣市？

(A)臺南；臺中 (B)高雄；臺中
(C)臺南；臺北 (D)嘉義；臺中。

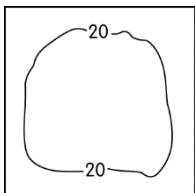
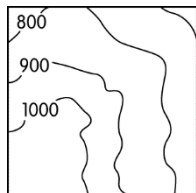
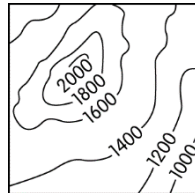
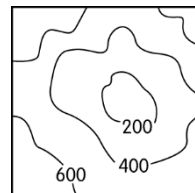
圖(一)

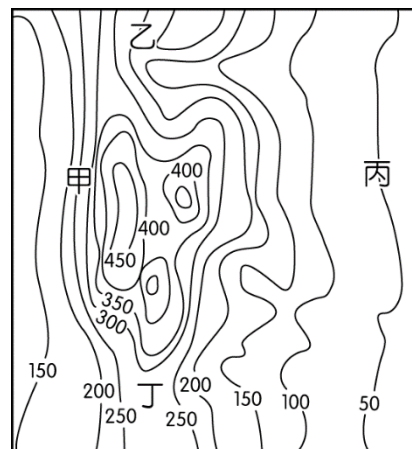


圖(二)



5. 臺北內湖區的「內湖」名稱最早見於清乾隆十三年（西元1748年），當時的古文便出現「內湖庄」的名稱。主要是因為當地境內周圍多山丘遍布，位於其中形成獨特地形景觀，當地人便以閩南語稱呼，因而得名。該地的等高線型態最接近下列何者？

(A)  (B)  (C)  (D) .



圖(三)

6. 新北市境內的「山佳」，其原名為「山仔腳」，其名稱可以追溯至清代時期的海山堡山仔腳庄。山仔腳地名主要來自於當地的自然環境，在日治時期改「山仔腳」為「山子腳」，國民政府來臺後則改稱「山佳」至今。該類型地名最可能出現於圖(三)中何處？

(A)甲 (B)乙 (C)丙 (D)丁。

題組 7-8

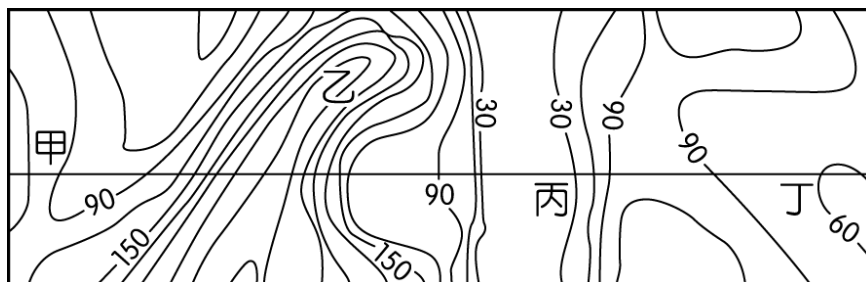
地名主要用來傳達當地的區域特性，呈現出其獨特的地理環境及歷史文化發展。臺灣在發展的過程中，曾歷經不同族群及朝代更迭，通常較高層級的行政區名稱愈容易隨之變化，反映了其歷史文化特色。臺灣的地名可以用來了解當時聚落生活的自然環境、人文活動、社群聚落和歷史文化的重要依據，當中以地形特徵來命名的比例最為普遍。回答下列問題。

7. 地名容易受到歷史發展過程而變化，我們若要根據地名來了解聚落早期的環境特色，則以下列何種層級的地名較為適合？

(A)市 (B)縣 (C)鎮 (D)村。

8. 自然環境中以地形來加以命名的狀況最為普遍，如圖(四)中哪一個地方最可能出現「崎頂」的地名分布？

(A)甲 (B)乙 (C)丙 (D)丁。



圖(四)

9. 自然環境的形成和地理位置有關，如圖(五)哪一個海岸條件最常出現「崙」的地名分布？

- (A)甲 (B)乙 (C)丙 (D)丁。

題組 10-12

檸檬是臺灣最具代表性的熱帶水果之一，全臺栽培面積超過1,400公頃，而全臺年均溫最高的地區種植面積更高達1,200公頃，占85.9%。某鄉鎮由於其獨特的栽種技術，所以品質獨冠全國，被稱為「檸檬之鄉」。

目前果農與農產加工整合服務中心合作，將盛產的水果進行初級加工，如製成的香檬原汁便成為明星商品，廣受消費者喜愛。他們更希望以此為基礎，提供消費者更好的體驗並提升其產品價值，創造出新商機。回答下列問題。

10. 根據文中該水果的生產環境條件判斷，圖(六)中哪一個地區為主要的產地？

- (A)ㄅ (B)ㄆ (C)ㄇ (D)ㄏ。

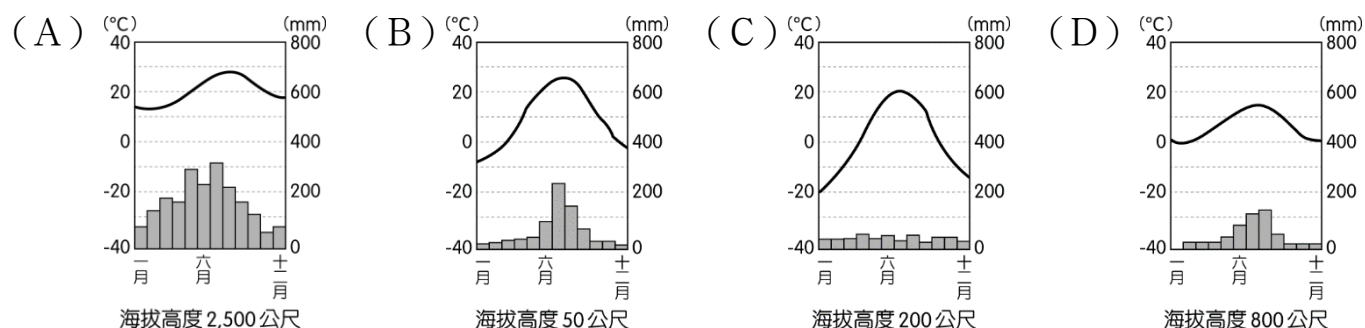
11. 由於得天獨厚的地理環境再加上生產技術，所以有「檸檬之鄉」的鄉鎮最可能為下列何者？

- (A)屏東縣九如鄉 (B)嘉義縣新港鄉 (C)苗栗縣尖山鄉 (D)宜蘭縣冬山鄉。

12. 當地的農夫目前正和相關單位合作生產，希望能提高其附加價值，增加農夫收入。下列何者較為適合？


- (A)擴大種植面積 (B)產品包裝設計 (C)提供宅配服務 (D)大量低價行銷。

13. 水果為國際貿易中主要的第一級產業類型，其生長條件受到自然環境的影響相當大。依選項圖中各地區的生長環境加以判斷，何者的水果種類最可能出現多樣化特色？



14. 隨著環保意識的抬頭，注重環境的飲食文化漸為大眾所接受，希望可以避免造成對地球的負擔。圖(七)為各種食物在生產過程中的氣體排放量，由圖中資料判斷，若要舉辦環保相關飲食博覽會，則應該避免使用下列何種食材？

- (A)米 (B)養殖魚肉
(C)牛肉 (D)根莖類蔬菜。



題組 15-17

近年來，生物科技以超乎想像的速度在進步，如我國所參與的國際合作計畫「水稻全基因體定序分析」，使得水稻成為第一個全基因體定序的作物，完整的序列資訊讓人類得以精準控制水稻的高度、產量、耐旱力、抗病力等多種特性。基因工程也為了人類的發展做出貢獻，回答下列問題。

15. 文中基因定序作物的分布區域主要位於圖(八)何處？

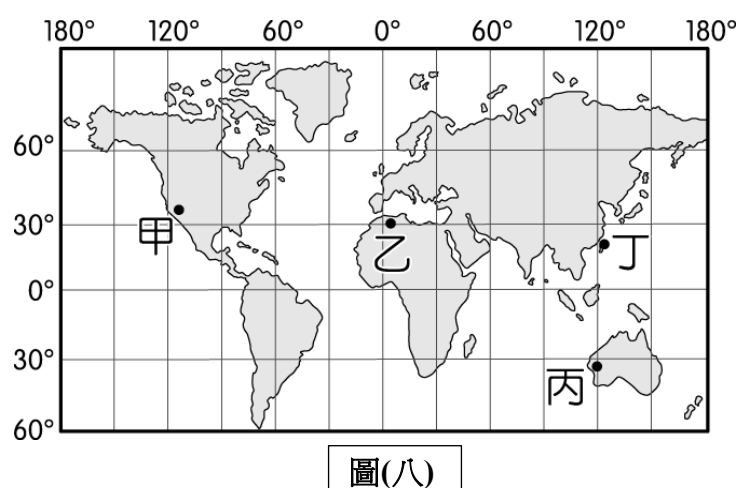
- (A)甲 (B)乙 (C)丙 (D)丁。

16. 依該作物的生產環境加以判斷，其基因改造最可能為改善下列何種不利生長的環境限制？

- (A)乾燥少雨 (B)降水豐富 (C)地勢低窪 (D)氣溫太高。

17. 文中的基因技術發展，最主要的目的為克服極端氣候的限制，達到下列何種目的？

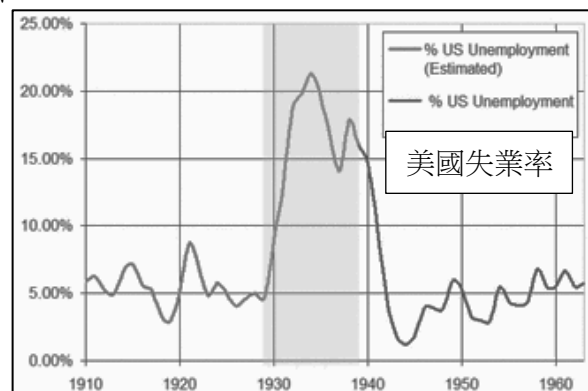
- (A)提高作物品質 (B)減少作物買賣 (C)增加作物產量 (D)利於作物運輸。



【歷史部分第18-34題】


1.「雅爾達會議」對二戰後的世界局勢有著深遠的影響，甚至有「雅爾達體系」之稱。請問關於此會議，下列何者錯誤？ (A)參與會議的領袖有羅斯福、邱吉爾、蔣中正、史達林 (B)戰後德國領土將由四國分佔管理 (C)東歐地區將由蘇聯管轄 (D)蘇聯將獲得中國東北特權。

2.右圖灰色區塊的曲線顯示了20世紀30年代的重大事件，請問當時世界各地的處境，何者有誤？ (A)美國經濟大受打擊直到「新政」上路 (B)蘇聯推行計畫經濟失靈 (C)日本藉由軍國主義侵略中國取得資源 (D)德國經濟惡化、通貨膨脹嚴重。



3.「日耳曼之所期待普魯士的，並不是它的自由主義，而是它的實力。當前的重大問題不是通過演說或通過半數的投票所能決定的…只能用鐵和血來解決！」上述是一場著名的演說，請問關於演說的主角，下列何者正確？ (A)他將日耳曼地區整併成三十多邦 (B)他主導成立關稅同盟，奠定日耳曼地區統一基礎 (C)他帶領普魯士先後擊敗奧國、法國 (D)他響應塞拉耶佛事件，支持奧國宣戰。

4.德國從19世紀下半葉建國以來，參與多次重大戰爭並影響世界的走向。下列三幅政治漫畫 (political cartoon) 都是德國經歷過的事件，請依據時間先後排序：(A)甲乙丙 (B)乙丙甲 (C)丙甲乙 (D)甲丙乙。



5.小明的歷史講義上有以下統整內容，請問這可能是來自哪份歷史文件？

- ①歐洲列強不應再殖民美洲，或涉足美國與墨西哥等美洲國家之主權相關事務。
- ②對於歐洲各國之間的爭端，或各國與其美洲殖民地之間的戰事，美國保持中立。
- ③相關戰事若發生於美洲，美國將視為具敵意之行為。

(A)獨立宣言 (B)門羅宣言 (C)人權宣言 (D)開羅宣言。

6.日本曾於1895~1945年間統治臺灣，臺灣的政治、經濟、社會等層面也因此深受影響，留下了嘉南大圳、西部縱貫鐵路等建設，臺灣人的日常生活語言也保留了許多日語化的臺語，然而50年的統治也曾爆發許多抗日與鎮壓的血淚歷史。請問下列「統治—被統治」關係中，哪個配對的統治本質與日本治臺有所不同？ (A)英國—印度 (B)法國—越南 (C)葡萄牙—巴西 (D)德國—西南非。

7.「德法戰爭」從1870年7月19日開始至1871年1月28日結束。這場為期半年的戰爭影響了歐洲的局勢，請問下列影響何者正確？ (A)義大利王國終於統一 (B)德意志帝國隨後又打敗奧國完成統一 (C)戰爭結束時，歐洲形成三國同盟與三國協約的局面 (D)德皇威廉一世宣告成立關稅同盟。

8.曾有一群殖民地代表在費城 (Philadelphia) 共同發表下列宣言：

……我們認為下述真理是不言而喻的：人人生而平等，造物主賦予他們若干不可讓與的權利，其中包括生存權、自由權和追求幸福的權利。為了保障這些權利，人類才在他們中間建立政府，而政府的正當權力，則是經被治者同意所授予的。任何形式的政府一旦對這些目標的實現起破壞作用時，人民便有權予以更換或廢除，以建立一個新的政府。……

請問關於此事件的前因後果，下列何者正確？ (A)他們的殖民母國因為內戰問題而想要徵稅 (B)殖民地代表在波士頓宣布獨立 (C)他們在英國的協助下戰勝了殖民母國 (D)他們建立了歷史上第一個民主共和國。

9.歷史課後，同學們討論起一位歷史人物，請問是下列哪一位？

阿鴻：拉丁美洲各國因此有機會獨立建國
小靜：奧國首相還因此廣邀各國君主召開會議商討歐洲新局勢
小君：自由、平等、博愛的精神因此傳播至歐洲各地
阿瀚：歐洲各地的民族意識因而被喚起

(A)華盛頓 (B)拿破崙 (C)門羅 (D)玻利瓦。

10.請問資料中所提到的美國憲法修正案應是與下列哪件事情有關？

資料一：「3月8日為國際婦女節源自於19世紀末以來對女權的爭取」
資料二：「美國的第19條憲法修正案寫著：『合眾國或任何一州，不得因性別而否認或剝奪合眾國公民的選舉權，國會有權以適當立法實施本條規定。』」

(A)啟蒙運動 (B)工業革命 (C)門羅宣言 (D)第一次世界大戰。

〈波蘭外長：北約部隊在烏克蘭的存在並非不可想像〉

波蘭外交部長西科爾斯基 (Radosław Sikorski) 3月8日在華沙大學出席波蘭加入北約25週年的紀念活動時表示，面對俄羅斯對歐洲安全的威脅，西方必須採取相應行動，並指「如果西方的政治家們認為普京統治下的俄羅斯已經對我們的生存構成威脅，那麼我們就必須根據診斷結果採取行動。」西科爾斯基在會議探討期間還表示，「北約部隊在烏克蘭的存在並非不可想像。我讚賞馬克龍總統的倡議，因為這是關於普京害怕，而不是我們害怕普京。」(取材自RFI法國國際廣播電台，2024年3月8日)

11.根據上述新聞，位於東歐的波蘭當年加入「北約」深具意義，請問下列何者**錯誤**？ (A)代表蘇聯已經瓦解 (B)代表獨立國家國協決定向俄羅斯抗爭 (C)代表華沙公約組織瓦解 (D)代表東歐國家已逐漸與西方國家建立關係。

題組29-31

巴勒斯坦激進組織「哈瑪斯」(Hamas)於2023年10月7日清晨，對以色列發動50年以來最大規模突襲，以國政府稱平民和士兵有逾百人質被哈瑪斯俘擄劫持，哈瑪斯並向耶路撒冷等城市發射了5千枚火箭。這場突襲讓以色列時隔50年再次進入全面戰爭狀態並展開報復攻擊，加薩走廊地區陷入戰火之中，雙方死傷慘重。在以色列與哈瑪斯的戰事將近6個月之際，聯合國安全理事會(簡稱安理會)通過一項決議，要求以色列應「立即停火」直到2024年4月9日穆斯林齋戒月結束。決議過程中，安理會15個現任理事國，有14國投下贊成票，而美國過去曾動用否決權，這次則選擇棄權。

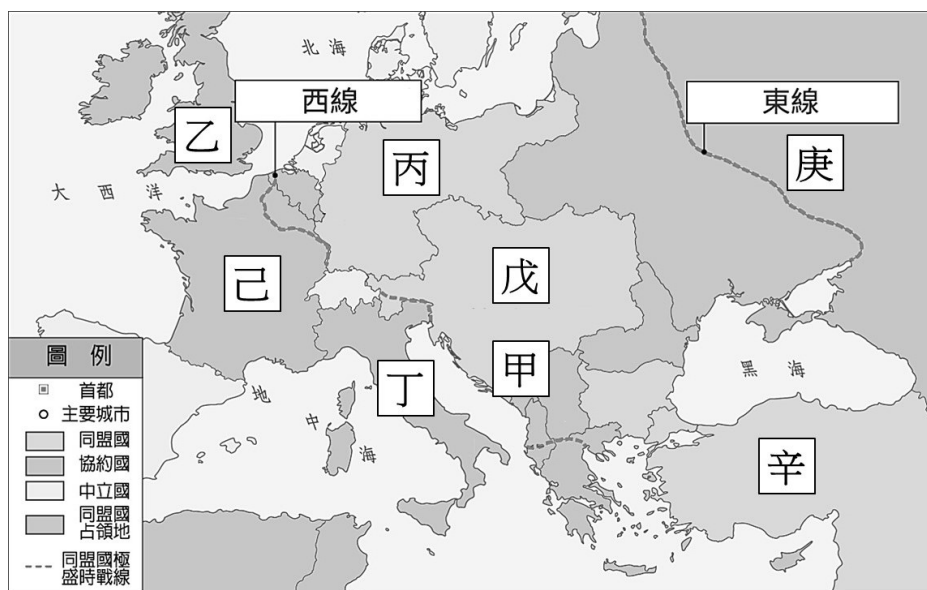
- 12.以歷史的角度看，哈瑪斯為何要對以色列發動攻擊？ (A)爭奪耶路撒冷的統治權 (B)報復以色列引發能源危機 (C)以色列建國占用了巴勒斯坦的領土 (D)以色列強迫巴勒斯坦改信猶太教。
- 13.根據上述報導，居住在巴勒斯坦地區的人屬於哪一民族？ (A)阿拉伯人 (B)土耳其人 (C)斯拉夫人 (D)日耳曼人。
- 14.關於文章所稱的「安理會」，下列何者正確？ (A)現今除了美國，擁有否決權的國家還有中、英、法、蘇 (B)安理會除了維持世界和平、解決國際糾紛，也負責經濟文教等議題 (C)安理會屬於國際聯盟時期就已存在的組織 (D)安理會有權要求會員國組織維和部隊。

題組32-34

右圖是第一次世界大戰的戰爭局勢圖，請回答下列問題：

- 15.引發一戰的王儲暗殺事件，發生地點在哪裡？ (A)甲 (B)丙 (C)丁 (D)辛。
- 16.因為國內接連發生兩次革命而提前退出戰場的是哪一國？ (A)乙 (B)戊 (C)己 (D)庚。
- 17.關於「丁」國在大戰前後的變化，下列何者正確？

- (A)大戰之前屬於協約國陣營
(B)大戰結束後因為「民族自決」原則而瓦解
(C)因屬於戰敗國，經濟崩盤，法西斯黨崛起
(D)在戰間期加入軸心國陣營。



【公民部分第35-50題】

- 18.「2020年新冠疫情期間，一則訊息在社群通訊軟體中快速傳遞，內容是說明口罩與衛生紙的製作原料相同，當政府極力生產口罩之時，衛生紙、紙巾等衛生類紙製品將面臨短缺。民眾為此開始瘋狂搶購，賣場大排長龍，商品只要一上架即刻銷售一空，價格也因此水漲船高。政府為遏止亂象，不停宣導此為假訊息，希望民眾查證事實，不要輕信網路謠言……」以上節錄《中時新聞網》的新聞內容凸顯了，在科技資訊帶來的便利生活之下，何者的重要性？
(A)貧富不均 (B)政治全球化 (C)智慧財產權 (D)媒體識讀能力。
- 19.志鴻至東南亞國家旅行時，在社群網站的限時動態上分享自己的見聞：「當地友人John請我吃飯，他在一家1,000人左右的成衣工廠上班，這家歐美名牌銷售世界各地，隨便一件襯衫都要價2,500美元以上，但John每天的薪水卻不到10美元，折合新臺幣約280元，他說國內成衣工廠的工資都差不多。」根據以上內容判斷，下列敘述何者最正確？
(A)位於開發中國家的生產鏈只獲取微薄的利潤
(B)開發中國家多將企業的總部設在東南亞國家
(C)跨國經濟活動已促成開發中國家的農業發展
(D)跨國企業多在勞工工資較高的國家設置工廠。
- 20.每當有新片上映，Emma會將整部電影的內容剪輯，用搞笑的方式講述評論，上傳至影音平臺。由於看完評論影片就好像看完整部電影，因此吸引許多觀眾收看，也得以賺入大量的廣告收入。但日前Emma卻遭電影公司提告侵權，因為電影公司認為他的行為已超過合理使用的範圍。請問：Emma的行為被視作超過合理使用的範圍，應是基於下列何項原因？
(A)講述方式不當 (B)不受觀眾喜愛 (C)用於商業營利 (D)評論內容不實。
- 21.2019年，行政院核定數位身分證換發計畫，數位身分證的功能包括：提供國人從出生協助、就學補助、就業輔導，到終老關懷...等，多元面向的個人化服務。行政院沒有料到，迎來的是一波波反對聲浪。反對者表示，紙本身身分證對人民的隱私侵害較有限，一旦數位化，就會有數位足跡被記錄、洩漏的風險。原本規畫的晶片卡提供了臉部辨識等資訊，若控管不佳，國民的個人資料會四處流通。在各種質疑聲中，行政院宣布暫緩發行數位身分證。臺灣要真正成為數位國家、智慧政府，還有許多挑戰需要克服。(資料來源：改寫自從被迫喊卡的數位身分證政策，看臺灣與「數位國家」的距離，報導者，2021/1/27。)根據上文，行政院推行數位身分證的時候忽略什麼因素，導致遭到反彈？
(A)個人隱私遭到侵犯 (B)資訊技術發展落後
(C)福利制度不夠完善 (D)政府部門經費不足。
- 22.2020年知名樂團「蘇打綠」與恩師林暉哲雙方因樂團名稱所有權爭議，商標官司打了數年，一度為此改名「魚丁糸」登台表演，後來林暉哲聲明放棄「蘇打綠」的商標所有權，魚丁糸正式拿回「蘇打綠」的名字。蘇打綠商標，由智慧財產局正式發布公告，自10/1起商標權將由蘇打綠公司取得，為期10年。關於商標權的敘述，何者正確？
(A)保障智慧財產，是屬於憲法的自由權 (B)商標設計完成，即自動享有保障
(C)若侵害他人商標，必須負起損害賠償的刑事責任 (D)必須申請審查通過後才能取得權利。
- 23.關於「歐洲聯盟」救援巴基斯坦規模7.6強烈地震的行動，下列敘述何者正確？
(甲)地震發生地點原本就存在貧窮的問題，加上天然災害的襲擊，當地的人民處境更是雪上加霜，極需更多國際社會共同援助。
(乙)國際間發生的事情，常直接或間接牽動現代人的生活，只靠單一國家的力量往往無法有效解決，需仰賴其他國家或國際組織的通力合作。
(丙)人道的救援行動，正落實聯合國的「人權兩公約」的精神。
(丁)落後國家的危機，與其他先進國家無關，我們不需多加關注。
(A)甲乙丙丁 (B)甲乙丙 (C)甲乙 (D)甲。
- 24.五年來Karine因新冠疫情與烏俄戰爭的影響，無法從台灣返回故鄉烏克蘭，都只能透過網路以視訊的方式，確認故鄉家人的近況。生活在地球村裡的二十一世紀世界公民，能夠打破國與國之間的領土界限，「零時差」的即時溝通心思意念，甚至傳遞當下彼此的現況，最主要因素為何？
(A)電腦網路的使用 (B)電影電視的播映 (C)交通工具的便捷 (D)人民的跨國遷移。
- 25.課堂上，同學們針對全球化的議題進行討論，下列哪位同學的發言正確？
(A)枉國：因為科技及交通運輸等因素的改善，才興起的新概念。
(B)智旻：可透過有形的跨國企業擴張，但不能傳導無形的文化。
(C)子瑜：以多種面向快速流動，每種面向相互重疊、交互影響。
(D)彩英：有助於各國經濟發展，縮短貧富差距，促進勞工權益。

26. 新冠疫情期間我國為防堵國內疫情蔓延，提高施打疫苗的人數。為取得足夠的疫苗，政府購買外國疫苗並搭配國產疫苗，部分民間企業及公益團體也積極與外國藥廠申購疫苗，最終順利讓疫苗抵臺。依據上文，下列敘述何者正確？
- (甲) 民間企業的作為將會增加我國的貿易收入
(乙) 此進口政策影響我國疫苗產業的資源分配
(丙) 此次政策的成功有賴於政府與民間的協力
(丁) 我國政府機關才是國際貿易中的主要角色
- (A) 甲乙 (B) 乙丙 (C) 甲丙 (D) 甲丁。
27. Rose參加某團體發起的「寫信馬拉松」的活動，以寫信的方式聲援國際上人權受侵害的人們，表達捍衛人權的決心。他可能是參加下列哪一個團體所舉辦的活動？
- (A) 臺灣世界展望會 (B) 國際特赦組織 (C) 臺灣綠色和平組織 (D) 聯合國。
28. 2019年底全球疫情爆發時，臺灣可說國際上的「防疫模範生」，不僅支持我國加入世界衛生組織的呼聲提高，亦透過贈送醫用口罩給他國的方式進行「口罩外交」然而隨疫情擴散，日本捐贈疫苗給臺灣，讓網友大「臺日友好」，並且表示等疫情過後至日本觀光消費。下列四位同學針對這樣的情況發表言論，何者推論正確？
- (A) 峻碩：臺灣收到日本捐贈的疫苗，可見只要維持良好國際關係，完全不加入國際組織也無所謂。
(B) 子翔：臺灣捐贈口罩給多國，卻仍舊無法加入世界衛生組織，可見口罩外交對我國國際參與沒有幫助
(C) 鋒澤：疫情初期，臺灣的防疫表現十分亮眼，可以說是透過醫療實力增加國際能見度的好機會。
(D) 有翔：疫情期間臺灣對歐美各國贈送口罩，為國際援助的一種方式，可讓我國直接加入世界衛生組織。
29. 安惠珍跟著母親去大賣場採買，她注意到媽媽會特別選購貼有公平貿易認證標籤的商品。請問：購買貼有這張標籤的商品有何意義？
- (A) 其收益將協助落後國家的國際貿易
(B) 這張標籤保證了商品原料的品質
(C) 此商品的品質經過世界衛生組織認證
(D) 貿易商是以公平、合理價格向生產者購買原料或產品。



題組47-48

為了讓我國商品打入國際市場，行銷全世界，臺灣努力多年，終於在2002年加入世界貿易組織(WTO)，在遵守WTO有關地理標示的規定之下，政府修訂法律，建立「產地標章」制度，優異的農產品能藉此展示品質證明，在市場上提高辨識度，也能防止劣質仿冒品魚目混珠，保護農民權益，農民的收益因此提高，遠近馳名的「池上米」即是我國第一個取得產地標章認證資格者，另外還有茶葉、羊肉、文旦、水產等。而隨著WTO開放市場，許多農產品進入國內，國人的主食不再只限於米製品，來自各地的異國料理口味也逐漸擄獲國人的胃。請問：

30. 上文中畫底線處的內容，呈現出下列何種現象？
- (A) 能源全球化 (B) 政治全球化 (C) 教育全球化 (D) 文化全球化。
31. 根據上文，全球化所造成的影響，下列論述何者正確？
- (A) 我國在國際上自由進行經濟活動 (B) 與其他國家經濟依存的程度降低
(C) 國內的飲食文化逐漸呈現單一化 (D) 商品和資金的流動受到地域限制。

題組49-50

海洋汙染問題隨著現代化和全球化日趨嚴重，例如：油類、重金屬、塑膠製品、垃圾等廢棄物被排入海洋，造成魚貝類、珊瑚、海鳥的死亡，影響海洋生態圈的平衡，海洋生物在吸收有毒物質後，也讓站在食物鏈頂端的人類同蒙其害。歷經20多年的協調，聯合國終於促成《全球海洋公約》的簽定，各國協議在2030年前，將全球30%的海域納入保護區，在海洋保護區內，不得從事捕撈、採礦、鑽取油井等可能破壞海洋生態的行為，希望此公約能確實落實，維護全球生物的多樣性，讓海洋資源獲得永續發展。請問：

32. 上文中呈現的國際社會互動型態，下列敘述何者正確？
- (A) 透過民間力量，進行國際交流 (B) 採取外交談判，解決國際衝突
(C) 藉由國際合作，解決共同問題 (D) 基於人道關懷，提供國際援助。
33. 上文中提及的國際組織，若依據成員的性質區分，應與下列何者相同？
- (A) 國際反地雷組織 (B) 無國界醫生 (C) 國際特赦組織 (D) 亞太經濟合作會議。

本試題卷結束