

地理部分:1-17

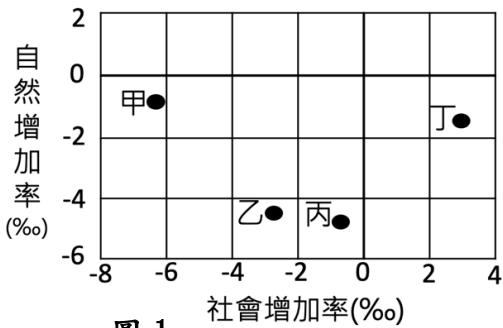


圖 1

表 1

	甲	乙	丙	丁
出生率(‰)	2	5	8	4
死亡率(‰)	1	4	2	4
人口增加率(‰)	10	-5	-2	2

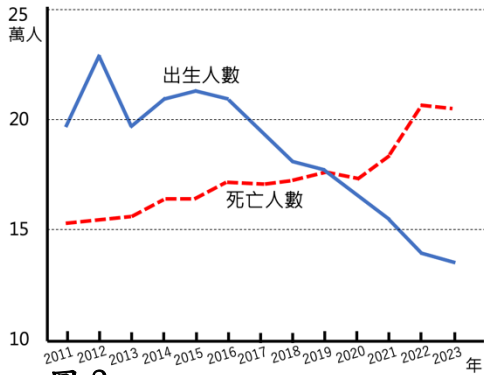


圖 2

1. 圖 1 為 2020 年臺灣四個地區的自然增加率及社會增加率圖。請問圖中哪一個地區為人口正成長？  
(A)甲 (B)乙 (C)丙 (D)丁。
2. 表 1 為四個地區的人口資料。由表中資料研判，哪一地區的「人口外移」現象最嚴重？  
(A)甲 (B)乙 (C)丙 (D)丁。
3. 圖 2 為全臺 2011 年至 2023 年出生人數與死亡人數統計圖，根據圖中資料判斷，下列哪項為此種變化趨勢最可能帶來的影響？  
(A)國民平均壽命提高 (B)外籍配偶人數增加 (C)各級學校招生困難 (D)長者照護需求降低。
4. 根據 2023 年資料統計，屏東縣面積約 2,700 平方公里與香港面積相近，但屏東縣人口僅約 79 萬人，香港則約有 750 萬人。由上文推論，下列哪個說明較正確？  
(A)屏東縣每人所擁有的空間大 (B)屏東縣社會增加率高於香港  
(C)香港的性別比較屏東縣失衡 (D)屏東縣的人口密度高於香港。
5. 烏克蘭籍模特兒瑞莎因工作來到臺灣，與臺灣男子結為夫妻，爾後放棄烏克蘭國籍，於 2016 年取得中華民國身份證，成功入籍臺灣。請問：就瑞莎而言，她屬於何種人口遷移的情況？  
(A)暫時性、國際遷移 (B)暫時性、國內遷移 (C)永久性、國內遷移 (D)永久性、國際遷移。
6. 美呀為了給小新一個適合的讀書環境，決定要搬家，但她遲遲拿不定主意，四位親朋好友紛紛給她意見。請問：美呀的朋友們所描述，應屬於人口遷移的哪些型態？  
(A)都市拉力、鄉村拉力 (B)都市拉力、鄉村推力 (C)都市推力、鄉村推力 (D)都市推力、鄉村拉力。

阿花：搬到鄉下住，工作難找啊！
罔腰：都市的房子，存一輩子的積蓄也買不起。
阿珠：鄉下好山好水好無聊，夜市還不是天天有！
招弟：都市空氣差，會讓你兒子的氣喘好不了！

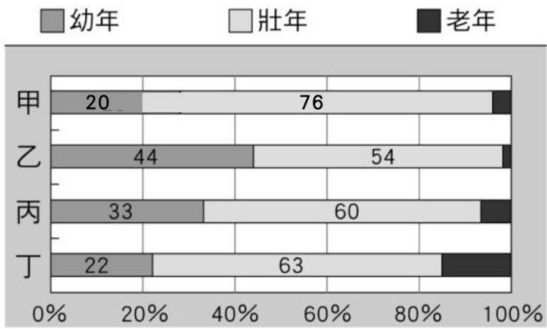


圖 3

7. 圖 3 是四個地區的人口年齡結構圖，請問圖中哪個地區的扶養比最重？  
(A)甲 (B)乙 (C)丙 (D)丁。
8. 國內知名旅遊集團於 2020 年 3 月正式宣布啟動「資產活用」計畫，除了將旗下客棧改建成商辦大樓，在新竹關西將開發全新的「生態度假村」品牌，並打造「樂齡友善社區」，瞄準地即是未來養生村的市場，期盼透過全新佈局的商業模式能搶佔市場先機。請問：關於此旅遊集團看重的是臺灣未來何種人口現象？  
(A)工業化 (B)都市化 (C)高齡化 (D)少子化。
9. 「2024 年臺灣燈會在臺南」，臺南市政府特別在安平展區規劃新住民燈區，為展現新住民的熱情與生活態度，讓大眾能更了解多元共融的臺灣。請問該新住民燈區，最可能以哪些國家的文化為主？  
(A)印尼、印度 (B)印尼、越南 (C)中國、印度 (D)中國、柬埔寨。
10. 新聞報導：「全臺人瑞破 5 千人創新高！」「長命百歲」早已經不是夢想，長壽正在發生。」如圖 4 所示，根據圖片判斷，政府最可能以下列哪一項政策面對此發展趨勢？  
(A)廣設幼兒托育中心  
(B)健全老人福利制度  
(C)引進高階技術人才  
(D)提高生育津貼補助。



圖 4

11. 2023 年 1 月 10 日新聞報導：「據內政部統計，民國 107 年到 111 年 9 月，全臺人口社會增加最多的鄉鎮市區是新竹縣竹北市，移入近 2 萬人；其次是新北市林口區、淡水區，因新市鎮開發，相較於臺北房價負擔沒那麼大，吸引民眾移居。另外，許多搬入竹北的人表示，因為臨近新竹科學園區，上班方便，加上未來多家大廠進駐，將會有更多就業機會，帶動人口移入；另外，大型百貨公司進駐竹北後，也讓生活機能更加完整。」請問根據上文，下列敘述何者正確？

- (A)「臨近新竹科學園區」是竹北市的拉力 (B)「房價較臺北市便宜」是淡水區的推力
- (C)「科技大廠大舉徵才」是林口區的拉力 (D)「大型百貨公司進駐」是竹北市的推力。

12. 表 2 為 112 學年度鷺江國中人數統計表，請問下列哪一項敘述較符合鷺江國中目前學生人數的性別組成？

- (A)全校學生的性別比小於 100
- (B)全校學生的性別比大於 100
- (C)近三年入學的女生人數愈來愈少
- (D)近三年入學的男生人數愈來愈少。

表 2

	男生人數	女生人數
七年級	295 人	267 人
八年級	255 人	269 人
九年級	282 人	265 人
全校	832 人	801 人

13. 不同族群匯聚在臺灣這片土地上，使得臺灣擁有各式各樣的美食與多元的文化。請問以下美食來源與族群配對，何者正確？

- (A)吉納福：原住民 (B)生春捲：閩南人 (C)珍珠奶茶：戰後移民 (D)蘿蔔糕：新住民。

14. 圖 5 為世界人口密度分布圖，根據圖片判斷，下列敘述何者正確？

- (A)亞洲人口分布較均勻
- (B)人口分布集中北半球
- (C)臺灣東部人口密度高
- (D)沿海普遍人口密度低

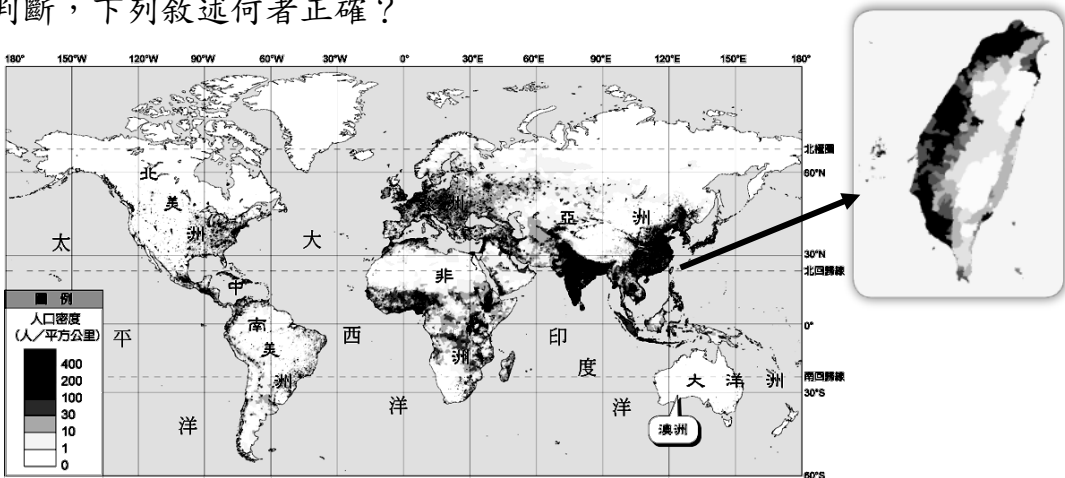


圖 5

【題組題】

圖 6、圖 7 分別為臺灣 1970 年與 2070 年(推估)的人口金字塔圖，請依圖片回答第 15~17 題：

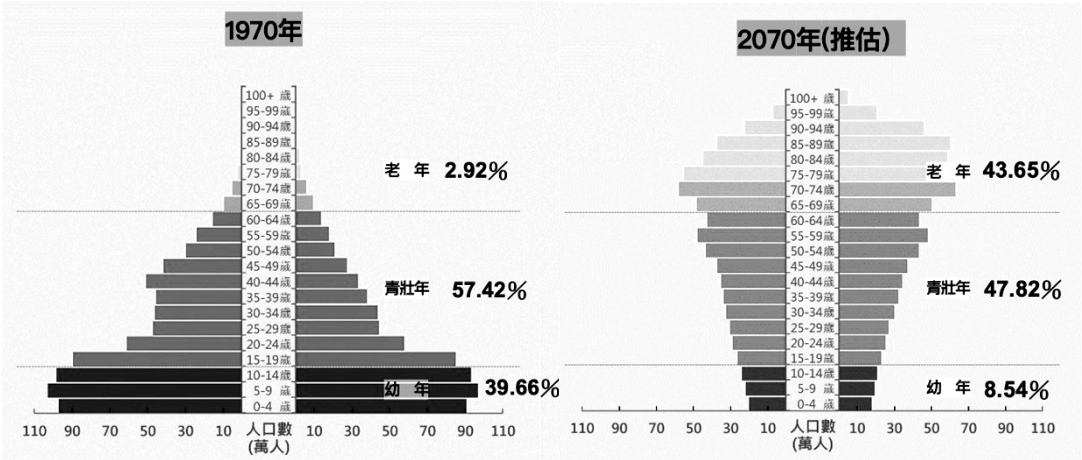


圖 6

圖 7

15. 人口金字塔可幫助我們了解一個國家的人口組成，請問下列哪些人口組成情形，可以從人口金字塔圖觀察得到？

- (A)性別、種族 (B)年齡、性別 (C)性別、教育程度 (D)年齡、人口密度。
16. 比較圖 6、圖 7，下列敘述何者正確？
- (A)1970 年時的出生率較低 (B)1970 年時老年人口較多
  - (C)2070 年時的死亡率偏高 (D)2070 年時扶養比比較高。

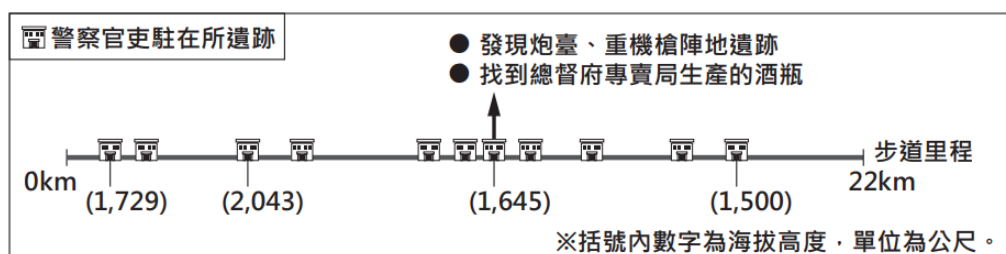
17. 由圖推測此兩時期臺灣的社會、經濟發展情況，下列敘述何者可能最正確？

- (A)1970 年時邁入高齡化社會
- (B)1970 年經濟發展條件較佳
- (C)2070 年高齡少子化趨勢強
- (D)2070 年勞動人口非常充沛。



歷史部分 18-34

18. 臺灣歷史上曾出現一份重要宣言：「吾臺民，誓不服倭，與其事敵，寧願死。爰經大會議決，臺灣自立，改建民主國，官吏皆由民選，一切政務秉公處理。」從上述宣言內容判斷，下列何者最正確？(A)此宣言發佈於西元1884年清法戰爭後 (B)文中所提之誓不服「倭」的倭，意指法國人 (C)文中提到大會議決後，臺灣自立改建之「國」，其國旗的圖像為藍地天龍旗 (D)宣言中所欲建立的國家，最後亦無法扭轉臺灣的最終命運。
19. 據報導：「自從高鐵通車後，各國觀光客前往臺灣中南部遊玩更為方便。其中位於日月潭附近的涵碧樓，成為觀光客住宿的首選。日治時期涵碧樓飯店的擴建和日月潭發電所的興建有很大關係，當時飯店擴建為兩層樓的檜木造建築，就是為了做為總督及官員視察之用。」根據上文報導判斷，關於涵碧樓的擴建，下列說明何者最正確？(A)涵碧樓的擴建始於日治初期 (B)其擴建時約當台灣經濟政策已步入「工業臺灣」之際 (C)其擴建最主要的目的是為強力發展臺灣觀光業，以解決臺灣財政問題 (D)當時到涵碧樓視察的總督，多具文官身分。
20. 西元1916年，總督府下令：「凡是寺廟團體的管理人、僧道術士、女巫、卜卦、看命等，均在受查的行列，必須在時間之內，親自帶著帳籍土地謄本，還有相關的書籍資料，親自接受調查，各寺廟團體所慣用的法器，龜殼竹籤之類的工具，也要一併攜帶，以備檢閱。」關於總督府此項調查，下列敘述何者最正確？(A)此調查是針對莫那魯道，意圖減化他的影響力 (B)此項調查活動由壯丁團主導，警察從旁協助 (C)此調查目的為防止類似噶吧嘰事件再度發生 (D)總督之所以下令調查，是不想民族自決的觀點在台灣擴散開來。
21. 圖(一)是霞喀羅國家步道的介紹圖，其舊名為「霞喀羅、薩克亞金警備道路」。此道路的開闢，是由過去臺灣統治者下令修築。根據圖中內容判斷，下列敘述何者最正確？(A)因為當時的統治者欲實施劃界封山政策，所以修建此道路 (B)圖中道路的開闢，有助統治者達到鼓勵外來資本家在此區域建造新式工廠的目的，而台灣更在當時成為世界糖業王國之一 (C)原住民族在下圖道路開發完成後，其生活在當時有了翻天覆地的巨大變化 (D)此道路的完成，有助磯永吉農業品種改良的成功。



圖一

圖二



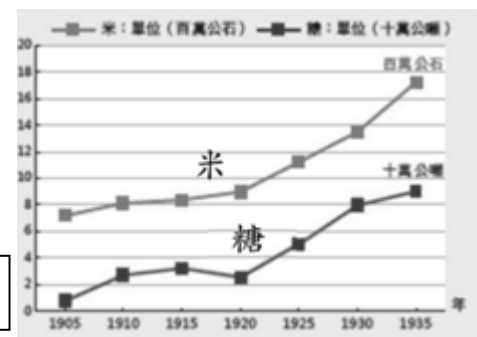
22. 圖(二)呈現某水圳的要灌溉水道，關於此水圳及其灌溉水道的說明，下列何者的解讀最正確？(A)此水圳的水源是引濁水溪之水，為漢原合作興建的水圳 (B)此水圳為清帝國統治時期規模最大的水利工程 (C)水圳是由後藤新平規劃、設計並於1930年完工 (D)水圳完工後水田比例大幅增加，突破原本看天種地的耕作限制。
23. 日本海軍大將樺山資紀因為曾參與牡丹社事件來過臺灣，因此被指派為臺灣首任總督，治臺時間約達一年多。樺山資紀在擔任總督時，不需要面對和關心下列哪個問題？(A)臺灣最高統治機構該落腳於何處 (B)思考如何處理臺灣民主國的反抗 (C)確認總督立法權行使的情形 (D)全力落實相關政策，好讓台灣「國語家庭」戶數可以大幅增加。
24. (圖三)是《KANO》這部電影的宣傳海報，這部電影是在描述日治時期的「臺灣公立嘉義農林學校」棒球隊，在日籍教練的調教下，代表臺灣參加日本甲子園比賽，過關斬將拿到第二名，震撼臺日的故事。當時這支球隊是由日本、臺灣、原住民學生球員共同所組成，而這樣的組合最吻合總督府哪個階段的統治政策？(A)內地延長主義時期 (B)皇民化運動時期 (C)殖民地特殊統治時期 (D)南進政策。

圖三



25. 伊藤博文在戰後談判時，曾對李鴻章說：「日本統治臺灣後，必使鴉片禁斷。」但日本治臺第二年(西元1897年)，認可鴉片吸食者共五萬五千人。到了西元1900年，便追加到十七萬人。日本當局甚至在今天臺北市南門附近設立鴉片製造工廠。臺灣吸食鴉片的人在日本統治後不減反增，其原因最有可能為何？(A)總督府採漸禁態度，放任人民可以隨意販賣鴉片 (B)臺灣人口在短短三年內大增，所以吸食鴉片者變多 (C)鴉片很便宜，許多人都買得起，因此吸食者眾多 (D)政府為增加稅收，獲取更多利益，並沒有嚴禁鴉片。

26. (圖四)是日治時期臺灣米糖產量變化圖，關於米糖產量的變化發展，下列何者的說法最不正確？(A)肇因於大型發電所的完工 (B)得利於大型水利設施的興建 (C)稻米品種改良的貢獻 (D)總督府的獎勵政策，使蔗糖產量得以在1920年後大幅度增加。



圖四

★題組一

炳翰是出生於西元1910年的臺灣人，小時候的他很調皮常常把媽媽氣得暴跳如雷，爸爸總是說：「你再不乖，大人就會把你抓走哦！」

他回憶起小時候常常覺得很莫名其妙，有時明明是某個鄰居環境打掃不徹底，結果左鄰右舍大家都要跟著受罰，但是大家也不敢反抗，只能跟著一起被處罰。不過因為炳翰的爸爸是在臺灣第一家新式製糖廠工作，所以他有時候可以吃到爸爸從糖廠帶回來的蔗糖，那是炳翰年幼時最開心的回憶。

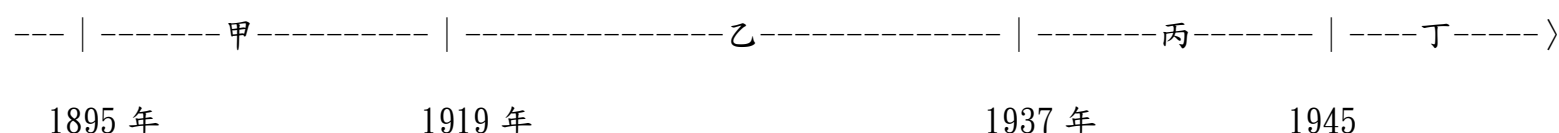
炳翰的舅舅則是住在臺南的農夫，舅舅的兒子，也是和炳翰感情最好的表哥，從小就幫家裡種田，但後來卻受到徵召而到前線參加戰爭，炳翰每天都在為他祈禱，還好表哥最後平安回家。

長大後的炳翰，在當時臺灣最大的水力發電廠工作，他常常跟父母說：「我們發電廠對臺灣貢獻很大．．」之類的話，所以炳翰的父母一直很都很以他為榮，似乎已經忘記他小時候的調皮事蹟！

27. 上面短文裡所提到的「大人」，我們該如何解讀最正確？(A)「大人」嚴密控制臺灣人民的生活，台灣人民非常懼怕他們，因此臺灣的「大人」和百姓的人數比例，較日本及韓國地區來得低 (B)「大人」協助保正、甲長，進行人口調查或疾病防疫等工作 (C)壯丁團必須聽從「大人」指揮，進行救災或鎮壓抗日分子 (D)當時的「大人」全部都是由日本人擔任。
28. 根據短文的描述，炳翰爸爸工作的地點最可能在下列哪一個地方？(A)花蓮 (B)高雄 (C)苗栗 (D)臺北。
29. 為了配合政府的農業政策好滿足內地的需求，當時炳翰舅舅最可能被鼓勵種植哪些作物？(甲)茶葉 (乙)甘蔗 (丙)樟腦 (丁)水稻 (A)乙丁 (B)乙丙 (C)丙丁 (D)甲乙。
30. 短文中提及，炳翰的表哥被徵召到前線作戰。請問：炳翰的表哥最不可能經歷或看到下列哪一種情形？(A)在戰場上遭遇中國籍士兵 (B)同期被徵召的原住民同胞，許多被要求前往南洋參與戰爭 (C)炳翰表哥在家時，常被警察或保正要求要多說日語，祭拜神社 (D)最後表哥是勝利返國。
31. 炳翰說：「我們發電廠對臺灣貢獻很大．．．」，請問：炳翰所指的貢獻，指的可能是下列何者？(A)讓臺灣得以全力發展農業 (B)讓臺灣成為商業王國 (C)提供臺灣全島充足的電力 (D)讓臺灣得以朝向工業化社會發展。

★題組二：

下面的數線圖分別以甲、乙、丙、丁，代表台灣歷史上的四個重要時期，請根據史實回答問題。



32. 某總督回憶道：「當時臺灣人民開始要求政治上的權利，一下想成立議會，一會又想成立政黨要投票權。為了安撫臺灣民眾，政府還特別提出了"日臺合一"政策。」請問：根據上述總督所說的內容判斷，此政策實施後臺灣產生何種現象？(A)臺灣正式被納入日本殖民統治的體系中 (B)臺灣人開始被視為日本人，享有同等的權利 (C)雖然強調日臺合一，但對臺灣人還是有差別待遇 (D)臺灣人完全日本化，成為真正的太陽子民。
33. 2015年的紀錄片《蘆葦之歌》，講述臺灣慰安婦的故事，參與演出的小桃阿嬤從小立志當老師，然而在70多年前，她卻在去臺南女中的上學途中，被日本警察強押到海外做慰安婦，受害期間長達1095天，直到日本戰敗回臺，當時她已24歲，是擔任慰安婦時間最長的臺籍阿嬤，她曾多次親自到日本法院，以慰安婦身分打官司，她生前曾說，這輩子就等日本一個道歉。上述中小桃阿嬤被強迫做慰安婦的時代背景，應是上列數線圖中的哪個階段？(A)甲 (B)乙 (C)丙 (D)丁。
34. 關於數線圖中的「甲」時期，下列敘述何者最正確？(A)此時期臺灣的經濟政策，著重在進行工業的進步 (B)實施人口及土地林野調查，是此時期的總督府的施政重點之一 (C)此時期的台灣總督，多由具備文人資格的政府官員擔任 (D)「甲」時期政策調整進入「乙」時期，主因是為避免台灣受到第二次世界大戰後期，美國總統威爾遜所提出的「民族自決」影響。

第三部份：公民科

35. 文化是人類因應生存的需要，經由創造或學習而來的一切成果。請問：下列「」中，何者不屬於文化？
- (A)去日本玩時，參加「和服」體驗並在神社拍照 (B)參加淨灘活動後，坐在沙灘休息並遠眺「海洋」
- (C)洋洋高中時選擇修「西班牙文」當作第二外語 (D)達悟族的「飛魚季」維護人與天地和大海的關係
36. 傳統中華文化中有五倫的概念，而近代擴及第六倫，強調群己關係。請問：下列有關倫理道德的敘述何者錯誤？
- (A)倫理道德指相沿成習、約定成俗的慣例 (B)「君臣有義」為五倫之一，是一種私德
- (C)看電影時將手機調成靜音是第六倫的表現 (D)買東西時注意環保標章是環境倫理的展現
37. 上完公民課後，同學們針對文化的概念進行討論。請問：下列誰說的話中，隱含「文化位階」的概念？
- (A)容容：獨特創意的次文化能與主流文化並存！ (B)小柚：尊重文化異質性，人類文明才能持續的進步！
- (C)小星：原住民族的文化也應受到重視及保護！ (D)妍妍：美國是世界第一大國，我們把英語學好就好！
38. 農曆過年家人間團聚的日子，而除夕夜的年夜飯是過年時不可或缺的一環，但現代社會的生活步調讓除夕圍爐這項傳統活動越來越簡化。從原本應是一家人聚在一起準備，變成一家人在外面餐廳聚餐，甚至有人因為工作關係無法和家人團聚。為順應時代潮流，傳統活動的改變越來越迅速，也漸漸的改變習俗本身的意義。<改編自 peopo 公民新聞>
- 請問：上文中出現的現象最能用下列何者解釋？
- (A)文化並無高低優劣之分 (B)強勢文化擴張產生危機 (C)宗教信仰與工作的衝突 (D)文化會隨時代變遷改變
39. 公民課老師講解社會規範的不同時呈現以下資料，請同學分辨資料中兩項社會規範的差異。請問：下列敘述何者正確？
- 甲：「豬」在伊斯蘭教代表汙穢不潔，《古蘭經》中規範穆斯林禁止食用豬肉，為避免誤食，穆斯林多選擇有清真認證的餐廳飲食。
- 乙：我國憲法規定「人民有信仰宗教之自由」，指人民有信仰與不信仰任何宗教的自由，以及參與或不參與宗教活動的自由，國家不得加以限制。
- (A)「甲」受國家公權力的處罰，「乙」受社會輿論的批評 (B)「甲」易隨時空變動而改變，「乙」則不隨時空而改變
- (C)「甲」是依一定程序制定，「乙」則是長期積累而形成 (D)「甲」不具有強制性，「乙」則是有強制性的社會規範
40. 社會規範指人與人互動過程中，發展出來共同認可並遵守的行為準則。請問：下列哪一個例子可以用來說明社會規範中「人與人相處的行為準則，以及判斷善惡是非的標準」？
- (A)元宵節吃湯圓象徵「團圓、圓滿」的意思 (B)人在做，天在看，舉頭三尺有神明
- (C)搭乘大眾運輸工具應排隊遵守上下車禮節 (D)謾罵他人髒話可能觸犯公然侮辱罪
41. 小員在考試前練習了文化相關概念的題目並得到了滿分。請問：下列何者為小員的答案？
- ( ) (1)文化在人類出現前就已經存在。

( ) (2)次文化指排序在主流文化之後的文化。

( ) (3)保持文化的單一性有助於國家的發展。

( ) (4)通訊方式從書信到手機的演變顯示文化差異性。
- (A) oxxo (B) xxxo (C) xxxx (D) xoox
42. 塔塔上完課後整理了主流文化與次文化的比較表，請問：此表哪個地方寫錯了？
- |      |             |             |           |           |
|------|-------------|-------------|-----------|-----------|
|      | (A)<br>組成方式 | (B)<br>成員規模 | (C)<br>位階 | (D)<br>實例 |
| 主流文化 | 社會中多數人的價值觀  | 較大          | 較高        | 電視劇       |
| 次文化  | 社會中特定群體的價值觀 | 較小          | 較低        | 舞台劇       |
43. 人類在測試未知時，傾向找替代品先行測試，而動物實驗就是其中一個例子。動物實驗應用於不同領域，包括生物學、醫學、美容化妝，以及心理學的研究。人類利用動物進行科學實驗，並測試動物在生理或行為上的反應，以科學研究與應用為目的。動物實驗到底是有助科技發展，還是不人道的行為，有不少爭議。<改編自哲學新媒體>
- 請問：上述內容最可能是關於下列哪兩者之間的衝突？
- (A)風俗習慣與動物保育 (B)科技倫理與科技發展 (C)宗教信仰與法律規範 (D)倫理道德與宗教信仰


背面尚有試題



44. 下列同學們所發表的言論中，何者具備尊重文化多元的觀點？  
 (A)雖然主流文化為多數人認同，但我們也應試著理解與欣賞不同文化的特色！  
 (B)年輕人就看票房冠軍的電影才跟得上話題，只有怪咖才喜歡看傳統歌仔戲！  
 (C)穆斯林來台灣就應入境隨俗享用美味的豬肉大餐，不應拒絕台灣人的好意！  
 (D)我們應努力發揚歐美強權的思想，其他國家的次等文化只會拖累國民素質！
45. 今年2月台灣網紅「晚安小雞」及「阿鬧」至柬埔寨拍攝影片，聲稱闖入「凱博園區」探險，並直播疑似遭到毆打斷訊失聯的事件，最終遭柬埔寨警方揭穿造假，兩人很快被官方判刑兩年，此新聞不僅在台灣造成很大的風波，在柬埔寨也十分受到關注。請問：文章畫線處提及的社會規範，與下列何者相同？  
 (A)少年無照駕駛遭開罰1萬元 (B)選結婚日子時避開農曆7月  
 (C)在圖書館竊竊私語討論八卦 (D)穆斯林在清真認證餐廳吃飯
46. 下列何者屬於具有強制力的社會規範？  
 (甲)民眾禁止攜帶肉品入境  
 (乙)基督教徒每周日上教堂做禮拜  
 (丙)泰雅族成年而未文面者被認為會招來災難  
 (丁)公共停車場應保留2%的身心障礙者專用停車位  
 (A)甲丁 (B)乙丙 (C)甲丙 (D)乙丁

【47-48 為題組】

47. 圖1為北極地區因紐特人以雪塊建造而成冰屋，能有效阻隔熱量散失；圖2的干欄式住屋則是溼熱地帶特有建築，通常由竹木搭建而成，並用茅草遮蓋，架高的住屋下方可以畜養各種禽畜，除透氣、避免過重的濕氣侵擾，且能隔絕蚊蟲與猛獸。請問：根據不同地理環境而建造的建築，展現文化的何種特性？



圖一



圖二

- (A)普遍性 (B)差異性 (C)累積性 (D)制約性
48. 承上題，下列何者與前述提及文化的特性相同？  
 (A)台灣與日本都有使用禮金袋給予祝福的習俗 (B)台灣的禮金袋為紅色；日本則為白色  
 (C)聽音樂的方式從CD轉變為線上串流音樂平台 (D)中元節多數人會準備供品祭拜好兄弟

【49-50 為題組】

酒駕上路，害人害己。每當又發生酒駕肇事致死的案件總讓社會大眾氣憤不已。社會大眾翹首引領政府處理酒駕肇事相關罰則，因此去年新罰則上路，包含加重罰款、公佈累犯姓名與照片，且同車搭乘者都會被連帶處分等。

道路交通秩序乃是重要的社會問題，如果民眾都不遵守交通規則，可能會發生很多不幸的事故。因此政府會定期宣導社會大眾應遵守道路交通規則，以期達到車暢其流，人安其行的交通環境。〈改編自 yahoo 新聞〉

49. 請問：關於社會規範的相關敘述，下列敘述何者正確？  
 (A)政府宣導的交通規則無強制力 (B)社會規範的目的是政府為了控制人民  
 (C)社會規範能維護社會安全秩序 (D)社會規範無法減少民眾的衝突與紛爭
50. 請問：關於上文敘述，下列何者正確？  
 (A)法律由司法機關依一定程序制定 (B)只要有法律規範，社會就可以沒有酒駕發生  
 (C)酒駕罰則愈重，肇事率就會愈低 (D)法律非一成不變，隨社會變遷法律也會修正

本試題卷結束