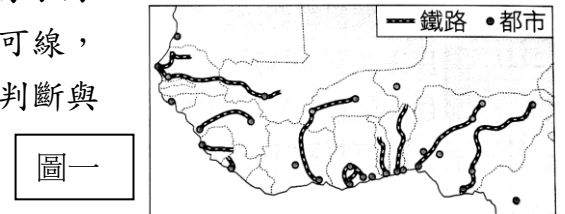



地理部分第1~17題

選擇題：

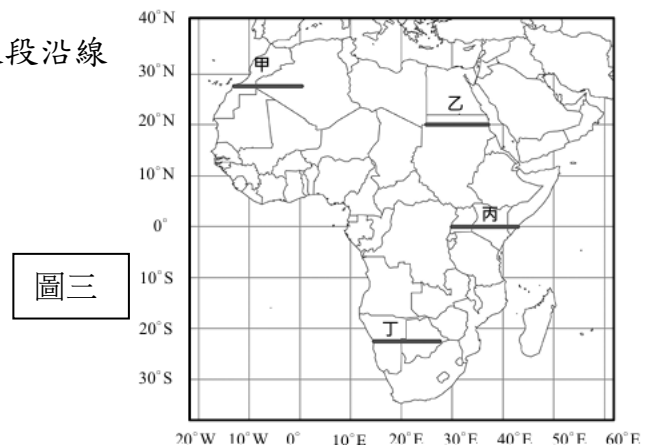
1. 非洲國家蘊藏豐富的礦產資源，如鐵、石油、鑽石、黃金等，甚至非洲部分地區的礦產量名列世界前茅。請問此現象與下列何者的關係最密切？(A)地層為古老結晶岩 (B)沙漠面積十分廣大 (C)氣候多樣且複雜 (D)位處板塊交界帶。
2. 非洲的肯亞和剛果都有赤道通過國境，年溫差都小，但前者氣候涼爽宜人，而後者終年高溫，此種差異的主要影響因素為何？(A)洋流的性質 (B)山脈阻隔 (C)地勢的高低 (D)盛行風的方向。
3. 圖(一)為西部非洲沿海都市的鐵路分布圖。在當地的鐵路名稱有油棕線、可可線，而且大都市多分布在幾內亞灣沿海海域。由上述鐵路及大都市的分布狀況可判斷與下列何者有關？(A)地形阻隔 (B)勞工分布 (C)作物分布 (D)殖民經濟。
4. 雜誌報導：「受限於某項發展上的限制，非洲東部的肯亞直接跳過固網(指透過金屬線等固態媒體傳送訊號的電信網路)而發展行動網路，跳過銀行而由電信公司發展支付系統，成為非洲的科技中心。手機目前是居民做生意的工具，以及與銀行來往的媒介。」由文中推論，該項「發展上的限制」是指下列何者？(A)地勢高，收訊不良 (B)識字人口不多 (C)人民普遍貧窮 (D)基礎設施不足。
5. 非洲許多國家境內有許多族群，但也有同一族群分布在不同國家的現象，當一國族群之間平衡消失，往往會發生衝突或戰爭。請問：造成此一現象的原因為何？(A)宗教信仰複雜 (B)殖民母國以經緯線作為國界劃定 (C)居民從事游牧，遷移他國 (D)國家發生戰亂，人民流亡他國。
6. 圖(二)為非洲某處的地形剖面示意圖，該圖最可能是圖(三)中哪條線段沿線所呈現的地形剖面？(A)甲 (B)乙 (C)丙 (D)丁。



圖一

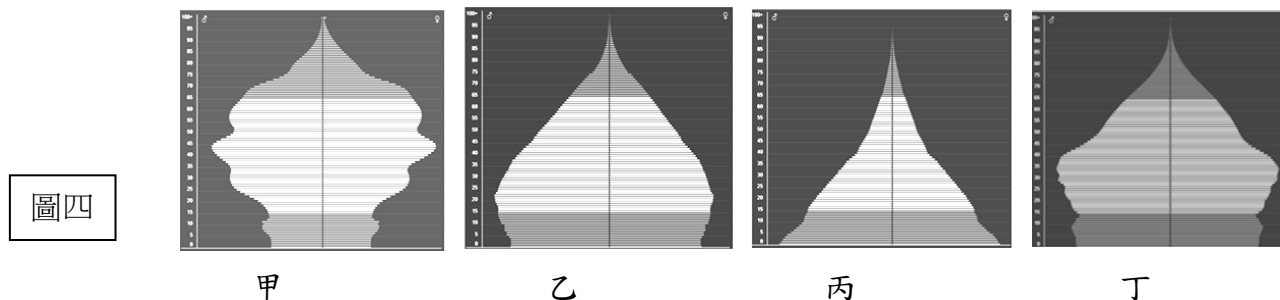


圖二



圖三

7. 圖(四)中甲至丁為2024年四個國家的人口金字塔圖，此四個國家包括：臺灣、馬來西亞、印度、衣索比亞。請問何者最有可能是衣索比亞的人口金字塔圖？(A)甲 (B)乙 (C)丙 (D)丁。



圖四

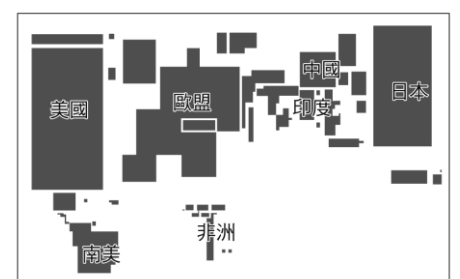
8. 表(一)是非洲某國家2018年的國際貿易統計表，依表中資料判斷，該國經濟發展具有何項特色？(A)國際貿易發達，呈現出超狀態 (B)原料充足，工業發展程度高 (C)經濟發展易受國際市場價格影響 (D)農業產值高，是糧食生產大國

表一

	主要商品	貿易總額
出口	鮪魚、鋁土、錳、石油、黃金、可可、木材、鑽石	231 億 1414 萬美元
進口	小麥、機器設備、石油精煉製品	251 億 7368 美元

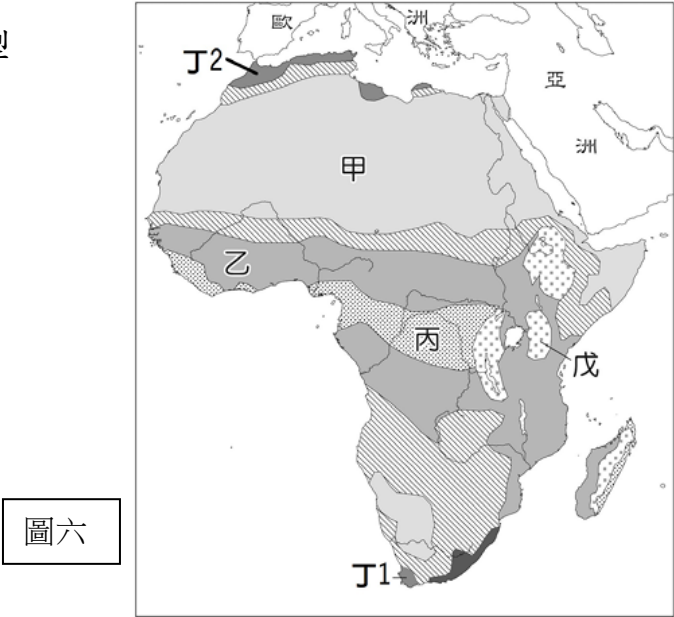
9. 圖(五)是根據國民生產毛額來決定國家大小，區域面積愈大代表國民生產毛額愈高。由此圖可判斷出非洲有可能會出現以下何種現象？(A)國民貧富差距較小 (B)經濟發展程度較差 (C)國民平均壽命最短 (D)國家面積較小。

圖五



10. 表(二)為2015~2100年全球十大人口國排行榜。依據聯合國的研究，全球人口將在2050年達到97億，2100年時高達112億。而未來的世界前十大人口國中，非洲國家的比例逐年上升，這些非洲國家本來經濟就不發達，未來人口持續增加，可能造成哪些問題？(甲)疾病擴散迅速 (乙)環境負載力超載 (丙)飢餓問題惡化 (丁)性別比失衡 (戊)未來勞動力不足。(A)甲乙丙 (B)甲丙丁 (C)乙丙戊 (D)丙丁戊。
11. 根據台灣內政部公布，台灣人的平均壽命為79.84歲且老年人口的比例達17%。相較之下，部分漠南非洲國家的平均壽命較臺灣少了20年，且老年人口僅有3%。請問：下列選項何者並非是造成漠南非洲平均壽命較短的原因？(A)醫療設施不足 (B)疾病傳染嚴重 (C)交通建設不足 (D)衛生教育缺乏

題組：
請由圖(六)非洲氣候類型分布圖，回答以下問題



年度 排名	2015	2050	2100
1	中國	印度	印度
2	印度	中國	中國
3	美國	奈及利亞	奈及利亞
4	印尼	美國	美國
5	巴西	印尼	剛果
6	巴基斯坦	巴基斯坦	巴基斯坦
7	奈及利亞	巴西	印尼
8	孟加拉	孟加拉	坦尚尼亞
9	俄羅斯	剛果	衣索比亞
10	墨西哥	衣索比亞	尼日

表二 為非洲國家

12. 非洲大陸面積廣大，自然環境多樣，是許多農作物的原生地。表(三)為某種農作物最適宜生長條件，根據表(三)判斷，該作物最可能於圖(六)中哪個氣候區？(A)甲 (B)乙 (C)丁 (D)戊

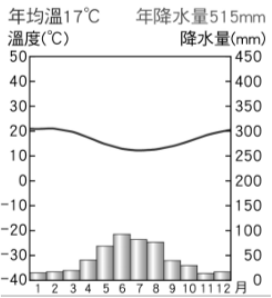
表三

項目	內容
緯度	原生於南北回歸線之間
氣溫	喜溫暖忌高溫, 最適生長溫度為15℃~24℃
降水量	平均降水量1,500~2,500 mm

13. 「族人在乾季末期耕種之前，得先把森林中一小塊地面上的樹林燒掉，然後種山芋和樹薯。他們以掘棒、鋤等傳統農具耕作，並不施肥，若干年後，當土壤變得貧瘠時，農民便須移至他地，另闢田地。」請問：圖(六)中哪種環境條件，最常出現上述的農耕方式？(A)甲 (B)丙 (C)丁 (D)戊。
14. 安妮亞到非洲探險，途中一路從橄欖和葡萄園的景色轉變為黃澄澄的沙漠地帶，再轉為稀林和高草原，最後終於看到滿是茂密的雨林。請問安妮亞依序最可能走的路程是圖(六)中何者？(A)甲→乙→丙→丁 (B)乙→丙→丁→甲 (C)丙→丁→甲→乙 (D)丁→甲→乙→丙。

15. 安妮亞計畫進行一趟非洲之旅，上網蒐集非洲各地的氣候資料與旅遊資訊以了解當地環境，圖(七)是他蒐集某地的氣候圖，請問下列關於當地環境的分析，何者錯誤？(A)該地位於圖(六)中的丁2區 (B)適合種植葡萄釀製葡萄美酒 (C)夏乾冬雨，乾溼季分明 (D)降水主要來自於西風。

圖七



16. 圖(八)是位於赤道以南的塞倫蓋提國家公園和馬賽馬拉國家保護區，是一個跨國界的動物保護區。每年當「塞倫蓋提國家公園」進入乾季，水草枯竭，數以百萬頭牛羚及其他動物必須經歷長達三千公里的長征向北遷徙，旅途中鱷魚、河馬、禿鷹、花豹等肉食動物也隨時對牠們虎視眈眈。牠們來到「馬賽馬拉」，尋找草莖和水源，短暫度過一~二個月後，又折返重回「塞倫蓋提」，如此年復一年。」請問：塞倫蓋提國家公園和馬賽馬拉國家保護區位於圖(六)中的哪一種氣候區？(A)甲 (B)乙 (C)丙 (D)戊。

17. 承上題，根據圖文判斷，上述所說的乾季最可能發生在下列哪段期間？(A)1~2月 (B)3~5月 (C)6~9月 (D)10~12月

圖八



歷史部分 第 18~34 題

選擇題：

18. 中國的文化大革命不但在境內造成深遠的影響，對世界也造成一定程度的衝擊。請問：下列何者不是文化大革命的影響之一？

- (A)擴大援助亞非拉丁美洲的共產武裝勢力 (B)助長歐美地區的學生運動
(C)美國黑人民權運動人士討論、學習《毛語錄》 (D)中國本身向資本主義靠攏

19. 龍龍正讀著某篇回憶錄：「當此人被押進會場時，由主持者帶頭，群眾一起高呼『打倒某某』的口號，而且要迫使此人一起高呼這樣的口號，如果不肯聽從，就拳足交加。…頭上還要給戴上紙做的高帽子，上面寫著『黑幫頭子』、『反動權威』或『牛鬼蛇神』等字，頭上又要掛上大牌子，上面寫著種種辱罵的稱呼；有時不掛大牌子，在身上用漿糊貼上大字報，宣布種種罪狀。」請問：下列何者與文中描寫的情況最有關聯？

- (A)為毛澤東為奪回權力而發起的一場運動 (B)強調尊重傳統倫理文化、保護古蹟 (C)1958 年至 1968 年間社會動盪，被稱為「十年浩劫」 (D)紅衛兵由政府官員組成，他們對知識分子、師長及親友展開無情批鬥

20. 二十一世紀的中國，經濟實力和國際地位全球有目共睹，但仍有許多問題有待解決。請問：下列何者並非中共所面臨的挑戰？(A)性別比例失衡 (B)香港脫離葡萄牙殖民後對中共統治方式不滿 (C)貧富差距日益擴大 (D)壓制民主活動，戕害人權

21. 民初的五四運動和近代的六四天安門事件，學生們滿腔熱血，慷慨激昂地走上街頭，集結一起並陳述理念，展現對國家社會的關懷。請問：關於兩事件的比較，下列何者正確？(A)均引起社會各階層關注，迫使政府讓步 (B)均要求推翻軍閥，實施憲政 (C)均為北京的大學生們所發起 (D)均抗議列強偏袒日本而導致中國權益受損

22. 圖(九)是陳老師研究中共建國發展歷程時所查到的資料，根據內容，何者應為該文件描述的狀況後，所產生的影響？(A)農村瀰漫生產低落、浮報總產量風氣 (B)人民更加堅信共產主義創造均富社會 (C)促使毛澤東的領導政黨地位更加穩固

圖九

以互助合作方式從事集體生產，由政府設立公共食堂，讓公社成員能在無顧忌的狀態下全力生產，這樣超英趕美的日子就指日可待了。

- (D)農產量倍增，人民足以安居樂業生活

23. 中國與蘇聯於 1962 年，因為發展路線及對共產主義的解釋不同，雙方開始出現嫌隙而登上美國《新聞周刊》的封面，如圖(十)。請問當時美國採取何種方式面對這件事？

- (A)幫忙修補兩國關係 (B)趁機拉攏中國，共抗蘇聯
(C)藉機攻打蘇聯，打擊共產勢力 (D)冷眼旁觀，靜待其變。



圖十

24. 中共於 1957 年展開名為「大鳴大放」的政治活動，藉此對批評政府的知識分子進行迫害，被送去勞改或坐牢者不計其數，造成知識分子噤若寒蟬，不敢評論政府。請問下列並非中共此時期的經濟政策？(A)將民間工商企業收歸國有 (B)將地主的土地分配給貧農 (C)農民在國有的土地上集體耕作 (D)在沿海設置經濟特區

25. 圖(十一)為 1950 年代菲律賓所設計的反共海報，呼籲菲律賓人民：「壓制共產主義、是你我的責任」。請問：關於此海報的時代背景，下列何者正確？(A)菲律賓最後由共產黨把持政權，形成共產國家 (B)菲律賓國內的共產黨武裝勢力是受到美國的支持 (C)美國提供菲律賓經濟與軍事援助 (D)蘇聯將菲律賓納入亞太圍堵體系的一部分



圖十一

26. 臺灣的位於東亞航道上的樞紐，冷戰時期雖未直接參與戰爭，但仍在美國與

蘇聯的區域較勁中扮演舉足輕重的角色。請問：關於冷戰時期的台灣之敘述，下列何者

- 錯誤？(A)越戰時美國派第七艦隊協防臺灣海峽 (B)1979 年簽訂《臺灣關係法》，美國與臺灣維持非官方的往來 (C)成為美國在東亞反共防禦體系的一環 (D)韓戰爆發後，臺灣接受軍事、經濟、基礎建設等各層面的「美援」

27. 某個國際組織於 2020 年 9 月 9 日展開會員國線上高峰會，會議上討論的議題有：中國對南海和平的威脅、美中競逐下與會會員國該如何自保、南海主權歸屬（中國、越南、菲律賓與馬來西亞皆鄰南海）、朝鮮半島的緊張關係對經濟的影響、新冠肺炎疫情對各國的經濟衝擊。請問：該國際組織應該是下列何者？(A)東南亞公約組織 (B)聯合國 (C)世界貿易組織 (D)東南亞國家協會
28. 美國因應共黨國家在東亞的擴張，於 1950 年代起，聯合各地友好國家採取圍堵政策。請問：下列選項中，何者是圍堵政策的產物？(A)東協自由貿易區 (B)東南亞公約組織 (C)雅爾達密約 (D)東南亞國家協會。
29. 志鴻帶著家人前往越南旅遊，對胡志明市的阮惠街上，一棟建於 20 世紀中期的 10 層樓老舊公寓，留下深刻的印象。此建築現今被改造成一棟咖啡公寓，於 1950 至 1960 年代該建築曾是美軍顧問住所，1975 年後則變成越南海軍辦公室。請問：這棟新舊交融的建築物，見證哪一段歷史痕跡？(A)清末鴉片戰爭後，列強對亞洲的殖民野心 (B)第二次世界大戰後，區域統合的合作互惠 (C)第二次世界大戰後，美蘇兩大陣營的衝突 (D)第一次世界大戰前，法國的侵略擴張行動
30. 全球化的趨勢之下，各國關係緊密。東南亞地區本就是台灣重要的出口市場，政府近來也積極推動政策，期許未來將與東南亞等地區之國家創造互利與共營模式。台灣目前對東南亞地區的展望，內容不包括下列哪一面向？(A)政治上的結盟 (B)提升產業競爭力 (C)經濟架構的整合 (D)拓展國際貿易空間

題組：

(一)

資料一：這場爆發於 1950 年的「統一戰爭」，期間拆散超過七百萬人的家庭，許多人在戰爭期間逃往南方，而自 1953 年起，交戰雙方切斷一切郵件、電話和旅遊等，直到 2000 年，一場歷史性高峰會議後，才有一千二百個家庭經歷悲喜交集的短暫團聚；另還有超過十萬個家庭列在等候名單中。」

資料二：西元 1953 年，位於□□半島的戰爭結束，一萬四千多名被俘中共官兵選擇『自由臺灣』；隔年 1 月 23 日在聯合國的安排下，一萬四千多名中共官兵投奔臺灣；日後便將 1 月 23 日定為『自由日』。

31. 從兩份資料內容分析，可以判斷這場名為「統一戰爭」的戰役是？(A)八二三炮戰 (B)韓戰 (C)古寧頭戰役 (D)國共內戰
32. 關於資料中的這場戰爭，下列敘述何者正確？(A)這場戰爭導致了蘇聯的解體 (B)雙方後來停戰，以北緯度 17 度線為分界線，至今仍然分裂 (C)聯合國曾派兵援助南方的政權 (D)中共以「抗美援朝」為名，派志願軍支援南方政權作戰

(二)

經典音樂劇《西貢小姐》其故事以越戰為背景，美軍經歷十幾年苦戰決心放棄越南。1975 年西貢即將淪陷的前夕，美國士兵卻愛上了越南女子，但兩人仍因美軍撤退而分離。美國士兵在離開越南後，走出憂傷並重組了新的家庭。越南女子則生下美國士兵的兒子，艱難的在越共手下苟延殘喘。在大時代的洪流下，美國士兵、士兵之妻、西貢小姐以及孩子等人都是時代的犧牲品。

本劇不僅歌頌了戰亂下的偉大愛情，與時代的悲劇，更點出了「美越混血兒」…等議題，在 1989 年問世後即帶來很大的迴響。《悲慘世界》、《貓》、《歌劇魅影》與《西貢小姐》被列為百老匯最偉大的四大音樂劇。

33. 下列對越戰的敘述，何者錯誤？(A)越南在第二次世界大戰後南北分裂 (B)中國也曾參與越戰 (C)美國最後因國內反戰壓力而退出戰局 (D)美國支持北越政權
34. 根據你對越南的了解，下列敘述何者正確？(A)越南的占城早熟稻於元代傳入中國 (B)越戰結束後，南越占領北越，越南成為共產國家 (C)越南因清法戰爭而成為法國的殖民地 (D)越南在越戰後成為民主國家

公民部分 第 35~50 題

【題組一】請閱讀下則新聞，並回答相關問題：

基隆市政府自 4 月 1 日起施行潮境保育區 2.0 計畫，潮境保育區畫分為「核心區」及「永續利用區」，也針對核心區的陸域及水域，都實施總量管制，必須要經過事先申請，才能在潮境海灣的陸域及水域進行遊憩。

在核心區部分，潮境保育區將採行總量管制，其中，水域平日限 200 人，假日 400 人；潮間帶每日限 200 人，不管是僅打算在潮間帶遊憩，或是下海浮潛或深潛，都必須自規定入口進入。

至於永續利用區，民眾僅可從事經許可經營之漁業，並禁止有破壞棲息地環境之行為，也嚴格禁止在核心區進行浮潛及深潛的民眾越界進入。產發處表示，民眾違反相關規定，市府將依《漁業法》第六十五條第六款規定核處新臺幣 3 萬元以上 15 萬元以下罰鍰。

節錄改寫自《中時新聞》- 2024 年 3 月 31 日

35. 請問：根據本文第一、二段，基隆市政府的作法，符合下列何種概念？

- (A) 行政管制 (B) 行政處分 (C) 行政責任 (D) 行政罰

36. 根據文末畫線處，民眾違反規定所受到的處罰是承擔下列哪一種法律責任？

- (A) 民事責任 (B) 刑事責任 (C) 行政責任 (D) 政治責任

37. 承上，關於文末提及的處置方式，下列敘述何者正確？

- (A) 立法機關對違法者做的判罰 (B) 原則上是由法院依法科處
(C) 繳錢給政府，屬於刑罰之一 (D) 對當事人不利的行政處分

【題組二】請閱讀下則新聞，並回答相關問題：

去年 12 月發生的新北國三生遭隔壁班男同學割頸身亡事件，涉嫌動手的男同學與涉嫌教唆的女同學事後遭裁定收容於台北少年觀護所。經過【甲】三個月調查後裁定，將「乾哥」男同學與「乾妹」女同學依殺人罪移送【乙】偵辦，且涉案情節重大，雙雙予以羈押禁見。5 月 9 日【乙】偵結案件，兩人皆依殺人罪提起公訴，兩人羈押期未滿，【乙】將盡速整理全案卷證後，移審【甲】，至於接審後是否羈押，將由【甲】裁定。

節錄改寫自《奇摩新聞》- 2024 年 5 月 21 日 / 《聯合報》- 2024 年 4 月 13 日

38. 請問：關於【甲】、【乙】的配對，以下何者正確？

- (A) 【甲】：少年法庭 (B) 【甲】：憲法法庭 (C) 【乙】：法官 (D) 【乙】：少年保護官

39. 本案的少年和少女是觸犯[①]殺人罪，依照[②]及《刑事訴訟法》規定移送處理。請問[①][②]依序應是何者？

- (A) 《民法》、《民事訴訟法》 (B) 《中華民國刑法》、《兒童及少年福利與權益保障法》
(C) 《中華民國刑法》、《少年事件處理法》 (D) 《少年事件處理法》、《兒童及少年福利與權益保障法》

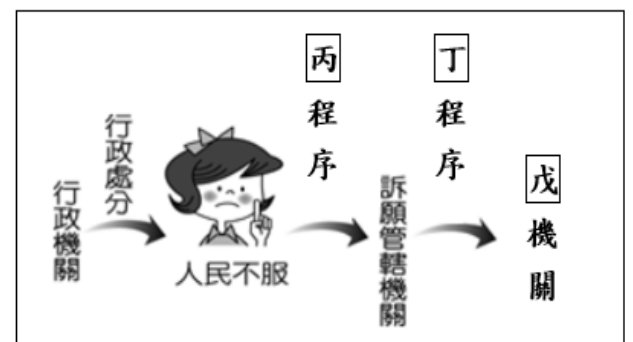
40. 根據本文，關於本案的說法，下列敘述何者正確？

- (A) 屬於少年保護事件，對少年施以保護處分 (B) 依少年刑事案件處理，對少年施以刑罰
(C) 家庭功能不彰，要求法定代理人承擔刑責 (D) 因情節重大，媒體可以公開少年的個資

【題組三】圖(十二)為行政救濟程序的示意圖，請回答相關問題：

41. 參考圖(十二)，下列相關敘述何者正確？

圖十二

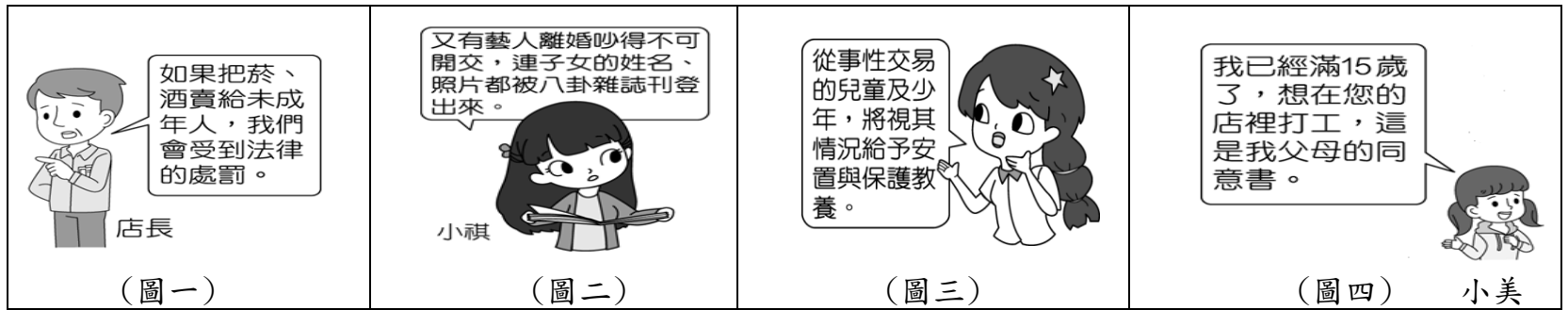


- (A) 行政救濟目的為定罪量刑，追訴及處罰犯罪的過程
(B) 圖中丙程序應是「行政訴訟」，丁程序則是「訴願」
(C) 一般而言，訴願管轄機關是原處分機關的上級機關
(D) 戊機關應為各地方檢察署，由檢察官負責裁決處分

42. 請問：下列哪一社會事件，可以適用此行政救濟程序？

- (A) 台北市一歲男童疑似被保母施暴凌虐致死，涉案的劉姓保母姊妹已遭到法院羈押禁見
(B) 交通部觀光署撤銷年代旅遊公司的旅行業執照，林姓負責人 5 年內不能再經營旅行社
(C) 日本知名藥廠出售的紅麴健康食品，疑似傷害腎臟健康，民眾投訴食用而洗腎，請求賠償
(D) 三名子女指控父親早年施暴拒絕養家，提告免除扶養義務，法官判決仍要扶養但減輕義務

【題組四】請參考下列圖例，回答兒少保護的相關問題：



43. 根據圖(一)與圖(二)，圖中所述行為是違反下列何項法律？

- (A)《兒童及少年福利與權益保障法》 (B)《社會秩序維護法》
(C)《兒童及少年性剝削防制條例》 (D)《少年事件處理法》

44. 承第 43 題，下列相關敘述何者有誤？

- (A)該法所稱「少年」，是指 12 歲以上未滿 18 歲之人 (B)圖(一)所提及的作法，是屬於該法中的福利措施
(C)相關場所的負責人與從業人員，亦有保護兒少之責 (D)違反該法的店長和雜誌社，將可能會被處以罰鍰

45. 根據圖(三)，關於圖中行為，下列相關敘述何者正確？

- (A)該項作法依據的法規是指《兒童及少年福利與權益保障法》
(B)行為人若已徵得兒少同意進行性交易，法律就不可以處罰他
(C)利用兒少從事坐檯陪酒、色情伴遊工作，僅須承擔行政責任
(D)持有、散布或販賣兒童及少年的性影像，也會受到刑罰處分

46. 根據圖(四)，下列相關敘述何者有誤？

- (A)圖中行為涉及的法律規範，應依照《勞動基準法》 (B)小美若是 15 歲以上未滿 16 歲，依法稱為童工
(C)小美打工須取得父母同意，亦不能從事危險工作 (D)基於保障工作權，小美可於例假日打工 8 小時

【題組五】圖(十三)可以看出警察在兩名 14 歲少年身上搜出棍棒、刀類等危險器物，請回答下列問題：

47. 關於圖(十三)行為，下列敘述何者正確？

- (A)依《民事訴訟法》輔導處置 (B)是屬於曝險少年的行為
(C)依照少年刑事案件程序處理 (D)嚴懲這類行為以絕後患

圖十三



48. 依現行法規，兩名少年若被施以「保護處分」，下列何項說明正確？

- (A)「訓誡」：法官以言詞指明少年的不良行為，並可要求少年寫悔過書
(B)「安置輔導」：於少年矯正學校進行，對少年施以隔離式的學校教育
(C)「保護管束」：若不宜由父母繼續教養時，將少年安置於適當的機構
(D)「感化教育」：依少年保護官意見執行，於假日對少年施以管教輔導

【題組六】請閱讀下則新聞，並回答相關問題：

台北市士林區一處工地，發生工安事件，樣品屋拆除過程，二樓地板坍塌，一輛推土機的駕駛閃避不及，當場喪命。目前台北市建管處和勞檢處先開罰，檢警也介入調查是否有人為疏失，涉及過失致死罪嫌。

台北市建管處指出，以涉及沒有做好安全維護措施，勒令停工並依違反《建築法》第 63 條和第 89 條裁罰起造人 9 萬元，廠商後續施工方式均需符合安全標準，才能恢復施工；勞檢處則表示，現場發現樣品屋鋼構拆除時，沒有做好防止倒塌的相關設施，導致樓板倒塌傷到下方操作人員，將依違反《職業安全衛生法》，罰廠商 30 萬元。

節錄改寫自《民視新聞》- 2024 年 3 月 31 日

49. 根據本文內容，下列相關敘述何者正確？

- (A)《建築法》、《職業安全衛生法》是屬於刑事法規 (B)欲解決因私人間的權利義務所引發的民事糾紛
(C)若是觸犯過失致死罪，其後續將要負起行政責任 (D)廠商若不服處分，可以向台北市政府提起訴願

50. 根據本文第二段內容，適合用以說明下列何項法律理念？

- (A)罪刑法定 (B)政府濫權 (C)依法行政 (D)無罪推定

本試題卷結束