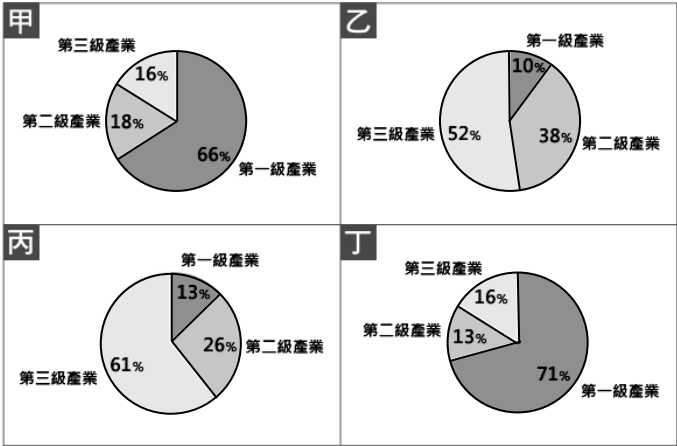


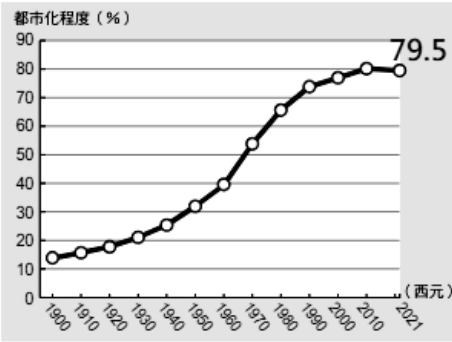
※請將答案劃記在答案卡上，以讀卡成績為主※

選擇題：共 50 題，每題 2 分，總分 100 分

地理部分



【圖一】



【圖二】

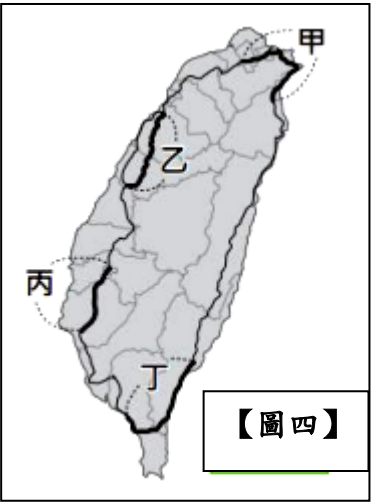
【表一】

班次	鷺江區	民族區	集賢區	長安區
飛機	15	0	4	0
船	10	2	2	0
火車	30	18	25	6
公車	111	37	63	10
捷運	62	21	38	0

- 1、【圖一】是四個聚落的三級產業就業人口比例圖。下列對此四個聚落的敘述哪一個較為正確？
(A)甲聚落擁有高樓林立且道路密布的都市景觀 (B)乙為鄉村聚落農田遍布可提供農產品
(C)丙人口密度較高為都市聚落 (D)丁為鄉村聚落有較多的教育、就業機會與生活機能
- 2、請觀察【圖二】臺灣都市化程度統計圖，由圖中的資料可以推得下列哪些結論？
(甲)鄉村地區出生率低 (乙)2021 年住在鄉村的人口比例約為 20.5% (丙)從事工商業的人口增加
(丁)都市的人口移入率高 (戊)人口聚集程度減少 (己)性別比例落差增加
(A)甲乙己 (B)乙丙丁 (C)丙丁戊 (D)甲戊己
- 3、【表一】為四個聚落的交通班次次數統計表。請問下列敘述何者正確？
(A)若以聚落發展規模鷺江區最符合麥當勞的設廠區位 (B)集賢區的聚落規模可能為此四區內最小
(C)若要購買大型百貨公司的商品建議到長安區 (D)民族區與其他聚落的交通連結最緊密
- 4、新加坡是一個都市國家，只有郊區沒有鄉村。其曾為一個小漁村，但因位於東南亞的麻六甲海峽旁，許多來往船隻的必經之地，成為全球重要的貿易、物流中心。請問：下列何者是新加坡從鄉村變為都市的主要原因？(A)交通位置重要 (B)防禦需求較高 (C)水源充足穩定 (D)漁業資源豐富



【圖三】(擷取東森新聞)



【圖四】

【表二】

航線 年分	甲	乙	丙	丁
2005	77127	3003189	64488	1161105
2006	42216	2651120	50570	1061387
2007	3559	1335717	45829	511670
2008	-	341972	57762	107270
2009	-	22784	69121	-

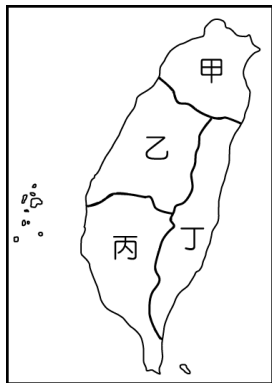
註：- 表示該航線停飛

單位：人

- 5、今年 4 月 3 日花蓮發生規模 7.2 強震後，蘇花公路多處斷裂。有名老家在花蓮市的民眾無奈表示，他在花蓮縣秀林鄉工作，平時回家約需 3 個小時，但因為公路斷裂的關係，下班只好逆時針開車環島回家，需要開 14 小時 2 分鐘的車程，【圖三】即為搜尋地圖導航後的結果。根據上述判斷，公路運輸的何項特性較符合文中說明？(A)載貨量較少 (B)適合有時效性的物品運送 (C)運費便宜 (D)機動性強
- 6、臺灣地形多山，鐵路路線常需興建隧道，才能克服地形障礙。【圖四】為臺灣鐵路路線分布圖，若依照臺灣的地形分布判斷，哪些路段較需要穿越山地或丘陵的隧道？
(A)甲乙丙 (B)乙丙丁 (C)甲乙丁 (D)甲丙丁
- 7、臺灣高鐵於 2007 年 1 月通車後，對其他運輸工具的營運產生顯著影響。【表二】為臺北往返四個地點的國內空運航線載客人數統計，其中一條為離島航線，三條為本島西部航線。依據表中資訊判斷，何者最可能是離島航線？(A)甲 (B)乙 (C)丙 (D)丁

【背面尚有試題，請繼續作答】

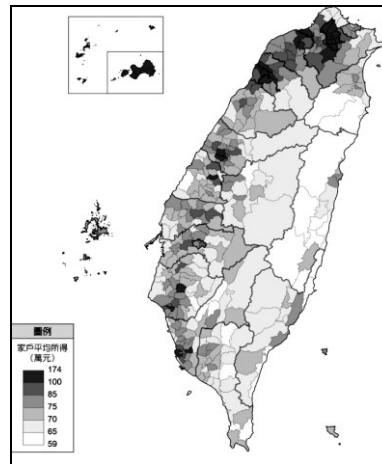
- 8、選擇運輸方式要考量貨物的價值、體積、重量、時效性等條件，再依各種運輸工具的特性來做決定。請問，下列各情況所採用的運輸方式何者最適合？
 (A)用空運將桃園市復興區達觀山的水蜜桃宅配到家 (B)用海運將荷蘭生產的鬱金香運送到臺灣
 (C)用公路從印尼進口木材到臺灣 (D)用鐵路運輸將甘蔗載往雲林虎尾糖廠
- 9、鐵路、公路、水運、空運各有特色。老師請同學在課堂上發表各種運輸的特色，請問下列哪位同學的說明較正確？ (A)宏傑：水運的運輸量大且便宜，但速度緩慢
 (B)寧軒：從台北搭乘高鐵前往宜蘭既方便又快速 (C)宇恩：空運適應地形的能力佳，但載貨量較少
 (D)勇義：台灣鐵路因緯度的關係未能有東西向橫貫的鐵路建設
- 10、都市人口增加，都市裡發展空間開始飽和，居民往郊區搬遷，都市範圍不斷擴大，稱為「都市擴張」，最後與鄰近都市間的界線模糊，連成一體，形成都會區。請問：造成都市擴張的主要因素不包含下列何者？
 (A)交通便捷 (B)教育程度 (C)捷運興建 (D)產業發展



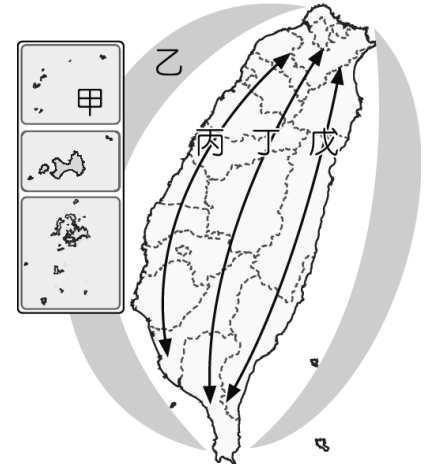
【圖五】

【表三】

產業 \ 區域	a	b	c	d
第一級產業	15	9	7	1
第二級產業	23	40	36	34
第三級產業	62	51	57	65



【圖六】



【圖七】

- 11、【圖五】為台灣區域畫分圖。鷺江旅行團依此安排台灣觀光精選行程：第一天-全台人口密度最高的地區參訪，最早的高科技園區即位於此/第二天-參觀台灣蔬果花卉專業生產區和自行車工廠/第三天-擁有台灣最大的港口，是重要的海上門戶，千萬不能錯過。請問：以上行程未包含【圖五】中的何區？
 (A)甲 (B)乙 (C)丙 (D)丁
- 12、【表三】為某年臺灣北、中、南、東四大區域的產業人口比例，其中何者最可能為【圖五】的甲區域？
 (A)a (B)b (C)c (D)d
- 13、【圖六】為台灣各鄉鎮市區家戶平均所得統計圖，請問該分布具有何相關特色？
 (A)山區地區平均所得大於平地地區 (B)平均所得較高的地區醫院分布數量和接受教育的程度也較高
 (C)平均所得較高主要分布於花東和離島地區 (D)平均所得較高的地區第一級產業發展比例較高
- 14、花蓮地區4月3日地震後，當地民宿業者、伴手禮名產業者遭受不小衝擊。在地伴手禮業者串聯發動「你買100、我捐50」活動，將捐助售出商品金額二分之一給需要的災民，協助重建家園，也藉此延續產業命脈。請問依上述所示，花蓮地區該產業比例較高的原因為何？（擷取 yahoo 新聞）
 (A)缺乏物資，大量進口 (B)觀光資源多，旅遊業興盛
 (C)鄰近太平洋，國際貿易發達 (D)國內市場廣大，服務業發達

題組：【圖七】是臺灣國土空間規劃架構圖，依據臺灣地形和社會經濟條件，以環境保育及國土保安為前提，將國土空間規畫為「三軸、海環、離島」等軸帶，請依據此圖回答 15-17 題：

- 15、結合當地豐富的原住民人文資源，且自然環境優美、汙染少、觀光資源豐富，配合悠閒慢速的生活步調推廣有機、無毒農藥。請問：該區域為地圖的何者？ (A)甲 (B)乙 (C)丁 (D)戊
- 16、行政院針對【圖七】中的「甲」設計宣傳海報，期望提高離島居民收入以及環境保育和文化保存，但負責的印刷廠將檔案搞混，下列哪一張離島海報不在此次宣傳內？

琉球嶼

綠蠵龜重要的棲息地，潛水人的天堂。

金門

閩南建築與戰地史蹟，候鳥到訪的必經之地。

馬祖

北竿的芹壁村，台灣版小希臘，地中海風必遊景點。

澎湖

著名的柱狀玄武岩、南方四島、七美雙心石滬。

- 17、台灣的山林原本存在一種大型貓科動物「雲豹」，但現已絕跡，另一種動物「石虎」數量逐年下降瀕危，而「臺灣黑熊」常出沒於海拔1,000~3,500公尺的山區，因土地開發導致棲息地喪失，數量也正在下降中，因此台灣的生態保育刻不容緩，上述保育任務是【圖七】中哪一個軸線的主要目的？
 (A)乙 (B)丙 (C)丁 (D)戊

【尚有試題，請繼續作答】

歷史部分

★單選題

18. 民國 61 年，屏東縣美和青少棒隊和臺北市少棒隊，在一週內分別得到世界冠軍。《中國時報》特地為此發表如下的評論：「在國家地位到處受到窒息之下，有這兩份小小的喜訊，誠有如在長期窒息中，呼吸到一點點新鮮空氣。」請問：文中所寫「國家地位到處受到窒息」，是指台灣在外交戰場上所遭遇到的哪項挫敗？(A)美國和我國斷交 (B)我國退出聯合國 (C)聯合國大會承認外蒙古加入，取代了我國在聯合國的席次 (D)美國和我國簽訂中美共同防禦條約。
19. (甲)怡君的爸爸當年參與十大建設中的某項工程，每天都忙到很晚才能下班，回家時怡君都睡了，父女倆常常一個月見不到幾次面 (乙)子安出國讀書時，在國外買到臺灣第一個加工出口區的工廠所製造出的球鞋時，當下她熱淚盈眶，因為那一瞬間讓她有種回到家鄉的感覺 (丙)怡慧的老公在新竹科學園區工作，工作非常忙碌，他最愛的休閒活動就是假日去釣魚 (丁)鳳珠是工廠女工，每天用國外進口的機器和原料製造布匹，再努力賣到全台灣各地去，取代國外的進口布料。以上是對台灣不同時期產業狀況或特質的描述，請依照時間的先後順序排列出來。
(A)丁乙甲丙 (B)甲丙丁乙 (C)甲乙丙丁 (D)乙丁甲丙。
20. 每一張照片背後都有其時代背景和故事，請問這些照片依時代順序排列，下列何者最正確？
(A)甲乙丙 (B)甲丙乙 (C)乙丙甲 (D)乙甲丙



(甲)

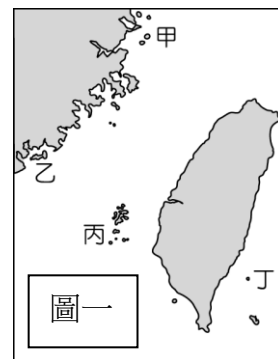


(乙)



(丙)

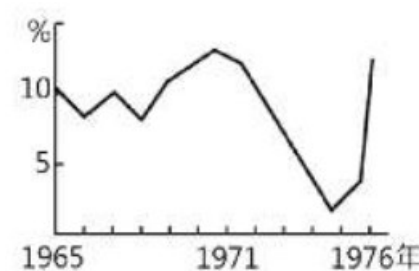
21. 黃士生收到政府的通知，通知中告知黃士生說：「他僅能保留固定比例的土地，其餘的土地均將由政府以實物債券及公營事業股票徵收。」這對黃士生而言根本是晴天霹靂，再三抗議都無效的狀況下，他只好含著眼淚收取股票，將土地交給政府。請問：這次黃士生收到的通知，最可能在下列何時發出的？(A)民國四十年代 (B)民國五十年代 (C)民國六十年代 (D)民國七十年代。
22. 近年來，中華人民共和國的戰機不斷擾臺，飛機多次進入我國防空識別區，影響我方飛航安全，是因為自兩岸分治以來，中共一直堅持擁有臺灣主權，並提出多項對臺政策。下列何者不是由中共提出的主張？(A)一國兩制 (B)解放台灣 (C)和平統戰 (D) 三不政策。
23. (甲)為強化國家認同，政府剛開始推動「說國語運動」時，在公開場合說母語在當時是不被允許的 (乙)黃春明《兒子的大玩偶》中，描述一位父親必須扮成小丑，身體前後掛電影廣告看板，當做電影院的宣傳工具以維持一家生活。此書真誠刻畫小人物的的心境，反映臺灣當時的社會生活 (丙)駐臺美軍廣播電台（今 ICRT 前身）成為臺灣接受美國流行文化的主要管道。上述關於第二次世界大戰後臺灣文化的演變，請依照出現的先後時間順序加以排列。(A)甲乙丙 (B)丙甲乙 (C)丙乙甲 (D)甲丙乙。
24. 從 1951 年開始，某個國家的國會通過法案，開始對臺灣進行經濟、軍事和外交的援助。直到 1965 年的十五年裡，該國給予臺灣的援助物資占臺灣進口總金額的 40%，對臺灣的經濟成長產生重大影響。請問：促使「某國」決定提撥等同於將近十五億美金的物資與相關技術，對臺灣進行援助的關鍵因素及動機究竟為何？(A)第二次世界大戰爆發；防止共產勢力的擴張 (B)古寧頭戰役爆發；為了幫助中華民國進入聯合國 (C)韓戰爆發；防止共產勢力的擴張 (D)八二三炮戰爆發；臺灣納入反共防衛體系的一環。
25. 某地曾興建一個名為翟山的坑道，此坑道全長有 101 公尺、寬約 6 公尺、高約 3.5 公尺，裡頭的水道呈 A 字型。此翟山坑道建立於民國 50 年，是因應當時中共對該地的猛烈砲火轟炸而興建，提供登陸小艇搶灘運送補給用，全程人工開鑿而成，共耗時 5 年才完成，坑道內還有設計讓船隻停泊的碼頭。請問：此坑道興建的地點則最可能在圖(一)中的何處？(A)甲 (B)乙 (C)丙 (D)丁



圖一

【背面尚有試題，請繼續作答】

26. 公視新聞網發布於 2019/9/19 的一則新聞，其內容如下：「屏東縣枋寮鄉鄉政顧問李孟居，今年 8 月去香港旅遊，卻在入境中國之後失聯，中國國台辦隨後證實，李孟居被審查。根據中國媒體《南方日報》今天的報導，李孟居因為涉嫌為境外刺探、非法提供國家秘密罪，被深圳國家安全局依法逮捕。」. 請問：李孟居的家人應該向臺灣哪一個處理兩岸事務的民間單位請求協助？(A)海峽交流基金會 (B)大陸委員會(C)海峽兩岸關係協會(D)國務院臺灣事務辦公室。
27. 圖(二)為 1965 年到 1976 年臺灣經濟成長率的曲線圖。請問此曲線在 1970 年代初期為何會突然大幅下降？(A)臺灣退出聯合國(B)美援撤出臺灣(C)產油國爆發戰爭使油價居高不下，造成全球經濟不景氣 (D)美國與我國斷交。
28. 臺灣的環保運動在某一年代興起，發生反核四運動、反六輕運動，另外還要求造成污染的工廠遷移。請問：環保運動興起的背景時間正好是臺灣經濟處於哪一個階段的時候？(A)十大建設(B)進口替代(C)出口導向(D)產業升級。
29. 近年來，我國積極想加入一些世界性的組織或會議，但經常會在申請時遭拒；而我國參加奧運也只能以「中華台北」名義參加，無法用國名、唱國歌、升國旗，其中最主要的因素是在於下列何者？(A)我國不是聯合國的會員國 (B)中共蓄意打壓(C)美國不同意(D)我國主動放棄以國家名稱參加。
30. 臺灣近幾年來隨著大環境的發展與變化，漸漸的出現與過去不同的人口問題。目前臺灣最嚴重的人口問題為下列何者？(A)年輕人口數增加快速(B)男女比例失衡(C)城鄉人口差距日益增加 (D)臺灣人口大量移民至國外。



圖二

★題組題

根據媒體報導，臺灣紅十字會開始受理赴大陸探親登記及信函轉投，當天預定上午 9 時開始登記，凌晨就人山人海，幾乎衝破大門，辦妥手續的多達 1300 多人。12 月，第一批探親老兵終於踏上返鄉路。臺灣紅十字會為辦理老兵返鄉作業，準備了 10 萬份申請表格，在短短的半個月之內就被索取一空。

31. 上述短文中所寫的「12 月，第一批探親老兵終於得以踏上返鄉路。」主要和下列哪一項史事最有關係？(A)開放小三通 (B)終止動員戡亂(C)推動務實外交(D)解嚴。
32. 日後老兵們如果想要透過小三通回大陸去探親，他們不可能由圖(三)的何處前往大陸展開他們的探親旅程？(A)甲(B)乙(C)丙(D)丁。



圖三

1950 年代，臺灣電影為配合政府「反共抗俄」政策，政府所屬片廠拍攝的電影，幾乎都是配合官方意識形態的政治宣傳工具，而民間則出現以歌仔戲劇本與民俗故事為素材，並用閩南語發音的「臺語電影」。1960 年代，因政府強調社會安定，主張電影劇情應避免暴露社會的黑暗面，呈現人性的光輝，受到當時海內外華人市場的歡迎。在 1970 年代經濟成長之下，愛情、武俠、功夫、喜劇等各電影類型蓬勃發展。1980 年代初期，臺灣電影受到香港電影新浪潮的影響，進入「臺灣新電影」時期。

「新電影」發展初期的導演與編劇，在劇本創作上融入鄉土文學的題材，拍攝風格以強調自然、寫實為主，在題材的選用上，開始有意識的挑戰官方政治禁忌，而受到相關單位的關切。（改寫自 113 年社會科會考題目）

33. 根據上文，「新電影」出現之前的戰後臺灣電影，最不可能播映下列何種劇情？(A)來自各路的武功高手在龍門客棧展開激烈戰鬥 (B)日軍大舉進攻上海，謝晉元團長率領號稱「八百壯士」國軍對抗日軍死守四行倉庫 (C)充滿浪漫情懷的瓊瑤式三廳電影(註：三廳是指餐廳、客廳、咖啡廳)(D)主角因涉及雷震案遭到軍警處決，留下妻小長期受到政府監視。
34. 根據上文，在 1970 年代經濟成長之下，愛情、武俠、功夫、喜劇等各電影類型蓬勃發展。請問：下列哪件史實，不是發生在此時？(A)臺灣設立第一個加工出口區(B)提倡「唱自己的歌」，校園民歌興起 (C)臺灣文學作家帶動鄉土文學潮流 (D)十大建設擴大內需，增加了許多的工作機會。

【尚有試題，請繼續作答】

公民部分

縣市	醫師數
台北市	41.82
台中市	3.03
花蓮縣	0.19
台東縣	0.09

35. 表為台灣不同縣市每平方公里醫師數的比較，根據醫師公會全聯會統計各縣市醫師數量，發現城鄉差異懸殊，以面積來看台東縣和醫療資源最豐富的台北市差了超過 400 倍。請問：此現象凸顯了何種角度的不公平？
- (A)利益分配 (B)責任負擔 (C)需求滿足 (D)貢獻程度
36. 我國將社會安全列為基本國策之一，請問：關於社會安全制度的敘述，下列何者錯誤？
- (A)社會安全的目的在實踐社會的公平正義 (B)警察逮捕犯人是一種社會安全制度的展現
- (C)現代社會安全政策起源於西方民主國家 (D)社會安全強調互助及共同承擔風險的概念
37. 社會福利制度的實施，旨在滿足民眾各方面的需求。請問：下列哪一項制度實施的目的為「補充社會保險的不足，針對特定身分的人民提供定期或一次性的現金給付」？
- (A)幼兒的托育補助 (B)地震災害救助金 (C)房貸利息的補貼 (D)低收入戶的補助
38. 大選在即，各候選人紛紛提出社會安全的相關政策盼贏得選民支持，請問：下列哪一個候選人提出的政策與社會安全無關？
- (A)甲候選人:提高育兒津貼金額 (B)乙候選人:增加社會住宅建設
- (C)丙候選人:推動長期照護制度 (D)丁候選人:擴大志工參與管道

【39-40 為題組】

我國舉重好手郭婞淳不僅勇奪奧運金牌，在 2021 舉重世錦賽中再奪 2 金 1 銀，生涯累計 10 金，打破台灣舉重史最多金紀錄。他從小生長在單親、隔代教養的家庭，國中曾因家中房貸繳不出來，連夜搬去工寮，家裡連桌子都沒有，只能趴在地上寫功課。但他沒有放棄，她始終相信：「老天爺要你多成功，就會給你多少挫折與磨練。」將所有的不完美當作未來成功時的養分，用舉重翻轉命運。〈節錄改編自天下雜誌〉

39. 請問：關於上文敘述，下列何者正確？
- (A)郭婞淳應證了社會地位無法改變 (B)郭婞淳的社會地位是與生俱來的
- (C)郭婞淳承受了貢獻程度的不平等 (D)郭婞淳憑自身努力達成社會流動
40. 下列何者社會地位的產生方式與郭婞淳相同？
- (A)考上會考榜首的晶晶 (B)出身在皇室家庭的路易
- (C)繼承億萬財產的小員 (D)在家中排行老么的容容

【41-45 為題組】

請根據以下五則新聞，回答下列問題。

新聞一:退休金算盤／國民年金給付增 172 萬人受惠

新聞二:立委提長輩免繳健保，醫改會憂「恐加速破產」

新聞三:中市新住民生活適應輔導班納民防課程 提升防災應變能力

新聞四:高市勞工局職訓班現正招生 助您再出發順利進入職場圓夢

新聞五:花蓮強震撼全台!政府發放災害救助金助災民度過難關

41. 新聞一所提及的國民年金，其納保對象應為下列何者？
- (A)20 歲在補習班打工的小智 (B)35 歲在科技公司上班的洋洋
- (C)80 歲在家含飴弄孫的小鍾 (D)40 歲被公司裁員失業的昊昊
42. 關於新聞二及新聞五的社會福利性質比較，下列何者正確？
- (A)前者為強制性納保；後者也需繳納保費 (B)前者為風險預防；後者為協助基本生活
- (C)前者照顧低所得者；後者照顧全體國民 (D)前者屬於社會保險；後者屬於社會津貼
43. 新聞二提及的健保為我國重要政策之一，但同時也是造成財政赤字的一大原因，請問：關於健保及醫療資源的使用，下列敘述何者正確？
- (A)沒有要看病時，就不需要繳納健保保費 (B)沒事也盡量去看醫生，繳健保費才划算
- (C)生病時一定要去大醫院看病才有保障 (D)落實分級醫療，最有效的運用醫療資源
44. 請問：政府實施新聞三提及的社會福利的目的應為下列何者？
- (A)轉移生活風險 (B)提升生活品質 (C)維持基本生活 (D)促進充分就業
45. 請問：這五則新聞中，何者屬於相同性質的社會福利？
- (A)新聞一及新聞二 (B)新聞二及新聞五 (C)新聞三及新聞四 (D)新聞三及新聞五

【背面尚有試題，請繼續作答】

【46-47 為題組】

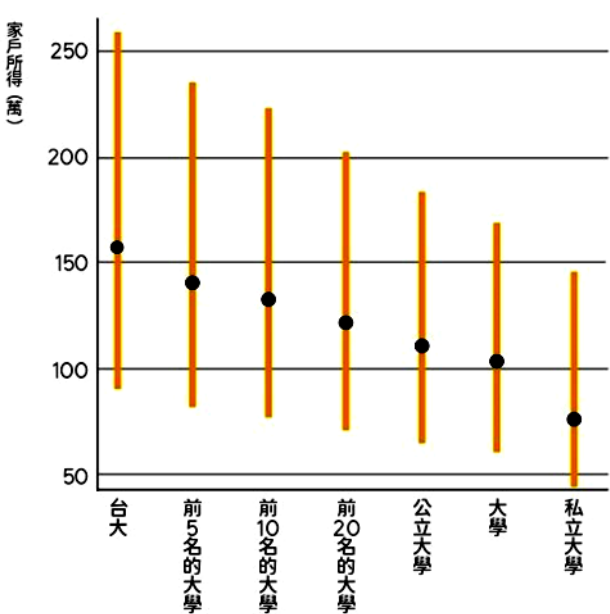
現今科技快速發展，政府應給予學生們更多學習科技的機會，否則將跟不上科技發展的潮流。然而，無法讓每位學生都均等獲得公平的數位學習機會，形成了所謂的「數位落差」(digital divide)。其係指社會上不同性別、種族、經濟收入、居住環境、階級背景的人，使用數位產品（如電腦或是網路）的機會與能力上的差異。數位落差可反映在使用電腦及網路的機會多寡，以及對於電腦及網路使用能力的高低。〈節錄改編自國家教育研究院電子報第 193 期〉

46. 請問：關於數位落差，下列相關敘述何者正確？
- (A)數位落差指個人擁有的數位產品多寡 (B)數位落差反應的是需求滿足的不平等
- (C)經濟發達的地區沒有數位落差的問題 (D)政府發放社會津貼解決數位落差問題
47. 該如何減緩數位落差，是政府須加以解決的問題，請問：下列何種作法較無法追求「公平正義」？
- (A)加強偏遠地區的資訊基礎建設 (B)提升弱勢兒童的數位學習機會
- (C)在都市中心開設數位學習園地 (D)在各級學校普設資訊技能課程

【48-50 為題組】

「家戶所得與進台灣大學機率」測試，是參考台大教授與其學生的研究論文之數據製作而成，他們取得財政部財稅資料中心的家戶報稅資料，分析 1993～1995 年出生的學生入學與家戶所得情形。這是台灣第一次以數據佐證，父母的資產影響了子女的教育機會和資源。數據分析結果發現，有錢人家的小孩進入台大和其他頂尖大學的機會更高，獲取的資源也更多。〈節錄改編自風傳媒 2023. 10. 23 的報導〉

[註]圖的橫軸為 1993～1995 年出生的學生錄取的大學，縱軸為家戶年所得分布，圖上黑點表示中位數，台大學生的家戶年所得中位數約為 150 萬元，高於全體公立大學學生的近 110 萬元。



48. 根據 1993～1995 年出生學生的家戶所得分布圖片，下列推論何者最適當？
- (A)就讀前 5 名大學學生的家戶年所得皆超過 100 萬元
- (B)就讀私立大學學生的家戶年所得中位數為 100 萬元
- (C)就讀前段大學學生的家戶年所得中位數高於就讀私立大學學生
- (D)就讀公立大學學生的家戶年所得中位數為就讀台大學生的一半
49. 請問：根據上文，下列敘述何者正確？
- (A)不同的社會地位會影響取得資源的機會 (B)父母的資產與子女的教育機會關聯不大
- (C)貧窮家庭的小孩責任負擔較有錢人家多 (D)較貧窮家庭的小孩永遠沒有翻身的機會
50. 經濟學者指出，即便社會貧富階級差距很大，但如果貧富階級可以改變，代表努力就會有收穫；如果階級間完全無法改變，出身不好注定一生貧困，就可能讓人不去努力投資自己，造成整體社會的負面循環。請問：此敘述凸顯了什麼的重要性？
- (A)縮小城鄉差距 (B)肯定貢獻程度 (C)促進社會流動 (D)落實差異原則

【本試題卷結束】