

新北市立鷺江國中 112 學年度第 1 學期第 2 次定期評量

九 年級 國文 科 試題分析

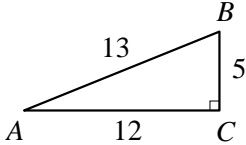
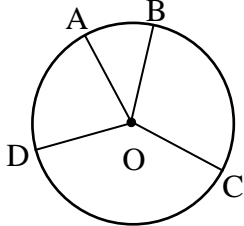
題號	鑑別度指標	題目
14.	0.29	<p>請將下列〈生於憂患，死於安樂〉一文的句子，依造正確順序排列：①故天將降大任於是人也 ②餓其體膚 ③行拂亂其所為 ④必先苦其心志 ⑤勞其筋骨 ⑥空乏其身</p> <p>(A) ①②④⑤③⑥ (B) ①④⑤②⑥③</p> <p>(C) ①⑤②③④⑥ (D) ①④⑤⑥③②</p>
分析 內容	此題為課文默書順序排列，學生高分組全對，低分組也高達 0.71，可以看出學生有做好準備，日後出題可以增加難度。	
15.	0.29	<p>關於〈清心苦味〉一文的說明，下列何者<u>不</u>正確？</p> <p>(A)「除了<u>中國人</u>之外，最懂苦味的民族大概是<u>日本和義大利</u>了」指的是<u>中國人</u>不屬於「最懂苦味的民族」</p> <p>(B)「一逕追求甜蜜的人生，常常愈活愈苦」過於執著追求完美人生，容易鑽牛角尖，感到生活越來越痛苦</p> <p>(C)「少年人要花時間才會習慣苦味，進而珍惜、喜歡起苦味」勉勵人不要怕吃苦，時間累積之下，會逐漸適應，珍惜並享受</p> <p>(D)「有一天卻突然發現苦味好比意外的訪客般敲醒我的味蕾之門」向來不碰苦的作者，某天突然對苦味的感受有所不同</p>
分析 內容	此題為課文文句的文意分析，高分組答對率為 0.98，低分組答對率為 0.69，此題偏易。可見學生多能掌握「除了.....之外，最.....」的涵蓋範圍，日後出題可以增加題型變化。	
28.	0.2	<p>星期天晚上，小新打開日記本，記下了白天去過的地方，順手抄下店家外面的對聯。三副對聯，分別是：「妙手回春意／白衣濟世心」、「雖然毫末技藝／卻是頂上工夫」、「架上圖書潤／室內翰墨香」，請問<u>小新</u>白天去過哪些地方？</p> <p>(A) 診所、理髮店、書店 (B) 診所、眼鏡行、家具行</p> <p>(C) 美容店、電影院、書店 (D) 美容店、理髮店、水果行</p>
分析 內容	此題為店家對聯的判別，高分組全對，低分組答對率也高達 0.90，顯示學生對於基礎對聯的認知是很清楚的。日後出題可以放心增加難度。	

新北市立鷺江國中 112 學年度第一學期第二次定期評量  
九 年 級 英 文 科 試 題 分 析

題 號	答對率/ 鑑別度指標	題 目
5	42.9%/0.46( 非 常優良)	Is <i>Just The Way You Are</i> sung by Bruno Mars?
分析 內容	答案為 B, 大部分學生選 A, 對 park 的名詞與動詞意思不知。	
5	% / 0.2(尚可 , 但通常需修改)	5. Was your cellphone gone yesterday? (A) Yes, but I found it today. (B) Yes, it was a useful tool. (C) Yes, it is at a senior center.
分析 內容	對問題不理解。	
7	%/ 0(劣,需修改 或淘汰)	7. Is <i>Just The Way You Are</i> sung by Bruno Mars? (A) No, it was so boring. (B) Yes, I can sing many songs. (C) Yes, it is. People love it so much.
分析 內容	對於歌曲與人名無法聽懂。	
10	%/ 0.18(劣,需 修改或淘汰)	Number 10. Man: I have to take my puppy, Lucky, to go jogging later. He is bored and doesn't move when he stays at home all day. Woman: How do you know how your dog feels? Man: It's easy. When he wants to go out, he starts to shake his tail and makes noises. Woman: That's cute! Q: Where is Lucky now? (A) He's at the park. (B) He's with the man. (C) He's in the hospital.
分析 內容	對於對話內容不理解。	
11	49.3%/ 0.09(劣, 需修改或淘汰)	It takes us a long time to visit Uncle Wilson in London. Finally our plane will _____ in an hour. (A) carry (B) fill (C) land (D) set
分析 內容	對於單字意思不熟悉。	

15	%/0.18(劣,需修改或淘汰)	<p>Dipsy: Look at this painting. The trees are _____ like squares.</p> <p>Dora: Square trees? I just don't get it. Artists always have special ideas.</p> <p>(A) set            (B) entered            (C) shaped            (D) collected</p>
分析內容	對於單字意思不熟悉。	
33	%/0.18(劣,需修改或淘汰)	<p>Do you like coffee? If yes, get a chance to visit the most modern robot coffee shop in San Francisco. You walk in with no clerks there, and don't know <u>  (1)  </u>. Don't worry. It's not that difficult. All coffee <u>  (2)  </u> by two coffee machines and a robot. You can order on the iPad or their app. The app will show you what your order number is. But how do you know <u>  (3)  </u>? Just look at the <u>  (4)  </u> on the wall after you finish the order. It will be showed on it. What's more, you can also see how much time you have to wait and when yours will be done on the app. Very convenient, <u>  (5)  </u>?</p> <p>More and more coffee shops like this are designing new robots. Soon these modern robots will be everywhere. Next time when you visit San Francisco, don't forget to get a cup of coffee there.</p> <p>3.(A) how much coffee to buy</p> <p>(B) if your coffee is ready</p> <p>(C) if I've bought coffee here before</p> <p>(D) whether it is for here or to go</p>
分析內容	可從上下句判斷句意。	
37	% / 0.18(劣,需修改或淘汰)	<p>2. Which is <b>TRUE</b>?</p> <p>(A)The numbers of teleworkers only grow in Europe and the USA.</p> <p>(B) Teleworkers spend more time at the office, so they can get more sleep at home.</p> <p>(C) The problems, like traffic and pollution, can be fixed through telecommunicating.</p> <p>(D) Companies around the world save less money when their workers do their office work from home.</p>
分析內容	需運用閱讀策略, 從文中找出和題目相同的關鍵字, 即可知道答案。	

九年級 數學科 試題分析

題號	答對率/ 鑑別度指標	題目
1	0.8125/ 0.375 優良，但可能需修改	<p>1、如圖(一)，<math>\triangle ABC</math> 中，已知 <math>\angle C=90^\circ</math>，<math>\overline{AB}=13</math>，<math>\overline{BC}=5</math>，<math>\overline{AC}=12</math>。則 <math>\cos A</math> 的值為何？</p> <p>(A) <math>\frac{5}{13}</math> (B) <math>\frac{12}{13}</math> (C) <math>\frac{5}{12}</math> (D) <math>\frac{12}{5}</math></p> 
分析 內容	為三角函數基本概念，高分群答對率 100%，低分群答對率 62.5% 再多加計算部分可提高鑑別度。	
4	0.875/ 0.25 尚可，但通常需修改	<p>圓 O 外一點 A 到圓心 O 的距離 <math>\overline{OA}=8</math>；圓 O 內一點 B 到圓心 O 的距離 <math>\overline{OB}=6</math>。若圓 O 的半徑為 r，則 r 的可能值為 (A) 4 (B) 5 (C) 6 (D) 7</p>
分析 內容	此題為圓與點的關係基礎觀念題，為習作題型。高分群答對率 100%，低分群答對率 75%，代表大部分學生對基礎觀念熟悉。	
10	0.8125/ 0.375 優良，但可能需修改	<p>如圖(七)，在圓 O 上取 A、B、C、D 四點，若 <math>\widehat{AD}:\widehat{BC}=2:3</math>，<math>\widehat{CD}=2\widehat{AD}</math>，<math>\angle BOC=108^\circ</math>，則 <math>\angle AOB=?</math></p> <p>(A) <math>20^\circ</math> (B) <math>26^\circ</math> (C) <math>36^\circ</math> (D) <math>40^\circ</math></p> 
分析 內容	為圓心角加上比例的綜合概念題，高分群答對率 100%，低分群答對率 62.5%	

新北市立鷺江國中 112 學年度第一學期第二次段考九年級地球科學科試題分析

題號 (答案)	題目	分析
9 (B)	<p>下列關於地球內部的敘述，哪些是正確的？</p> <p>8.3%(A)乙丙丁</p> <p>32.4%(B)甲乙丁</p> <p>24.3%(C)甲丙丁</p> <p>34.6%(D)甲乙丙丁。</p> <p>甲、最內層是地核，主要由鐵、鎳等金屬組成；</p> <p>乙、地函的主要元素為氧、矽與鎂；</p> <p>丙、岩石圈位在地殼與地函之間，厚度約 100 公里；</p> <p>丁、軟流圈位在岩石圈下方，具可塑性且移動極緩慢。</p>	<p>本題答對率：32.4%。</p> <p>難易度：中等。</p> <p>鑑別度：不夠。</p> <p>知識、理解、判斷。</p> <p>康軒版課本第 165 頁：從地表向下至深度約 100 公里的區域，包括地殼及部分地函，稱為岩石圈。因此，岩石圈並非在地殼與地函之間。故，答案為（B）甲乙丁。</p> <p>答錯者未釐清地球內部的結構。</p>
15 (B)	<p>褶皺地形和下列何者成因最相似？</p> <p>32.4%(A)中洋脊</p> <p>35.4%(B)大理岩</p> <p>13.1%(C)玄武岩</p> <p>18.9%(D)裂谷。</p>	<p>本題答對率：35.4%。</p> <p>難易度：中等。</p> <p>鑑別度：非常優良。</p> <p>知識、理解、綜合。</p> <p>本題配合前一次段考內容，學生須知道『大理岩為變質岩，因深埋在地底，經高溫、高壓作用，在未達熔融的情況下，使其成分與結構產生變化』。而褶皺的形成條件與變質岩相似，故答案為（B）。</p> <p>答錯者應是亂猜。</p>
17 (C)	<p>下列關於褶皺和斷層的敘述，正確的有幾項？</p> <p>6.5%(A)1 項</p> <p>42.4%(B)2 項</p> <p>46.1%(C)3 項</p> <p>5.0%(D)4 項。</p> <p>甲、斷層和褶皺都是岩層受力作用的結果；</p> <p>乙、褶皺多發生在地下深處；</p> <p>丙、褶皺是岩層彎曲的現象；</p> <p>丁、斷層發生前，必先發生褶皺。</p>	<p>本題答對率：46.1%。</p> <p>難易度：中等。</p> <p>鑑別度：優良。</p> <p>知識、理解、判斷、分析。</p> <p>本題改編自翰林版習作。</p> <p>正確敘述為：甲、乙、丙，三項。故答案為（C）。</p> <p>另，斷層發生前，不一定會發生褶皺，故丁為錯誤敘述。</p> <p>部分學生應是無法確定哪些敘述是正確的，而答錯。</p>
35 (C)	<p>【題組二】洛娜在書局中翻閱一本科學雜誌，其中有一篇文章在描述全球板塊分布和各種板塊邊界的地形特徵，並附圖輔助說明，根據課本和活動所學到的相關知識，試回答 34~36 題：</p>	<p>本題答對率：46.7%。</p> <p>難易度：中等。</p> <p>鑑別度：非常優良。</p> <p>知識、理解、分析。</p> <p>先備知識：板塊的分離讓岩漿沿著裂隙湧出，</p>



--- 分離

▲▲ 聚合

圖中乙、丙、丁三個位置的海床岩石的年齡，哪一個最年輕？

9.8%(A)乙

14.4%(B)丙

46.7%(C)丁

28.3%(D)三者一樣年輕。

形成新的海洋地殼。因此，板塊分離處的海床岩石最年輕，故答案為（C）丁。

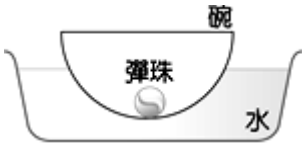
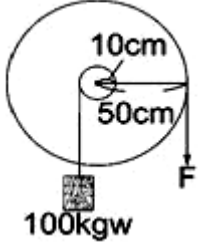
答錯者應是亂猜。


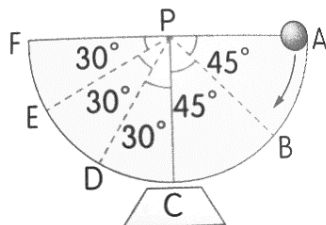
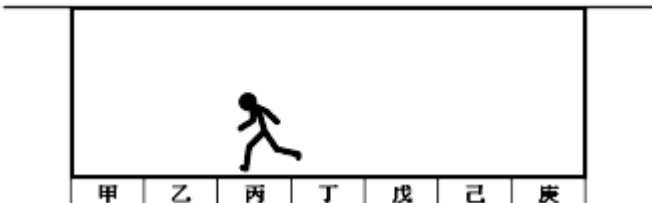
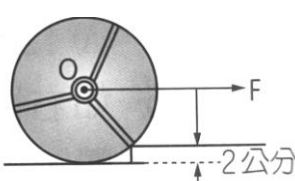
新北市立鶯江國中 112 學年度第 1 學期第 2 次定期評量

\_\_9\_\_ 年級 \_\_理化\_\_科 試題分析

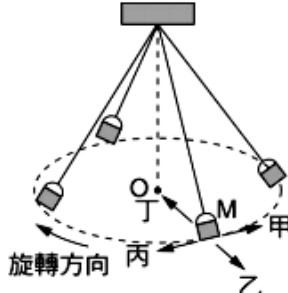
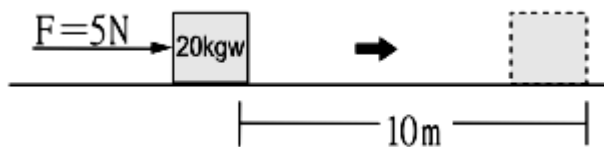
1. 年級平均 52.29(各班平均分布 42.31-64.84)

2. 難易度:中間

題號	答對率/ 鑑別度指標	題目
1	26.7/0.58	<p>將碗置於裝有水的臉盆中，碗內有一顆彈珠，如下圖所示。當碗及彈珠在水面上呈現靜止狀態時，<u>大雄</u>和<u>胖虎</u>分別提出自己的見解，其敘述如下：</p>  <p><u>大雄</u>：彈珠重量的反作用力，為碗作用於彈珠的支撐力。  <u>胖虎</u>：彈珠施予碗底一個向下作用力，其反作用力為水對碗向上的浮力。</p> <p>關於兩人的敘述下列何者較合理？ (A)兩人均合理 (B)兩人均不合理 (C)只有大雄合理 (D)只有胖虎合理。</p>
分析 內容		此題為習作敘述作改編，然習作答案為兩人敘述均合理，大多數同學應是沒仔細看題目，以為和習作答案一樣，有 32.8%的人選(A)，正確答案應為(B)。
25	37.8/0.49	<p>有一輪軸，軸半徑為 10 公分，輪半徑為 50 公分，如下圖所示。若要使 100kgw 的重物上升 40cm，則要施力往下拉幾公分？            (A) 8 (B) 20 (C) 40 (D) 200 公分。</p> 
分析 內容		此題選(B)佔 26.9%，選(C)的人佔 23.1%，顯示對輪軸如何省力或省時與輪軸的半徑比有關並不瞭解。
30	32.6/0.38	<p>有一個 15 公斤重的冰桶，小明只用 10 公斤重的力往上抬，冰桶仍靜止不動。由此可知：</p> <p>(A)冰桶所受合力 5 公斤重 (B)地面給冰桶的反作用力 5 公斤重 (C)冰桶給小明的反作用力 15 公斤重 (D)地面給冰桶的支撐力為 15 公斤重。</p>

		
分析 內容	有 26.3%的人選(D)，應是覺得地面給冰桶的支撐力就等於冰桶對地面的重力，而沒有考慮到小明上抬冰桶的力。	
31	38.3/0.55	<p>如右圖，將一個小鐵球放在半圓形的碗壁，使小鐵球自碗口 A 點沿箭號方向靜止下滑，若不計摩擦力，關於小鐵球運動的敘述，下列何者<u>錯誤</u>？</p>  <p>(A)小鐵球在 A、F 兩點的重力位能相等 (B)小鐵球在 C 點動能最大 (C)小鐵球在 B 點時重力位能和動能相等 (D) 小鐵球在 E 點和 B 點時的力學能相等。</p>
分析 內容	此題選(D)的有 35.6%，應是以為 E 點和 B 點需同高度，力學能才相等。	
32	25.0/0.14	<p>如圖所示，用兩條不可伸縮的繩子，使一質量均勻分布的平臺懸吊呈水平，平台上甲至庚的每一個區塊寬度都相同，平臺和繩子的質量可忽略。若<u>丁丁</u>的體重為 70 公斤重，而每條繩子最多只能支持 50 公斤重，則<u>丁丁</u>站在平臺上的那些區塊是安全的？</p>  <p>(A)只有丁 (B)丙、丁、戊 (C)乙、丙、丁、戊、己 (D) 兩條繩子共可支撐 100 公斤重，所以無論哪個區塊皆安全。</p>
分析 內容	此題偏難，42.8%的同學選(D)，實際上需分析各以左右為支點時，應考量某些區塊沒在重複的安全區塊內，應刪除。	
33	39.4/0.56	<p>下圖為 30 公斤輪，欲使它滾上軸心 O 處，施一 33~35 題：</p>  <p>重、半徑 10 公分的圓 2 公分高的階梯，並於水平力 F，試回答下列</p>




34	28.9/0.30	33. 施力臂長為多少公分？(A) 4 (B) 6 (C) 8 (D) 10 公分。
35	26.1/0.39	34. 抗力臂長為多少公分？(A) 2 (B) 4 (C) 6 (D) 8 公分。 35. 於軸心 O 處，最少需施水平力多少公斤重？(A) 22.5 (B) 25 (C) 30 (D) 32.5 公斤重。
分析內容	33~35 題為一題組，若同學找不出此題的支點位置，便難判斷施力臂與抗力臂的長度，而找不出力臂，便無法算出 35 題施力的大小。	
37	34.8/0.53	有關於作等速率圓周運動的鞦韆，下列敘述何者正確？(A) 鞦韆的運動方向與向心力方向相同 (B) 鞦韆的加速度方向與向心力垂直 (C) 向心力是改變鞦韆運動方向的原因 (D) 做等速率圓周運動的鞦韆所受的合力為零 
分析內容	此題選(B)佔 28.0%，選(D)佔 25.2%，表示對於物體作圓周運動的觀念不清楚。	
38	31.3/0.54	 合力對水桶作功多少焦耳？(A) 0 (B) 5 (C) 50 (D) 100 焦耳。
分析內容	此題選(C)的同學佔了 46.9%，並沒有將題目看清楚，題目是問合力作功而非施力作功。	
40	35.6/0.43	關於水桶在移動過程的敘述，下列何者正確？(A) 作功的正、負代表方向性 (B) <u>夏夏</u> 作功使水桶的動能增加 (C) 水桶在移動過程遵守力學能守恆定律 (D) <u>夏夏</u> 的作功被摩擦力消

		耗。
分析 內容	多數同學沒有發現題目是粗糙面(有摩擦力)，故有 28.1%的同學認為移動過程中遵守力學能守恆。	

新北市立鷺江國中 112 學年度第 1 學期第 2 次定期評量

9 年級社會科 試題分析

題號	答對率/ 鑑別度指標	題目
11	47.0	<p>中南美洲的人口高度集中在某些大都市，都市化程度甚至高於美國的 83% 及台灣的 80%，如：烏拉圭的都市化程度高達 95.6%。龐大的人口湧入都市使許多都市外圍形成廣大的貧民窟，除了居住環境品質低落外，也引發治安問題等，請問：中南美洲的人口大量移入都市的原因可能為何？</p> <p>(A)政府鼓勵移居都市 (B)都市大眾運輸便利</p> <p>(C)都市就業機會充足 (D)鄉村基礎建設不足。 【正解：D】</p>
分析		<p>此題考中南美洲的假性都市化現象，當地都市化極高的現象是不正常的，因此並不像其他地區都市化一樣，單純是都市的拉力，反而是當地大地主制加上殖民地式的經濟影響，使鄉村農民選擇離開條件較差的鄉村，學生應是忘記當地都市化現象與他地不同，而選擇 C，未來將會在課程中特別強調這點。</p>
24	29.1	<p>位於塞爾維亞及阿爾巴尼亞之間的科索沃，今日仍是宗教、種族複雜之地，在十五世紀後期被「某帝國」占領後，改信伊斯蘭教的阿爾巴尼亞人陸續遷入，……。但十九世紀以來，科索沃民族主義高漲，……，屢屢出現紛爭。1990 年代後期，塞爾維亞政府在當地對阿爾巴尼亞人進行種族屠殺，導致許多難民逃離科索沃，棲身於鄰國的難民營。請問下列何者最為正確？(A)文中出現的國家位於巴爾幹半島(B)文中的「某帝國」是指塞爾柱土耳其帝國(C)文中提到的難民營位於圖四中的甲(D)文中的某帝國因國內紛爭過多，16 世紀國勢開始走下坡，直至 21 世紀末帝國衰亡。 【正解：A】</p> 
分析		<p>這一題主要在考學生基本概念並結合地理課本曾經上過的歐洲三大半島，這一題雖然地理課本並無特別提及巴爾幹半島國家，但只要能夠熟讀歷史加上地理概念，以消去法就能將答案選出。</p> <p>未來必須加強學生各科之間的結合必強調地圖概念。</p>
25	45.7	<p>小鷺睡完午覺醒來，意外發現他穿越時空，來到歐洲某一時代。為生存下去，他努力記錄他所觀察到的狀況：「修道院的修士遠離塵囂，以懺悔方式進行修，……。他們也抄寫古書、努力耕種土地，不僅為了修道院生活的自給自足，也為了救助窮人。在動盪不安的時代，……。」請問這個記錄中，可能也會出現下列何事？(A)學校指定學生閱讀《天方夜譚》(B)眾人批判猶太教的專制腐敗(C)教宗號召教徒前往收復聖地麥加(D)傳教士指導當地孩子學習拉丁文。 【正解：D】</p>
分析		<p>這一題主要在考學生對於中世紀時期的基本概念以及學生對於普世宗教的基本認知。只要熟讀課本答案必能選出</p>
26	49.4	<p>「2020 年 7 月，某國政府發出新聞稿，宣布國家最高行政法院判決：1934 年，凱末爾總統在內閣會議中，將聖索菲亞『大清真寺』改名為『博物館』的決議無效，因此這棟建築此後將即刻恢復為清真寺，並由宗教事務局接管，供穆斯林使用。…。聖索菲亞博物館，一直以來肩負東正教與伊斯蘭教兩大宗教和平處的象徵。……。」根據上述內容，下列何者最為正確？(A)聖索菲亞博物館最初是君士坦丁大帝時</p>

		期所建的教堂（B）聖索菲亞大教堂後來改建成清真寺是因該地為塞爾柱帝國所佔有（C）該博物館所在位置屬於兩教共同的聖地（D）文中的「東正教」是俄羅斯所信奉宗教。 【正解：D】
分析		這題結合地理課本所提的俄羅斯信奉的宗教，題目本身簡單也容易選出答案，但是必須具有地理基本概念。
30	40.6	圖六為十一世紀歐洲宗教分布圖，請問下列何者最為正確？（A）甲宗派的特色是 政教合一（B）乙教派教權一直都由皇帝掌握（C）丙教派屬於多神信仰（D）丁教派主張教權高於一切。 【正解：B】
分析		這一題其實在考學生對於 11 世紀宗教分布的概念，地圖主要出自於課本，學生會錯的原因應該是因為對於學習常常無法配合地圖，詢問學生表示過去段考很少考地圖，因此未來要加強學生對於地圖的基本概念，並讓學生學習看地圖。
31	28.3	小剛暑假參加了新教「宗教改革」旅遊並拿到馬丁路德的生平介紹，部分內容如下：「西元 1517 年，教宗利奧十世以修建聖彼得大教堂為藉口，推動大規模出售贖罪券活動，……。當時，馬丁路德看不慣這種腐敗的行為，羅列反對贖罪券的《九十五條論綱》，……。此論綱快速傳遍歐洲地區，更點燃一連串宗教改革運動的風潮。」下列有關敘述何者最為正確？（A）小剛參加的旅遊團，還有可能去參訪喀爾文的故居（B）文中提及《九十五條論綱》快速傳遍全歐主因是識字率提高（C）小剛此次旅行的國家，最有可能為西班牙跟德國（D）宗教改革肇因於東正教過於腐敗。 【正解：A】
分析		對於這一題解題關鍵字是新教「宗教改革」旅遊，因此旅遊第一一定是以新教為範圍，只要熟讀課本加上消去法便能簡單選出答案。主因是學生對於課本並未熟讀因此錯誤率高
33	43.3	德國學者韋伯在「新教倫理」中提出：「一方面強調消費的節制，另一方面則強調自願勞動的重要性。……正是因為節制消費，以及強調勞動的觀念，使得資產階級的資本逐漸積累，……。資產階級累積自己的財富，在合理的範圍自由使用金錢，這些行為都是受到上帝所祝福的。」根據上述內容，下列何者最為正確？（A）此教派是指路德教派（B）此教派主張勤儉致富，藉此榮耀教宗（C）此教派讓越來越多貧窮的人仰賴教會救濟（D）來台的馬偕、馬雅各屬該教派分支的傳教士。 【正解：D】
分析		這題解題關鍵字是「新教倫理、資產階級累積自己的財富」，因為新教教派中克爾文教派特別提及容許教徒可以賺錢，而馬偕馬雅各的長老教會正是屬於喀爾文教派，這題除了必須熟讀課本、能夠看懂文字意思外，還必須結合過去已經讀過的知識。
41	27.4	41.「新楓之谷」線上遊戲是韓國原廠開發，在臺灣由遊戲橘子數位科技股份有限公司取得代理權。遊戲橘子公司為銷售「新楓之谷」線上遊戲，在 112 年 3 月舉辦寶箱活動並刊載「核心寶石機率表」，遭玩家檢舉機率廣告不實。經甲機關評定該機率表不實，故遊戲橘子公司就足以影響交易決定之服務內容為虛偽不實及引人錯誤之表示，違反乙法定，處新臺幣 200 萬元罰鍰。請問甲、乙分別指為下列何者？ (A)公平交易委員會、消費者保護法 (B)消費者保護服務中心、消費者保護法 (C)公平交易委員會、公平交易法 (D)消費者保護服務中心、民法。 【正解：C】
分析		1. 廣告不實在公平交易法及消費者保護法都有規範,公平交易法針對廠商規範,消費者保護法著重在保護消費者權益。 2.學生由遭玩家檢舉機率廣告不實易判斷為 B，但題目提及處新臺幣 200 萬元罰鍰的對象應為遊戲橘子公司，故應為 C