

新北市立鷺江國民中學 112學年度 第1學期 8年級 社會科 第2次段考 題目卷

命題教師：社會領域教師 日期：11月29日 第4節 班級： 座號： 姓名：

※選擇題：共50題，1題2分，總分100分。

※請將答案劃記在答案卡上，以讀卡成績為主※

一、地理科：第1~17題

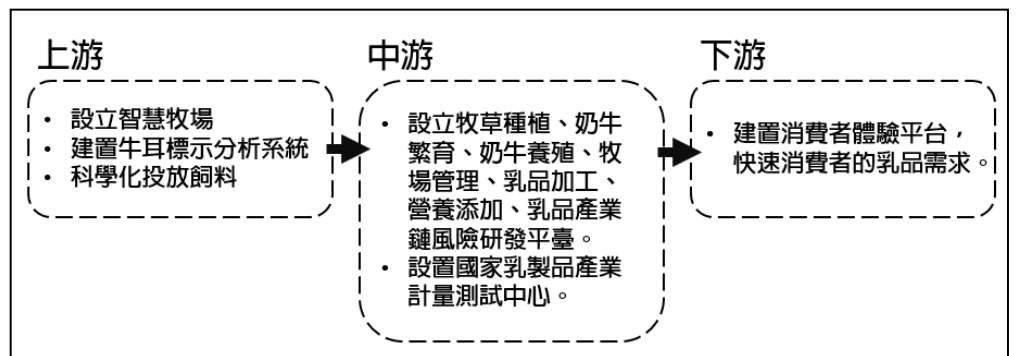
1. 2021年，全球前10大貨櫃港口有7個來自中國大陸，前3名分別是上海、新加坡和舟山港。今年長三角地區港口貨櫃吞吐量依然是重要增長點，上海港仍位居榜首，新加坡港緊隨其後。下列有關中國上海港的敘述，何者是上海能成為國際第一大港口的有利條件？
 (甲)位於中國海岸線中央 (乙)腹地廣闊，涵蓋整個長江流域
 (丙)農礦資源豐富，工業發達 (丁)氣候溫暖溼潤，農業發達
 (A)甲乙 (B)甲戊 (C)乙丙 (D)乙丁。

2021年H1全球前十大港口吞吐量					
港口名稱	所屬國	貨櫃吞吐量 (萬TEU)	港口名稱	所屬國	貨櫃吞吐量 (萬TEU)
上海	中國	2,294	青島	中國	1,166
新加坡	新加坡	1,873	釜山	韓國	1,142
寧波舟山	中國	1,607	天津	中國	1,030
深圳	中國	1,376	香港	中國	872
廣州	中國	1,177	鹿特丹	荷蘭	761

資料來源：亞太港口服務組織 整理：蘇崇愷

2. 圖1為中國內蒙古地區某企業的發展策略，根據圖中資訊判斷該企業經營的策略，下列敘述何者正確？
 (A)改善農地土壤肥沃度 (B)改良種植技術提高產
 (C)管制工廠的環境汙染 (D)導入科技化方式管理。

圖1

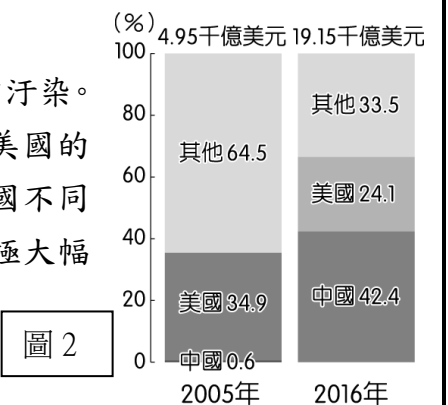


3. 中國在1980年開始經濟發展之時，主要以境內的有利條件吸引外商投資，但隨著境內的產業成長，2000年起中國企業在政府鼓勵下逐漸開始對外投資。請問：中國政府鼓勵向外投資的主要目的中，不包括下列何者？
 (A)取得自然資源 (B)獲取生產技術 (C)國內勞工工資上漲 (D)進入歐美市場。

《糧食安全拉警報！禽流感衝擊 中國雞雞價格翻三倍》，改寫自中央廣播電台，2023-03-01。

一場史無前例的全球禽流感疫情，在短短一年多的時間內，造成世界各國禽鳥大量死亡，也造成中國雞雞短缺，價格飆升，恐將進一步推高食品價格上漲，暴露出北京在加強糧食安全脆弱的一面。中國的禽流感疫情嚴重，本來只會在鳥類間傳染的禽流感因病毒變異，未來不排除出現禽鳥傳染給人類的案例。這波禽流感疫情凸顯雞蛋產業的脆弱性，也讓養雞場的環境問題再掀討論。

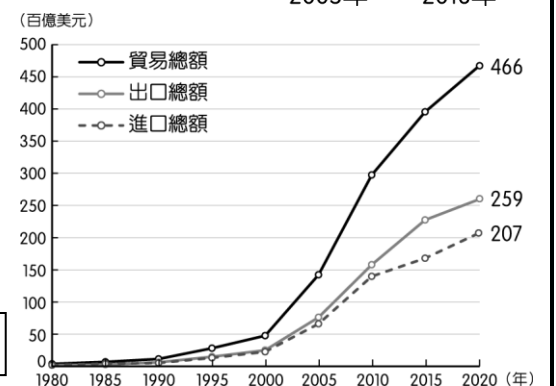
4. 根據上文所述，請問近期中國農業發生的危機，與下列何者關係最密切？
 (A)集約化的飼養方式 (B)雞隻過度注射疫苗 (C)農民缺乏防疫知識 (D)水資源受嚴重汙染。
5. 隨著資訊交通的快速發展，世界各地的電子商務紛紛崛起，形成不容忽視的市場。如美國的亞馬遜(Amazon)和中國的淘寶，已對傳統商業活動造成嚴重威脅。附圖為中國和美國不同年度的電子商務消費量變遷圖。請問：圖2中國的電子商務市場在短短10年間有了極大幅度的成長，這和下列何項關係最大？
 (A)產業轉型 (B)設立經濟特區 (C)推行一帶一路 (D)網路發達。



6. 中國以農立國，自1980年代進行改革開放後，產業結構轉變。21世紀的中國，讓世界看到古老帝國的再出發，更享有世界工廠、世界市場之稱，除了持續吸引外國企業投資之外，中國對外投資也逐年攀升，以新興資本市場之姿進入全球經濟體系，並對世界造成巨大影響。圖3為中國的進出口貿易總額統計圖，請問：中國從1980年開始，成為世界主要生產基地的「世界工廠」，而使出口總額大幅增加，當時中國經濟發展的有利條件為何？

- (甲)生產技術先進 (乙)人口眾多 (丙)豐富的天然資源
 (丁)廉價的勞工 (戊)國內資金多
 (A)甲乙 (B)甲戊 (C)乙丁 (D)丙丁。

圖3



7. 承上題，請問：中國實施改革開放政策，從早期的世界工廠轉變為世界市場。上述轉變和中國何項因素的關係最大？
 (A)技術進步 (B)勞工減少 (C)網路發達 (D)國民所得提高。

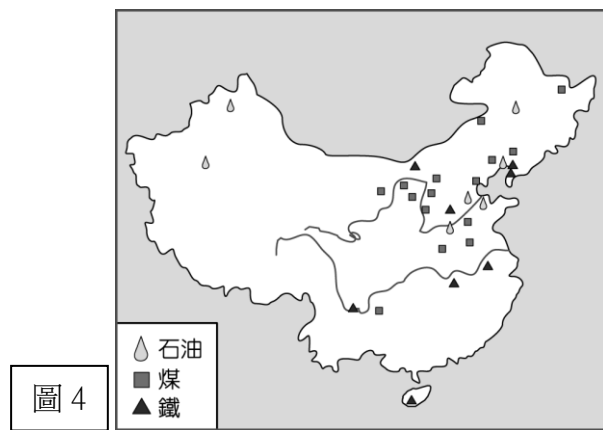


圖 4

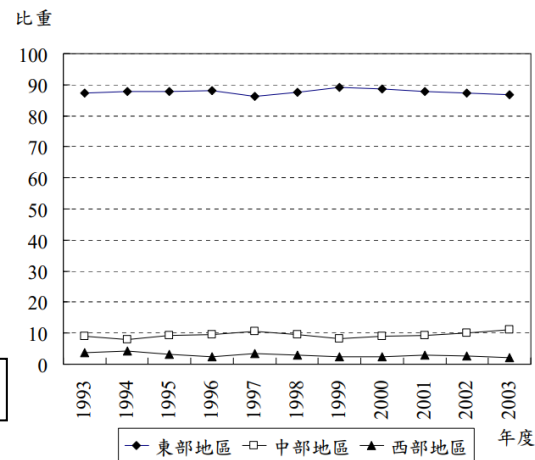


圖 5

8. 圖 4 為中國煤、鐵、石油分布圖，根據圖中資訊判斷，下列敘述何者正確？
 (A) 長江流域自然資源豐富 (B) 南部為主要的石油產區 (C) 經濟特區仰賴資源出口 (D) 重工業北部比南部發達。
9. 圖 5 是 1993-2003 年中國三大經濟帶的經濟生產比重圖，由圖 5 可看出下列何種現象？
 (A) 中國產業以工業產值最高 (B) 經濟發展呈現失衡的狀態
 (C) 各區的產值差距逐漸縮小 (D) 中國貿易以出口導向為主。

題組 (一)：根據圖 6，回答第 10~13 題。

「一帶一路」即「絲綢之路經濟帶」和「21 世紀海上絲綢之路」，是中國對外發展的重要戰略。中國希望藉由交通發展串聯周圍國家，讓中國成為該地區的經濟火車頭，展現其在世界體系中的影響力。圖 6 為「一帶一路」計畫的路線圖：



圖 6

10. 請問：一帶一路沿線國家不包括下列哪一個區域？
 (A) 歐洲 (B) 美洲 (C) 東南亞 (D) 非洲。
11. 其沿線國家多數具有下列何項特質？
 (A) 交通便利 (B) 資金充足 (C) 資源豐富 (D) 技術進步。
12. 中國提出一帶一路，除了想達成貿易的便利外，更主要是希望能夠透過幫助友邦興建交通、貿易網絡的過程，達成何種利益？(甲)消化國內過剩產能 (乙)減少各國環境汙染 (丙)擴大貿易市場 (丁)獲取各國的自然資源 (戊)協助友邦交通建設
 (A) 甲丙丁 (B) 甲丁戊 (C) 乙丙丁 (D) 丙丁戊。
13. 參加一帶一路的國家，在與中國合作的過程中，可能會面臨什麼問題？
 (甲)引進大量國際移工 (乙)貧富差距擴大 (丙)國內政治可能受中國影響 (丁)自然資源難以開採 (戊)積欠龐大建設費用
 (A) 甲乙 (B) 乙丁 (C) 丙戊 (D) 丁戊。

題組 (二)：根據圖 7，回答第 14~15 題。

14. 隨著港珠澳大橋完工啟用，中國預計結合香港和澳門兩個特別行政區、廣東省九個相鄰城市，如廣州、深圳等，提出「粵港澳大灣區」，打造其成為與美國紐約灣區、舊金山灣區及日本東京灣區，並駕齊驅的全球第四大灣區。請問上述的「粵港澳大灣區」位於圖 7 中哪個地區？
 (A) 甲 (B) 乙 (C) 丙 (D) 丁。

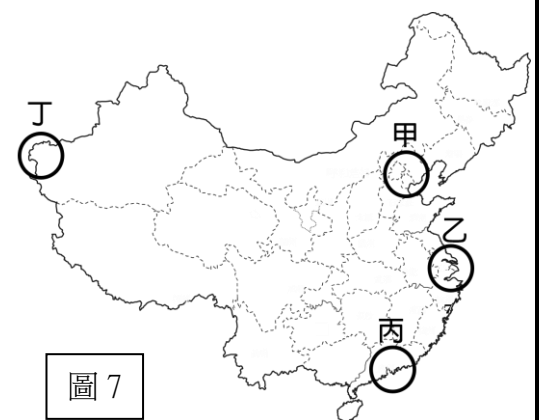


圖 7

15. 「在三年疫情衝擊及中國整體經濟衰退下，原先居於中國政治、經濟中心地位，聚集全國資源，資訊科技業及創業者雲集的中關村，明顯受到衝擊，顯得冷清，不復昔日般地熱鬧，如今創業形態已發生變化。」上文所述的經濟圈位於下列哪個區域？ (A) 甲 (B) 乙 (C) 丙 (D) 丁。

題組 (三)：圖 8 為中國各地區每月最低工資標準圖，回答第 16~17 題：

16. 根據圖中資訊判斷，下列敘述何者正確？
 (A) 喀什經濟特區的工資最高 (B) 全國的最低工資水準一致
 (C) 沿海地區的薪資普遍較高 (D) 東北部工資大幅領先西部。
17. 根據圖中資訊判斷，「每月最低工資」最高的區域，以下列哪些產業為主？
 (A) 鋼鐵與石化業 (B) 資訊與金融業 (C) 加工出口業 (D) 紡織及農產加工業。

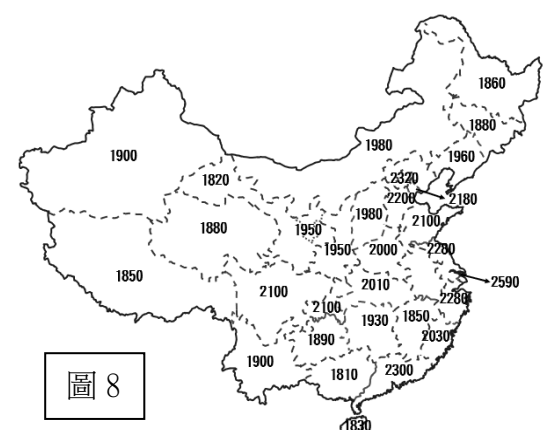


圖 8

二、歷史科：第 18 ~34 題

18. 小恩在網路上看到一個非常有趣的活動，是藉由現代科技讓坐在座椅上的觀眾，宛如親身飛入古代繪畫中的城市，感受當時的熱鬧與繁華。請問：根據活動海報(如右圖)，應該是下列哪一個朝代與城市？
(A)唐代長安 (B)北宋汴京 (C)南宋杭州 (D)清代北京。



19. 英國學者李約瑟在《中國科學技術史》評論道：「中國的科技發展到宋朝，已呈顛峰狀態，在許多方面實際上已經超過了 18 世紀中葉工業革命前的英國或歐洲的水平。」請問：以下哪些科技可以做為證據？
(甲)造紙術 (乙)指南針 (丙)活字印刷術 (丁)地圖繪製經緯線 (戊)火藥
(A)甲乙丙 (B)乙丙丁 (C)乙丙戊 (D)乙丁戊。
20. 以下是中國某朝代一座城市的簡介：「這座都市經過規劃，城中可見伊斯蘭教清真寺及佛教寺廟。朝廷聘用色目人擔任財政官員，並推行全國性紙幣政策，加上各地物資的集中，讓這座城市成為金融經濟中心。」這個朝代最可能是下列何者？(A)宋 (B)元 (C)明 (D)清。

21. 小雨最近熱愛觀賞歷史劇《大宋風雲》，如果劇中情節確實根據史實進行撰寫，下列哪一場景不可能出現在劇中？
(A)男主角曾在市舶司任職 (B)劇中人物使用紙幣交易
(C)男女主角在夜市相遇定情 (D)朝廷重用武將，國力強大。


22. 歷史老師請同學們討論右方的地圖，內容為中國某一朝代的官方通行路線圖。請你根據歷史知識判斷，下列同學們對於這幅圖的解讀，何者才符合史實？
(A)大雄：這就是漢朝的絲路路線圖 (B)靜香：這些交通路線上設有驛站
(C)柯南：這張地圖反映清帝國的強大 (D)小蘭：當時在位的皇帝是成吉思汗



23. 以下為某朝代與外族簽訂的條約內容：「共遵誠信，虔奉歡盟，以風土之宜，助軍旅之費，每歲以絹 20 萬匹、銀 10 萬兩。以白溝河為界，互不侵犯。約定為兄弟之邦，宋為兄，遼為弟，宋真宗稱蕭太后為叔母。」請問：關於這項條約，下列解釋何者正確？
(A)簽約的雙方是北宋與女真人 (B)這是在靖康之禍後簽訂的條約
(C)反映宋朝實力無法對抗該族 (D)條約並未換來兩國之間的和平
24. 以下是一首中國史上著名的宋詞：「…靖康恥，猶未雪；臣子恨，何時滅？駕長車，踏破賀蘭山缺。壯志飢餐胡虜肉，笑談渴飲匈奴血。待從頭，收拾舊山河，朝天闕！」請問：以下對於這首文學作品的說明，何者正確？
(A)作者是南宋的將軍趙匡胤 (B)作者要報仇的對象是匈奴人
(C)「靖康恥」是指蒙古人攻破首都 (D)創作背景是北方國土被外族佔領。

25. 李有成是元朝統治下的漢族人民，請問在他的人生中可能會有下列哪一遭遇？
(A)研讀《四書集注》準備科舉 (B)曾聽大學者朱熹在書院講學
(C)社會地位高且受到朝廷重用 (D)聽說朝廷禁止傳播伊斯蘭教。

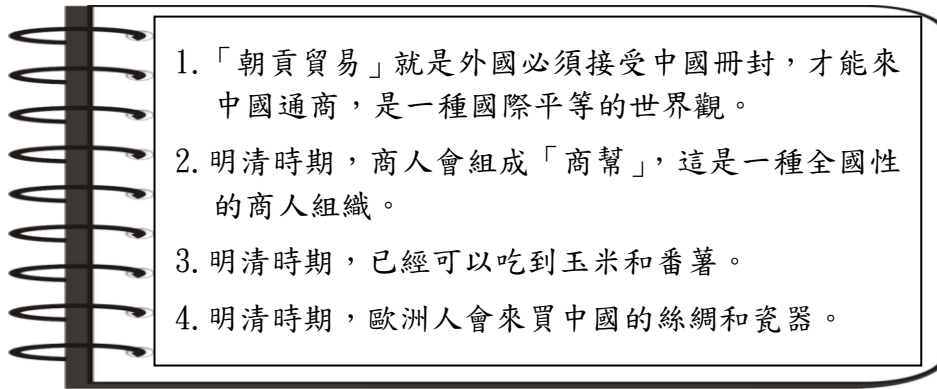
26. 右圖為中國古代畫家所繪的《抗倭圖卷》部分內容。請問：關於這幅畫的相關背景，以下敘述何者正確？



- (A)反映明末嚴重的流寇問題
(B)明朝軍隊正在抵禦女真人
(C)場景最可能出現在東南沿海
(D)是清代對抗鄭氏政權的證據
27. 小軒看到電視上正在播映清代的歷史劇，結果他發現有一個情節不符合史實，請問是下列何者？
(A)朝廷下令所有漢人薙髮留辮 (B)皇帝下令實施海禁以防倭寇
(C)朝廷舉行科舉，但常有文字獄 (D)大臣為了是否統治臺灣而辯論。

28. 下圖是小萌的歷史筆記，章節主題是「明清的對外貿易」，請問：她的筆記中，哪兩個地方寫錯了？

- (A)1、2 (B)1、3 (C)2、3 (D)1、4。



【題組一】請根據以下資料回答 29~31 題：

16 世紀末，是天主教神父到中國傳教的初期，當時的主要傳教士代表為 ，他到中國後，入境隨俗，不但學中文，改穿華服，尊重中國文化，還廣交中國官員和社會名流，傳播西方天文、數學、地理等科學技術知識，因為豐富的學識，在北京受到皇帝與大臣們的重視。

18 世紀初，天主教教宗重新宣布了對中國教徒的規定，導致中國皇帝的不滿：「中國有中國之教，西洋有西洋之教；彼西洋之教，不必行於中國，亦如中國之教，豈能行於西洋？」於是實施「禁教」。

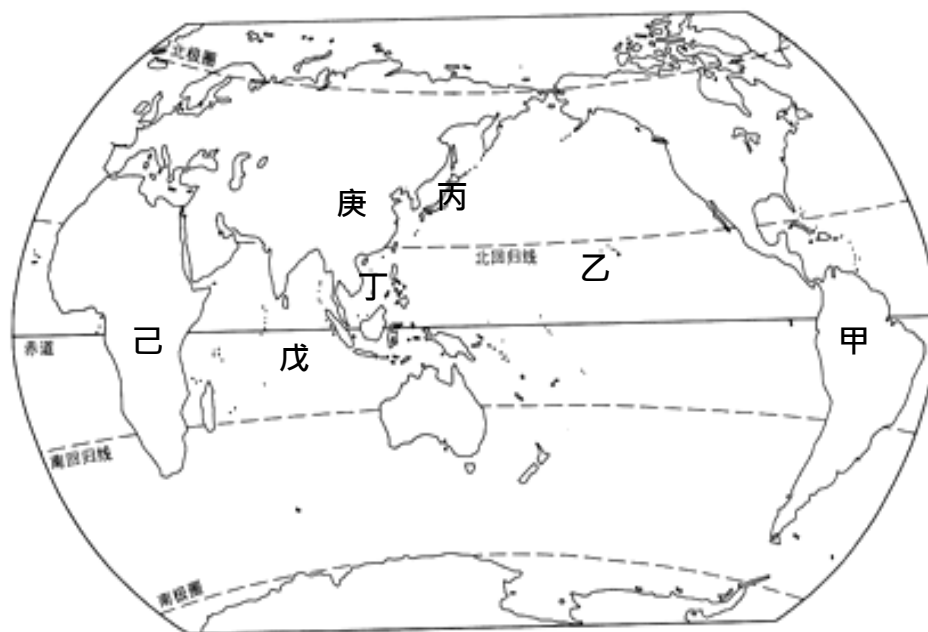
29. 根據資料所述，請問文中的 應為下列何人？ (A)馬偕 (B)馬雅各 (C)利瑪竇 (D)馬可波羅。

30. 根據你對清朝歷史的了解，請問文中提到中國皇帝不滿的原因最可能是下列何者？

- (A)禁止中國信徒祭祖、祭孔 (B)禁止傳教士學習中國文化
(C)禁止傳教士傳播西方學術 (D)禁止傳教士將中國文化西傳。

31. 文中所述的這位皇帝最可能為下列何人？ (A)元世祖 (B)明太祖 (C)明成祖 (D)雍正皇帝。

【題組二】中國的明清時期，與其他國家有許多互動，請你配合地圖回答以下問題：



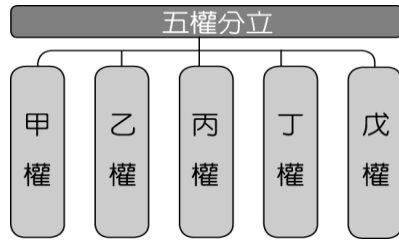
32. 以明清為時代背景的歷史劇中，常會看到富家子弟從袖口中取出銀兩付錢。請問：當時白銀的來源是來自上圖中的何地？ (A)甲 (B)丙 (C)丁 (D)己。

33. 小靜最近看了一部介紹中國航海日的影片，內容主要是與明朝鄭和下西洋有關。請問：鄭和船隊曾經到達的地區，包括上圖中哪些地區？ (A)甲乙丙 (B)乙丙丁 (C)丁戊己 (D)丙丁戊。

34. 17~19 世紀，某個國家因為西方商人到該國貿易而出現了「蘭學」，進而奠定了該國近代科學發展的基礎。請問：根據上述，這個國家位於上圖中何處？ (A)甲 (B)丙 (C)己 (D)庚。

三、公民科：第 35~50 題

【題組 35-36】下列圖表為小花的課堂筆記，請回答相關問題：



- ① 甲、乙、丙三權依據〔庚〕的學說而來。
- ② 〔辛〕結合三權分立的體制，提出來丁、戊二權。

35. 根據上述，下列相關敘述何者正確？

- (A) 甲、乙、丙為行政權、立法權、監察權 (B) 丁、戊則為考試權、司法權
- (C) 〔庚〕是指英國思想家洛克 (D) 〔辛〕是指我國孫中山先生

36. 關於我國獨具特色的「五權分立」政治制度，下列敘述何者正確？

- (A) 行政機關負責制定法律，且監督立法機關 (B) 司法機關兼監察權，則易生國會專制的弊端
- (C) 考試權由行政權中獨立，以避免濫用私人 (D) 監察權超出黨派之外，依法律獨立行使職權

【題組 37-40】附表為公民課時，老師用於解釋基本權利的事例，請回答相關問題：

新聞事例(一)：嚴防海葵颱風肆虐成災，南投信義鄉強制撤離神木村、同富村及東埔村三村居民
新聞事例(二)：行人零死亡推動聯盟於凱達格蘭大道舉辦「還路於民大遊行」，並提出五大訴求
新聞事例(三)：考選部公布國家考試期程，請有志加入公職行列或取得專業證照之民眾把握良機
新聞事例(四)：屏東明揚工廠大火，造成 4 名消防員不幸殉職，再度喚醒消防員組織工會的意識

37. 上述新聞事例可判斷和附圖某一類基本權利相關，請問：下列何項配對正確？

- (A) 新聞事例(一)：甲 (B) 新聞事例(二)：乙
- (C) 新聞事例(三)：丙 (D) 新聞事例(四)：丁



38. 參考新聞事例(一)，為防止颱風大雨造成土石流，政府強制撤離警戒區域的居民。

請問：政府的作為是暫時限制哪一項人民的權利？

- (A) 生存權 (B) 居住遷徙 (C) 集會結社 (D) 訴訟權

39. 根據新聞事例(三)，關於此項權利的敘述，下列何者正確？

- (A) 人民要求國家有所作為以享受特定利益 (B) 人民有防止國家公權力不當作為的權利
- (C) 採取投票方式來對政策表達同意或反對 (D) 為招募政府公務人員與人才的重要管道

40. 接續新聞事例(四)，消防員工作權益促進會日前於行政院大門前拉布條、舉旗幟表達相關訴求，呼籲行政院開放組工會、加重究責雇主責任，並要求可以參與相關會議。請問：上述消防促進會所採取的行動屬於《憲法》所保障的何種權利？ (A) 請願 (B) 訴願 (C) 創制 (D) 複決

【題組 41-43】新聞閱讀：

行政院於 28 日院會通過《原住民族工作權保障法》與《原住民身分法》修正草案，並送請【甲機關】審議，兩案修法係落實總統原住民族政策主張，與憲法所保障原住民身分之認同權及平等權，並分別回應【乙機關】110 年度釋字第 810 號解釋、憲法法庭 111 年度憲判字第 4 號判決意旨。

節錄改寫自《台灣好報》2023 年 9 月 29 日

41. 請問：文中【甲機關】、【乙機關】依序是下列哪一中央政府機關？

- (A) 立法院、司法院 (B) 立法院、監察院 (C) 監察院、司法院 (D) 監察院、考試院

42. 由上述【行政院】、【甲機關】、【乙機關】三者的互動，可印證下列哪一說法？

- (A) 權力集中在統治者手中，權力被濫用 (B) 權力平衡狀態，促使政府效率低落
(C) 政府機關的權力分立，互相平衡牽制 (D) 政府權力過度分散，引發機關衝突

43. 「本次《原住民族工作權保障法》修正重點其一：將現行公部門進用原住民一定比例的名額以『約僱等五類人員』為限，修正為所有的職務類別。」下列相關敘述何者正確？

- (A) 違反《憲法》保障的平等權 (B) 落實《憲法》保障的受益權
(C) 違反《憲法》保障的參政權 (D) 落實《憲法》保障的自由權

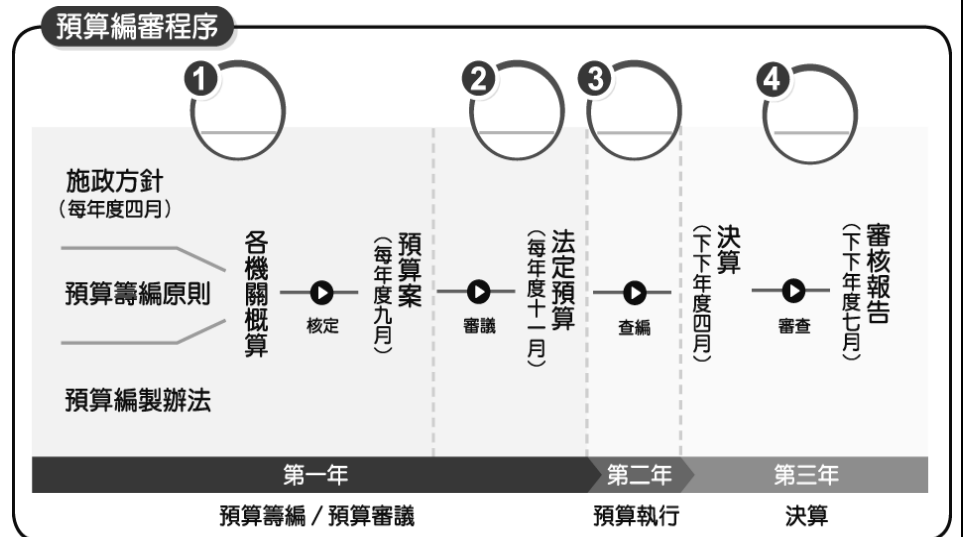
【題組 44-50】我國中央政府組織係依據五權憲法的架構，請回答下列相關問題：

44. 請問：附圖中的①②③④依序應是哪一中央政府組織？

- (A) 行政院、立法院、行政院、立法院
(B) 行政院、監察院、立法院、行政院
(C) 立法院、行政院、行政院、監察院
(D) 行政院、立法院、行政院、監察院

45. 下列哪一組中央公職人員的產生方式相同？

- (A) 司法院大法官、考試委員
(B) 正副總統、立法院院長
(C) 教育部部長、行政院院長
(D) 監察委員、立法委員



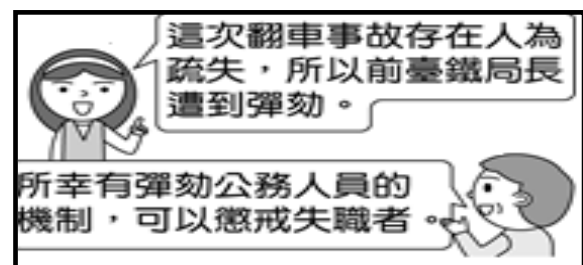
46. 當行政院認為立法院制定的法律或政策窒礙難行

時，有什麼方法可以應對？

- (A) 必須接受，因中央立法委員代表全國民意 (B) 必須接受，因立法院有議決法律案的職權
(C) 可不接受，經總統核可，移請立法院覆議 (D) 可不接受，經總統核可，即發布緊急命令

47. 根據附圖情境判斷，其中所指機制的流程為下列何者？

- (A) 立法院提出彈劾案→由選舉人投票複決
(B) 監察院提出彈劾案→移送憲法法庭審理
(C) 立法院提出彈劾案→交由憲法法庭審理
(D) 監察院提出彈劾案→移送懲戒法院審理



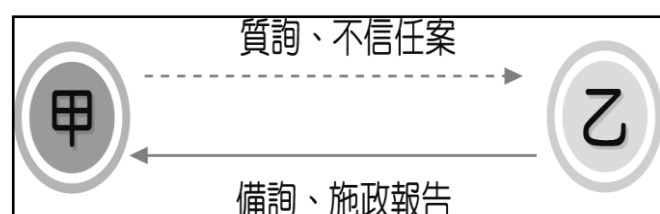
48. 根據中央政府的互動關係，關於「緊急命令」的流程，下列敘述何者正確？

- (A) 因應緊急危難或財經政變故，大法官決議發布 (B) 由立法院制定，考試院同意後公布
(C) 由總統發布緊急命令，立法院須於十日內追認 (D) 司法院不同意時，緊急命令即失效

49. 新聞報導：「國人被誘騙至柬埔寨打工遭囚案去年間層出不窮，監察院今公布調查報告，通過■■外交部和高雄地檢署案。監委指出，外交部未積極掌握人口販運國際情勢，積極度及敏感度不足，延宕救援工作期程。另高雄地檢署則是未經查證，公布被害人影像，導致被害人被加重虐待，顯有疏失。」根據上述內容判斷，■■文字最可能為下列何者？ (A) 糾正 (B) 銓敘 (C) 糾舉 (D) 審計

50. 參考附圖，下列相關敘述何者正確？

- (A) 甲應是「立法院」，乙則為「總統」
(B) 行政院向立法院提出施政報告與方針
(C) 立法院得針對總統提出「不信任案」
(D) 不信任案通過，大法官解散立法院



考題結束！謝謝你耐心作答，若有時間，請再檢查一次。