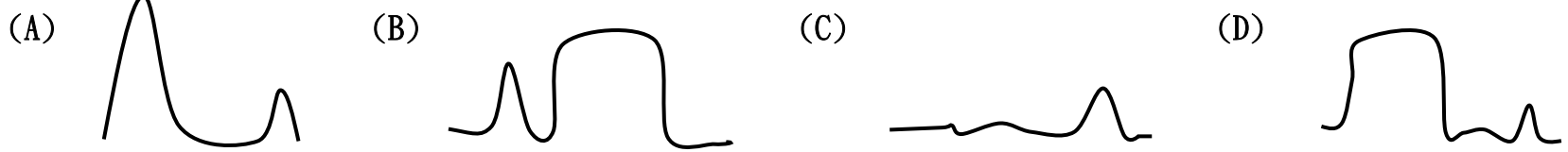


【地理部分】1-17 題

1. 美洲面積廣大且橫跨南北半球，依位置可劃分為北美洲、中美洲及南美洲，請問：下列何者可以作為區分三者的界線？ (A)美加邊境、巴拿馬運河 (B)北回歸線、赤道 (C)赤道、南回歸線 (D)美墨邊境、巴拿馬運河。
2. 北美洲地形起伏變化大，主要可以分為三大地形區，若以北緯 40 度作為剖面線切穿北美洲，應會看到下列何種地形剖面圖？

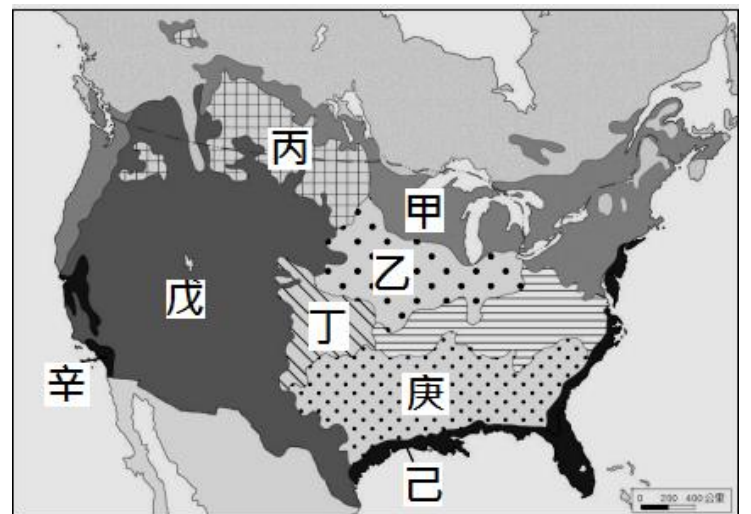


3. 下表中是季風亞洲區自給性農業和北美洲的商業性農業的對比，請問下列何者敘述錯誤？

	(A)單位面積產量	(B)總產量	(C)耕作方式	(D)機械化程度
自給性農業	高	高	集約	低
商業性農業	低	低	粗放	高

【題組 4-5】右圖是北美洲農業分布圖，請依據題目回答下列問題。

4. 依照北美洲農業分布的位置，請問：下列何者配對正確？  
(A)甲：放牧帶 (B)乙：棉花帶  
(C)戊：酪農帶 (D)辛：地中海型農業。
5. 圖中丙和丁區皆種植小麥，小麥帶由美國中部向北延伸到美加邊境，是世界最大、最主要的小麥生產帶。其中丁區以冬麥為主，丙區卻生產春麥，請問造成這種現象最主要的差異為何？  
(A)降水多寡 (B)地勢高低 (C)緯度高低 (D)農場大小。



【題組 6-8】下圖是有關美國的國家籃球協會(簡稱 NBA) 的球隊分布圖，請依據題目回答下列問題。



6. 許多美國籃球隊的名稱常與當地的產業和自然環境有關，像底特律活塞隊即因當地富含煤礦及鐵礦，汽車工業發達而得名，請問：活塞隊應位於圖中何處？(改編自 103 會考)  
(A)甲 (B)乙 (C)丙 (D)丁。
7. 哪一個球隊所在城市最可能因遭受大地震侵襲，造成嚴重災害，影響其比賽進行，須移至其他城市的場地進行？(改編自 103 會考)  
(A)塞爾提克隊 (B)勇士隊 (C)火箭隊 (D)公牛隊。
8. 鳳凰城太陽隊是位於美國亞利桑那州的職業籃球隊，因其夏天沙漠氣候乾燥炎熱而聞名，其隊徽設計如右圖所示。設計理念強調當地降水量稀少且陽光充足，因此以「太陽」為隊名最具代表意義，請問：鳳凰城太陽隊應位於圖中何處？  
(A)甲 (B)乙 (C)丙 (D)丁。



【題組 9-10】右圖是美洲城市分布簡圖，請依據題目回答下列問題。

9. 巴拿馬運河位於中美地峽最狹窄處，是世上唯一連接兩個大洋的運河，1881 年法國人開始興建巴拿馬運河，1904 年美國接手並於 1914 年完工，之後由美國經營此運河，直到 1999 年才將管轄權交還給巴拿馬政府。請問：若巴拿馬運河封閉，下面哪組都市間的海運受到最大影響？

- (A) 古巴哈瓦那—美國舊金山 (B) 美國紐約—巴西里約  
(C) 海地太子港—美國紐奧良 (D) 美國西雅圖—秘魯利馬。

10. 巴拿馬運河是該區重要的航運要道，但為了配合兩邊海洋的水位高度落差及中間地勢的起伏，故設置水閘調節水位，使船隻能順利通過，請問：巴拿馬運河是連通哪兩個海洋？

- (A)太平洋和大西洋 (B)大西洋和印度洋  
(C)印度洋和太平洋 (D)北極海和太平洋。

11. 中南美洲的人口高度集中在某些大都市，都市化程度甚至高於美國的 83%

及台灣的 80%，如：烏拉圭的都市化程度高達 95.6%。龐大的人口湧入都市使許多都市外圍形成廣大的貧民窟，除了居住環境品質低落外，也引發治安問題等，請問：中南美洲的人口大量移入都市的原因可能為何？

- (A)政府鼓勵移居都市 (B)都市大眾運輸便利 (C)都市就業機會充足 (D)鄉村基礎建設不足。

12. 中南美洲大多國家雖然早已獨立，但其經濟仍屬於殖民時期的型態，下列有關殖民地式經濟的敘述何者正確？

甲：多數位於溫帶氣候區 乙：產品多為農礦原料 丙：當地多屬廉價勞力 丁：產品以外銷為導向  
戊：市場價格穩定且良好 己：盛行地區如東南亞、非洲等地

- (A)甲乙丙 (B)甲丙丁 (C)乙丙丁 (D)丁戊己。

13. 1994 年墨西哥與美、加兩國簽訂了北美自由貿易協定(NAFTA)，目的是為了增進對外競爭力並與歐盟對抗，2020 年此協定為了達成更多就業機會，三國重啟談判並訂定新協議，其中最重要的修訂當屬勞工與環境保護相關規定。請問：有關新協議的敘述何者正確？

- (A)墨西哥主要提供技術及資金 (B)新協議應為美墨加貿易協定 (USMCA)  
(C)加拿大主要提供廉價勞力 (D)此組織主要提倡三國間的政治合作。

【題組 14-15】右圖為中南美洲氣候分布圖，請依據題目回答下列問題。

14. 地理老師跟旅行社到中南美洲遊玩時，導遊再三強調務必做好防蚊措施，因當地茲卡病毒會經由蚊子叮咬傳播，目前已知婦女於懷孕期間感染此病毒可能產下小頭畸形等神經異常新生兒。

請問：圖中何處最可能是茲卡病毒盛行地區？

- (A)甲 (B)乙 (C)丙 (D)丁。

15. 地理老師在旅遊途中發現當地的農牧活動隨著高度呈垂直變化，熱帶到溫帶作物皆是當地特產，常見獸獸則是駱馬和羊駝。請問：地理老師主要在圖中何區會看到上述現象？

- (A)丁 (B)戊 (C)己 (D)庚。

16. 某國由於氣候環境適合甘蔗及咖啡生長，是世界砂糖和咖啡主要產地，近年更利用鐵礦發展鋼鐵及汽車工業，請問：某國應是下列何者？ (A)智利 (B)墨西哥 (C)巴西 (D)哥倫比亞。

17. 地理老師到中南美洲旅遊時希望覓得一位嚮導，帶領他進入中南美洲的文化世界。請問：這位嚮導最需具備何種語言能力，較能符合他的需求？

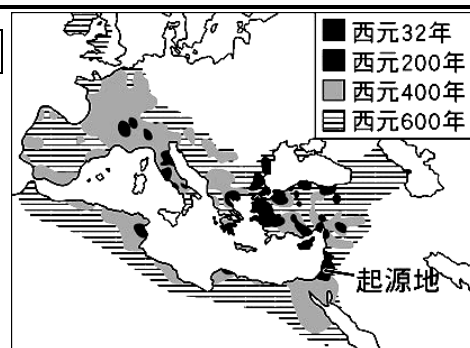
- (A) 俄羅斯語 (B) 日語 (C) 西班牙語 (D) 德語。



【歷史部分】18~34 題

18. 圖一描繪某一重要史事的演變及擴展過程，根據年代與分布範圍改變判斷，下列有關敘述何者最為正確？(A) 該內容主要是敘述猶太教傳播擴展的情況 (B) 圖片中的「起源地」是指巴勒斯坦地區 (C) 圖片主要見證武力擴張的事實 (D) 該史事的擴展跟亞歷山大有關。

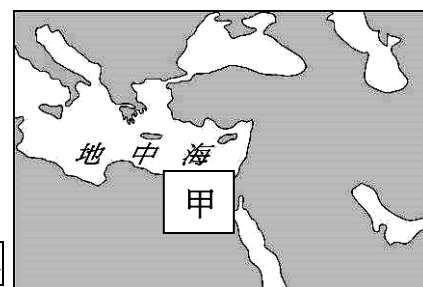
圖一



19. 小蘭參加旅行團到某城市觀光，拿到如下旅遊簡介：「此城市地理位置優越，既連接兩大洲，又位居黑海通往地中海航道必經之地，曾先後作為兩個大帝國的首都長達一千六百多年。城內有著兩大帝國修建的古城牆以及華麗的皇宮，並留有宏偉的基督教教堂與清真寺等文化遺產，……。」根據上述內容，下列敘述何者最為正確？(A) 該城市位於阿拉伯境內 (B) 該城市目前是三教聖地 (C) 該城市古稱拜占庭，現稱為伊斯坦堡 (D) 該城市是文藝復興運動起源地之一。

20. 圖二甲處自西元前四世紀至西元七世紀，官方使用的文字因外來統治者改變而有所不同，這些官方文字使用的先後順序最可能是因先後受到哪些帝國統治的影響？(A) 亞歷山大帝國→羅馬帝國→塞爾柱土耳其帝國 (B) 羅馬帝國→阿拉伯帝國→波斯帝國 (C) 亞歷山大帝國→羅馬帝國→阿拉伯帝國 (D) 亞歷山大帝國→波斯帝國→阿拉伯帝國。

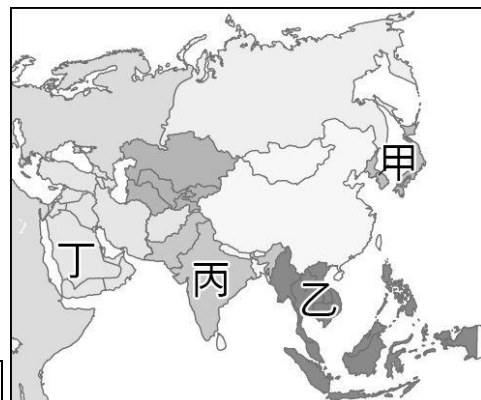
圖二



21. 小乖正在觀賞一部歷史電影，看見影片中一位官員正在宣讀公告：「我們議決，任何人不得被剝奪其尊奉基督教，或任何自認為最適合的宗教。……。有關基督徒一切禁令均已取消，今後凡欲崇奉基督教者，能自由並公開行之……。」根據內容判斷，這部電影最可能出現以下哪段情節？(A) 基督教因這個公告而出現宗教改革運動 (B) 因基督教為多神信仰而長期遭受政府迫害 (C) 基督教徒遭受迫害時，視死如歸精神感動很多人 (D) 查士丁尼大帝宣布定基督教為國教。

22. 「西元七世紀，伊斯蘭勢力在此地崛起，之後不斷向外擴張，使得曾受波斯與羅馬文化影響的地區，在習俗、哲學、法律、政治體系上，開始與伊斯蘭文化相互揉合。」下列敘述何者最為正確？(A) 文中的「此地」，位於圖三中的丁 (B) 該地是指巴勒斯坦地區 (C) 該地是基督教、伊斯蘭教以及猶太教三教聖地 (D) 伊斯蘭教在該地崛起後立刻成為該地唯一宗教信仰。

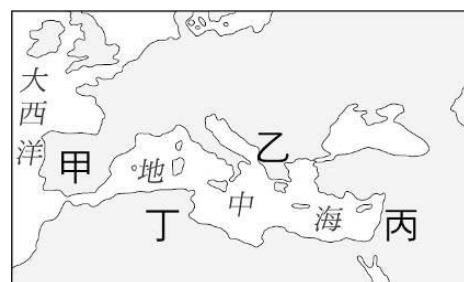
圖三



23. 「英王查爾斯三世於 2023 年 5 月 6 日，在倫敦西敏寺舉行加冕儀式。該儀式由坎特伯里大主教主持。與過去的英王加冕儀式不同的是，這次的儀式加入了許多不同宗教的代表，而教廷也派樞機主教，代表教宗參與英國國王加冕儀式。這是近 500 年來，天主教代表首次參加該儀式。」根據上述內容，下列何者最為正確？(A) 天主教代表近 500 年來未參加英王的加冕儀式，主因是宗教改革衝突 (B) 英王加冕儀式，不是教宗主持的原因是英國王室推翻天主教的所有儀式 (C) 今日英國民眾宗教信仰多元化的主因是希臘與德國教會的分裂 (D) 英國王室信奉的教派是路德教派。

24. 位於塞爾維亞及阿爾巴尼亞之間的科索沃，今日仍是宗教、種族複雜之地，在十五世紀後期被「某帝國」占領後，改信伊斯蘭教的阿爾巴尼亞人陸續遷入，……。但十九世紀以來，科索沃民族主義高漲，……，屢屢出現紛爭。1990 年代後期，塞爾維亞政府在當地對阿爾巴尼亞人進行種族屠殺，導致許多難民逃離科索沃，棲身於鄰國的難民營。請問下列何者最為正確？(A) 文中出現的國家位於巴爾幹半島

- (B) 文中的「某帝國」是指塞爾柱土耳其帝國 (C) 文中提到的難民營位於圖四中的甲 (D) 文中的某帝國因國內紛爭過多，16 世紀國勢開始走下坡，直至 21 世紀末帝國衰亡。



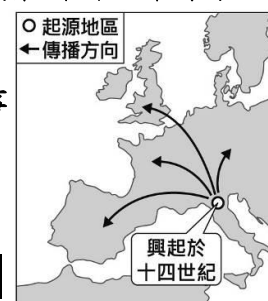
圖四

25. 小驚睡完午覺醒來，意外發現他穿越時空，來到歐洲某一時代。為生存下去，他努力記錄他所觀察到的狀況：「修道院的修士遠離塵囂，以懺悔方式進行修行，……。他們也抄寫古書、努力耕種土地，不僅為了修道院生活的自給自足，也為了救助窮人。在動盪不安的時代，……。」請問這個記錄中，可能也會出現下列何事？(A) 學校指定學生閱讀《天方夜譚》(B) 眾人批判猶太教的專制腐敗 (C) 教宗號召教徒前往收復聖地參加 (D) 傳教士指導當地孩子學習拉丁文。
26. 「2020 年 7 月，某國政府發出新聞稿，宣布國家最高法院判決：1934 年，凱末爾總統在內閣會議中，將聖索菲

亞『大清真寺』改名為『博物館』的決議無效，因此這棟建築此後將即刻恢復為清真寺，並由宗教事務局接管，供穆斯林使用。……。聖索菲亞博物館，一直以來肩負東正教與伊斯蘭教兩大宗教和平處的象徵。……。」根據上述內容，下列何者最為正確？(A) 聖索菲亞博物館最初是君士坦丁大帝時期所建的教堂 (B) 聖索菲亞大教堂後來改建成清真寺是因該地為塞爾柱帝國所佔有 (C) 該博物館所在位置屬於兩教共同的聖地 (D) 文中的「東正教」是俄羅斯所信奉宗教。

27. 圖五是某史事的起源地區與傳播方向示意圖，下列對於該史事的敘述，何者最為正確？(A) 該史事主要是古希臘、羅馬文化再生與創新 (B) 該史事的出現與中國指南針西傳有關 (C) 歐洲各國開始使用拉丁文為官方語言與這件史事有關 (D) 這件史事後，歐洲各國思維開始轉變以「神」為中心。

圖五



28. 電影「王者天下」，敘述一位生活在十二世紀的法國鐵匠，意外跟隨其父加入十字軍的行列，並出發到耶路撒冷為當地國王效力。他們抵抗由撒拉丁領導的敵國部隊入侵，最終主角與撒拉丁達成和解，領導戰敗的城中百姓重新返回歐洲。請問下列有關敘述何者最為正確？(A) 主角居住的法國，在當時屬喀爾文教派的教區 (B) 撒拉丁信奉的宗教是羅馬天主教 (C) 撒拉丁領導的敵國信奉唯一真主阿拉 (D) 這場戰爭見證基督教勢力的擴張。

29. 「1073年，格里高里七世當選教宗後，主張實行反對俗人干預教會的政策。1075年下令禁止世俗君主為神職人員主持授職禮，並規定非獨身人員不能出任神職。此命令一下，便遭到神聖羅馬帝國皇帝亨利四世的反對。……1076年格里高里七世宣布開除亨利四世的教籍，……。」根據內容下列何者最為正確？(A) 這段史事應該是發生在拜占庭帝國統治地區 (B) 這段史事顯示當時教宗與世俗君主經常發生衝突 (C) 這段史事所在地區當時是一個統一的強盛帝國 (D) 上述地區所信奉的宗教因過於腐敗，16世紀後就消失不見。

30. 圖六為十一世紀歐洲宗教分布圖，請問下列何者最為正確？

- (A) 甲教派的特色是政教合一 (B) 乙教派教權一直都由皇帝掌握  
(C) 丙教派屬於多神信仰 (D) 丁教派主張教權高於一切。

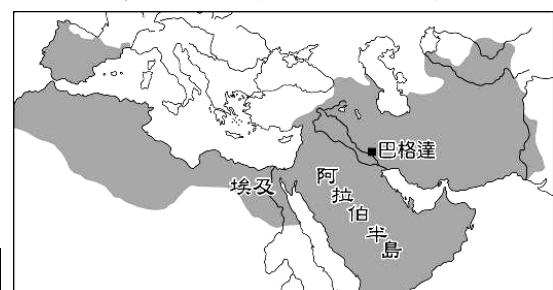
圖六



31. 小剛暑假參加了新教「宗教改革」旅遊並拿到馬丁路德的生平介紹，部分內容如下：「西元1517年，教宗利奧十世以修建聖彼得大教堂為藉口，推動大規模出售贖罪券活動，……。當時，馬丁路德看不慣這種腐敗的行為，羅列反對贖罪券的《九十五條論綱》，……。此論綱快速傳遍歐洲地區，更點燃一連串宗教改革運動的風潮。」下列有關敘述何者最為正確？(A) 小剛參加的旅遊團，還有可能去參訪喀爾文的故居 (B) 文中提及《九十五條論綱》快速傳遍全歐主因是識字率提高 (C) 小剛此次旅行的國家，最有可能為西班牙跟德國 (D) 宗教改革肇因於東正教過於腐敗。

32. 有關圖七中的帝國，下列敘述何者最為正確？(A) 曾與中國發生戰爭，並在恒羅斯遭到挫敗 (B) 保存了許多古希臘、羅馬的作品，為後來歐洲文藝復興帶來影響 (C) 唐代將該帝國稱為「大秦」(D) 多次圍攻君士坦丁堡，最後攻佔該城。

圖七



33. 德國學者韋伯在「新教倫理」中提出：「一方面強調消費的節制，另一方面則強調自願勞動的重要性。……正是因為節制消費，以及強調勞動的觀念，使得資產階級的資本逐漸積累，……。資產階級累積自己的財富，在合理的範圍自由使用金錢，這些行為都是受到上帝所祝福的。」根據上述內容，下列何者最為正確？(A) 此教派是指路德教派 (B) 此教派主張勤儉致富，藉此榮耀教宗 (C) 此教派讓越來越多貧窮的人仰賴教會救濟 (D) 來臺的馬偕、馬雅各屬該教派分支的傳教士。

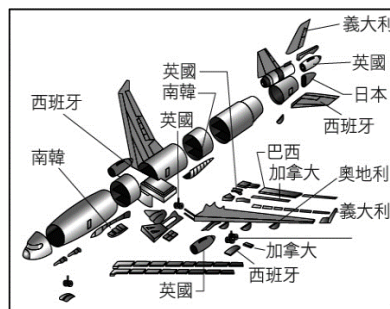
34. 小涵在一本文學作品中看見某頁內容：「他們沉浸在色慾、利慾、食慾和人性慾念的洪流中，讓我想到羅馬就像惡魔的鑄造廠，並非神聖的都城……那些衛道的僧侶，正在所謂『信仰基礎的聖城』裡，盡他們的才智，加緊做些毀滅基督教的工作，使它早日從這個世界消失。~十日談」。請問下列敘述何者最為正確？(A) 16世紀宗教分裂主因是耶穌會的腐敗不堪 (B) 當時的知識分子沉浸於對來世生活的企盼 (C) 此書呈現九十五條論綱出現的歷史 (D) 當時歐洲開始出現以各地語言書寫的文學作品。

【公民部分】35-50 題

\* 單選題

35. 右圖為某架飛機的零件供應地示意圖。圖中的訊息最適合表達哪一個概念？

- (A)科技進步 (B)市場競爭 (C)國際分工 (D)以物易物。

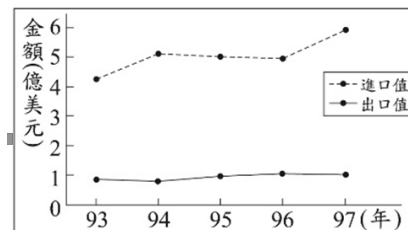


36. 有一首流行歌曲是這樣唱的：「你引擎日本來，韓德魯德國來；玻璃自南非來，阿拉伯石油來；塑膠是漳州做，車體自美國買，攞乎咱摻摻作夥（都被我們摻在一起），嘿咻嘿咻，每臺都是臺灣製造。」上述歌詞所描寫的情況，與下列何者最相關？ 韓德魯：指汽車方向盤

- (A)全球文化的發展 (B)人道關懷的救助 (C)貿易障礙的降低 (D)國際貿易的互動。

37. 右圖是民國 93 年至 97 年，我國水果類農產品的國際貿易概況。根據圖中內容，可觀察出下列何種現象？

- (A)我國水果貿易收入大支出 (B)我國生產水果機會成本較高  
(C)我國生產水果具競爭優勢 (D)水果類貿易呈現出超狀態

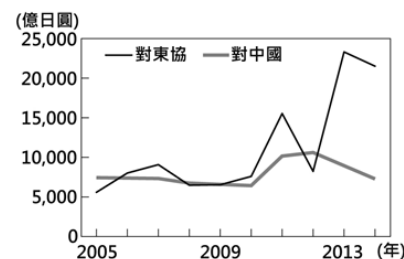


38. 「飢餓行銷」是一種常見的行銷手法，指的是業者在短時間內利用各種管道宣傳大批民眾排隊購買的熱潮，營造該項商品都會很快被搶購一空的情況，透過媒體將商品炒作為時下流行的話題，進而引起民眾的消費欲望。關於上述行銷手法對於消費市場的影響，下列敘述何者最適當？

- (A)消費者受價格誘因影響而增加消費欲望 (B)民眾的購物意願受非金錢誘因影響而提高  
(C)廠商間的競爭使消費者的選擇增加 (D)業者的行銷手法將降低市場競爭程度。

39. 右圖為日本 2005-2013 年對於中國和東協國家的投資金額統計，對兩者投資金額差距擴大與下列何者關係最為密切？

- (A)東協反日意識逐漸減弱 (B)東協的生產成本較低  
(C)東南亞天災相對較少 (D)中國實施全面開革開放。



40. 附圖消費情報站海報，是政府推廣消費新生活運動的措施。根據海報的內容，請判斷政府在宣傳哪一種觀念？

- (A)保護消費者的權益 (B)規範廠商競爭行為  
(C)鼓勵廠商投資創新 (D)倡導開源節流觀念。

**消費情報站**

- \*標示不全、來路不明的商品，不買。
- \*不請自來的推銷，小心。
- \*中大獎先繳稅款，有詐。
- \*口說無憑，立據為證。保留契約、廣告、收據，以便日後查證。
- \*天下沒有白吃的午餐，不貪小便宜。
- \*個人重要資料，勿透露給陌生人，以免被冒用。
- \*不要去沒有店面的地方買東西，以免發生問題找不到人。
- \*爭取議價空間，貨比三家不吃虧。
- \*注意不要購買有效期標示是用貼的商品，以免買到過期貨。
- \*收據或證明應請業者親自書寫，勿代為書寫，以免影響證據力。
- \*提供身分證影本，應於其上註明僅供某某用途使用，以免被移作他用。

**消費者申訴專線1950**

41. 「新楓之谷」線上遊戲是韓國原廠開發，在臺灣由遊戲橘子數位科技股份有限公司取得代理權。遊戲橘子公司為銷售「新楓之谷」線上遊戲，在 112 年 3 月舉辦寶箱活動並刊載「核心寶石機率表」，遭玩家檢舉機率廣告不實。經甲機關評定該機率表不實，故遊戲橘子公司就足以影響交易決定之服務內容為虛偽不實及引人錯誤之表示，違反乙法定，處新臺幣 200 萬元罰鍰。請問甲、乙分別指為下列何者？ (A)公平交易委員會、消費者保護法 (B)消費者保護服務中心、消費者保護法 (C)公平交易委員會、公平交易法 (D)消費者保護服務中心、民法。

\* 題組題

題組 (一)

賴老闆是個魚販，每天凌晨三點就會到海港漁市場批貨，再到零售市場販賣。18 歲開始她每天跟著年邁的祖父到市場做生意，一肩扛起全家人的生計，將家中債務悉數還清、拉拔弟妹大學畢業，也從市場之花變成中年大媽。

談起魚，她眼中閃爍著光芒，有說不完的故事。她可以快速從魚類的眼睛、鱗片、外皮顏色看出漁貨是否新鮮，還可以推算出死亡時間，堪比海鮮界的法醫。

在這個零售市場裡十來個魚攤中，她的魚貨絕對不是最便宜，但絕對是最新鮮的，她會不厭其煩地教客人辨別海產的新鮮度、什麼部位要如何烹調。近年來顧客也可透過 Line 訂購漁獲，賴老闆將漁獲處理好宅配到府，顧客不需親自跑一趟市場就可收到最新鮮的漁獲，十分方便，賴老闆的小魚攤生意更好了。

42. 請問文中的海港漁市場和零售市場是哪種類型的市場？

- (A)有形市場 (B)無形市場 (C)和 Line 訂購屬於同類型的市場 (D)勞動市場。

43. 賴老闆的魚攤是採何種競爭方式？

- (A)重視售價的價格競爭 (B)重視多元服務的價格競爭  
(C)重視異業合作的非價格競爭 (D)重視新鮮度的非價格競爭。

44. 請問這個零售市場的競爭程度為何？ (A)廠商多，消費者選擇多，競爭程度高 (B)產品價格由少數廠商控制，缺乏競爭 (C)廠商間形成惡性競爭，故競爭程度高 (D)廠商沒有超過十家，缺乏競爭。

題組 (二)

台灣紡織業踢世界盃！世足賽九國代表隊穿上 MIT

從 1970 年代起台灣就被稱為紡織王國，但面對全球市場的低價競爭一度沒落，過去 20 年來台灣紡織業被稱為夕陽產業。2022 年卡達世足賽讓台灣製造再次發光！用海洋回收紗製成球衣更首次登場，將海廢塑料轉化為高附加價值的纖維，搭配抗爆織造技術，加強衣料的強韌度，球衣環保又抗爆，有 9 隻國家隊伍穿的是台灣製的環保塑料球衣！不止如此，全球更有超過 5 成消防隊防火布料由台灣製作，可見台灣紡織業在技術上獨步全球，是台灣人的驕傲！

45. 請問，台灣從紡織王國到夕陽產業，其沒落的主要原因為何？

- (A)在價格上較不具競爭力 (B)國內業者生產力不足 (C)消費者生活習慣改變 (D)政府限制出口數量。

46. 由上文可知，台灣紡織業再次在全球市場發光發熱主要是在哪一方面具有優勢？

- (A)降低關稅，提高獲利 (B)健全法規，公平競爭 (C)研發技術，永續經營 (D)資金充裕，低價行銷。

題組 (三)

避免快時尚成環保災難 二手衣送回門市有回饋

2013 年起，H&M 在全球推動舊衣回收計畫，全台門市皆設有舊衣回收箱，全年不限品牌、不論新舊的織品類皆可回收再利用，回收的衣物與織品有 95%可再次利用，H&M 基金會將總盈餘的 50%用於紡織物回收技術研究。

UNIQLO 是 2014 年起推動「服裝回收再捐贈公益行動」，將可能被丟棄的衣物轉化為救援物資，九成完整衣物送往貧苦國家，另一成已不能穿的舊衣，UNIQLO 回收可利用的纖維，重新應用製成房屋隔熱材料、工業手套、地毯生產等，盡可能達到百分之百無浪費。

47. 上述內容最可能是在討論跟企業有關的哪一項議題？

- (A)重視消費者權益 (B)企業社會責任 (C)研發創新產品 (D)提供良好的售後服務。

48. 上述服飾業者採取的競爭方式與下列何者不相同？

- (A)開發新功能商品 (B)請藝人代言行銷 (C)提供到府取件送修服務 (D)水果茶憑券買一送一。

題組 (四)

全台第二大蛋商賣發霉蛋液、過期蛋 莚記泰安負責人父子二審加重判刑

不孝蛋品公司為減少蛋品被退貨及發霉、長蟲需報廢的損失，將回收來的過期蛋重新包裝、更改有效期限及製造日期；如果蛋品已發霉、長蟲，則將該些腐敗的蛋打成蛋汁，混入新鮮蛋汁裡。業者將這些本應銷毀的蛋品、蛋液以低價販售給不知情的通路商、消費者、蛋糕店、熱炒店等，賺取暴利，犯罪所得共 4072 萬餘元。

49. 新聞中畫雙底線處屬於下列哪一種損害消費者權益的行為？

- (A)仿冒他人商品 (B)以不實廣告欺騙消費者 (C)製造黑心商品 (D)未妥善處理消費糾紛。

50. 使用到過期蛋液的糕餅業者及買到過期蛋的消費者，想要向蛋品公司請求賠償個人損失可透過下列哪項法律的規範？ (A)《刑法》 (B)《公平交易法》 (C)《食品安全衛生管理法》 (D)《消費者保護法》。