

命題教師：社會科教師群 日期：10 月 15 日 第 7 節 班級： 座號： 姓名：

【地理部分】1-17 題

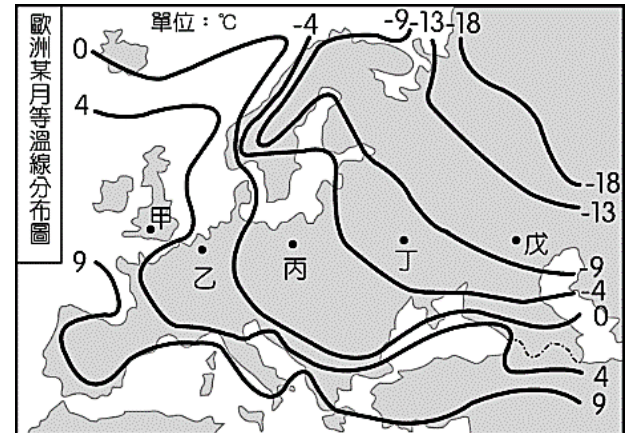
1. 奧地利、匈牙利、塞爾維亞、克羅埃西亞和斯洛維尼亞這五個相鄰的國家，為保護境內某一河川流域的重要自然資源和野生動物，於 2011 年簽訂一項宣言，建立跨國的自然保護區。上述河川應是指圖(一)中何者？
(A)甲 (B)乙 (C)丙 (D)丁。



題組 2-4

歐洲位於中緯度溫帶地區，自然環境優越，為西方思想文明的發源地及工業革命的起源。附圖為歐洲某月等溫線分布圖，回答下列問題：

2. 歐洲的氣溫分布特色對當地的活動及聚落分布影響甚大。請問：影響歐洲氣溫分布的主要因素除了緯度及地形外，尚包括下列何者？
(A)洋流 (B)河川 (C)植被 (D)風向。
3. 圖(二)中各點的緯度差異不大，但氣溫差異甚大。請問：圖中戊點的氣溫最可能為下列何者？
(A)2℃ (B)-4℃ (C)-8℃ (D)-11℃。
4. 歐洲的降水量分布受到西風吹拂的影響，各地降水多寡不同。請問：圖中降水量以何處最多？
(A)甲 (B)乙 (C)丁 (D)戊。

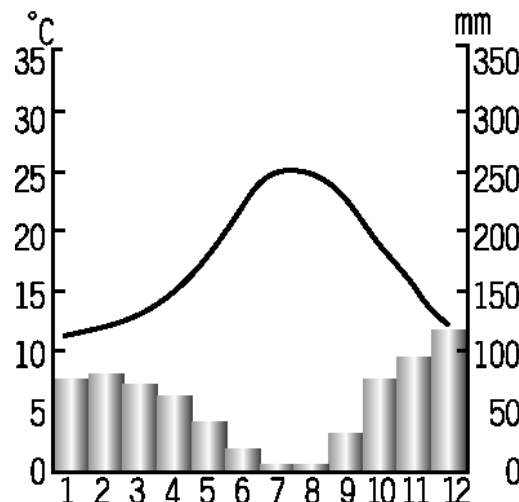


題組 5-7

歐盟預計在 2023 年逐步實施碳關稅，稱為碳邊界調整機制 (CBAM)，首先針對能源和高耗能產業徵收碳關稅，課徵對象為非歐盟交易市場成員國及未有碳交易市場的國家，希望透過市場力量，激勵他國製造業設定脫碳目標與政策，目前受歐盟碳關稅影響最大的國家是印度、巴西、南非。

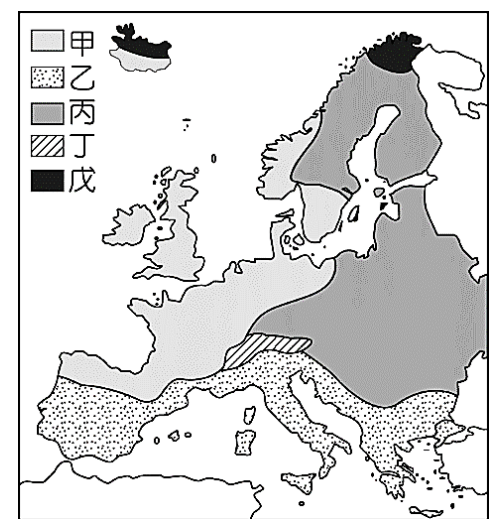
5. 下列何種產業最有可能被課徵碳關稅？
(A)成衣製造業 (B)加工業 (C)煉鋁業 (D)汽車銷售業。
6. 文中可知受碳關稅影響的國家印度、巴西、南非為發展中國家，與多數的歐盟成員國比，相對教育水平較低、國民所得較低、經濟發展較慢，該現象與歐洲哪一地區國家較為相似？
(A)南歐國家 (B)西歐國家 (C)北歐國家 (D)東歐國家。
7. 碳關稅的概念早在 2020 年就已提出並且逐步實施，可以推知該關稅項目到 2023 年對下列何國的貿易成本會愈來愈高？
(A)英國 (B)德國 (C)奧地利 (D)法國。

8. 王同學從歐洲的氣候資料中找到圖(三)的氣候圖，請根據圖(四)資料判斷，其最可能是圖(四)中哪一個地區的氣候特色？
(A)甲 (B)乙 (C)丙 (D)丁。



圖(三)

9. 承上題，西班牙位於該氣候區內，因此農業活動須和自然環境相互配合。請問：西班牙在發展農業時首要工作為下列何者？
(A)品種改良 (B)農田施肥
(C)灌溉工程 (D)闢建梯田。



圖(四)

題組 10-11

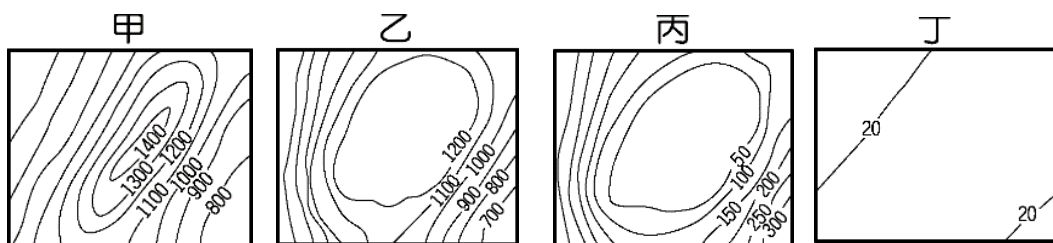
烏俄戰爭自 2022 年起持續延燒，引發全球糧食危機，在聯合國與土耳其的斡旋下，俄羅斯與烏克蘭達成《○○穀物倡議》協議確保「海上人道主義走廊」的通行，運載烏克蘭穀物並經由○○運送出口的船隻將受到 10 海哩緩衝區的保護（如附圖五），讓烏克蘭被封鎖的上千萬噸穀物得以出口到世界各地，因穀物若存放在貨櫃放超過 3 個月以上，沒有適當控制溫度與溼度，容易變質腐壞。俄羅斯同意該倡議的條件是要求歐美制裁措施不得針對俄羅斯的糧食及肥料進出口。



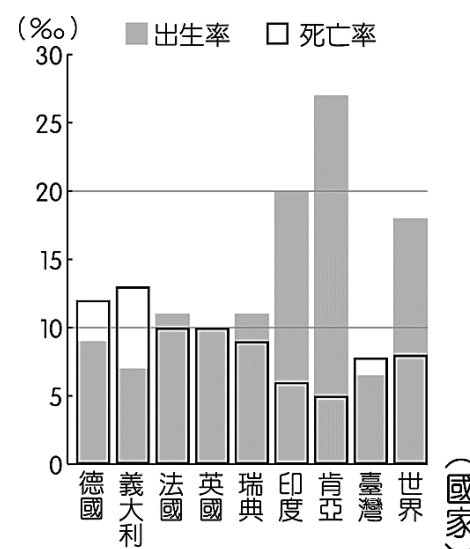
圖(五)

10. 上文提及之《○○穀物倡議》的○○所指為烏克蘭出口穀物必經之水域，根據相對地理位置判斷，○○應為下列何者？
 (A)裏海 (B)地中海 (C)北海 (D)黑海。
11. 存放在烏克蘭貨櫃中的穀物需要特別注意何項氣候條件影響溫、溼度，避免穀物變質腐壞？
 (A)大範圍的海陸差異 (B)午後好發的旺盛對流 (C)熱帶性低氣壓的侵襲 (D)隨西風深入的洋流水氣。

12. 王博士參加了俄羅斯北部廣大的西伯利亞開發計畫，從莫斯科出發，一路搭乘西伯利亞鐵路向東前進，直到太平洋岸的海參崴港。請問：他在沿途中所見到的地形種類不包括下列何者？
 (A)甲 (B)乙 (C)丙 (D)丁。



13. 俄羅斯政府為了迎接 2018 世界盃足球賽，首都政府擬定推出「City WiFi 計畫」，規畫在整個都市都裝設許多無線網路熱點，供來自世界各地的民眾使用。請問：若世界盃相關籌畫人員欲至俄羅斯首都進行現場評估，則應該前往何處？
 (A)聖彼得堡 (B)莫斯科 (C)新西伯利亞 (D)雅庫次克。



圖(六)

題組 14-15

歐洲平原遼闊，氣候溫和，大部分地區適宜人居，是世界人口分布最平均的一洲，圖(六)是部分國家的出生率與死亡率圖。請問：

14. 圖中自然增加率為負的國家有哪些？
 (A)德國、義大利 (B)瑞典、英國 (C)印度、肯亞 (D)法國、英國。
15. 醫療進步的國家為何死亡率比出生率高？
 (A)幼年人口多 (B)壯年人口多 (C)老年人口多 (D)傳染病肆虐。

16. 圖(七)是俄羅斯板塊分布圖，根據判斷，圖中標示的兩大板塊，最可能影響到圖(八)中何地的地形發展？
 (A)甲 (B)乙 (C)丙 (D)丁。



圖(七)



圖(八)

17. 歐洲挪威沿海地區，山脈延伸至海岸，遇到海水面上升影響，沿海谷地被海水淹沒，形成海灣，此海灣的示意圖為下列何者？



【歷史部分】18-34 題

18. 「渡過盧比孔河」是西方的一句諺語，用來介紹西元前 1 世紀時，有位軍事將領越過盧比孔河後，導致共和晚期的雙雄政治局面破局。依據當時法律規定，任何將領不得帶軍隊越過此一界河進入其本來領土，否則將被視為叛國，但當時這位將領卻為了與城內政敵一較高下，不顧此一規定，共和也因為該將領的獨大而步入尾聲，最終走入一人獨裁的帝國時期。下列對這句西方諺語的解讀何者正確？

- (A) 這句諺語應該是希臘時期所留下來的。 (B) 這句諺語中的軍事將領應該是屋大維。
(C) 盧比孔河應該是馬其頓城北部的界河。 (D) 該軍事將領進入羅馬城後成為獨裁者。

19. 下列兩筆資料為古代某法典的部份內容：

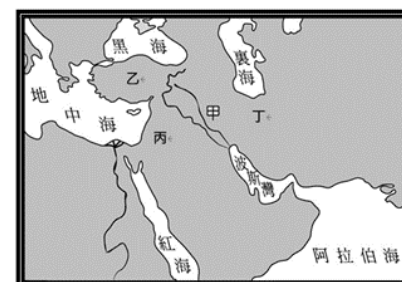
資料一：如果有貴族挖掉另一貴族的眼睛，他的眼睛也要被挖掉。

資料二：如果大商人將任何貨物交與行商出售，則行商應結算銀價交付大商人，並收取蓋章文件作為交付證明。

請問對此一法典的解讀，何者正確？

- (A) 此法典是以象形文字書寫在紙莎草上 (B) 此法典可以作為研究種姓制度的資料
(C) 此法典反映當時人們注重商業契約的觀念 (D) 此法典是後來歐洲各國制定法律的參考來源。

20. 《舊約聖經》的記載，約在西元前 1600 年間，希伯來人中有一批人，由於逃避災荒，向南遷入埃及境內，後來被埃及國王俘虜為奴隸，備受各種迫害。這批苦難的人中後來產生一位堅強的領導者摩西，他率領著他的族人逃離了埃及，重返上帝所賜給他們的土地，恢復獨立自由的生活。該民族離開埃及後，重返的土地位於右圖中的何處？

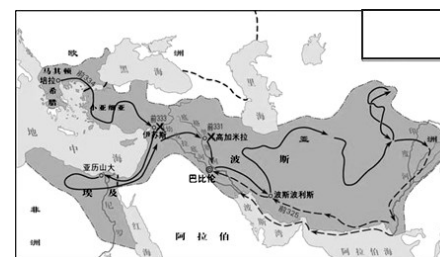


- (A) 甲 (B) 乙 (C) 丙 (D) 丁。

21. 美索不達米亞平原是西亞農業最早的起源地，由兩河沖積出來的土壤肥沃，但仰賴高山雪水的兩河流域，因融雪量不穩定，必須建造大規模灌溉工程以維持，於是促成許多城邦的產生。請問最早在此地建造灌溉工程與城邦的應為下列哪一民族？ (A) 蘇美人 (B) 巴比倫人 (C) 波斯人 (D) 希伯來人。

22. 老師在課堂上介紹某一橫跨歐、亞、非三洲的大帝國，其領土範圍如右圖所示，請問下列關於此帝國的敘述何者正確？

- (A) 該帝國由伊朗高原開始進行向外擴張 (B) 該帝國形成後拉丁文成為通用的文字
(C) 該帝國的統治者被尊稱為「奧古斯都」 (D) 該帝國以鼓勵民族通婚作為統治手段。



23. 宸宸在課堂上介紹某一文明的情況：「當時，政府最高行政長首長是每年選出的兩名『執政官』，行使過去國王擁有的權利，但是其職權往往需受監督或授權方可行使；『元老院』成員多為退休官員與地方首長，對政事有重要影響力；『百人團大會』則負責立法、宣戰、締和等事務……。」他所介紹的最有可能是下列何者？

- (A) 希臘城邦 (B) 羅馬共和 (C) 亞歷山大帝國 (D) 波斯帝國。

24. 貴霜王朝是月氏人建立於中亞、南亞一帶的政權，地處中亞絲綢之路要衝，西元 2、3 世紀時國勢達於鼎盛，曾以犍陀羅為都，與絲路東、西方的兩大政權有所互動。且由於君主對於佛教的尊崇，疆域內發展出兩大佛教造像藝術中心，西北部印度河流域的犍陀羅，佛像具有印度希臘化風格，穩重沈靜，而恆河中游的秣菟羅，佛像繼承印度本土風格，展現人體活力。請根據上文分析，貴霜王朝曾與哪些政權或文化有所接觸？ 甲. 羅馬 乙. 漢朝 丙. 埃及 丁. 印度 戊. 希臘化 (A) 甲乙丙丁 (B) 甲乙丁戊 (C) 甲丙丁戊 (D) 乙丙丁戊。

二、題組題

自西元 1972 年開始，聯合國教科文組織通過《保護世界文化與自然遺產公約》，持續為守護人類遺產努力，截至 2024 年總計共有 1,223 項世界遺產，其中文化遺產有 952 項，接下來就讓我們透過其中的幾個世界文化遺產，來進一步了解人類古代歷史與文化的發展。

【第一站：婆羅浮屠】

位於印尼的「婆羅浮屠」被聯合國教科文組織列為世界遺產，呈現巨大、方形、階梯狀外觀，最高點距地面 35 公尺，主體是由九個平台建構而成的金字塔建築，上頭飾以兩千多塊浮雕和五百多尊神像。當參拜者從底層往上爬，可以見到浮雕呈



現的宗教故事，他們像是走在一條由世俗前往涅槃（進入不生不滅）的道路，透過步行體驗該宗教創立者捨棄制度所帶來的藩籬，最後悟道的經過。

25. 根據上文說明，「婆羅浮屠」最有可能是哪一宗教的代表建築？（A）猶太教 （B）祆教 （C）婆羅門教（D）佛教。
26. 上文提及該宗教創立者捨棄制度所帶來的藩籬，其所代表的意義為何？（A）打破一神信仰的教義（B）拋棄種性制度的階級 （C）捨棄因果輪迴的觀念 （D）破壞共和體制的精神。

【第二站：雅典衛城】

「雅典衛城」是現存最完整的古希臘紀念性建築群，它坐落在雅典盆地的一座小山上。西元前 5 世紀，雅典人戰勝了入侵者，在隨後的時代，隨著思想和藝術的蓬勃發展，一群傑出的藝術家將雅典政治家伯里克利的建築計劃付諸實施，他們將這座岩石山變成了一個獨特的建築群，預示著古典希臘思想的出現，在這座山上誕生了□□、哲學、戲劇、表達和言論自由，它們為當代世界及其價值觀提供了知識和精神基礎。



27. 雅典衛城的興建，是在哪一民族入侵希臘地區後，才由政治家伯里克利領導而實施的建築計劃？（A）波斯人 （B）拉丁人 （C）日耳曼人 （D）阿利安人。
28. 根據上文的介紹，「雅典衛城」預示著古典希臘思想的出現，請問除了哲學、戲劇、表達和言論自由之外，上文中空格最適合填入何者？（A）法律 （B）科學 （C）軍事 （D）民主。
29. 綜合上文內容和希臘歷史的發展，請問下列何人的貢獻，最可以作為作為該城所展現的古典希臘思想？（A）凱撒 （B）亞歷山大 （C）蘇格拉底（D）歐幾里德。

【第三站：阿布辛貝神殿】

「阿布辛貝神殿」建築的時間為西元前 1284~1264 年，是為供奉新王國時期的國王拉美西斯二世而興建。神殿深達 60 餘公尺，最深處建有包括拉美西斯二世在內的四座神像，而在每年 2 月 21 日及 10 月 21 日（傳說拉美西斯二世的生日和登基日）這兩天，陽光會直接照進洞內最深處，而且最神奇的是陽光只照射在拉美西斯二世的神像身上，神壇內的另外三位神祇則分別是太陽神、阿蒙神以及冥神。在 1960 年代，因當地政府計畫興建水壩，為了神殿能免於被河水淹沒，聯合國教科文組織發起了一次龐大的國際聯合救援行動，也因此才促成了聯合國「世界遺產名錄」的誕生。



30. 根據上文敘述，聯合國教科文組織發起救援行動，是為了神殿不被哪一條河流淹沒？（A）尼羅河 （B）底格里斯河 （C）恆河 （D）印度河。
31. 請問從該神殿的建造，可顯示這一古代文明在哪些方面有突出的成就？甲. 六十進位法 乙. 陰曆 丙. 幾何學 丁. 太陽曆 戊. 測量學 （A）甲乙丙 （B）乙丙戊 （C）丙丁戊 （D）甲丙戊。
32. 該神廟在興建同時，下列哪一情景最有可能出現於當地？（A）許多男性公民們趕赴廣場，參與公共事務的討論 （B）商人使用刻在泥板的楔形文字，紀錄交易的內容 （C）人們在種姓制度的規範下，各階級之間互不通婚 （D）人們相信死後通過審判可以復活，將死者做成木乃伊。

【第四站：羅馬競技場】

「羅馬競技場」建於西元 72 年-82 年間，主要用來進行角鬥士的比賽，場內估計可以容納五萬至八萬名觀眾，不過除了羅馬之外，曾被羅馬帝國統治的地區，也都建有這一類型的建築。這一建築具有古典美感，但用途卻充滿血腥暴力，這透漏了羅馬人雖然學習了希臘文化的形式，但卻未發揚希臘文化的精神。



33. 根據上文敘述，請問下列哪一個地區最「不可能」出現這類型的建築？（A）波斯 （B）法國 （C）西班牙 （D）埃及。
34. 請從上文敘述判斷，下列哪一古蹟或遺址的建築形式最可能是羅馬人所學習的對象？（A）蘇美塔廟 （B）帕德嫩神殿 （C）祆教寺廟 （D）古夫王金字塔。

【公民科】35 題~50 題

【題組一】新聞報導：

台灣人愛喝手搖飲，平均一年會消耗超過 40 億個塑膠杯，九月起，全台 22 個縣市都不能再提供，預計每年可減少 7.9 億個，一次性塑膠杯使用，如果業者提供，將可依廢棄物清理法，處 1200 元到 6000 元罰鍰，響應環保是趨勢，也是必要的調整方向。

某業者：「塑膠杯大概平均一個是 1.5 元，紙杯的話差不多 3 元，因為我們的受眾是學生，怕學生沒有辦法接受，一直都不敢調漲價格。」紙漿成本本來就高，後續又不斷漲價，業者坦言成本壓力高出許多。

甲民眾：「我自己買咖啡會帶環保杯，玻璃的環保杯比較不會有塑化劑。」

乙民眾：「喝飲料時也想省錢，所以會帶環保杯。」

從 2022 年 7 月，實施飲料杯限制，民眾自備飲料杯可享 5 元優惠，已經減少 17%，一次性飲料杯使用量，而消費者飲料杯自備率，由 6%提升到 16%，是原本的 2.6 倍，環保意識抬頭，也讓民眾消費習慣跟著改變。

節錄改寫自《TVBS 新聞》- 2024 年 7 月 30 日

35. 參考本文，根據經濟學觀點，下列相關敘述何者有誤？

- (A) 民眾購買手搖飲，稱之為「消費行為」 (B) 提及的咖啡、手搖飲，屬於有形的「勞務」
(C) 業者提供販賣手搖飲，扮演「生產者」 (D) 一個紙杯 3 元，是業者支付的「生產成本」

36. 對於文中甲民眾與乙民眾的說法，下列敘述何者正確？

- (A) 影響甲攜帶環保杯的因素，屬於金錢誘因 (B) 影響乙攜帶環保杯的因素，屬非金錢誘因
(C) 甲願意攜帶環保杯是受到正向誘因的影響 (D) 乙願意攜帶環保杯是受到負向誘因的影響

37. 業者：「我們的受眾是學生，怕學生沒有辦法接受，一直都不敢調漲價格。」可知其主要是關注哪一項生產課題？

- (A) 生產什麼 (B) 如何生產 (C) 為誰生產 (D) 何時生產


38. 承第 37 題，推知一般影響學生購買飲料的關鍵因素是下列何者？

- (A) 商品價格 (B) 預期心理 (C) 個人偏好 (D) 收入多寡

39. 閱讀本文後，下列相關敘述何者正確？

- (A) 業者改採紙杯裝填飲料的機會成本降低 (B) 政府利用正向誘因，以鼓勵業者提供紙杯
(C) 影響個人攜帶環保杯的誘因皆有一致性 (D) 政府使用金錢誘因，限制業者使用塑膠杯

【題組二】下列四則為公民課程簡報的圖例：



40. 參考圖例後，請判斷下列說法何者正確？

- (A) 根據圖(一)，資源具有稀少性，可以選擇 (B) 根據圖(二)，可知資源具有多元用途，所以必須選擇
(C) 經濟問題的產生，是資源無窮，欲望有限 (D) 稀少性並非指資源總數量的多寡，是相對於欲望而言

41. 根據圖(三)，下列說明何者正確？

- (A) 不必付出代價就能享受水，不具備稀少性 (B) 乾淨的水要付出代價才取得，屬於經濟財
(C) 付出代價才能取得乾淨的水，不具備稀少性 (D) 因為該地區受汙染，乾淨的水屬於自由財

42. 根據圖(四)，對政府而言，這種國內自用或是售予國外的決定，隱含何種經濟概念？

- (A) 機會成本 (B) 供需法則 (C) 追求利潤 (D) 契約自由

【題組三】市場快訊：

中秋節7-11、全家、萊爾富等超商都有推出咖啡優惠的活動，7-11 美式咖啡 4 杯 100 元，全家私品茶買一送一，萊爾富美式咖啡 99 杯 54 折！商品限時、限量發售，欲購從速，一起歡慶過中秋！

43. 請問：超商的做法是為了達到下列何項目的？
- (A)刺激銷售量，增加銷貨收入 (B)降低生產成本，增加營業利潤
- (D)開發新顧客，以提高市佔率 (C)贊助公益活動，提升企業形象
44. 根據本文，下列相關敘述何者正確？
- (A)民眾趁中秋優惠買咖啡，受個人偏好的因素影響 (B)生產者因產品價格提高而增加供給數量
- (C)上述取得咖啡資源的分配方法，應是採輪流使用 (D)消費者因商品價格調降而增加購買數量

【題組四】小江的班級決定在校慶園遊會販售食品，正在討論應該賣其中哪一種品項，於是列出各商品的預估總利潤，如附表：

項目	甲.炸雞塊	乙.滷味	丙.珍珠奶茶
預估總利潤	3600 元	3000 元	5000 元

45. 請問：小江的班級主要是討論哪一項生產課題？
- (A)生產什麼 (B)如何生產 (C)為誰生產 (D)何時生產
46. 若單純以利潤作為考量的因素，他們選擇不同方案的機會成本，其高低順序應為下列何者？
- (A)丙>甲>乙 (B)乙>甲>丙 (C)丙<甲=乙 (D)甲=丙>乙
47. 根據本文，下列相關敘述何者正確？
- (A)選擇每項商品的機會成本是其他利潤的加總 (B)應該選擇賣珍珠奶茶，因為其機會成本最低
- (C)因為滷味的總利潤最低，故其機會成本最低 (D)選擇珍珠奶茶的機會成本，高於選擇炸雞塊
48. 校慶當天，班級決定賣炸雞塊，每份賣 30 元，但因設備有限，每一小時僅能製作 20 份炸雞塊。購買炸雞塊所需的雞肉、麵粉、沙拉油等食材，則花費大約 1500 元。右表為當天五個時段，顧客上門表達購買意願的人數紀錄。請問：下列敘述何者較為正確？
- (A)當天共賣出 105 份炸雞塊 (B)第三個時段銷貨收入 900 元
- (C)當天的獲利大略有 900 元 (D)當天總銷貨收入為 3150 元

時段	願意購買人數
09：00-10:00	10
10：00-11:00	10
11：00-12:00	30
12：00-13:00	35
13：00-14:00	20

【題組五】資源分配的方式各異，請閱讀以下例子，回答問題：

學校規劃七年級舉辦班際英語歌曲比賽，不僅增進學生學習英語的興趣，也培養團隊合作的精神。班級正式上場比賽前，【甲】教務處會安排每個班級至少一次英語課的時間，去正式比賽場地練習，【乙】其他時段則開放願意多練習的班級使用，但要先向教務處申請借用。

49. 請問：上述【甲】、【乙】資源分配的方式，依序應為下列何者？
- (A)排隊使用、預約登記 (B)輪流使用、預約登記
- (C)抽籤、使用者付費 (D)輪流使用、排隊使用
50. 承上，下列相關敘述何者正確？
- (A)分配社會資源，皆以追求效率為主要目標 (B)管理者分配資源，僅能追求資源公平分配
- (C)【甲】方式的缺點是不需努力，全憑運氣 (D)【乙】方式的優點是節省時間，符合需求