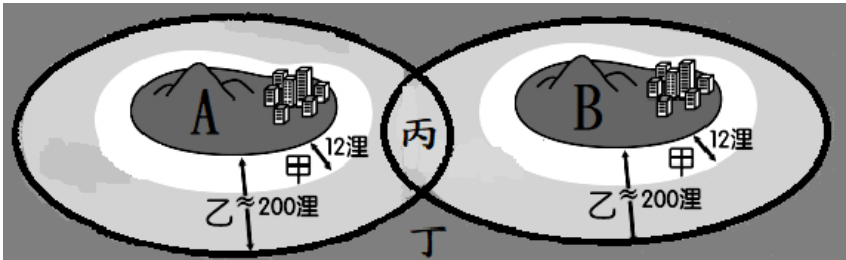


命題教師： 社會科老師 日期：10 月 15 日 第七 節 班級： 座號： 姓名：

地理科 1~17 題

1. 開學日，安妮雅到操場進行開學典禮，當安妮雅面對司令臺時，太陽從其左邊照射過來，讓她覺得光線很刺眼，眼睛都快睜不開來了。請問，從以上敘述中我們可以得知司令臺有可能位於哪個方向? (A)東方 (B)西方 (C)南方 (D)北方。
2. 根據主計處統計，台灣地區已命名的生物共36880種，其中屬於台灣的特有品種就佔了三分之一，哺乳類、昆蟲與裸子植物中，甚至有六成是特有種。請問：臺灣生態豐富多樣與特有種眾多，與下列何者因素關係最小? (A)臺灣地理位置佳，海運便利 (B)台灣位於熱帶、溫帶交界處 (C)台灣地形多樣起伏大 (D)台灣位於海、陸交界處。
3. 圖(一)為 A、B 兩個國家，若要在沿海地區捕魚，在何處進行捕撈工作較會發生漁事糾紛?

圖一

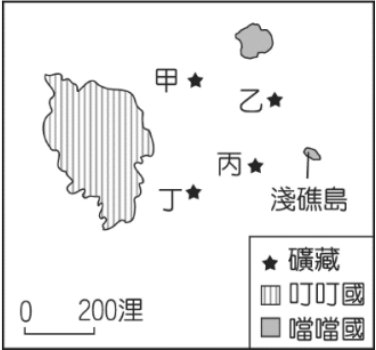


4. 表(一)有關比例尺大小的特色敘述，在同樣大小的紙張上，下列敘述何者錯誤？

	(A)	(B)	(C)	(D)
大比例尺	1／1000	詳細	涵蓋範圍小	臺灣地圖
小比例尺	1／25000000	簡單	涵蓋範圍大	鷺中校園平面圖

5. 下列有關經線與緯線關係的敘述，哪幾項正確? (甲)東西經各90度 (乙)每一條經線之間會相差15度 (丙)緯線是連結南、北極點的弧線 (丁)最長的緯線是赤道 (戊)經度會影響時間，緯度會影響氣候 (己)回歸線介於熱帶與溫帶之間
- (A)甲乙戊 (B)甲丙戊 (C)乙丁戊 (D)丁戊己
6. 圖(二)是叮叮國與噹噹國的相對位置圖，甲、乙、丙、丁分別代表蘊藏於海底的四種礦藏。因全球海平面上升，預估噹噹國的淺礁島將可能完全被淹沒，導致該國的經濟海域大幅縮小。根據上述內容判斷，若淺礁島消失，最可能影響噹噹國對哪一礦藏的探勘計畫? (A)甲 (B)乙 (C)丙 (D)丁。

圖二

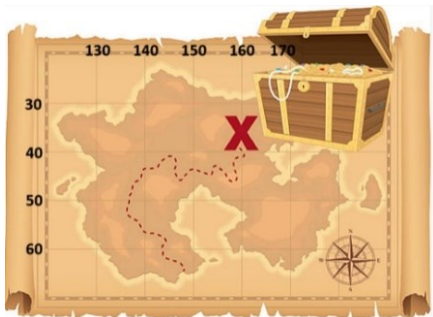


【題組(一):7~9 題】

海賊王和伙伴們在旅途中獲得一張藏寶圖，如圖(三)。據說寶藏藏在圖中標示「X」的地方，請問：

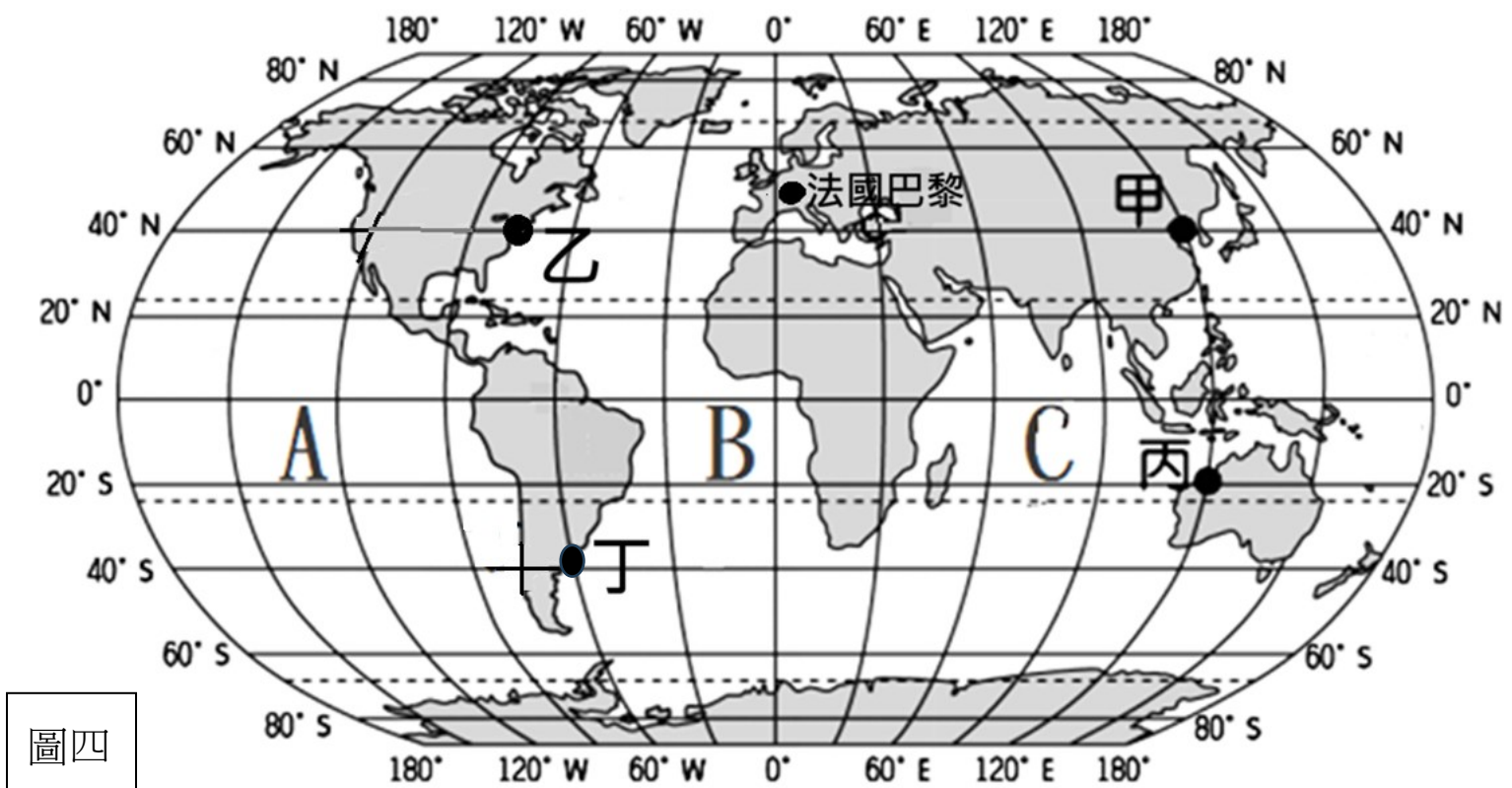
7. 此寶藏的所在位置在哪裡? (A)160°E，35°N (B) 160°W，35°N (C) 160°E，35°S (D) 160°W，35°S。

圖三



8. 海賊王決定第二天開著他的海盜船從台灣出發前往寶藏的地點前進，請問他應該朝著哪個方向前進? (A)東北方 (B)東南方 (C)西北方 (D)西南方。
9. 若以最短距離為其行走的路線，途中船只有可能會經過哪一個海洋? (A)印度洋 (B)大西洋 (C)北極海 (D)太平洋

【題組(二)：10~17 題】



10. 圖(四)中，三大洋A、B、C的名稱排列，請問何者正確? (A)太平洋、大西洋、印度洋 (B)太平洋、印度洋、大西洋 (C)印度洋、太平洋、大西洋 (D)大西洋、印度洋、太平洋
 11. 今年的巴黎奧運剛結束，許多國家在競賽中都有不錯的表現。但在世界性的體育比賽中，在不同時差地區進行參賽，運動員要想在比賽中發揮出正常水準，就首先必須克服時差這一障礙，請問圖(四)中的四個國家當中，何國的時間和巴黎相差最少，最有利於比賽時正常表現? (A)甲 (B)乙 (C)丙 (D)丁。
 12. 圖(五)的示意圖代表地球的各半球，則巴黎的位置應位於哪一半球中? (A)甲 (B)乙 (C)丙 (D)丁。
- 圖五
13. 根據圖(四)中的國家緯度位置判斷，此四個國家中主要大多位於哪一種氣候帶? (A)熱帶 (B)溫帶 (C)寒帶 (D)副熱帶
 14. 今年寒假，超人計劃到一個與台灣同時區但季節相反的地區旅行，請問她應該選擇圖(四)當中的哪一個國家呢? (A)甲 (B)乙 (C)丙 (D)丁
 15. 若有兩架飛機分別由甲地和乙地出發，且都以相同飛行高度、速度，沿不同經線一路往正南方飛行，在飛行的過程中，最可能發生下列何種狀況? (A)兩架飛機間距離一路保持平行 (B)兩架飛機最終會在北極相會 (C)兩架飛機間距離先加大，之後漸漸縮小 (D)兩架飛機會漸行漸遠
 16. 原本居住在丁地的超人搬到丙地，超人的生活環境有許多的變化，唯獨以下哪個現象不會發生? (A)日夜顛倒 (B)季節相反 (C)氣候變熱 (D)手錶時間要撥快
 17. 若超人在凌晨3點鐘從丁地飛行到丙地，2個小時後超人抵達丙地，請問當超人抵達丙地時，當地的時間應為何時? (A)下午5點鐘 (B)中午12點 (C)凌晨5點 (D)下午3點鐘

歷史科 18-34 題

- 18.「歷史事實」與「歷史解釋」的區別，在於歷史事實是客觀呈現過去發生的事件；而歷史解釋則是後人運用歷史資料，對相關歷史事件進行的詮釋與評價。下列敘述中，何者最適合歸類為「歷史事實」？(A)甲 (B)乙 (C)丙 (D)丁。

大航海時期，(甲)西班牙占領臺灣的目的是為了和當代經濟最發達的日本貿易，而(乙)荷蘭人占領臺灣的主要目的，是想以最具原住民特色的臺灣為國際貿易轉運站。為吸引中國、日本等國商人前來，(丙)荷蘭不僅輸出臺灣的蔗糖、鹿皮、稻米，更轉運來自中國的瓷器、絲織品，(丁)為了增加臺灣品質世界第一的農產品產量，荷蘭人引進耕牛，並鼓勵漢人移墾。

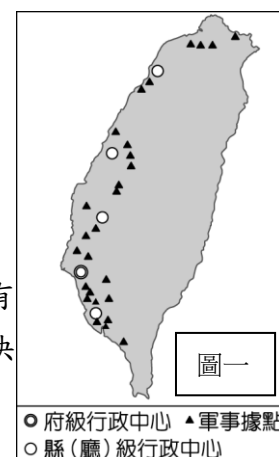
- 19.考古學者在臺灣東部發現距今約三萬年前的史前人類生活遺跡，推估當時的人們已經懂得打製粗糙的石器，但還沒有磨製石器的技巧，也不懂如何蓋房子，而是住在天然的洞穴裡。這些史前人類最可能以下列何種方式維持生活？(A)以捕魚為主，並能種植農作物補充食物的不足 (B)有時會以鐵製工具來狩獵、捕魚 (C)採集、狩獵、漁撈是他們主要的維生方式 (D)主要從事狩獵、漁撈，但同時也栽培稻米為主食。

- 20.下面是某政權統治臺灣期間的對外貿易策略：

一、將蔗糖、鹿皮輸往日本，再從日本購買銅、鉛和武器。
二、1670 年代，與英國達成通商協議，允許英國在安平設立商館。
三、持續與東南亞地區的呂宋（今菲律賓）、暹羅（今泰國）等地進行貿易。

關於上述某政權的敘述，下列何者最正確？(A)該政權為解決糧食不足問題，曾大量向中國購買稻米 (B)該政權會實施如此的貿易政策，是因為明朝實施了海禁政策 (C)此政權最後亡於歐洲勢力 (D)臺灣的第一座孔廟，興建完成於此政權治臺期間。

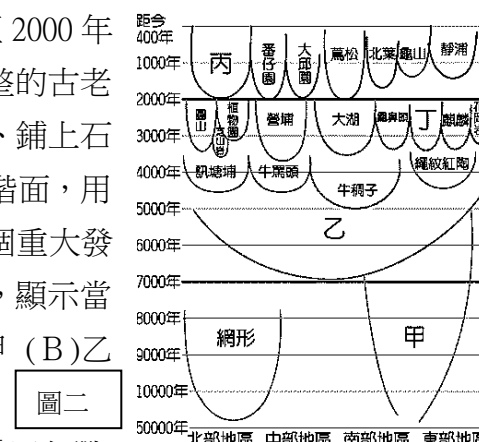
21. (圖一)標示某時期統治者在臺灣設置的行政中心及軍事據點，顯示當時官方實際統治的區域。根據圖中行政中心及軍事據點的分布判斷，下列敘述何者最不正確？(A)此圖標示的是西班牙在臺期間的建設 (B)圖中顯示的最可能是荷蘭的在臺規劃 (C)鄭氏政權是由地圖中的南部登臺 (D)圖中標示的行政中心及軍事據點，最可能迫使當時的熟番必須進行部落遷移。



- 22.「自我們從澎湖遷移到福爾摩沙之後，獲得大員地區人民的承諾，以十五匹布買得土地。該區域內有河川，土壤肥沃，野獸群生，又有沼澤，多魚類棲息。因此，依據 1625 年 1 月 15 日之決議，我們決定將行政中心興建於此處，並建立市街。」上文的記載最可能與下列何者有關？

(A)鄭氏政權在臺建立行政中心如何取得土地的記載 (B)顏思齊帶領漢人在臺進行移墾的過程
(C)施琅擊敗鄭經後，清帝國開始在臺進行建設的相關說明 (D)荷蘭聯合東印度公司在臺經營的敘述。

- 23.考古學家在臺灣某處發現的漢本遺址，在文物進行鑑定後，年代可追溯到距今 1000 至 2000 年前，正值中國的漢代至唐代。漢本遺址是臺灣近年來重大的考古發現，出土了相當完整的古老聚落，這裡出土的並非只是一些陶片或者是一些人骨，而是包括當時人們居住的房舍、鋪上石板的地面，周邊的山坡上還有田地，田地除了以石頭區隔出條狀的耕地，更有堆砌的階面，用以護坡擋土，由此看來，當時居住在此處的人類似乎非常重視農業生活。之後更有一個重大發現，就是煉鐵爐與鐵器的出土，雖然經過千年，遺留的鐵器仍有一定品質的保存狀況，顯示當時已有成熟的高溫煉鐵技術。上述的漢本遺址最可能出現在(圖二)中的何處？(A)甲 (B)乙 (C)丙 (D)丁。



- 24.下列關於歷史紀年的方式，下列何者的說法最不正確？(A)多啦 A 夢：歷史事件如「甲午戰爭」、「庚子拳亂」，是以「10 天干」和「12 地支」相配，做為事件的命名方式 (B)日向翔陽：每一百年為一世紀，所以西元 1997 年香港回歸中國，此事件發生於 21 世紀 (C)櫻木花道：「康熙八年」、「道光二十年」，是用帝王在位的年數來紀年 (D)我妻亦善：今年是 2024 年，此種西元的紀年方式和耶穌的出生年有關。

- 25.「李科羅是一位天主教傳教士，1655 年前往中國廈門傳教，並得到當地統治者「國姓爺」的關照；他也為國姓爺父子擔任使者，出使菲律賓。但 1663 年李科羅結束使者任務返回廈門時，卻遭當地的新統治者逮捕；他擔心被送往北京，因此在洪水氾濫期間，趁亂逃亡，最後逃到臺灣。」關於上面短文的敘述，下列何者的解讀最正確？(A)因為清帝國當時實施鎖國政策，李科羅擔心有可能從此離不開中國，所以才會趁亂逃亡 (B)上面短文中所提到的「菲律賓」是荷蘭在十七世紀時在亞洲的貿易據點 (C)文中的國姓爺指的顏思齊 (D)李科羅之所以逃亡是因清帝國與鄭氏政權是互相敵對關係。

26.(圖三)是臺灣某時期敵對陣營間往返的書信，根據圖中內容判斷，這二個陣營最可能是下列何者？(A)鄭氏政權與荷蘭聯合東印度公司 (B)荷蘭聯合東印度公司與鄭芝龍 (C)施琅與鄭氏政權 (D)荷蘭聯合東印度公司與西班牙。

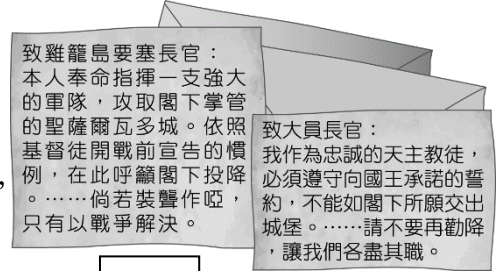
27.有語言學家認為(圖四)中灰色區塊的族群，其真正的故鄉在台灣，並以台灣為根據地，大約在 5000--6000 年前開始向外遷移。關於此族群的敘述，下列何者最不正確？

(A)此族群所說的語言被人們稱之為南島語系 (B)構樹的樹皮衣，是此族群非常重要的文化遺產 (C)此族群範圍非常廣，橫跨印度洋和大西洋 (D)臺灣位在此族群分布的最北端，臺灣原住民即屬於此族群。

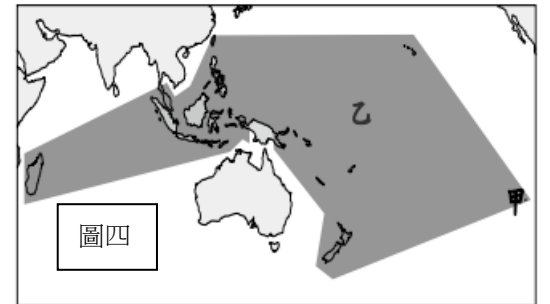
28.曾在(圖五)甲地建立城堡的政權，其在東亞及台灣發展的敘述下列何者最正確？(A)該政權是由一間來自歐洲的公司所建立，該公司在亞洲的貿易總部位於東北亞 (B)該政權打敗明朝將領沈有容後，才能順利抵達臺灣 (C)該政權之所以退出臺灣是因為海商鄭芝龍的勢太過強大(D)該政權在甲地興建熱蘭遮城。



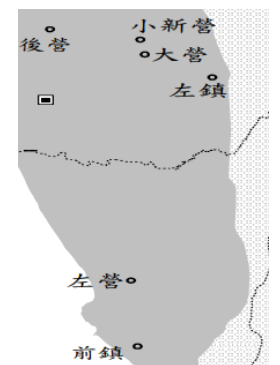
圖五



圖三



圖四



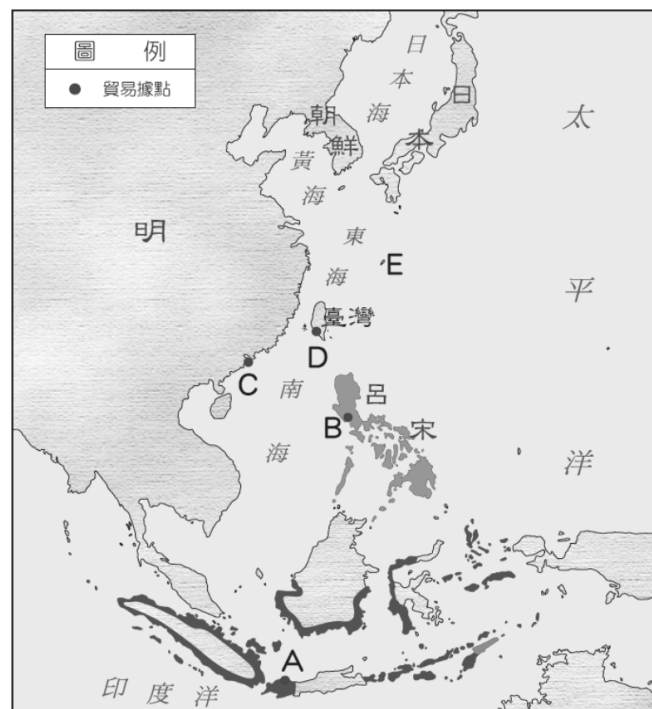
圖六

29.(圖六)中的地名歷史及其淵源由來和下列何者最有關係？(A)經由這些地名可以了解臺灣平埔族的遷移過程 (B)這些地名的出現和西班牙有密切的關係 (C)這些地名的由來和清帝國為防倭寇而實施的海禁政策有密切的關係 (D)地名的由來和軍隊的自給自足有關。

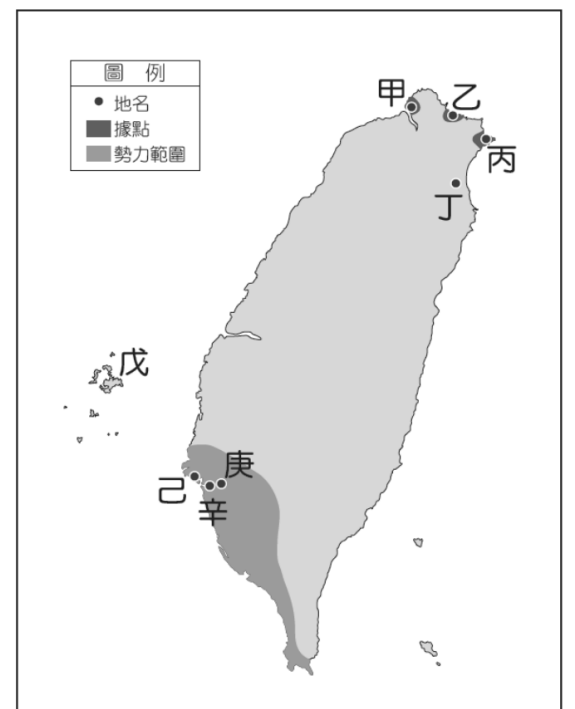
30.某縣市為了讓大家更了解該城市的觀光文化特色，特別舉辦了「文化尋根一日遊」的活動，其中有一個地點是造訪普羅民遮城(今赤崁樓)。此文化尋根活動最有可能是哪個縣市所舉辦的活動？(A)台北市 (B)台南市 (C)新北市 (D)澎湖縣。

【題組一:31~32】十七世紀時，歐洲各國向海外進行殖民和侵略，紛紛來到亞洲進行貿易，請仔細看過兩個圖後回答問題。

31.一九九九年十二月二十日葡萄牙將其亞洲租借來的貿易以及殖民據點，歸還給原來的國家，當天該國還舉行了盛大的回歸慶典。請問當初葡萄牙所租借的貿易據點在(圖七)中的何地？(A)B (B)C (C)A (D)E。



圖七



圖八

32.(圖八)中，曾於十七世紀占領過臺灣甲、乙、丙等地的歐洲國家，其在亞洲的貿易根據地，位於圖(七)中的何處？(A)B (B)D (C)A (D)C。

【題組二:33~34：】

(圖九)為臺灣地區重要史前遺址分布圖，請仔細看完圖後回答問題。

33.目前臺灣發現最古老的史前文化遺址，位於圖中何處？(A)乙 (B)丁 (C)丙 (D)甲。

34.「此文化遺址發現了當時人們食用貝肉後丟棄之貝殼，所形成的一堆堆貝塚。」上文所述的史前文化遺址位在圖中的何處？(A)甲 (B)丙 (C)丁 (D)乙。



圖九

公民科 35~50 題

35.圖(一)為下修公民權的新聞。報導中關心議題並參與投票的人，展現出哪一種公民的德性？

- (A)參與公共事務 (B)理性批判思考
(C)和平尊重包容 (D)實踐公平正義。

圖一

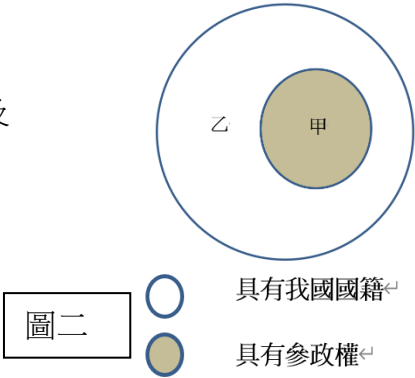
2023 年元旦開始，民法上的成年年齡正式改為 18 歲。自此，將〈 憲法〉中參政權的年齡下修至 18 歲、擴大年輕人的政治參與成為民眾熱烈討論的議題，許多民間團體及青年皆贊成將公民權下修，立法院也在 2022 年 3 月底通過修憲案，並於 11 月 26 日舉行憲法修正案的投票複決。

36.基隆市林姓公車司機開 202 線的基市公車，駛進衛生福利部基隆醫院站時，以無陪伴者、客滿為由，拒載以電動輪椅代步的身心障礙者，有市民投訴認為公車司機不應該如此對待身心障礙者，基隆市公車處長陳新埤今天（6 日）公開道歉，並承諾將在一週內完成調查懲處作業。請問公車司機應該加強下列哪一項公民素養？

- (A)參與公眾事務 (B)理性批判思考 (C)和平尊重包容 (D)實踐公平正義。

37.圖(二)是嘉欣整理我國國民與公民概念示意圖，請根據圖中內容判斷，下列關於不同身分及權利的敘述，何者最適當？

- (A)甲身分的取得，在我國以出生地為原則為主 (B)外國人可以透過歸化取得甲的身分
(C)甲應屬狹義公民，乙則屬廣義公民
(D)乙權利的行使，在我國必須完成結婚登記。



38.下列敘述何者正確？

- (A)學生在公車上被性騷擾時，可以用《性騷擾防治法》來自我保護
(B)某校園驚傳有老師在辦公室對同事伸出鹹豬手，當事人任職的學校應依據《性別平等教育法》處理
(C)端木在學校罵男同學「娘娘腔」、「娘砲」、「男人婆」，學務處以《性侵害犯罪防治法》處理
(D)一名女子到某婦產科診所看診，醫生疑涉性騷擾，該女子向轄區警局報案。性騷擾部分可依《性別工作平等法》向社會局申訴。

39.根據表(一)文章內容判斷，下列敘述何者正確？

- (A)政府無法制定限制童婚的相關法規
(B)因為貧富差距，人權可以受到限制
(C)未成年被迫童婚，人權受到剝奪
(D)世界各國對童婚限制的標準都不同。

表一

阿富汗遭塔利班掌管 2 年半，經濟崩潰與禁止女性上學等問題，正導致女童童婚的現象加劇，阿富汗小鎮綠城（Shahrak-e-Sabz）最新調查發現，光是 2023 年 12 月，這座鎮上就有 118 位女孩被賣作「新娘」，還有 116 個家庭正在等待買家。阿富汗貧苦家庭只能犧牲女兒，換取活命機會，部分「新娘」只有 8 至 11 歲。

40. 來自臺灣的威遠與婉瑩夫妻在美國攻讀碩士時，生下長子浩宇，兩夫妻回臺數年後，又生下女兒芳宜。目前 20 歲的浩宇與 14 歲的芳宜，分別就讀於大學與國中。表(二)對於浩宇及芳宜身分的描述，何者正確？

表二

敘述	浩宇	芳宜
(A)	僅具有美國國民身分	具有我國公民身分
(B)	具有我國與美國公民身分	具有我國國民身分
(C)	僅具有我國公民身分	具有我國國民身分
(D)	具有我國與美國國民身分	具有我國與美國國民身分

41.（中央社記者楊淑閔台北 29 日電）今年兩性同酬日為 2 月 23 日，比去年進步 4 天。勞動部表示，112 年女性因較多的內需服務業人力需求回升，女性時薪增幅高於男性，兩性平均薪資差距縮小，但女性依然需比男性多工作 54 天才達整年薪資相同。下列分析與因應策略何者較為適切？

- (A)我國兩性勞動者在職場上的薪資報酬已日趨平等
(B)政府宜提高女性受雇者的基本薪資以改善同工不同酬現象
(C)顯示女性受雇者在職場已獲得貢獻肯定的公平處境 (D)企業應落實《性別平等工作法》確保職場上的性別平權。



【題組一:42~46題】

陷性別風波...女拳手克莉芙「穿上超仙洋裝」！判若兩人美暈全網

台灣拳后林郁婷近期捲入性別論戰中，但她仍頂住壓力，在巴黎奧運展現堅強實力，奪下金牌。除了林郁婷之外，阿爾及利亞女子拳擊選手克莉芙（Imane Khelif）同樣也深陷性別風波中，國際拳擊總會去年三月以「未通過賽前性別檢測」為由，將兩人取消資格。目前她正式以「嚴重網路霸凌」開告 JK 羅琳、馬斯克。未料曾多次陪克莉芙練習的恩瓦梅盧告訴爭議網媒《Reduxx》：「克莉芙是個男人。」稱與克莉芙對打 3、4 次後，「我能確定，他對我來說是個男人，那是男人的力量、技巧，所有一切都是」

阿爾及利亞的美容品牌日前釋出一段克莉芙的形象片，只見她原本穿著黑色短 T，手上戴著拳擊手套，看起來帥氣十足，鏡頭一轉，她換上花卉洋裝，及肩中長髮微捲，臉上妝容十分精緻，且面露甜美的笑容，脖子上還掛著巴黎奧運奪得的金牌，整體看起來仙氣飄飄，和比賽時的狠勁相比，簡直判若兩人。 2024/8/16 民視新聞網

- 42.根據以上報導內容，克莉芙的陪練員以「那是男人的力量、技巧」來說明克莉芙是男性，而克莉芙刻意換上花卉洋裝，及肩中長髮微捲及精緻妝容來展現自己女性特質，主要是受到下列哪一個概念的影響？
(A)生理性別 (B)性別偏見 (C)性別刻板印象 (D)性騷擾。
- 43.國際拳擊總會以「未通過賽前性別檢測」為由，將克莉芙的奪牌資格取消，卻始終提不出證明克莉芙不是女性的關鍵證據。請問國際拳總的決策已屬下列何種行為？
(A)性別歧視 (B)性別平等 (C)性別刻板印象 (D)性騷擾。
- 44.雖然國際奧委會都已認定兩位選手性別為女性，但《哈利波特》作者 JK 羅琳仍然發文批評：「濃妝豔抹進行公關活動，比起直接公布 DNA 檢測結果更花費時間和精力。」暗指克莉芙不敢進行檢測。還有許多民眾盲目跟隨 JK 羅琳對兩位女子拳擊好手的性別議題窮追猛打，在網路及各大媒體大肆批評謾罵，顯見這些民眾更應該重視下列哪一項公民基本德行？
(A)參與公眾事務 (B)理性批判思考 (C)和平尊重包容 (D)捍衛公平正義。
- 45.若此事發生在台灣，拳擊總會在未有明確證據就取消選手參賽奪牌的資格已違反哪項法律的精神？
(A)《性騷擾防治法》(B)《性別平等工作法》(C)《公民投票法》(D)《性別平等教育法》。
- 46.由上述新聞內容推論，最能凸顯目前國際社會最有可能存在下列何種問題？
(A)女性無法享有選擇工作的自由 (B)社會的性別刻板印象難以打破
(C)個人的言論自由無法獲得保障 (D)文化差異使得人權保障範圍擴大。

【題組二:47~48 題】

來自土耳其的藝人吳鳳在台灣發展 10 多年，2015 年在台娶回美嬌娘，成為台灣女婿，且順利拿到台灣身分證。日前「台灣拳后」林郁婷巴黎奧運女子拳擊 57 公斤級 4 強賽中，擊敗土耳其女將卡拉曼（Esra Yildiz Kahraman）打入金牌戰，卻遭對手比出「X」叉叉手勢，暗諷林捲入 XY 的性別染色體爭議，引起國際社會熱議。來自土耳其的藝人吳鳳因此遭到台灣網友攻擊，他發文聲援林郁婷：「恭喜林郁婷挺進冠軍賽！林郁婷很棒！挺住壓力，做自己，贏得勝利，等妳把金牌拿回來。」 摘自網路新聞

47. 吳鳳取得台灣身分證的途徑為下列何者？ (A)屬人原則(B)血統規則 (C)歸化取得 (D)出生地規則。
48. 有關吳鳳其權利及義務關係的敘述，下列敘述何者較為適當？
(A)和其他台灣國民一樣享有投票權 (B)應該為土耳其選手的不禮貌事件向台灣人道歉
(C)不需要遵守台灣的法律 (D)達到法定年齡便享有參政權。

【題組三:49~50 題】

台灣 MeToo 浪潮促使許多受害者出面控訴自身遭受性騷經驗，其中不乏在職場發生案例，尤其當雇主為行為人時，往往讓受害者不敢吭聲，甚至可能因內部調查機制失靈而申訴無果。為避免權勢性騷，政府修正性平三法。增加了公權力介入的外部申訴管道，因此當發生雇主騷擾員工的案例時，受害者可直接向地方政府申訴、由地方政府機關來調查雇主是否有性騷行為。新法也規定，只要受僱者因雇主違反規定或遭受性騷擾，向地方主管機關提起申訴或向法院提出訴訟時，主管機關就應提供必要的法律諮詢或扶助；且被害人因遭受性騷擾致生法律訴訟，在受司法機關通知到庭期間，雇主也應給予公假。

摘自中央通訊社 2024/3/7

- 49.依據上述文章判斷，為避免職場上的權勢性騷而修訂的法案應是下列何者？
(A)《性騷擾防治法》(B)《性別平等教育法》(C)《性侵害犯罪防治法》(D)《性別平等工作法》。
- 50.下列哪種行為不在該法案所禁止及處罰之範疇內？ (A)依能力決定升遷(B)單身條款 (C)同工不同酬 (D)禁孕條款