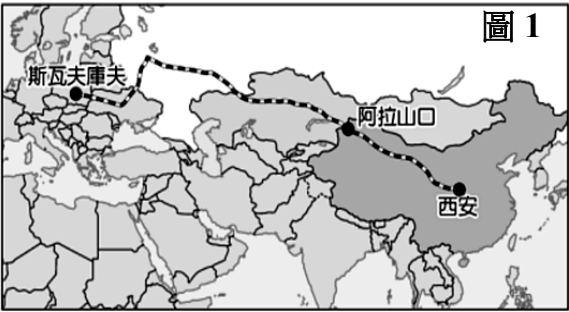


共 50 題，每題 2 分，總分 100 分。

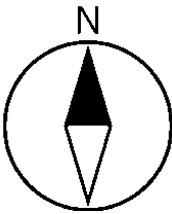
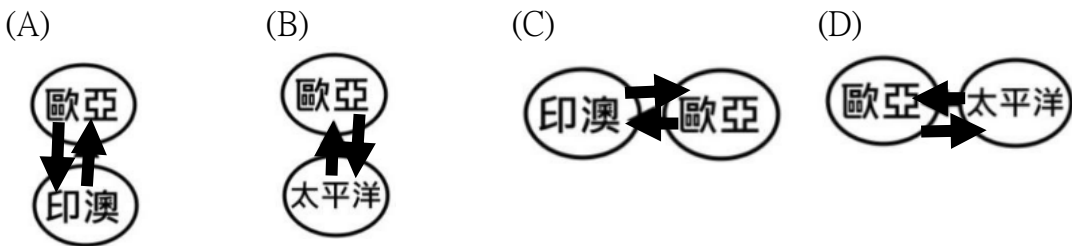
【地理部分 第 1~17 題】

1.圖 1 是從中國西安前往歐洲斯瓦夫庫夫的中歐班列鐵路路線圖。請問依據圖 1 的行經路線判斷，其主要經過中國地形的哪一階梯？
(A)高階梯 (B)中階梯 (C)低階梯。

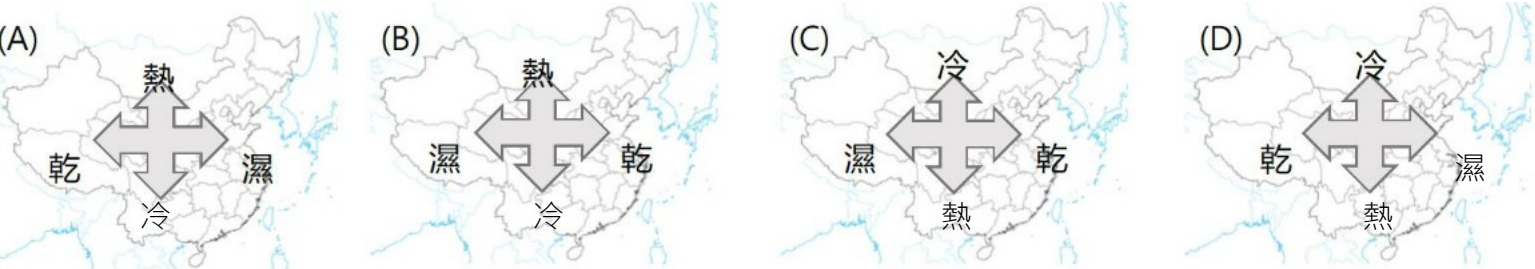


2.中國地勢整體有西高東低的特色，請問這樣的特色和下列哪一個現象關係最密切？
(A)主要河川多向東流 (B)夏秋之際沿海多颱風 (C)人口主要分布在西半部 (D)冬季南北溫差大。

3.青藏高原因板塊擠壓的緣故，地勢陡峻，平均高度在 4000 公尺以上，而有世界屋脊之稱。請問該區域板塊擠壓的情況，以下列哪個圖示呈現較為正確？

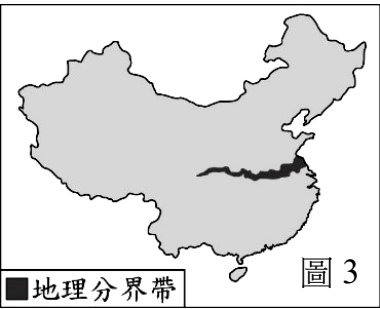


4.中國氣候受到許多因素影響，各地氣候特色不同。請問以下哪一張圖較符合中國整體氣候特色？



5.根據中國氣象局的入春標準，連續五天的日均溫大於或等於 10℃，以第一天作為春季開始的日期。表 2 為中國東半部三個城市的入春日期。請問造成其入春時間有早晚的差異，主要和哪一個地理因素較有關係？(改寫自 107 會考)
(A)地形 (B)緯度 (C)季風 (D)距海遠近。

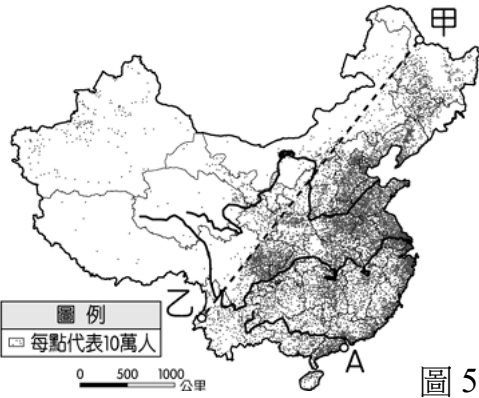
表 2	
城市	入春起始日期
廣州	3 月 16 日
武漢	4 月 1 日
哈爾濱	4 月 26 日



6.圖 3 為中國某學者繪製的重要地理分界帶。此分界帶大致為下列何種現象的過渡區？(改寫自 103 會考)
(A)氣候：乾燥區與季風區 (B)人口：稠密區與稀疏區
(C)作物：小麥與水稻分布 (D)地形：中階梯與高階梯。

7.中國某行政區有一新建鐵路於 2022 年 6 月通車，與原有鐵路部分路線共同構成一環形鐵路，其路線圖如圖 4 所示。該新建鐵路通車後為了維持其正常運行，必須根據其沿線氣候特色來進行設備維護措施。請問其可能會遇到什麼樣的氣候特色？(改寫自 113 會考)
(A)夏秋易有颱風 (B)年溫差較小 (C)全年較乾燥 (D)夏季普遍低溫。

8.圖 5 為中國人口分布點圖，由圖 5 中可發現中國人口集中在甲乙連線的東半部。請問根據圖 5 的分布狀況，可推測影響中國人口分布的原因和下列哪一個因素較無關聯？
(A)地勢西高東低 (B)產業西畜牧東農業 (C)年雨量西乾燥東濕潤 (D)行政區面積西大東小。

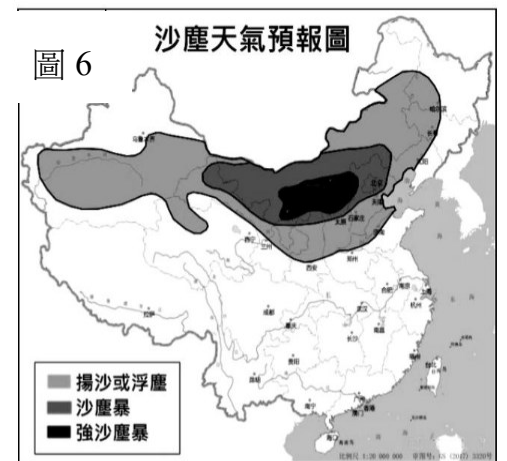
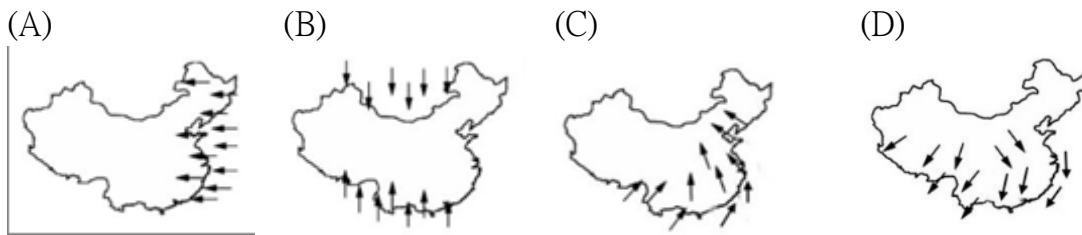


【題組一】圖 6 為 2021 年中國某日的沙塵天氣預報圖，請根據此圖回答第 9~10 題。

9.請問根據圖 6 中，強沙塵暴和沙塵暴分布範圍大多和下列哪一個地形區吻合？

- (A)青藏高原 (B)內蒙古高原 (C)四川盆地 (D)長江中下游平原。

10.根據圖 6 中沙塵暴的擴散方向推論，下列哪一張圖片最能呈現此時中國的風向？



【題組二】圖 7 為華人遷徙路線示意圖，請根據圖 7，回答第 11~14 題。

11.從圖 7 華人遷徙到東南亞的路線判斷，東南亞哪道美食主要是受中國移民影響？

- (A)炒粿條 (B)咖哩水餃 (C)越式麵包 (D)麝香貓咖啡。

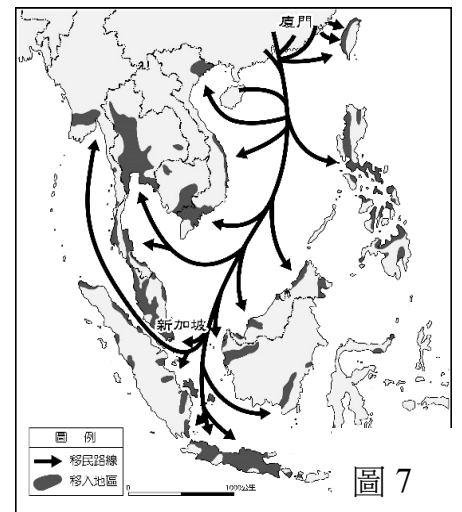
12.從圖 7 的遷移路線來看，當時中國移民若要搭乘帆船航行下東南亞，依季風的方向判斷，何時出發為順風下東南亞的最佳月份？

- (A)一月 (B)五月 (C)七月 (D)九月。

13.從圖 7 的遷移路線來看，可推測這些華人的祖先家鄉可能會看到怎樣的自然景觀？

- (A)遼闊無際的草原 (B)高聳入天的山地 (C)一階階的稻田 (D)群山環繞的盆地。

14.從圖 7 的遷移路線來看，沿路上最不可能看到哪些民居？



- (A)甲乙 (B)乙丙 (C)丙丁 (D)甲丁。

【題組三】表 8 為中國不同年份的人口普查部分資料。請根據表 8 回答第 15~17 題。(改編自 113 會考)

表 8

單位：%

年分	1953	1964	1982	1990	2000	2010	2020
年齡組成							
0-14 歲	36.28	40.69	33.59	27.69	22.89	16.60	17.95
15-64 歲	59.31	55.75	61.50	66.74	70.15	74.53	68.55
65 歲以上	4.41	3.56	4.91	5.57	6.96	8.87	13.50

15.根據表 8 中不同年齡層的人口比例變動，看不出中國可能有什麼人口問題出現？

- (A)少子化 (B)高齡化 (C)性別比失衡 (D)未來勞動力減少。

16.觀察表 8，下列何者最可能是造成 1964 到 2010 年幼年人口比例的變動主要的原因？

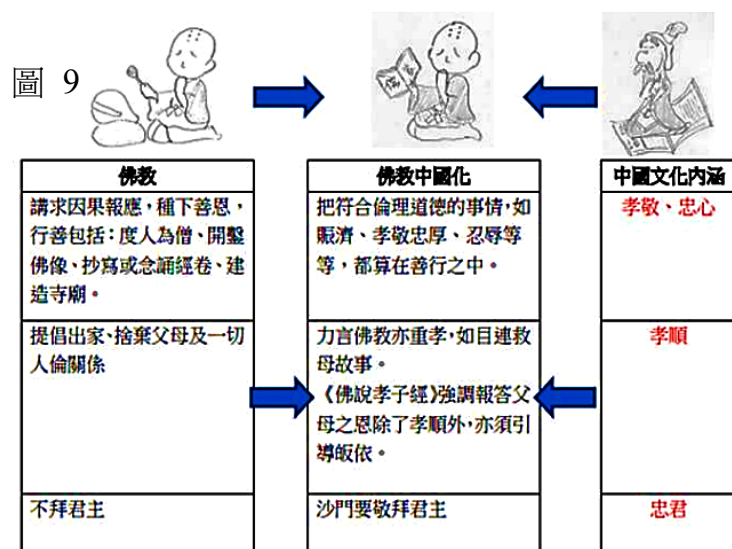
- (A)開放生育第二胎 (B)實施一胎化政策 (C)重男輕女觀念改善 (D)嚴格限制人口移入。

17.現今中國家庭結構變成 1 個小孩、2 個父母、4 個祖父母的『四二一家庭』，未來壯年人口肩上會扛著沉重的負擔。為了改善中國目前面臨的人口問題，提出了哪一個政策？

- (A)開放生育第二胎 (B)實施一胎化政策 (C)重男輕女觀念改善 (D)嚴格限制人口移入。

【歷史部分 第 18~34 題】

- 18.吳志鴻是某一個朝代的青年，他努力讀書，希望考試及格「一舉成名天下知」得以任官。吳志鴻應該為哪個朝代的青年？(A)秦代 (B)漢代 (C)魏晉南北朝 (D)唐代。
- 19.依據圖 9 有關佛教的插畫，可以推論下列何人的作為？
(A)商鞅 (B)張騫 (C)玄奘 (D)文成公主。
- 20.周代為了維持封建體制的運作，依照貴族的宗族組織，建立起一套繼承制度。多數情況下，各級貴族以繼承父兄身分的子弟為大宗，其餘為小宗。請問：上述所指是哪一套制度？
(A)察舉制度 (B)九品官人法 (C)禮樂制度 (D)宗法制度。
- 21.北魏孝文帝所實施的漢化政策中，有一項內容是將首都從平城遷往何處？(A)太原 (B)洛陽 (C)長安 (D)廣州。



- 22.商周是青銅器的時代，圖 10 為周代的青銅鐘，平時是樂器，在重要場合更被視為禮器，故有「器以藏禮」的意涵，請問青銅器在商周社會中有何意義？
(A)為區分貴族與平民，彰顯貴族身分等級的標誌
(B)青銅器內刻有銘文，用來宣揚王室功德
(C)平民也可以享受禮樂的薰陶
(D)貴族與平民皆可使用青銅器。



圖 10

- 23.下列對「長城」的敘述，何者正確？
甲、東周時期，黃河流域各國修築長城以防禦北方興起鮮卑
乙、秦國統一後重新修築新的長城以防禦匈奴
丙、長城為農耕文化與草原文化的分界線
(A)丙 (B)乙 (C)甲 (D)甲乙丙。
- 24.珮嘉是唐太宗年間居住在長安的讀書人，他可能遭遇到下列哪些事件？
甲：張騫帶外交使節團出使西域 乙：皇帝派兵討伐東突厥
丙：欣賞來自西域的音樂、舞蹈 丁：憑藉家世晉身朝中大臣。
(A)甲乙 (B)乙丙 (C)甲丙 (D)乙丁。

25.請閱讀以下資料：

資料一：西晉末年曾自立為漢王的匈奴族劉淵博通儒家經典。

資料二：北魏孝文帝為鞏固在中原的政權，改革鮮卑舊俗，推行全面漢化政策。

資料三：北齊有漢人官員教兒子學習「鮮卑語及彈琵琶」。

從以上三則資料，可知資料為魏晉南北朝的哪一項主題的研究？

- (A)胡人文化的優勢 (B)胡族君主的以身作則 (C)胡漢融合與交流 (D)儒家經典如何治國。
- 26.《晉書》〈劉毅傳〉有一段文章是其批評當時選才制度：「今之中正，不精才實，務依黨利；不均稱尺，務隨愛憎。所欲與者，獲虛以成譽；所欲下者，吹毛以求疵。高下逐強弱，是非由愛憎……魏立以來，未見其得人之功，而生仇薄之累。毀風敗俗，無益于化，古今之失，莫大于此」，其要求廢除……，建議政府另立新制度。根據文章描述，劉毅批評何項制度的缺失？(A)推舉孝廉 (B)九品官人法 (C)科舉取士 (D)封建制度。
- 27.「維二十八年，皇帝作始。端平法度，萬物之紀。……上農除末，黔首是富。普天之下，搏心揖志。器械一量，同書文字。日月所照，舟輿所載。皆終其命，莫不得意。」這段文字是在歌頌哪一位皇帝？
(A)唐太宗 (B)漢武帝 (C)秦始皇 (D)北魏孝文帝。

28.圖 11 呈現某一時期中外交流概況，下列何者符合該時期的往來情形？

- (A)儒學研究隨著商人傳入中國 (B)雙方以爭奪作為交易的手段
(C)西方出口稻米、胡瓜等作物 (D)以絲綢為主要的貿易商品。



29.傑瑋是漢代一名用功的讀書人，是朝中某經學大師的高徒，在鄉里間也以孝順父母聞名。若傑瑋想獲得官職，他可以經由哪一管道達到目的？

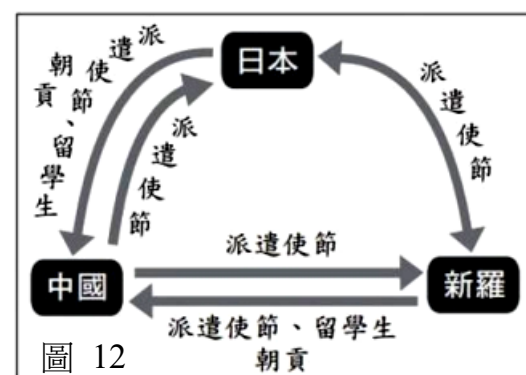
- (A)透過地方政府的「舉孝廉」措施來任官 (B)透過九品中正官的引介即可任官
(C)只能經由朝中有力人士的推薦才可以任官 (D)透過科舉考試合格才可任官。

30.美國漢學家費正清和賴肖爾在《中國：傳統與變革》中說：「做為橫跨中亞陸上商路的東端終點，以及有史以來最大帝國的都城，長安城市擠滿了來自亞洲各地的人。」首都長安更是胡商雲集，他們的文化也影響著漢人，處處可見「漢戴胡帽，胡戴漢帽」。下列哪一詩句足以說明此一現象？

- (A)「五陵年少金市東，銀鞍白馬度春風。落花踏盡遊何處，笑入胡姬酒肆中」
(B)「得即高歌失即休，多愁多恨亦悠悠；今朝有酒今朝醉，明日愁來明日愁」
(C)「昔日齷齪不足嗟，今朝曠蕩思無涯；春風得意馬蹄疾，一日看盡長安花」
(D)「李白斗酒詩百篇，長安市上酒家眠，天子呼來不上船，自稱臣是酒中仙」。

31.圖 12 是某一時期亞洲三個國家交流的情形，根據內容判斷，此時期的交流對當時日本造成了何種影響？

- (A)斷絕與各國往來，展開鎖國 (B)國內以唐代制度為藍本，展開大化革新
(C)日本成為強國後攻打中國 (D)天皇大權旁落。



32.下列為中國歷史上某國家變法改革的內容：

- ★推動富國強兵政策，厲行法治 ★獎勵軍事上有功之人
★實施編列戶籍 ★平民納稅服勞役

對於此改革的時代背景，下列敘述何者最為符合？

- (A)軍屯制度的實施 (B)察舉選才辦法的設立 (C)封建制度的瓦解 (D)朝貢制度的廢除。

【題組一】

2019 年，新疆文物考古研究所申報在新疆發掘一座克亞克庫都克烽燧遺址，遺址出土遺物均為唐代，如開元通寶、乾元重寶等錢幣，其餘木牘上也都有著清晰的唐代年號，通過碳 14 測年與出土遺物的交叉比對，該烽燧被認為應是為防止吐蕃入侵而修築。

最讓人驚喜的是灰推中清理出 700 餘件紙質文書，文書中既有《韓朋賦》、《孝經》、《遊仙窟》等儒家典籍與文學作品殘片，其中紀載士兵們告急、值班巡邏與升遷…等公文，以及問候遠方家人的家書，這批文書，乃新疆考古近年來出土的最大一批唐代漢文資料，涵蓋了軍事、政治、經濟與文學等方面，尤以軍事最多，讓我們更進一步地還原唐代治理西域的情況。

33.唐代因吐蕃而建立軍事建設，吐蕃位於今日何處？(A)西藏 (B)蒙古 (C)新疆 (D)長城以北。

34.唐太宗時西域諸國臣服於大唐，並尊稱太宗為「天可汗」。然而好景不常，唐玄宗時曾與某國發生怛羅斯之役，唐軍戰敗，進而促使造紙術西傳。請問某國為下列何國？(A)吐蕃 (B)突厥 (C)大秦 (D)大食。

【公民部分 第 35~50 題】

35. 今年四月，數千名以色列人走上耶路撒冷街頭，要求當局讓遭挾持至加薩的以色列人質回家，並要求總理尼坦雅胡下台，他們指責尼坦雅胡未能保護國家免於受巴勒斯坦武裝組織哈瑪斯的侵害。假設最後尼坦雅胡請辭獲准了，請問請辭這項做法應是屬於民主政治的哪一項特徵？
- (A)民意政治 (B)政黨政治 (C)法治政治 (D)責任政治。

36. 洋洋正在練習將各項政府的政策與其主要是為了達成國家存在的何項目的進行配對，請問:洋洋哪一項配錯了？

選項	政府政策	目的
(A)	與他國簽署國際貿易條約	促進經濟發展
(B)	針對交通易肇事路段進行擴大臨檢	保衛國家安全
(C)	落實長照計畫 2.0	推動社會福利
(D)	訂定《著作權法》保護智慧財產權	保障基本人權

37. 阿智正在複習憲法修改的流程，請協助阿智排出正確的順序：
- (甲)立法院決議提出憲法修正案 (乙)立法委員提議 (丙)行政院提議 (丁)公告半年
- (戊)選舉人複決有效同意票超過選舉人總額 1/2 (己)選舉人複決有效同意票超過選舉人總額 2/3
- (A)乙甲丁戊 (B)乙丁甲己 (C)甲乙丁戊 (D)丙甲丁戊。

【題組一】

圖 13 為我國的法律位階圖，請根據圖 13 回答下列問題。

38. 圖 13 中法律位階與其法令的配對，何者正確？

- (A)甲—《地方稅法通則》
- (B)乙—《貪污治罪條例》
- (C)乙—《職業安全衛生法施行細則》
- (D)丙—《中華民國憲法》。

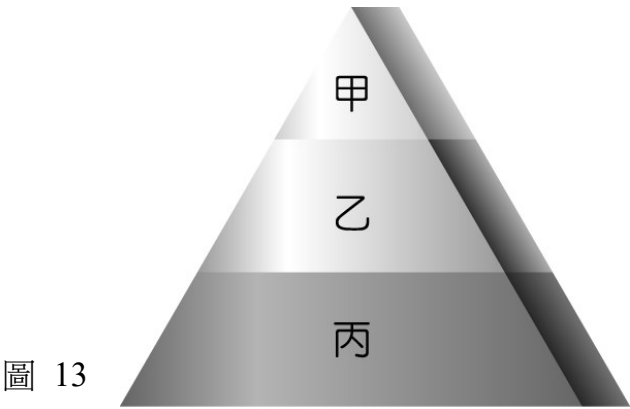


圖 13

39. 關於乙階層的敘述，下列何者正確？
- (A)需經過總統公布才有效 (B)有固定性修改較為困難 (C)可由行政機關直接制定 (D)定義上屬於廣義的法律。

【題組二】

快樂國每四年舉辦一次總統大選，下表是近四任總統大選主要政黨的得票率，以最高得票率者為勝選。請根據表的內容回答下列問題。

	甲黨	乙黨	丙黨
第十任總統大選	40.6%	38.7%	6.2%
第十一任總統大選	37.9%	33.2%	13%
第十二任總統大選	26.1%	38.7%	21.1%
第十三任總統大選	37.5%	32%	19.8%

40. 表中資料顯示該國經歷了幾次政黨輪替？(A)1 次 (B)2 次 (C)3 次 (D)4 次。
41. 關於上表的敘述，下列何者錯誤？
- (A)近四任總統大選中，甲黨擔任過 3 次執政黨 (B)在第十一任總統大選中，只有乙黨是在野黨
- (C)在第十二任總統大選中，丙黨負責監督施政 (D)在第十三任總統大選中，甲黨負責組織政府。
42. 根據上表，下列敘述何者無法說明快樂國的政權？
- (A)多次政黨輪替不影響快樂國的存續 (B)甲黨在第十一任任期施政不符期待而失去民意
- (C)甲黨多次當選不符合民主法治精神 (D)快樂國定期舉辦選舉，是民主國家的重要象徵。

【題組三】

為了洗刷行人地獄的稱號，(甲)政府去年修正了《道路交通管理處罰條例》，(乙)針對不停讓行人之車輛加重處罰，因此(丙)行人有權優先通過馬路。同時也要求行人應依行人穿越道通行，違者處以 600 元罰鍰。如今，政府再度預告《道路交通標誌標線號誌設置規則》修正草案，宣布將新設全新的「行人優先區起終點」標誌，不僅不得按喇叭，也不得超速行駛，(丁)最重可罰駕駛 3.6 萬元，預計於 10 月 1 日正式上路。<改編自地球黃金線 2024.9.18>

43. 依據本文，關於前法與後法的比較，下列敘述何者**錯誤**？
(A)前法的效力高於後法 (B)後法補充前法的不足 (C)兩法皆由立法院修正 (D)兩法皆不可牴觸憲法。
44. 文章中哪一段畫底線部分所代表的是「權利」？(A)甲 (B)乙 (C)丙 (D)丁。
45. 依據本文，下何者符合目前對於我國社會體制的描述？
(A)法律是限制人民的工具 (B)法律規定隨統治者改變 (C)法律的訂定有明確標準 (D)統治者的意思就是法律。

【題組四】

司法院大法官宣布化妝品廣告事前審查制度違憲。本案由於某知名化妝品公司日前未向主管機關事前申請核准，就在網站刊登防曬乳廣告，被台北市政府衛生局裁處罰鍰 3 萬元，於是該公司提起行政救濟，被駁回確定後，轉而聲請釋憲。

根據《化粧品衛生管理條例》(現更名為《化粧品衛生安全管理法》)第 24 條第 2 項，規定化妝品事前登載或宣播廣告時，應事前向中央或直轄市衛生主管機關申請核准，違反者處 5 萬元以下罰鍰。大法官認為事前審查制度已限制化妝品廠商的言論自由，逾越必要程度，不符憲法的比例原則，還抵觸憲法保障人民的言論自由，於是今天起失效。<改編自風傳媒 2017.1.6>

46. 文中《化粧品衛生管理條例》被認為牴觸憲法保障的言論自由而失效，顯示憲法的何種特性？
(A)最高性 (B)固定性 (C)原則性 (D)排他性。
47. 根據本文，下列敘述何者正確？
(A)《化粧品衛生管理條例》是由台北市政府衛生局制定
(B)《化粧品衛生管理條例》會失效是因為沒有申請核准
(C)化妝品登載廣告前，要先經過衛生主管機關申請核准
(D)《化粧品衛生管理條例》與《民法》的法律位階相同。

【題組五】

根據讀賣新聞報導，日本防衛省表示中國 1 架偵察機在日本時間 8 月 26 日上午 11 時 29 分左右，從男女群島東側侵入日本領空，並在 11 時 31 分左右離開「日本」領空。這是防衛省首次確認中國軍機侵犯日本領空。對此，我國「政府」表示強烈譴責，認為中國軍方此舉嚴重破壞區域和平穩定，升高區域緊張情勢。<改編自中央廣播電台 2024.8.27>

48. 下列何者的描述與文中畫底線處所提及的國家組成要素相同？
(A)浩浩出生在美國，因此為美國國籍 (B)兩國簽訂外交關係條約互為邦交國
(C)為統治機關，行使公權力治理國家 (D)俄羅斯奪回被烏軍佔領的部分領土。
49. 圖 14 為日本領土周邊範圍的示意圖，甲區塊為該國的土地，乙、丙區塊為環繞在甲周圍的海域。根據文章及圖中內容判斷，中國偵察機侵入的範圍，應為下列何者所對應之大氣層內的空中領域？
(A)甲乙丙 (B)甲乙
(C)甲丙 (D)乙丙。
50. 關於文中「」內前者與後者性質的比較，下列敘述何者**錯誤**？
(A)前者不因後者權力轉移而改變 (B)前者具有持續性與穩定性
(C)後者僅是前者的構成要素之一 (D)後者具有對外獨立的主權。

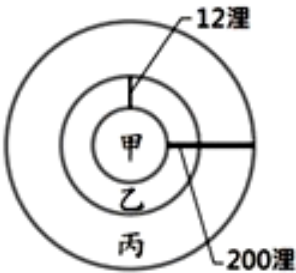


圖 14