


命題教師：社會領域教師群 日期：1 月 16 日 第 4 節 班級： 座號： 姓名：

※選擇題：一題 2 分，共 100 分

※請用 2B 鉛筆將答案劃記在答案卡上，成績以讀卡結果為主※

第一部分：歷史科

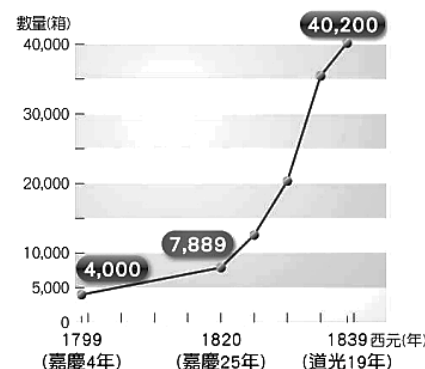
- 1、「容闈是近代中國第一位留學外國的中國人，他認為中國的復興之道在於教育，以西洋文化改進中國文化，因此大力鼓吹清廷派遣學生留學外國，最終獲得同意，並由清廷支付學雜費及生活費。但當時一般人仍視外國為蠻夷之邦，因此所招收的孩童大多為廣東人、商人的子弟，因他們常與洋人接觸。清廷先後派出四批共 120 名幼童赴美國留學，可惜因守舊派的抨擊，小留學生在數年間陸續被召回。」請問以上是關於哪場改革的敘述？(A)立憲運動 (B)自強運動 (C)戊戌變法 (D)庚子後新政
- 2、《新民叢報》的創刊者曾於專欄提到：「重視男女平權觀念，尤以美國最具代表性；透過女學的設立，使日本逐漸趨於強盛，女學的設立更能帶來國家興盛與啟迪人民思想的效果。……若能採用西方的教育制度，載明先聖先賢的遺訓，則能達到保國強種的目的。」由上述內容來看，作者認為要達到保國強種的目的，應該施行何種措施？(A)興辦女子教育 (B)鼓勵國人生育 (C)訓練新式軍隊 (D)限制對外通婚。
- 3、一則資料中提到：「上海自風行報紙後，以各報出版皆在清晨，故破曉後，賣報者群集於報館之門，爭先恐後，擁擠特甚，甚有門尚未啟，而賣報人已在外守候者，足證各報銷暢之廣。」下列何者即當時較具代表性的報刊？(A)自由中國 (B)美麗島 (C)臺灣青年 (D)萬國公報
- 4、右圖為清末外務部發行給俄國公使的護照，代表清末當時已與各國有平等往來的外交關係。外務部的前身是西元 1861 年成立的清末第一個統籌洋務新政的機構，請問應該是哪一個機構？  
(A)京師大學堂 (B)總理各國事務衙門 (C)責任內閣 (D)市舶司。
- 5、麗君正在閱讀一份發生在清末中國境內的案件審判內容，被告為法國公民，因駕駛馬車撞傷中國公民並肇事逃逸，此案件審判地點在天津的法國領事法庭，裁決者是法國駐天津領事館總領事，最後依照法國法律判決被告須賠償三百法郎給家屬，免除坐牢刑責。根據上述內容判斷，此審判方式與清末簽訂的哪個條約有關？  
(A)《馬關條約》 (B)《天津條約》 (C)《南京條約》及其續約 (D)《辛丑和約》
- 6、歷史課堂正在進行對於近代東亞歷史事件的討論，同學們分別提出對於不同事件的敘述：



- 龍龍**：此時主政太后以皇帝的名義，對外公布的宣戰詔書，作戰對象不是單一國家，也不是條例，而是「遠人」和「彼等」，事實上就是與中國接觸的所有外國。
- 麗君**：他們的這項運動，希望以中國的文化為基礎，再學習西方的技術來打擊西方，說明學自西方的只不過是一種技術性之事物，因此國家內部也有許多人對此次的改革態度上較為消極。
- 志鴻**：中國這項運動的發生是因為歐洲列強的俄國與東方新興的日本對戰之後，認為日本在某些方面更勝俄國與中國，因此許多士紳發起請願希望學習日本。
- 珮嘉**：皇帝頒布變法詔令，宣稱政府組織必須在制度上進行改造，預算將要編製，海陸軍將要現代化，所有教育制度和文官組織也要改組，所有農工商業一併都要提高以符合世界標準。但最終被保守勢力阻擋，導致最終失敗。

請排列上述事件的時間先後順序？

- (A)麗君、珮嘉、龍龍、志鴻 (B)志鴻、珮嘉、龍龍、麗君  
(C)麗君、龍龍、珮嘉、志鴻 (D)龍龍、珮嘉、志鴻、麗君。
- 7、光緒在位的時候經歷被曾經看不起的亞洲小國打敗，及首都被攻陷的對外戰爭。並跟幾個年輕人憑著滿腔熱血推動(甲)改革，無奈天不從人願，後來改革失敗，落得被軟禁餘生的下場。而國家實際的掌權者，卻愚昧的對全世界宣戰，戰敗後卻，政府為了挽回人心，推動(乙)改革，內容卻是當初極力反對的(甲)改革，真是好不諷刺。上文中所提到的(甲)與(乙)分別為下列何者？  
(A)甲：自強運動、乙：庚子後新政 (B)甲：庚子後新政、乙：立憲運動  
(C)甲：戊戌變法、乙：庚子後新政 (D)甲：戊戌變法、乙：立憲運動
  - 8、右圖是清末自英國輸入某商品的數量變化。依史實判斷，英國將此商品大量輸入中國的影響為何？  
(A)有助中國人口加速成長 (B)中國朝貢貿易達到鼎盛  
(C)導致中國白銀大量外流 (D)吸引中國人移民東南亞。



9、根據下面兩位的談話內容可知，當時政府正在推動哪項改革？

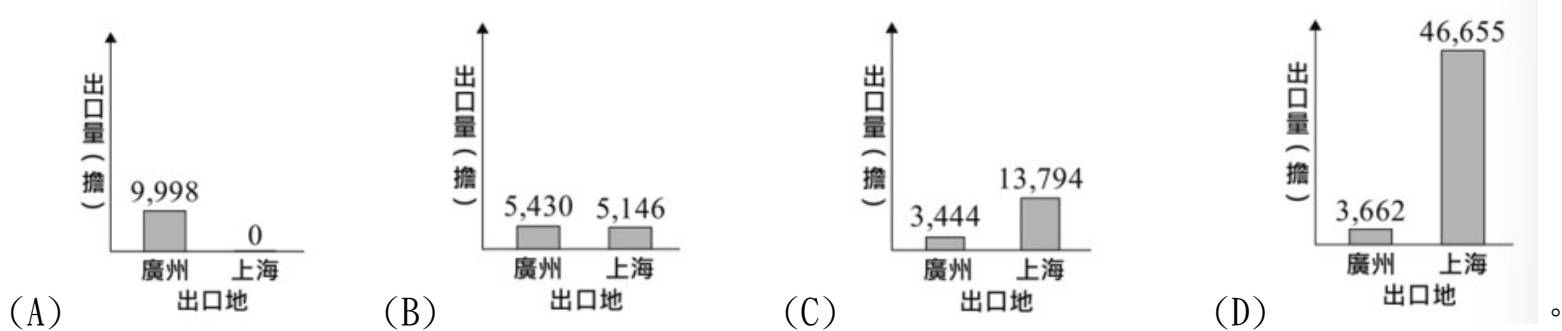
楷燦：「我辛辛苦苦寒窗苦讀十年，就是為了要在科考上一舉成名，從此光耀門楣，如今一切都成了泡影。」  
悠太：「是啊！政府廢除科舉考試，等於是斷了我們的出路，我們以後該何去何從呢？」

(A)自強運動 (B)戊戌變法 (C)庚子後新政 (D)立憲運動。

10、鷺江國中跨年晚會將演出以晚清為背景的戲劇，主角靜靜是生活在清末接受西化教育的女子，從小在廣州成長，其父母都是接受新式教育的知識分子，下列哪一情境最有可能會出現在劇情中？

(A)靜靜嫁給父母指腹為婚的對象 (B)靜靜從女子學校畢業後在新式工廠上班  
(C)靜靜從小纏足並學習刺繡能力 (D)熟讀四書五經準備參加科舉考試。

11、明清以來，絲織業是中國江南地區的重要產業。當時產出的生絲，主要供應國內需求，部分對外出口。下列何者最可能反映清乾隆年間生絲出口的情況？



【題組一】19 世紀中葉日本於黑船事件後，國家與社會經歷了翻天覆地變革，並走上現代化之路，短短數十年就躋身列強之林。請根據你對黑船事件的了解，回答下列問題：

12、關於黑船事件的敘述，何者正確？

(A)日本最後決定實施「鎖國政策」 (B)日本因此被迫開港通商  
(C)這些黑船隸屬英國 (D)隔年日本馬上實施改革維新。

13、十九世紀中期後，日本為了能在軍事、經濟等各方面趕上西方國家，實施「明治維新」的西化運動。關於此次西化運動的內容，下列敘述何者錯誤？

(A)實施君主專制 (B)建立新式軍隊  
(C)發展工商業和交通 (D)日本成為亞洲第一個現代化國家。

14、二十世紀初期，日俄兩國為了爭奪右圖中何地而爆發戰爭？

(A)甲 (B)乙 (C)丙 (D)丁。



15、(甲)甲午戰爭 (乙)吞併朝鮮 (丙)吞併琉球 (丁)牡丹社事件。以上為日本明治維新後的擴張行動，按照正確的順序排列應該是？ (A)丁丙甲乙 (B)丙甲丁乙 (C)乙丁丙甲 (D)甲丙乙丁。

## 【題組二】

屈臣氏是中國歷史最悠久的藥房之一，最早可以追溯到 1820 年皮爾森及李文斯頓在澳門開設的「澳門藥房」。1828 年，皮爾森與李文斯頓於中國廣州開設「廣東大藥房」。1841 年，在香港摩根船長市集臨時開業，1843 年到上環開業，並正式命名為「香港大藥房」，不久後把在廣州的汽水工廠搬到香港。1855 年，托馬斯·屈臣加入香港大藥房，1871 年，公司正式註冊為 A. S. Watson & Company 並開始以此名進行貿易，成為正式的商業品牌。在 19 世紀中後期，屈臣氏成功在中國各地開辦多家分號，成為成功的連鎖企業，同時發展汽水、飲料生產以及酒類進出口生意。到 20 世紀初，屈臣氏成為遠東最大的藥房，其中又以上海分號的營業額最大。

請以上述資料回答以下問題：

16、屈臣氏於 1841 年到香港上環開業，並於 1843 年正式命名為「香港大藥房」，請問香港於 1843 年是由哪一國家治理該地？ (A)西班牙 (B)葡萄牙 (C)荷蘭 (D)英國。

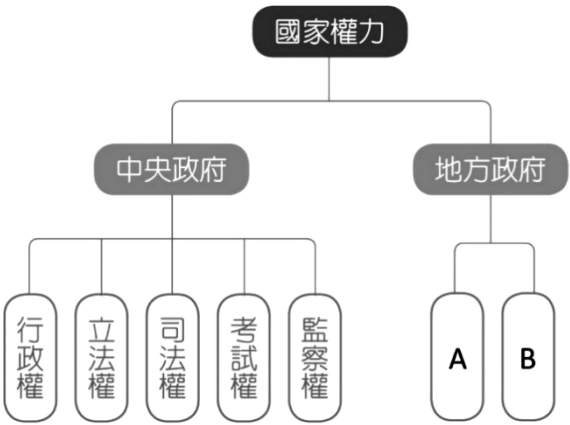
17、屈臣氏除了藥房本業外，更積極發展汽水、飲料、酒類等民生輕工業，19 世紀後期能迅速在通商口岸設廠製造的原因是？

(A)領事裁判權的簽訂 (B)英法聯軍洋人勢力深入內地 (C)自強運動的推廣 (D)馬關條約的簽訂。

【尚有試題，請繼續作答】

第二部份：公民科

18. 圖為我國權力分立的示意圖，請問：A、B 分別指地方政府的何種權力？
- (A)行政、立法  
(B)立法、司法  
(C)考試、監察  
(D)行政、監察



19. 針對基隆市市民的民調顯示，54.9%受訪者支持基隆市升格為直轄市。基隆市若升格，則原本的「基隆市仁愛區」將會變為下列何者？
- (A)基隆市仁愛區 (B)基隆市仁愛鄉 (C)基隆市仁愛市 (D)基隆縣仁愛鎮
20. 我國(甲)中央與地方政府權限劃分採「均權制度」，依事務的性質劃分職權。(乙)事務具有全國一致性質者，屬於地方權限；而(丙)事務具有因地制宜性質者，屬於中央權限。若(丁)中央與地方政府發生權限爭議時，應由行政院解決。請問：上文劃線處何者正確？
- (A)甲 (B)乙 (C)丙 (D)丁
21. 下課時，同學們正在對政治參與發表自己的看法，請問：誰的說法才是正確的？
- (A)甲：投票時記得把選票打卡上傳，提醒大家投票！  
(B)乙：學生沒有投票權，所以沒有政治參與的管道！  
(C)丙：投票時要記得帶身分證、印章、投票通知單！  
(D)丁：忘記帶自己的印章時，可在選票上簽名代替！
22. 小員在整理選舉和公投的流程時，不小心把順序弄亂了，請問：下列哪一項才是正確的流程？

選舉：①投票②競選活動③開票、計票④登記參選⑤公布選舉結果  
公投：①投票②提案③連署④公告

- (A)選舉：④①②③⑤ (B)公投：③②①④ (C)選舉：②④①③⑤ (D)公投：②③④①
23. 不同國家有不同的選舉規定，在甲國，大學畢業的人民可以多領一張選票；在乙國，女性就算符合法定資格，也沒有投票權。請問：甲、乙兩國依序與我國的何種選舉原則相違背？
- (A)平等原則；普通原則 (B)普通原則；平等原則  
(C)直接原則；普通原則 (D)平等原則；無記名原則
24. 凱米、山陀兒等颱風重創高雄市那瑪夏區、茂林區等山地原住民區，請問：關於山地原住民區的敘述何者錯誤？
- (A)只有直轄市設有山地原住民區 (B)山地原住民區是地方自治團體  
(C)行政機關為山地原住民區公所 (D)其行政機關負責審查地方預算

【25-27 為題組】

鷺鷥國的各項選舉制度皆與我國相同，下表為鷺鷥國各政黨分別在 2020 年及 2024 年立法委員選舉的政黨票得票率，請根據此表回答下列問題。

	A 黨	B 黨	C 黨	D 黨	E 黨	F 黨
2020 年	40%	30%	15%	6%	3%	2%
2024 年	35%	35%	18%	4%	2%	1%

25. 關於鷺鷥國立法委員的參選資格，下列何者錯誤？
- (A)至少年滿 23 歲 (B)設籍選區滿 6 個月 (C)未受監護宣告 (D)未被褫奪公權
26. 根據 2020 年及 2024 年的得票率，分別有幾個政黨可以取得不分區立委的席次？
- (A)2020 年：3 個；2024 年：3 個 (B)2020 年：4 個；2024 年：3 個  
(C)2020 年：5 個；2024 年：4 個 (D)2020 年：6 個；2024 年：6 個
27. 此種立法委員的選舉制度稱為「單一選區兩票制」，請問：下列關於此制度的敘述何者錯誤？
- (A)立法委員席次總共有 113 席 (B)「兩票制」指每位選民會領到 2 張選票  
(C)依照政黨票得票比例分配不分區立委席次 (D)「單一選區」指每一選區選出一名不分區立委

【背面尚有試題，請繼續作答】

【28-29 為題組】

根據去年的數據，全台 14 歲以下幼年人口占比，最高縣市為新竹市 16.1%，其次是新竹縣 15.6%，其中新竹縣也是老人占比最低的縣市，堪稱全台最年輕都市。議員指出新竹縣既然是最年輕的城市，縣府就應該重視年輕人生兒育女的需求，建議縣府能夠參照新竹市生育津貼額度，調高相關津貼，盼能減輕縣民養育的經濟負擔，也提高生育意願。

〈改編自中時新聞網 2024.03.13〉

28. 關於新竹縣及新竹市的比較，下列何者正確？  
(A)新竹市隸屬於新竹縣 (B)新竹市為縣轄市之一 (C)兩者屬於同一個層級 (D)竹北市隸屬於新竹市
29. 文中提及的相關政策，應屬於地方政府的何種職權？  
(A)安全衛生 (B)教育文化 (C)社會福利 (D)經濟發展

【30-31 為題組】

屏東縣政府表示，近年來恆春、滿州一帶的沙灘車活動吸引了大量遊客來體驗，但活動的風險也相對增大，發生了數起沙灘車翻車事件，嚴重者也曾發生致死事故。因此「某地方機關」通過了《屏東縣沙灘車活動管理自治條例》規範沙灘車的使用範圍及輔導業者應建立標準化的管理。

〈改編自屏東縣政府新聞稿 2024.12.02〉

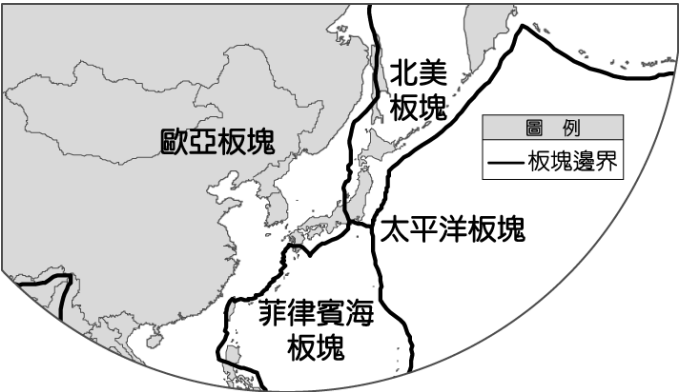
30. 請問：文中的「某地方機關」指的是下列何者？  
(A)屏東縣政府 (B)屏東縣議會 (C)屏東縣民代表會 (D)立法院
31. 請問：關於屏東縣的敘述，下列何者正確？  
(A)屏東縣不是地方自治團體 (B)屏東縣山地原住民區長由民選產生  
(C)屏東縣與嘉義市同級 (D)屏東縣下轄恆春、潮州等區

【32-33 為題組】

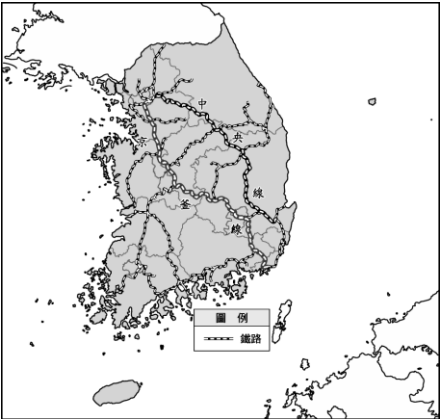
姓名	年齡(歲)	設籍時間	其他
洋洋	18	4 個月	半工半讀大學生
小容	22	8 個月	從美國留學歸國
敏珠	35	6 個月	受法院監護宣告
恩智	42	5 個月	連任過議員一次
小俊	65	3 個月	曾有竊盜罪前科
菲菲	77	9 個月	被宣告褫奪公權

- 表為本次選舉欲前往投票的選民名單，請根據此表回答下列問題。
32. 已知表中的選民皆為我國國籍，若以表中條件參與縣市長選舉投票，則哪些人具有投票權？  
(A)洋洋、小容、小俊、菲菲 (B)小容、敏珠、恩智、菲菲  
(C)洋洋、敏珠、恩智、小俊 (D)小容、敏珠、小俊、菲菲
33. 呈上題，若以表中條件參與公民投票，則哪些人具有投票權？  
(A)洋洋、恩智 (B)小容、敏珠 (C)敏珠、小俊 (D)小容、菲菲

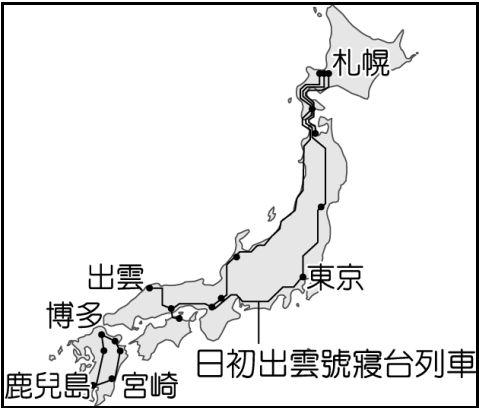
第三部分：地理科



【圖一】

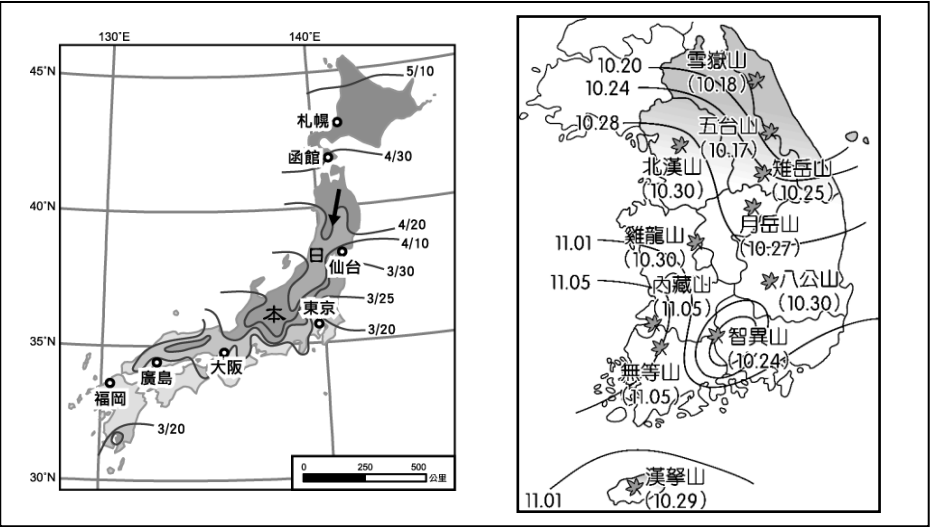


【圖二】



【圖三】

- 34、【圖一】為東北亞板塊分布圖。日本 2011 年發生震驚世界的「311 大地震」，震央位於日本東北方的近海。由於地震規模高達芮氏 9.0，引發了大海嘯侵日，並引起核能輻射外洩的災害。2024 年 4 月 3 日台灣花蓮地震，芮氏規模 7.2，有多棟房屋倒塌或半倒，許多道路、橋梁、維生管線、學校等基礎設施受到不同程度的損毀，其中又以臺灣東部的災情最為嚴重。台灣與日本皆位於環太平洋火山地震帶上，故有許多相似之處，請問下列敘述，何者較不正確？
- (A) 山地面積廣大，平原較少 (B) 火山、溫泉多，民眾可體驗泡湯活動
- (C) 上述兩者地震震央鄰近的海洋皆為太平洋 (D) 兩者主要都受歐亞板塊和北美板塊影響
- 35、【圖二】為南韓鐵路分布圖。圖中南韓鐵路在西北部分布較為密集，而南韓的人口大部分也集中於西南沿海，請問造成這些特色的原因為何？(甲) 太白山脈位置偏朝鮮半島東側 (乙) 首都首爾位於南韓西北側 (丙) 政治經濟中心在釜山 (丁) 南韓以鴨綠江和圖們江跟中國、俄羅斯為分界
- (A) 甲乙 (B) 丙丁 (C) 乙丙 (D) 甲丁
- 36、【圖三】是日本知名的臥鋪列車鐵路分布圖，由圖可推知鐵路路線的分布受到下列哪項因素的影響較大？
- (A) 地形 (B) 氣候 (C) 緯度 (D) 漁業發展
- 37、日本及南韓因國土南北狹長，許多自然現象及人文景觀會依照各地的氣溫差異呈現規律的空間變化。【圖四】中，左圖是日本櫻花開花時間預測圖，右圖是南韓楓葉轉紅參考圖。根據此圖，若鷺小江想要看到櫻花開花或楓葉轉紅，下列旅遊計畫何者較為可行？
- (A) 3 月 20 日前往日本東京欣賞櫻花
- (B) 4 月 20 日前往日本札幌欣賞櫻花
- (C) 9 月 30 日前往南韓智異山看楓葉
- (D) 10 月 10 日前往南韓雞籠山看楓葉
- 38、觀察【圖四】，日本櫻花開花時間的預測線及南韓楓葉轉紅時間的參考線，該日期變化呈現南北向分布，主要與哪項因素最為相關？
- (A) 季風風向 (B) 緯度高低 (C) 地勢高低 (D) 降水多寡
- 39、日本是世界上重要的漁業大國，每人年均魚消耗量可達 100 多公斤。請問該國沿海漁業資源豐富的主要原因為何？(A) 海岸線長，多平直沙岸 (B) 地殼不穩，多火山地震 (C) 四面環海，寒暖流交會 (D) 平原廣闊，河川流量穩定
- 40、存在朝鮮半島的兩個國家有許多不同的地方，下列有關南、北韓的敘述何者正確？
- (A) 北韓緯度較低，平原較廣闊 (B) 南韓冬季寒冷，一年僅一穫
- (C) 北韓生產技術落後，受國際經濟制裁 (D) 南韓畜牧業強盛，可完全自給自足
- 41、朝鮮半島和日本群島有許多風俗習慣和當地環境息息相關，多為因應其自然條件而發展出獨特生活方式。請問：下列四項何者並非因其冬季的氣候特徵所發展出的文化特色？



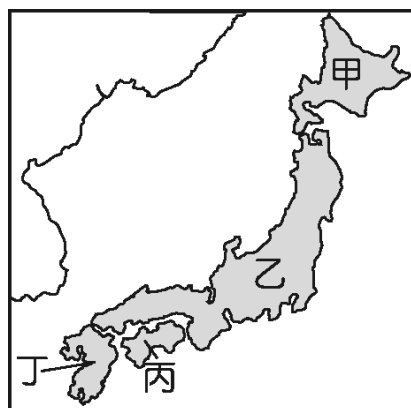
【圖四】

(A) 朝鮮半島-溫突	(B) 朝鮮半島-泡菜	(C) 日本群島-合掌村	(D) 日本群島-生魚片壽司
調節室內溫度的供暖設計	用蔬菜製成的辛辣醃製食品	屋頂傾斜適應自然環境的設計	當地最具代表性的食物

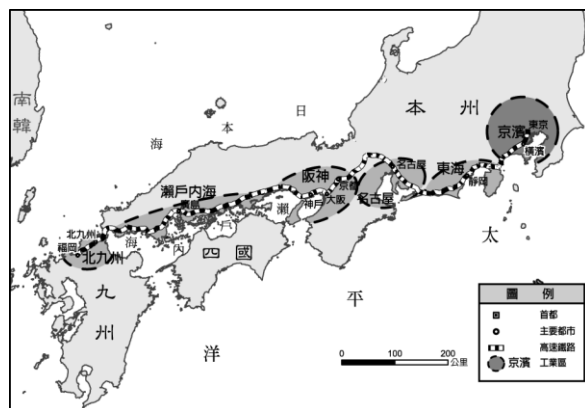


42、2021 年強烈寒流侵襲東北亞，通過中國東北再到朝鮮半島的乾冷空氣團，不僅讓中國東北氣溫低至  $-20^{\circ}\text{C}$  以下，也讓南韓首爾創下了  $-18.5^{\circ}\text{C}$  的低溫，而這波冷空氣迅速越過海面，也為日本北部帶來大量降雪，癱瘓沿海各城市的交通，東京也刷新了歷年最低溫  $-2.2^{\circ}\text{C}$ 。中日韓三地出現的低溫差異，是由於下列何項地理特徵影響？

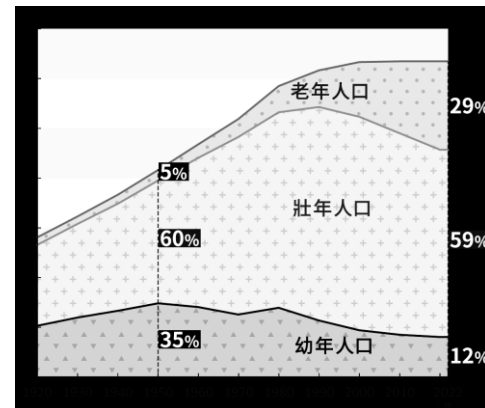
- (A) 日本緯度較南韓低 (B) 北方山區攔截水氣 (C) 冬季旺盛的對流 (D) 海洋水氣調節溫度



【圖五】



【圖六】



【圖七】

43、劉老師利用【圖五】請同學介紹日本甲乙丙丁四大島的觀光景點。小傑將各島具有觀光特色的景點列出如下，請問：小傑對甲乙丙丁各島的旅遊介紹何者正確？

- (A) 甲—九州熊本城是當地的著名古蹟  
(B) 乙—北海道富良野的夏季薰衣草景觀迷人  
(C) 丙—四國道後溫泉傳聞是宮崎駿動畫神隱少女的原型  
(D) 丁—本州的東京鐵塔位於日本金融中心與觀光重鎮

44、【圖六】是日本主要工業區分布圖。圖中的工業區多集中在沿海地區，可能與哪些因素有關？

- (甲) 日本沿海港闊水深，多天然良港 (乙) 國內市場不夠大，需依靠輸出賺取外匯  
(丙) 能源和原料多依賴進口 (丁) 依靠廉價勞力的優勢從事國際代工  
(A) 甲乙丙 (B) 甲乙丁 (C) 乙丙丁 (D) 甲丙丁

45、【圖七】為日本人口結構統計圖。受到【圖七】呈現的趨勢影響，近年來日本面臨老化、勞動力不足與產業外移等問題。請問：日本政府採取的因應方式可能為下列何者？

- (A) 部分工廠移至工資較高的歐洲地區 (B) 不鼓勵企業向海外擴展以增加國內就業機會  
(C) 針對老人照護發展遠距看診和外骨骼輔具 (D) 鼓勵中學生就業以補足勞動力

46、日本漫畫改編的「鬼滅之刃」電視動畫與電影席捲亞洲市場，周邊商品也吸引廣大粉絲購買，反映日本在文化產業的國際競爭力。此外，日本的東京秋葉原，也以販售電子產品、漫畫、動畫和電腦遊戲相關商品聞名。請問：下列何者不是對於日本該產業的相關敘述？

- (A) 文創概念與商品設計能力佳 (B) 標榜地方限定並強調地方特色  
(C) 動漫故事或圖像授權的收益高 (D) 文化產業的產業鏈相當完整

47、【圖八】為 2022 年南韓前十大企業營收占南韓 GDP 的比例圖。南韓政府扶植大型財閥的經濟政策，可能會產生哪項缺點？

- (A) 國家經濟受到少數公司營運影響 (B) 人力資源缺乏導致個人創業盛行  
(C) 生產規模小故經營成本提高 (D) 依賴國內市場產業缺乏競爭力

48、北韓為共產國家，實施極權統治且經濟發展落後，因此經常出現北韓民眾逃亡海外，成為國際難民以期獲得其他國家的政治庇護。北韓因下列何項狀況，因此經濟發展不佳，成為人口外移的推力？

- (A) 缺乏礦產資源 (B) 投入國防不重視民生產業  
(C) 歐美國家經濟援助 (D) 日常用品從中國進口

49、小奇到南韓自由行，造訪首爾東大門一帶。剛好遇到每年舉辦的首爾時裝週宣傳活動，店面櫥窗掛著韓劇男主角穿著的服裝，彩妝店牆上貼著韓團女星代言的化妝品廣告。韓劇在亞洲的熱賣，不僅提升大韓民族的形象，更創造顯著的經濟利益。一天逛下來，小奇深刻體驗到南韓運用時尚拚經濟的軟實力。請判斷上述內容，下列敘述何者較適合形容此次自由行？

- (A) 大韓民國的經濟發展與衰退 (B) 南韓娛樂產業與韓流文化帶來的經濟效應  
(C) 戲劇融入南韓民族意識已阻礙經濟發展 (D) 南韓跨國企業在全球經濟中的角色

50、臺灣的企業和日本的株式會社以及南韓的公司，打算進行三方洽談相關合作事宜，高達數千億資金的合作案備受各方關注。合作三方的產業正好為三國目前經濟發展的主力，一般認為三者的合作將可大大強化彼此的產業體質，有利國際市場競爭力的提升。請問上述提到的產業最可能為下列何者？

- (A) 農產加工產業 (B) 成衣紡織產業 (C) 能源礦物產業 (D) 高科技醫療產業

