

新北市立鶯江國民中學 113 學年度 第 1 學期 7 年級 社會科 第 3 次段考 題目卷

命題教師：社會科教師群 日期：1 月 16 日 第四節 班級： 座號： 姓名：

# 【公民科】1-16 題

- 2019 年，網路上公開一段新莊某國小校園內的霸凌影片，影片中十多人圍繞一名女孩，先命令她罰站，隨後多人輪流上前抓住女孩的頭、連續賞巴掌，不斷出現言語辱罵恐嚇。圍觀人也不時傳出幫腔與嘲笑。根據聯合新聞網報導，該名受害少女 14 歲。她先是和其餘 12 人等前往 KTV 唱歌；期間因少女在包廂內丟擲打火機，引起他人不滿，而將她帶到某國小校園施行霸凌。上述事件中，該生受霸凌行為，已經違反我國哪項法律的規範？  
 (A)《世界人權宣言》 (B)《兒童權利公約》 (C)《性別平等教育法》 (D)《教育基本法》。
- 下列有關校園霸凌的敘述，何者正確？  
 (A) 指故意且具有傷害性的行為，持續出現在固定的受害同學身上 (B) 言語上的辱罵不屬於霸凌行為  
 (C) 遭遇霸凌時應該隱忍下來，以免受到更嚴重的報復 (D) 霸凌者只要道歉並不會受法律制裁。
- 旻浩在未經小 HAN 的許可下，擅自翻閱他寫給 Lisa 的情書並大聲朗讀其內容給全班同學聽，讓小 HAN 被諷癩蛤蟆想吃天鵝肉，成為全班同學的笑柄。旻浩侵犯了小 HAN 的哪項權利？  
 (A) 生存權 (B) 學習權 (C) 人格發展權 (D) 身體自主權。
- 星期一班會課時，同學們透過開班會來決定班服的製作，(甲)MOMO 舉手提議要用水蜜桃來當班徽，(乙)主席 TORO 徵求一位同學附署，此時 JJ 在下面吵鬧，(丙)MIKE 便舉手提出權宜問題要求主席維持秩序。經由充分的討論後，(丁)大家便以多數決來決定班服的設計。請問：上述有關班會的進行過程，何者有誤？  
 (A) 甲 (B) 乙 (C) 丙 (D) 丁。
- 芳燦就讀的學校，風氣民主開放，常見學生討論與大家相關的公共議題。最近，同學正為會考後的班遊期待不已，芳燦決定舉辦班遊地點與行程的討論。下列何者是在班會討論旅遊地點時的正確流程？  
 (A) 先提議後表決 (B) 討論事項時，會依據提案、討論、表決的流程  
 (C) 當兩案同票時，由抽籤決定 (D) 為節省會議時間，主席可以跳過報告事項直接討論事項。
- 下列是七年二十五班開班會的情況，請問哪一部分出了問題？  
 (A) 炫辰在發言時先徵求老師的同意 (B) 彰濱在會議前以書面寫下提案交給主席  
 (C) 動議時要有人附議 (D) 老師不參與意見也不加入表決。
- 這星期的班會由昇民擔任主席，因此他去查詢關於主席在會議中的角色並做筆記，請問筆記內容何者有誤？  
 (A) 宣布開會並說明開會目的 (B) 宣讀會議程序 (C) 賦予同學發言地位 (D) 處理同學提出的秩序問題。
- 部落須經中央原住民族主管機關核定，目前臺灣原住民族共有 737 個部落。上述提到的主管機關為下列何者？  
 (A) 內政部 (B) 部落管理委員會 (C) 文化部 (D) 原住民族委員會。
- 班上小組討論時，大家分享對原住民族部落意義的理解，下列何人的認知較為正確？  
 (A) 彰濱：成員彼此間的權利義務關係由法律規定 (B) 小 HAN：一個部落通常由多個原住民族共同組成  
 (C) 旻浩：部落是依其傳統規範、共同生活結合而成的團體 (D) 炫辰：部落的領袖是由政府單位指派。
- 下列四位是申請成為原住民族展覽的志工，從發言內容可知，何人對原住民族傳統知識的理解需要再加強？  
 (A) 彰濱：部落的歲時祭儀是重要的傳統文化，代表原住民族對神靈的感謝  
 (B) 小 HAN：部落是原住民族傳統的生活空間與信仰重心

(C) 旻浩：雖然原住民族有 16 族之多，但領袖的產生方式並無差異

(D) 炫辰：原住民族十分重視共享互助與生態平衡。

11.許多住在都市的原住民族已逐漸被漢化，不會講原住民語。政府為提高原住民族對於傳統語言文化的傳承，每年都會舉辦原住民族語言能力認證，鼓勵原住民族取得母語能力證明。政府的此項作為是在解決原住民族的何種問題？

(A) 傳統文化的斷層 (B) 部落經濟的停滯 (C) 傳統領域的爭議 (D) 文化與法律的衝突。

12.位於臺東的卡大地布部落在 108 年召開部落會議決議建商是否在該部落土地設置太陽能發電設備，充分落實法律保障原住民族諮商、同意與參與的權利。此舉有助於下列何項目標的達成？

(A) 傳承部落文化和族語 (B) 奠定原住民族自治基礎 (C) 抗爭保護部落傳統領域 (D) 促進部落就業機會。

13.臺東林管處和卑南鄉利嘉部落配合，協助輔導部落養蜂採蜂，由於當地環境好，少了人為的破壞和無農藥的環境，成果豐碩，從一開始養 12 個蜂箱，擴大到 33 個蜂箱。經過養蜂培訓課程的利嘉部落族人，已經不怕整群在眼前飛舞的蜜蜂，學著採集蜂蜜。臺東林管處此舉有助於下列何項目標的達成？

(A) 傳承部落文化和族語 (B) 奠定原住民族自治基礎 (C) 抗爭保護部落傳統領域 (D) 促進部落就業機會。

14.宜蘭大同鄉臺 7 線附近英士村泰雅族部落的芴芴野溪溫泉是知名的秘境，不少遊客慕名前往享受大自然中泡湯，遊客駕駛吉普車違規開上溪床，並隨意亂丟垃圾製造髒亂，甚至阻礙部落農作道路的行進，當地原住民為維護生態環境，短暫封閉前往溪床的入口，對遊客進行善意勸導。部落族人的作法最符合下列何種訴求？

(A) 尋求法律對原住民族的身分認同 (B) 推廣部落文化的教育與傳承活動

(C) 爭取政府統籌觀光資源進行開發 (D) 尊重原住民族對傳統領域的保護。

15.許多原住民族有狩獵傳統，依照《野生動物保育法》，原住民族基於傳統文化、祭儀，得以獵捕野生動物，前提是必須向主管機關申請，並在一定範圍內打獵。2013 年 7 月，臺東海端布農族原住民王光祿（族名：Tama Talum）因母親想吃野味，持長槍獵捕長鬃山羊、山羌等保育動物，遭到警方逮捕起訴。法院認為，獵捕保育動物是為提供母親食用，並非基於原住民傳統文化或祭典，或是具有學術教育目的，被認定違反《野生動物保育法》。此外，王光祿打獵時使用的土製長槍是在部落撿到的，被法院認定不符《槍砲彈藥刀械管制條例》中許可的原住民自製獵槍條件。為此，王光祿與律師團展開了長達 11 年的漫長訴訟，引發臺灣社會對於原住民狩獵傳統文化與野生動物保育的討論。全案歷經檢察長提起非常上訴、大法官釋憲等過程，並於 2021 年獲得蔡英文總統特赦，最終於 2024 年撤銷有罪判決，改判王光祿無罪定讞。





上文中原住民族的狩獵文化最常遇到的何種問題？

(A) 傳統文化的斷層 (B) 部落經濟的停滯 (C) 傳統領域的爭議 (D) 文化與法律的衝突。

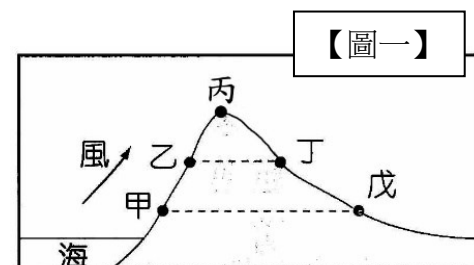
16.對於原住民的獵人來說，打獵會看季節，動物懷孕期間禁止上山狩獵，讓生態有機會休息、繁殖，好的獵人懂得等待，為的不只是更好的時機，更是人與山林共生永續的智慧與默契。獵人比誰都了解山林現在哪些動物過剩，會造成生態不平衡，可以多打；哪些需要給牠時間培育。更重要的是，只要打到，就一定要追到，不可浪費。只會獵捕他能背負的量，不會濫殺，獵捕後也會與他人分享，捕獲的量愈多，分享的也愈多。由上可知，原住民族的狩獵文化能維持獵場生態平衡。此外，獵人也會巡視山林變化，協助政府記錄生態，負擔管理責任，是維護山林的重要力量。對於原住民狩獵的行為，我們應抱持何種觀念？

(A) 持有槍枝就是違法 (B) 尊重原住民特有傳統文化 (C) 在原住民狩獵時向警方檢舉 (D) 自己也跑去狩獵。

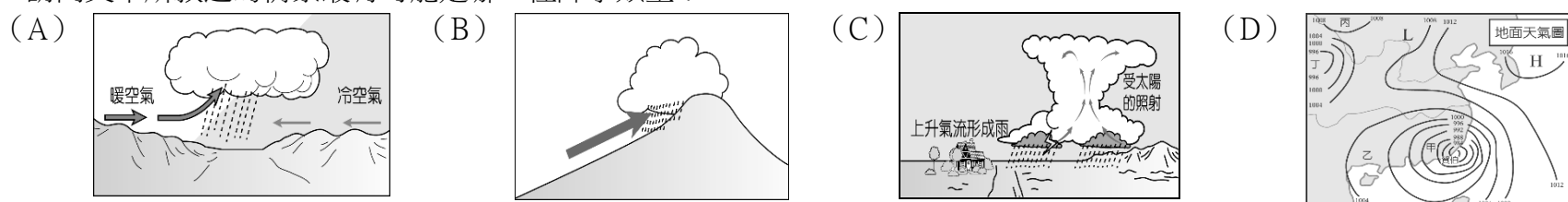
【地理科】17-33 題

- 17.針對臺灣河流特性的說明，下列哪一項正確？(A) 河流含沙量大與水量變化不穩定有關 (B) 河川流量變化大的特徵，是因為地形坡陡流急造成 (C) 河流流向大多東西分流，受中央山脈所影響 (D) 河流長度普遍較短，由於降雨分布不均所導致。
- 18.水資源得來不易，在積極開發水資源的同時，也必須做好水資源管理。下列何種做法「無助於」水資源的開發或保育？(A) 確實做好河川污染的管制 (B) 減少地表人工鋪面的面積 (C) 在集水區要做好水土保持 (D) 地下水抽取量大於補助量。
- 19.每年秋冬在新北市石門區舉辦國際風箏節，當地可以利用強勁的東北季風，為風箏愛好者選擇施放風箏的絕佳地點。請問東北季風若以箭頭表示，可以畫成下列何者？
- (A)  (B)  (C)  (D) .

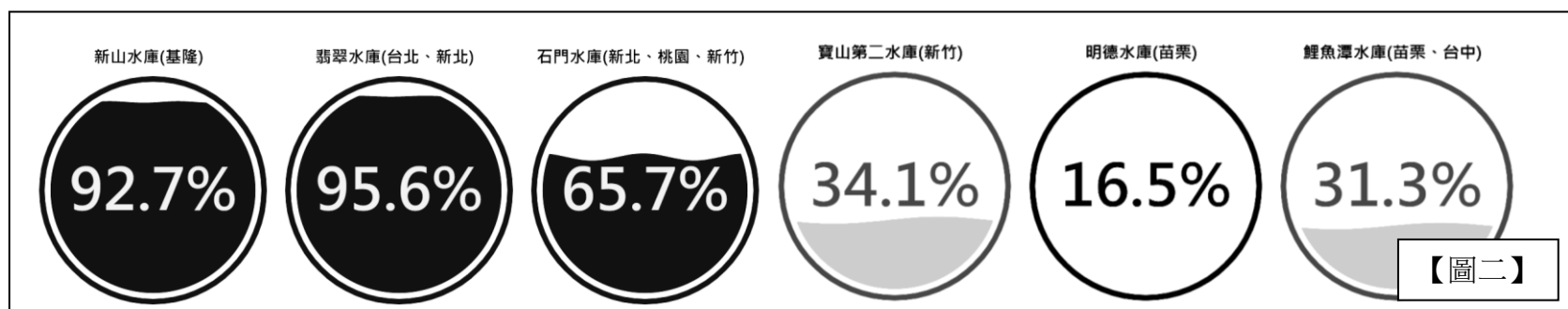
- 20.【圖一】為某高山甲、乙、丙、丁、戊五個氣象測站的位置圖，請問下列敘述何者正確？
- (A) 丙地氣壓比甲高 (B) 乙的雨量比丁多 (C) 甲地氣溫比乙低 (D) 丁的雨勢比乙強。



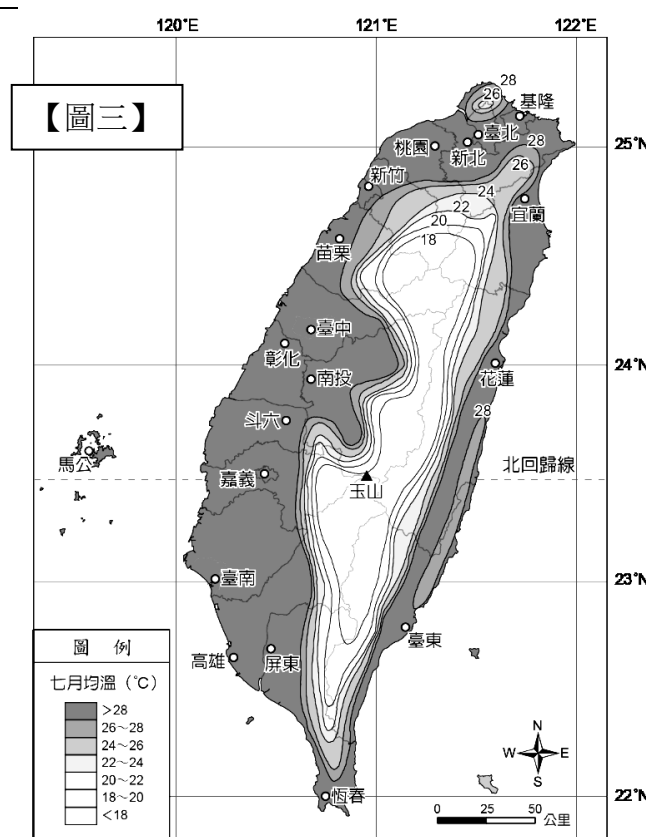
- 21.「下午大雨滂沱，霹靂環起，若非蕃薯田在家屋邊，近在咫尺，真要走避不及……每一雨粒，大概最小還有拇指大，像這樣大的雨粒，竹葉笠是要被打穿的……終於雷聲愈來愈遠，電光只在遙遙的天邊橫掃。太陽又出來了……」以上節錄自陳冠學《田園之秋》，請問文中所敘述的情景最有可能是哪一種降水類型？



- 22.【圖二】為某年 12 月底部分水庫即時水情，圖中的百分比為該水庫的蓄水量百分比，而水庫的蓄水量主要受到該地的降水量所影響。北部區域的水庫蓄水量與其他區域的水庫水情形成較大落差，是因為此時北部地區的降雨以下列何種降水類型為主？
- (A) 鋒面雨 (B) 地形雨 (C) 對流雨 (D) 颱風雨。



- 23.【圖三】是臺灣 7 月的等溫線圖，根據這些等溫線排列形狀來分析臺灣的氣候特徵，請問下列描述何者「錯誤」？(A) 溫度受地形影響，地勢越高溫度越低 (B) 夏季全臺平地皆高溫，南北氣溫差異小 (C) 北回歸線穿越，以北為副熱帶氣候 (D) 北部因為緯度因素，7 月溫度有時會大於南部。




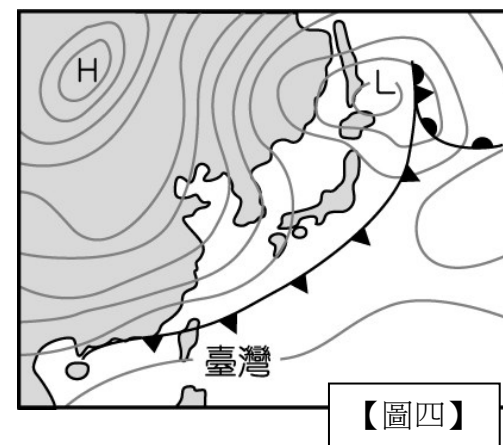
- 24.關於氣壓與風的敘述，下列何者「有誤」？(A) 高氣壓氣流上升，易成雲致雨 (B) 兩地氣壓差愈大，風速愈強 (C) 氣壓單位是百帕 (D) 空氣是由高氣壓往低氣壓水平流動。

- 25.翡翠水庫為全臺蓄水量第二大水庫，位於新店溪支流北勢溪下游，水源地範圍則涵蓋新北市坪林區、雙溪區、石碇區與新店區，總面積為 303 平方公里。請問水源地範圍稱為下列何者？(A) 水系 (B) 流域 (C) 集水區 (D) 分水嶺。

26.受降水特性影響，臺灣河川大部分都屬於荒溪型河川，雨季時滾滾洪水，乾季時河床乾涸。下列哪一條河流因水位變化較小，而較具有航運價值的是哪一河川？(A)淡水河(B)濁水溪(C)曾文溪(D)高屏溪。

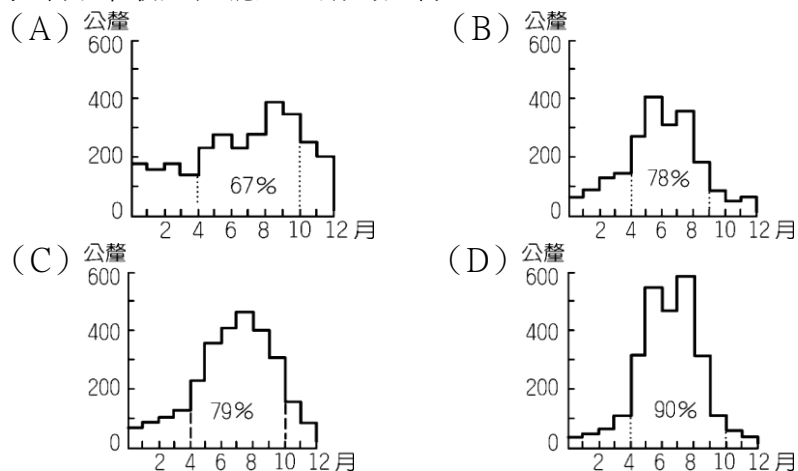
27.課堂上地理老師介紹一張圖如【圖四】，根據資料判斷，下列敘述何者正確？

- (A) 這張是氣候資料圖 (B) 臺灣可能發生寒流來襲 (C) 容易發生在 5-6 月  
(D) 圖中符號  是滯留鋒。

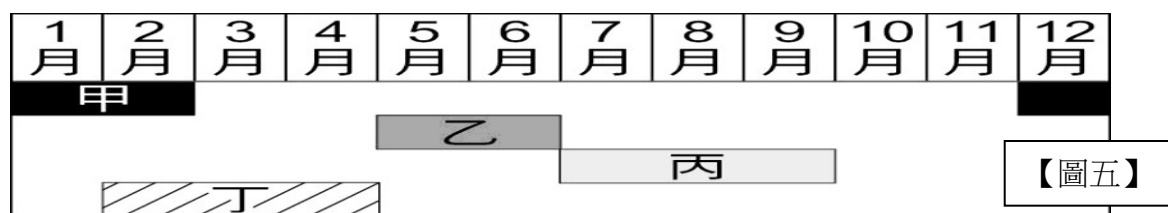


【圖四】

28.臺南鹽田廣布，除了因沿海平原寬廣之外，也與氣候特徵有關。請問下列哪一張圖的降雨季節分布最適合曬鹽活動的進行？

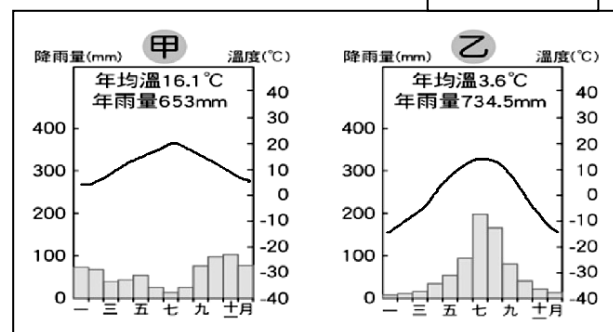


29.【圖五】為四種氣象災害：颱風、寒流、梅雨、乾旱的時間圖表，根據圖中「丁」的氣象災害與下列描述何者相關？(A) 乾季水庫缺水 (B) 西伯利亞冷氣團南下 (C) 熱帶性低氣壓形成颱風 (D) 冷暖空氣相遇形成鋒面雨。



【圖五】

30.【圖六】為緯度相同的甲、乙兩地氣候圖，根據圖中資料推斷，下列何者正確？(A) 甲的年溫差比較大 (B) 乙地的海拔高度可能較高 (C) 乙地的雨量分布較平均 (D) 甲地的雨量集中夏季。



【圖六】

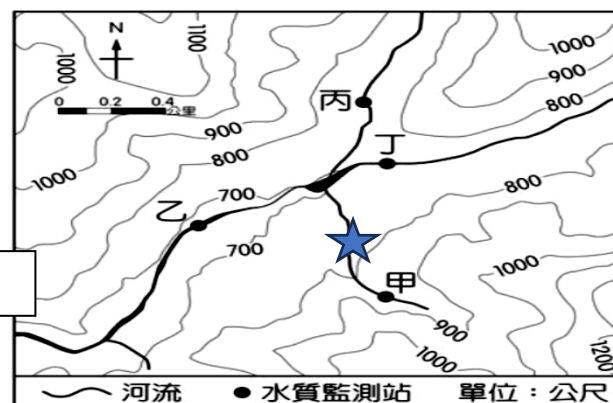
31.承上題，根據甲地的氣候資料，該地區的年溫差是多少°C？(A) 5 (B) 10 (C) 15 (D) 20。

32.【圖七】為某個地區的等高線地形圖，政府為了確保當地的水質狀況，設立了四個水質監測站甲~丁。請問四個水質監測站中，何者的水量最大？

- (A) 甲 (B) 乙 (C) 丙 (D) 丁。

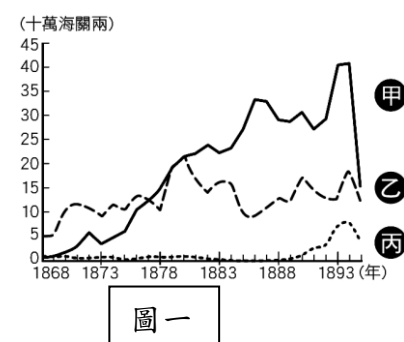
33.承上題，若河流的★處被傾倒廢棄物，請問圖中哪個水質監測站的水質最可能受影響？(A) 甲 (B) 乙 (C) 丙 (D) 丁。

【圖七】



【歷史科】34-50 題

- 34.西元 2024 年是清帝國對臺灣後山地區進行「開山撫番」政策的 150 週年。臺灣全島的整體性建構，由西元 1874 年的政策開啟新的篇幅。……，隨著漢人拓墾範圍日趨擴大，加上外來勢力入侵、……，「開山」成必然趨勢。請問下列何者最為正確？（A）文中提到「漢人拓墾範圍日趨擴大」與花東地區平埔族改信基督教互為因果關係（B）「開山撫番」後，東部高山族紛紛往臺灣中部與西部遷徙（C）從許多原住民開始改漢姓可知「開山撫番」重點在於教化原住民成為清帝國子民（D）「開山撫番」後，原住民經濟活動改變為狩獵與採集。
- 35.以下是某書對臺灣的描述：「此時期臺灣居民不得與外國往來，而統治者為管制移民、稽查海盜，還限定臺灣與中國大陸的對渡港口。當時臺灣所輸出的稻米幾乎全部銷往福建及其附近地區，糖則主要運銷華中、華北和東北。」下列有關此時期的敘述何者最為正確？（A）此時期臺灣雖尚未對外開港，實際上洋商已來臺貿易（B）當時負責兩岸貿易商業組織為「洋行」（C）當時臺灣北部與中國大陸的對渡港口主要是雞籠（D）此時期的結束與甲午戰爭有關。
- 36.圖一是臺灣開港通商後主要商品出口值比較圖。請問下列敘述何者最為正確？  
（A）丙是樟腦，是開港通商後，臺灣最大宗輸出品（B）此三項商品中，由安平出口的商品是甲、乙（C）丙商品主要從淡水出口（D）甲的產量曾居世界第一。
- 37.十七世紀時，在臺灣的歐洲傳教士，以羅馬字拼寫原住民語的方式傳教，但隨著政權轉變，傳教事業式微。後來，因為某一「史事」的發生，傳教士獲得官方允許，又開始在臺灣傳教，……。請問下列何者最為正確？（A）此「史事」是指清廷將臺灣納入版圖（B）此「史事」發生後，劉銘傳立即被派來臺防守（C）此「史事」發生後，臺灣北部出現第一座西式砲臺（D）此「史事」後，來臺傳教士大多透過醫療、教育作為傳教方式。
- 38.清帝國時期，新興市鎮多分布在臺灣中、北部，顯示經濟重心逐漸由南向北移動。請問下列敘述何者最為正確？（A）經濟重心逐漸向北移動主因是樟腦、蔗糖產地在北部（B）沈葆楨來臺後，調整行政區劃，茶葉、樟腦出口港歸臺北府管轄（C）鹿耳門是因為出產鴉片而聞名全臺（D）大稻埕的崛起主要跟樟腦開採有關。
- 39.臺灣氣候溫暖，空氣潮溼，雨量均勻，土壤富於有機質，相當適合茶樹生長，所以茶葉品質優良。回顧臺灣茶業發展史，卻約只有二百多年的歷史。下列相關敘述何者最為正確？（A）荷蘭統治時期茶葉的外銷曾占當時輸出總額的一半以上（B）鄭氏統治時期茶葉栽種以中南部平原地帶為主（C）清帝國統治初期外國洋商經常到臺灣接洽茶葉買賣（D）臺灣開港通商後到淡水可以看到最多裝載茶葉準備對外輸出的貨輪。
- 40.關於原住民族群與外來者的接觸與互動情形，下列敘述何者正確？（A）清代來臺漢人男子多不願娶平埔族群女子為妻（B）1958 年英法聯軍之後爆發的「大港口事件」，主因跟開發後山有關（C）清帝國統治時期因漢人不斷越界開墾，常導致漢原對立衝突（D）因臺灣平埔族群勢力強大，來臺漢人最後多被同化。
- 41.小鷺撰文敘述大臺北地區開發史，其中一段是：「陳賴章墾號」，這是由五位泉州人所組成，他們獲准開發「大加臘」一地，範圍涵蓋今天大臺北盆地中央部分，沿淡水河的兩岸，是中國閩南移民大規模開發北部的開始。下列敘述何者錯誤？（A）這類土地如要開發，採用的方式是吸引西方人投資（B）如要開墾該地必須向當地官府申請墾照（C）為增進此地農業生產，臺北盆地興建水利設施—瑠公圳（D）這個大水圳完工後使農產品產量大為增加。
- 42.西元 1865 年，英國蘇格蘭長老教會馬雅各在府城開辦看西街醫館，此處醫館、藥局和禮拜堂結合為一，為全臺灣第一間西式醫院。關於當時傳教士來臺的敘述，何者最為正確？（A）此時來臺的傳教士開啟臺灣西方醫學的發展（B）此時臺灣人排斥的只有基督教，在臺的天主教神父並不會遭受不當對待（C）因法國進犯臺灣北部，促使西方傳教士能來臺傳教（D）當時基督教的傳播僅限於臺灣南部。
- 43.清帝國時期，移民間常因資源有限，或語言、風俗習慣不同而發生武力衝突，造成臺灣社會不安。請問下列有關敘述何者最為正確？（A）因羅漢腳成群結黨，民眾為爭奪土地及水源還有官位因此引發械鬥（B）清廷實施劃界封山且來臺官員非常嚴苛，造成人民之間經常武力衝突（C）林爽文事件可視為當時最大規模的移民械鬥（D）咸豐 3 年，艋舺地區發





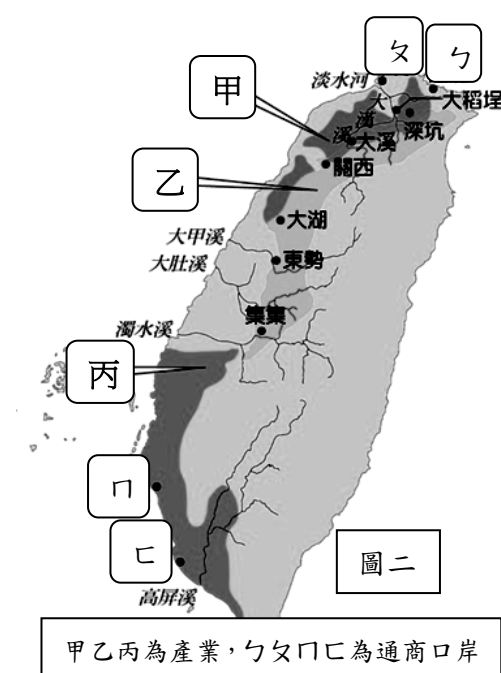
生「頂(泉郊)下(廈郊)郊拚」可歸類為因爭奪商業利益而引起的械鬥。

- 44.圖二為臺灣某一時期，茶葉、蔗糖、樟腦產業分布及新興市鎮位置圖。請問下列敘述何者最為正確？（A）茶葉、蔗糖、樟腦的產地分別位於圖中的甲、乙、丙（B）丙地物產堪稱臺灣出口歷史最悠久商品（C）這些輸出品主要經由行郊外銷到世界各地（D）外銷茶葉的郊商，因此成為臺灣社會的領導階層。

- 45.根據圖二，清代後期茶與樟腦的產地與新興城市，大多位於哪個地區、何種地形？

- （A）北部——盆地（B）東部——山區（C）中南部——山區與平原（D）中北部——丘陵與山區。

- 46.根據圖二，下列有關各通商口岸的敘述何者最為正確？（A）隨著口港口的開放，嘉南平原從此成為茶葉的主要產地（B）ㄅ、ㄆ兩大港口在英法聯軍時受到波及，曾有大量外國軍隊入侵該地（C）ㄅ、ㄆ、口、ㄈ四個港口於 19 世紀正式開放，成為當時國際貿易港（D）如要尋訪西班牙人傳播天主教的足跡，可至口、ㄈ兩地。



- 47.以下為基隆中元祭的資料：每年農曆 7 月，基隆都會舉辦盛大中元祭活動。中元祭起源於清代漳州人和泉州人先後來到臺灣開墾，常因……因素發生衝突。西元 1851 年(咸豐元年)，雙方再次發生衝突，……。除調和雙方衝突與淡化祖籍地域觀念外，也連帶普渡無主孤魂。此後，這種祭祀活動漸漸發展成由不同的姓氏輪流負責主祭，並舉辦中元普渡，讓無主孤魂早登極樂。根據上文，下列何者最為正確？（A）由各姓氏輪流主辦中元祭所反映的宗族組織特色，可知臺灣已逐漸由移墾社會轉變成定居社會（B）文中發生衝突的地點當時應是由彰化縣管轄（C）文中提到的衝突事件應該是「地方民變」（D）從中元祭的祭祀對象來看，當時的「羅漢腳」死後不會被納入普渡範圍。

- 48.時人稱「番勢」的李春生，自幼家境貧困，年少時跟隨父親到廈門經商，在當地習得英語與漢語，使他成為漢人與西方商人溝通的橋梁，因緣際會結識來自蘇格蘭的茶商約翰·陶德，協助他創出「臺灣烏龍茶」(Formosa Oolong) 品牌，……，李春生因此有了「臺灣茶葉之父」的美稱。李春生除經營事業以外，對傳教更是不遺餘力，他不僅是臺灣基督教長老教會的奠基者……更協助劉銘傳建設大稻埕，……。請問下列何者最為正確？（A）文中提及「番勢」李春生中的「番」應該是指熟番（B）李春生為臺灣基督教長老教會的奠基者，當時他最有可能跟馬雅各往來（C）因為與外商的貿易因此造就類似「李春生」這號買辦人物的出現（D）陶德可來臺經商主因是牡丹社事件後臺灣開港通商。

- 49.小莫家中有一本自祖先老莫來臺開墾後流傳下來的文件。老莫於文件中提到：「為祈求航行順利，船上除媽祖像以外，還有一路捧著的開漳聖王……」、「海上沒什麼有趣的，唯有航程中看見了特別的小島，小島側面的柱狀峭壁以灰黑色石塊組成，然而頂部卻看似平坦如桌。」請問下列有關敘述何者錯誤？（A）老莫應該是泉州人（B）老莫文件中提及所看到的「小島」應是澎湖群島（C）對小莫而言，老莫應該屬「開臺祖」的祭拜對象（D）從「柱狀峭壁與黑色石塊」判斷，老莫所看到的小島應為火山島特色的玄武岩島嶼。

- 50.阿德是出生在 1870 年代住在臺灣中部地區祖籍漳州的漢人，請問他的生活中最有可能出現下列何種經歷？（A）為參加科舉考試取得功名，前往書院就讀（B）參與施世榜興建八堡圳水利設施的行列（C）聽聞大肚王率領中部各社原住民起來與官府對抗（D）看到新式糖廠用縱貫鐵路運送蔗糖。

請再檢查一次  
寒假愉快

本試題卷結束