

命題教師：所有社會科老師 日期：5 月 12 日 第 4 節 班級： 座號： 姓名：

共 50 題，每題 2 分。

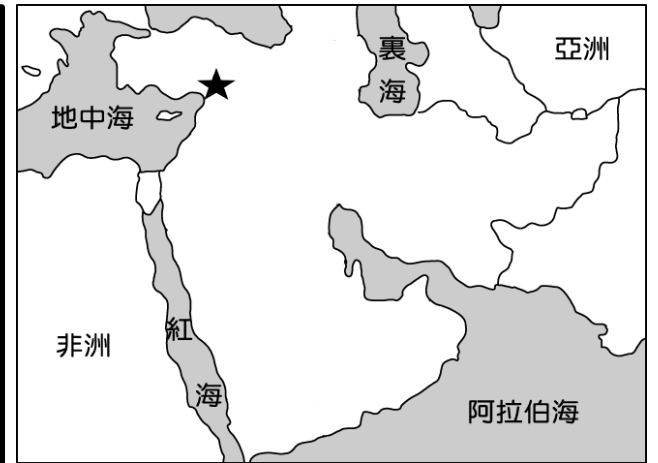
【地理部分第 01-17 題】

題組 1-4

2023 年土耳其—敘利亞地震，是指當地時間 2 月 6 日凌晨 4 時 17 分發生在土耳其南部接壤敘利亞邊境的強烈地震，其震央位置於圖(一)中★處。

地震發生當日，已造成 1,700 多人死亡。台灣政府為了把握黃金救援時間，立即分批派遣 130 名搜救隊員、5 隻搜救犬，以及各式搜救裝備前往救援，同時也宣布捐贈 200 萬美元賑濟災民。

台灣社會自發性展開捐款及物資的行動，截至 2 月 17 日，衛福部設置的賑災專戶已經湧入高達 9 億 1381 萬元的善款，折合美元約 3000 萬元。同時，民眾也響應土耳其駐台辦事處的號召，捐贈的救援物資超過 400 公噸。



圖(一)

- 由上述內容與圖(一)可知，該震央的發生地點最可能為下列何者？(A)安納托利亞高原 (B)阿拉伯高原 (C)伊朗高原 (D)美索不達米亞平原。
 - 地震發生的原因是因為該處位於板塊交接帶，故地震頻繁。請問：該地位於哪三個板塊交接帶？(A)阿拉伯—非洲—印澳 (B)歐亞—阿拉伯—印澳 (C)阿拉伯—非洲—歐亞 (D)歐亞—印澳—非洲。
 - 在土耳其駐台辦事處的捐贈建議清單中，特別提及因目前當地天氣的緣故，需要保暖的衣物(如毛衣、羽絨衣)、保溫瓶、雨衣…等，以便災民使用。根據上述內容，請問：下列哪一張氣候圖比較符合當地的氣候？(A) (B) (C) (D)
- 1 2 3 4 5 6 7 8 9 10 11 12 月

1 2 3 4 5 6 7 8 9 10 11 12 月

1 2 3 4 5 6 7 8 9 10 11 12 月

1 2 3 4 5 6 7 8 9 10 11 12 月
- 台灣搜救隊在當地購買熟食時，受到當地民眾熱情的服務，加量不加價。不過因為信仰的緣故，當地買不到內含豬肉或是酒精的食物。請問：當地主要信奉何種宗教？—改寫自 109 會考
(A)猶太教 (B)基督教 (C)印度教 (D)伊斯蘭教。
 - 庫德族人口約為 2,000 多萬人，是西亞第四大族。該民族命運多舛，如伊拉克的海珊政權時，遭受大規模迫害；而後該民族於 2018 年的敘利亞，慘遭 IS 恐怖組織大規模屠殺。該民族曾多次和周圍國家或政權出現紛爭，甚至引起戰亂。請問：引發戰亂最主要的原因為下列何者？
(A)爭奪石油資源 (B)河川水權畫分
(C)爭取自由民主 (D)領土問題爭議。

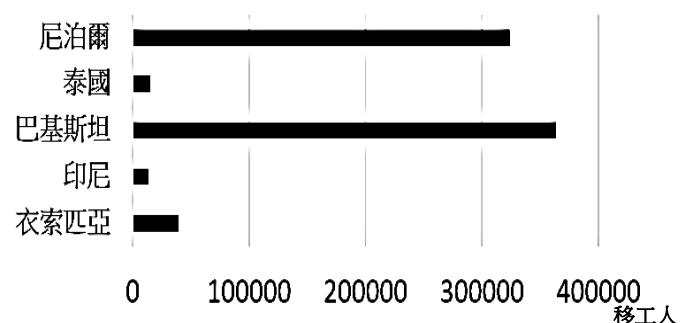
題組 6-7

- 附表(一)為世界各大洲石油礦物的探明可開採儲量。表(一)中以亞洲所占的儲量比重最高，其中西亞更是石油主要生產地。請問：目前該地區由於大量生產石油對外輸出，因此造成下列何種現象？
(A)西化明顯改信基督教 (B)貿易失衡造成外匯流失
(C)農牧業轉型為工商業 (D)農礦業發展引進大量移工。
- 承上題，因西亞本地勞工薪資昂貴，故從外地招聘外籍勞工至本地從事 3D(骯髒、危險、辛苦)行業。圖(二)為 2018 年西亞外籍移工主要來源國示意圖。請問：根據圖(二)，西亞的外籍移工主要來自哪個地區？—改寫自 106 會考
(A)東亞 (B)南亞 (C)北非 (D)東南亞。
- 西亞和北非當地的社會型態深受宗教影響。在早期傳統的宗教教義影響下，該地區境內許多活動對部分族群有很多限制，例如衣著限制、投票權、開車權等。請問：下列哪個族群受限最多，成為後來教義逐漸改革開放的受益者？
(A)幼兒 (B)老人 (C)男性 (D)女性。

洲別	儲量(百萬公噸)	%
亞洲	180,750	34.8
北美洲	120,222	23.2
歐洲	112,596	21.7
非洲	55,171	10.6
大洋洲	42,585	8.2
南美洲	7,728	1.5
世界	519,052	100.0

表(一)

2018年西亞地區外籍移工主要來源國

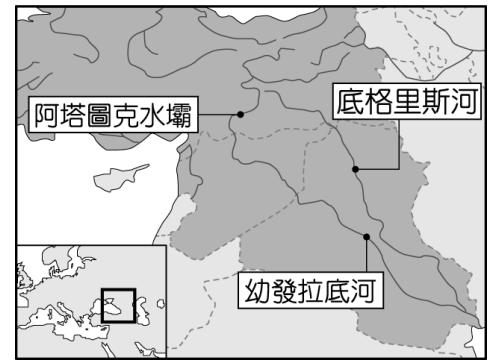


資料來源：國際勞工組織(International Labour Organization)

圖(二)

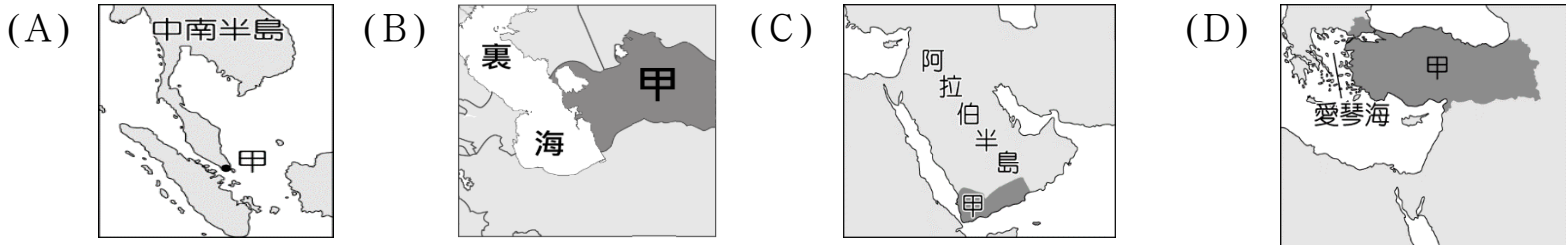
題組 9-10

9. 土耳其因在西亞地區重要河川-幼發拉底河與底格里斯河的上游修築水壩，如圖(三)所示，影響下游國家的民生及農工業用水，常與周圍國家發生水資源衝突。請問：關於兩河流域下游國家的農業特色，下列何者正確？



圖(三)

- (A)利用渠道灌溉發展農業 (B)挖掘深層地下水灌溉
(C)使用滴灌技術進行灌溉 (D)使用坎井引用地下水。
10. 承上題，上游國家對河川的開發時常會影響下游國家的用水權利，因此產生衝突。請問：下列哪一地區也發生過類似的水資源衝突？
(A)朝鮮半島 (B)中南半島 (C)南洋群島 (D)日本群島。
11. 長榮「長賜輪」於 2021.3.23 上午在蘇伊士運河擱淺，造成全球性的水路貨運堵塞，使得原本受到疫情衝擊的全球供應鏈更加脆弱不堪。位於西亞的甲國，因其所面臨的海峽與蘇伊士運河交通是否順暢息息相關，故深受『大排長榮』塞船事件影響。請問：下列何者是甲國正確位置的標示？ -改寫自 107 會考



題組 12-13

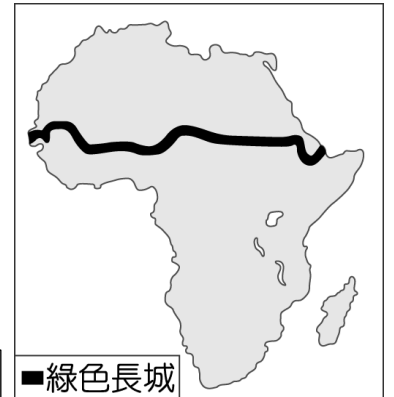
以色列全國 60 %土地是沙漠，利用滴灌技術將其變成良田。不僅如此，以國還有一套獨立收集與分配的基礎建設，專門用於處理過的廢水。除了「節流」之外，同時以國積極投入「開源」大計。以國在 1964 年發展海水淡化技術，開闢新的用水來源。如今，海水淡化占了以國工業及生活用水總用量 50 %以上。由於淡化技術精進，生產成本從每噸水台幣 24.65 元，大幅降至 12.32 元。

水資源缺乏的以色列，不僅解決自身的用水問題，還能靠出口水科技賺錢，成為各國借鏡典範。

12. 以色列位於地中海沿岸，但主要受到下列哪種氣候因素的影響，導致當地缺水問題嚴重？
(A)高氣壓籠罩 (B)山脈阻擋 (C)暖流通過 (D)焚風盛行。

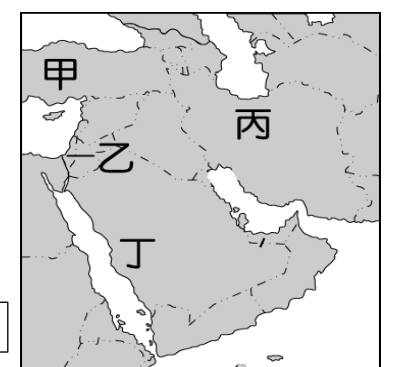
13. 該國「滴灌技術」直接把水和肥料送到植物根部，減少資源浪費與避免土壤鹽鹼化。請問：上述國家是何時降水量最多，較不需要以該技術彌補農作的水源短缺？(A)春季 (B)夏季 (C)秋季 (D)冬季。

14. 非洲的綠色長城計畫由非洲聯盟主導，概念源自於綠色前線、中國的三北防護林等大型綠色工程計畫。該計畫主要規劃種植一道寬 15 公里，長約 7,700 公里的樹牆，其分布位置如圖(四)。請問：該計畫的主要目的最可能是下列何者？-改寫自 111 會考補考



圖(四)

- (A)阻擋伊斯蘭教向南傳播的界線 (B)防止沙漠範圍持續向南擴張
(C)阻隔西亞的難民非法進入非洲 (D)有利當地進行傳統游牧活動。
15. 以色列近日爆發有史以來最大規模的抗議與罷工行動，主要源於以色列人民認為總理納坦雅胡所提出的司法改革可能危害司法系統以及民主制度。同時，此一司法改革將使巴勒斯坦人的處境更為艱難，使得以色列潛在的以巴問題更為激化。請問：若記者欲做當地最真實報導的現況，最可能前往圖(五)中何處？
(A)甲 (B)乙 (C)丙 (D)丁。



圖(五)

16. 驚江旅行社推出『杜拜奢華頂級八日』。該行程標榜-入住五大奢華飯店(包含世界唯一一間八星級酒店、帆船酒店)、阿聯酋航空豪華商務艙、法拉利樂園、哈里發塔下午茶...。請問：杜拜發展觀光業最主要的目的為何？

- (A)多元經濟發展 (B)體驗阿拉伯傳統生活 (C)強化伊斯蘭信仰 (D)拓展國防外交。
17. 馬格里布在阿拉伯語的意思為「日落之地」，現在指的是摩洛哥、阿爾及利亞和突尼西亞...北非三國的代稱。在這個區域有一種料理方式被稱作「塔吉」。其烹調方式利用塔吉鍋尖塔狀的鍋蓋讓上升水氣得以更迅速的凝結回流，達到以少量液體即能悶煮食材。而通常出現在塔吉料理中的食材有椰棗、杏桃...等果乾，所以該料理嚐起來鹹中帶甜。請問：根據上述內容，下列何者敘述正確？
(A)此區因為氣候濕熱，故盛產杏桃、椰棗 (B)因信奉伊斯蘭教，塔吉料理中不加牛肉
(C)此區受到氣候乾燥，故發展出省水鍋具 (D)因此區多信奉基督教，故不食用血製品。

【歷史部分第 18-34 題】

18. 小靜發現曾祖父的日記本裡夾了一張鈔票，那一頁的日記裡寫滿了當年生活的辛苦。請問小靜曾祖父那張鈔票的時代背景為何？

- (A)軍閥割據
- (B)十年建設
- (C)八年抗戰
- (D)國共內戰。



19. 阿龍買了最新的電玩《臺北大空襲》(如圖)，玩到一半發現歷史課有教過，請問電玩故事的發生背景是？

- (A)甲午戰爭
- (B)第一次世界大戰
- (C)中日戰爭
- (D)國共內戰。



20. 毛澤東曾題了一首七言律詩：「紅軍不怕遠征難，萬水千山只等閒。五嶺逶迤騰細浪，烏蒙磅礴走泥丸；金沙水拍雲崖暖，大渡橋橫鐵索寒；更喜岷山千里雪，三軍過後盡開顏。」請問：最後「紅軍」進行「遠征」到何處？

- (A)陝西省延安 (B)河北省北平
- (C)遼寧省瀋陽 (D)江西省瑞金。

21. 曾有一位將軍在民國 38 年抵達臺灣後，就被政府陸續安排住在新竹縣、高雄壽山、西子灣，後來又被安排到臺北市北投，最後移居到北投復興崗，直到民國 79 年才被李登輝總統釋放重獲自由。他曾在 95 歲生日時說：「回憶近一個世紀的人生歷程，我對 1936 年發動的事變無悔。」請問關於這位將軍的經歷，下列何者正確？

- (A)他屬於中國西北地區的軍閥 (B)日本曾經設計殺害他的父親
- (C)他與國民革命軍戰敗後歸順國民政府 (D)堅持「攘外必先安內」因此挾持蔣中正。

22. 1930 年代日本軍國主義勢力抬頭，日本藉著擴張取得經濟資源，下列何者屬於當時的對外侵略行動？

- (A)牡丹社事件 (B)甲午戰爭
- (C)九一八事變 (D)霧社事件。

23. 小君研究民國初年的財政問題時，發現有一段時期，當時的關務署積極與各國談判關稅自主權的問題，最早是與美國簽訂《中美關稅條約》，接著又與歐洲等國簽訂「友好通商條約」或「關稅條約」，甚至日本也簽署了《中日關稅條約》，承認了新稅則的存在。請問以上關稅問題的調整應是發生在下列哪一時期？

- (A)軍閥割據 (B)十年建設
- (C)八年抗戰 (D)國共內戰。

24. 班上幾位同學熱烈在討論歷史，阿元說：「當初黃埔軍校的創辦就是受到他們的協助。」小君補充說：「對呀！但其實民國 10 年他們的思想早就已經深入中國。」阿傑說：「但聽說他們阻止了蔣中正被殺害！」小俐說：「最後他們還不是讓蔣非常頭大嗎？所以當時的國際關係沒有你們想的那麼簡單啦。」請問「他們」是指哪一個國家？ (A)蘇聯 (B)美國 (C)日本 (D)英國。

25. 國民政府曾有一段時間是由中國國民黨一黨專政，政府對人民的自由權雖有保障但可以依法限制，當時引起一番輿論批評，但這其實是根據孫中山〈建國大綱〉的哪一時期安排？

- (A)革命時期 (B)軍政時期
- (C)訓政時期 (D)憲政時期。

26. 阿棠發現不管從臺灣史、中國史或東亞史的角度來看，蔣中正在歷史上確實有其重大的影響力。以下是蔣中正曾經歷的事情，請按先後順序排列：

- (甲)與羅斯福、邱吉爾在開羅會面 (乙)與孫中山主持黃埔軍校開學典禮
- (丙)與毛澤東在重慶協商談判 (丁)與國民革命軍在廣州誓師北伐
- (A)乙丁甲丙 (B)乙丙丁甲 (C)丙丁乙甲 (D)丙乙丁甲。

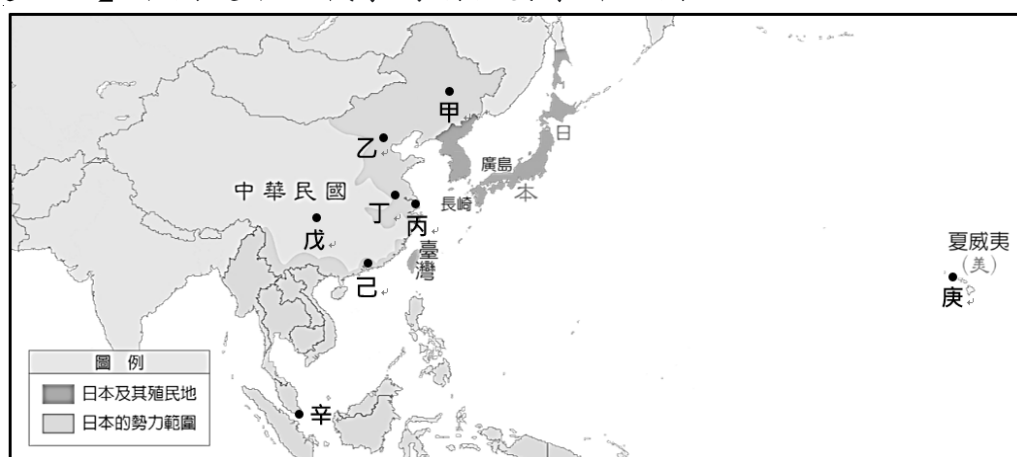
【題組一】

八年級的小恩熱衷於民國初年的歷史，課堂上聽得不夠，還在網路上到處查資料：

4月12日凌晨，被蔣介石雇用收買的大批青紅幫武裝流氓從上海租界衝出，向分駐上海總工會等處的工人糾察隊發動突然襲擊，工人糾察隊在毫無戒備的情況下，被國民革命軍第二十六軍強行繳械，殺傷300多人。13日，上海總工會召開工人大會，聲討蔣介石的反革命罪行。會後，工人群眾到寶山路國民黨二十六軍周風岐部請願。當請願群眾走到寶山路時，早已埋伏等候的二十六軍士兵向密集的人群掃射，當場打死100多人，傷者不計其數。接著，蔣介石下令解散上海總工會，查封革命組織，到處搜捕共產黨員和革命者。這就是震驚中外的「四一二反革命政變」。(節錄自中共中央統戰部網站)(註：蔣介石=蔣中正)

27. 請問根據小恩在課堂所學，這段中國網站資料應該在講下列哪個事件？
 (A)聯俄容共 (B)清黨
 (C)西安事變 (D)國共內戰。
28. 小恩閱讀後，產生了以下想法，請問哪一項是錯誤的？
 (A)當初是孫中山答應要聯俄容共 (B)讓中共黨員以個人身分加入中國國民黨
 (C)這是國共兩黨第一次決裂 (D)事後蔣中正將國民政府遷往武漢。

【題組二】下圖是中日戰爭時期重要事件地圖：



29. 中日戰爭期間，國民政府為了做長期抗戰，曾經遷都作為因應，請問哪一條遷都路線是正確的？
 (A)丙→戊 (B)丁→戊 (C)乙→丁 (D)丙→丁。
30. 「甲」地因地理位置佳、資源豐富而遭到列強覬覦。請問關於「甲」地的資訊下列哪一項錯誤？
 (A)民眾被教導效忠溥儀就是效忠日本天皇
 (B)也是非人道活體實驗的部隊駐紮地
 (C)開羅宣言呼籲此地區應歸還給中華民國
 (D)在抗戰結束後當地的特權將歸日本所有。
31. 小蓉想起課堂上老師提過日軍的一連串行動：「在盧溝橋上發動攻擊、轟炸上海、展開大屠殺、轟炸新加坡」，請問上述行動依序發生在地圖上的哪些地點？(請依地圖代號排序)
 (A)甲丁丙己 (B)乙丙丁己 (C)乙丙丁辛 (D)甲丁丙辛。
32. 「庚」地曾經遭受日軍重大襲擊而影響整個戰局，請問關於此次的重大襲擊何者敘述錯誤？
 (A)日本發動奇襲是為了掠奪戰爭資源 (B)開啟了二戰的太平洋戰場
 (C)這場攻擊反而讓中國獲得了盟友 (D)隔年日本遭原子彈攻擊報復。

【題組三】

下文擷取自一位中國現代作家的回憶錄，他的一生中經歷過許多戰爭，他曾寫下一段故事：

有一個青年對他的母親說：「我已經十八歲了，不應該留在家裡，我要去參加抗戰。」母親非常感動，問他打算跟誰一起。他說：「我去參加八路軍，您看好不好？」母親說：「很好！很好！」動手為兒子準備行李。

三年以後，這個青年的弟弟對母親說：「我也十八歲了，我要去參加抗戰。」母親非常感動，問他打算跟誰一起。他說：「我去參加中央軍，您看好不好？」母親說：「很好！很好！」動手為兒子準備行李。

可憐的老百姓，可愛的青年，他們怎能預料，他們以後用很多很多時間互相廝殺。

(註：八路軍是共產黨的軍隊，中央軍是國民政府的軍隊。)

33. 作者在故事中提到：「他們以後用很多很多時間互相廝殺。」指的是哪一件史事？
 (A)軍閥割據 (B)剿共戰爭 (C)清黨 (D)國共內戰。
34. 承上題，兄弟廝殺的過程中應該會遇到哪一事件發生？
 (A)蔣中正當選行憲後第一任總統 (B)國民政府在廣州成立
 (C)國民政府與英美等國簽訂平等新約 (D)國民政府發行法幣。

【公民部分第 35-50 題】

35. 依據(圖 1)中兩人的對話，推斷建智最可能被法院科處的主刑，應為下列何者？

- (A)拘役
- (B)褫奪公權
- (C)有期徒刑
- (D)罰金。

(圖 1)

建智的律師

因為我的爭取，法院讓你保有自由。



會有這樣的結果，是因為法官英明睿智。

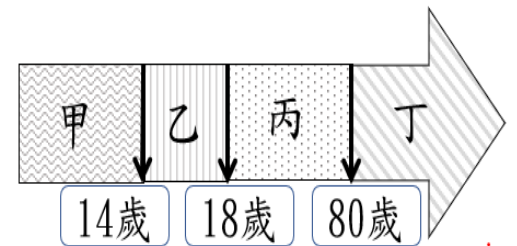
建智



36. 志明常年在家照顧文雄。文雄由於中風而不良於行，他的所有生活起居都要靠志明幫忙，且文雄還時常言語責罵志明，志明最後不堪勞累及情緒的負荷，以枕頭將文雄悶死。最後法官判決結果是志明得減輕其刑。請問：志明的年齡可能是(圖 2)中的哪兩個範圍？

- (A)甲乙(B)乙丁
- (C)乙丙(D)甲丁。

(圖 2)



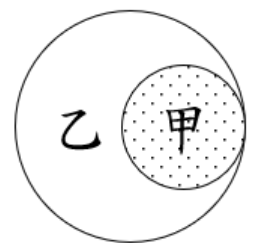
37. 15 歲的莉娜忌妒香蓮比她聰明、漂亮，趁香蓮上廁所時，把她反鎖在廁所裡一小時，讓香蓮無法參加校內的英文演說比賽，也同時讓香蓮得到幽閉恐懼症。以下是莉娜對待香蓮的法律敘述，何者正確？

- (A)莉娜只是惡作劇，沒有違法 (B)莉娜的行為，只有犯罪，沒有違法
- (C)莉娜的行為，是犯罪也是違法 (D)莉娜的行為，只有違法，不會受到刑法處罰。

38. (圖 3)中分別就違法、犯罪的部分，使用圖示的方式界定出他們之間的範圍。請問：為何違法不一定是犯罪？

- (A)因為甲的範圍是違法
- (B)因為乙的範圍是犯罪
- (C)因為乙的範圍還有沒被甲重疊的地方
- (D)因為甲的範圍與乙的範圍完全重疊。

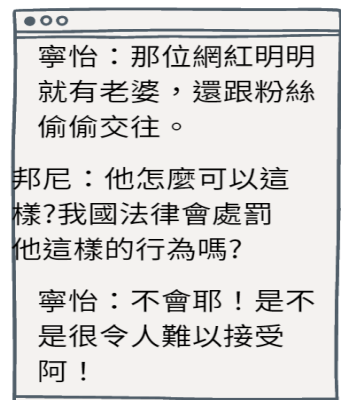
(圖 3)



39. (圖 4)是寧怡與邦尼對於某則網路新聞進行討論的對話。為何寧怡回應邦尼說：「我國法律不會對這名網紅的此種行為處罰」是依據以下何項原則？

- (A)誠實信用原則
- (B)罪刑法定原則
- (C)契約自由原則
- (D)無罪推定原則。

(圖 4)



40. 近來新北市各地的果菜市場攤販收到假鈔的事件頻傳，經過司法單位循線，發現假鈔的源頭是來自於一位魔術師。由於他善於印製魔術玩具鈔，進而演變成印製「假鈔」。警察經由上級主管指揮偵查案件，終於破獲此案，逮捕魔術師並且將查獲的假鈔全數帶回警局。以下有關此案件的敘述何者正確？

- (A)魔術師印製的假鈔是屬於魔術師的財產，法院不能沒收
- (B)法院判決魔術師有罪時，才可以宣告沒收他印製的假鈔
- (C)不須等待法院判決魔術師有罪時，就可以宣告沒收假鈔
- (D)我國刑罰的沒收是從刑的一種，法官不可單獨宣告沒收。

41. 兩津發現路邊有一台重機，剛好沒拔鑰匙，起了偷竊的歹念，想將重機據為己有，然而途經十字路口時，不慎撞上大原所長，所幸只造成大原所長輕微擦傷，請問下列關於訴訟的敘述何者正確？

- (A)兩津與重機車主的調解程序若成立，他就不會被國家追訴處罰
- (B)檢察官不須經過大原所長請求，即可偵查大原所長被撞傷的事
- (C)大原所長若撤回告訴，兩津就不會因為撞傷所長而受刑事判決
- (D)看到此車禍的路人，打電話到警察局報案，在法律上稱為告訴。

42. 吉永在聊天群組上說美冪年輕的時候是個敗金女，美冪憤而向檢察官訴說此事，但檢察官認為情節輕微，所以不起訴吉永，於是美冪利用(圖 5)的程序，請求法院審理此事，請問：(圖 5)最可能是以下何種程序？

- (A)公訴
- (B)自訴
- (C)告發
- (D)告訴。

(圖 5)



43. 請根據(圖 6)黑板上的內容判斷，老師正在介紹以下何項法律？

- (A)《刑事訴訟法》
- (B)《中華民國刑法》
- (C)《民事訴訟法》
- (D)《民法》。

(圖 6)



44. 玲奈在臉書上購買二手的蘋果手機，她依賣家的指示到便利商店購買遊戲點數後，賣家以網路異常，無法入帳作為理由，請玲奈提供銀行帳號先予以退款。事後玲奈發現自己的銀行帳戶被凍結，過沒幾天後，她就收到警察通知，說她涉及詐欺罪，須到地方法院檢察署接受訊問。請問：以下有關此事的刑事追訴過程，何者正確？

- (A)玲奈收到法院通知後，被檢察官認為犯罪嫌疑重大，被提起自訴
- (B)被害人向警察局報案，請求警察機關對事進行調查，稱為告發
- (C)此事須被害人提出告訴，檢察官才能起訴犯罪嫌疑人
- (D)玲奈無法透過調解或請求原告撤回訴訟的方式，解除訴訟麻煩。

【題組一】

林男與鐘女是夫妻，二年前，林男想要買新車時，找妻子問 500 萬的退休金去向，才得知已在股票市場賠光。此後，他們常為了錢的事情爭執，某日林男與鐘女一起到廟裏面拜拜祈福的過程中，二人為了投資失利的事情又發生爭吵，林男以掃把柄毆打鐘女，朋友見狀出來攔阻林男的行為，但鐘女已被嚇得不敢回家，只好向廟方借宿，隔日廟方發現鐘女生命跡象微弱，緊急送醫仍喪命。目前司法機關已派員對此事進行調查。請依據以上的敘述，回答 45~47 的問題：

45. 林男涉嫌以掃把柄毆打鐘女導致鐘女因此死亡的事情，若最終被法院判決是傷害致死罪，請問：此罪名是侵犯刑法的何種法益？

- (A)政府法益 (B)國家法益
- (C)社會法益 (D)個人法益。

46. 鐘女的家屬向媒體表示，林男長年毆打鐘女，如今不幸打死了鐘女，請求法院對林男判處死刑，一命賠一命，天理應當。從鐘姓家屬對法院的請求，顯示出刑罰的何種目的？

- (A)處罰犯罪 (B)預防犯罪
- (C)矯正犯罪 (D)智慧犯罪。

47. 林男涉嫌毆打鐘女致死的事情，若是廟方向相關機關報案，並陳述事發經過。請問：廟方為鐘女的事，向警察機關報案的舉動是屬於以下何種程序？

- (A)告發 (B)告訴 (C)自訴 (D)自首。

【題組二】

蠟筆小新到福利熊的賣場買怪獸餅乾，離去時觸動防盜鈴，於是福利熊衝上前拿出購物袋套住蠟筆小新的頭阻擋其視線，並將其撲倒在地並痛毆一頓，由一旁的店員撥打 110 報警。在警察抵達賣場前，福利熊要店員在紙上寫著「我是小偷」字樣的紙張貼在蠟筆小新的背上，並按下收銀機旁預錄好的錄音，「請支援抓小偷」並且廣播表示：「我們終於抓到長期偷竊怪獸餅乾的小偷了」。請回答 48~50 的問題：

48. 依本題組敘述的事件背景，福利熊對蠟筆小新所做的一切行為，違反以下何項原則？

- (A)契約自由原則 (B)誠實信用原則 (C)罪刑法定原則 (D)無罪推定原則。

49. 依本題組敘述的事件背景，當警察局接獲福利熊賣場的報案後，應將此案件的相關資料交付給以下何者，由其決定是否起訴蠟筆小新？

- (A)檢察官 (B)法官 (C)書記官 (D)律師。

50. 福利熊要店員將寫著「我是小偷」字樣的紙張貼在蠟筆小新的背上，若蠟筆小新經由法院判決證實不是小偷，則福利熊及其店員的行為可能構成誹謗罪。以下有關告訴乃論與非告訴乃論的敘述，何者正確？

- (A)誹謗罪是告訴乃論，所以被害人須向法院請求追訴犯罪，國家即須主動追訴
- (B)誹謗罪是告訴乃論，所以被害人須主動向法院請求追訴犯罪，國家才會進行追訴
- (C)誹謗罪是非告訴乃論，所以被害人須向法院請求追訴犯罪，國家即須主動追訴
- (D)誹謗罪是非告訴乃論，所以被害人須主動向法院請求追訴犯罪，國家才會進行追訴。

本試題卷結束