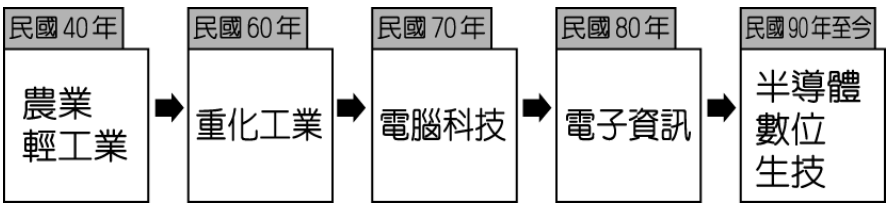


新北市立鷺江國民中學 111 學年度 第 2 學期 7 年級 社會 科 第 2 次段考 題目卷

命題教師：社會科教師群 日期： 5 月 12 日 第 4 節 班級： 座號： 姓名：

【地理部分】第 1-17 題

1. 臺灣各階段的主要產業類別如附圖所示，根據圖中資料判斷，下列有關產業發展的敘述何者最為正確？

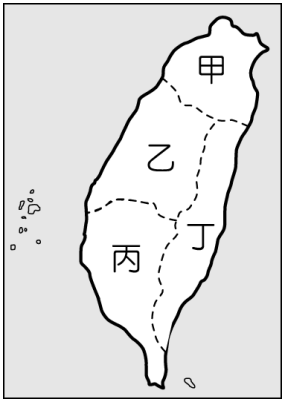


- (A)所需勞動人口數逐漸增加 (B)國家經濟發展程度下降  
(C)產品附加價值愈來愈低 (D)產業發展由需大量低廉勞工轉向資本密集度高。

2. 臺灣的糖廠多分布在臺中以南的甘蔗產區，選擇這種工業區位的主要目的為何？

- (A)均衡工業發展 (B)擴大消費市場 (C)減少工業汙染 (D)降低生產成本。

3. 蔬果、花卉等園藝作物，由於保鮮期短，為防止腐爛的情況發生，因此生產銷售中心必須位於交通的中心點。由此推論，臺灣本島蔬果、花卉等農產品的生產銷售中心位於附圖中哪一個區域？



- (A)甲 (B)乙 (C)丙 (D)丁。

4. 阿成早年在港口旁加工出口區工作，從事鞋類膠底縫合項目，這些加工出口區主要以何種工業活動為主？

- (A)重工業 (B)輕工業 (C)資訊產業 (D)石化工業。

5. 行政院農委會為推廣臺灣的優質作物，舉辦「臺灣稻米達人冠軍賽」，來自全臺各地的農夫紛紛使出渾身解數，希望能為家鄉博得好彩頭。請問：若依其生長條件而言，較適合該作物種植的地形區為下列何者？

- (A)宜蘭平原 (B)新竹丘陵 (C)中央山脈 (D)澎湖群島。

6. 附表是某年度牡丹國與甲、乙、丙、丁四國進出口貿易值資料。請問：該年牡丹國對哪一國家的「出超」最大？

國家	甲	乙	丙	丁
貿易值				
進口總值（億美元）	285	103	34	82
出口總值（億美元）	141	278	58	66

- (A)甲 (B)乙 (C)丙 (D)丁。

7. 去年在高雄舉辦的「臺灣國際漁業展」中，許多傳統養殖漁業業者紛紛推出新商品，如：冷凍龍膽石斑、龍虎斑、鱸魚精及膠原蛋白果凍等加工產品，讓傳統養殖漁業重啟第二春，更加發達。請問：其主要成因為下列何者？

- (A)生產技術進步 (B)魚塭面積增加 (C)引進外籍漁工 (D)遠洋漁船增加。

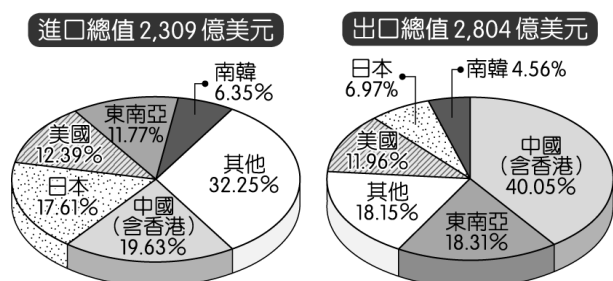
8. 台灣產業出口導向，國際貿易發展熱絡，產品品質廣受各國歡迎，請問下列答案中哪項項目不是我國出口主要項目？

- (A)電子晶片 (B)電腦周邊產品 (C)鐵礦砂 (D)手機零件。

9. 臺灣的水果不但種類多且品質優良，在國際市場上大受歡迎。請問：臺灣水果種類多的原因為何？

(A)集約度高 (B)市場廣大 (C)生產成本低 (D)地形氣候多樣。

10. 附圖為民國 105 年臺灣主要的經貿夥伴及其進、出口貿易值比例圖。由圖中可看出臺灣對何地貿易的入超情形最嚴重？



(A)美國 (B)中國 (C)日本 (D)東南亞。

11. 臺灣加入世界貿易組織 (WTO) 後，對農業經營的衝擊很大，為因應此狀況，未來最適合的農業發展方向為何？

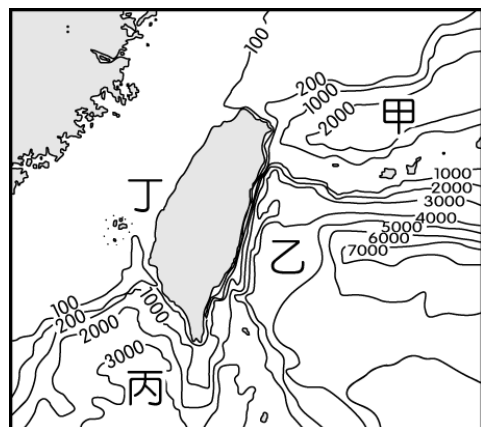
(A)粗放經營以降低成本 (B)建立品牌及行銷，提升農產品的價值  
(C)設法開闢山林，增加耕地面積 (D)推廣農業機械化，以增加農產。

12. 亞洲水泥公司在花蓮縣山區開採石灰岩製成水泥，砂石體積大加上重量大，請問此產業活動是屬於哪一個工業區位？ (A)勞工 (B)市場 (C)原料 (D)動力。

13. 民國 60 年代時，臺灣為發展重工業，亟需相關的原料及動力資源，於是由國外引進礦產。請問：當時煤、鐵、石油等礦產主要由港口輸入，所以鋼鐵廠設在港口旁，這屬於是哪一項工業區位？

(A)勞工 (B)市場 (C)交通 (D)原料。

【題組 14-15】臺灣自古以來海上活動相當發達，包括南來北往的航運業、漁獲肥美的漁撈業等，都成為沿海居民的主要收入來源。附圖為臺灣海域等深線圖（單位：公尺）。請回答下列問題：



14. 臺灣的大陸棚主要分布於附圖中的何處？ (A)甲 (B)乙 (C)丙 (D)丁。

15. 臺灣有利於漁業發展的自然條件，不包括下列何者？

(A)海岸平直 (B)島嶼眾多 (C)洋流交會 (D)海岸線長。

【題組 16-17】臺灣的經濟發展被喻為經濟奇蹟，各時期的工業歷經多次轉型的過程，才造就今日臺灣的經濟榮景。

請回答下列問題：

16. 臺灣自民國 50 年代開始，工業活動逐漸發達，成為經濟發展的基礎。請問：在民國 56 年時，何種工業活動的發達使得第二級產業活動超越了傳統的農牧業？

(A)輕工業 (B)生物科技 (C)電子產業 (D)重工業。

17. 「民國 60 年代，臺灣工業活動首次和第三級產業活動並列。下列何者是當時主要發展的工業活動之一？

(A)電子工業 (B)石化工業 (C)紡織工業 (D)奈米科技。

【歷史部分】第 18~34 題

18. 小雨的阿媽在 1930 年代曾就讀和尚洲公學校，因此小雨做了一份訪問她的作業。但是阿媽年紀大了，小雨發現有一個地方並不符合史實，可能是記憶有錯誤。根據妳對日治時期的了解，錯誤的部分應是下列何者？
- (A) 我在學校裡認識了很多日本同學 (B) 當時不是每個臺灣人都有去學校念書 (C) 我在學校學會了日本話，和怎麼看「標準時間」 (D) 老師說要守法、守時，也有告訴我們放足的重要性。

19. 老師讓同學就右圖的史料進行討論，請問下列四位同學的發言，哪一位所說的內容才符合史實？



- (A) 小鹿：這是臺灣民眾黨所發行的報紙  
(B) 小雪：這份報紙是光復初期發行的報紙  
(C) 小峰：這份報紙常常支持臺人的政治運動  
(D) 小雨：這份報紙對民族自決的潮流持反對立場
20. 小美看到一本臺灣歷史漫畫書，裡面的主角坐著時光機回到日治時期，請問下列何者最可能是該主角看見的情境？
- (A) 保正與甲長在街上宣傳纏足的好處 (B) 參加媽祖廟進香的信徒正在火車站依照時刻表搭車  
(C) 總督府已全面禁止販賣與吸食鴉片 (D) 全臺各地不論城鄉都有自來水、咖啡廳等現代設施

21. 右圖是 1935 年《臺灣日日新報》的頭版報導，請問對這份史料的解讀，下列何者不符合史實？



- (A) 可見臺灣議會設置請願運動最後終於成功  
(B) 證實了日治時期的臺灣人已經有選舉經驗  
(C) 反映了「臺灣地方自治聯盟」努力的成果  
(D) 總督府對於這次的選舉只開放了半數民選
22. 老師想請同學到收集與日治時期歷史相關的古蹟景點進行分組報告，請問同學可以選擇下列哪些地點進行介紹？ (甲) 國立臺灣大學 (乙) 自來水博物館 (丙) 二二八國家紀念館 (丁) 臺中一中 (戊) 景美白色恐怖紀念園區 (A) 甲乙丙 (B) 乙丙丁 (C) 甲乙丁 (D) 甲丁戊。
23. 2019 年上映並引起廣大關注的電影《返校》，以臺灣某一時期為背景，主角為參加學校讀書會的部分師生，呈現他們因為閱讀政府列為禁書的書籍，最後被逮捕處死的故事。根據你對那個年代的了解，請問下列關於這部電影的理解，何者有誤？ (A) 當時的臺灣屬於戒嚴時期 (B) 當時的政府對於共產黨非常的防範 (C) 電影呈現了白色恐怖時期公權力的可怕，以及人人互不信任的氣氛 (D) 電影中的師生是被台灣省行政長官公署逮捕。
24. 小新嘗試使用 ChatGPT(聊天機器人)了解「白色恐怖」，結果發現搜尋出來的內容有許多錯誤。請問以下內容中，只有哪一個訊息是符合史實的？ (A) 指日治時期對台灣人的迫害 (B) 受難者都是本省族群 (C) 人民批評政府可能會被逮捕 (D) 二二八事件就是例證。

25. 右表是民國 60 年代末政府舉辦某事件的大審時，審判長和某雜誌總經理施明德的對話。請你根據對話內容，判斷這份雜誌應是下列何者？ (A) 《美麗島雜誌》 (B) 《自由中國》 (C) 《臺灣獨立》 (D) 《時代周刊》。

審判長：當初你們五人一起討論要辦雜誌嗎？

施明德：辦雜誌是其中一項。

審判長：目的是什麼？

施明德：我們辦雜誌目的是要求政府改善人民生活狀況及民主政治等問題。其中包括黨禁、報禁、戒嚴令及「萬年國會」。

26. 小青想以日治時期臺灣人的政治社會運動作為主題進行研究，請問下列哪些資料對他的研究最有幫助？
- (甲) 《林獻堂傳》 (乙) 《美麗島事件史料彙編》  
(丙) 《臺灣民報》 (丁) 《動員戡亂時期臨時條款》  
(戊) 《自覺的年代：臺灣民眾黨紀念特展專輯》
- (A) 甲乙丙 (B) 乙丙丁 (C) 甲丙戊 (D) 甲丁戊。



【題組一】小宇看到電視上正在播放一個專題報導的節目，他看到以下的畫面。請根據圖片內容回答相關問題：



27. 他所看到的這個專題報導節目，主題最可能是下列何者？  
 (A) 民主進步黨的崛起 (B) 三月學運改變了什麼  
 (C) 威權體制下的政黨輪替 (D) 原住民運動的漫漫長路。
28. 這些報導中出現的活動，反映下列哪一事件對臺灣社會帶來的重大改變？  
 (A) 臺灣光復 (B) 解除戒嚴 (C) 總統直選 (D) 終止動員戡亂時期。

【題組二】蔣渭水曾在1921年為「臺灣」這個病人開了一份病歷診斷書，部分內容如下：

※病情陳述：大致上有這麼一個病人，診察時發現按其身體比例，應該算是一個大頭，想必有很強的思考力。問了兩三個常識問題，其回答皆不得要領。這病人也許是愚蠢或低能兒吧！其頭骨雖大，而內容至虛，腦髓不足。問他稍為困難的哲學問題、數字問題、科學問題，或是世界局勢，他一聽了就目眩頭昏。

※診斷：世界文化的低能兒

※原因：智識之營養不良

29. 根據你對日治時期的了解，下列何者不是導致這份診斷書中臺灣得到此種病症的原因？  
 (A) 總督府實施差別待遇，隔離政策 (B) 總督府並未設立學校讓臺人就讀  
 (C) 臺人的初等教育入學率長期不高 (D) 日本在臺灣地區僅設立一所大學。
30. 請問下列哪一個臺灣知識份子所成立的團體，主要宗旨就是為了積極「治療」此種病症？  
 (A) 臺灣民眾黨 (B) 臺灣文化協會 (C) 臺灣地方自治聯盟 (D) 臺灣議會期成同盟會。

【題組三】1947年，臺灣的《民報》社論出現以下內容，請閱讀後回答相關問題：

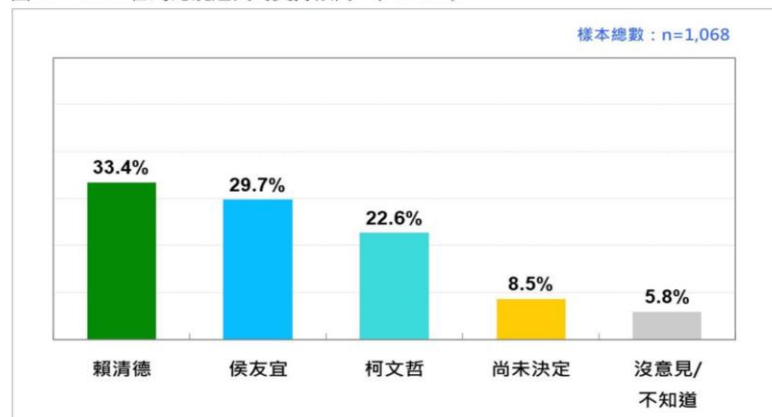
最近物價突變地在高漲，整個的社會在震盪著，人民生活極端困苦，…社會階層的分化和對立，這是社會不安的根源。這個趨勢走到極端，便會變成整個社會的動亂。

31. 請問這篇社論所反映的社會亂象，當時哪一位治理臺灣的行政長官應負起最大的責任？  
 (A) 蔣中正 (B) 蔣經國 (C) 李登輝 (D) 陳儀。
32. 除了文章中所提到的物價飛漲，當時的政府還有哪些地方使人民不滿？  
 (甲) 部分官員貪污腐敗 (乙) 政府人員多數任用外省人士  
 (丙) 政府實施經濟管制、米糧短缺 (丁) 學校教育實施差別待遇、隔離政策  
 (A) 甲乙丙 (B) 甲丙丁 (C) 乙丙丁 (D) 甲乙丁。
33. 社論最後的擔憂沒想到後來竟然成真，請問下列哪一事件就是在這種背景下所爆發的？  
 (A) 霧社事件 (B) 雷震事件 (C) 二二八事件 (D) 美麗島事件。
34. 請問這個衝突後來造成的最大影響是下列何者？  
 (A) 使政府後來決定開放臺灣省長直接民選  
 (B) 造成臺灣地區不斷有叛亂發生，難以統治  
 (C) 使臺灣人大量移民外國，不願居住在臺灣地區  
 (D) 造成本省人與外省人之間長期存在偏見與隔閡。

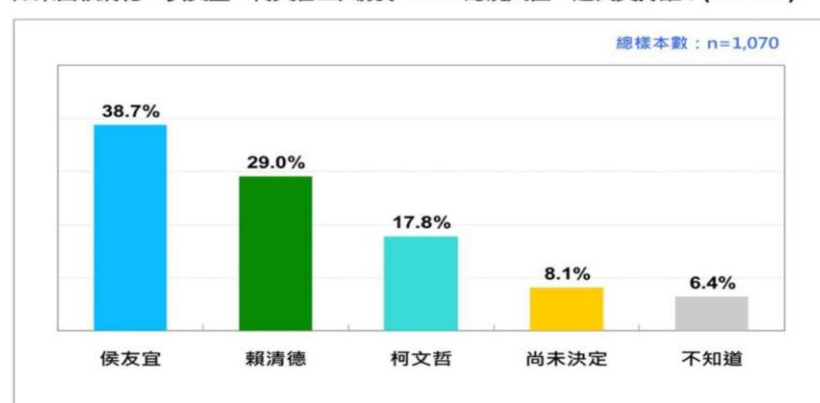
【公民部分】第 35~50 題

35. 2024 總統選舉競爭又出現新的變化，選情有繃緊的現象，三位主要候選人彼此間差距都明顯縮小。從另一個角度看，這意味著現階段總統選民的偏好和支持傾向容易受外在環境的影響而改變。如附圖內容所示，此顯示公共意見的何種特性？(A)差異性 (B)影響性 (C)公開性 (D)不穩定性。

圖 27：2024 台灣總統選民的支持傾向 (2023/4)



如果由賴清德、侯友宜、柯文哲三人競爭 2024 總統大位，選民支持誰？(2022/12)



(圖／台灣民意基金會提供)

36. 在社群媒體網路發達的時代，許多真假不明的訊息快速流傳，因此該如何辨別「假訊息」，是現代公民應具備的能力。下列何項作為無助於辨別假訊息？  
(A)查詢報導來源 (B)只要是公眾人物提供的資訊就可以相信  
(C)向專家求證或查詢相關網站(D)確認發布日期與時間。



37. 下列團體是大谷祥平加入的四個團體，請問何者不屬於志願結社？  
(甲)參加鷺江國中七年級溼地探索活動 (乙)下課後去「棒球好友社」  
(丙)假日參加慈濟的環保回收服務活動 (丁)參加 2023 海軍陸戰隊新兵訓練。  
(A)甲乙 (B)乙丙 (C)丙丁 (D)甲丁。

【題組 38-41】請閱讀以下新聞，回答相關問題：

東非狒狒之死全台關注，六福村去年才被揭露園區 10 年內死了 8 隻長頸鹿，如今再發生狒狒脫逃遭射殺事件，動物管理不當屢生爭議，動物保護團體今日向六福旅遊集團董事長發表公開信，呼籲其應善盡企業責任、落實動物福利，希望能共同進行會勘以改善動物福利，接受動保團體與消費者檢視。六福村稍早則回應，本園區已積極改善，林務局已於 31 日會同新竹縣政府及各界專家學者共十餘位至本園區會勘，提出專業改善項目，為避免改善期間因不必要訪視，再次干擾動物及占用社會資源，故婉拒相關活動安排。

2023 年 4 月 14 日 TVBS 新聞網

38. 動保團體呼籲六福村應落實動物福利，並接受動保團體與消費者檢視，但遭六福村婉拒相關活動安排。有關敘述與下列哪一種特徵最有關聯？ (A)民間性 (B)自主性 (C)非營利性 (D)組織性
39. 《TVBS 新聞網》舉辦網路投票，想了解民眾對於東非狒狒圍捕過程及死亡究責的看法，投票結果顯示，多數網友認在捕捉東非狒狒的過程中，使用獵槍圍捕並不恰當占 59%，認為恰當的占 35%，另外 6%沒有表示意見。此顯示公共意見的何種特性？ (A)差異性 (B)影響性 (C)公開性 (D)不穩定性。
40. 請問有關「動保團體」的敘述下列何者為錯誤？  
(A)是依《憲法》保障的結社自由權利 (B)成員間彼此互動，並遵守共同的規範  
(C)團體的組成目的在於實現共同的目標 (D)屬於保護動物的營利組織。
41. 根據右圖顯示，民眾可利用「動保捐款蒐尋器」搜查全台百間合法立案的動保團體，有關財務狀況、捐款流向的收支表等資料，此舉與下列哪一種特徵最有關聯？  
(A)民間性 (B)自主性 (C)非營利性 (D)組織性。





【題組 42-43】請閱讀以下新聞，回答相關問題：

總統蔡英文預計今晚返抵國門，但網媒「菱傳媒」報導專機疑遭不明干擾。國防部強調，軍方專案編組全程掌握專機航線，並於進管制區後責派海空兵力全程戒護，媒體報導並非事實，籲請媒體報導前應善盡查證責任，勿傳不實訊息。

Yahoo 奇摩新聞報導 2023 年 4 月 7 日

42. 對於上述新聞媒體的做法，以下何項敘述為正確？ (A)只有持特定立場的媒體，報導較為客觀 (B)媒體有新聞自由，不該受到任何限制 (C)媒體提供錯誤訊息，造成閱聽人的誤判 (D)製播聳動新聞，才能喚起民眾的重視。
43. 為避免上述狀況，閱聽人應負起的責任，下列何者正確？ (A)限縮媒體新聞自由 (B)培養媒體識讀能力 (C)拒絕使用媒體發聲 (D)放棄接收任何資訊。
44. 在不影響新聞自由的情況下，我國哪一個政府單位可依法要求媒體善盡事實查證義務？ (A)行政院國家科學及技術委員會 (B)行政院數位發展部 (C)行政院環境資源部 (D)行政院國家通訊傳播委員會。

【題組 45-47】請閱讀以下新聞，回答相關問題：

最近全台各地發生多名計程車司機被施暴事件，造成運將們身心受創，今日上午(甲)計程車駕駛工會召開記者會，受害運將還原被攻擊的經過，有一名張姓司機無奈透露，自己只是開過頭，卻被女乘客打爆頭。甚至有司機被喝醉酒乘客暴打，對此理事長吳建彰提出三大訴求，(乙)包括立法保障司機人身安全，做好事前預防的配套措施以及通報裝置等等，呼籲政府相關單位，避免類似事件再次發生。

2023/04/19 華視新聞報導

45. 上述新聞畫線部分(甲)是屬於志願結社的何項特徵？(乙)是屬於志願結社對公共生活的何項影響？請選出正確的配對。 (A)民間性、增進社會公共利益 (B)自主性、增進社會公共利益 (C)自主性、影響與監督政府施政 (D)民間性、影響與監督政府施政。
46. 請問下列何者與畫線部分(甲)相同，都具備公共意見「公開性」的特性？ (A)政府宣布對工會所提的訴求會審慎應對 (B)工會對於政府施政，表示不贊同的比例高於贊同的比例 (C)工會針對議題舉行抗議遊行，喚起政府的重視 (D)工會的公共意見對政府施政具有影響性。
47. 根據上文中的工會團體，下列敘述何者錯誤？ (A)維護同業間的公益 (B)工會成員基於個人自由意願加入 (C)平衡勞資不平等現象 (D)是由勞方所組成的團體。

【題組 48-50】請閱讀以下新聞，回答相關問題：

今年國定假日連假補班較為頻繁，許多民眾抱怨吃不消。補班補課制度對民眾的身心健康造成負面影響，政府應該關注民眾的福祉，呼籲政府尊重民意，取消補班補課制度。行政院人事行政總處人事長蘇俊榮今天受訪時表示，將修改「政府機關調整上班日期處理要點」，調整補班密度，但也不會忽略希望彈性放假的民眾需求。蘇俊榮表示，將研議數個方案送行政院核定，國定假日補班機制調整 5 月底前定案。

奇摩新聞報導 2023 年 1 月 3 日

48. 下列何者符合上文內容所要表達的意涵？ (A)只有希望彈性放假的民眾受到政府的重視 (B)民眾意見對政府施政產生影響 (C)媒體蓄意製造假新聞誤導民眾 (D)政府機關應多增加補休假日以體恤民意。
49. 當媒體曝光今年的補班補課次數為 6 次，和往年相比也是近 10 年來最多，因此不少民眾抱怨引發討論。此時民眾可以運用何種權利，透過媒體表達對公共議題的看法？ (A)新聞自主權 (B)隱私權 (C)媒體接近使用權 (D)媒體報導權。
50. 日前有民眾在國發會的公共政策網路參與平臺，提案要求「取消補班補課制度」。請問這是以何種方式來向政府表達對公共事務的意見？ (A)以民意調查來收集民眾的意見 (B)透過媒體正式管道影響政府決策 (C)透過選舉投票方式向政府施加壓力 (D)以組成團體的方式向政府表達民意。

本試題卷結束