

命題教師：社會領域教師群 日期：7月10日 第2節 班級： 座號： 姓名：

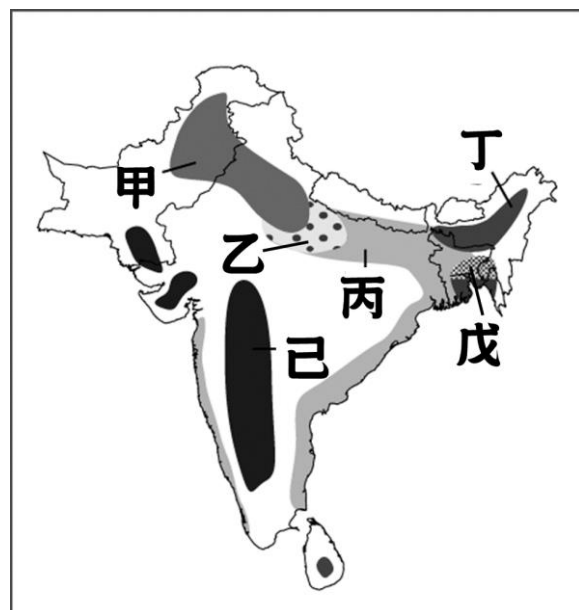
※單選題，每題2分，共100分。

【地理部分1~17題】

- 「現在口罩就不夠了，哪天要是火山爆發...？」看似不相關的火山爆發與病毒爆發，近期才又因為口罩匱乏的問題引發社會討論。「現今在我們面前的大敵是新型冠狀病毒，雖然一切以對抗病毒為優先，但我國位於環太平洋板塊交界帶，除了火山爆發外還要擔心地震與海嘯的衝擊。」請問：這個新聞報導最不可能出現在下列哪個國家？(A)日本 (B)菲律賓 (C)印尼 (D)巴基斯坦。
- 日本白川鄉合掌村，在1995年被聯合國教科文組織列為世界文化遺產，因冬季位於季風迎風面有大量降雪，為避免積雪重量壓垮屋頂，採用傾斜60度的屋頂，以減少雪的堆積。請問合掌村最可能位於圖一中何地？(A)甲 (B)乙 (C)丙 (D)丁。
- 新冠狀病毒對全世界造成許多影響，在日本因為生活自肅而許多店家被迫停業，經濟停滯。幸好電商平台最近推出一套6000~10000日圓的「復袋(復興地方的福袋)：魚貨版」特賣，把北海道最有名的「醬油漬鮭魚卵」與其他海鮮組合，沒想到限時9天販售，立刻在電商通路造成搶購。請問下列何者不是日本漁業發達的原因？
(A)四面環海 (B)寒暖流交會 (C)山多平原少 (D)礦產資源多。
- 日本近年來花費相當多的經費在領地最南端的「沖之鳥礁」進行建設，我國認為該區面積過小且不符島嶼定義，因此僅能稱之為「礁」，不具相關權利。請問：日本積極建設「沖之鳥礁」最主要的目的為何？
(A)興建軍事基地 (B)擴展經濟海域 (C)提供人民居住 (D)觀光活動目的。
- 「近年來為了因應日本人口結構，該國許多企業陸續進行照護機器人的研發，希望可以搶得市場先機……」上文中提及企業的措施主要是因為日本的人口結構目前呈現下列哪一項特徵？
(A)出生率偏高 (B)移出率偏高 (C)性別比不均 (D)人口老化嚴重。
- 北韓16日炸毀位於開城的兩韓聯絡辦公室，南北韓緊張情勢升溫。依北韓先前預告，曾被視為兩韓和平象徵的開城工業園區，被認為很有可能是北韓的下一個目標。當時選擇於北韓開城開設工業區促進了兩韓在經濟發展上的合作，大家各取所需，各自提供自己本身的優勢。請問下列哪個較不可能是北韓開城的優勢？
(A)豐盛礦產 (B)農業發達 (C)鄰近南北韓交界 (D)較南韓廉價的勞力。
- 一提到泡菜，大多數人想到的就是「韓國」。泡菜幾乎離不開韓國人日常生活。請問：韓國飲食文化中出現泡菜的主因為何？(A)夏季降水多 (B)冬季嚴寒 (C)山多平原少 (D)人口老化嚴重。
- 印度半島的氣候多元，有極寒的山地與極熱的沙漠。而在這樣的條件下，也會有不一樣的土地利用方式。而在印度半島的作物中，屬孟加拉的黃麻及印度阿薩密省的紅茶最為知名，兩地區的降雨量皆相當豐沛。請找出圖二中紅茶及黃麻的產地，並找出造成兩地作物差異的主要原因為何？
(A)甲乙，勞工眾多 (B)乙己，政府政策
(C)丁戊，地勢高低 (D)丙己，市場需求。
- 南亞屬熱帶季風氣候，年分三季，基於氣候考量，應選擇於台灣的哪個國定假日去較舒適涼爽？
(A)元旦(1/1)
(B)清明節(4/5)
(C)端午節(6/24)
(D)中秋節(10/1)。

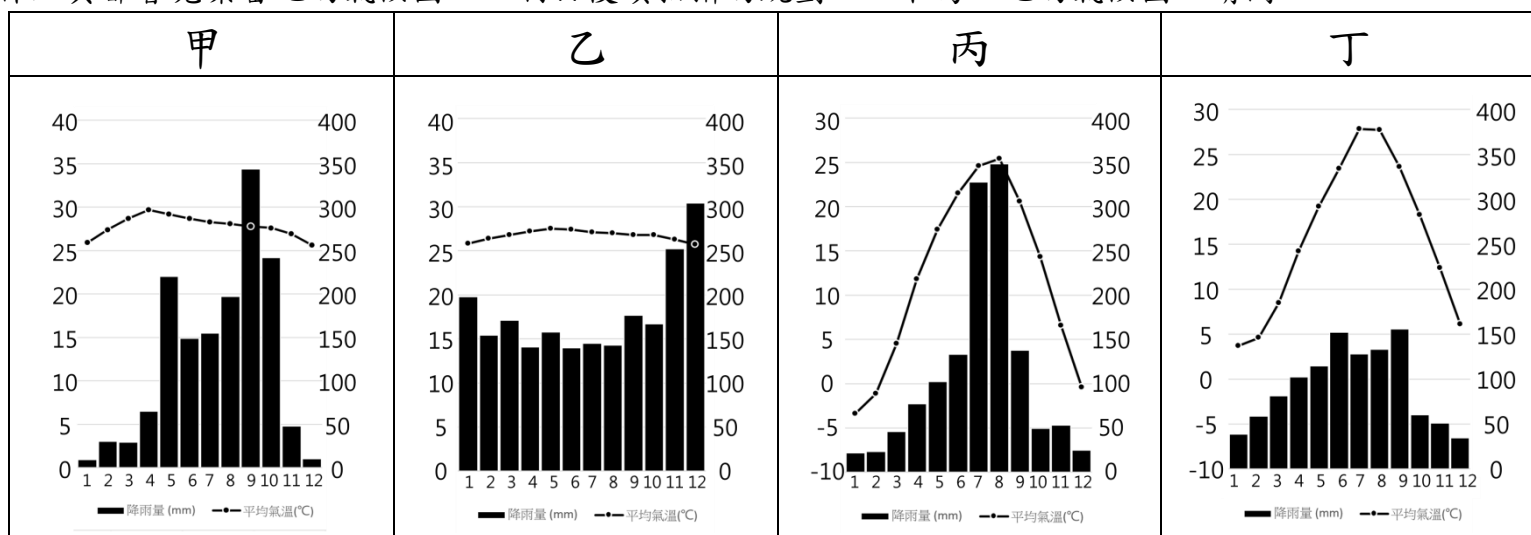


▲圖一



▲圖二

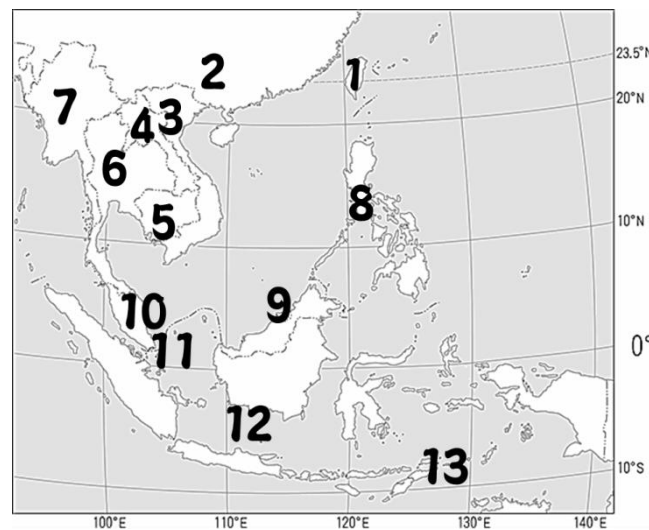
◎綜藝玩很大時常到國外出外景，像是南韓首爾、中國上海、泰國曼谷和新加坡，為了掌握當地的氣候狀況，因此出發前工作人員都會蒐集當地的氣候圖，以利於後續拍攝的規劃，以下為四地的氣候圖。請問：



- 玩很大主持人前往某個國家，聽說成年男子一輩子至少要出家一次，同時主持人為了讓拍攝順利還去當地最具盛名的四面佛寺參拜。請問此集去的國家應該屬於哪一種氣候類型？ (A)甲 (B)乙 (C)丙 (D)丁。
- 為了增加影集的趣味性，因此團隊研發新活動需要在雪上競賽，請問哪一個城市應該為團隊首選？ (A)甲 (B)乙 (C)丙 (D)丁。
- 「近三十年來，馬來西亞和印尼成為全球油棕主要輸出國，輸出量分居世界第一、二位，油棕產業為兩國帶來大量外匯以及農村人口的就業機會。」請從油棕的主要生產國推測油棕的分布跟哪個城市的氣候較為類似？ (A)甲 (B)乙 (C)丙 (D)丁。

◎圖三為東南亞的國家分布圖，請問：

- LJ 新聞報導：南海海底的石油蘊藏量高達 1466 億桶，而整個中東的蘊藏量只剩 795 億桶，使得南海周邊的國家紛紛提出擁有南海石油的開採權。請問圖三哪一個國家不是南海周邊國家？ (A)2 (B)3 (C)5 (D)8。
- 新聞報導：「麻六甲海峽是全球第二繁忙海道，這個海峽每日有 200 條以上國際輪船穿行。而自 1991 年至 2003 年以來的統計數字，全球 1921 起海盜劫船事件中有 60% 以上都發生在麻六甲海峽附近。」請問圖三中，有哪三個國家應共同打擊麻六甲海盜與維護行經此處的船隻安全？ (A)2、3、8 (B)5、6、7 (C)9、11、12 (D)10、11、12。



▲圖三

◎圖四為南亞的國家分布圖，請問：

- 超級熱帶氣旋「安芬」(Amphan) 20 日下午登陸印度東部及孟加拉造成多處停電，截至 22 日至少造成 84 人死亡。印、孟兩國全面戒備的緊急撤離沿岸邊界 300 萬人。請問所述區域位於圖四中哪裡？ (A)甲、乙 (B)乙、丁 (C)丙、戊 (D)甲、己。
- 乙丙兩國時常發生衝突，何者並非兩國發生衝突的主因？ (A)搶奪恆河水源 (B)宗教信仰不同 (C)喀什米爾的主權爭議。
- 乙己兩國在邊界某座山附近時常發生爭端，但近日衝突加劇，從互毆到扔石頭，造成數十名士兵喪生。請問乙己在下列哪個區域最容易產生衝突？ (A)橫斷山脈 (B)喜馬拉雅山 (C)阿爾卑斯山 (D)安地斯山脈。



▲圖四

【歷史部分 18~34 題】

18. 小君打算搭乘時光機回到1970年的中國，為了要隱身在當時的人群中而不被發現，小君決定進行變裝。請問小君身上應該如何裝扮比較安全？ (A)口袋裝滿農民銀行印製的法幣，以利消費 (B)攜帶步槍，準備加入國共內戰 (C)帶著鐮刀，提供給土法煉鋼使用 (D)攜帶《毛語錄》，混進學生群中。
19. 小志研究民初歷史時發現有許多政府政策或政治標語，請協助他依先後順序排列？
 (甲)以空間換取時間 (乙)攘外必先安內 (丙)聯俄容共 (丁)停止內戰、一致抗日 (戊)廢兩改元
 (A)乙丁丙甲戊 (B)戊丙丁乙甲 (C)丙戊乙丁甲 (D)丁乙戊甲丙。
20. 阿鴻在介紹中共的歷史書上看到很多圖照，請協助他依先後順序排列？



- (A)乙丙丁甲 (B)丁乙丙甲 (C)丙丁甲乙 (D)乙丁丙甲。
21. 近代史家郭廷以先生在其著作中寫道：「蔣復職不到80天，與台灣相犄角的海南島、舟山群島均為解放軍攻佔，蔣經國說，今後一百天內將為台灣最嚴重的時期。孰料1950年6月25日，北韓受蘇俄唆使突然進攻南韓……台灣某要人私下語人，謂韓戰是國民黨的西安事變。」請問關於上述資料內容何者正確？ (A)美國當時派遣第七艦隊前往台灣海峽 (B)中華人民共和國發動抗日援朝 (C)中共因此與蘇聯決裂 (D)中共於韓戰期間建國。
22. 美美在歷史書籍中看到一段：「首先有比較良好反應的為美國，7月25日，中美簽訂整理關稅條約，美國承認中國關稅自主原則……是年德國、挪威、比利時、丹麥、荷蘭、葡萄牙、英國、瑞典、法國、西班牙，相繼承認中國關稅自主權，同時承認國民政府。」請問這段內容最可能出現在下列哪個章節？ (A)袁世凱的獨裁統治 (B)軍閥恣睢（註：形容暴橫、放縱。） (C)安內與攘外 (D)八年抗日戰爭。
23. 小嵐的外公收藏了很多民初的舊紙幣，恰好有同一年由國民政府在中國大陸先後發行的三種紙幣（如下圖）。請問：從紙幣發行面額的變化，可推知當時的經濟情形為何？ (A)經濟發達，貨幣需求量大增 (B)國家強盛，紙幣的價值升高 (C)物資缺乏，製幣的成本增加 (D)通貨膨脹，貨幣購買力變低。



24. 阿傑在爺爺的書櫃裡發現了一張細心收藏的報紙，還手寫了一首「長城謠」。請問讓阿傑爺爺如此惦記的大事應該是下列何者？

長城謠

萬里長城萬里長，長城外而是故鄉。高粱肥，大豆香，遍地黃金少災殃。
 自從大難平地起，姦淫擄掠苦難當！苦難當，奔他方，骨肉離散父母喪！
 沒齒難忘仇和恨，日夜只想回故鄉！大家拼命打回去，哪怕倭奴逞豪強！



- (A)五三慘案 (B)九一八事變 (C)一二八事變 (D)七七事變。
25. 小元在網路上看到中國在「大躍進」運動時期，因為政策的缺失造成數以千萬人民死於大饑荒，領導人毛澤東也為此負責而下台。請問同一時期的臺灣經濟正處在什麼階段？ (A)土地改革 (B)進口替代 (C)出口導向 (D)十大建設。

26. 小麗複習段考時發現課本表格被弄髒了，請問髒污處應該是？

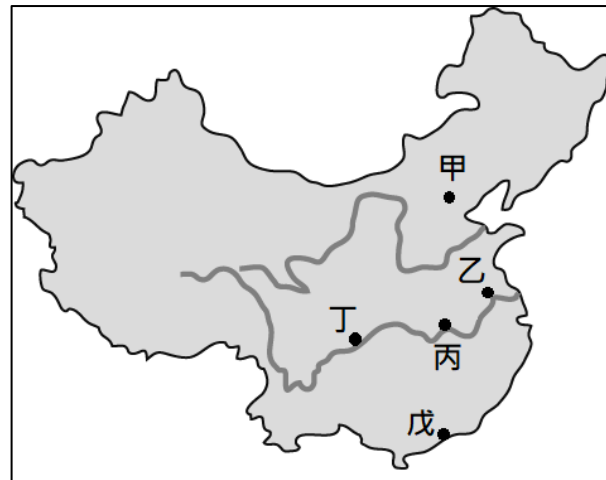
項目	開始時間	主張	影響	結束
第一次國共合作	民國 12 年 (1923)	■	國民黨黨中有黨	■
第二次國共合作	民國 26 年 (1937)	聯共抗日	中共趁機壯大	國共內戰

- (A) 聯俄容共，西安事變 (B) 護法運動，清黨 (C) 以華制華，中日抗戰 (D) 聯俄容共，清黨。

【題組一】

大雄發現民國初年不同時期中，每個城市都有其重要的地位：

27. 請問「戊」在北伐初期的政府稱為？ (A) 國民政府 (B) 臨時政府 (C) 軍政府 (D) 北洋政府。
28. 當蔣中正決定發動「清黨」且與國民黨親共人士決裂時，請問呈現是上圖中哪兩個城市的對立？ (A) 甲戊 (B) 乙丙 (C) 乙戊 (D) 丙丁。
29. 請問「乙、丁」對立是處於什麼時期？ (A) 孫中山號召護法 (B) 國民黨北伐 (C) 國民黨剿共 (D) 對日抗戰。



【題組二】

首部進入紫禁城實景拍攝 「末代皇帝」32周年經典重映

2020-04-23 18:42聯合報 記者黃保慧／即時報導

32年前的今天，由金獎大導柏納多貝托魯奇執導，國際影星尊龍、陳冲、鄔君梅等主演的史詩鉅作「末代皇帝」在台上映，不只勇奪全台年度票房冠軍，更寫下台灣影史首部票房破億電影的空前紀錄。台灣片商特意選在上映32周年的這天宣佈「末代皇帝」數位修復版將在5月15日重回大銀幕，讓全台影迷能到戲院再次朝聖這部跨越時代的影壇經典。

貝托魯奇更耗時長達2年的時間與中國艱苦對談，才獲得進入紫禁城拍攝的許可，成為第一部進入紫禁城實景拍攝的西洋劇情片，導演貝托魯奇感嘆說：「他的故事可以用很多種方式去呈現，他的一生可以是遊走在黑暗與光明的一段旅程，或是從皇帝到平民的傳奇故事，你也可以說他從蟋蟀變成了蝴蝶。」



30. 請問上述新聞所指的末代皇帝是誰？ (A) 慈禧太后 (B) 光緒皇帝 (C) 宣統皇帝 (D) 洪憲皇帝。
31. 請問關於末代皇帝的敘述何者正確？ (A) 曾致力於清末的改革 (B) 曾接受段祺瑞協助復辟 (C) 曾接受日本協助建國 (D) 晚年受中華民國保護終老。
32. 1945年8月二戰進入尾聲，準備逃亡的末代皇帝於8月19日在瀋陽市機場遭到逮捕而淪為階下囚，請問逮捕他的勢力應該是下列何者？ (A) 日本 (B) 蘇聯 (C) 中共 (D) 國民政府。

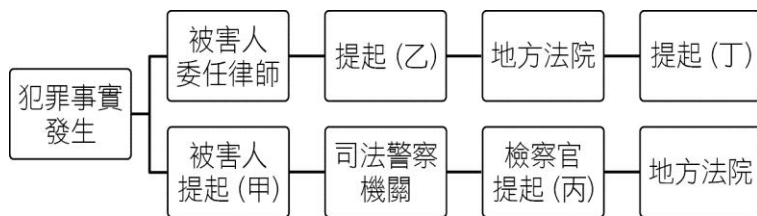
【題組三】

順口溜是中國大陸民間俗語，由於內容通俗易懂，因而廣泛流傳，有句順口溜：「五十年代人幫人，六十年代人整人，七十年代人哄人，八十年代個人顧個人；九十年代見人就宰人。」充分描述中共政權統治下中國社會的發展，請回答下列問題：

33. 「五十年代人幫人」和下列哪項政策有關？ (A) 土地改革 (B) 經濟特區 (C) 人民公社 (D) 文化大革命。
34. 「八十年代個人顧個人」、「九十年代見人就宰人」是因為中共實施了什麼政策，造成人們以經濟掛帥的態度？ (A) 改革開放 (B) 文化大革命 (C) 大躍進 (D) 土地改革。

【公民部分35~50題】

35. 公民老師繪製以下關於刑事訴訟制度的示意圖讓學生填答。各個代號所配對的訴訟程序，何者正確？



(A)甲：告發 (B)乙：上訴 (C)丙：公訴 (D)丁：告訴。

36. 已滿20歲的傑倫無照駕駛騎機車，行經十字路口時與一輛自小客車發生擦撞，大雄將對方的市值100萬的車撞至全毀，而對方送醫後傷重不治。請問，下列敘述何者錯誤？

(A)傑倫因無照駕駛被法院處以罰鍰 (B)傑倫不得減輕其刑事責任 (C)傑倫的法定代理人無須負連帶賠償責任 (D)傑倫刑事責任的部分屬於非告訴乃論罪。

37. 我國近來勞動權益受到重視，2月華航機師罷工，長榮空服員也醞釀罷工。依法主管機關可提勞資爭議仲裁，下列敘述何者錯誤？ (A)勞資爭議可以至各縣市勞工局進行仲裁 (B)仲裁以依法得以和解者為限，非告訴乃論的罪也可交付仲裁 (C)仲裁效力等同法院判決 (D)仲裁為雙方以書面協議將現在或未來的爭議交付專業機構處理。

38. 新聞報導：「臺北市政府連續對遠雄建設公司開出兩張罰單，共罰款新臺幣190萬元，由於遠雄不服裁處，提出訴願，但訴願被駁回後，又向『甲』提起訴訟；若遠雄敗訴，還可向『乙』上訴，因此須等臺北市政府勝訴確認後，才能執行處罰。」上文中的「甲」、「乙」依序應填入何種機關？ (A)高等法院、最高法院 (B)高等行政法院、最高行政法院 (C)地方法院行政訴訟庭、高等法院 (D)行政院、最高法院。

39. 附圖為魯夫尋求救濟的流程圖，下列哪個推論最合理？



(A)甲應為訴訟外的和解 (B)甲應為仲裁 (C)此糾紛應為殺人罪 (D)甲應為訴訟上的和解。

40. 胖虎因與鄰居發生口角，失手將鄰居打死了，目前遭警方逮捕，就人權保障的觀點而言，依□□□□的原則，還不能確定胖虎是否有罪。根據上文，□□□□應為何者？

(A)罪刑法定 (B)三級三審 (C)無罪推定 (D)權利救濟。

41. 鷺江國中附近新開一家小忠文具批發店，公民課時，學生依據勞動基準法的規定檢視該店徵人啟事的內容，請問哪一位同學的說明錯誤？

- (A)小敏：雇主不得僱用未滿15歲的人工作
- (B)盼盼：雇主若僱用童工不需法定代理同意
- (C)阿傑：童工不能在周六工作
- (D)憶璇：童工不能在晚上8：00以後工作。

小忠文具批發店

徵人啟事：工讀生數名
 年齡：14歲~15歲(鷺江學生優先)
 上班時間：周一~周六(17:00~22:00)

42. 下列何種行為是觸犯刑法的規定？

(A)17歲少女缺錢花用，因而援交 (B)便利商店賣香菸給國中生 (C)國中生兩情相悅，發生性行為 (D)保護管束期間，未依規定到法院報到。

43. 下列何種行為觸犯刑法的「妨害電腦使用罪」？

(A)利用網路平台販毒 (B)未經作者同意，任意在網路上轉貼他人文章 (C)在網誌上發表言論，直指店家食物難吃，店內有蟑螂 (D)在公司共用的檔案夾植入惡意圖檔，使檔案夾內的圖檔無法正常開啟。

44. 下列何者屬於「最輕本刑五年以上有期徒刑」的規定？

(A)刑法竊盜罪，其刑責為處五年以下有期徒刑、拘役或五十萬元以下罰金 (B)刑法普通搶奪罪，其刑責為六個月以上五年以下有期徒刑 (C)刑法強制性交罪，其刑責為三年以上十年以下有期徒刑 (D)刑法強盜罪，其刑責

為五年以上有期徒刑。

45. 由下述修法內容判斷修法的主旨為何？

有鑑於近年兒童虐待事件頻傳，立法院修改兒童及少年福利與權益保障法，重要內容有：(甲)托嬰中心將強制加裝監視錄影設備，以保護嬰兒安全及保存兒虐案件證據；(乙)建立「加害人資料庫」，避免之後加害人從機構離職，轉去別的機構任職；(丙)對於兒童及少年若有身心虐待行為，處新台幣6萬元以上60萬元以下罰鍰，並得公布其姓名或名稱；(丁)社工人員進行訪視遭拒絕，如果合理懷疑兒少處境有危險，可請求警察機關派員強制進入。
(參考自 108.3.29 關鍵評論)

- (A)從法律面強化政府防治作為，有效預防兒虐事件發生 (B)提高刑事處罰，嚇阻兒虐行為 (C)將社工人員隸屬警察機關 (D)強化家庭保護及照顧功能，減少托嬰中心的設置。

【題組一】

108.5.31 立法院三讀通過少年事件處理法修正案，其中一項重大變革是舊法中所謂「少年有觸犯法律之虞的行為」共有七項：1.經常與有犯罪習性之人交往者 2.經常出入少年不當進入之場所者 3.經常逃學或逃家者 4.參加不良組織者 5.無正當理由經常攜帶刀械者 6.吸食或施打煙毒或麻醉藥品以外之迷幻物品者 7.有預備犯罪或犯罪未遂而為法所不罰之行為者。新法只剩下三項，而且未來將先由少年輔導委員會(由社工、心理、教育等專業人員組成)處理，有必要才移送少年法院。
(參考自立法院國會圖書資訊網)

46. 新修正的少年事件處理法實施後由上述中所提及的三項改稱「曝險少年」，「短時間之內」最可能發生下列何種現象？ (A)少年保護事件數量減少 (B)少年保護事件數量增加 (C)少年刑事案件數量減少 (D)少年刑事案件數量增加。

47. 下列關於「曝險少年」的選項何者完全正確？

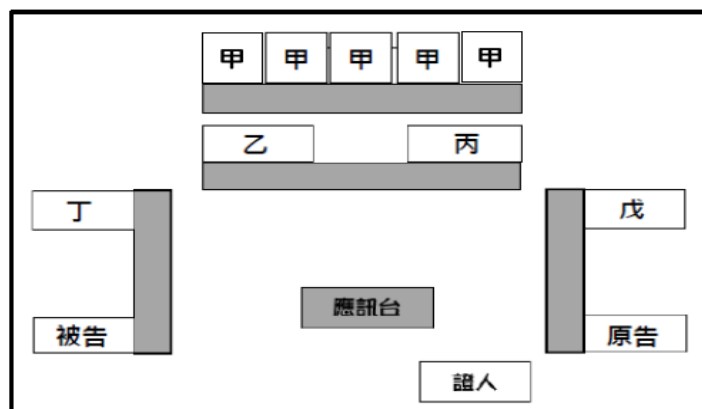
- (甲)經常與有犯罪習性之人交往者 (乙)經常出入少年不當進入之場所者 (丙)經常逃學或逃家者
(丁)參加不良組織者 (戊)無正當理由經常攜帶刀械者 (己)吸食或施打煙毒或麻醉藥品以外之迷幻物品者
(庚)有預備犯罪或犯罪未遂而為法所不罰之行為者
(A)甲丙戊 (B)甲乙丙 (C)戊己庚 (D)丁戊己。

【題組二】

※附圖為某個刑事訴訟庭的配置圖(請依圖片回答以下三個問題)

48. 根據圖中內容判斷，下列敘述何者正確？

- (A)甲負責案件的證據調查、偵查犯罪
(B)乙負責法庭中的翻譯
(C)丙是法庭中掌理案件審判職務的人員
(D)丁接受當事人委託，依法協助其進行訴訟。



49. 根據圖中內容判斷，圖中角色所穿著的法袍顏色何者正確？

- (A)甲穿著黑袍紫邊 (B)丙穿著黑袍黑邊 (C)丁穿著黑袍白邊 (D)戊穿著黑袍藍邊。

50. 根據圖中內容判斷，若該法庭為「公開審理」、則下列哪個推論最合理？

- (A)此案件所審理的案件為兒童案件 (B)此案件所審理案件為少年案件 (C)此案件所審理案件為強盜的案件
(D)此案件為刑事非告訴乃論和解案。

本試題卷結束