

新北市立鶯江國民中學 112 學年度 第 2 學期 八 年級 社會科 第 2 次段考 題目卷
命題教師：社會科老師 日期：5 月 15 日 第 4 節 班級： 座號： 姓名：

※選擇題：共 50 題，1 題 2 分，總分 100 分。

※請將答案劃記在答案卡上，以讀卡成績為準

一、地理科：第 1~17 題

(一)單選題：第 1~14 題

- 撒哈拉沙漠以北的非洲地區，人種膚色較淺，早期與地中海地區的希臘、羅馬文明互動頻繁，後來受到西亞地區阿拉伯人的影響，現多以哪一個宗教文化為主？ (A)伊斯蘭教 (B)天主教 (C)基督教 (D)猶太教。
- 魯夫計畫從東北亞的日本一路向南沿著歐亞大陸開船航行至西亞的沙烏地阿拉伯。請問：在他的旅程中不會經過哪個海域的範圍？ (A)太平洋 (B)印度洋 (C)大西洋 (D)南海。
- 「西亞的地形以高原為主體，其中『某個高原』本來與非洲相連，後因紅海斷層陷落而分離，形成半島。」文中敘述應是指哪一個高原？ (A)伊朗高原 (B)阿拉伯高原 (C)阿富汗高原 (D)安納托力亞高原。
- 明玉到鶯江國中圖書館找尋《天方夜譚》、伊斯蘭教經典《古蘭經》，她發現這兩本書的原始版本皆是以哪一種文字書寫而成？ (A)中文 (B)英文 (C)阿拉伯文 (D)古埃及文。
- 西亞與北非日溫差大，多強風與裸露沙地，常有沙塵暴的發生。上述現象與哪一個環境特色關係最密切？ (A)緯度較低 (B)高原遍布 (C)降水稀少 (D)日照充足。
- 臺灣的農業考察團若前往西亞地區考察，無法觀察到下列何種農業型態？ (A)灌溉農業 (B)綠洲農業 (C)熱帶栽培業 (D)地中海型農業。
- 非洲大陸北有撒哈拉沙漠，植被稀疏、地表景觀是乾燥的裸露地，下列何者是形成此種地理景觀的主要原因？ (A)距海遙遠 (B)沿岸有暖流經過 (C)副熱帶高壓籠罩 (D)高山環繞，焚風出現頻繁。
- 連鎖經營的跨國企業，應考量在地的文化特色，推出適宜當地傳統習俗的商品。因此，麥當勞漢堡不能在阿拉伯國家推出下列哪一種產品？ (A)豬肉滿福堡 (B)雙層牛肉堡 (C)麥香魚漢堡 (D)板烤雞腿堡。
- 「GOLDEN ROSE」是一間成立於西元 1983 年的化妝品公司，由於該國人口絕大多數為同一宗教，且依據該教教義，女性不得露出頭髮和身體部位，因此該公司的化妝品著重在臉部彩妝，並且通過該宗教的特殊認證。請問下列何者最可能是該公司的正確資訊？ (A)印度／印度教 (B)伊朗／基督教 (C)以色列／猶太教 (D)土耳其／伊斯蘭教。
- 附圖為西亞某城市的舊城區示意圖。此城市在希伯來語為「和平之城」之意，它也是世界三大宗教的聖地，每年吸引眾多信徒前來朝聖。上述所指的城市為何？ (A)巴格達 (B)德黑蘭 (C)耶路撒冷 (D)伊斯坦堡。

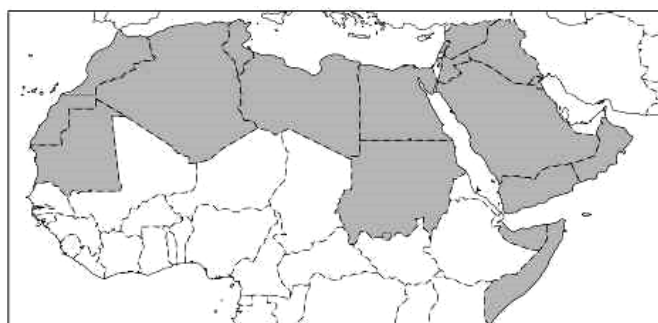


- 西亞與北非地區的氣候環境具有高度的均質性，但族群、宗教及維生方式卻相當多元，若要利用樹狀圖來標示出該地區的主要族群，則圖中最不可能提及下列何者？ (A)猶太人 (B)波斯人 (C)阿拉伯人 (D)印地安人。
- 在《天方夜譚》中，有一則水手辛巴達的故事。故事中遭遇船難的辛巴達想贈送財物給救命恩人，但卻被拒絕。這位恩人表示，「凡是碰到落海或困在荒島的人都會盡力搭救，並供他們食物和衣服，還有一點錢。」請問：這種精神與伊斯蘭教的何種文化有關？ (A)念清真言 (B)每日祈禱 (C)實施齋戒 (D)捐獻濟貧。

13. 附圖是十三世紀歐洲人所繪的古世界地圖，其 T 字形部分為海洋或河流，其餘部分為三大陸塊。請問：位於歐洲與非洲之間的「甲」海域為何？ (A)大西洋 (B)印度洋 (C)紅海 (D)地中海。



14. 「阿拉伯之春」是自西元 2010 年底開始以「推翻獨裁政府」及「改善國內經濟」為主要訴求的運動，下圖為該運動的發生地點及主要影響範圍分布圖，請依據圖中分布位置判斷，這些地區有何種共同性？
(A)均屬於已開發國家 (B)均蘊藏豐富的石油 (C)多屬伊斯蘭教地區 (D)均屬於熱帶沙漠區。



(二)題組：第 15~17 題

2023 年 10 月 7 日清晨，巴勒斯坦的激進組織哈瑪斯發動「阿克薩洪水行動」，對以色列進行大規模的突襲，朝以色列境內發射 5000 多枚飛彈，並用車輛運送武裝分子進入以色列南部，屠殺平民及挾持人質，讓沉浸在猶太節日氣氛中的以色列人措手不及。原本應是歡慶高歌的日子，瞬間戰火四起。以色列立即宣布進入戰爭狀態，展開對哈瑪斯的報復，對加薩走廊進行猛烈的轟炸，並斷絕加薩走廊的糧食及電力。

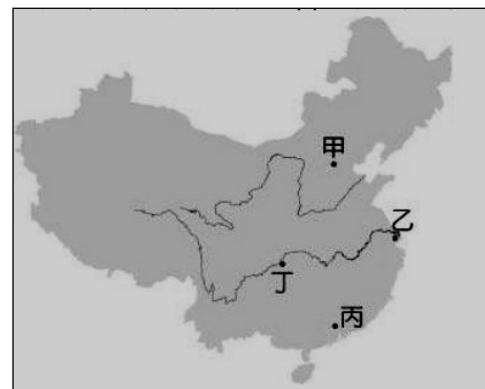
截至目前為止，以巴衝突已經造成上萬傷亡，是近 50 年來巴勒斯坦地區規模最大的衝突事件。而原本僅侷限於該地區的戰火，如今可能有擴大的趨勢。2024 年 4 月 13 日晚上，由於先前伊朗駐敘利亞首都大馬士革的領事館遭以色列空襲波及，讓伊朗對以色列發射了 300 多架無人機與彈道飛彈以進行報復。雖然當中超過 90% 的襲擊都被以色列的「鐵穹」防空系統所攔截，使傷亡降至最低，但伊朗對以色列的空襲行動，已然讓本就不穩定的中東局勢，變得更加動盪不安。

15. 有關以色列與巴勒斯坦激進組織哈瑪斯的衝突，背後隱含了以巴兩地複雜的糾葛關係。請問：以哈衝突的原因可能包含下列那些因素？(甲)糧食爭奪(乙)領土爭議(丙)宗教衝突(丁)環境保護
(A)甲乙 (B)乙丙 (C)丙丁 (D)甲丁。
16. 以哈衝突導致許多加薩人陷入困境，總部位於美國的慈善組織「世界中央廚房」(World Central Kitchen)，從戰爭開打以來，便已經在加薩成立幾十個社區廚房，分發餐點給挨餓的民眾。請問，「世界中央廚房」透過下列哪個海域運送食材至加薩最為快速？ (A)太平洋 (B)印度洋 (C)阿拉伯海 (D)地中海。
17. 伊朗對以色列的空襲報復行動，雖未造成重大傷亡，但卻加劇了中東的緊張情勢。若伊朗將以色列設為打擊目標，向西發射 300 多架無人機與彈道飛彈，請問下列哪個國家並未包含在射程範圍內？
(A)伊拉克 (B)敘利亞 (C)阿富汗 (D)約旦。

二、歷史科：第 18~34 題


- 18.曉萱在電視上看到一則專題報導，內容探討國民政府在國共內戰戰敗撤退來臺的原因，請問：以下何者不可能出現在報導的內容中？
 (A)政府官員貪污腐化嚴重 (B)中共得到蘇聯的大力支援
 (C)政府未能解決通貨膨脹問題 (D)政府未能妥善處理慰安婦問題。
- 19.國立臺灣歷史博物館曾收到一個家族的捐贈物品，其中包括 1945 年 9 月他們收到一封來自日本地方警察署所開立的死亡證明書，告知他們當時在當地就讀大學的兒子蘇百齡在 8 月 9 日遭遇原子彈空襲而死亡的訊息。請問：根據上述，蘇百齡就讀大學的地點最可能為下列何者？ (A)瀋陽 (B)長崎 (C)東京 (D)高雄。
- 20.小宇在網路上看到一則文章名為：「盤點黃埔軍校走出過哪些中共著名將領」，根據你對中國現代史的了解，下列對於此一文章的說明何者正確？
 (A)黃埔軍校是由中共創立 (B)此現象與蘇聯介入有關
 (C)當時軍校校長是孫中山 (D)當時國共正在合作抗日
- 21.在今日中國各地，常能見到關於紅軍長征的紀念碑、紀念館或紀念公園，請問：關於這段歷史的敘述，下列何者正確？ (A)發生於國共第一次合作期間 (B)長征最後的根據地是陝西西安 (C)長征是指國民政府積極抗日 (D)長征是中國共產黨立場的用詞。
- 22.某篇探討中國現代史的文章寫道：「中共領導人之一的周恩來，曾稱讚他是『民族英雄，千古功臣』。蔣中正正在日記中卻嘆道『漢卿壞我一盤好棋』、『漢卿誤我大事也』（他的字是『漢卿』）。」請問：文章中探討的歷史人物--「他」是指下列何人？ (A)孫中山 (B)袁世凱 (C)張學良 (D)陳獨秀。
- 23.1951 年，美國魏德邁將軍在國會說：「這段時間是許多在華很久的英美和各國僑民所公認的黃金十年。在這十年之中，交通進步了，經濟穩定了，學校林立，教育推廣，而其他方面，也多有大幅進步的建制。」根據這段言論，下列說明何者有誤？ (A)「這段時間」是 1928~1937 年 (B)這段時間的政府開始發行法幣 (C)這段時間的中國已實行民主憲政 (D)「黃金十年」是肯定國民黨的執政。

- 24.中國現代史上，有些城市具有重要歷史意義。根據右方地圖，事件與發生地點配對正確的選項為下列何者？ (A)黃埔軍校所在地：乙 (B)蘆溝橋事變：丙 (C)抗戰期間遭日軍大屠殺：甲 (D)國民政府抗戰時期遷都地點：丁。

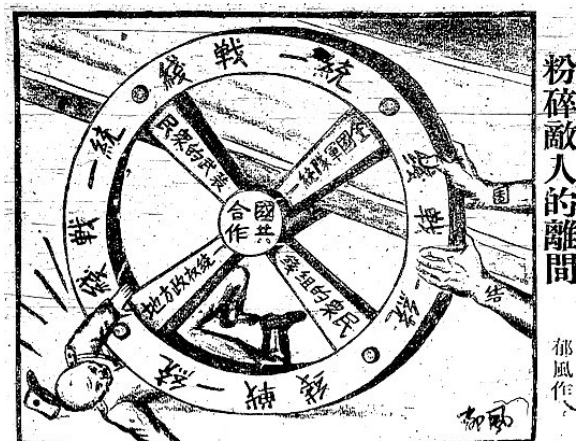


- 25.中國有一個城市的廣場見證了時代的變遷：1945 年前貼滿「王道樂土新滿洲」標語的「大同廣場」，1945 年 8 月後蘇軍來了之後改名為「史達林廣場」；1946 年國軍接收後改名為「中正廣場」，改貼上「蔣總統萬歲」；1948 年共軍攻陷後，再度改名為「人民廣場」，換上「毛主席萬歲」。根據上述，此城市最可能為下列何者？ (A)瀋陽 (B)重慶 (C)南京 (D)北京。

26. 右圖為 1927 年 4 月 4 日號的美國《時代》雜誌的封面，封面人物下方的說明是：「GENERAL CHIANG KAI-SHEK (蔣介石將軍，即蔣中正) ...rose out of the Sun-set (在孫殞落之後升起)」。請問：當時他之所以成為國際關注的中國政治人物，最可能的原因為何？
 (A)率領國民革命軍北伐 (B)代表中國出席開羅會議
 (C)領導中國展開十年建設 (D)當選中華民國行憲後第一任總統




- 27.右圖為 1938 年發表於《救亡日報》上的漫畫，請問：下列對於此畫的分析，何者符合史實？



- (A)這幅漫畫創作於國民政府十年建設期間
 (B)反映九一八事變的發生促成了國共合作
 (C)圖中的「統一戰線」是指一起對抗軍閥
 (D)形成此種局勢是與西安事變有密切關聯

28.右圖為 1941 年在日本教科書中出現的圖畫，是為了宣傳當時他們正在進行的一些行動。



請你根據圖中訊息判斷，下列對此圖畫的解讀何者正確？

- (A)圖中國家包含日本在東北扶植的滿洲國
- (B)日本想要藉此合理化征服全世界的企圖
- (C)當時日本正參與日俄戰爭與太平洋戰爭
- (D)當時臺灣不在日本實現此願景的計畫中。

題組一：美國記者斯諾曾經報導他在 1936 年的中國延安看到的一齣宣傳短劇：

短劇名稱是〈侵略〉，以 1930 年代東北某村莊為背景。

【第一幕】日軍到達，把不抵抗的中國軍隊趕走。

【第二幕】日本毒販在叫賣嗎啡和海洛因，強迫每一農民買一份。一個青年拒絕，就被叫出來訊問：「你不買嗎啡，你不遵守滿洲國衛生條例，你不愛你的『聖上』溥儀，你是反日的匪徒！」那個青年就馬上給處決了。

【第三幕】農村集市中，有些小商人在叫賣貨物。兩個日本軍官正在大吃一個小販的豬肉，吃完後小販要他們付錢時，他們奇怪地看著他說：「你要我們付錢？可是蔣介石把滿洲、熱河、察哈爾都給了我們，也沒有要一個銅板！為了一點點肉，你卻要我們付錢！」他們立刻把他當作「匪徒」用刺刀殺死了。最後村子裡的人忍無可忍了。商販們把貨攤和遮陽的大傘推倒，農民們拿起長矛，婦女兒童拿起菜刀趕來，大家都發誓要和日本鬼子「血戰到底」。

29.根據短劇的內容，下列何者可能是短劇創作者的意圖？

- (A)支持溥儀成立滿洲國 (B)肯定日軍在東北的作為
- (C)引起人民對共產黨的不滿 (D)諷刺「先安內後攘外」的政策。

30.這齣短劇最可能是出自下列何者的宣傳？ (A)滿洲國 (B)中國共產黨 (C)臺灣總督府 (D)中國國民黨。

31.這齣宣傳可以用來探討下列哪一事件發生前的背景？

- (A)北伐 (B)西安事變 (C)九一八事變 (D)珍珠港事件。

題組二：請閱讀以下文章後，回答問題：

我的叔公潘文聰，從小聰慧，在日治時期花蓮港廳立農業學校畢業之後，在 1939~40 年之間前往了滿洲，在一所鐵工廠工作。他在滿洲工作很不錯，升遷很快，後來也娶了日本妻子。1945 年，他已經有兩個女兒了。大約因為這個緣故，他沒有跟其他台灣人一樣，對滿洲國以及日滿軍政機關的覆亡置身事外，他參加了臨時組建的日本準軍事組織，參加了短暫的對蘇聯紅軍的戰鬥，結果被俘，跟其餘 59.4 萬的日本俘虜一樣被送到蘇聯的西伯利亞戰俘營。他就在蘇聯戰俘營待了 4 年，最後，與其他的日本戰俘一起遣返日本，最後在日本落地生根。

~節錄自 PAN 的網誌：流離的台灣人

32.請你根據當時的時代背景判斷，為何潘文聰身為一個台灣人，會去滿洲？

- (A)當時該地也在日本帝國控制下 (B)被國民政府派去支援國共內戰
- (C)太平洋戰爭爆發被日本強制送去 (D)馬關條約後不願歸順日本而離臺

33.請問潘文聰在滿洲時，該地的國家元首是誰？ (A)蔣中正 (B)張學良 (C)溥儀 (D)毛澤東。

34.潘文聰之所以在戰後被送到蘇聯的戰俘營，與下列何者最為相關？

- (A)日俄戰爭 (B)開羅宣言 (C)雅爾達密約 (D)動員戡亂時期臨時條款。

三、公民科：第 35~50 題

【題組一】參考以下新聞案例，回答相關問題：

新北市一名曾姓男子 2021 年前往永和區某診所就診後，對一名女護理師一見鍾情，於是鋪天蓋地展開情書攻勢。在女方多次拒絕後，曾男言行更加偏激，情書內開始附上疑似過完香爐或符咒的圍巾、上面寫滿示愛字眼或不明黃色鬼畫符的百元鈔票，女方最後不堪其擾報警究責。新北地檢署認定，曾男前後共 13 次騷擾女護理師且使對方心生畏怖，依違反跟蹤騷擾防制法罪嫌起訴他。

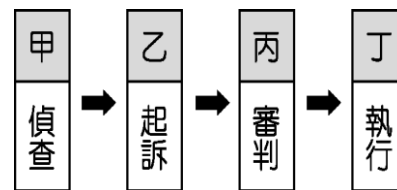
節錄改寫自《聯合新聞網》- 2024 年 2 月 23 日

35.根據本文，「女護理師不堪其擾報警的行為」，在刑事訴訟程序上稱之為什麼？

- (A)告訴 (B)告發 (C)自首 (D)自訴

36.根據本文，「新北地檢署依違反跟蹤騷擾防制法罪嫌起訴曾男」，參考附圖，下列相關敘述何者正確？

- (A)屬於甲階段，受害者委任檢察官提起自訴
(B)屬於乙階段，檢察官提起公訴、具體求刑
(C)屬於丙階段，由法官指揮警察辦案、蒐證
(D)屬於丁階段，書記官依判決指揮執行處罰



37.跟蹤騷擾防制法的立法緣由是要保障人民的身心安全及行動自由，所以有些行為被明定是構成違法的事項，如監視觀察、尾隨接近、寄送物品...等。請問：以下關於跟蹤騷擾防制法的敘述何者正確？

- (甲)規範私人間日常生活上權利義務關係的法律 (乙)保障國家法益，避免違害行政及司法的公正
(丙)規範何種行為是犯罪與受到何種刑罰的法律 (丁)保障個人法益，避免身體、自由、生命受害
(A)甲乙 (B)乙丙 (C)丙丁 (D)甲丁

38.跟蹤騷擾防制法於 2022 年 6 月 1 日正式施行，文中跟騷行為若發生在生效日之前，則不能依此法處罰。請問：上述是基於下列何種法律精神？

- (A)誠實信用 (B)權利濫用禁止 (C)無罪推定 (D)罪刑法定

39.跟蹤騷擾防制法第 18 條的條文節錄於下，請問：相關敘述何者正確？

第 18 條

第 1 項 實行跟蹤騷擾行為者，處一年以下有期徒刑、拘役或科或併科新臺幣十萬元以下罰金。

第 2 項 攜帶凶器或其他危險物品犯前項之罪者，處五年以下有期徒刑、拘役或科或併科新臺幣五十萬元以下罰金。

第 3 項 第一項之罪，須告訴乃論。

第 4 項

- (A)曾男若構成第 18 條第 1 項，屬於非告訴乃論罪 (B)曾男若構成第 18 條第 1 項，護理師可撤回告訴
(C)曾男若構成第 18 條第 2 項，屬於告訴乃論之罪 (D)曾男若構成第 18 條第 2 項，護理師能撤回告訴

40.承第 39 題，關於條文中提及的刑罰，以下說明何者正確？

- (A)三者皆屬主刑，剝奪犯罪者的資格 (B)罰金屬於從刑，不可以單獨科處
(C)拘役和沒收同屬從刑，附加於主刑 (D)有期徒刑為主刑，可以單獨宣告

41.新聞報導：跟騷法上路滿週年，警方分析，在書面告誡後，加害人超過 8 成不再犯。警政署防治組表示，『如果是屬於理性的行為人，他知道這個行為已經有法律在規範和處罰，就會調整自己的行為，避免構成罪責。』請問：由上述內容，可以了解該法規和處罰發揮以下何種效果？

- (A)給予應當的制裁，以伸張正義 (B)學習一技之長，成功重返社會
(C)產生嚇阻效果，達成預防犯罪 (D)熟悉法規內容，鑽研法律漏洞

【題組二】附圖為某法庭示意圖，請回答相關問題：

42.請問：圖中法庭相關人員的敘述何者正確？

- (A)甲是決定起訴的人
- (B)乙是出庭作證的人
- (C)丙負責記錄的工作
- (D)丁是擔任翻譯的人

43.請問：下列何項案件會在此法庭審理？

- (A)

(B)

(C)

(D)

44.承第 43 題，關於該案件，下列敘述何者正確？

- (A)基於債務不履行而生的民事糾紛
- (B)國家不能主動追訴、處罰此犯罪
- (C)屬於非告訴乃論之罪的刑事案件
- (D)訴訟前，可以透過調解尋求救濟

【題組三】小江近日瀏覽許多社會新聞，發現可以佐證公民課所學的知識，請回答相關問題：

社會新聞①：一艘中國快艇闖金門海域，我國巡防艇追捕釀翻船 2 死意外。某黨議員認為，某黨前主席發言倒因為果，侮辱海巡單位，議員赴台北地檢署□□該名前主席涉犯刑法妨害名譽罪嫌。

社會新聞②：一群國中生跑到台北某公園停車場放鞭炮，其中 2 人把鞭炮丟進停車場收費亭，未料引發火警，整個站崗亭都全部燒毀。警方已找到 2 名涉案的 14 歲國中生，全案依公共危險罪送辦。

社會新聞③：彰化三姊弟過馬路時，遭 74 歲蕭姓老翁無照駕駛撞擊重傷命危。其中姊姊、妹妹還在醫院救治，尚無法確定移送罪名，在製作完老翁的筆錄後，先讓他回家，請他等待警方通知。

社會新聞④：台灣安博公司負責人黃某涉與大陸盜版侵權業合作，供消費者免費看電視頻道作品，新北地院今天依違反著作權法判黃某有期徒刑 4 年，應賠償 53 個頻道共 1 億 3250 萬元。

45.根據社會新聞①，□□應是刑事訴訟中何項程序？ (A)告發 (B)告訴 (C)公訴 (D)自訴

46.參考社會新聞②，其中 2 名涉案的國中生應負的法律責任為何？

- (A)無責任能力，不以刑罰制裁
- (B)完全責任能力人，受刑法制裁
- (C)具完全行為能力，自行賠償
- (D)限制責任能力人，得減輕處罰

47.根據社會新聞③，此時應是屬於下列何項刑事訴訟階段？

- (A)偵查階段
- (B)起訴階段
- (C)審判階段
- (D)執行階段

48.根據社會新聞③，蕭姓老翁應是屬於下列何種狀況？

- (A)違反交通法規，不構成犯罪
- (B)出於過失，老翁沒有刑事責任
- (C)和瘡啞人相同，得減輕其刑
- (D)具完全責任能力，受刑罰制裁

49.根據社會新聞④，黃姓負責人應該承擔什麼法律責任？

- (A)僅負民事賠償責任
- (B)只須承擔刑事責任
- (C)民事責任及刑事責任
- (D)兩種法律責任擇一

50.「社會新聞①②③中的嫌犯尚不能論定有罪，而社會新聞④黃某則是有罪之人。」這是基於刑事訴訟法的何項法律原則？ (A)無罪推定 (B)罪刑法定 (C)契約自由 (D)權利濫用禁止



本試題卷結束

謝謝你耐心作答，若有時間，請再檢查一次