

新北市立鶯江國民中學 112 學年度 第 2 學期 7 年級 社會科 第 2 次段考 題目卷

命題教師：社會領域教師 日期：5 月 15 日 第 4 節 班級： 座號： 姓名：

共 50 題，每題 2 分，總分 100 分。

【公民部分 第 01~16 題】

- 請問：根據團體的構成特徵判斷，下列選項中何者符合團體的定義？  
(甲)鶯江國中足球隊 (乙)在電影院觀看《排球少年》的觀眾 (丙)排隊等廁所的逛街民眾  
(丁)同政黨的黨員 (戊)綠色和平組織的會員。  
(A)甲丁戊 (B)甲乙戊 (C)甲丙丁 (D)乙丙戊。
- 下課後同學們正在討論團體的概念，請問：誰的說法才是正確的？  
(A)伊恩：志願結社不一定要向政府正式立案登記才能組成  
(B)芷妍：團體由三人以上組成，成員經常互動具共同目標  
(C)誌謙：志願結社是人民由上而下建構公民社會的基礎  
(D)安琪：所有團體都能依照個人自由意願決定是否參與。
- 人是具有社會性的群居動物，我們可以藉由加入各種團體，滿足不同的需求。請問：下列何者參與團體的目的和其他三者不同？  
(A)我參加同學組的讀書會，希望段考名次能更進步  
(B)我跟著父母參加教會，和教會朋友分享日常生活  
(C)我參加划船隊，練習划船技巧希望比賽有好成績  
(D)我參加動保團體，致力向大眾宣導動物保護觀念。
- 今年 1 月桃園市機師職業工會發布聲明表示，工會與長榮航空公司之間勞資爭議逐項達成協議並正式簽約，允諾不會在今年春節、清明節連假舉行罷工。請問：關於「工會」的敘述，何者正確？  
(A)是勞資雙方共同組成的團體 (B)有助於平衡勞資地位不平等  
(C)有助於維護航空業整體利益 (D)加入團體只能滿足情感需求。

【5-8 為題組】

4 月 3 日上午花蓮發生規模 7.2 強震導致多處災情，民間團體分別展開緊急救援，除啟動災民收容與關懷服務，也透過募款提供家戶修建補助、生活扶助金等，協助後續重建復原。

其中，基督教芥菜種會協助撤離倒塌大樓的災民，並提供急難救助金及生活物資，且開放位在花蓮習藝所的「國中課後陪讀班」及「青春 young 基地」，由社工陪伴，提供有需要的兒少讀書和育樂的活動空間，期望協助災民早日恢復日常生活。

<改編自中央社 CNA 的報導>

- 請問：文中第二段提及芥菜種會的行動，是志願結社的哪一項特徵？  
(A)民間性 (B)自主性 (C)非營利性 (D)組織性。
- 請問：芥菜種會的成立，是基於何種法規所保障的何項基本權利？  
(A)《憲法》，結社自由 (B)《人民團體法》，結社自由  
(C)《憲法》，集會自由 (D)《集會遊行法》，言論自由。
- 芥菜種會由善心人士組成，致力於各項救濟事業，照顧孤兒寡婦、受刑人或貧困、疾病的民眾等。長期鼓勵民眾捐款，認養弱勢家庭的兒童。請問：關於此團體的敘述，下列何者錯誤？  
(A)是依人民自由意願組成的志願團體 (B)由人民所組成的非政府組織，具有民間性  
(C)為一合法成立的組織，具有組織性 (D)募款的經費用於認養兒童，具有非營利性。
- 芥菜種會提供社會上需要幫助的弱勢家庭兒童照顧及相關服務，顯示志願結社對公共生活產生何種影響？  
(A)匯集形成公共意見 (B)擴大個人的影響力 (C)增進社會公共利益 (D)影響監督政府施政。

【9-10 為題組】

你是否曾在通訊軟體上收到親朋好友或長輩傳來的訊息，打開一看卻覺得怪怪的？心理學專家分析，當資訊與接收管道愈來愈多且複雜，人腦會簡化資訊，研究發現有 7 成民眾只看文章標題就轉傳。

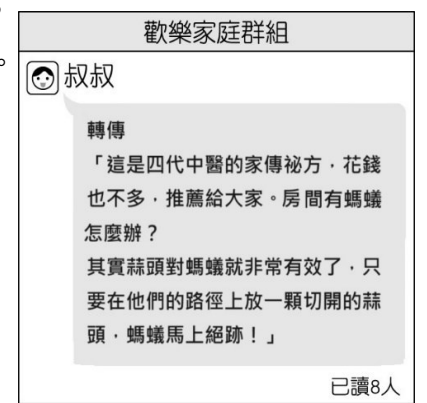
研究也發現，民眾最容易分享正確且有趣的訊息；如果不確定是否正確但覺得有趣，也會傾向分享。未來世界真假難辨的訊息一定愈來愈多，建議民眾可以學著分辨可疑訊息，避免假訊息流竄。〈改編自中央社 CNA 的報導〉

9. 上文畫線處提醒閱聽人應學會分辨可疑訊息，請問：下列作法何者較無法辨識假訊息？

- (A) 查核作者的真偽 (B) 屏除個人的偏見 (C) 閱讀標題的長短 (D) 確認資料的來源。

10. 小洋收到叔叔在家庭群組裡傳的訊息，根據媒體識讀，面對此類訊息時小洋應該怎麼做？

- (A) 趕快去買蒜頭分給親朋好友一起試  
(B) 直接轉傳到其他群組讓更多人知道  
(C) 請 CNN 盡快對此類假訊息進行開罰  
(D) 先查證是否為正確訊息再發表意見。



【11-14 為題組】

蘇丹紅毒辣椒粉引發食安問題，許多產品都遭受到牽連，有民眾在行政院公共政策網路參與平台發起連署，要求政府正視食安問題。根據某機構公布的民調顯示，高達 43.2% 民眾非常擔心自己或家人吃到蘇丹紅辣椒粉、32.5% 還算擔心、17.3% 不太擔心、5.7% 一點也不擔心、1.2% 沒意見/不知道，顯示蘇丹紅辣椒粉事件已引發部分民眾的焦慮和恐慌。同時多數民眾也希望政府對於食安的把關更加嚴謹，加重對於不肖業者的懲處。〈改編自 TVBS 的報導〉

11. 針對是否擔心自己或家人吃到蘇丹紅辣椒粉的問題，有的民眾表示擔憂，也有民眾完全不擔心。請問：此情形呈現公共意見的何項特性？

- (A) 公開性 (B) 差異性 (C) 不穩定性 (D) 影響性。

12. 蘇丹紅事件引發大眾對食安問題的關心，請問：根據畫線處，下列敘述何者呈現公共意見的「影響性」？

- (A) 此次食安風波影響民眾對政府的信心 (B) 食安風波導致民眾上街抗議政府無能  
(C) 毒辣椒粉影響民眾健康就醫情形增加 (D) 政府擴大食品的檢驗量能並提高罰款。

13. 毒辣椒粉風波後，各家媒體針對食安進行深入的追蹤報導，除關注廠商的改善情形外，也關注政府的後續作為。請問：下列敘述何者與此無關？

- (A) 媒體報導維護民眾「知的權利」 (B) 媒體報導應客觀避免特定立場  
(C) 媒體報導扮演監督政府的角色 (D) 展現媒體與閱聽人的雙向互動。

14. 網路世代崛起使政府開始重視網路民意，而公共政策網路參與平台便是民眾透過網路發表公共意見的管道之一，民眾的提議在開放附議後 60 天內獲得超過 5000 份附議即成案，權責機關必須做出回應。請問：下列相關敘述何者正確？

- (A) 在平台上發表意見展現結社自由 (B) 平台上的正反意見展現民意的不穩定性  
(C) 此平台具有匯集公共意見的功能 (D) 平台為民間團體設置政府不一定會參考。

【15-16 為題組】

爭議多時的《人工生殖法》修法，衛福部日前舉辦首場公聽會，邀請專家學者及民間團體等代表出席發言，廣徵各界意見：

- (1) 醫界代表認為，少子化困境無法再等，主張有條件開放人工生殖適用對象及代理孕母。  
(2) 某協會執行長指出，支持女女同志用人工生殖技術來生養自己子女的比例超過 55%。  
(3) 某協會祕書長則指出，部分民眾反對代理孕母合法化，以免貧困的婦女以出租自己的子宮來謀生。

衛福部次長表示，衛福部對於《人工生殖法》的修正案，並沒有任何的預設立場，民眾若對代理孕母等修法議題有意見，也可在國健署臉書留言，將列入修法參考。

[註] 人工生殖：指利用生殖醫學之協助，以非性交之人工方法達到受孕生育目的之技術。〈改編自公視新聞網的報導〉

15. 看完此篇文章後同學們分別提出自己的看法，請問：誰的說法有誤？

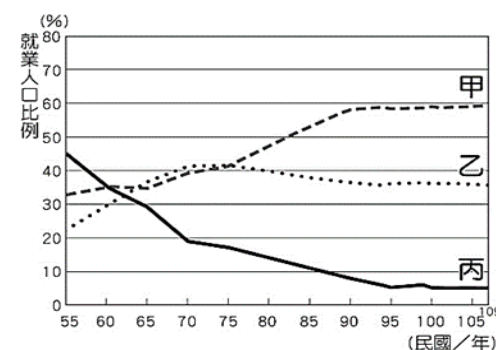
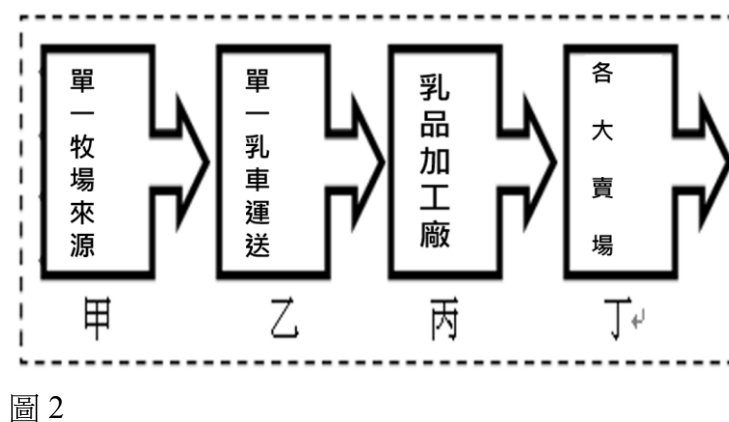
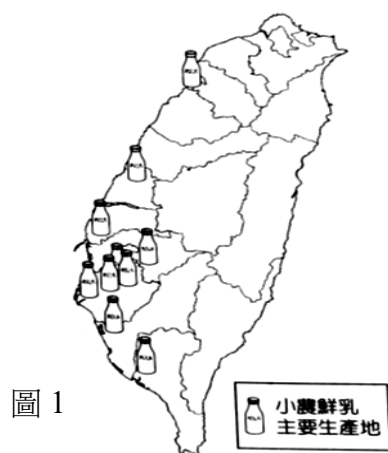
- (A) 娜琳：民眾分持不同看法顯示公共意見的不穩定性  
(B) 小惟：民眾在公聽會上發言是憲法保障的言論自由  
(C) 敏知：民眾可以透過公聽會、臉書等管道表達意見  
(D) 阿彬：針對此事，媒體的報導維護閱聽人知的權利。

16. 請問：下列何者最適合用來說明上述內容？

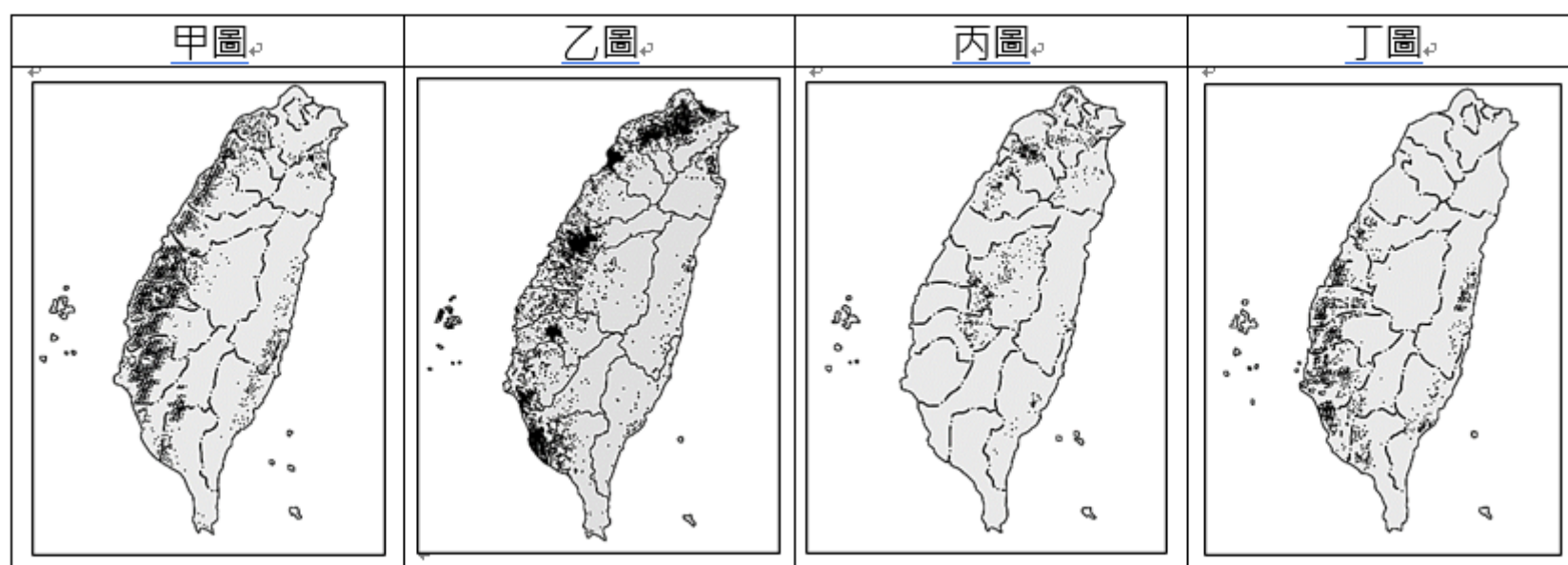
- (A) 網路資訊發達，未經查證可能誤傳假訊息  
(B) 媒體報導支持特定立場，容易誤導閱聽人  
(C) 政府已決定好立場，公聽會只是表面功夫  
(D) 民眾可透過不同管道向政府表達公共意見。

【地理部分 第 17~33 題】

17. 近年消費者對食品安全的重視提高，因此傾向選擇標榜無成分調整、單一乳源的「小農鮮乳」，圖 1 是臺灣的小農鮮乳主要生產地分布。關於該商品與其生產地的敘述，下列何者**錯誤**？(A)屬於酪農業 (B)主要分布在嘉南平原 (C)飼養方式應為天然放牧 (D)在第一級產業中較不受到 WTO 的衝擊影響。



18. 承第 17 題，圖 2 是小農鮮乳生產流程，請問甲乙丙丁那些屬於第三級產業？(A)甲丙 (B)乙丙 (C)丙丁 (D)乙丁。
19. 圖 3 是台灣歷年來三級產業的就業人口比例圖，從圖 3 中的數據變化所判斷出的狀況，何者資訊**錯誤**？  
 (A)甲是第三級產業、乙是第二級產業、丙是第一級產業 (B)台灣目前就業人口多屬於直接利用自然資源的產業  
 (C)甲、乙就業人口比例提高代表台灣經濟發展程度提升 (D)台灣農業目前面臨勞動力缺乏的危機。
20. 「鶯江國中的頂樓花園正在復育著茉莉花、梔子花、秀英花，這些香花日治時期三蘆地區曾經種了許多，因富含精油，可做香水，也可和茶葉混合，做成花茶」。由此可知昔日這些香花的種植，和上面敘述的哪一個經濟作物種植有關？(A)甲圖 (B)乙圖 (C)丙圖 (D)丁圖。



21. 「2009 年侵襲臺灣的莫拉克颱風帶來驚人雨量，隨著豪雨沖刷下來的漂流木，布滿東海岸的海域，導致臺東許多漁港暫時關閉；部分漂流木更順著洋流流動到其他國家附近的海域，影響其海上作業船隻的安全。」根據上文和臺灣附近洋流流向判斷，最有可能順著哪一道洋流流到日本去？(改寫自 105 會考)  
 (A)黑潮 (B)親潮 (C)中國沿岸流 (D)北大西洋暖流。
22. 每年 10 月起至翌年 4 月底，捕撈鰻魚魚苗是臺灣漁民傳統產業活動之一，更是許多漁民維持生計的重要經濟來源。農委會於 2013 年訂定相關捕撈規定，其中一項是：每年自 3 月 1 日至 10 月 31 日止，禁止於距岸三哩內海域、潮間帶及河口水域以任何方式捕撈鰻苗。請問上述規定禁止捕撈鰻苗的海域屬於哪一種漁業類型？(改寫自 109 會考)  
 (A)養殖漁業 (B)沿岸漁業 (C)近海漁業 (D)遠洋漁業。
23. 近年來，在政府與民間的努力下，開發出米麵包、米蛋糕、米布丁、米鳳梨酥、米冰淇淋等新米食。請問上述作法可歸類為下列哪一種農業轉型策略？(改寫自 112 會考)  
 (A)品質提升 (B)品牌經營 (C)改善通路 (D)多角化經營。
24. 近年來臺灣農業的轉型開始朝向「共享」，如成立產銷班、創建共享平臺。農民透過這些機制取得土地、機器設備或溫室等，以達到擴大生產規模，並且幫助降低負擔成本。請問這樣的「共享」農業轉型，最主要是因應臺灣農業的哪一個特色？(改寫自 108 會考) (A)農作種類多樣 (B)農業耕地狹小 (C)農村人力老化 (D)農產品商品化。



25. 智慧變頻空調、智慧 AI 電鍋等智慧科技，是台灣高科技產業的新發展方向之一，其整合通訊傳輸、雲端等技術，透過手機、網路等裝置，發展智慧化服務，讓我們的生活更加便利。請問像這樣智慧科技工業具備下列哪些特色？(甲)附加價值高(乙)技術密集度高(丙)需要大量資金(丁)原料需求量大(戊)勞力密集度高。  
(A)甲乙丙 (B)乙丙丁 (C)甲乙丁 (D)乙丁戊。
26. 小鷺到高雄科學工藝博物館進行校外教學，回程時老師交代作業為整理台灣工業發展的歷史。其中，小鷺蒐集到的資料為台灣各時期工業發展主要產品：(甲)鳳梨罐頭(乙)手機晶片(丙)迷你短裙(丁)建築鋼材。若依台灣工業發展時間先後順序排列，下列哪一個較為正確？(A)甲乙丙丁 (B)乙丙丁甲 (C)甲丙丁乙 (D)丙甲丁乙。
27. 圖 4 為台灣歷年工資變化圖，為因應其發展，著重勞力資源的紡織業應逐漸朝向何種方向進行轉型，才能達到增加產品附加價值的目的？  
(A)技術研發提高品質 (B)增加勞工工作時間 (C)大量引進外籍勞工 (D)移往日本加工生產。

年份	月薪	時薪
2018 年	22,000 元	140 元
2019 年	23,100 元	150 元
2020 年	23,800 元	158 元
2021 年	24,000 元	160 元
2022 年	25,250 元	168 元

圖 4

產品	特性
1+	100 公斤原料可製成 10 公斤產品。
2+	1 立方公尺原料可製成 100 立方公尺產品。
3+	原料製成產品需要以人力進行細密的加工
4+	原料很常見，不過製成產品時需要消耗大量的能源

表 5

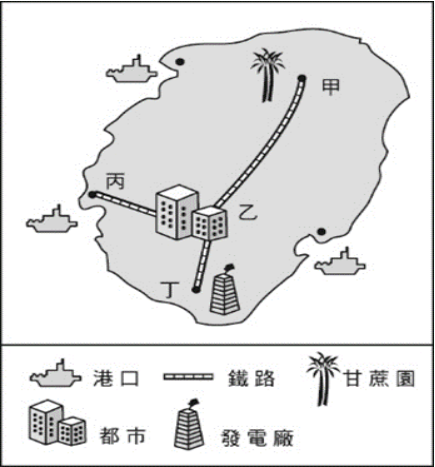


圖 6

28. 表 5 是四種不同產品的特性說明，若僅考慮表中的產品特性，下列哪兩項產品的設廠地點應盡量接近圖 6 中的乙地？(改寫自 106 會考)(A)產品 1 和產品 2 (B)產品 2 和產品 3 (C)產品 3 和產品 4 (D)產品 4 和產品 1。
29. 宜蘭有許多港口，更是家喻戶曉的同榮鯖魚、老船長茄汁鯖魚、紅鷹牌海底雞等知名品牌魚罐頭的出產地，被譽為『臺灣魚罐頭的故鄉』。請問下列哪一項因素是宜蘭眾多水產加工廠設廠的首要考量因素？  
(A)鄰近消費市場 (B)擁有低廉勞力 (C)原料容易腐壞 (D)產品體積大。
30. 台灣的產業活動以國際貿易為主，因此需面臨其他國家的競爭。以台灣目前工業發展的主力來看，表 7 中哪一個國家的主要出口項目，與我國的競爭性最大？(A)甲國 (B)乙國 (C)丙國 (D)丁國。

國家	出口項目
甲國	木材、石油、小麥
乙國	服飾、玩具、甘蔗
丙國	鐵礦、石油、咖啡
丁國	半導體、筆電、手機

表 7

31. 圖 8 是民國 108 年臺灣的進口品項比例，其中農工原料占比最高，主要與臺灣的何項地理環境因素有關？  
(A)國內市場規模小 (B)四面環海，海岸線綿長 (C)面積小，缺乏資源 (D)第一級產業勞力老化嚴重。

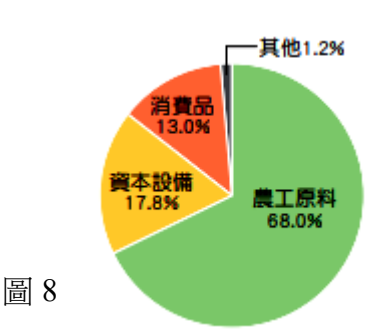


圖 8

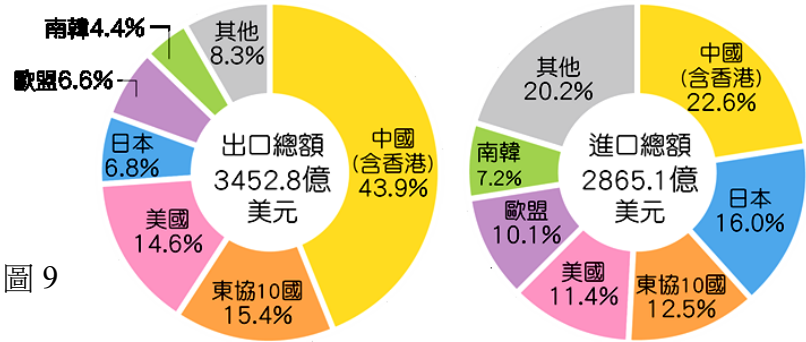


圖 9

32. 圖 9 是民國 109 年臺灣進出口總額與主要進出口貿易對象的圓餅圖，根據圖 9 中所呈現的資訊判斷，與臺灣貿易的國家，多位於哪一洲？(A)亞洲 (B)非洲 (C)歐洲 (D)美洲。
33. 承第 32 題，根據圖 9 中所呈現的資訊判斷，下列說明何者正確？(A)台灣經濟整體表現為入超 (B)美國是臺灣最大的貿易夥伴 (C)臺灣對東協的貿易關係為入超 (D)臺灣最大的入超國家是日本。

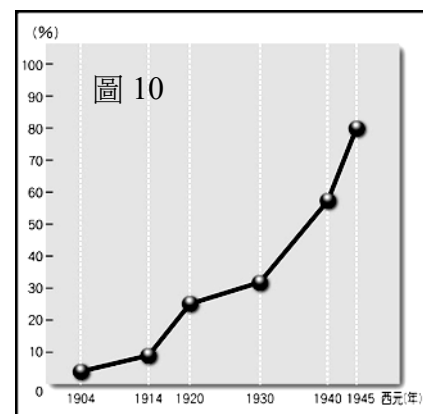
【歷史部分 第 34~50 題】

34. 「離開角板山之前，我們去參觀了蕃童教育所，孩子們以非常悅耳的聲音，演唱日本國歌給我們聽。孩子們上臺演講，開頭都很相似：『我是一個窮苦的小蕃童。在善良的日本人來到這之前，我非常無知。現在親切的老師會教導我很多事情……』日本人正訓練他們學習某些手工藝，好讓他們以此維生，因為他們已不再能保有過去那種令人興奮的打獵生活。我帶著一絲失落離開角板山。看著這些充滿野性的山林之子被沉悶的工作所束縛，這樣的場景帶有某種辛酸的可悲，簡直像是野獸被困在牢籠裡一般。」這是一名二十世紀初期，到臺灣的美國外交官夫人所留下的紀錄。請問：下列哪一個是這位外交官感嘆的原因？

- (A) 學生很認同在蕃童教育所內任教的日籍老師  
(B) 原住民主動接受新式教育  
(C) 原住民被迫改變他們的傳統生活方式  
(D) 蕃童教育所的設備與師資十分優良，是很好的學習環境。

35. 圖 10 為日治時期臺灣學齡兒童就學率的情形，從表中可以看出，西元 1940 到 1945 年，臺灣兒童就學率迅速提升。請問：這段時期就學率提升的原因為何？

- (A) 實施義務教育 (B) 升學考試多元，增加讀書意願  
(C) 補助清寒子弟獎學金 (D) 總督府增設公學校給台灣人就讀。



36. 圖 11 為西元 1949 年所頒布的《戒嚴令》。此一命令對臺灣人民造成什麼樣的影響？

- (A) 吸食鴉片者需憑證才能購買鴉片 (B) 纏足辮髮遭到革除  
(C) 「黨外」勢力因而崛起 (D) 人民基本權利受到限制。

圖 11



37. 電影《返校》由徐漢強執導，王淨、傅孟柏、曾敬驊、蔡思韻及朱宏章主演，講述在臺灣某一時期的山區高中裡，一群人不願服從威權體制而受到政府懲治的故事。請問：這部電影的時代設定，可能是下列哪一時期？

- (A) 1930 年代 (B) 1960 年代 (C) 1980 年代 (D) 1990 年代。

38. 許丙丁(1900-1977)是日治時期最知名的臺灣漫畫家，他在西元 1920 年參加總督府舉辦的全臺首次臺籍基層警察考試，成為警察後，許丙丁利用工作於創作漫畫，作品多以呈現警界生態及社會面貌為主。請問：許丙丁最不可能經歷下列何事？

- (A) 臺灣議會設置請願運動 (B) 戒嚴 (C) 臺灣民主國成立 (D) 二二八事件。

39. 排灣族歌手阿爆的母語專輯《kinakaian 母親的舌頭》獲得 2020 年金曲獎最佳年度專輯獎，也讓各界越益重視原住民的語言及文化。但早期哪些政府的作法，對原住民的身分認同、語言文化、傳統土地權等方面，帶來衝擊或使其喪失權利？(甲)政府同意原住民的訴求，給予其「正名」，制定並通過法律保障其人權；(乙)政府透過學校教育，推行說國語運動；(丙)政府劃設山林保護區或設立國家公園；(丁)政府要求原住民以「漢名」登記戶籍

- (A) 甲乙丙 (B) 甲丙丁 (C) 乙丙丁 (D) 甲乙丁。

40. 歷史老師將戰後臺灣重要事件的漫畫（如圖 12）貼在黑板上，要求同學們按時間順序加以排列。請問：正確的時間順序應該是下列何者？

- (A) 乙甲丙丁 (B) 甲丙丁乙 (C) 丁乙甲丙 (D) 甲乙丙丁。

41. 老師上完日治時期的政治與社會運動後，讓同學進行討論並發表感想。下列同學的敘述何者正確？

- (A) 珈珈：這些運動是受皇民化時期的民族自決思潮所影響  
(B) 鴻鴻：這段期間，日本政府對臺灣採取武力壓制，由武官出任總督一職  
(C) 靜靜：經過知識分子的爭取後，總督府逐漸開放地方議員半數進行選舉  
(D) 君君：無方針主義的推展下，總督府大力支持政治與社會運動。



圖 12

42. 某直轄市市長曾表示：「民國六十八年的國際人權日，我與一群有著相同政治理想的夥伴，在這個城市舉行示威遊行，遭當時的執政黨逮捕判刑，沒想到今日我還能當選這個城市的市長，服務各位市民。」上述直轄市市長管轄圖 13 中的哪座城市？(A) 甲 (B) 乙 (C) 丙 (D) 丁。

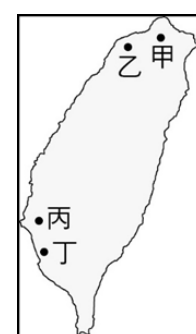


圖 13



43. 甲：我主辦雜誌，評論時政，政府盯上我了 乙：「廢除臨時條款」是我們的訴求  
丙：決議通過之後，我可以無限期連任總統 丁：政府已修憲，「山胞」這個名稱將被取代  
請問：哪個選項，最符合上面四個人的身分？  
(A)甲-學生、乙-黨外人士、丙-原住民、丁-雷震  
(B)甲-雷震、乙-學生、丙-蔣中正、丁-原住民  
(C)甲-雷震、乙-施明德、丙-馬英九、丁-李登輝  
(D)甲-黨外人士、乙-陳菊、丙-學生團體、丁-蔣經國。

44. 1935 年 11 月 22 日，臺灣有了史上第一次民主選舉，為臺灣各州市、會、街庄協議會員的選舉，投票率高達 9 成。在投票前，各州印製選舉手冊，明定選舉規定，此即為臺中州會、市、街庄協議會員選舉手冊(如圖 14)，由臺中州警務部於 1935 年（昭和十年）8 月 20 日出版發行，可見當時的選舉規定與準則，包含政見發表、秘密投票、不可賄選等，大致與現代選舉相同。請問此次政治上的突破，來自於下列哪的政治社會運動團體的努力？




圖 14

- (A)臺灣文化協會 (B)臺灣地方自治聯盟  
(C)台灣民眾黨 (D)臺灣議會設置請願運。
45. 吳濁流的長篇小說波茨坦科長及臺灣連翹，描述日治時期到臺灣光復後的社會現況，其中更細膩刻畫二二八事件前後臺人的轉變。請問依據史實，下列關於二二八事件的描述，何者「不可能」出現在小說中？  
(A) 為支援第二次世界大戰，物資多運往中國，民生物資遭壟斷，人民不滿政府  
(B) 部分軍警、官員貪污腐化，軍紀敗壞，濫用特權，民眾失望  
(C) 臺灣與中國分隔已久，民情、語言不盡相同，引發誤解與衝突  
(D) 國軍抵臺後，進行鎮壓手段並以「清鄉」為名，殺害不少臺民，造成許多冤獄。

【題組一：第 46~48 題】

請閱讀以下對台灣某事件之口述歷史資料：

「天馬茶行旁，一側有兩攤賣私菸的……傅學通等六個警察（按：傅學通並不是警察，而是專賣局查緝員）那天並不是第一次去大稻埕查緝私菸，而是常常去。……警察拿了菸，還搶了錢，林江邁當然不甘心，要把錢搶回來。警察和菸販，兩方拉拉扯扯之際，傅學通竟然拿槍管打林江邁，林江邁當場血流如注。旁觀民眾看不下去，才有人喊打，羣眾蜂擁而至。」

節錄廖德雄（廖進平三子，時為學生自治會聯合會會長、處委會治安組副組長）對當時事發之回顧

46. 請問：事件爆發前，台灣民眾過著怎麼樣的生活？  
(A)政府徵收、搜刮米糧，導致台灣的物價飛漲 (B)戒嚴令的頒布，中華民國政府嚴格管控經濟  
(C)日本為控制台灣的經濟，實施菸酒專賣制度 (D)「黨外」人士被捕，人人自危，互相不信任。
47. 請問：事件爆發後，台灣人民會遇到什麼情況？  
(甲)政府任命陳儀擔任行政長官，開始掌管台灣接收事宜 (乙)政府開始實施「清鄉」，強力掃蕩反政府份子  
(丙)爆發「野百合學運」，學生上街抗議要求政府改革 (丁)中央政府直接派軍隊來到台灣強力鎮壓  
(A)甲丁 (B)甲乙 (C)乙丙 (D)乙丁。
48. 請問：這個事件結束後，對現今社會造成什麼影響？  
(A)解除黨禁與報禁，政黨與報社逐漸變多 (B)增設「二二八和平紀念日」，政府公開道歉  
(C)頒布動員戡亂時期臨時條款，擴大總統職權 (D)開始實施地方自治，開放地方行政首長選舉。

【題組二：第 49~50 題】

龍龍是出生在 1890 年代的臺灣人。在幼時記憶裡，父母以前的作息規律全是按旬、朔望、月、季來訂計畫。後來，臺灣換了新主人後，一切作息規律全改變，爸爸買了一個時鐘回來，每天對著收音機廣播對時，爸爸上班、龍龍上學都要聽從它的指示……。

49. 上文中提到的「臺灣換了新主人」，是指何事？  
(A)清朝接收了臺灣 (B)臺灣人選了新總統 (C)日本開始統治臺灣 (D)荷蘭占領臺灣。
50. 龍龍一家人「一切作息規律全改變」，這是因為哪一制度的實施？  
(A)貨幣統一制 (B)標準時間制 (C)保甲制度 (D)六年國民義務教育。

試題結束