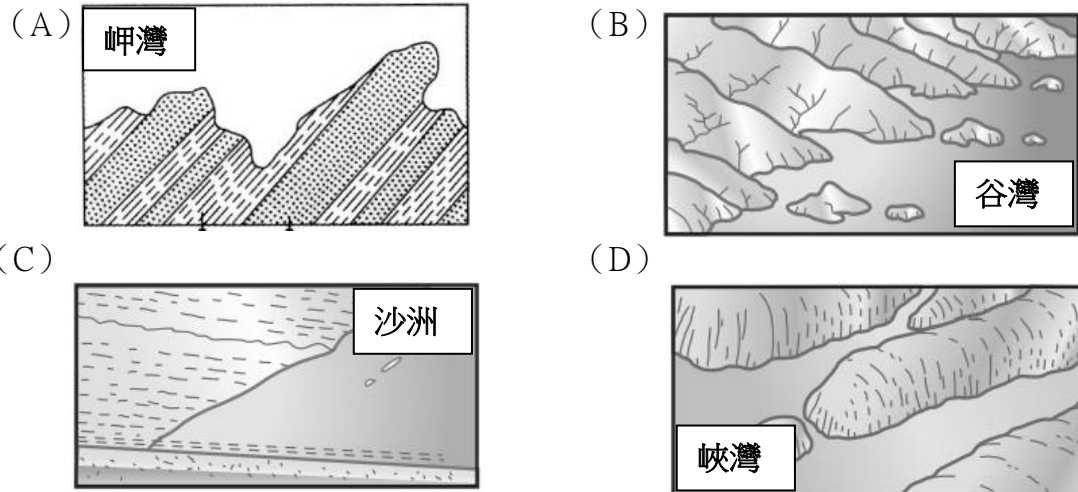


【地理部分】1-17 題

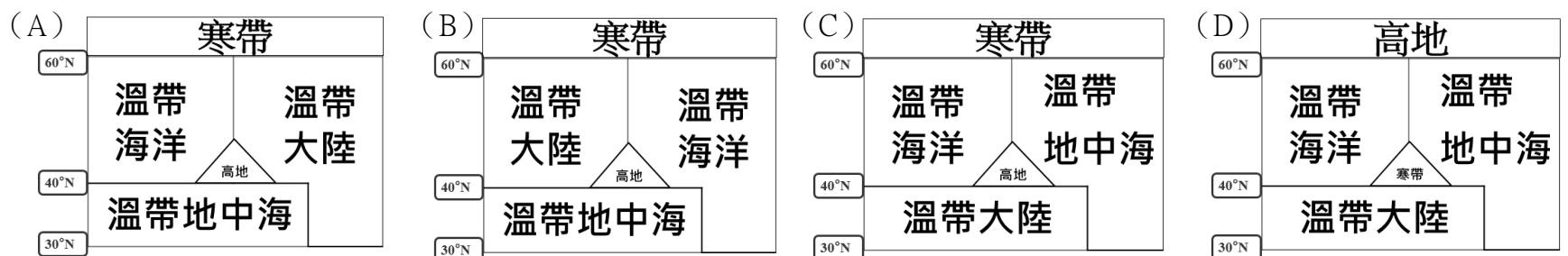
1.歐洲最高的山脈為阿爾卑斯山，山脈涵蓋義大利北部、法國東南部及瑞士等國，平均海拔 3000 公尺。然而阿爾卑斯山雖地勢高聳，但許多受□□侵蝕的谷地底部寬平，可作為南歐區域和歐洲大平原間的天然孔道，因此山勢雖高卻不阻礙歐洲南北交流。請問：上文中的□□應填入何者較為正確？此種谷地應是指什麼？

- (A) 海水侵蝕；U 型谷 (B) 冰河侵蝕；U 型谷 (C) 河水侵蝕；V 型谷 (D) 海風侵蝕；V 型谷。

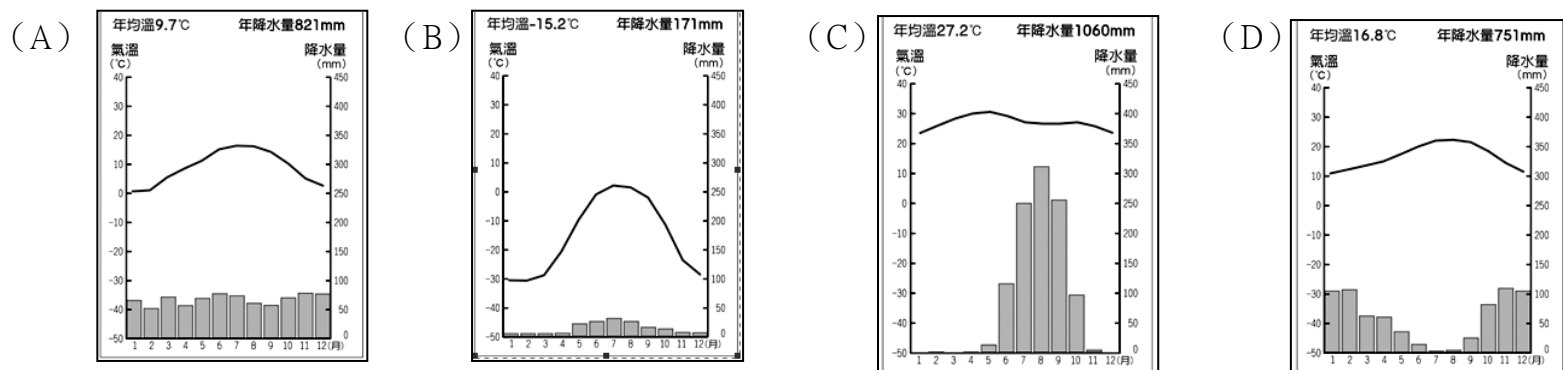
2.呈上題，若此種谷地受海水入侵，則會形成下列何種地形？



3.歐洲多數地區屬中緯度溫帶氣候，受西風和北大西洋暖流影響，氣候較同緯度的地區更溫暖潮濕，且因山脈東西向不阻擋海洋水氣，使歐洲成為世界上唯一沒有沙漠氣候的一洲，請問：下列哪張圖較符合歐洲氣候的分布？



4.封裝酒瓶的軟木塞是由栓皮櫟的樹皮製成，而在歐洲種植的栓皮櫟卻因生長季和雨季無法配合，因此需要仰賴灌溉，請問：在歐洲生長的栓皮櫟其當地氣候圖應是下列何者？【改編自 108 年會考】



5.呈上題，此氣候的形成原因為何？

- (A) 夏：赤道低壓帶籠罩/冬：東南信風吹拂 (B) 夏：副熱帶高壓籠罩/冬：東南信風吹拂
(C) 夏：副熱帶高壓籠罩/冬：西風吹拂 (D) 夏：赤道低壓帶籠罩/冬：西風吹拂。

6.歐洲大部分地區適宜人居，是世界人口分布最平均的一洲，然而歐洲發展至今，也衍生了不少人口問題，請問：

下列有關歐洲人口的敘述，何者錯誤？(A) 人口分布均勻和氣候及地形有關 (B) 歐洲各國政府應廣設中小學校
(C) 醫療衛生發達使人口老化 (D) 死亡率較高是因為老年人口比例高。

7.過去蘇聯曾實施計畫經濟，由政府統籌一切生產和分配，當時的人民雖沒有失業問題，但因為人民態度不夠積極且缺乏效率，使這些實施計畫經濟的國家就算現在早已經經濟改革，仍屬經濟發展較緩慢的區域。請問：下列哪個國家較符合上文所述的情況？

- (A) 英國 (B) 德國 (C) 波蘭 (D) 芬蘭。

8.歐洲聯盟是歐洲多國共同建立的政治及經濟聯盟，現已擁有 27 個成員國，歐盟在 1973 年至 2013 年期間共進行過八次擴大，成員國從 6 個增至最多時有 28 個。起初建立的動機，是渴望重建二戰後損失慘重的歐洲，並避免歐洲再度陷入戰爭的泥潭。請問：有關歐盟的敘述，下列何者正確？ 甲：歐盟會員國間貿易時彼此免關稅 乙：會員國的工業產品規格統一 丙：捷克吸引企業投資設廠是因為工資較低廉 丁：所有會員國皆使用歐元貿易。

(A) 甲乙丙 (B) 甲丙丁 (C) 乙丙丁 (D) 甲乙丁。

9.呈上題，歐盟一直以來被眾人視為區域組織中成功的典範，但歐盟繁瑣的法規與政策卻讓某國認為經濟成長受到束縛，且來自歐盟國家之移民規模日漸龐大，排擠國內人民的就業機會，也威脅其邊境安全。因此某國於 2016 年公民投票決定脫歐，並於 2020 正式退出歐盟。請問：上文中的某國應是指下列何者？

(A) 英國 (B) 德國 (C) 瑞士 (D) 冰島。

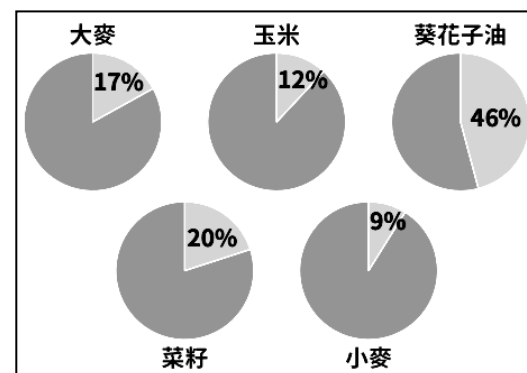
10.2020 年 COVID-19 爆發，全球眾多人口死亡或陷入重症，即使是醫藥相對發達的西歐國家也難以倖免。其中部分歐洲國家為減緩疫情擴散的速度，自行宣布關閉邊境，此舉被認為是對某項國際合作協議的重大挑戰。上述的國際合作協議是指下列何者？

(A) 歐洲聯盟 (B) 亞太經濟合作會議 (C) 東南亞國家協會 (D) 申根公約。

11.地理老師暑假時到歐洲自由行，旅行途中地理老師先到某地參觀歐洲文明與奧林匹克運動會發源地，此國境內有許多重要遺址，之後前往萊茵河出海口的歐洲最大港鹿特丹，一睹歐洲最繁忙港口的風采，最後抵達某國觀光時，發現當地人民正為政府的高稅金上街遊行抗議。請問：地理老師遊玩的國家路線可能為何？(A) 義大利→荷蘭→瑞士 (B) 希臘→荷蘭→丹麥 (C) 西班牙→芬蘭→德國 (D) 希臘→瑞士→法國。

12.附圖為 2021 年烏克蘭占全球農產品出口比例圖，下列敘述哪項最能說明此圖？

(A) 烏克蘭是世界重要能源出口國 (B) 全球有一半的小麥產自烏克蘭
(C) 全球葵花子油可能因戰爭短缺 (D) 烏克蘭為全球主要糧食進口國。

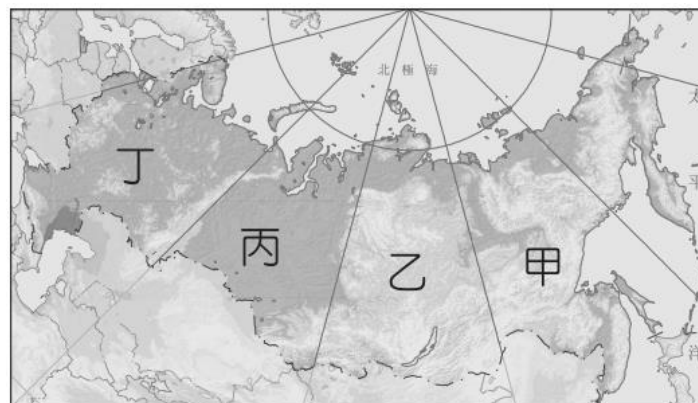


13.西元 1812 年拿破崙進軍俄羅斯，法國五十萬大軍長驅直入，但最後竟不敵俄國的自然環境，黯然而歸。請問：造成拿破崙軍隊潰敗的主要原因可能為何？

(A) 緯高冬寒漫長 (B) 河谷高低起伏
(C) 西風強勁吹拂 (D) 冰河地形崎嶇。

14.俄羅斯人口分布不均，右圖中的丁區是人口聚集的精華區，請問：

丁區是下列何種地形？
(A) 西部西伯利亞平原 (B) 中部西伯利亞高原
(C) 東部西伯利亞山地 (D) 歐俄平原。



15.俄羅斯長年依靠大量出口某項產品，使其經濟快速成長，目前更規劃要將此種產品利用管線的方式，輸送至中國和日本等地，但此產品容易受到國際物價波動影響，是俄羅斯經濟發展的隱憂。請問：此種產品應是何者？

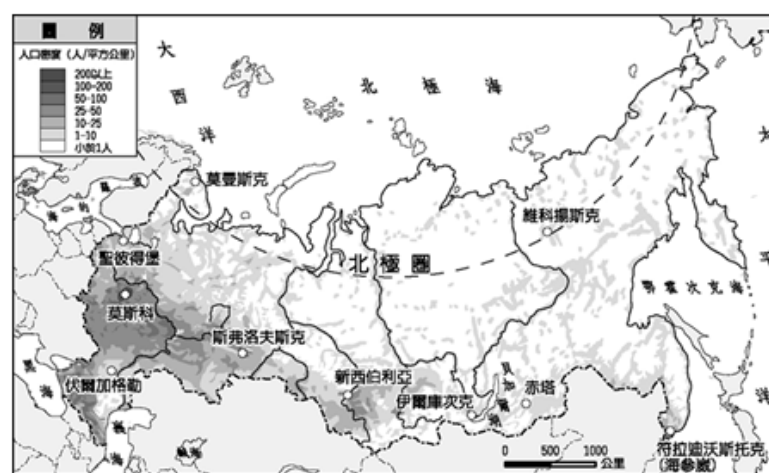
(A) 木材 (B) 石油 (C) 煤礦 (D) 鐵礦。

16.右圖是俄羅斯境內的人口分布圖，圖中西伯利亞的人口主要分布在南部地區，其主要的原因為何？

(A) 鄰近中國 (B) 平原廣闊
(C) 雨量豐沛 (D) 氣候溫暖。

17.地理老師到俄羅斯遊玩時，發現當地教堂的屋頂使用傳統木材，多設計為無縫渾圓，酷似「火焰型的洋蔥」，可以抵抗寒冷的天氣，表面再加上一層鉛或銅的外漆，以增加莊嚴和華麗的感覺。其中莫斯科的聖巴西爾大教堂，就被視為某宗教的代表性建築。請問：某宗教應是下列何者？

(A) 東正教 (B) 伊斯蘭教 (C) 天主教 (D) 基督教。

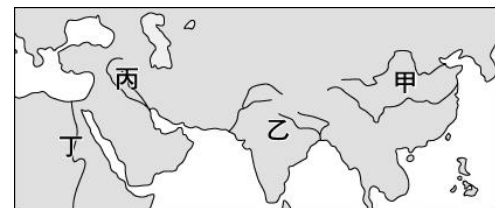


【歷史部分】18-34 題

18.亞斯文高壩是埃及當局為解決水源問題而興蓋，雖然建好後可帶來發電、……、防止每年一次的洪災等好處，但最令人詬病的是，下游地區無法再獲得肥沃淤泥，……。請問下列敘述何者最為正確？（A）亞斯文高壩的水源主要來自印度河（B）該水源定期氾濫為埃及帶來灌溉水源（C）該水源四周缺乏屏障，導致埃及上古時期因外族入侵，統治該地民族不斷更迭（D）亞斯文高壩的建築技術，埃及在上古時期便已展露無遺。

19.有一部法典被刻在石頭上，石刻最上方有浮雕，內容為太陽神傳授國王治國之道，表達國王權力的合法性。而「以牙還牙、以眼還眼、階級制度」概念貫穿整部法典。請問下列有關敘述何者「最不正確」？（A）這部法典應該使用楔形文字寫成（B）法典出現的地方是在西亞地區（C）這部法典呈現的精神是「法律之前，人人平等」（D）上述內容可知當時專制王權理論基礎是君權神授。

20.這個地區因地勢平坦，各方民族時常爭奪此地。入主此地的民族各自有自己的語言，但都使用楔形文字書寫。請問下列有關敘述何者最為正確？（A）楔形文字是目前已知最早的文字，由波斯人發明（B）居住這個地區的民族已發展出六十進位法，並沿用到今日（C）該地區位於圖一中的甲（D）該地區使用的楔形文字經腓尼基人簡化，成西方拼音字母始祖。



圖一

21.「距今六千多年前，此地區的人們觀察到，大約每隔 365 天，天狼星在拂曉的時候，和太陽同時位於東方的地平線上。因此他們定 365 天為一年，每年分為 12 個月，……。這種遵循太陽週期的曆法，……，有別於同時期兩河流域的月亮週期曆法。」請問下列有關敘述何者「最不正確」？（A）曆法的出現是因該地為推算河流氾濫情形，掌握農業生產（B）該地區人民認為萬物生長都要倚靠太陽，因此非常崇敬「太陽神」（C）該地有因果輪迴觀念，據此建立一套特殊階級制度（D）該地古文明最終為波斯人所滅。

22.《後漢書·西域傳》有一段對大秦政治的敘述如下：「國王一日到一座宮殿，五日就可以輪完一遍。身旁有一個使者手持袋子，有意見可以投書。國王的人選並沒有固定，會選擇有賢能的人擔任。另外有其他的官員，會一起討論國事。」請問有關上述內容，下列何者「最不正確」？（A）文中所指應是西元六世紀末共和時期（B）上述內容中的「大秦」是漢代對羅馬帝國的稱呼（C）上述內容末期該地曾爆發政爭，最後屋大維擊敗群雄結束紛亂（D）中國後來因絲路開通方便來往於兩地。

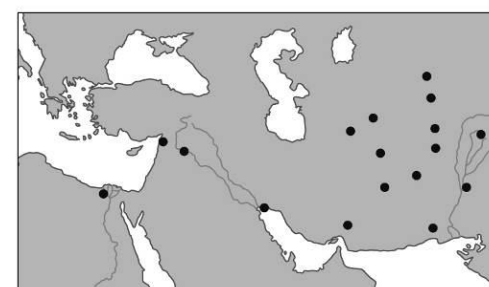


圖二

23.小芳和阿杰正在討論歷史上某文明所實行的制度，如圖二所示。請問下列有關敘述何者最為正確？（A）該地堪稱為世界最早出現民主政治的現代化國家（B）該地在波希戰爭後，文化極盛，開啟黃金時代（C）該地最後統一希臘半島並建橫跨三洲的帝國（D）該地因為跟特洛伊城邦爭領導權，成就馬其頓王國崛起。

24.嘉玲在書上看到「查克拉」一詞，查閱結果發現「查克拉」是源自印度哲學的「脈輪」。因古印度人相信全身上下有七個脈輪，而阿育王則是將脈輪具體化刻在石柱上，成為宗教上的「法」。下列有關敘述，何者最為正確？（A）佛教在印度直到目前仍能興盛不衰的主因是阿育王的宣揚傳布（B）因阿育王的提倡，佛教輾轉外傳成東亞及東南亞等地重要宗教之一（C）佛教創立是因釋迦牟尼對印度教階級制度觀念的不認同（D）佛教在唐代時期經由中亞傳入中國。

25.圖三中●處是歷史上某軍事行動後，統治者在征服區所興建的城市。請問下列有關敘述何者最為正確？（A）發動這個軍事行動的主角，曾在征服地積極推廣希臘文（B）此行動最可能是日耳曼民族入侵歐洲（C）這位統治者在所征服土地上積極宣揚基督教（D）圖中的城市堪稱典型羅馬式建築。



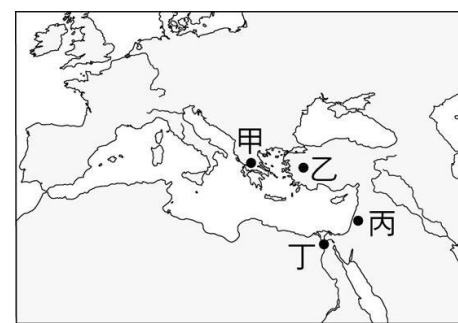
圖三

26.西元 1881 年，拉美西斯二世的木乃伊被發現，其在位時期勢力達到鼎盛，疆域面積最大。西元 1974 年，該木乃伊被發現滋生真菌。政府將他送往法國修復，還為此特別發給其木乃伊一本國民護照，職業欄上註明「國王」，以盛大軍禮替他舉行出國儀式。請問下列何者「最不可能」是拉美西斯二世經歷過的事？（A）人民認為拉美西斯二世是太陽神之子

的化身（B）人民相信死後經過審判靈魂會再復活，因此將遺體製作成木乃伊（C）相信眾生平等，為追求超脫輪迴，努力誦讀聖經（D）認為尼羅河神具有生生不息再生力量。

27.古代某地區四年會舉辦一次奧林匹亞祭典，聖火依傳統用聚光板集中陽光點燃，象徵火神的賜予；這是現今奧運的起源。下列有關敘述何者「最不正確」？

- （A）這個地區應該位在圖四中的甲（B）這個地區因地形關係，上古時期未能建立統一國家（C）這個地區的古典文化，是後世歐洲文化的基礎（D）這個地區文化的起源主要是在大河旁邊。



圖四

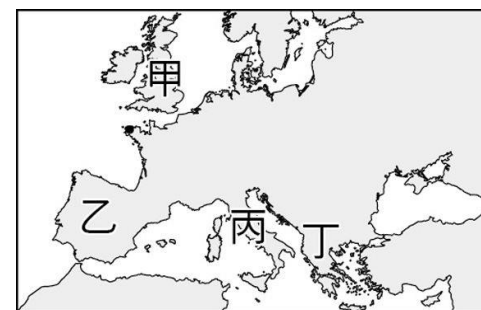
28.阿佐正在觀賞一部歷史電影，畫面出現如下內容：「我年輕時國家陷入軍人為爭權而爆發內戰的混亂中，直到我平定內亂，並將國家權力集中於我身上，最終帶給國家穩定與和平。」根據上述內容，這部電影「最不可能」出現哪個場景？

- （A）主角被元老院尊為「奧古斯都」（B）因主角的統治使國家勢力達到空前強盛（C）主角因過於專制，最後被放逐到埃及（D）主角完成了該國由共和邁向帝國的轉變。

29.帕德嫩神廟曾經作為鄂圖曼帝國的火藥庫，十七世紀遭到攻擊後，火藥庫爆炸，為這座古蹟帶來毀滅性的打擊。下列有關敘述何者「最不正確」？（A）帕德嫩神廟充分展現希臘藝術均衡對稱的特色（B）帕德嫩神廟供奉雅典娜女神，建在斯巴達城邦境內（C）帕德嫩神廟建築可視為當時城邦藝術巔峰之作（D）帕德嫩神廟是希臘式建築的經典代表。

30.上古時期有某位帝王曾用很長時間遠征各地，最後抵達印度西北。他不僅創建空前的帝國，在各地建立許多以他為名的城市，並將希臘文化推廣到各地。下列有關敘述何者最為正確？（A）上述帝王得以崛起主要跟凱撒有關（B）阿育王在位時期，印度應該會出現希臘居民（C）因這位帝王的推廣，西元一世紀，非洲中部可能通行希臘語（D）這個君主所建的帝國對日後佛教的創立產生重大影響。

31.羅馬帝國曾是世界上版圖最遼闊的國家之一，下列有關敘述何者最為正確？（A）羅馬帝國發跡地位於圖五的丁（B）羅馬建築最大的貢獻是發明混凝土和圓拱，如想參觀羅馬建築遺跡可前往印度地區（C）西元4世紀因查士丁尼大帝另建新都導致帝國分裂成兩部分（D）羅馬帝國使用的拉丁文，隨著帝國疆域擴張，後世成為中世紀西歐通用語言。



圖五

32.西元前五世紀，雅典為抵抗某帝國的擴張，在馬拉松戰役時派遣擅長跑步的士兵傳遞戰勝軍情。下列有關這個攻打希臘城邦的帝國的敘述，何者最為正確？（A）這個帝國非常重視契約跟法律觀念，強調報復原則（B）這個帝國對外擴張侵略，將伊比利半島納入統治範圍（C）該帝國宗教強調善惡二元論，主要崇拜象徵光明的火（D）這個帝國的居民自認是耶和華唯一選民。

33.約翰·馬歇爾，1902年被派遣到英國在亞洲的某殖民地。他在派駐該地時，對桑奇遺址展開復原及研究工作。該遺址主要由三座塔構成：大塔由阿育王所建的磚塔擴建而來，相傳曾藏有釋迦牟尼的遺骨，二塔、三塔則出土了阿育王時代僧侶遺骸……。下列有關敘述何者為正確？（A）這個文化遺址充分展現佛教建築藝術特色（B）該文化遺址可見證佛教文化對外侵略擴張的歷史（C）該遺址被指定為世界文化遺產的主因最可能是因見證殖民體系下軍事防禦（D）這個文化遺址保存了古埃及的文化特色。

34.淑芬在旅遊雜誌看到了如圖六的介紹內容，下列有關圖片介紹地區的敘述何者「最不正確」？（A）西元前八世紀，拉丁人開始在這裡建立政權（B）這座遺跡興建時間正當該區國勢最強盛時期（C）該地區在共和時期已制定進步的成文法（D）如果想尋訪該遺跡所在地，應該前往巴爾幹半島



這座競技場興建於西元一世紀，鬥士們在這裡進行格鬥比賽，有人與人的競技，也有人與獸的搏鬥，是用生命來娛樂觀眾的表演。

圖六

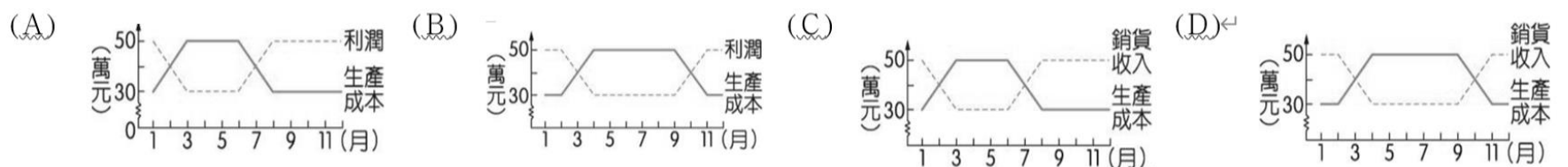
【公民部分】35-50 題

* 單選題

- 35.「價格愈高，商品的供給數量愈多」是普遍的經濟規律。下列哪一種市場狀態，最符合此經濟規律的意涵？
 (A) 酪梨價格高時，農民種植較多酪梨 (B)筆記型電腦生產過剩，使產品價格下跌
 (C) 天氣轉涼，商家進行冷氣促銷活動 (D)颱風暴雨成災，蔬果價格大幅上漲。
- 36.近年來，空氣汙染嚴重，以往隨手可得的新鮮空氣，現今卻需要空氣清淨機過濾細菌、塵蟎等，才能有新鮮空氣。根據上述，新鮮空氣所屬的財貨性質如何變化？
 (A)經濟財→自由財 (B)自由財→稀有財 (C)稀有財→經濟財 (D)自由財→經濟財。
- 37.「生命誠可貴，愛情價更高，若為自由故，兩者皆可拋。」是匈牙利詩人裴多菲創作的一首短詩，說明人們以自由意識活著的珍貴。請問:若以經濟學的觀點、選擇自由的機會成本應為下列何者？
 (A)愛情 (B)生命 (C)愛情、生命 (D)不須負擔任何成本。
- 38.散影即將參加明年的會考，她覺得一天 24 小時不夠用，每天總是有讀不完的書、做不完的功課、寫不完的考卷，此時的散影必須有效率地運用有限時間衝刺於課業。請問散影面臨下列哪一種問題？ (A)成本 (B)選擇 (C)生產 (D)資源。
- 39.右圖為經濟部 112 年住宅家電汰舊換新節能補助的宣傳單。值得注意的是，民眾購買能效 1 級冷氣或冰箱，除了經濟部每台補助 3,000 元，還可向財政部申請退還減徵貨物稅，最高退稅可達 2,000 元，合計可獲得 5,000 元節能補貼。有關政府政策的說明下列何者正確？
 (A)是透過增加報酬的方式鼓勵民眾購買節能家電
 (B)與攜帶環保杯可以折價的誘因相似 (C)所採用的是一種非金錢的正向誘因
 (D)主要目的是想培養民眾撿便宜的習慣。
40. 下表為去年度某商品的部分銷售資料。根據表中資料判斷，下列何者最可能為該商品的銷售紀錄？



月份 (月)	1	3	5	10	12
當月利潤	盈餘	0	虧損	0	盈餘



41. 鷺江國中舉辦八年級班際排球比賽，为了方便學生練習，安排各班課後使用場地時間如右表。請問這種分配方式最可能為下列何者？
 (A)先占先贏 (B)抽籤使用 (C)輪流使用 (D)使用者付費。

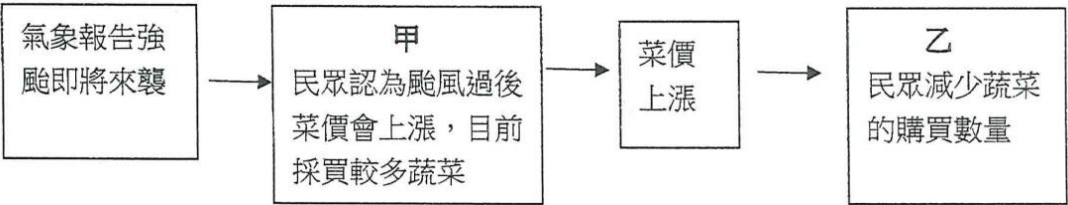
第八節課排球場使用表

日期	3/29	3/30	3/31	4/6	4/7
A	801	803	805	807	809
B	802	804	806	808	810
日期	4/10	4/11	4/12	4/13	4/13
A	811	813	815	817	819
B	812	814	816	818	820

* 題組題

- (一) **高麗菜供需失衡價跌 菜農開放自採一顆 5 元**
 近期中南部天氣好，高麗菜生長快速，正值盛產期，但供需失衡的情況下，導致價格下跌，攤販的高麗菜價格，大約落在 1 斤 8~10 元左右，有菜農為了減少損失，開放菜園，民眾自採，每顆只要 5 塊錢！ 2023/3/25
- 澎湖民眾買到「天價高麗菜」一顆超過 400 元**
 蘇拉、海葵颱風接力來襲，連日大雨重創台灣農產地，菜價漲翻天，高麗菜一斤要價 120 到 130 元，一顆買下來就要 400 塊，有網友 PO 出自己買了一顆高達 414 塊的高麗菜，直呼真的是天價。 2023/9/6
42. 從價格因素來看，若消費者的所得及其他條件不變，當高麗菜價格飆漲時、消費者願意購買的數量最有可能產生何種變化？
 (A)不一定，消費者可能多買，也可能會少買 (B)不管價格有無變動，想買的數量不會改變
 (C)減少購買，改買其他蔬果 (D)生產成本提高使價格變貴，應該多買。
43. 當高麗菜的收成過剩時，有菜農為了減少損失，開放菜園讓民眾自採，甚至有農民不願採收而任由腐爛，其可能原因為何？
 (A)生產成本下降 (B)售價太高 (C)銷貨收入大於生產成本 (D)銷貨收入低於生產成本。

- 44.以下為颱風來襲前後所播報的民生新聞。根據內容說明，下列何者正確？
- (A)甲是受預期心理影響，乙是受所得因素影響 (B) 甲是受預期心理影響，乙是受價格因素影響
- (C) 甲是受價格影響，乙是受個人偏好因素影響 (D) 甲是所得影響，乙是受價格因素影響。



(二)

不用再「請支援收銀」？全聯驚見自助結帳機 網揭關鍵：風險大

大部分人都曾到全聯消費，而一句「請支援收銀」的廣播也聽得耳熟能詳，主要是結帳人潮越來越多、隊伍很長時，櫃台店員就會利用廣播方式告知其他同仁暫停手邊工作，協助多開幾個櫃台加快結帳速度。

「全聯也有自助結帳了！」一名網友今（17）日稍早透過臉書社團「全聯消費經驗老實說」分享最新好康，發現全聯有自助結帳的他馬上嘗試操作，並給出不錯的評價。 消息曝光後，許多網友紛紛被全聯自助結帳吸引，認為可以省去結帳人潮多時排隊等待的時間。但也有網友表示「全聯價格牌常錯誤，自助結帳風險很大，取消要人員解鎖反而更久」，「以後廣播會改為：請支援自助結帳」。

2023/8/7 TVBS 新聞網

- 45.根據上文，全聯使用自助結帳機是希望達到下列何種效果？
- (A)降低生產成本 (B)降低商品價格 (C)增加銷貨收入 (D)改變消費型態。
- 46.由畫底線部分可知，全聯在推出此服務之前，要以哪一個經濟學的概念衡量過後再做選擇？
- (A)資源的稀少性 (B)預期心理 (C)機會成本 (D)使用者付費。
- 47.右圖一是中元節全聯所推出活動，根據 DM 內容判斷，期銷售策略與下列何者運用的概念相似？
- (A)限量商品，獨家販售 (B)換季拍賣，全面 5 折起
- (C)現點現做，請耐心等待 (D)加倍服務，顧客安心。
- 48.下圖二是全聯最新一期的集點換購活動，請問消費者集點換購商品，主要受到何種因素的影響？
- (A)價格 (B)所得 (C)預期心理 (D)個人偏好。



圖一



圖二

(三)

「低 GI」不加糖甜點 金融業大叔轉身做冰淇淋

台中一家甜點店，老闆原本在香港從事金融業，高壓工作爆肝，還有高血糖問題，後來為了健康提早退休。他愛吃甜點，又找不到兼顧健康的產品，決定自己來做，還到義大利學冰淇淋，回台中開了一家「低 GI」也就是「低升糖指數」的甜點店，自己製作糖尿病患者都可以吃的冰淇淋和蛋糕。他滿足自己的挑嘴，也看到病友的笑容。

TVBS 新聞網 2023/8/23

49. 從文中畫線的部分判斷，這位老闆在生產該項產品時，是考慮下列哪一項課題？
- (A)生產什麼 (B)如何生產 (C)為誰生產 (D)生產成本。
- 50.老闆原本在香港從事金融業，年薪約 600 萬。但為了自己的健康，選擇提前退休並到義大利學習冰淇淋製作，短期課程學費要 15 萬臺幣。回台後約投入 400 萬台幣開設甜點店。若是從金錢上來估算，老闆開設甜點店的機會成本是多少？
- (A)415 萬元 (B)600 萬元(C)400 萬元 (D)1015 萬元。