

新北市立 鶯江國民中學 112 學年度 第 1 學期 7 年級 社會科 第 1 次段考 題目卷

命題教師： 社會科老師 日期： 10 月 12 日 第 7 節 班級： 座號： 姓名：

歷史科:1-17 題

一、單選題：一題 2 分

- 有位電影編劇寫了一齣關於長濱人的故事脚本，他拿給學校老師看之後，老師說有些地方有錯誤需要修改。你能找出哪些地方出錯了嗎？「長濱人阿胖早上起來後，(A) 走出他祖父時期就已興建好的磚造房子，(B) 一路往海邊跑去捕魚，好不容易抓了兩條魚，興高采烈地回來，(C) 他升起了火，(D) 準備了一個精美的陶罐，(E) 準備把辛苦耕種得來的青菜和魚煮成香噴噴的早餐。」(A)ABCD (B)BCDE (C)ABCE (D)ADE。
- 一位居住在東北角海岸的漁民先後在基隆、宜蘭、淡水等地外海發現多批遺物，部分是天主教信物，經過專家考證，這可能是十七世紀時某國所留下的。根據你所知道的台灣歷史來推論，該國在亞州的貿易根據地，最可能是位在圖(一)中的何處？(A)甲 (B)乙 (C)丙 (D)丁
- 佩佩為了做歷史報告，專門前往國家圖書館找資料，她翻閱到了一些如「大員戰役日記」、「普羅民遮城日記」的文件檔案，了解到某間公司在台灣發展的狀況，關於這些檔案的敘述，下列何者最正確？(A)該公司在亞洲的總部，位於圖(一)中的甲地 (B)該公司在台灣期間，勢力從頭至尾都只侷限在南部地區 (C)該公司在臺期間，將台灣盛產的絲綢和香料，大量運回歐洲賺取暴利 (D)該公司是由數家公司組成，但享有國家給予的特權，如獨佔海外貿易特權；也可代表國家宣戰或簽條約。
- 台灣是十七世紀漢人、日本人、荷蘭人、西班牙人等在東亞地區進行貿易的重要據點，當時台灣能扮演這種角色，最主要的是因為下列哪一個原因？(A)台灣島內農產豐富 (B)歐洲人稱呼台灣為「美麗之島」，使得台灣聲名大噪 (C)台灣島上並無統一政權，各國都想掠奪台灣的礦產資源 (D)台灣的地理位置恰好位於東亞國際貿易航線的樞紐。
- (甲)「該部落研發燒製陶器的技術，他們也擅長磨製石器，打造樹皮布、種植芋頭，這裡的陶壺、陶罐口有粗繩紋為其特色。」  
(乙)「這裡已發展出煉鐵的技術，並製作鐵的獵具、農具、炊具等各種用具，生活方式有了不同以往的改變。」  
(丙)「這個聚落擅長製作精美玉器，居民喜歡戴玉，甚至用玉陪葬。這裡的居民以狩獵及農耕為主，也擁有成熟的工藝技術，且相信人有靈魂，因此重視喪葬，將死者放入石板棺埋葬。」  
(丁)「他們還不會農耕與畜牧，但已知道用火，但會使用打製的方式製作器具，並且能夠將獸骨做成縫衣針。」  
請問上面甲乙丙丁四則敘述中，哪些最適合用來描述圖(二)的史前遺址文化層想像圖中的「B」層？(A)甲丙 (B)乙丙 (C)乙丁 (D)甲丁。



圖一

A
B
C

圖二

- 學者認為南島語族乘獨木舟藉由洋流進行漂移，族群也因此四處擴展並往來頻繁。而兩者地理位置愈近，族群間的語系愈近，關聯性也愈大。請問關於南島語族的說明，下列何者最不正確？(A)台灣位在南島語族分布區的最北端 (B)構樹衣是南島語族的代表文物 (C)南島語族和台灣原住民，都擅長用自己族群的語言和文字，完整詳盡的紀錄屬於自己族群的歷史 (D)南島語族主要是指分布於太平洋和印度洋島嶼上的族群。
- 以下是關於十七世紀台灣地震的紀錄：「這年二月十五日發生強烈地震，這是我們入臺統治以來最大的地震，漢人店鋪倒塌二十多間，還有婦人及小孩被壓死，熱蘭遮城也多處龜裂。長官立刻向總部呈報，要求儘快從暹羅（今泰國）運木材來進行修復工作。」請問上述記錄中的執政者，最可能是下列何者？(A) 台灣是個物產豐富、四通八達的海島……，進可攻，退可守，足與中國抗衡也。歷經九個月，他從金門跨海攻打台灣，在台灣建立第一個漢人政權 (B)他們從馬尼拉前進到北台灣，途經台灣島最東點時將該地命名為 Santiago，並曾在台興建聖薩爾瓦多城和聖多明哥城 (C)他的國家是最早經由海上航線到東方，並以中國澳門為亞洲據點 (D)他們的艦隊最終決定轉往台灣設立商館，在臺江內海南岸的一鯤鯓興建政治行政中心，展開在南台灣的貿易事業與殖民統治，是台灣第一次出現有規模的統治組織。
- 了解歷史的方法可以透過對書本的理解以及對遺址的認識，而人類歷史可以劃分為「史前時代」和「歷史時代」。請問劃分「史前時代」和「歷史時代」的依據，最可能是下列何者？(A)是否開始使用陶器 (B)是否已經懂得用火 (C)工具製作方式的不同 (D)懂得運用文字進行記錄。

9. 下列關於歷史紀年的方式，哪位同學的說法最不正確？(A)小甲：歷史事件如「乙未割臺」、「戊戌變法」，是以「天干」和「地支」相配，做為事件的命名方式 (B)小乙：今年是 2023 年，西元的紀年方式和耶穌的出生年有關 (C)小丙：中國清朝的「咸豐八年」、「光緒十四年」年間，是用皇帝在位的年次來紀年 (D)小丁：每一百年為一世紀，所以西元 1895 年臺灣割讓給日本，當時正值為十八世紀末。
10. 歷代因政權的演變，對原住民的分類方式有所不同。請問關於原住民的分類敘述，下列哪一個敘述最不正確？(A)原住民各族均屬於南島語族，我們對原住民族群的認識來自他們的口語傳說(B)清朝是根據原住民否納稅、服勞役，亦即歸順與否將原住民分為「熟番」與「生番」(C)日治時期將原住民分為「平埔族」與「高砂族」；凱達格蘭族和西拉雅族，當時被歸類為高砂族 (D)中華民國時期統稱為原住民族。
11. 圖(三)呈現出史前人類的幾種生活樣貌，臺灣圓山文化的史前人類，最可能會經歷其中哪些生活經驗？(A)甲丙丁戊 (B)丙丁戊己 (C)乙丁戊己 (D)甲乙丁戊。
12. 下列敘關於鄭氏政權的各項敘述中，何者最不正確？(A)甲 (B)乙 (C)丙 (D)丁



圖三

- 甲、鄭氏在台的經營，大多在鄭經時完成。  
乙、鄭成功在今天的台南市設立承天府，作為行政中心。  
丙、對外貿易是鄭氏經濟的根基，和中國大陸、英國等國進行合法貿易，解決台灣資源短缺問題。  
丁、軍屯開墾的方式，可讓軍隊在農閒時進行訓練，有戰爭時即可上戰場，也讓軍隊自耕自食。

## 二、題組題：一題 2 分

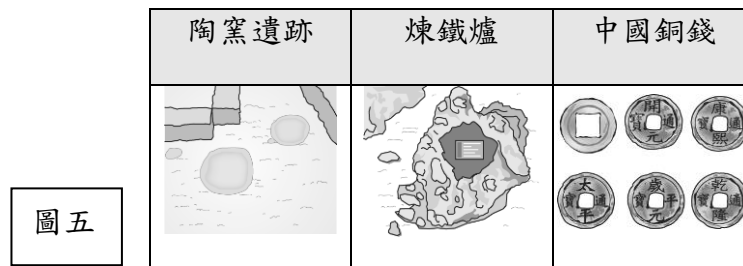
★題組一：圖(四)為臺灣地區重要史前遺址分布圖，請仔細看完圖後回答問題

13. <2015/08/12 中國時報>報導：「考古團隊搶救南科遺址至今 20 年，繼發現台灣第一狗後，如今還找到台灣第一米，它距今 5000 年是台灣目前發現最早的水稻化石，不僅讓台灣農耕歷史往前推進 1000 年；甚至透過 DNA 檢驗，發現大部分屬於梗稻，且每一粒大小相近，代表台灣在該時期就已有稻米育種能力。」請問上文所發現的米，最可能位於圖(四)中的何處？(A)丙 (B)乙 (C)戊 (D)丁



圖四

14. 圖(五)為臺灣某一史前文化遺址的圖片，根據其內容判斷，此一文化遺址應是位於圖(四)中何處？(A)甲 (B)乙 (C)丙 (D)丁

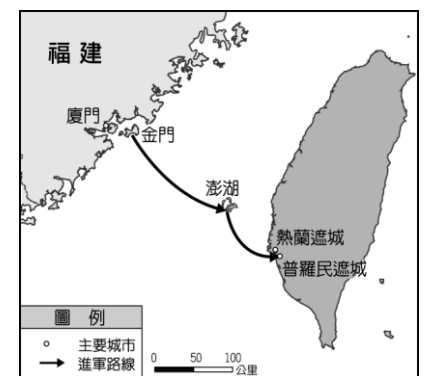


圖五

15. 石板棺埋在遺址的建築物底部，與地上建築物的座向相同，棺內更有豐富貌又精美的玉器、陶器陪葬品，可見當時的人已有靈魂觀念。上文所述的史前文化位在圖(四)中何處？(A)甲 (B)乙 (C)丙 (D)丁。

★題組二：圖(六)為臺灣史上某一場戰役的路線圖，請仔細看完圖並閱讀完下文，回答問題

「將領搭船從金門出兵，算準季風風向讓臺灣本島上的殖民政權無法向其他地方傳達訊息。大軍上岸後立即包圍殖民政權的統治中心，使其因孤軍無援，城內糧食飲水用盡而投降。」



圖六

- 16 請問關於上面短文中的敘述，下列何者最正確？(A)文中所提到的將領，指的是縱橫東亞地區的海商-鄭芝龍 (B)短文中的殖民政權，指的是西班牙 (C)左營、林鳳營等台灣地名的出現，和該將領為解決糧食不足的問題所提出的政策有關 (D)明朝政府對將領的軍事行動，祭出海禁政策。
17. 關於短文中殖民政權的敘述，下列何者最正確？(A)該殖民政權曾因日本進行鎖國政策，進而減少它位於亞洲總部的兵力 (B)該殖民政權曾攻打過澎湖，但被明朝將領沈有容擊退 (C)該殖民政權在亞洲的總部位在印度 (D)該殖民政權曾和韓國因在台灣的貿易稅收問題，發生糾紛。

地理科:18-34

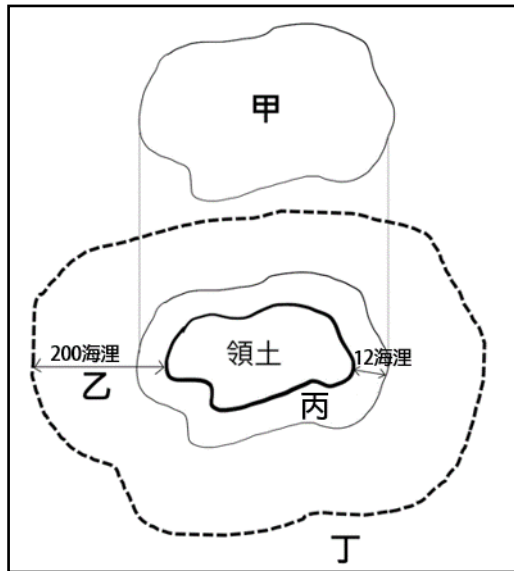


圖 1

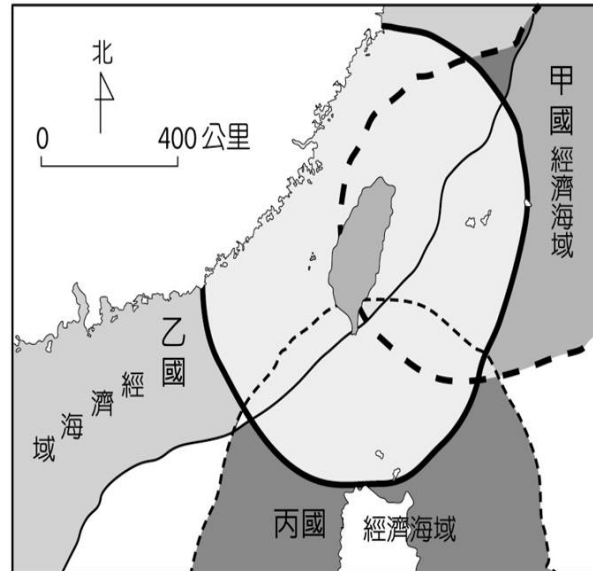


圖 2

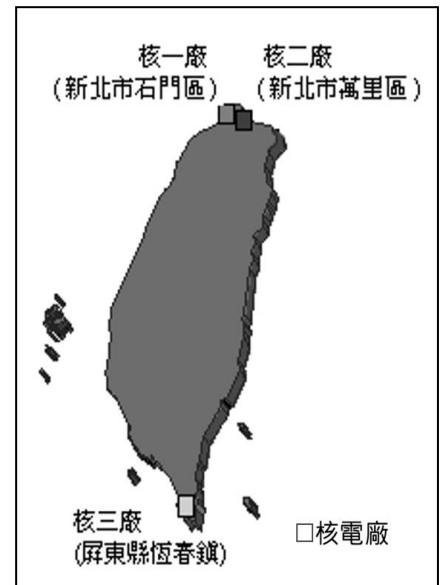


圖 3

18. 世界各國基於國家安全需要，須獨占領土周邊海域，以確保近海海岸線不受侵擾，因此在沿岸港灣會設立檢查哨，管制船舶停靠和進出，擁有軍事管轄權，並將此海域範圍視為國家領土。請問該海域指的是圖 1 的哪處？


(A) 甲 (B) 乙 (C) 丙 (D) 丁。

19. 臺灣四面環海，島嶼眾多，與鄰國之間的經濟海域高度重疊，時常有漁權或島嶼主權紛爭。圖 2 為臺灣與鄰近國家經濟海域重疊圖，請問圖 2 的丙國為下列何者？(A) 中國 (B) 越南 (C) 日本 (D) 菲律賓。

20. 圖 3 為行政院原子能委員會所繪製的地圖，根據圖 3 所示，請問下列何者最適合作為該地圖的圖名？

(A) 臺灣核電廠與斷層位置分布圖 (B) 臺灣核電廠緊急應變計畫區圖 (C) 臺灣核電廠分布圖 (D) 臺灣核能汙染影響範圍圖。

21. 小江有一張地圖，圖面上顯示 2 公分代表實際距離 200 公里，則此張地圖的比例尺最接近下列何者？

(A) 1/1000 (B) 1:20,000,000 (C)  (D) 一千萬分之一。

22. 圖 4 甲、乙、丙、丁四地皆位在同個半球。下列敘述哪些正確？

(A) ㄅ、ㄆ (B) ㄆ、ㄇ (C) ㄅ、ㄈ (D) ㄆ、ㄈ。

(ㄅ) 甲地比乙地更早迎接日出 (ㄆ) 乙地的時區和臺灣相同  
(ㄇ) 乙地和丙地都位在東半球 (ㄈ) 甲地到乙地的距離比丙地到丁地遠

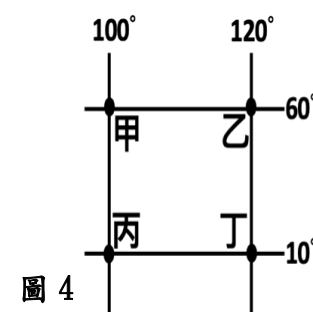


圖 4

23. 2023 年 9 月 5 日 17 點 30 分，於嘉義發生芮氏規模 5.5 地震，地震深度 8.5 公里，震央位於嘉義縣政府東北方 13.2 公里，地震威力讓民眾嚇到奪門而出，這已經是嘉義縣最近半個月第 4 起極淺層地震，使得嘉義縣民眾人心惶惶，憂心是梅山斷層能量大爆發前的前兆。請問下列何者是中央氣象局針對這次地震所發布的震央資訊？

(A) 東經 120.86 度，北緯 22.26 度 (B) 東經 120.39 度，北緯 23.53 度  
(C) 東經 120.77 度，北緯 24.27 度 (D) 東經 122.39 度，北緯 24.81 度。

24. 住在臺灣的小鷺想在 12 月 31 日跨年這天，在電視上即時欣賞全球各地著名的跨年煙火表演。表 1 中有四個地點，請問下列何者是小鷺依先後順序會看到的煙火排序？

(A) 甲→乙→丙→丁  
(B) 甲→丁→乙→丙  
(C) 丙→乙→丁→甲  
(D) 丁→乙→丙→甲。

表 1

地點	經緯度
甲	51.5°N, 0.1°W
乙	25.1°N, 121.5°E
丙	33.9°S, 151.2°E
丁	25.1°N, 55.2°E

25. 經濟學人智庫每年會根據各城市的穩定性、健康照護、文化與環境、教育和基礎建設 5 項指標，評比全球 173 座城市的生活條件，今年獲選為全球宜居的十個城市皆位在溫帶地區。請問根據上述資訊，這些城市應位在圖 5 的哪些地方？

(A) 甲、乙  
(B) 甲、丙  
(C) 乙、丙  
(D) 丙、丁。

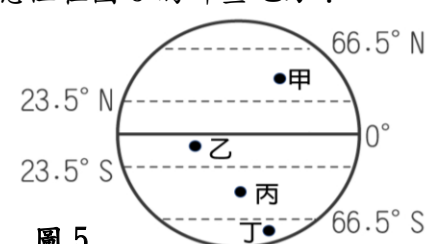


圖 5

試題尚未結束



26. 基隆嶼有「台灣龍珠」之稱，擁有清澈藍海與豐富的自然景觀，是許多旅客口耳相傳的私房秘境。過去曾短暫開放，受到颱風破壞後，直到 2019 年再次開放，每年 4 月至 10 月底開放遊客預約登島遊玩。抵達基隆嶼交通方式如圖 6，小鷺預計跟家人們從碧砂漁港搭乘藍色公路觀光船前往基隆嶼，請問該航班船隻航行至基隆嶼的方向為下列何者？(A)北方 (B)南方 (C)東北方 (D)東南方。

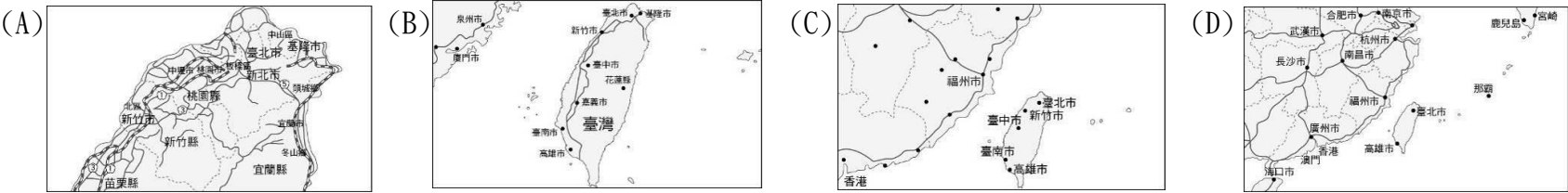


圖 6

27. 在台灣每年春、秋兩季是遷徙性猛禽「灰面鵟鷹」過境的高峰期，灰面鵟鷹又被稱為國慶鳥，因為牠們秋季大量過境臺灣多發生在國慶日前後，此時全島皆可見到灰面鵟鷹，有時也會經過高海拔山區，其中恆春半島是牠們到中國華南、東南亞、菲律賓、印尼群島等地度冬的最後休息站，因此每年十月墾丁會聚集許多賞鷹愛好者，為的就是一睹灰面鵟鷹風采。請問灰面鵟鷹遷徙路線與臺灣的哪一項特性有關係？

- (A)位於太平洋與歐亞大陸的交會處 (B)位於熱帶與溫帶氣候的過渡帶上  
(C)冰河時期陸地曾經與中國相連接 (D)位處低緯度擁有許多高海拔山地。

28. 下列四張地圖，請問哪一張地圖的比例尺最大？



29. 全球人口多分布在北半球，造成這種現象的主要原因為下列何者？

- (A)北半球日照時間較南半球長 (B)北半球熱帶面積較南半球廣  
(C)北半球陸地面積大於南半球 (D)北半球的氣候較南半球溫暖。

30. 「經線」、「緯線」是標示地球表面地理位置的重要假想線，請問表 2 中有關經線和緯線的敘述，何者錯誤？

表 2

	(A)方向	(B)度數	(C)長度	(D)形狀
經線	南北向	0~90 度	等長	半圓弧線
緯線	東西向	0~180 度	不等長	圓圈線

31. 臺灣四面環海，位處東亞島弧正中央，掌控島弧南來北往的主要交通樞紐，圖 7 為東亞島弧分布圖，請問從圖 7 無法得知下列哪一項資訊？

- (A)臺灣位於日本、菲律賓群島之間 (B)臺灣的經濟海域與他國高度重疊  
(C)臺灣地處歐亞大陸與太平洋之間 (D)臺灣在西太平洋航運占重要地位。

32. 圖 8 為三大洋七大洲分布圖，請問圖 8 的虛線經過下列哪些洲？

- (A)歐洲、亞洲、北美洲  
(B)歐洲、非洲、南極洲  
(C)亞洲、北美洲、南美洲  
(D)非洲、大洋洲、南極洲。

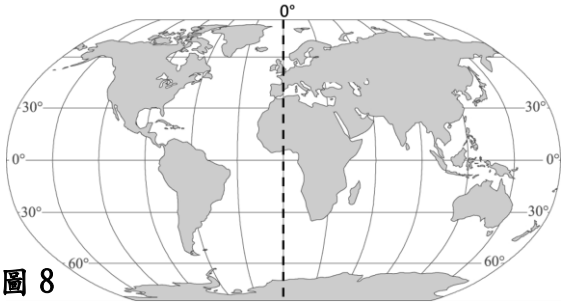


圖 8

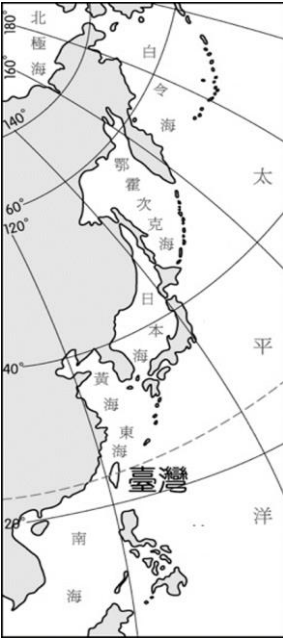


圖 7

題組題請根據圖 9 市集攤位圖，回答第 33~34 題：

33. 小洲正在研究市集攤位圖，計劃著週末時到市集逛逛，他預計先去排隊買白糖粿，再去玩套圈圈、買棉花糖，最後跟同學相約在服務台碰面。請問小洲與同學最後會在哪個網格座標會合？

- (A) (1, A) (B) (2, B) (C) (2, C) (D) (4, A)。

34. 小洲與同學們討論市集攤位圖，請問下列哪個描述為相對位置？

- (A)套圈圈位於(4, C) (B) (3, A)還在攤位出租  
(C)市集共有 12 個攤位 (D)撈金魚在臭豆腐的南方。

N	1	2	3	4
A	雞排店	珍奶店	滷味攤	攤位出租
B	烤香腸	服務台	臭豆腐	棉花糖
C	白糖粿	護理站	撈金魚	套圈圈

圖 9

公民科:35-50 題

35. 同學們下課後正在討論公民課的上課內容，請問：關於公民和國民的敘述，下列誰的說法是正確的？  
 (A)洋洋：國中生屬於我國國民但非公民 (B)阿昊：狹義公民指的是能夠行使自由權的國民  
 (C)小琦：國民指的是所有住在該國領土內的人民 (D)秀秀：若以人數來說，一國公民人數應多於國民
36. 食物銀行秉持著「資源不浪費」的精神，將來自各地商店、公司行號、甚至個人捐贈的愛心糧食或物資，進行妥善整理分類後，即時分配到最需要的人們手中，讓需要幫助的民眾可以適時獲得幫助。請問：食物銀行的做法符合下列何種公民德性？(A)參與公共事務 (B)理性思考批判 (C)和平尊重包容 (D)捍衛公平正義
37. 下圖為小敏在練習的段考範圍的題目，對完答案後小敏發現自己拿到滿分，於是對自己認真讀書得到的成果感到滿意。請問：小敏的答案依序應為下列何者？
- ( ) a 收養是歸化取得國籍的一種方式。  
 ( ) b. 一個金髮碧眼的人一定是外國籍。  
 ( ) c. 我國取得國籍的方式規定在《憲法》中。  
 ( ) d. 居住在台灣 20 年後，即可取得中華民國籍。
- (A) OXXX (B) OXOX (C) X0XX (D) XXXX
38. 上課時，老師要同學舉出符合公民德性行為的例子，請問：誰的例子舉錯了？  
 (A)容容：假日時擔任志工，送餐給需要的長輩  
 (B)阿弘：憲法中有原住民立委保障席次六席的設計  
 (C)妍妍：投票前，蒐集資訊比較不同論點再做決定  
 (D)小玄：進行議題討論時，堅持自己的論點完美無缺

【題組 39-40】

MeToo（我也是）運動是一場社會運動，目的在揭示和抗議性別暴力、性騷擾和性侵犯。根據衛福部對性騷擾定義：「一切不受歡迎、與性或性別有關，會讓人感到不舒服，覺得被冒犯、被侮辱的言行舉止，甚至影響到當事人的就業或就學，即可構成性騷擾。」民眾在一般場所或公共場所遭到陌生人性騷擾時，可依據《□□□法》請警察機關調查。  
 <節錄改編自風傳媒 2023. 07. 12 新聞>

39. 請問：根據定義，下列何項行為不屬於性騷擾的範圍？  
 (A)跟隔壁同學開黃腔 (B)上司對下屬毛手毛腳  
 (C)傳送色情影片到班上群組 (D)每天半夜打無聲電話給同事
40. 請問：文中的《□□□法》，指的是何種法律？  
 (A)憲法 (B)性騷擾防治法 (C)性別平等教育法 (D)性別工作平等法

【題組 41-42】以下是亮亮的日記，請根據日記的內容回答下列問題。

今天在學校的時候，班上回收物沒有洗就丟進回收箱，結果散發出惡臭，小蓮說一定是某個臭男生做的好事，因為男生都不愛乾淨，可是真的是這樣嗎？  
 第三節課的上課主題是夢想，記得小時候媽媽跟我說，女孩子比較適合做老師、護理師之類的工作，不要在外面跑來跑去或是做粗重的工作，可是我希望未來可以當機師，載著乘客在天空中飛翔。

41. 請問：小蓮和媽媽的說法，分別代表著何種觀念？  
 (A)小蓮：性別刻板印象；媽媽：性別偏見 (B)小蓮：性別偏見；媽媽：性別刻板印象  
 (C)小蓮：性別歧視；媽媽：性別刻板印象 (D)小蓮：性別偏見；媽媽：性別歧視
42. 請問：下列哪一位說的話與媽媽說的話概念相同？  
 (A)爸爸：公司只讓女性請育嬰假，男性不能，不公平！  
 (B)姊姊：我也是家裡的一份子，家事我來一起分擔！  
 (C)奶奶：隔壁家的媳婦聽說因為懷孕被公司裁員了！  
 (D)弟弟：我才不要玩洋娃娃，那是女生在玩的！

【題組 43-46】以下六人為露營同好會的朋友，請根據六人的身分訊息，回答下列問題。

小星：父母都是台灣人，大學剛畢業正在找工作。  
 俞珍：父母都是法國人，出生在台北市，目前擔任餐廳主廚。  
 圓圓：出生在越南，被中華民國籍的父母收養，目前就讀國中。  
 皮皮：現年 23 歲，和中華民國籍的太太結婚，下個月就能完成歸化手續。  
 小雪：出生在美國，來台灣工作滿 10 年，認為台灣是個適合居住的美麗寶島。  
 娜娜：母親是台灣人，熱衷於政治事務，期待明年達到參與公民投票的年齡後，能表達自己的意見。

43. 請問：關於娜娜身分的說明，下列何者正確？  
 (A) 明年將滿 18 歲，可以對候選人進行投票 (B) 明年將滿 20 歲，可以對候選人進行投票  
 (C) 明年將滿 18 歲，可以對重大議題進行投票 (D) 明年將滿 20 歲，可以對重大議題進行投票
44. 請問：根據這六人的身分訊息判斷，哪些人是透過天生的方式取得國籍？  
 (A) 小星、娜娜 (B) 皮皮、圓圓 (C) 小星、俞珍、小雪、娜娜 (D) 俞珍、皮皮、圓圓、小雪
45. 請問：根據這六人的身分訊息判斷，目前哪些人擁有中華民國國籍？  
 (A) 小星、皮皮、娜娜 (B) 小星、圓圓、娜娜 (C) 皮皮、小雪、娜娜 (D) 俞珍、圓圓、小雪
46. 請問：根據這六人的身分訊息判斷，誰能夠在明年的總統大選投下神聖的一票？  
 (A) 小星、皮皮 (B) 俞珍、皮皮 (C) 小星、俞珍、娜娜 (D) 圓圓、小雪、娜娜

【題組 47-48】表格內為三位民眾到警局報案的資料，請根據資料回答下列問題。

報案民眾	甲	乙	丙
情形	同工不同酬，工作內容相同薪水卻較男性少	放學回家後不斷收到老師傳送的色情照片	在公車上遭到公車之狼刻意貼近並襲臀
適用法律	《a 法》	《b 法》	《c 法》

47. 請問：表中的 a、b、c 分別是什麼法律？  
 (A) a：憲法；b：少年事件處理法；c：性騷擾防治法  
 (B) a：性別工作平等法；b：性騷擾防治法；c：性騷擾防治法  
 (C) a：性別工作平等法；b：性別平等教育法；c：性騷擾防治法  
 (D) a：性別工作平等法；b：性騷擾防治法；c：性別平等教育法
48. 請問：下列何種情況與民眾乙的情形適用的法律不同？  
 (A) 學生被補習班同學掀裙子 (B) 學生被補習班老師強行抱住  
 (C) 學生被學校工友上下打量 (D) 學校老師被學生故意觸碰胸部

【題組 49-50】

每年 1 月的最後一個星期日是「世界防治漢生病日」，過去在台灣被稱為麻瘋病，是一種肆虐世界超過 2,000 年的古老傳染病，自古被當作絕症，直到 1873 年挪威的漢生醫師發現麻瘋桿菌（Mycobacterium leprae）才了解漢生病是一種慢性傳染病。1940 年代，抗生素問世後，漢生病方得以治癒。早期台灣由於對疾病的無知和恐懼，將漢生病患者與社會永久隔離，甚至遭受他人的誤解與歧視。在人權團體及政府的共同努力下，漢生病的人權問題逐漸改善，並正式將麻瘋病更名為漢生病。  
 <節錄改編自翻轉教育 2023.01.13 專題>

49. 請問：文中人權團體及政府的共同努力，主要目的為下列何者？  
 (A) 使漢生病患者的人權受到保障，不受他人的誤解歧視  
 (B) 將漢生病患者與社會永久隔離，確保其他人不受感染  
 (C) 表揚漢生醫師的發現，使漢生病患可以用抗生素治癒  
 (D) 鼓勵社會大眾捐款，挹注更多資金研究漢生病的解藥
50. 下列哪一項做法較能保障漢生病患者的人權？  
 (A) 稱其為麻瘋病人，避免別人不知道他得什麼病 (B) 將患者與社會隔離，避免將病毒傳染給其他人  
 (C) 給予適當的醫療處置，不用異樣的眼光看待 (D) 劃設特定區域，讓患者在該區域內專心治療

本試題卷結束