

命題教師：社會領域教師群 日期：4 月 8 日 第四節 班級： 座號： 姓名：

壹、地理科：第 1-17 題

紀念章戳放置車站

基隆、松山、臺北、板橋、桃園、
新竹、苗栗、臺中、彰化、嘉義、
臺南、高雄、屏東、宜蘭、花蓮、
臺東…

圖 1



圖 2



圖 3

- 圖 1 為臺鐵推出紀念章戳放置的車站地點，根據內容判斷，下列哪一車站的地名，其命名依據與其他三者不同？
(A)桃園 (B)新竹 (C)苗栗 (D)高雄。
 - 2025 年適逢臺南「府城 300 年」，自 1725 年府城城牆興工之日起算，距今已有三百年歷史，圖 2 為民國 99 年前縣市合併前的(舊)臺南市行政區劃分。根據圖 2 判斷，(舊)臺南市行政區命名是根據下列何項原由選定名稱？
(A)取自原住民族名稱 (B)與歷史事件相關 (C)依據方位命名 (D)與自然環境相關。
 - 圖 3 為地名資訊服務網中某地區的地圖，請根據臺灣不同族群地名命名特徵，評估該地區早期應為哪一族群聚集地？
(A)閩南人 (B)客家人 (C)排灣族 (D)噶瑪蘭族。
 - 臺南市自古以來出現許多以「鯤鯓」為名的地名，依該區地理環境判斷「鯤鯓」所在的海岸類型，最可能為下列何者？
(A) (B) (C) (D)
- 

濱外沙洲



海



海



珊瑚礁
- 圖 4


- 「塹」字代表位於某一地物的旁邊。請問圖 4 中，哪一個聚落的名稱最有可能是「港塹」？
(A)甲 (B)乙 (C)丙 (D)丁。
 - 早期臺灣聚落常依相同產業的人聚集成村莊，而隨時間形成聚落地名，像是「蚵寮」指養蚵人家住的地方，因此臺灣有許多聚落以此為名。請問依照牡蠣養殖的條件判斷，在臺灣哪一地區會有較多「蚵寮」的地名形成？
(A)宜蘭平原 (B)苗栗丘陵 (C)臺中盆地 (D)嘉南平原。
 - 「2023 年，美國批准兩家公司銷售直接從動物細胞培育出來的雞肉（人造雞肉），是繼新加坡成為全球第二個允許向消費者供應實驗室培養肉的國家，雖然人造肉的成本比養出來的高很多，還不能像傳統肉類大規模生產，但這項核准無疑會改變未來肉品如何送到我們餐桌的方式！」。請問人造雞肉的出現最可能造成下列何項改變？
(A)縮短食物里程 (B)增加環境負載力 (C)減少基因改造食品 (D)降低糧食自給率。
 - 「位於台北市的希望廣場，從 1999 年因應 921 震災後設立，至今已 25 年，從最初的臨時展售場地，經歷二次遷址，發展至全國最大的農民市集，現今為各縣市行銷農特產品的場地首選，市集展售的農特產品涵蓋全國的農漁畜產，提供消費者多元、新鮮的選擇。」根據上述內容，請問希望廣場的設立，主要目的為下列何者？
(A)增加農業耕作面積 (B)提高地產地消比例 (C)提升農產的附加價值 (D)增強農業出口競爭力。
 - 臺灣農業的生產模式，早期受到自然環境限制，多自給自足為主，爾後轉變為大量生產、供應市場需求為主。這種現象稱為下列何者？
(A)產地到餐桌 (B)區域專業化 (C)農產品商品化 (D)農產品單一化。
 - 身為一名新北市鷺江國中的學生，在住家周遭的超市選擇購買下列哪一個農產品，其食物里程最短且碳排放量最少？
(A)桃園拉拉山水蜜桃 (B)高雄市燕巢的芭樂 (C)臺東縣的鳳梨釋迦 (D)日本青森土岐蘋果。

11. 「自 2024 年 9 月以來，國內雞蛋產量持續生產過剩，目前每天滯銷仍高達 140 萬顆，目前產地價每斤只剩 22.5 元、批發價 32 元，與去年同期相比蛋價幾乎腰斬。蛋價持續探底，多家飼料大廠近日陸續宣布飼料每公斤調漲 0.4 元，蛋農飼養成本增加，不少蛋農大嘆：「雪上加霜」，預估接下來蛋農恐怕掀起一波蛋雞棄養潮。」上述新聞提到飼料漲價使得蛋農飼養成本增加，請問文中提到的飼料可能為下列何者？

(A)棉花、稻米 (B)小麥、稻米 (C)玉米、黃豆 (D)玉米、馬鈴薯。

12. 圖 5 為全臺最常見村里名稱排名前五名，請問圖中村里命名的原因，主要為下列何者？

(A)保留原住民傳統文化 (B)彰顯政府的政權意識
(C)挑選較為文雅的用字 (D)結合在地的地方特色。

全臺最常見村里名稱

1. 中興(36個)
2. 中正(35個)
3. 中山(32個)
4. 復興(31個)
5. 新興(30個)

圖 5

【題組題一】

網路上盛傳假訊息：「紫色地瓜、甜玉米、牛番茄等作物是基因改造作物！」，搞得人心惶惶！使得農業部出面澄清，強調政府已核准的基因改造作物項目為黃豆、玉米、棉花、油菜、甜菜，其中棉花、油菜主要是榨油使用，若食品採用基改原料，包裝或散裝都已強制標示，提供消費者參考，提醒民眾不是用顏色區分是否為基改作物，並非色彩較鮮艷就是基改作物，而是要檢視標示，切勿相信不實言論，須謹慎查核事實。



13. 根據上文，普遍臺灣民眾仍害怕購買到基改作物，主因為下列何者？

(A)大量使用農藥 (B)產品價格高昂
(C)破壞生態系統 (D)危害人體健康。

14. 文中所述的黃豆、玉米、棉花等基改作物，主要生產的國家多位於圖 6 哪一洲？

(A)甲 (B)乙 (C)丙 (D)丁。



圖 6

【題組題二】

「蚵仔」是深受國人喜愛的水產品項，近年來因氣候變遷、缺工產量下滑，讓進口蚵趁虛而入，甚至混充國產蚵拉高價格，充斥市場。因此，農業部漁業署積極推動蚵仔零售端產地標示，並研擬將蚵仔大盤販運商納入溯源，今年會先試行，待正式上路後，沒有加入溯源管理的販運商會被開罰，並且提高抽查次數。

為了提高販運商加入溯源誘因，漁業署表示將提供廠商包裝設備、束口機補助，以及包裝場域保鮮升級補助，協助牡蠣養殖產業轉型並區隔市場，逐步打響各地優質的牡蠣品牌，如「王功蚵」、「芳苑珍珠蚵」、「台西蚵」、「布袋蚵」、「東石蚵」、「台南蚵」、「澎湖蚵」、「金門石蚵」等名詞，未來消費者到菜市場選購蚵仔，可以更了解蚵仔的產地。

去年，臺南市政府推行「臺南蚵產地品牌標章」(如圖 7)，向中央申請成立獨立品牌，張貼於台南市生鮮牡蠣商品外包裝，有了品質保證才能讓消費者吃的安心，不管在大餐廳或是道地的海產店，都可以品嚐到最優質鮮美的台南蚵。



圖 7

15. 根據文章所述，農業部漁業署針對牡蠣養殖產業所做的政策推動敘述，下列何者正確？

(A)開拓牡蠣的外銷市場 (B)補助有機、無毒養殖 (C)協助漁民轉型成農民 (D)推動牡蠣的產銷履歷。

16. 文中提到「東石蚵」，指產自嘉義縣東石鄉的牡蠣，請問「東石」二字的地名命名由來與下列何者相同？

(A)基隆市「中正」區 (B)桃園市「新屋」區 (C)屏東縣「潮州」鎮 (D)花蓮縣「吉安」鄉。

17. 臺南市政府推出的「台南蚵」品牌，無法為台南牡蠣養殖產業帶來何項好處？

(A)拓增銷售市場 (B)降低冷鏈需求 (C)促進食品安全 (D)增加養殖收益。

貳、歷史科：第 18-34 題

18. 「13 州殖民地人民對母國的態度在 1763 年以前是世界上最良好的，所以……要統治殖民地的人，除了筆、紙和墨水以外，什麼都不需要。可是還不到三年，殖民地的人民卻有了不平的情緒，這是因為母國國會漠視他們在憲法上的權利，使他們受到傷害……。」此為某國爭取獨立建國時，所發表的一段演說。請問下列關於該國的建國歷史何者正確？

- (A) 該國要脫離西班牙的殖民獨立建國 (B) 該國趁拿破崙征服歐洲時宣佈獨立
(C) 該國發表人權宣言以爭取獨立建國 (D) 文中提及的傷害是母國的強行徵稅。

19. 下文摘錄自作家雨果的著作《九三年》：「這個可怕的議會，充滿致命的氣息，這些氣息吹過那燃燒了 18 個世紀的古老專制火炬，把這火炬吹熄了。議會對這個國王的審判，就是對過去所有的國王做決定性的審判。這次審判彷彿是議會向過去的時代，發動偉大戰爭的起點。只要去參加會議，都可以看見路易十六的斷頭臺影子在晃動……」請判斷下列何者解讀是正確的？

- (A) 這段文字是在讚揚法國大革命 (B) 文中的會議是指維也納會議
(C) 這場會議是拿破崙稱帝後召開 (D) 被吹熄的火炬是指君主專制。

20. 某位政治人物在 1862 年就任首相後，對國會議員發表演說：「日耳曼之所期待普魯士的，並不是它的自由主義，而是它的實力。當前的重大問題不是通過演說或通過半數的投票所能決定的…只能用鐵和血來解決！」後來，他在國王支持下，未經國會同意，進行軍事擴張。根據上文，請判斷下列哪一解讀是正確的？

- (A) 這是加富爾對國會議員發表的演說 (B) 這段資料可作為帝國主義擴張的最好證據
(C) 文中所說的重大問題是指如何實現主權在民 (D) 普魯士最後在德法戰爭完成其目標。

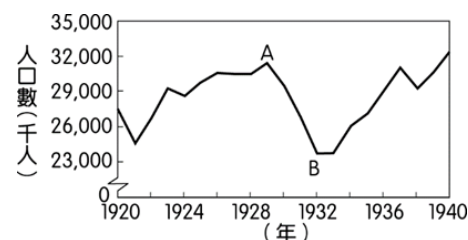
21. 右列兩幅地圖是近代歐洲版圖變化的情形，請問由（圖一）演變為（圖二），與哪一場會議的決議有最密切的關係？

- (A) 維也納會議 (B) 巴黎和會
(C) 慕尼黑會議 (D) 雅爾達會議。



22. 圖三是 1920 年至 1940 年美國「非農就業人口數」的統計圖，其中由 A 至 B 的變化，最適合用來說明下列哪一主題？（註：非農業就業人口數指從事農業以外的就業人口數，主要指製造業及服務業。）

- (A) 第一次世界大戰 (B) 經濟大恐慌 (C) 太平洋戰爭 (D) 美蘇的冷戰。



23. 圖四是美國報刊漫畫在 1991 年刊登的諷刺漫畫，圖中解體的鎚子與鐮刀象徵某一政權的瓦解，請問關於此圖的解讀，下列何者正確？

- (A) 造成此一局勢的關鍵人物是史達林 (B) 此一局勢是雅爾達密約造成的影響
(C) 此一局勢的變化導致了古巴危機 (D) 此一局勢的變化最終造成冷戰結束。



24. 下文是一位官員參加 1919 年某一國際會議後的看法，他表示：「許多代表運用詭辯來掩飾他們的報復行為，強索巨額賠款，又屈從於強權，不能公正處理領土問題。原本期望大會能對戰費、領土等議題做出公正明智的處置，但最後的決議卻令他失望。」請問這位官員是對下列哪一現象提出批評？

- (A) 維也納會議中，戰勝國對拿破崙的安排 (B) 巴黎和會中，列強將中國東北主權讓與日本
(C) 《凡爾賽條約》中，協約國對德意志的處置 (D) 二戰後期，雅爾達會議決議由蘇聯接收東歐部份地區。

25. 下列四個人都曾參加第一次世界大戰，請從他們四人的回憶判斷，哪一個人是同盟國的士兵？

- (A) 馬修：我國本來沒有參與，但因有好幾艘商船被擊沉，後來才參戰。
(B) 傑克：我軍在大戰期間大量使用了潛水艇，以封鎖敵軍的海上運輸。
(C) 偉恩：我軍的部隊雖然在西線打得很辛苦，不過總算是贏得了勝利。
(D) 湯姆：我國在戰場上卻節節敗退，戰爭還未結束我們就退出戰場了。

26. 老師在上課時以共產黨、法西斯黨和納粹黨的發展為例，說明某一局勢發展的情形，請問老師講解的主題最有可能為下列何者？(A) 白種人的負擔 (B) 民族主義的發展 (C) 極權政治的興起 (D) 經濟大恐慌的爆發。

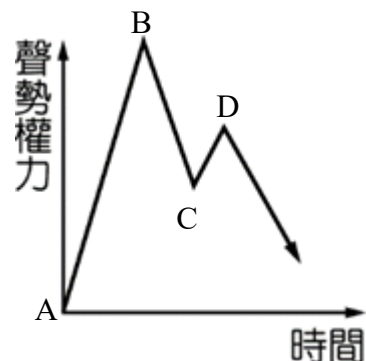
27. 右圖是 1930 年代，希特勒正在發表競選演說的情形，請問他最「不」可能提出下列哪一個政見？

- (A) 無產階級專政 (B) 廢除凡爾賽條約
(C) 猶太人由各領導階級去除 (D) 德國應向東擴張疆界。



28. 拿破崙是一位非常偉大的軍事家，其聲勢與他在戰場上的表現相關，右圖的曲線就是拿破崙一生的聲勢權力的變化，請問下列對於此一曲線的解讀何者正確？

- (A) 從 A 到 B 的發展是他數度擊敗反法聯軍 (B) 從 B 到 C 的變化是因德法戰爭的戰敗
(C) 從 C 到 D 的變化是滑鐵盧之役的影響 (D) 從 D 以後的發展是他征俄失敗所造成



【題組一】

右列照片是阿根廷的「七月九日大道」，該街道雙向共有 18 車道，是世界上最寬廣的街道，其命名是因紀念阿根廷 1816 年 7 月 9 日獨立成功。這條「七月九日大道」跨越整座城市街區，兩邊有很多著名標誌性建築，其中聳立在「七月九日大道」上的方尖碑，是為了紀念布宜諾艾利斯建城四百周年而建的，從它完工之日起，就成了布宜諾艾利斯的象徵。



29. 請問下列哪一歷史發展與「七月九日大道」的命名背景「無關」？

- (A) 受到啟蒙運動的影響 (B) 法國大革命的鼓舞 (C) 拿破崙稱霸歐洲 (D) 加里波底的領導。

30. 聳立在「七月九日大道」上的方尖碑，見證了布宜諾艾利斯的發展，請問該城的建立與下列哪一歷史的發展有關？

- (A) 工業革命後列強的侵略 (B) 美國勢力控制拉丁美洲 (C) 民族主義風潮的盛行 (D) 西班牙對該地的侵略。

【題組二】

想像力豐富的阿宗在研讀某一場戰爭的相關資料時看到附圖，立刻將德國在獲得奧地利及蘇臺德區兩地後的領土形狀想像成一頭野獸的頭，而甲則成為野獸口中的一塊肉，岌岌可危。



31. 圖中的「甲」處應為下列哪一國家？

- (A) 匈牙利 (B) 捷克 (C) 波蘭 (D) 荷蘭。

32. 圖中甲國的遭遇，與下列哪些國際局勢的發展有關？

- 甲. 英法的姑息政策 乙. 美國的孤立主義 丙. 安全理事擁有否決權 丁. 各國以結盟方式對抗
(A) 甲乙 (B) 甲丙 (C) 乙丙 (D) 乙丁

【題組三】

2023 年 10 月，以哈瑪斯為首的巴勒斯坦武裝團體與以色列軍隊爆發武裝衝突，且戰爭持續至今日仍未停歇，該戰爭是第 15 次加薩—以色列衝突引發的戰爭，也是始於 1948 年 5 月的以阿衝突的一部分。在此同時，巴勒斯坦也持續向聯合國提出入會案，巴勒斯坦目前是非會員觀察員國，這是 2012 年由 193 個成員國組成的聯合國大會授予國家地位的承認，不過成為聯合國正式會員國的申請，還需要得到安理會批准，然後才能成為聯合國正式會員國，但美國表達了反對立場，以色列駐聯合國大使也指責安理會不該費時推動建立巴勒斯坦恐怖國家。

33. 關於 2023 年爆發的以哈武裝衝突，下列敘述何者正確？

- (A) 雙方的戰爭從第一次世界大戰至今仍持續發生 (B) 雙方衝突屬於民主陣營與共產陣營間的區域衝突
(C) 這一系列衝突最初起因於猶太人在巴勒斯坦地區建國 (D) 雙方的衝突曾導致了 1990 年代的石油危機。

34. 「接納巴勒斯坦國為聯合國會員國」一案至今仍未通過的原因，最有可能為下列何者？

- (A) 在聯合國大會無法獲得多數國家支持 (B) 安理會中的常任理事國擁有否決權
(C) 第三世界國家在聯合國中的勢力龐大 (D) 以色列指責巴勒斯坦是恐怖國家。

參、公民科

【單題 35-42】

35. 根據右列所附資料，關於「甲國際組織」，下列說明何者正確？

- (A)應是「國際特赦組織」 (B)屬於國際非政府組織
(C)屬於政府間國際組織 (D)目的在解決貿易紛爭

36. 新聞快報：「2025 亞洲冬季運動會在中國哈爾濱舉行，國臺辦發言人在例行記者會上未依照奧運模式使用『中華臺北』稱呼臺灣，而是用『中國臺北』一詞，受到質疑。陸委會回應，中方矮化我參加亞洲冬季運動會代表團，陸委會嚴正抗議。」根據上述報導，下列推論何者正確？

- (A)來自亞洲許多國家、地區的運動員參與本屆冬季運動會，符合國際交流的互動方式
(B)因中國主張「一個中國」的原則，致使我國在國際社會中的政治地位不斷受到提升
(C)臺灣派出多位選手參加滑雪、滑冰等五種運動，可見我國參與國際事務的消極態度
(D)臺灣位在副熱帶，發展冬季運動容易，政府與民間很願意投入以拓展國際活動空間

37. 新聞快報：「知名的電玩遊戲《三國群英傳》、《天堂》等出現盜版品，所屬的遊戲公司立刻檢舉提告！警方調查，國內 2 名嫌犯從中國取得盜版軟體，在我國上架蝦皮，加價 10 倍兜售，不法獲利至少 300 萬元。警方也查扣了 62 萬筆檔案、5000 多首音樂，初估侵權市值超過 3 億元，全案依違反《①法》、《②法》等罪嫌函送檢方偵辦。」請問：下列相關敘述何者正確？

- (A)判斷《①法》、《②法》可能是《著作權法》、《商標法》
(B)遊戲公司發現權益受害，即提出公訴，請求追訴犯罪
(C)案件由檢察官依偵查結果，決定是否向法院提起自訴
(D)上述嫌犯的相關違法行為，僅需要負起民事賠償責任

38. 右圖為某品牌手機的分工圖，最適合用以說明下列何種議題？

- (A)跨國企業與貧富不均 (B)國際分工與經濟全球化
(C)移民與文化適應議題 (D)國際貿易與政治全球化



39. 我國為了拓展國際參與，多年來努力參加許多國際組織，請問：關於下列兩個國際組織的比較，何者正確？

項目	(A)性質	(B)加入年份	(C)加入名稱	(D)宗旨
亞太經濟合作會議	政府間國際組織	2002 年	中華臺北	確保會員國間的自由貿易
世界貿易組織	國際非政府組織	1991 年	臺澎金馬個別關稅領域	維護國際和平與安全

40. 小美是位插畫家，有天靈感乍現，想以狗為主角，結合油畫、素描或合成等創作方式，將世界名畫的「吶喊」(作者 Edvard Munch 已於 1944 年亡故)，加以改作後販售。請問：對於上述小美的行為，下列說法何者正確？

- (A)只要無法得到著作權人同意，就是違法的行為 (B)若原作者的子孫沒有抗議，任何人都能自由使用
(C)僅利用原作者的一幅畫作，可以主張合理使用 (D)著作財產權已超過著作人死後 50 年，可自由利用

41. 新聞報導：「美國之前的移民政策較為寬鬆，開放更多的居留機會，讓瓜地馬拉移民美國的人數大增，但絕大多數沒有合法身分居留。總統川普上任後，強力打擊非法移民！從今年一月起，瓜地馬拉移民由於擔心被逮捕和遣返，匯回母國的資金暴增，近日甚至每天高達約 8500 萬美元。」根據上述內容，下列說法何者有誤？

- (A)美國移民相關政策的改變，連帶影響了瓜地馬拉，可以體現出全球關連的現象
(B)瓜地馬拉移民屬於被迫離開本國的難民，美國依國際公約，須接受且妥善安置
(C)瓜地馬拉人移入，可以為美國社會注入勞動力，且有機會促進彼此的文化交流
(D)瓜地馬拉移民可能會佔用美國公共資源，或是產生文化適應、文化衝突等問題

42. 春節時，中國一部動畫電影十分火紅，但尚未在臺灣正式上映，小陸自行上網下載盜版影片，同時剪輯精華片段，並分享給同學欣賞。請問：針對小陸行為，下列相關判斷何者正確？

- (A)資源共享能促進公共利益，交流使用自是無妨 (B)由於小陸沒有收取任何的費用，視作合理使用
(C)僅純粹欣賞且只剪輯少部分片段，不構成違法 (D)侵害未來影片上映的市場價值，並非合理使用

在世界許多角落，有身在戰區的人面臨生命危險、有人受天災威脅、有人被迫流離失所、有孩童被感染本可預防的疾病等。「甲國際組織」在有緊急需求的地方，為傷者進行手術、注射疫苗預防疾病爆發、協助接生並治療營養不良的病童。



【題組 43-47】小江為了製作專題報告，瀏覽綠色和平組織的網站，查閱下列資料：

- 2023 年 3 月聯合國宣布通過《全球海洋公約》，為 2030 年保護至少 30%海洋奠定關鍵基礎！《全球海洋公約》在獲得 60 個國家批准後 120 天即可生效。
- 2024 年 1 月 23 日，帛琉正式批准《全球海洋公約》，將相關規範和條文入法，成為全球第一個批准該公約的國家，為海洋永續爭取更全面的保障。
- 2024 年 4 月 24 日，《全球海洋公約》以 556 票的絕對多數闖關歐洲議會！這意味著歐盟 27 個成員國，必須在 2025 年 6 月舉行的聯合國海洋會議前批准該條約。歐盟的加入，將大大拉近公約生效的距離！
- 2024 年 7 月 12 日，臺灣立法院三讀通過《海洋保育法》，成為臺灣海洋保育的關鍵里程碑！往後任何人及海陸域交通工具禁止進入海洋庇護區的核心區，違者最高可處新臺幣 50 萬元罰鍰，正式為海洋生態提供安全的生態區域。

資料節錄自《綠色和平》<https://www.greenpeace.org/taiwan/> - 2025 年 3 月 2 日 查詢

43. 根據上述資料，小江專題報告的內容符合下列哪一現象？

- (A)經濟全球化 (B)政治全球化 (C)文化全球化 (D)教育全球化



44. 根據資料內容，小江所做的報告主題應與下列哪一項議題有關？

- (A)預防跨國犯罪 (B)解決貧富不均 (C)關注環境保護 (D)避免文化單一

45. 根據資料內容判斷，可以看出哪一型態的國際互動方式？

- (A)國際交流 (B)國際衝突 (C)國際援助 (D)國際合作

46. 關於上述提及的「聯合國」與「歐洲聯盟」，下列比較何者正確？

項目	(A)性質	(B)簡稱	(C)我國有否加入	(D)標誌
歐洲聯盟	區域性政府間國際組織	UN	有	
聯合國	全球性政府間國際組織	EU	否	

47. 根據最後一則關於我國的資料，下列相關敘述何者正確？

- (A)《海洋保育法》的法律位階，應該是屬於「命令」 (B)民眾擅入海洋庇護區的核心區，須承擔刑事責任
(C)我國雖非聯合國正式會員，仍善盡國際公民責任 (D)無法實際參與許多國際組織，根本不必費心響應

【題組 48-50】新聞報導：

據《紐約郵報》報導，iPhone 的 WiFi 自動連線功能雖然提供了便利性，但這項設定也可能讓駭客有機可乘。專家指出，駭客常在公共場所如咖啡廳、機場或商場架設惡意 WiFi 熱點，並使用類似官方名稱，如「Cafel」、「FreeAirportWiFi」等來欺騙使用者連線，一旦 iPhone 誤連，駭客就能攔截傳輸中的資料，包括密碼、照片、信用卡資訊等，甚至遠端植入惡意軟體，使手機即使斷線後仍持續遭監控。

節錄自《風傳媒》- 2025 年 2 月 15 日

48. 請判斷上述新聞內容，最適合說明下列何者？

- (A)科技發展影響生活模式 (B)現代科技加速全球關連
(C)科技應用存在負面衝擊 (D)運用科技參與公共事務

49. 根據新聞內容，下列相關推論何者正確？

- (A)科技應用範圍助益有限，應全面嚴格管制 (B)符合機會成本概念，手機使用者只能接受
(C)假消息快速傳播，容易誤導訊息的接收者 (D)個人資料外洩，將危害民眾的隱私與財產

50. 根據新聞內容，下列何者無助解決該項問題？

- (A)閱聽人提升媒體識讀的能力 (B)企業強化資訊安全防護系統
(C)政府立法懲治各種網路犯罪 (D)使用者培養自律的資訊倫理

試題結束！謝謝你耐心作答，若有時間，請再檢查一次