

新北市立鷺江國民中學 113 學年度 第 2 學期 8 年級 社會科 第 1 次段考 題目卷

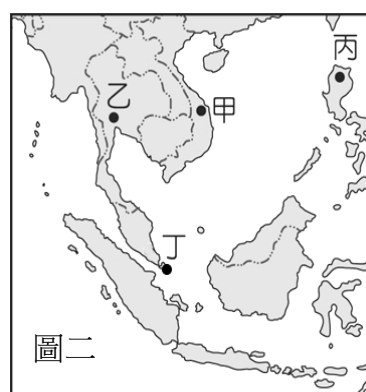
命題教師：社會領域教師 日期：3 月 26 日 第 7 節 班級： 座號： 姓名：

共 50 題，每題 2 分。

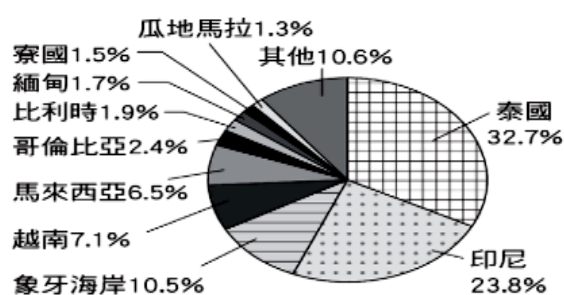
【地理部分 第 1~17 題】

1. 透過世界各地相關圖表的整理，我們可以對世界自然與人文現象有深入的理解。江小鷺正在研究圖一所呈現的資訊內容，主要可用來說明下列哪一項東南亞國家的現象？

(A)菲律賓是常受颱風侵襲的國家 (B)印尼常常發生火山噴發與地震
(C)新加坡位於交通要道且文化多元 (D)馬來西亞蘊藏豐富的錫礦資源。



2. 「幾百年來，此一長條狀的海域是印度與中國之間最直接的航道，也是溝通太平洋與印度洋航運的樞紐，目前全世界約有五分之一的海運貿易及三分之一的油輪由此通過。」請問圖二中哪一個國家因為於此航道上而因此快速發展起來？(改寫自 111 補) (A)甲 (B)乙 (C)丙 (D)丁。
3. 1854 年某英國博物學家前往東印度群島考察，八年內總共蒐集了 12 萬餘件的生物標本，並著有《馬來群島自然考察記：紅毛猩猩與天堂鳥的原鄉》。請問：英國博物學家在東印度群島考察時，最可能會遇到下列哪一種氣候狀況？(改寫自 108 會考)
(A)被午後傾盆大雨淋得全身濕透 (B)冬季遭受冷氣團來襲氣溫驟降
(C)年雨量雖多但乾濕季分明 (D)受緯度影響全年低溫寒冷。
4. 東南亞的經濟發展深受自然環境與歷史背景的影響。圖三為 2021 年世界某種作物的出口產值比例，7 成來自東南亞地區，為東南亞國家重要的經濟來源。請問某種作物最有可能是下列哪一種？
(A)小麥 (B)棉花 (C)稻米 (D)橡膠。



圖三

第一天：雨林探險、泛舟、浮潛
第二天：干欄式建築及咖啡園導覽、火山探祕
第三天：棕欖油工廠參訪、清真寺巡禮

圖四

排序	產業別	投資金額占總額比例(%)
1	加工業、製造業	83.04
2	不動產(房屋、土地等)	6.05
3	建築	5.26
4	農、林、水產	2.41
5	藝術、娛樂服務業	0.88

表五

5. 承第四題，該作物的栽培和東南亞曾被歐美國家殖民有密不可分的關係。請問關於這項農業所具備的特色，下列敘述何者為非？(A)需要大量勞工，勞力密集 (B)獲利易受國際價格波動影響不穩定 (C)因應市場需求以出口為導向 (D)大規模種植多樣作物。
6. 圖四為某旅遊外景行程的規畫，此趟外景最可能是前往下列哪一個地理區拍攝？(改寫自 110 會考補)
(A)中南半島 (B)東印度群島 (C)印度半島 (D)馬爾地夫群島。
7. 表(五)為台商自 1988 年至 2013 年在越南投資的前五大產業別，並依據投資金額占總額的比例由大至小排序。根據表(五)中資訊判斷，台商前往越南投資主要是考量下列哪一個因素？(改寫自 111 會考補)
(A)東西交通要道 (B)農礦原料豐富 (C)大量廉價勞力 (D)消費市場廣大。
8. 東南亞因位置的關係，使得各國的族群文化都相當多元豐富。下列何者是受印度影響的結果？
(A)泰國人看到僧侶會讓座位 (B)英語為菲律賓的官方語言
(C)越南常見河粉米線的料理 (D)東印度群島盛行伊斯蘭教。

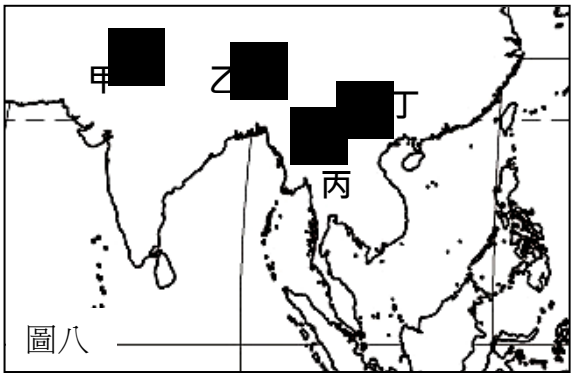
9. 季風亞洲指受季風氣候所影響的亞洲地區，是全世界人口最集中的地區。該地區之所以可以有如此高的環境負載力，與其盛行季風所帶來的充沛水氣有關。請問下列哪一地區的冬夏季盛行風向與其他三者不同？
(A)日本群島 (B)中南半島 (C)印度半島 (D)菲律賓群島。
10. 一名網紅分享自己在印度的所見所聞：一早起來，看到當地人們依照習俗面朝東方，朝著日出之光的方向走入聖河裡，接著將頭部浸入水中，用雙手高捧聖河水洗臉。請問網紅可能是到圖六中的哪一條河流旅遊呢？
(A)甲 (B)乙 (C)丙 (D)丁。



圖六

地點	新德里	長沙
緯度	28° 39' N	28° 12' N
高度	219m	60m
月均溫	12月	15°C
	1月	15°C
	2月	17°C

表七

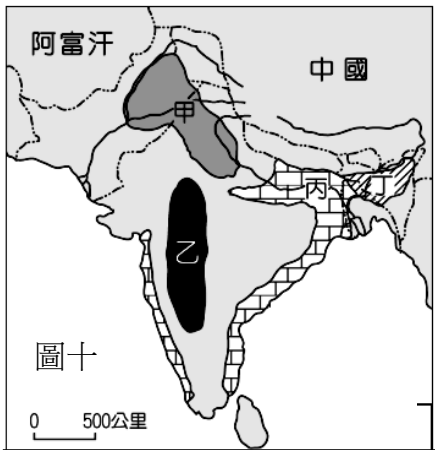


圖八

11. 表七為印度新德里與中國湖南長沙的資料，比較後發現兩地區冬季氣溫有明顯的差異，請問影響新德里氣溫的主因為何？(A)北有高山阻擋冷氣團 (B)緯度位置較長沙低 (C)位於冬季季風迎風坡 (D)地勢高度較長沙低。
12. 「在印度有一頂級的旅館，位於全國最大的野生動物和老虎保育區的國家公園旁，全旅館僅由 14 頂帳篷組成。受限於自然條件的關係，只在限定的時間營業，進入不宜旅遊的季節便將帳篷一一拆卸後收藏，直至較舒適的時節來臨，才又再度搭起營帳，迎接新一批旅客的到來。」根據上述。下列哪個月分最可能是該旅館的營業時間？
(改寫自 111 補會考題)
(A)正逢雨季的八月 (B)熱季來臨前的二月 (C)雨季來臨前的五月 (D)涼季來臨前的十月。
13. 「……由於長期的宗教差異與喀什米爾領土爭議，造成兩國關係緊張。瓦甲為這兩國的邊境檢查哨，每到黃昏的降旗儀式，士兵會以誇張的肢體動作，展示自己的實力和威嚴，希望氣勢壓倒對方，也因此吸引上千遊客觀看。」上述兩國的領土爭議地區，位於圖(八)中何處？(改寫自 109 會考補)(A)甲 (B)乙 (C)丙 (D)丁。



圖九



圖十

網羅 AI 人才 國發會前進印度班加羅爾、明年赴美國矽谷

圖十一

本文共864字



2024/12/11 18:16:58

經濟日報 記者葉卉軒／台北即時報導

國發會11日發布新聞稿指出，12月2日至8日攜手數發部、台達電子(2308)、瑞昱(2379)、羅技、輝達(NVIDIA)、台北市電腦公會(TCA)，以及台大、師大、台科大等，組團赴印度班加羅爾(Bangalore)，推動AI人才產業台印人才交流。

14. 圖九為孟加拉的國徽，國徽上有兩種作物，其一是經濟作物，另一則是糧食作物。由於孟加拉位於恆河下游，依據當地地形和氣候條件判斷，圖九中兩種作物最有可能是下列何者？
(A)糧食作物：水稻；經濟作物：棉花 (B)糧食作物：水稻；經濟作物：黃麻
(C)糧食作物：小麥；經濟作物：棉花 (D)糧食作物：小麥；經濟作物：黃麻。
15. 印度半島人口眾多，糧食生產卻能自給自足。圖十為印度半島部分農作物的分布圖，請問圖十中哪兩種農作區最有可能因其氣候特色加上過度灌溉，而出現土壤鹽鹼化的環境問題？(A)甲乙 (B)乙丙 (C)丙丁 (D)甲丁。
16. 圖十一為台灣國發會於 2024 年底發布的新聞稿，文中提到將前往印度的班(邦)加羅爾進行 AI 產業的人才交流。請問邦加羅爾之所以能發展為全球重要的資訊科技和客服中心的優勢，與下列何者關係最小？
(A)精通英語溝通無障礙 (B)高階勞工薪資相對較低廉 (C)交通等基礎設施完善 (D)眾多理工人才聚集。
17. 新南向政策是中華民國政府自 2000 年代開始施行的外交與經濟政策，鼓勵台商前往東南亞、南亞、澳洲、紐西蘭投資。若台商想要在當地開設餐廳，去到下列哪個國家因其主要宗教的關係，須特別留意「清真標章」的相關規定，才易打入當地市場？(A)緬甸 (B)印度 (C)孟加拉 (D)泰國。

【歷史部分 第18~34題】

18. 根據下述內容，頒布詔書後中國進入了何種新局面？

「有一天在養心殿東暖閣裡，隆裕太后坐在靠南窗的炕上，用手絹擦著眼。她面前的紅氈子墊上，跪著一個粗胖的老頭子，也是滿臉淚痕。殿裡別無他人，安靜得很。胖老頭抽縮著鼻子，聲響很大，一邊說著話。再後來太后帶著他舉行最後一次朝見儀式，頒布詔書。那天氣氛很不一樣，滿朝哀戚之色。但他只想著等一下要去逗蝲蛄玩，完全沒想過大清國在那天之後已經結束了。」

摘自於 愛新覺羅·溥儀 所著《我的前半生》

- (A)從此一路施行民主下去 (B)終結兩千多年的帝制 (C)從此國家主權被少數革命派掌握 (D)成為亞洲第一個君主立憲國家。

19. 民國初年國會修改總統制為內閣制，下表為第一次國會大選，參、眾兩院國會議員的選舉結果。由於採取內閣制，代表實權屬於內閣，將由國會最大黨的負責人來擔任內閣總理，根據表格判斷，當時實權屬於哪一政黨？

黨籍	國民黨	進步黨	跨黨派	無黨籍	總計
眾議院	269	154	147	26	596
參議院	123	69	38	44	274
合計	392	223	185	70	870

(單位：人)

- (A)國民黨 (B)進步黨 (C)無黨籍 (D)跨黨派。

20. 面對日本對中國提出的「二十一條」袁世凱是這麼說：

「購地租地，我叫他一寸地都買不到手；雜居，我叫他一走出附屬地，就遇到生命危險；至於警察顧問用日本人，我用雖用他，每月給他幾個錢罷了，至於顧不顧、問不問，決定權卻在我身上。其他各條，我皆有破壞之法。」

摘自於 金哲毅所著《野心家們：被遺忘的中國近代史 2》

在「二十一條」要求中，最後簽訂的文本實際上只有「十二條」。而且袁世凱還在「二十一條」要求簽訂後，深刻體會國力不足只能被霸凌的屈辱，於是下令：「將5月9日列為國恥紀念日！」根據上述內容，你認為我們應該如何重新看待袁世凱簽訂的「二十一條」要求？

- (A)5月9日為國恥紀念日的訂定是反對袁世凱者對袁世凱的嘲諷 (B)袁世凱已盡量將「二十一條」要求的傷害性降到了最低 (C)日本在與袁世凱簽訂「二十一條」要求後便成為在中國廣東的最大既得利益者 (D)袁世凱是賣國賊，為了一己之私出賣中國利益。
21. 下表為中國某一時期代表性雜誌所發表的著名作品列表，根據刊載的內容判斷，下列敘述何者完全正確？

年分	作品
1916	胡適翻譯俄羅斯作家泰來夏浦的小說《決鬥》
1917	胡適發表〈文學改良芻議〉推動文學改革
1918	魯迅發表〈狂人日記〉
	李大釗發表〈布爾什維克的勝利〉等文章，傳播馬克思主義思想

- (A)使用精簡扼要的文言文較容易被刊登 (B)這本雜誌對五四運動可能會採取反對態度
(C)這本雜誌為〈新青年〉，創辦者是胡適 (D)這些文章的目的在於推廣新文化運動。

22. 根據文章內容與這個時期的特色，此時期知識分子最有可能提出下列哪些主張？

中國古代傳下來的心理，以為「婦人主中饋」（中饋：婦女在家中職司飲食之事），「男子治外，女子主內」；婦人稱丈夫為「外子」，丈夫稱妻子為「內助」。這種區別，是現代美國婦女所絕對不承認的。他們以為男女同是「人類」，都該努力做一個自由獨立的「人」，沒有什麼內外的區別的。……我們中國的姊妹們若能把這種「自立」的精神來補助我們的「倚賴」性質，……定可使中國女界有一點「新鮮空氣」，定可使中國產出一些真能「自立」的女子。

摘自胡適〈美國的婦人〉1918年9月15日收錄於《新青年/卷5》

- (甲)贊成男主外，女主內 (乙)推崇西方文化 (丙)不要學習西方婦女男女平權觀念 (丁)批評中國傳統文化 (戊)主張女性能更自立。

- (A)甲乙丙 (B)乙丙丁 (C)乙丁戊 (D)丙丁戊。

23. 在中國歷史上，因為政治、社會動盪不安，知識分子提出或引進各種學說，尋求解決辦法，也使得學術思想呈現百家爭鳴的局面？右表中哪兩個時期最能明顯呈現這種狀況？
(A)甲乙 (B)甲丁 (C)乙丙 (D)乙丁。

甲	春秋戰國
乙	宋代
丙	清代
丁	民國初年

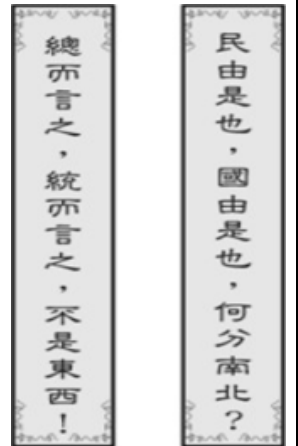
24. 民國初年的學者梁漱溟認為，帝國主義、軍閥是中國人民的最大敵人。請問：下列選項中對軍閥的敘述何者正確？
(A)皆能苦民所苦，透過理性的協商解決問題 (B)不依附列強，私募軍隊 (C)經常以武力解決政治糾紛 (D)都以爭奪象徵中央的南京政府為目標。

25. 「新文化運動」與「五四運動」為民國初年重要的文化與愛國運動，對近代中國的發展影響亦至為深遠。關於兩個運動的比較，下列何者正確？

- (A)兩個皆得到新知識分子的支持 (B)新文化運動阻礙了五四運動
(C)兩者運動都偏重於制度層面的改革 (D)五四運動僅由學生參與。

26. 民國早期有段『南北分裂』時期，中國境內出現了兩個政府。當時民間有一副對聯如右圖，嘲諷南爭北鬥的政治亂象。當時南北政府分別指何地？

- (A)廣州、天津 (B)武漢、南京 (C)南京、北京 (D)廣州、北京。



27. 民國初年，知識份子們瞭解到孩子自有其世界，並非「縮小的成人世界」。因此呼籲注重兒童教育的重要性，魯迅曾在文章《風箏》中說過：「遊戲是兒童最正當的行為，玩具是兒童的天使」。請問：這段言論，促進了下列哪些發展？甲：培育兒童教育的師資、乙：推行適合兒童的教育、丙：教導成人世界的規矩、丁：開啟兒童文學的創作？

- (A)甲乙丙 (B)乙丙丁 (C)甲丙丁 (D)甲乙丁。

28. 以下為中華民國建立初期，發生的相關事件：

(甲)袁世凱接受二十一條要求 (乙)國號為洪憲元年 (丙)袁世凱成為正式大總統 (丁)孫中山成為臨時大總統 (戊)袁世凱成為臨時大總統；依據上述事件發生的順序排列，何者正確？

- (A)丁戊甲丙乙 (B)丁甲乙丙戊 (C)丁戊丙甲乙 (D)丁丙戊乙甲。

29. 中國近代史上某一時期，曾有教授和大學生主張以口語化的新文學取代舊式古典文學，並有意識地反對許多傳統觀念與習俗。這樣的主張應出現於下列何時？

- (A)新文化運動 (B)庚子後新政 (C)百日維新 (D)自強運動。

30. 清末，朝野人士面對外力的衝擊，提出不少意見。一日，小周在路上看到一張標語寫著：「驅逐韃虜，恢復中華，創建民國，平均地權。」請問：張貼此標語的應為下列何派人士？

- (A)投降派 (B)立憲派 (C)革命派 (D)守舊派。

31. 龍龍正在閱讀一份報紙

「國會大選的結果揭曉，結果國民黨贏得絕對的多數，使國民黨的代理理事長宋教仁掌握政治權力，袁世凱因此備感壓力，結果做出了令人意想不到的事情，引發一場討袁行動。」

請問：內容所提到的討袁行動是下列何項事件？

- (A)二次革命 (B)武昌起義 (C)戊戌政變 (D)護法運動。

【第 32-34 為題組】請閱讀文章後回答以下問題：

清末民初因為外力衝擊與西方文化思想傳入，出現許多改革運動，包括：

(甲)自強運動 (乙)戊戌變法 (丙)立憲運動 (丁)革命運動 (戊)新文化運動 (己)五四運動。

32. 近代中國社會邁向現代化的過程中，經過多次的變革，其變革層面依序為何？

- (A)思想→制度→器物 (B)器物→思想→制度 (C)制度→器物→思想 (D)器物→制度→思想。

33. 民初的哪一項運動，知識分子大多希望透過思想變革上的脫胎換骨，才能讓中國蛻變成現代化國家？

- (A)乙 (B)丁 (C)戊 (D)己。

34. 以上變法改革運動，何者出現於民國建立之後？

- (A)丁戊 (B)戊己 (C)甲己 (D)乙戊。

【公民部分 第 35~50 題】

35. 下列何項行為並非屬於《民法》中規定的財產關係範圍？
 (A)與租車公司間的租賃契約 (B)從父親身上繼承一棟房子
 (C)下大雨跟同學借了一把傘 (D)到超市買晚餐要煮的牛肉。
36. 15 歲的洋洋和同班的信信約好要去看電影，兩人先一起(甲)搭捷運到電影院，接著(乙)買好電影票跟爆米花後，到旁邊的商場逛街，眼尖的信信看到商場竟然進貨了他夢寐以求要價 3 萬元的限量球鞋，便拿著(丙)領到的獎學金毫不猶豫(丁)將高價球鞋買下。請問：上文中畫線部分，洋洋與信信一天的行為，哪一項需要法定代理人同意？
 (A)甲 (B)乙 (C)丙 (D)丁。
37. 下課時，同學們正在討論糾紛解決的處理方式，請問：誰的說法才是正確的？
 (A)阿吉:調解成立後，若事後又有不滿可再次提起訴訟
 (B)阿凱:如果有人借錢不還，只能透過訴訟的方式解決
 (C)桃桃:與房東有租屋糾紛，可以請檢察官對房東提告
 (D)如如:私下和解最簡便，但是只有民法上的契約效力。
38. 阿寬和柔柔是朋友，阿寬需要法定代理人同意買賣契約才有效，柔柔則無法自行從事有效的法律行為。某日，阿寬跟柔柔一起去逛街，分別買了一台要價 80 萬及 100 萬元的車子。請問：下列敘述何者錯誤？
 (A)柔柔的買賣契約若法定代理人同意就有效 (B)柔柔可能受到監護宣告
 (C)阿寬的買賣契約若法定代理人同意就有效 (D)阿寬為限制行為能力人。
39. 圖一為陳小希與吳大明兩人簽的契約，依照此契約上的資訊判斷，下列何者正確？
 (A)甲方的權利為取得還款
 (B)乙方的義務為出借金錢
 (C)甲方與乙方之間為租賃契約關係
 (D)兩人只簽名沒蓋章，此契約無效。
40. <事件一>在逛百貨公司的時候，6 歲的容容不小心把展示的玻璃花瓶打破了。
 <事件二>17 歲敏敏不喜歡班上的元元，因此趁元元不在的時候把元元的外套剪壞。
 請問：關於兩事件的法律責任，下列何者正確？
 (A)因為容容是不小心的，所以不用賠償 (B)為了懲罰敏敏的行為，可要求敏敏付 10 倍賠償金
 (C)容容是無行為能力人，所以不用賠償 (D)敏敏為限制行為能力人，由法定代理人負連帶責任。
41. 13 歲的阿維在做實驗的時候不小心將實驗用的寬口燒杯打破了，請問：下列敘述何者正確？
 (A)此為侵權行為，應以回復原狀為原則 (B)此為債務不履行，應以回復原狀為原則
 (C)此為侵權行為，但因未成年不用賠償 (D)此為債務不履行，法定代理人連帶賠償。
42. 真真一家人預計清明連假要到宜蘭玩，在找住宿的時候，發現連假的價格比平日要貴上許多，連假四人房一晚要價 16000 元，讓真真直呼不合理，但是孩子們很期待連假出門玩，只好硬著頭皮付了錢。而政府單位經查，業者所設定的價格，並沒有違規的情形，也提醒消費者在消費前，應審慎思考後再作決定。請問：住宿業者在平假日及連假設定不同收費方式，「消費者若選擇住房，則代表接受業者設定的價格」，這是因為契約的訂定，具有下列何種特性？

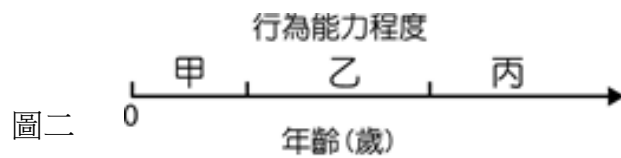
契約書	
立約人	陳小希 (以下簡稱甲方)
	吳大明 (以下簡稱乙方)
茲因借貸事宜，經雙方同意訂立本約，其協議事項如下：	
一、甲方借伍百萬元給乙方。	
二、乙方將於民國114年4月1日歸還。	
立約人	
姓名：	陳小希
身分證號碼：	X X X
姓名：	吳大明
身分證號碼：	X X X

圖一

每晚價格 (元)	平日	假日	清明連 假
兩人房	1600	3200	6400
四人房	4000	8000	16000

- (A)契約必須誠實公開
 (B)契約不可違反法律
 (C)契約內容可自由訂定
 (D)有行為能力才能簽訂。

43. 圖二為《民法》中年齡與行為能力程度的示意圖，甲、乙、丙分別代表不同程度的行為能力。請問：下列哪些人最可能與圖二中的「丙」屬於相同程度的行為能力？

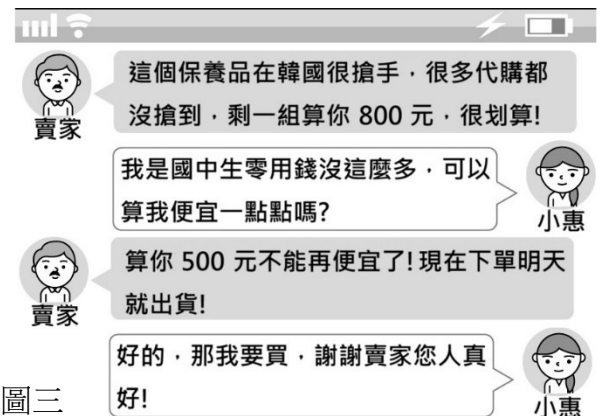


- (甲)6 歲讀幼兒園的花花 (乙)14 歲熱愛 KPOP 的小米 (丙)18 歲半工半讀的小雄
(丁)25 歲受監護宣告的浩浩 (戊)40 歲被褫奪公權的琳琳 (己)85 歲參加鐵人三項的小雙
(A)甲乙丙 (B)丙戊己 (C)丙丁戊 (D)丁戊己。

【第 44-45 為題組】

44. 孝順的小惠想要趁媽媽生日的時候送媽媽生日禮物，因此上網買了一組保養品，圖三為小惠與賣家的訊息對話。請問：根據此對話，契約是否成立？

- (A)成立，雙方當事人意思表示一致
(B)不成立，契約內容違反公序良俗
(C)不成立，網路對話非有效契約
(D)不成立，小惠是無行為能力人。



圖三

45. 若小惠取貨後，發現這組保養品只剩下一個禮拜的效期，但是賣家當初卻沒有告知，請問：賣家的做法違反《民法》的何種原則？

- (A)消滅時效 (B)契約自由原則 (C)誠實信用原則 (D)權利濫用禁止原則。

【第 46-47 為題組】

圖四為民事訴訟庭的配置簡圖，請根據圖四回答下列問題。

46. 關於此圖中人員配置的敘述，下列何者正確？
(A)甲為法官，必須蒐集證據 (B)丁為書記官，法庭記錄者
(C)戊為律師，負責為庚辯護 (D)己為原告，為訴訟提起人。

47. 關於此法庭的敘述，下列何者正確？

- (A)甲發現雙方的糾紛會主動開庭審理
(B)己與庚之間可能有金錢借貸的糾紛
(C)此類型的案件提告之後就無法和解
(D)甲判決後的效力會與私下和解相同。



圖四

【第 48-50 為題組】

以下四則新聞分別使用不同方式解決民事糾紛，請根據新聞回答下列問題。

<新聞一>好兄弟反目，痛毆對方不願賠償遭告上法院。 <新聞二>網路購物產生消費糾紛，雙方進入調解階段。 <新聞三>小型車禍私下和解，事後反悔鬧上新聞版面。 <新聞四>法官面前和解!房東房客租屋糾紛終於落幕。

48. 哪一則新聞中的紛爭解決方式不具有強制力？
(A)新聞一 (B)新聞二 (C)新聞三 (D)新聞四。
49. 關於新聞二紛爭解決方式的敘述，下列何者正確？
(A)由警察局設置調解委員會來處理 (B)可以處理債務不履行的相關糾紛
(C)費用較訴訟貴，一般人無法負擔 (D)調解成立之後，調解書直接生效。
50. 關於新聞三及新聞四紛爭解決方式的比較，下列何者正確？
(A)兩者效力相同 (B)兩者處理機關相同 (C)前者由調解委員居間協調；後者由法官居間協調
(D)前者不須進入訴訟程序；後者則在訴訟過程中達成。

試卷結束