

地理科 1-17

1. 某家服飾店欲在各地開設分店以擴展市場，該公司蒐集了四個地區甲～丁的相關資料如【圖一】所示。請問該公司新開分店設在何處的商機最大？

(A)甲 (B)乙 (C)丙 (D)丁。

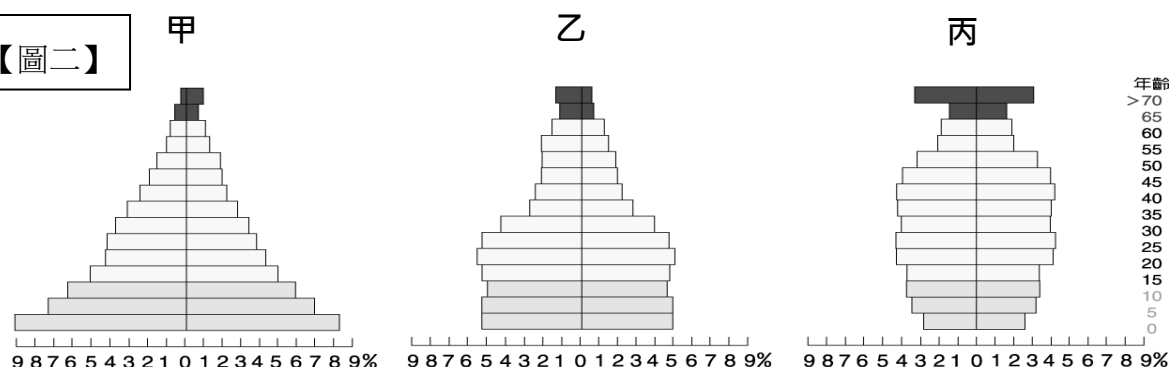
2. 內政部公布最新統計，2020 年我國出生與死亡人口正式出現死亡交叉，也就是死亡人數超過出生人數，此時「甲」數值出現負值，出生嬰兒是史上出生人數最少的一年。在疫情影響下，結婚對數也創下史上次低，恐將使得 2021 年的出生人口面臨 15 萬人保衛戰。另外，過去每年都有上萬名新住民移入台灣，提升台灣人口的數量，但 2020 年受疫情影響，這方面人數也減少。根據上述報導內容，「甲」數值應填入下列何者？

(A)自然增加率 (B)社會增加率 (C)死亡率 (D)出生率。

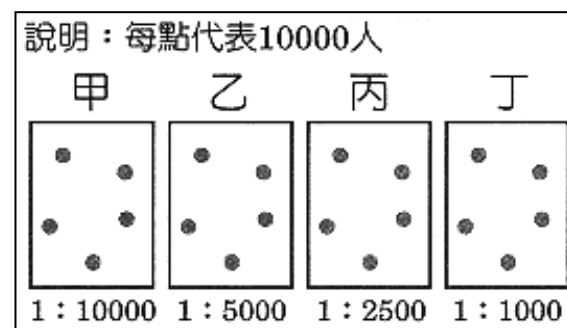
3. 「近年來，臺灣新生兒逐年減少，加上醫療技術進步，老人壽命延長，人口呈現少子化與高齡化的現象。」上文是在說明臺灣哪項人口特徵？ (A)出生率下降、死亡率上升 (B)出生率上升、死亡率下降 (C)出生率和死亡率皆下降 (D)出生率和死亡率皆上升。

4. 承上題，根據上文的敘述，較接近下列哪一張人口金字塔圖【圖二】？ (A)甲 (B)乙 (C)丙。

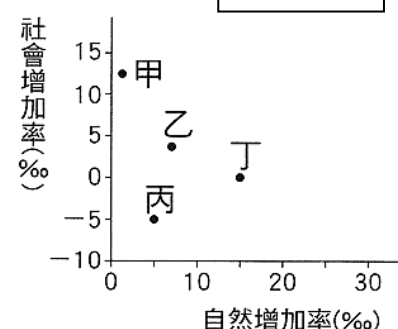
【圖二】



【圖一】



【圖三】



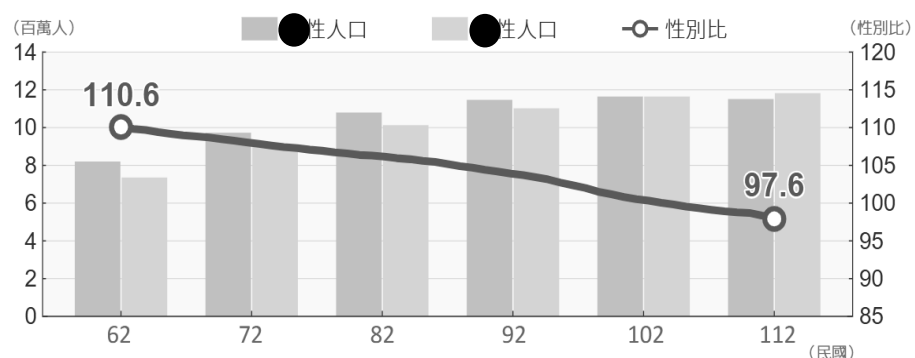
5. 【圖三】是某年甲～丁四國的人口資料。請問哪個國家該年度的人口數量呈現「零成長」？ (A)甲 (B)乙 (C)丙 (D)丁。

6. 臺灣的人口分布不平均，請問下列關於臺灣人口分布的特徵何者正確？ (A)人口集中在西部都市，因為推力較強 (B)東部受地形阻隔，因此人口密度較低 (C)南部因為交通問題，人口外移嚴重 (D)北部由於開發時間比南部早，因此聚居大量人口。

7. 由於位置上的鄰近性及語言文化相近，台灣的外籍配偶中以哪些國家的比例較高？

(A)泰國、菲律賓 (B)日本、南韓 (C)中國、越南 (D)印尼、馬來西亞。

8. 【圖四】為台灣歷年人口性別比統計圖，圖中的男女性人口數量用長條圖顯示，但部分圖例資訊被遮住，請根據圖中訊息判斷下列何者正確？ (A)歷年來的性別比逐漸下降，顯示男性人口數愈來愈多 (B)圖例中 應為男性人口 (C)民國 112 年性別比 97.6 代表每 100 位男性對應女性 97.6 人 (D)性別比公式為：(女性人口數÷男性人口數)×100。



【圖四】

9. 柔柔(12 歲)是某國中七年級的女學生，家中的成員有 72 歲的外公、64 歲的外婆、42 歲的爸爸、38 歲的媽媽、15 歲的哥哥以及 7 歲的妹妹。請問下列關於柔柔家中所有成員的敘述何者正確？ (A)老年人口有 2 位 (B)扶養比為 75% (C)壯年人口有 3 位 (D)性別比大於 100。

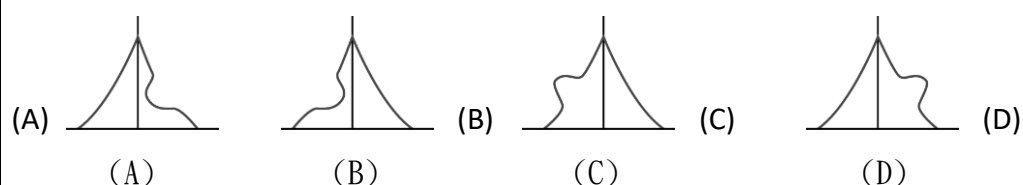
試題尚未結束

10. 【圖五】為 114 年 1 月台灣各縣市的社會增加率統計圖，灰底色代表數值為正，白色表示數值為負，請問社會增加率呈現「正值」的縣市，主要是受下列哪些因素影響？甲、地形；乙、工作機會；丙、氣候條件；丁、交通建設 (A)甲、乙 (B)甲、丙 (C)乙、丁 (D)甲、丁。

11. 承上題，由上圖的資料最能判斷出台灣的哪一人口現象？(A)六都皆移入大於移出 (B)東部人口超高齡化 (C)整體台灣社會增加率逐漸下降 (D)人口大致上往都市集中。

12. 六個直轄市中，台中市的人口密度為 1292 人/km²，高雄市的人口密度為 925/km²，請由人口密度的概念判斷下列選項何者正確？ (A)台中市的土地面積比高雄市小 (B)台中市的人口總數較高雄市多 (C)高雄市的人口分布較台中市平均 (D)高雄市的平均生活空間較台中市大。

13. 俄烏衝突爆發至今已三年，自從國家進入戰爭狀態以來，烏克蘭 18~60 歲的成年男子，就被禁止離開國家。烏克蘭在前線已經出現嚴重兵力不足的問題，並宣布適齡男性回國參戰補充兵源，請問此時烏克蘭的人口金字塔最接近下列哪一個？

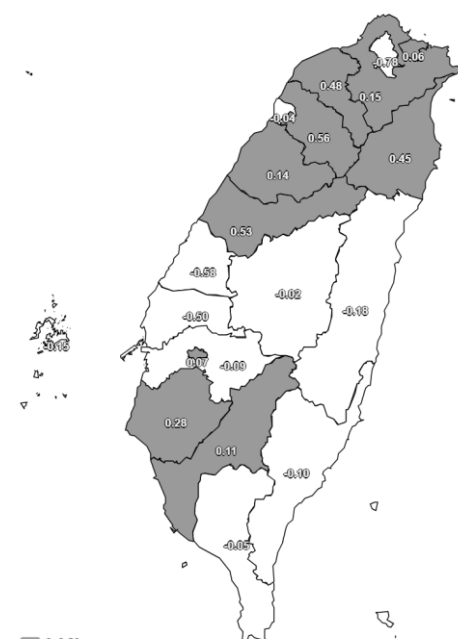


14. 【圖六】為新北市蘆洲區不同年代人口金字塔圖，依據此圖可歸納出下列哪項數據或現象的變化情形？甲、出生率日益降低；乙、扶養比日益上升；丙、性別比嚴重失衡；丁、醫藥衛生進步。 (A)甲丁 (B)丙丁 (C)乙丙 (D)甲丙。

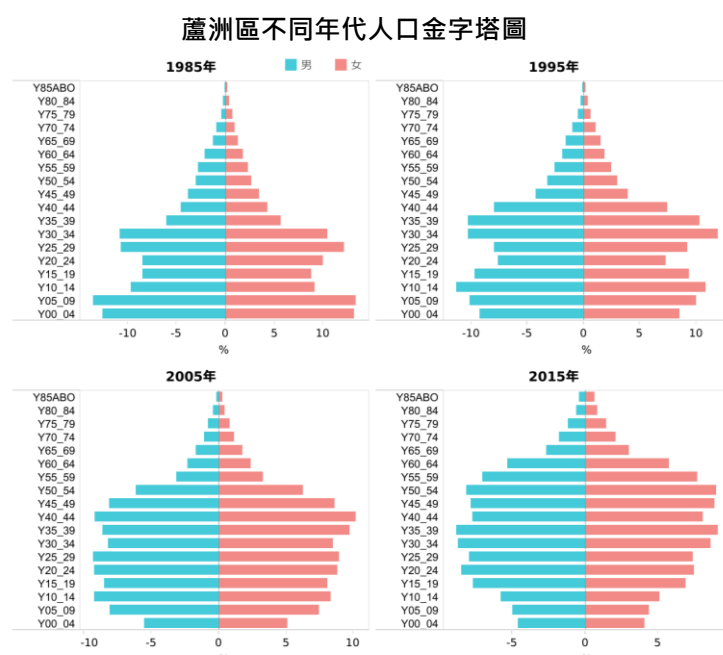
15. 關於人口金字塔的判讀，下列敘述何者正確？ (A)底層為 0~15 歲的幼年人口 (B)64 歲以上為老年人口 (C)性別為男右女左 (D)無法由人口百分比得知人口總數。

16. 【圖七】是民國 57~104 年台灣人口成長變化，根據圖中資訊，請問下列何者正確？ (A)自然增加率整體下滑，代表出生率小於死亡率 (B)社會增加率大致穩定並非人口增加的主因 (C)人口增加率整體下滑代表人口總數逐漸減少 (D)社會增加率是移出率減移入率所得。

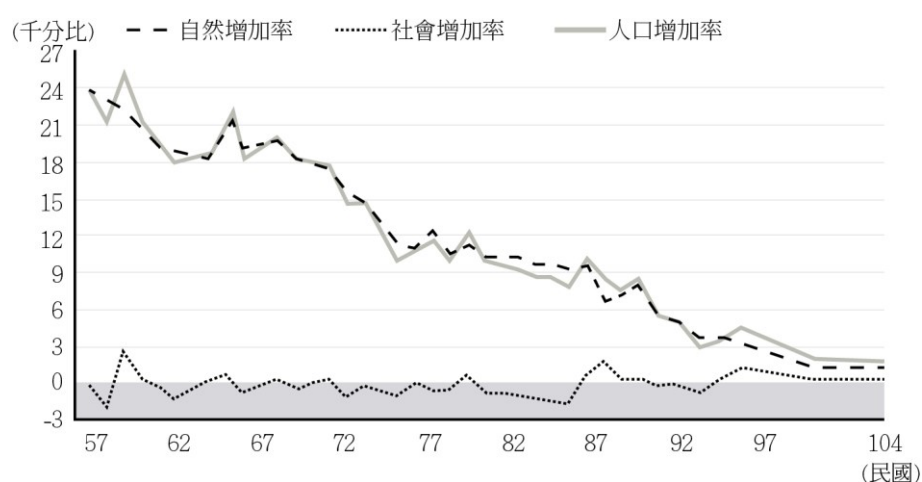
17. 台灣人口組成多樣化，【圖八】為台灣某族群的分布圖，請根據分布範圍判斷(深色部分)，此圖可能為哪個族群的分布地？ (A)原住民 (B)新住民 (C)客家人 (D)閩南人。



【圖五】

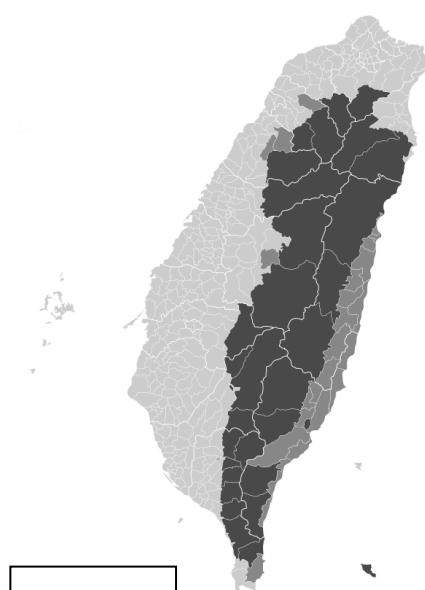


【圖六】



【圖七】

試題尚未結束



【圖八】

歷史科 18-34

- 18.洪攀桂，字月樵，壯年遭遇祖國割臺一事，後改名繻，字棄生，他是日治時期重要的文學家，經常針貶時事，曾有見臺灣保甲連坐法感題序言如下：「是時再編立保甲法五十餘條，皆是輕微事項而罰金數十以上、數百以下。一家犯法，罪及一甲十餘家。其法是由日本人捏造，而強令百姓蓋印，說是民間自治法。」（資料來源：洪棄生，寄鶴齋詩集）請問：關於讓洪攀桂有所感嘆的「保甲連坐法」，下列敘述何者最不正確？(A)連坐法開始實施期間約在殖民地特殊統治時期 (B)警察和保正及甲長在此法實施過程中扮演非常重要的角色 (C)此法中的保甲此名詞是臺灣人第一次所見，在總督府實施此法前，臺人從未聽過何謂保甲制度 (D)此法的出現，讓當時的臺灣社會出現人心惶惶且相互監督的現象。
- 19.西元 1901 年，臺灣總督兒玉源太郎在一場演講中，對於臺灣農業生產環境曾有以下描述：「現在臺灣的生產，以米居首位，但其廣闊的水田，雖具氣候、風土之天惠，奈因水利未修，可收穫之處與其廣大的面積不能相配，產量甚少，且品質低劣。……若能通水利、慎耕作，則將可收穫之處擴大為現今所有面積的三倍並不困難，如此則不但居民可以飽食三餐而且還可將剩餘輸出海外，使之成為一項大宗的貿易品。」請問：關於兒玉源太郎的演講內容，下列敘述何者最正確？(A)當時正處於皇民化運動時期 (B)日月潭水力發電所的興建完工，是得以解決當時米糧缺乏問題最重要的因素 (C)從日本移植栽種的池上米，成為主要外銷日本的稻米品種 (D)嘉南大圳的興建與完工，讓當時的問題得以有效解決。
- 20.「近七十年了/氤氳的霧中/仍有許多枯骨半埋/在花岡山上龜裂的泥層中/猶抱著遺憾/哀泣依舊與濁水溪的滾滾流水/傳唱成賽德克的悲歌。」關於這段讀來令人感到悲傷的詩句，其所描述的內容下列何者最正確？(A)發生時地：西元 1930 年的台南 (B)背景：資源被奪、不堪沉重的勞役及警察的任意欺壓 (C)起事族群：阿美族 (D)影響：事件結束後，日方仍以大規模軍力進行鎮壓。
- 21.吳濁流的《亞細亞的孤兒》這麼寫著：「胡太明生於台灣，沒有受到養母一日本人的照顧，投入生母一中國的懷抱，卻也沒有得到溫暖，於是他自認為臺灣人是被遺棄的亞細亞的孤兒。」根據以上文字內容敘述，臺灣是在何時成為日本人的養子？又於何時結束這樣的關係？(A)第一次世界大戰;第二次世界大戰 (B)甲午戰爭;第一次世界大戰 (C)甲午戰爭;第二次世界大戰 (D)牡丹社事件;中日戰爭。
- 22.臺灣歷史上曾出現一份重要宣言：「吾臺民，誓不服倭，與其事敵，寧願戰死。爰經大會議決，臺灣自立，改建民主國，……，一切政務秉公處理。」關於宣言中所提到的「民主國」的相關敘述內容，下列何者最正確？(甲)總統是由民選的唐景崧所擔任 (乙)此國家的國旗是黃龍旗 (丙)日本從臺南登陸，最後佔領臺北，唐景崧等人依然堅守臺灣不離不棄 (丁)此國成立的目的是為了反抗日本的接收事宜 (A)甲乙 (B)乙丙丁 (C)甲丁 (D)丁。
- 23.雪子是日治時期的臺灣人，她 1935 年前往臺北參觀「始政四十年博覽會」，主要展示總督府四十年來殖民臺灣的成果。博覽會中分別有下列三個展館：「工業日本—農業臺灣館」、「基礎建設館」、「工業臺灣—農業南洋館」，雪子看到展出內容如下：(甲)後藤新平接電話 (乙)阿里山森林鐵道 (丙)第一套臺灣銀行券 (丁)石化工業 (戊)嘉南大圳 (己)新式糖廠 (庚)東南亞物產 (辛)蓬萊米 (壬)基隆到高雄的西部鐵路。當雪子她去參觀「工業日本—農業臺灣館」，她最可能看見下列哪些展出內容？(A)甲乙丙 (B)戊己辛 (C)乙己辛 (D)丁庚壬。
- 24.戶籍是官府管理社會的重要憑藉，而戶籍資料裡除了姓名、年齡、居住 或遷移等記錄外，也記錄著與本人有關的各項事宜，下列戶籍資料內容如下：「本籍、是否為生熟番、族稱、屬於哪個保甲、是否吸食鴉片」，關於此戶籍資料的敘述，下列何者最正確？(A)此資料有可能出現在日治時期的臺灣，調查內容是由總督一人獨力完成 (B)此份資料最早可能出現於於日治時期的皇民化運動期間(C)資料中所提到的鴉片，在日治時期的臺灣是任何人隨處都可買到的專賣物資 (D)此資料得以完成，有賴日治時期的大人和保甲的通力合作。
- 25.西元 1910 年總督府推動「五年理蕃計畫」，以下四份資料中，何者描述與「五年理蕃計畫」內容最有關係？(A)資料甲 (B)資料乙 (C)資料丙 (D)資料丁。

資料甲：在漢番交界處設置土牛、土牛溝、界碑等，使漢人不得越界侵擾原住民的區域。

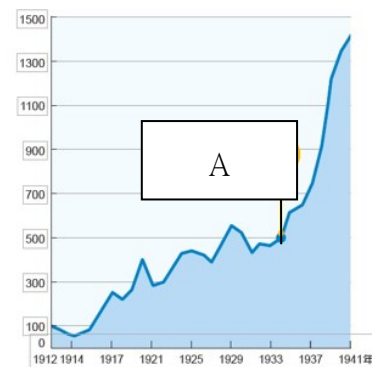
資料乙：某件事情發生後，總督府的理蕃課推出了「理蕃警察改善綱要」，理蕃課認為警察等官員在與蕃人接觸上行為失當，因此需要改善。

資料丙：臺灣總督認為，對待原住民應該完全以安撫為主，如果臺灣原住民在心中懷有對日本人的惡感，將無法挽回原住民的心，兩百年來原住民仇視及反抗漢人，就是最好的證明。

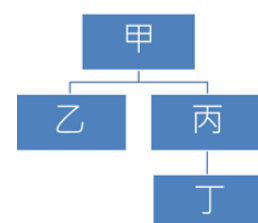
資料丁：總督設置了類似武裝警察的軍隊指揮中心，並向原住民部落提出繳交武器和歸順的要求，若原住民部落不願意，就以武力攻擊或派兵佔領，逼迫部落投降歸順。

26. 西元 1895 年，日本開始統治臺灣後，立即著手進行經濟開發，□□被視為優先發展的產業之一，興建許多新式工廠以提高產量。當時，日本國內□□製品的需求量很大，但本土產量不足，臺灣被視為填補這一需求的最佳來源。上述的□□是指下列何者？(A)稻米 (B)蔗糖 (C)樟腦 (D)茶葉。

27. 右圖是臺灣在 1912~1941 年的輕工業生產指數，生產指數能反映產業發展的速度，指數愈高，代表發展速度愈快。從圖中 A 區 1934 年所指的指數可以看到臺灣的輕工業生產指數急速上升，對於形成此變化的敘述，下列何者最正確？(A)當時正值總督府在臺灣推動無方針主義政策時期 (B)臺灣當時經濟發展主軸是以農業生產為主，尤其著重於樟腦的種植，以達到補充日本國內的不足 (C)A 區所指之處，正值嘉南大圳完工，讓臺灣生產指數得以大幅提高 (D)當時為配合日本南進政策，臺灣需發展工業，所以日月潭發電所正式完工。



28. 右圖表示在日治時期甲運用乙配合地方上的丙及丁，達到嚴密控制台灣社會的目的。關於甲乙丙丁的敘述，何者錯誤？(A)甲可以制定法律 (B)乙可以調查戶口及進行環境衛生檢查等工作 (C)丁需協助救災及鎮壓抗日分子 (D)甲是指天皇，乙是指台灣總督，丙是指保甲，丁是指警察



題組一：

資料甲：佐藤春夫初次訪臺的那一年，臺灣已經歷殖民地生活長達 25 年。當時島內的政治受到國外局勢的影響，總督與民政長官正聯手推行文化融合政策，企圖藉此消弭臺人可能萌生的反抗之心。佐藤春夫將路上的所見所聞寫成多篇的旅遊札記，藉由這趟訪臺的旅程所產出的文學作品，呈現日治臺灣的殖民多樣面貌。

資料乙：李天祿大師回憶道：「演布袋戲時必須講日語，木偶必須穿上和服，拿著武士刀在臺上砍來砍去，臺下還有巡查天天監看，以免有中國文化的影子出現在劇中。」

資料丙：治理臺灣的方式絕對不是把日本經驗直接運用在臺灣人民身上。我們以生物學上的比目魚為例，比目魚的兩眼長在同一邊。若你一定要把比目魚的眼睛改裝在身體的兩邊，那就是違反了生物學的原則。所以，我們必須了解臺灣人的習性，依據其習性定出一套管理辦法才有效。

29. 上述三則資料出現時間的先後順序，下列何者最正確？(A)資料丙→資料甲→資料乙 (B)資料甲→資料乙→資料丙 (C)資料丙→資料乙→資料甲 (D)資料乙→資料甲→資料丙。

30. 日本政府所任命的臺灣總督會因政策調整而進行更替，根據上述資料甲、乙、丙的順序，總督的任命會有怎樣的變化？(A)文官→武官→文官 (B)文官→文官→武官 (C)文官→武官→武官 (D)武官→文官→武官。

31. 根據資料甲的內容判斷，當時總督府之所以會改變統治策略和下列何者最有關係？(A)牡丹社事件後日軍侵臺 (B)中日戰爭爆發 (C)第一次世界大戰後期，民族自決思潮的盛行 (D)馬關條約的簽訂。

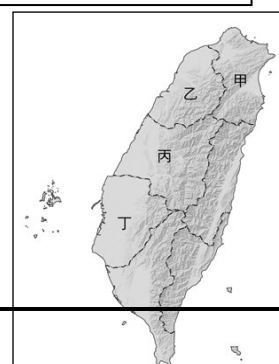
32. 根據資料丙的內容判斷，當時總督府在臺灣實施何種統治策略？(A)無方針主義 (B)皇民化運動 (C)內地延長主義 (D)日台合一。

題組二：

寒假的時候，宜臻的爸媽規劃了一趟臺灣歷史文化及古蹟之旅。第一站他們來到了日治時期臺灣總督府的所在地，宜臻當了導覽小老師說了許多關於總督府的小故事。第二站爸爸則決定去看看「霧社事件」的發生地，接著第三站是搭公吃再轉火車來到了臺南，妹妹不甘示弱的說：「我知道這裡在 1915 年曾經發生過武裝抗爭事件，造成許多人的傷亡。」最後一站，全家來到高雄，吃了許多當地小吃，開心的結束了這一趟寒假旅程。

33. 宜臻一家人如果要到第一站的總督府，應該要到右圖中的哪一區呢？(A)甲 (B)乙 (C)丙 (D)丁。

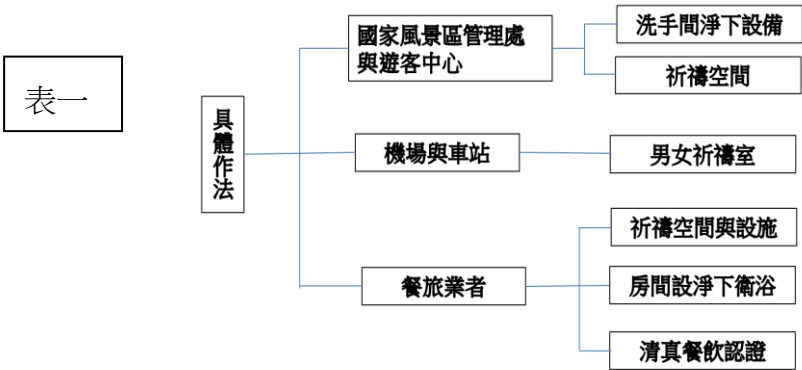
34. 關於文中妹妹所提到發生於臺南的武裝抗日行動的事件，下列敘述何者最不正確？(A)此抗日事件的主導者之一是余清芳 (B)此事件帶有宗教色彩 (C)此事件發生於殖民地特殊統治時期 (D)事件發生後，臺人還是主張繼續用武力來抗議總督府的統治。



試題尚未結束

公民科 35-50

- 35.台灣一名 40 歲型男髮型師到越南迎娶一名長相甜美的 18 歲女子陳氏錦貴，引起網路討論，部分網友質疑是「人口買賣」。
- 對此，這位越南新娘陳氏錦貴跳出來發聲，強調她和老公並非人口買賣關係，她家還沒有窮到需要賣女兒，「我會花時間證明我是自願來到我丈夫身邊的」。這段婚姻引發質疑，認為這是買賣婚姻缺乏真愛，請問部分網友的態度呈現何種內涵？
- (A)強調自身文化的優越貶抑其他文化 (B)外來文化降低本土文化的水準 (C)文化差異導致文化衝突 (D)不同文化的尊重包容。
- 36.根據環保施政調查結果，75 %受訪者贊同禁用一次性塑膠包裝，有 65%民眾支持減少商品外包裝，近九成民眾熟悉資源回收分類規則。從有九成五的民眾願意主動減碳改變自身行為的調查結果顯示，下列哪種觀念逐漸抬頭？
- (A)法律 (B)環境倫理 (C)宗教信仰 (D)風俗習慣。
- 37.傳統台灣人家中都會擺放祖先牌位，供奉與祭祀祖先為日常生活的一部分。當基督教信仰傳進台灣，認為祭祖屬於「偶像崇拜」的行為，是基督教信仰所禁止的，祭祖問題成為台灣人家庭中，基督徒與家人的導火線。根據上文所述判斷，最能呈現下列何種現象？
- (A)文化差異導致社會規範間的衝突 (B)我們應該要愛國，所以基督教信仰是一種劣質文化
- (C)社會規範的變動導致社會正義難以落實 (D)祭祖是慎終追遠的表現，不容許改變。
- 38.近年來我國政府為了爭取東南亞觀光客，建置推動友善穆斯林(伊斯蘭教徒)的旅遊環境，具體作法如下表一。根據圖文內容判斷，其主要理念可能為下列何者？
- (A)協助在地傳統文化對抗外來文化 (B)進行文化的傳承與創新
- (C)尊重不同文化的價值 (D)評論文化位階所造成的差異行為。



表二

共創用路安全	
建立交通五新文化	禮讓行人優先通行
♡道德心	車輛行經行人穿越道或轉彎，未暫停禮讓行人優先通行者
♡公德心	*汽車罰 6000 元
♡關懷心	*機車罰 1200 元
♡守法心	
♡禮讓心	

- 39.上表二是我國政府為了保障行人用路安全而製作的宣傳海報，根據圖中內容判斷，呈現出社會規範具有下列何種意涵？
- (A)長期生活經驗累積形成的慣例，只能啟發內在良知 (B)不同的社會規範間相輔相成，共同維護社會秩序
- (C)倫理道德須經由相關程序制訂，為生活行為準則 (D)因文化背景不同，社會規範的內容有所差異。
40. 被 CNN 列為世界 15 大奇景之一的「馬祖藍眼淚」，一整片淡藍色光芒點綴著馬祖的海岸，是馬祖最令人沉醉著迷的美景。而每年春夏（4~6 月）正是馬祖藍眼淚大爆發的季節，是最適合追「淚」的時候，不過藍眼淚會受到天氣、海洋的條件影響，是可遇不可求的浪漫藍光。關於上述現象，下列說明何者正確？
- (A)並非文化現象 (B)為次文化 (C)是文化傳承的結果 (D)屬於主流文化。
41. 公民課玩賓果遊戲，題目如右表、以提示某社會規範的兩個特性。為了讓賓果連線，請問表中的「甲」應填入下列何者？
- (A)是最早形成的社會規範 (B)由立法機關制定
- (C)違反者僅會受到良心的譴責 (D)利用人類對自然的畏懼達到約束行為的效果。
- | 僅能約束外在行為 | | |
|----------|---|-----------|
| | 甲 | |
| | | 最低標準的行為準則 |
- 42.第二次世界大戰後，許多殖民地脫離原殖民母國獨立而成為新興國家，但由於當初占領時未考慮該地區族群、宗教等因素，導致這些新興國家境內常因不同立場、生活方式而發生衝突。下列哪種做法有助於減緩上述衝突？
- (A)削弱次文化勢力，獨尊強勢文化
- (B)發揚主流價值，同化少數族群
- (C)鼓勵全球化思維，限制本土文化發展
- (D)尊重不同族群，包容多元文化差異。
43. 右圖關於主流文化與次文化的比較，何者正確？
- | | (A)組成原因 | (B)成員規模 | (C)等級 | (D)實例 |
|------|----------------|---------|-------|-------|
| 主流文化 | 社會當中特定團體的價值和信念 | 較小 | 較高 | 流行音樂 |
| 次文化 | 社會當中多數人的價值和信念 | 較大 | 較低 | 嘻哈音樂 |

Netflix 韓國熱血醫療劇《外傷重症中心》絕對是今年農曆年的收視及討論度黑馬。當醫護人員在生死邊緣奮戰，不只是與時間競賽，更是與醫療體制的窘境搏鬥。這部劇就像一面鏡子，映照出台灣醫療現場的現實，「若我們不正視並改善醫護工作環境，未來當我們需要緊急救治時，誰來拯救生命？」

醫護人員的職責是救人，每位醫護就像男主角一樣是個努力不懈的英雄，但不是犧牲自己去對抗一個已經失衡的制度，而是政府必須主動針對醫療制度提出具體改革措施。透過立法院為醫護們爭取各項權益，無論是健保點值一點一元、醫護的各項津貼、落實分級醫療、ICU 和急診給付合理化。因為這才是真正強化台灣的醫療韌性的唯一答案。

44. 上述新聞所表達的意涵為下列何者？(A) 反映出台灣、韓國醫療環境的差異 (B)強調倫理道德在社會中扮演的重要性 (C) 透過健全的醫療制度支持醫護救死扶傷的內在良知這才是台灣醫療未來真正的出路 (D)風俗習慣影響迫使醫護人員必須努力救人。

*題組題

(一)

面紗之下：沙烏地婦女的現代掙扎

沙烏地小女孩到了 6 歲以後就不再跟男孩一起上學。到了 12 歲，她不能再和爸爸去看足球賽（這是沙烏地最主要的體育活動），也不能再參加任何男性的聚會。到了青春期的她，她就必須全身包上「阿巴亞」，把臉蓋起來以示自己是真正虔誠的穆斯林(伊斯蘭教信徒)。受到宗教信仰和文化影響，沙烏地阿拉伯女性必須要有男性監護人陪伴或同意，才能在銀行開戶、申辦護照，單獨進出公眾場所要走與男性不同的門，在一些更保守的家庭，她甚至不能和丈夫同桌吃飯，必須等到丈夫吃完才能上桌。2018 年 6 月之前，當地女性甚至不能開車。

自 1980 年代之後，國王再度開放讓女性播報員出現在電視上，讓所有沙烏地人都看得到。她們戴頭巾，但不罩面紗，也不穿「阿巴亞」。國王也任命第一位女性教育部次長，這是有史以來女性在沙烏地阿拉伯的最高職位。但對沙烏地社會卻造成恐慌。一位女企業家她的公司會問來求職的女性一個問題：你願意不戴面紗和男人一起工作嗎？回答願意的人不到 10%。

摘自獨立評論

- 45.根據上文所述，沙烏地阿拉伯的宗教信仰對於女性的社會行為所產生的影響為下列哪種文化的特性？
(A)普遍性 (B)制約性 (C)差異性 (D)累積性。
- 46.由於伊斯蘭教的信仰深深影響沙烏地阿拉伯人的價值觀念，導致對女性的限制及不公平的對待經常發生，請問這顯示了下列何種現象？(A)價值觀與他國文化產生衝突 (B)強勢文化對弱勢文化的欺壓 (C)與西方文化交流而產生的不平等 (D)社會規範導致文化位階。
- 47.現今許多國家都以憲法落實人權保障，捍衛各個種族、階級、性別的人性尊嚴，人權議題已成為全球關注的焦點。可見捍衛人權價值在現代社會屬於何種文化現象？ (A)文化位階 (B)次文化 (C)主流文化 (D)強勢文化。
- 48.承上題。現今許多國家都以憲法落實人權保障與下列哪一種社會規範的觀念相同？
(A)農曆二月初二「龍抬頭」是華人的傳統節日，人們會剪髮、吃春餅象徵帶來好運與平安
(B)伊斯蘭教女生出外必須戴上頭巾把臉蓋起來 (C)博愛座請禮讓給有需要的人 (D)行人不走斑馬線會被開罰單。

(二)

台灣宗教團體每年至少放生七百五十次，以鳥類、魚類最大宗，總量高達兩億隻。宗教團體以「慈悲之愛、放生功德」為由，野放麻雀、魚苗等動物，卻可能破壞生態，長期以來引發爭議；中山大學生物科學系副教授顏聖紘說，全世界都有宗教放生爭議，最近新加坡發現緬甸烏龜、泰國發現美國的蝴蝶；不但活不了，更造成生態浩劫。農委會研議修法，未來無論放生任何動物都須申請，違者最高可罰二百五十萬元。

針對政府修法管制放生，宗教團體大多表示已逐漸轉型，樂觀其成；動保團體則說，這是數十年來一大進步，愈來愈多佛教徒，在慈悲、智慧中轉型，例如改為接受救傷動物協助野放，以遠觀方式祈福，但仍有放生團體執意放生，需全民檢舉。

摘自網路

- 49.上文內容最可能是關於下列哪兩者之間的衝突？(A)環境保育與經濟發展 (B)法律規範與宗教信仰 (C)傳統習俗與倫理道德觀念 (D)信仰宗教自由與人民財產權。
- 50.文中畫線部分，可用下列哪一種文化的特性來形容？(A)普遍性 (B)差異性 (C)累積性 (D)制約性。

本試題卷結束