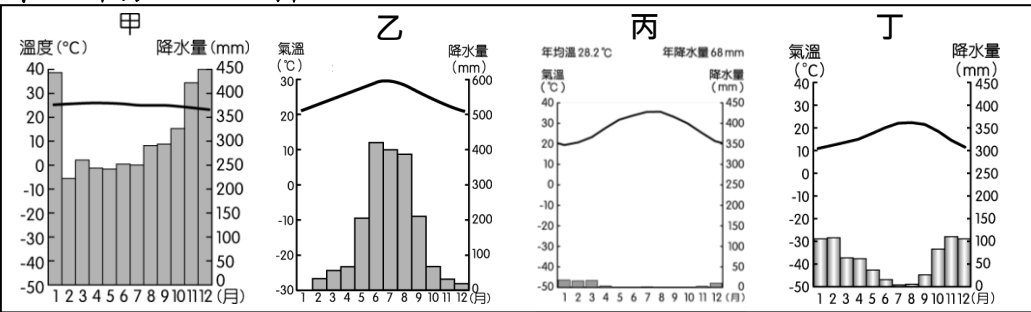


命題教師：社會領域教師群 日期：5 月 13 日 第 4 節 班級： 座號： 姓名：

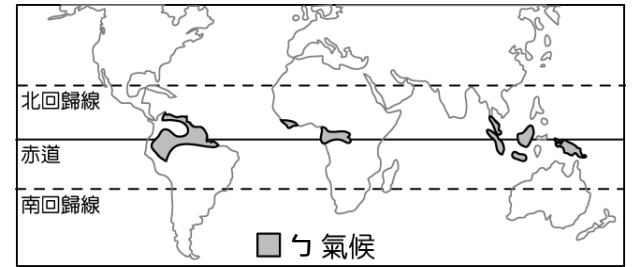
※選擇題：一題 2 分，共 100 分

※請用 2B 鉛筆將答案劃記在答案卡上，成績以讀卡結果為主※

第一部分：地理科

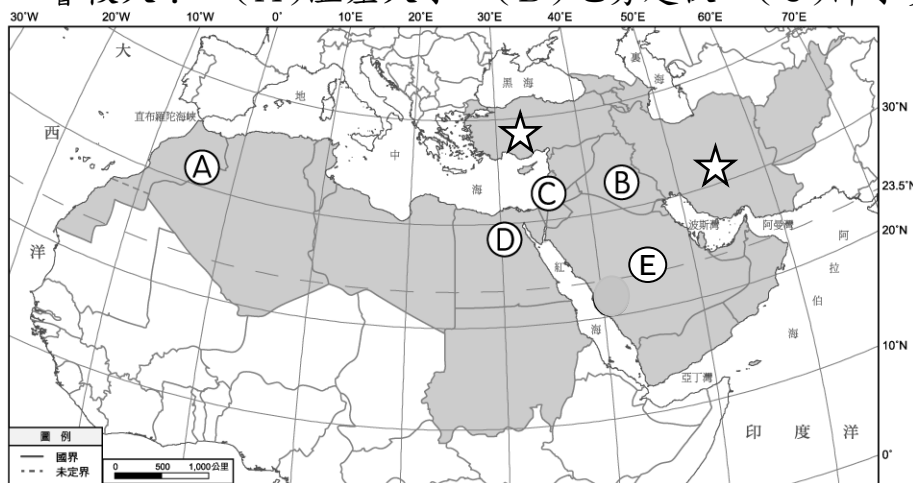


【圖一】

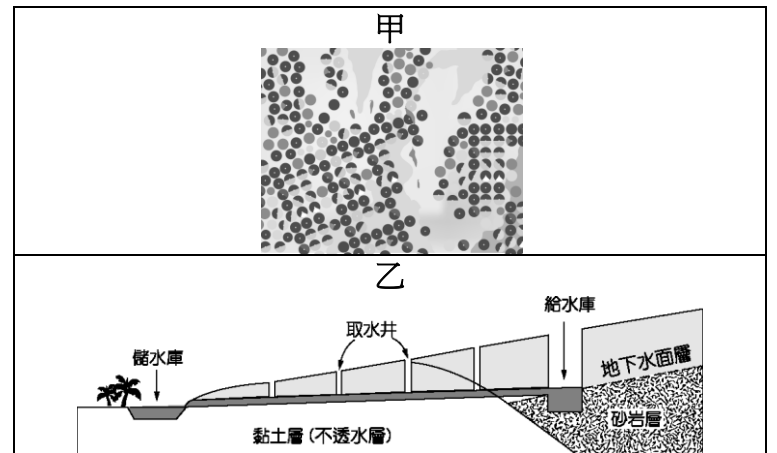


【圖二】

- 1、【圖一】為全球某四個地區的氣候類型分布圖，請問下列敘述何者正確？
(A) 甲的降水量集中在夏季 (B) 乙為高緯度地區 (C) 丙位於南半球 (D) 丁為夏乾冬雨的氣候特色
- 2、【圖二】為世界簡圖，請依地理位置判斷，圖中的「氣候」，應屬【圖一】哪一種氣候類型？
(A) 甲 (B) 乙 (C) 丙 (D) 丁
- 3、西亞與北非的乾燥氣候面積相當廣大，這和下列哪一項因素的關係最為密切？
(A) 涼流經過 (B) 副熱帶高氣壓籠罩 (C) 多高山高原 (D) 距海遙遠
- 4、呈上題，西亞與北非的氣候主要以【圖一】哪兩種氣候類型為主？
(A) 甲：熱帶沙漠氣候、乙：溫帶季風氣候 (B) 乙：熱帶雨林氣候、丙：溫帶沙漠氣候
(C) 丙：熱帶沙漠氣候、丁：溫帶地中海型氣候 (D) 甲：熱帶雨林氣候、丁：溫帶地中海型氣候
- 5、西亞地區傳統的經濟活動以畜牧為主，阿拉伯高原過著「逐水草而居」的游牧生活，而伊朗高原及安納托力亞高原的牧民採取「山牧季移」的畜牧方式。造成西亞地區畜牧方式的差異，主要是受到哪項因素的影響較大？
(A) 溫差大小 (B) 地勢起伏 (C) 降水多寡 (D) 土壤肥沃度



【圖三】



【圖四】

- 6、【圖三】為西亞和北非地區簡圖，圖中☆記號因板塊擠壓為地震頻繁的地區，請問該地區較可能為下列何者？
(A) 美索不達米亞平原 (B) 阿拉伯高原 (C) 伊朗高原 (D) 撒哈拉沙漠
- 7、【圖三】中，D 區的帶狀綠洲及沿海三角洲孕育出雄偉的古文明，這些地帶的形成和下列何者關係最大？
(A) 海水堆積 (B) 河川沖積 (C) 土石崩落 (D) 火山活動
- 8、該國「滴灌技術」獨步全球，直接把水和肥料送到植物根部，利用多元的取水來源，例如：地表水、地下水、或回收的再生水，讓水資源發揮最大效益。請問，該國最可能位於【圖三】中的何區？
(A) ① (B) ② (C) ③ (D) ④
- 9、【圖四】為西亞與北非當地農業發展的方式。陳老師請同學們搭配【圖三】在課堂上說明西亞與北非農業的特色。請問下列哪些同學的說明是正確的？
(A) 宏勳、鴻傑 (B) 鴻傑、雨恩 (C) 雨恩、永義 (D) 鴻傑、永義
宏勳：甲利用渠道灌溉發展農業，主要分布在②
鴻傑：甲利用鑽井技術開發地下水井，主要分布在④
雨恩：乙興建水庫調節用水，主要分布在①
永義：乙高山融雪滲入地下水後用坎井引至綠洲，主要分布在①
- 10、保守作風被批評是對伊斯蘭世界朝現代化改革的重創，下列關於近年伊斯蘭世界現代化的改革措施何者正確？
(A) 國際運動賽事放寬女性的服裝限制 (B) 沙烏地阿拉伯仍完全禁止女性開車
(C) 沙烏地阿拉伯的男女至今在餐廳仍需分坐不同隔間 (D) 阿拉伯聯合大公國女性依然不具有投票權

11、全球穆斯林人口成長快速，市場商機龐大，資訊科技產業針對該族群的需求，設計相關產品，例如智慧型手機的應用程式可在任何地點指引禮拜方向、提醒禮拜時間、判別經過認證的食物等。下列何者也是針對上述族群所設計？

- (A)利用虛擬實境技術做參加的虛擬朝聖 (B)線上英文字典翻譯《古蘭經》
(C)《聖經》閱讀筆及口袋電子書 (D)手機查詢無牛肉料理的餐廳

巴勒斯坦地區於西元前原本為猶太人的居所，猶太人遭羅馬帝國驅逐後，流離失所到世界各地逾千年之久。二戰後，在國際力量支持下，猶太人重新回到巴勒斯坦地區，並建立以色列，但此地區早已居住著阿拉伯人。雙方因領土糾葛、宗教對立、族群差異、難民問題等新仇舊恨，屢屢發生衝突，以色列及巴勒斯坦各聲稱擁有所有的領土範圍。

2014 年為期 50 多日的槍戰，是近年來較大規模的以巴衝突，造成巴勒斯坦平民死傷慘重，至少 2,100 人死亡。2020 年 2 月，美國前總統川普提出中東和平計畫，然而該計畫被認為偏袒以色列。2020 年 5 月，巴勒斯坦總統阿巴斯宣布停止與美國和以色列的所有協議，讓以巴衝突新增變數。

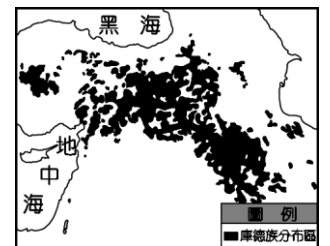
(參考資料：改寫自張道宜等，跨世紀的領土種族衝突，圖解簡明世界局勢，2017。)



▲巴勒斯坦地區位置圖

12、根據上列文章敘述，雙方發生衝突的原因有哪些？

- (甲)伊斯蘭教與猶太教的對立 (乙)猶太教與基督教的對立 (丙)領土的紛爭 (丁)石油資源的爭奪
(戊)國家貿易衝突 (己)文化背景與族群不同
(A)甲乙丙 (B)丁戊己 (C)乙丁己 (D)甲丙己



【圖五】

13、庫德族的人口數量約 2,000 多萬人，為西亞第四大族，其分布範圍如【圖五】所示。散居在西亞多個國家境內的山區，人口龐大卻被國界畫分在不同國家。然而，庫德所在的土地蘊藏石油、礦產及水源，為爭取獨立增添變數。根據題目與地圖，下列對於庫德族爭取獨立事件與西亞他國發生衝突的原因何者較不正確？

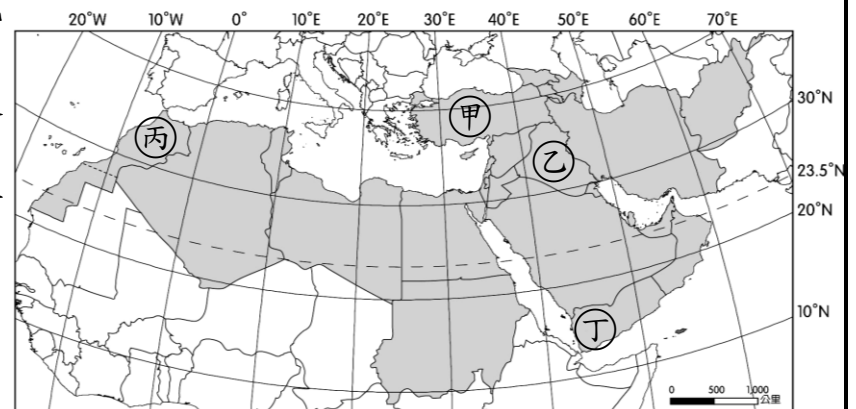
- (A)引發石油資源爭奪問題 (B)引起領土問題爭議 (C)該族主要分布於埃及、沙烏地阿拉伯等地
(D)若獨立造成西亞他國河川水權喪失與控制

14、20 世紀初，西亞與北非發現大量石油，為這些地區帶來巨大的改變。請問：下列哪些現象為發現石油對西亞與北非產生的影響？

- (甲)維護產油國利益與控制石油產量與價格，成立石油輸出國家組織(OPEC)
(乙)產油國的國民所得提升 (丙)經濟結構由工商業轉為農業
(丁)產油國與非產油國間貧富差距縮小 (戊)杜拜為避免過度依賴石油朝多元發展
(A)甲乙丙 (B)乙丙戊 (C)丙丁戊 (D)甲乙戊

15、「□□的石油產量並不高，卻因重要交通位置而足以影響國際油價，其所臨的海峽一旦被封鎖，將導致波斯灣油輪經紅海至蘇伊士運河的運輸受阻，而北非的石油通往亞洲市場則必須繞行經過南非，增加運輸時間與成本。」【圖六】為西亞與北非國家分布簡圖。請問圖中何者是文章所述□□的正確位置？

- (A)甲 (B)乙 (C)丙 (D)丁



【圖六】

16、秀甄將西亞與北非所發的衝突與資源爭奪做了筆記整理，請問以下整理的資料，哪一個不小心寫錯了？

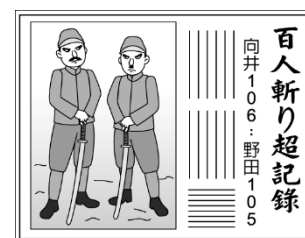
- (A)耶路撒冷為基督教、猶太教、伊斯蘭教三大宗教聖地，至今仍有許多問題待解決
(B)西撒哈拉計畫公投獨立，卻被埃及反對並佔領多數地區
(C)敘利亞國內追求民主化，卻演變為內戰
(D)伊拉克因石油利益攻打科威特，爆發波斯灣戰爭

17、到西亞旅遊的人，經常會購買當地的名產——椰棗。椰棗生長於炎熱而乾燥的氣候中，紅熟的椰棗可供食用，保鮮不易，大部分是以乾果進行買賣，只有在產地才吃得到新鮮的椰棗。椰棗樹主要分布在西亞和北非，具有耐旱、耐熱的特點。椰棗果肉含糖量高，可作糧食、製糖或釀酒，籽可以榨油，堪稱「沙漠麵包」，更是西亞和北非國家重要的出口特產。請問下列對於該農產的相關敘述，何者不正確？

- (A)依文中敘述此應屬於熱帶栽培業
(B)土地利用易呈層狀分布
(C)土地利用最高層為椰棗、中層為果樹、下層為稻米或小麥
(D)當地居民的宗教大多為伊斯蘭教

第二部份：歷史科

18. () (圖一) 是某一時期兩名日本軍官進行殺人比賽的新聞。請問：這應該是下列哪一時期報紙所刊登的？



(圖一)

- (A) 盧溝橋事變 (B) 南京大屠殺 (C) 滿洲國 (D) 九一八事變
19. () 豆豆的曾祖父是杭州笕橋航空學校第一期的學生，這是現在中華民國空軍軍官學校的前身。請問：這間學校最有可能是在下列哪個時期成立的？
- (A) 軍閥混戰 (B) 北伐期間 (C) 十年建設 (D) 八年抗戰
20. () 研讀法律史課程的凱克想要了解中國在十年建設時期的法律，他應該從下列哪一部該時期的根本大法開始研究？
- (A) 《中華民國臨時約法》 (B) 《中華民國訓政時期約法》 (C) 《中華民國憲法》 (D) 《六三法》
21. () 1941 年 12 月 7 日，日本發動海、空軍襲擊美軍基地珍珠港，造成美國嚴重的損失。對中國而言，此事件的意義為何？
- (A) 結束了中美的合作關係 (B) 解除了中共被圍剿的危機
- (C) 打破了中國孤立無援的困境 (D) 讓日本侵略中國的危機加劇
22. () 有一份宣言要點如下，請問：這份宣言應是在哪裡召開會議所簽署之成果？

- (1) 中、美、英三國盡一切力量對日作戰，以達到日本無條件投降為目的。
- (2) 剝奪 1914 年以後日本占得之太平洋島嶼，所有日本竊奪中國之滿洲、臺灣、澎湖，均應歸還中華民國。
- (3) 朝鮮獲得自由與獨立。

- (A) 巴黎 (B) 廣島 (C) 雅爾達 (D) 開羅
23. () 中國曾流行一首歌「松花江上」，其歌詞有一段如下：「九一八，九一八，從那個悲慘的時候，脫離了我的家鄉，拋棄那無盡的寶藏，流浪！流浪！整日價在關內，流浪！」請問：歌詞中我的「家鄉」是在何處？
- (A) 華北 (B) 蒙古 (C) 新疆 (D) 東北
24. () 2020 年 11 月，位於臺灣臺北市的「阿嬤家和平與女性人權館」因經費不足與新冠肺炎疫情問題宣布閉館；該館記錄了遭日本政府誘使、強迫擔任慰安婦的臺灣女性故事，盼人們能記取歷史教訓。請問：下列哪一國家也可能有紀念類似事件的紀念館？
- (A) 南韓 (B) 蘇聯 (C) 美國 (D) 德國。
25. () 1929 年爆發世界經濟危機，日本社會經濟受到嚴重衝擊，日本政府為穩定局勢，決定下列何種策略？
- (A) 軍國主義抬頭，入侵中國 (B) 教唆蔣中正清黨 (C) 展開二萬五千里長征 (D) 發動西安事變。
26. () 小太陽準備段考複習時，針對國共關係演變整理如下表。但「結果」欄位遲遲無法完成，留下了四個問號。請協助他由上到下依序排列完成表格。

時間	關係	影響	結果
民國 12~16 年	聯俄容共	國民政府受到共產黨控制	？
民國 16~26 年	剿匪	引發部分軍民不滿	？
民國 26~34 年	全面抗戰	共產黨趁機壯大勢力	？
民國 34~38 年	動員戡亂	國共內戰大規模爆發	？

- 甲、中華民國政府播遷來臺
- 乙、張學良發動西安事變
- 丙、蔣中正發動清黨，另行成立南京國民政府
- 丁、國共雙方為了爭奪日軍占領區，爆發多次軍事衝突
- (A) 甲乙丙丁 (B) 甲丁乙丙 (C) 丙乙丁甲 (D) 丙乙甲丁。

27. () 下列是民國初年學生群眾遊行示威的口號，若依發生時間先後排列，正確的順序為何？(甲) 中國人不打中國人，停止剿共，聯合抗日 (乙) 打倒軍閥、除列強，要革命，到黃埔 (丙) 外抗強權、內除國賊，還我山東
- (A) 乙甲丙 (B) 丙乙甲 (C) 乙丙甲 (D) 甲乙丙
28. () 阿芳到中國陝西一帶旅遊，途中看到一個紀念碑，上面記載著關於中共紅軍突破國軍包圍後的「二萬五千里長征」。「二萬五千里長征」的歷史背景，應該是下列何者？
- (A) 國民政府多次圍剿中共 (B) 日本進占東北地區，紅軍向西南方撤退
- (C) 蔣中正誓師北伐，完成統一 (D) 張學良希望國內一致抗日，因此發動兵諫

背面尚有試題

29. () 清末以來，中國受到不平等條約的束縛，直至民國建立仍未能立即擺脫，其影響中國長達百年的時間才得以廢除。中國不平等條約的「簽訂」和「廢除」，各出現在哪一場戰爭？
 (A) 甲午戰爭、第二次世界大戰 (B) 鴉片戰爭、八年抗戰 (C) 八國聯軍、北伐完成後 (D) 英法聯軍、第一次世界大戰
30. () 「國民政府宣布將遷都□□，以西南各省做為抗戰大後方，並利用中國廣土眾民的條件，制定長期抗戰方針。」上文中的□□是指哪一個都市？
 (A) 南京 (B) 成都 (C) 重慶 (D) 北平

31-32 為題組，請閱讀文章後回答下列問題：

1927 年 3 月 10 日至 17 日中國國民黨第二屆三中全會後，其執監委暨候補委員 80 名中，中國共產黨員約占三分之一，中國國民黨左派亦占三分之一，中國國民黨中央黨部各部部长暨其秘書，中國共產黨員亦占一半以上，至此國民政府已由蘇聯顧問與中國共產黨全權把持。請問：

31. () 這個狀況的發生和何種政策有關？ (A) 北伐 (B) 黃埔建軍 (C) 清黨 (D) 聯俄容共
32. () 當時國民黨領導人為解決此種狀況，選擇 (圖二) 中的何地另組政府？



(圖二)

- (A) 甲 (B) 乙 (C) 丙 (D) 丁。

33-34 為題組，請閱讀以下關於某事件發生後的兩段評論，回答下列問題：

- 一、我們以人民的名義要求：立即對日宣戰。
- 二、我們要求建立代議制政府。
- 三、我們譴責以任何藉口發動任何形式和任何種類的內戰。
- 四、我們要求蔣介石聯合張學良共同抵抗日本侵略。
- 五、我們要求南京政府全部接受張學良提出的抗日主張，必要時宣戰。
- 六、我們要求南京政府和中國所有各黨派、各種力量召開一個全國國防會議，共商抗日救亡之大計。

北平學生聯合會聲明

中國本是統一的，當我從美國回來時，對中國是樂觀的。可是現在張學良搞糟了這一切，他使中國在世界上名譽掃地……。他正在毀滅中華民族的活力，阻止中國的進步……。毫無疑問的，張學良的行為是對國家的背叛……。最使人不解的是現在仍有一夥青年人對他表示同情和讚賞，如果他們不想損害國家利益，他們也一定是無知的……。

胡適，天津〈大公報〉1936.12.20

33. () 上述兩段文字都跟下列哪一個事件有關？ (A) 北伐開始 (B) 十年建設 (C) 西安事變 (D) 七七事變
34. () 關於上述兩則評論的解讀，下列敘述何者正確？
 (A) 兩則評論皆是在八年抗戰時期提出 (B) 兩則評論都對張學良當時的作為表示譴責
 (C) 胡適相當支持及讚賞張學良當時的作為 (D) 北平學生會反對當時政府強力剿共的行為

繼續加油，接著還有公民喔！

第三部份：公民科

35. 某高鐵站出口附近發生一起持刀傷人事件！一名黃姓女子在高鐵站前，慘遭溫姓男子持水果刀攻擊，目擊者迅速撥打了 110 報警，警方到場後將情緒激動的嫌犯成功壓制，並依殺人未遂罪移送法辦。請問：目擊者的舉動稱為下列何者？
(A)告訴 (B)告發 (C)自訴 (D)公訴
36. 關於違法及犯罪的概念，誰的說法有誤？
(A)霖霖：開車超速是一種犯罪行為！ (B)阿偉：違法行為不一定是犯罪行為！
(C)欣欣：犯罪行為一定是違法行為！ (D)晶晶：盜用他人帳密入侵電腦是犯罪行為！
37. 甲涉犯殺人罪遭判無期徒刑並褫奪公權終身；乙持有兒少性影像遭判有期徒刑 8 個月併科罰金 10 萬元。請問：關於兩人所受刑罰的種類，下列何者正確？
(A)甲：主刑+從刑 (B)甲：生命刑+資格刑
(C)乙：主刑+從刑 (D)乙：自由刑+資格刑
38. 小洋：「我覺得犯罪行為人應該被給予適當的刑責，為他所做的行為付出代價，所以我認同漢摩拉比法典中以牙還牙，以眼還眼的概念，那是真正的正義！」
小萱：「但是我覺得人都會犯錯，如果讓受刑人在監獄裡面改過自新、學會一技之長，那這些人重返社會或許可以正常生活，不再犯罪！」
請問：小洋跟小萱的說法分別傾向何種刑罰制定的目的？
(A)處罰犯罪；矯正犯罪 (B)預防犯罪；矯正犯罪
(C)處罰犯罪；預防犯罪 (D)矯正犯罪；預防犯罪
39. 同學們正在討論公民課的上課內容，請問：誰的說法符合「無罪推定原則」的概念？
(A)甲：靜香因騎車沒戴安全帽被處罰鍰，所以他是犯罪的！
(B)乙：大雄因涉嫌教唆殺人被警方逮捕，所以他是犯罪的！
(C)丙：胖虎雖因詐欺罪被檢方起訴，但仍不能認定他有罪！
(D)丁：小夫雖因誹謗他人被處罰金，但仍不能認定他有罪！
40. 不少民眾在農曆年節時會大掃除，而在花蓮有住戶大掃除，把床墊暫時放在家門口，沒想到一名 83 歲做回收的老翁，以為住戶要丟棄，竟然將床墊拖走準備賣掉。住戶發現床墊不見了，連忙報警，儘管事後發現是老翁誤拿，不想追究，但偷竊是〇〇罪，警方還是依竊盜罪嫌將老翁送往花蓮地檢偵辦。請問：根據上文，下列敘述何者正確？
(A)老翁為限制行為能力人，得減刑 (B)文中〇〇罪應為告訴乃論罪
(C)檢察官偵結後，應提起自訴 (D)此種案件無法透過調解解決
41. 請問下文中，檢察官最後予以不起訴處分，是基於刑法的何種原則？
一名運將控訴，他日前用叫車平台接單載到兩名醉客，其中一人要下車時，另一人直接坐在車內朝窗外嘔吐，造成計程車的皮座椅、地毯都被弄髒。運將當下先把醉客載到派出所並提告毀損罪，但檢察官認定乘客喝醉了所以他嘔吐屬於不可控的範圍，沒有毀損的犯意，而毀損罪的構成要件是不能被復原，當時醉客的嘔吐是可以被清潔的，因此最後不起訴處分。運將收到不起訴書真的氣炸了，律師則建議可以走民事訴訟來請求相關的損害賠償。〈改編自東森新聞 2024. 05. 26〉
(A)罪刑法定原則 (B)無罪推定原則
(C)誠實信用原則 (D)權利濫用禁止原則
42. 請問關於下列此兩件案例何者正確？
〈案例一〉30 歲林姓男子停車時不小心將商場的裝置藝術撞壞，緊急通知商場表示願意賠償，商場則表示顧客非有意為之，因此不會索賠。
〈案例二〉因口角糾紛，18 歲少年持棍棒砸毀鄰居停在自家門前的轎車，鄰居憤而報警提告，表示要給少年一點教訓。
(A)兩個案例皆觸犯了刑法的毀損罪 (B)案例二鄰居報警提告的方式為自訴
(C)兩個案例皆涉及民事及刑事責任 (D)兩個案例皆可透過調解來解決糾紛
43. (甲)9 歲的浩浩在便利商店偷一瓶多多被店員發現 (乙)15 歲的大明缺錢花用當車手被警方當場壓制
(丙)18 歲的小妍在社群軟體公開辱罵好友三字經 (丁)22 歲的芊芊為痞啞人，故意破壞鄰居大門
(戊)42 歲的阿智認為女友劈腿因此持刀砍傷情敵 (己)85 歲的璇璇欠朋友 80 萬卻避不見面不願還錢
請問：上述誰的行為觸犯刑法，且屬於刑事責任中，得減輕其刑的範圍？
(A)甲乙丙 (B)乙丁己 (C)戊己 (D)乙丁
44. 請問關於下列新聞一及新聞二的比較，何者正確？
〈新聞一〉某藝人認為網路上的不實謠言已經嚴重傷害名譽，決定委任律師進行相關蒐證工作，針對多位網友在網路上恣意散播不實言論及辱罵，涉嫌誹謗及公然侮辱等罪，依法向法院提起刑事訴訟以維護權益。
〈新聞二〉地檢署檢察官主動偵辦詐騙集團犯罪組織，指揮專案小組破獲位於某豪宅區的詐騙集團，全案依詐欺罪將相關人員等起訴。
(A)前者為某藝人提出告訴；後者為檢察官告發 (B)前者委任律師提起公訴；後者由檢察官提起自訴
(C)後者為非告訴乃論，檢察官有權主動偵查 (D)前者提起訴訟後，將由檢察官負責偵辦案件

45. 表為我國某行政機關公布的統計資料，根據○○區調解委員會表中資料判斷，下列敘述何者正確？

- (A)屬於告訴乃論刑事事件的件數為 400 件
- (B)屬於非告訴乃論刑事事件的件數為 700 件
- (C)調解成立後，可再提訴訟的件數共為 950 件
- (D)調解不成立，可改提訴訟的件數共為 550 件

○○區調解委員會 辦理民、刑事事件調查情形		
民事 事件	調解成立	550 件
	調解不成立	250 件
刑事 事件	調解成立	400 件
	調解不成立	300 件

【46-47 為題組】


圖為正在開庭的刑事訴訟庭配置簡圖，請根據此圖回答下列問題。

46. 關於此圖中人員配置的敘述，下列何者正確？

- (A)甲是法官，負責審理及執行判決
- (B)乙的法袍為白色，為丙爭取權益
- (C)丙是原告，委任乙提出自訴案件
- (D)丁的法袍為紫色，審理公訴案件

47. 此訴訟庭最可能審理下列何種案件？

- (A)夫妻失和的離婚案件
- (B)大眾運輸隨機砍人案
- (C)借錢不還的欠債案件
- (D)違規闖紅燈的交通案



【48-50 為題組】

王男與前女友黃女有感情糾紛，陳男等人為黃女出氣在網路和王男互嗆，於是雙方相約於一處工寮談判，王男與陳男發生口角，在眾人勸阻下原以為糾紛已結束，不料王男突然拿出水果刀連續 2 次刺向陳男後與友人駕車離去，造成陳男身亡，後續檢方偵結後依殺人罪嫌將王男起訴。〈改編自聯合新聞網 2025. 03. 05〉

48. 附圖為刑事訴訟的流程，請問：根據文中的敘述，此案件目前應處於刑事訴訟流程的何種階段？

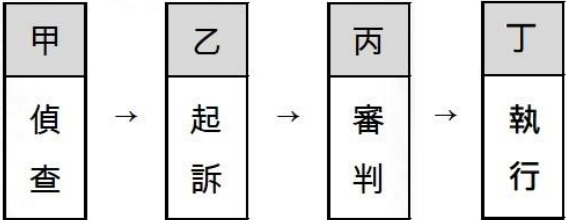
- (A)甲 (B)乙 (C)丙 (D)丁

49. 承上題，此流程圖中哪一部分非檢察官的主要職權？

- (A)甲 (B)乙 (C)丙 (D)丁

50. 根據本文的敘述推測，以下何種為不可能發生的情形？

- (A)黃女見陳男倒地，立即打 110 告發此事
- (B)法官認為罪證確鑿，判處王男無期徒刑
- (C)陳男家屬見王男深具悔意，因此私下和解此事
- (D)王男遭判無期徒刑後，由檢察官指揮執行判決



試卷結束，若有時間請多檢查幾次😊