

【歷史科】1-17 題

1. 日本政府為滿足在臺日人升學需求，以及進行熱帶醫學傳染病之研究，因此創辦臺北帝國大學。請問下列有關敘述何者最為正確？（A）該校創立時間正當日本統治皇民化運動時期（B）該校創立時臺灣總督的身分皆為武官（C）該校創辦後臺灣人子弟不再出國留學（D）該校為日治時期唯一的一所大學。
2. 「許丙丁(西元 1900~1977 年)是日治時期最知名臺灣漫畫家。西元 1920 年，他參加總督府舉辦的全臺首次臺籍基層警察考試。當年報考人數約有 600 人，僅錄取 30 人，競爭非常激烈。成為警察後，許丙丁利用業餘時間畫漫畫，陸續投稿至報章，獲得刊載……」。其常用的漫畫手法之一是以一張單幅畫面，搭配諷刺短句，呈現警界生態及社會面貌。」下列敘述何者最為正確？（A）許丙丁的一生，經歷了臺灣民主國的成立與解散（B）和許丙丁一起參加該場考試的臺籍考生可能來自臺北帝國大學（C）臺灣人父母用「警察來了」教訓犯錯孩童可能成為許丙丁筆下漫畫的主題（D）許丙丁目睹臺灣解嚴政令的宣達。
3. 關於這個組織，《臺灣總督府警察沿革誌》有以下內容：「臺灣島內的先驅者，為組織團體奔走最致力的是臺北某開業醫師。他拉攏總督府醫學專門學校及畢業生……等，早在大正 9 年(西元 1920 年)11 月左右，就曾經設立文化公司，從事戰後思想、文化研究，……。後來，他眼見東京的第一次臺灣議會設置請願運動已在進行，臺灣民族運動也已向實踐運動發展，便計畫組織臺灣島內民族運動指導團體。」有關敘述何者最為正確？（A）文中所指人物是劉銘傳（B）「戰後」是指第一次世界大戰後（C）這個組織是指臺灣民主國（D）臺灣總督府積極幫助此組織成立。
4. 有份報導內容如下：「日人：今年起實施自治，有人開始跋扈。臺人一：臺灣的自治制度透過議會開花。臺人二：為完成投票，以臨時抱佛腳方式學會日文片假名投下神聖一票。」下列敘述何者最為正確？（A）此次選舉是在臺灣文化協會推動下進行（B）推動的主要人物是蔣渭水（C）這次選舉讓臺灣達到全面地方自治（D）經過這次選舉，臺灣人對於普選、參政權等基本概念有所認識。
5. 1926 年某份報紙刊載內容如下：「臺灣人在四、五年前『文化運動』發生後，才發現人是人，不是人的奴隸，和不是偶像的愚弄物，因此臺灣人的人格也誕生了。」根據上述內容，下列何者最為正確？（A）這份文件刊載在自由中國（B）這個內容是希望喚醒臺灣人的民族意識（C）這份報紙出現在日本積極鎮壓武裝抗日的時代（D）主導這份報紙發行的主要人物是余清芳。
6. 在某個以臺灣歷史為背景的解謎遊戲中，有個任務是根據委託者祖先遺留下來的日記片斷解謎：「片斷 1：馬上就要從臺北高等小學校畢業了，真捨不得班上的同學們……XXX(字跡過於模糊而無法辨識)聽說是大稻埕第一公學校的學生，之後應該不會再遇見了吧？」「片斷 2：第一天到永樂國民學校任教，就遇到 XXX(字跡過於模糊而無法辨識)的孩子。」根據日記片斷的內容，下列何者錯誤？（A）委託者祖先的身分最有可能是臺灣原住民（B）我們可推斷委託者祖先至永樂國民學校任教時中日戰爭已爆發（C）委託者的祖先可能目睹當時臺灣知識分子爭取參政權（D）委託者祖先在假日時可能與朋友去逛百貨公司。
7. 《一九九五閏八月》是一部臺灣電影。從電影中主角宋中華的成長歷程，我們可以看到臺灣從民國四十年代到八十年代的社會縮影，從而體會當時政治、社會、文化等面向。這部電影最後停在西元 1995 年。請問故事中的主角在他的生活中不會出現哪些經歷？（A）到處可見「保密防諜，人人有責」標語（B）響應政府斷髮宣導活動（C）投下中央民意代表選舉神聖一票（D）批評時政遭到政府壓制。
8. 某電玩業者推出一款新的手遊，點擊畫面就可獲取金幣。該遊戲的玩家扮演早期臺灣創業者，可以打造自己的理想城市，並可透過商業貿易吸引各類角色入駐，遊戲內容呈現 1930 年代臺灣風貌。如果依照史實設計，下列何者可以增加在這款手遊中？（A）公園或兒童遊樂場（B）桃園國際機場美食餐廳（C）二十四小時營業網咖（D）左營高鐵站美食廣場。
9. 「民國 68 年 12 月 10 日晚上，遊行隊伍被鎮暴警察包圍，警察開始噴射催淚瓦斯，令現場失去控制，爆發嚴重衝突。事件發生後，軍警情治人員展開全島同步大逮捕行動，陸續追捕黨外人士。」下列對此事的描述，何者正確？（A）主因是黨外人士企圖組織中國民主黨，遭到政府壓制（B）這個事件發生時臺灣正受到國共內戰影響政經不安（C）這個事件發生時臺灣處於封閉社會完全無法得知外來狀況（D）這個事件發生後臺灣部分人士繼續透過各種方式推動民主運動。

10.二十世紀初期，霍亂、瘧疾等傳染病在臺灣相當普遍，對當時政府而言，防治傳染病是刻不容緩的議題。下列何者「最不可能」是當時採行的措施？(A)日本在臺藉印製傳單、舉辦演講，推行衛教課程、普及衛生知識(B)警察協辦衛生及防疫宣導演講(C)舉辦各項衛教抽獎活動，積極宣導防癌觀念(D)積極宣導民眾施打預防針以避免受傳染病感染。

11.右圖為民國 70 年代臺灣某雜誌的封底，藉此表達該雜誌社的政治訴求。請問下列相關敘述何者最為正確？(A)圖中內容起因於民國 38 年臺灣省頒布《動員戡亂時期臨時條款》對人民諸多限制(B)圖中訴求政府應妥善處理「雷震事件」避免造成族群紛爭(C)該內容是希望回歸憲法賦予人民的基本人權(D)由於人民不斷爭取，政府終於在民國 80 年開始放寬對人民的諸多限制。



我們要求
新聞及言論自由的四項標準：
1. 人民辦報刊不必先經核准；如有所謂登記，也只是報告性質。
2. 新聞不必事先檢查。
3. 對報刊任何處分，必須交由司法獨立審判。
4. 報刊如有違法被法庭處罰者，只限報業負責人，不影響報刊生存。

12.以下是一首描述民國 36 年某事件的詩作：「五十年的黑夜／一旦明了天／五十年的屈辱／一顆熱淚把它洗乾／祖國，你成了一伸手／就可以觸到的母體／不再是只許壓在深心裡的／一點溫暖／五百天／五百天的日子／還沒有過完／祖國，祖國啊！你強迫我們把對你的愛／換上武器和紅血／來表現！」下列敘述何者最為正確？(A)該事件的發生與戰後初期政治、文化、經濟等相關問題有關(B)事件後政府以行政長官公署取代原本的臺灣省政府(C)最後政府成功壓制主導事件的共產勢力(D)事件後本省與外省間的隔閡消失，倖存菁英積極參與政治。

13.大正 7 年(西元 1918 年)夏天，林獻堂在東京成立「六三法撤廢期成同盟」，還未正式運作即轉而結成「啟發會」。「六三法撤廢運動」的主要宗旨是取消總督的特別立法制，……，大正 9 年(西元 1920 年)後逐漸轉型為「臺灣議會設置請願運動」。下列敘述何者最為正確？(A)「臺灣議會設置請願運動」目的是要爭取人民立法權(B)「臺灣議會設置請願運動」最後獲得日本政府同意設立議會(C)因為成功爭取設立臺灣議會，所以該運動於西元 1934 年宣布終止(D)隨著運動終止，日本對臺灣統治立即進入皇民化運動時期。

14.臺灣某一時期，在某個公共集會上，出現以下內容：「感謝在場各位參與本次風俗改革，相信透過本次活動的參與，可以讓大家獲得更健康的身體、更美滿的生活，各個家戶也可以增加更多的生產力，我們等待到十二點時，再來共同進行我們的本次活動，拿掉束縛我們的布帛，邁向更好的生活與未來。」下列何者錯誤？(A)這可能是集體放足大會(B)隨著活動的推展，帶動現代服飾業的興起(C)這個活動最早應該出現在日治時期(D)推動這個活動的是行政長官後藤新平。

15.下文為某位臺灣作家文章節錄：「『五十年的霸者』離開後，臺灣人對『新政府』抱著莫大希望，以為自此能過上更好的生活。但現在政府施政不當、臺人不受重用、經濟蕭條……，那種歡迎『新政府』時的熱烈情緒，似乎付諸東流，甚至怨聲遍地……。」根據上文，下列敘述何者錯誤？(A)『五十年的霸者』是指日本(B)『新政府』是指中華民國(C)帶來當時經濟蕭條的原因是經濟管制、米糧短缺(D)最後民怨四起引發美麗島事件警民衝突。

16.臺灣文化協會是日治時期的重要團體，根據研究統計，西元 1921 年加入的會員以醫師、公學校畢業生、曾留學者與地主為主，學校畢業生有臺北工專 3 名、臺灣醫專 49 名、高等農林 30 名、臺北師範 136 名、臺中商業 61 名。根據上述資料，下列何者最為正確？(A)為推廣大家說日語，因此參與的教師人數很多(B)參與的分子來自社會各階層，因此思想觀念容易有分歧(C)這些知識分子接受日本新式教育後，積極成立團體協助總督府統治臺灣(D)醫專畢業生人數眾多主因是他們想爭取直接進入臺北帝國大學就讀。

17.某資深新聞記者曾提到：「每當十月份所謂的普天同慶時，也是我們電視及新聞工作人員面臨關頭、要度過艱難困苦的一個月之時……雙十節這天，不能發生不吉利的新聞，任何火警、兇殺、搶劫、車禍等社會新聞案件一律不播出，就連地震都不能發生。」根據上文描述，下列何者最為正確？(A)該內容時代背景是日本統治時期(B)該狀況會在民國六十年代初期解除(C)造成上述內容的主因是當時政府管制新聞媒體(D)這段時間臺灣人對於西方的民主、科學等觀念一無所知。

【公民科】18-33 題

18. 台灣主要的發電來源源自於火力發電。火力發電廠在過程中會排放廢氣出來，這些產生出的廢氣就像一把無形的刀，每天在我們的生活中慢慢的傷害民眾，甚至還將會傷害到自然環境，加害空氣污染及溫室效應。許多過去反對核電的人，現在則主張核電不會直接排放溫室氣體又兼具供電穩定的優點，因而轉向支持重啟核電。由此可知，公共意見存在哪一種特性？(A)公開性 (B)差異性 (C) 變動性 (D)影響性。
19. 在民主國家，我們可以自由加入各種志願結社團體，下列關於團體的敘述何者正確？
(A)我們可以加入幫派，結交好朋友 (B)家庭是我們第一個加入的志願團體 (C)加入團體必須滿 18 歲，國中生還不行 (D)學校籃球隊的隊員符合志願團體的定義。
20. 承上題，在民主國家，可以自由加入各種志願結社團體是受到我國哪一部法律明文保障人民的結社自由？
(A)《組織犯罪防制條例》 (B)《憲法》 (C)《民法》 (D)《性別平等教育法》。
21. 藝人大 S 因流感併發肺炎在日本逝世，享年 48 歲。大 S 猝逝讓原本打氣不高的流感疫苗引發搶打潮，疫苗供不應求。由於打氣飆升、行政院指示疾管署增購 10 萬劑流感疫苗，並在決標後跟各地方衛生局開會討論疫苗分配狀況。上述內容展現的公共意見特性，與下列何者相同？
(A)交通事故頻傳，網路上討論「臺灣是行人地獄」的文章高達數百篇
(B)有些民眾贊成繼續興建核電廠，同時也有民眾反對繼續興建
(C)有些原本支持興建核電廠的人士，現今改變立場反對核電廠
(D)政府為了順應民意，修正相關法律加重汽機車違規時的處罰。
22. 右圖為鷺江國中獎學金公告。這是由慈善團體提供學生獎助學金，讓符合資格的學生申請。洋洋想申請獎學金、卻不符合慈善團體所要求的申請條件。請問：底線處所展現的志願結社特徵，與下列何者相同？
(A)世界展望會有制度化的組織分工
(B)棒球球員工會是由球員組成，不屬於政府機關 (C)喜憨兒烘焙坊的盈餘用來協助喜憨兒的終生教育與照顧 (D)地球公民基金會自發性推動各項環境保育，達到團體的工作目標。
23. 中天綜合台 112 年 6 月 23 日「同學來了」節目，內容描述該集來賓在 KTV 包廂唱歌喝醉時會跳舞、脫衣，出現性暗示之言語與動作，內容易造成兒少模仿或型塑兒少錯誤之價值觀，處新臺幣 40 萬元罰鍰。甲呼籲，對於電視節目內容取材及編排均予以尊重，惟業者仍應以觀眾收視權益為依歸，應自律落實節目分級規定及注意保護兒少身心健康，遵守相關規定以符合法令規範，共同建構健康傳播環境。請問：甲應是指下列哪一個政府單位？
(A)國家通訊傳播委員會(NCC) (B)新聞局 (C)國家安全局 (D)大陸委員會。

獎學金項目	申請條件
1 新元慈恩	1.導師審定孝行、品德足以成為他人模範之清寒優秀學生(清寒學生資格認定: 低收入、中低收入、弱勢兒少、身心障礙學生或導師認定之清寒。) 2.無曠課紀錄 3.無警告以上懲處紀錄 4.往年未曾接受新元慈恩獎助學金補助者
2 軍公教遺族子女就學補助	軍公教人員因作戰、因公、因病或意外死亡，其婚生子女、養子女或無子女者之同胞弟妹就讀本市所屬公立高中職及國民中小學者

題組(一)

荒野保護協會是一個由平凡老百姓自發組成的環境保護團體。自 1995 年成立以來，以關懷台灣為出發點，放眼全世界，致力以全民參與的方式，透過自然教育與守護行動，推動台灣及全球荒野保護的工作，為我們及下一代締造美好的自然環境。

荒野保護協會共有 20 多名全職工作人員，除了台北總會外，共有 9 個分會及 12 個聯絡處，以及 3 個海外分會。12 個工作委員會由專業人士擔任義務委員，為會務決策及工作項目提供專業意見。目前共有超過 11,000 個會員家庭。

荒野保護協會成立 12 年來，累積許多人的熱誠、善意與願力，大家齊力以自然教育、參與環境議題、保育自然棲地、社區生根、推動義工組織等方式，為保護台灣環境做出無私且非凡的貢獻，並繼續朝向專業化、社區化與國際化邁進。

24. 由文中可知、荒野保護協會是一個由平凡老百姓自發組成的環境保護團體，可顯現出志願結社的哪項特徵？
(A)民間性 (B)組織性 (C)自主性 (D)非營利性。
25. 文中說明荒野保護協會除了台北總會外，共有 9 個分會及 12 個聯絡處，以及 3 個海外分會，顯現出志願結社的哪項特徵？(A)民間性 (B)組織性 (C)自主性 (D)非營利性。

26. 「荒野保護協會」致力於自然教育、參與環境保護議題，除了向一般社會大眾募款外，也販賣荒野系列卡片、徽章、領巾、筆記書、機能性綠 T 等商品，藉此增加收入致力達成公益目標。上述最能凸顯出志願結社的哪一種特徵？
 (A)志願性 (B)組織性 (C)非營利性 (D)自主性。
27. 兒童是環境污染的最大受害者！荒野保護協會號召台中萬人響應反空污找藍天大遊行，要求政府提出有效政策，全面翻修空污法、落實空污治理，改善空氣。依上文內容可以看出該聯盟的作法展現出志願結社對公共生活的哪些影響？(甲)擴大個人影響力 (乙)加強政府統治 (丙)監督政府施政 (丁)透過企業增進公共利益。
 (A)甲乙 (B)丙丁 (C)甲丙 (D)乙丁。

(二)

隨著時代演進、國際潮流逐漸邁向廢除死刑，我國對於死刑的存廢也開始有不同意見。然而 2014 年北捷殺人案、2015 年小燈泡命案、2023 年割割遭虐死案至 2025 年張介宗連續殺人案，殺人者手法越發兇殘、駭人聽聞，網路論壇上也不斷出現要求政府加速執行死刑的呼籲。

然而，去年憲法法庭作出嚴格限縮死刑的釋憲判決後，引來社會上對於政府「實質廢死」的質疑。根據最新一份有關民眾對治安議題的調查顯示，有高達 87.97% 民眾不贊成廢除死刑。學者指出，歷年調查結果，台灣反對死刑的比例穩居 7 至 9 成。顯示多數台灣民眾對於維持現行死刑制度具堅定支持。

死刑存廢深受社會風氣與價值觀演進影響，且涉及法律正義與人權保障的複雜議題，政府對於此應審慎權衡社會主流意見與結合國際趨勢，透過深化公共討論與理性辯證，對死刑存廢議題進行更安全且縝密的思考。

改寫於網路新聞

28. 請問，根據文中針對死刑議題的討論與民調，符合公共意見的什麼特性？ (A)公開性 (B)差異性 (C)變動性 (D)影響性。
29. 劉姓保母姊妹涉虐死男童「割割」，被檢方依妨害幼童自然發育等罪嫌起訴。保母虐死男童案第 4 次開庭當天，有許多民眾在法院前高舉紙板表達「虐童致死，唯一死刑」的訴求，對此律師林智群認為，此立法方向並不妥當，他擔憂若此制上路，加害人在兒童瀕死時會藏起兒童而非送醫，以免於被判死刑。貼文一出，引起支持方與反對方論戰。這顯示了民意具有哪一種特性？ (A)公開性 (B)差異性 (C)變動性 (D)影響性。

(三)

電視媒體報導：某立委在在臉書上公布外交部何姓專委照片與資訊，指稱其為共諜。並在立法院質詢時指控，北美司何姓專委是共諜，但卻遭外交部打臉、指其提供的照片、職位是誤用外交部另一位同名同姓的常任文官。而該立委事後在臉書貼文中加上數行文字稱「不慎使用錯誤照片」並向該遭誤指為共諜的常任文官道歉。

當事人妻子在臉書上發文痛斥，並揭露私下接獲道歉時感受到「施壓與霸凌」。何姓專委太太今日中午在 Threads 上表示，雖然這位立委三度道歉，但其栽贓陷害的臉書文仍有 236 個分享、讓她實在無法接受她的道歉

摘自 Newtalk 新聞

30. 根據文內容可知，立委的烏龍爆料讓無辜的人慘淪共諜，下列哪一種說法是正確的？
 (A)網路資訊都是最快最正確的 (B)思考媒體所呈現的訊息是否真實 (C)媒體不容易影響人民的想法跟意見
 (D)民眾有言論自由，傳假新聞不會有法律責任。
31. 爆料立委事後在臉書貼文中加上數行文字稱「不慎使用錯誤照片」並向該專委道歉。當事人妻子也發文痛斥，並揭露私下接獲道歉時感到「施壓與霸凌」。請問其各自發文的舉動下列敘述何者正確？
 (A)兩人具備媒體識讀能力 (B)結果顯示公共意見的影響性
 (C)兩位都有使用媒體傳遞訊息的權利 (D)應嚴守媒體自律精神。
32. 隨著網路社群普及，越來越多民眾藉此來批評體制或抒發情緒，甚至喜歡以匿名的方式來表達自己的意見。但傳播媒體在報導、轉載這些網路意見時，應當思考這些「意見」對社會造成的影響，此行為屬於下列何種概念？
 (A)媒體自律 (B)媒體識讀 (C)言論自由 (D)新聞自由。
33. 行政院設置「即時新聞澄清平臺」，也與社群媒體 LINE 合作，推出「LINE 謠言查證」，最主要的目的是為了防止假新聞誤導民眾。請問下列何者不是辨別假訊息的方式？(A)對資料來源進行查證 (B)向專家求證或查詢相關網站
 (C)查核作者真偽及其信譽 (D)堅持相信知名網紅的見解與說法。

【地理科】34-50 題

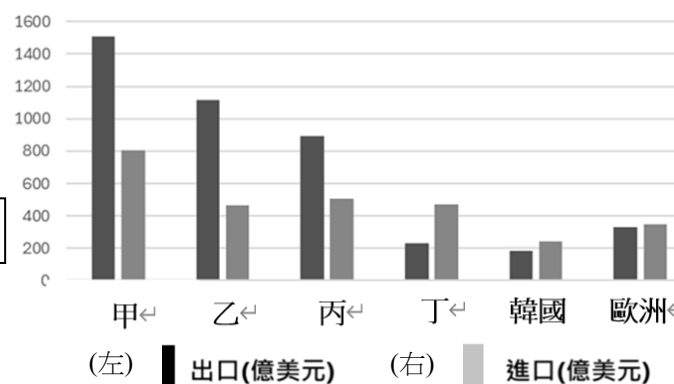
34. 表(一)為四個城市人民從事產業比例圖，請依表中資料判斷，哪一個城市經濟的發展程度最低？

(A)甲 (B)乙 (C)丙 (D)丁。

城市	第一級產業	第二級產業	第三級產業
甲	80%	10%	10%
乙	30%	50%	20%
丙	10%	30%	60%
丁	35%	35%	30%

表一

35. 圖(二)為 2024 年臺灣主要貿易國家的貿易額統計資料。請依據表中資料判斷，何者最有可能為「日本」？(A)甲 (B)乙 (C)丙 (D)丁。



圖二

36. 台灣青年農民（青農）近來努力學習「無人植保機」，目前全臺約有上百架植保機集中於雲嘉南地區。一分地噴藥時間從一小時縮為兩分鐘，省時省人力提升了至少 30%的效率，且不再近距離使用農藥，更能保障農民健康。上述植保機的運用，可以因應目前臺灣何項農業發展的現況？(A)農產品商品化 (B)農業勞力老化 (C)耕地面積狹小 (D)拓展休閒農業。

37. 太平島位居南海的南沙群島，目前由高雄市旗津區中興里管轄。2016 年，國際常設仲裁法院裁定南沙群島的所有海上地物，包括太平島，均為岩礁，亦即不得享有超過 12 浬之海洋權利。對此，總統府隨後發表聲明，表示絕不接受，也主張此仲裁判斷對中華民國不具法律拘束力。如果根據仲裁結果，最有可能影響臺灣哪種漁業的捕撈範圍？(A)養殖漁業 (B)沿岸漁業 (C)近海漁業 (D)遠洋漁業

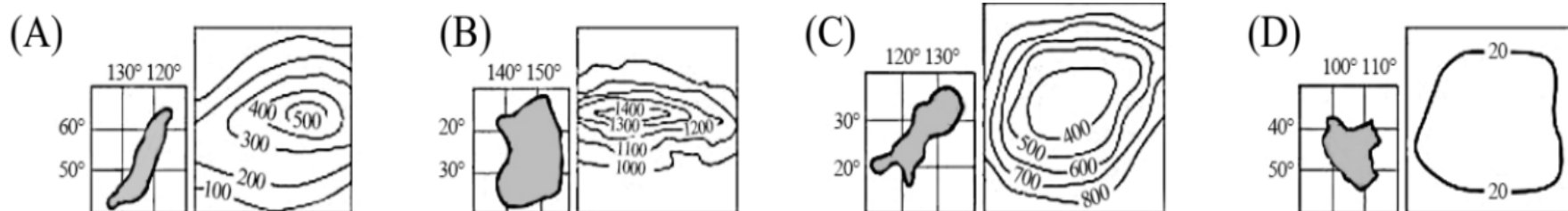
38. 表(二)為 2021 年臺灣前六大進出口貨品，根據表中資料判斷，可以得知臺灣該年的國際貿易具有下列何種特色？

排名	進口貨品	金額(億美元)	出口貨品	金額(億美元)
1	積體電路	814	積體電路	1555
2	生產半導體之機械	254	電腦零組件	176
3	原油	199	電腦及其附屬單元	120
4	液化天然氣	114	儲存媒體	106
5	石油煉製品	95	手機及通訊器	102
6	煤	84	石油煉製品	97

表二

(甲)工業原料的出口為重要收入 (乙)臺灣為高科技產品製造基地 (丙)台灣缺乏礦產資源，仰賴國外進口 (丁)石油煉製品為重要入超貨品 (戊)台灣 2021 年的國際貿易為入超 (A)甲乙 (B)乙丙 (C)丙丁 (D)丁戊

39. 臺灣素有「水果王國」之稱，這是因為臺灣水果種類繁多，有溫帶水果，例如：蘋果、水蜜桃；也有熱帶水果，例如：香蕉、芒果。請問：臺灣的自然條件與下列哪一個島嶼較為相近？



40. 根據農委會 2018 年的調查，臺灣有機稻穀平均每公頃生產費用佔比分析如表(三)：

種苗籽費	9%	工資	55.8%
材料費	0.2%	購水費	0.5%
病蟲防治製劑費	1%	農舍費	2.3%
肥料費	15.7%	農具費	0%
地租或佃租	15.3%	資金利息	0.1%

表三

由表(三)資料可知，臺灣農業具有何種特色？(A)農耕技術進步 (B)人力成本高 (C)農業商品化 (D)勞動力老化

41. 台灣加入世界貿易組織(WTO)之後，需開放農產品市場，台灣農業面臨來自低成本國家的競爭。下列哪一項產品，較不易被國外進口的產品所取代？(A)稻米 (B)茶葉 (C)鮮奶 (D)葡萄酒。

42. 台灣是一個山多平原少的島嶼，耕地面積僅約 21.5%，再加上人口密集的自然、人文條件影響，以下何者並不是解決此環境問題的因應策略？(A)經營集約農業 (B)畜產方式以欄牧為主 (C)提升農業技術以增加產量 (D)加入世界貿易組織，增加農產品的競爭力。

43. 台灣工業發展自 50 年代至今，產業類不斷改變，若依其發展順序加以排列，其生產的產品排序應該為何？(甲)手機、電腦 (乙) 雨傘、成衣 (丙)石化產品 (丁)晶圓、晶片。(A)甲乙丙丁 (B)乙丙甲丁 (C)丙丁甲乙 (D)丁丙乙甲。
44. 圖(三)台灣 2004 年與 2024 年台灣市值前十大企業，從圖中可看出台灣自 90 年代資訊電子產業起飛以來，儼然已成台灣經濟的重要支柱。從圖中我們可以判斷出台灣產業的哪項趨勢？(甲)前十大企業多為製造技術門檻較高的產業 (乙)傳統產業勢微是因為台灣勞動力不足 (丙)高科技產業為我國主要的出口產品 (丁)工廠多設在原料產地 (戊)產業由勞力密集度高，轉向技術密集度高。(A)甲丙 (B)甲戊 (C)乙戊 (D)丁戊。

台灣前十大企業 天下雜誌

傳產曾佔一半，如今全軍覆沒

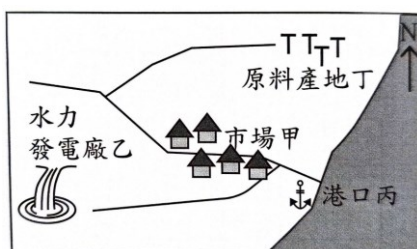
2004與2024年台灣市值前十大企業

2004年		排名	2024年	
科技業	台積電	1	台積電	科技業
服務業	中華電信	2	鴻海	科技業
金融業	國泰金	3	聯發科	科技業
傳產	台塑化	4	富邦金	金融業
科技業	鴻海	5	廣達	科技業
科技業	聯電	6	台達電	科技業
傳產	中鋼	7	國泰金	金融業
傳產	南亞	8	中華電信	服務業
傳產	台化	9	中信金	金融業
傳產	台塑	10	日月光投控	科技業
5家		傳產家數	0家	

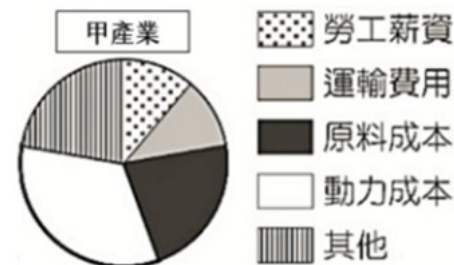
圖三

45. 超人是曼威集團的老闆，他決定要投資臺灣的某項產業，圖(四)是超人根據原料、成品特性預估的各項成本統計圖。若超人想要節省最高成本的項目，他應該要把工廠設置在圖(五)的哪個地點附近？(A)甲 (B)乙 (C)丙 (D)丁。

圖五

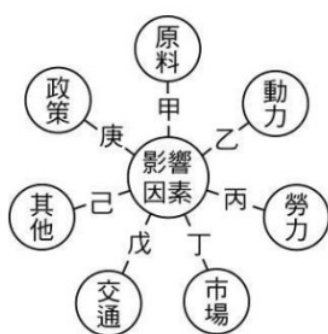


圖四



46. 臺灣四家企業為了提升競爭力而採行的方法，其中何者主要是為了達到增加產品附加價值的目？(A)遠洋漁業自東南亞引進國際移工 (B)造船廠設置在高雄臨海工業區內 (C)水泥工業從嘉南平原遷廠到花蓮 (D)製鞋廠回收牡蠣殼製作環保球鞋。
47. 下列關於臺灣「國際貿易」的敘述，何者正確？(A)向來是以原料輸出為主 (B)長期處於入超狀態 (C)臺灣主要交易市場在亞洲 (D)進口產品最大比例來自美國。
48. 美國總統川普於 2025 年 4 月宣布，對來自台灣的产品（如食品、農產品、電子產品、機械設備等）課徵 32%關稅，僅半導體、藥品、能源產品等少數項目獲得豁免。此舉可能造成台灣部分產業出口下滑影響就業，並促使產業尋找其他市場或在海外設廠。若台灣企業想減少對美國市場的依賴，最可能採取下列哪一項行動？(A)將全部產品改為內銷 (B)開拓東南亞與歐洲等新市場 (C)把所有工廠關閉 (D)專門製造低價產品。

題組(二):右圖為影響工業發展的因素，請問:



49. 現今臺灣地名有出現「廊」字的地方，說明該地在 19 世紀曾有傳統的製糖活動。而某人欲以臺灣各地形區的面積資料圖層與地名的點資料圖層，統計每個地形區中含有「廊」的地名數量。請問「廊」的設立地點，最符合下列何種工業區位的考量？(A)甲 (B)乙 (C)丁 (D)戊。
50. 飲料巨頭可口可樂 (Coca-Cola)，是在此次新型冠狀病毒肺炎疫情中受傷較小的公司，歸功於可口可樂自稱為「可口可樂系統」的經營模式。這套系統由可口可樂公司和獨立的「裝瓶廠」組成，可口可樂公司把糖漿原液賣給裝瓶廠，裝瓶廠再依照生產要求，將原液稀釋、裝瓶、最後出售，大部分我們喝到的可口可樂都不是可口可樂公司生產的，而是由各地的裝瓶廠區籌措資金、雇用當地員工，負責在地的製造、運輸和零售端銷售事宜，也因為製造、配銷都發生在同一地區，因此在疫情衝擊全球產業生產線下，可口可樂的生產與銷售依舊能暢行無阻。目前世界各地總計有 225 家授權裝瓶廠。而省下來的資源，可口可樂公司就可以專心投注於品牌經營、企業形象廣告等增加企業價值的核心事務上。請問：下列何者最可能是可口可樂裝瓶廠的最佳設廠區位？(A)甲 (B)丙 (C)丁 (D)庚。

本試題卷結束