




新北市立鷺江國中 112 學年度第一學期第 3 次定期評量

八 年 級 國 文 科 試 題 分 析

題 號	答對率/ 鑑別度指標	題 目
5	0.23	<p>下列「」中的讀音，何者正確？</p> <p>(A) 無所「忌憚」：ㄌㄧ ㄉㄨ ㄋㄟ (B)「搔首」弄姿：ㄌㄠ ㄠ ㄩ ㄨ ㄨ</p> <p>(C) 味道「腥臊」：ㄊㄧ ㄌㄠ ㄠ ㄠ ㄠ</p> <p>(D)「柑橘」的清香：ㄍㄨ ㄋㄟ ㄌㄠ ㄨ</p>
分析 內容	正解為 B。題型完全出自指定習作，未有太多變化，故偏易。	
17	0.79	<p>在〈鳥〉一文中，作者主要運用哪一種視角來描寫鳥的各種叫聲？</p> <p>(A) 個人想像 (B) 他人模仿</p> <p>(C) 個人觀察 (D) 書籍記載</p>
分析 內容	正解為 C。題型為測試學生對課文內容是否熟習，能誦讀課文者即能熟記，故偏易。	

新北市立鶯江國中 112 學年度第 1 學期第 3 次定期評量

____ 八 ____ 年級 ____ 英語 ____ 科 試題分析

題號	答對率/ 鑑別度指 標	題目
003	93 / 0.14	<div style="display: flex; justify-content: space-around; align-items: flex-start;"> <div style="text-align: center;"> <p>(A)</p>  </div> <div style="text-align: center;"> <p>(B)</p>  </div> <div style="text-align: center;"> <p>(C)</p>  </div> </div> <p>一、辨識句意：根據聽到的內容，選出符合描述的圖片。</p> <p>3. The Stone family went to Japan by airplane yesterday.</p>
分析 內容	聽力第 3 題，因為題目主要以課本後面題目改的，學生又較熟悉 Japan 這一字，看圖即能判斷，故答對率相對較高。	
042	45 / 0.24	<p>三、克漏字選擇（第 38~45 題，每題 2 分，共 16 分。）</p> <div style="border: 1px solid black; padding: 10px; margin: 10px 0;"> <p>Kim: There ____ 38 ____ a Christmas party tomorrow. We need ____ dressing up. How do you like the sweater?</p> <p>Cody: You'll ____ 40 ____ a walking Christmas tree.</p> </div> <p>40. () (A) like (B) liking (C) be like (D) don't like</p>
分析 內容	<p>三、克漏字選擇</p> <p>因為要學生鼓勵多讀課本文章，這一題出自課文，只要學生能看懂課本文</p>	

章 will be like 的用法，即能找出相關答案對否。故答對率相對較高，鑑別度較低。

8年級 第03次 段考 英語文 選項分析

全體						
題號	答案	題型	答對率	A(%)	B(%)	C(%)
001	C	1	88.3	9.2	2.5	88.3
002	A	1	87.5	87.7	9.9	3.3
003	B	1	96.2	1.3	96.2	2.5
004	A	1	40.8	40.8	27.0	30.8
005	C	1	81.0	7.1	10.7	81.0
006	A	1	83.0	83.0	7.7	8.6
007	B	1	74.5	9.4	74.5	14.9
008	C	1	71.0	10.2	17.0	71.0
009	C	1	63.2	13.4	22.8	63.2
010	B	1	40.6	23.0	49.6	25.3
011	D	1	71.3	10.1	8.8	3.6
012	D	1	83.5	3.1	5.6	7.9
013	A	1	68.8	68.8	9.2	15.3
014	B	1	40.4	4.6	40.4	23.4
015	D	1	56.1	14.6	10.7	18.0
016	D	1	62.1	7.9	12.3	17.6
017	A	1	66.5	66.5	11.3	9.6
018	B	1	84.9	4.4	84.9	6.7
019	A	1	82.0	82.0	6.9	6.7
020	A	1	53.6	53.6	13.4	22.2
021	C	1	82.4	3.4	6.9	82.4
022	B	1	67.4	12.3	67.4	15.7
023	D	1	82.2	5.6	5.2	7.1
024	C	1	72.2	9.0	5.6	72.2
025	B	1	65.9	5.9	65.9	6.3
026	A	1	75.7	75.7	4.6	8.8
027	C	1	69.0	14.6	7.7	69.0
028	A	1	31.2	31.2	28.5	14.2
029	D	1	37.0	21.8	14.2	26.8
030	D	1	68.8	14.2	9.0	7.7
031	B	1	75.9	5.4	75.9	10.5
032	D	1	79.1	5.7	8.6	6.3
033	A	1	78.7	78.7	6.5	9.4
034	C	1	43.7	46.4	4.2	43.7
035	D	1	84.5	3.4	4.8	7.3
036	C	1	64.9	9.8	12.8	64.9
037	B	1	62.5	11.9	62.5	13.2
038	D	1	61.5	10.7	13.8	13.6
039	B	1	70.1	10.3	70.1	9.4
040	C	1	44.4	42.9	6.1	44.4
041	D	1	53.8	20.1	13.8	11.7
042	A	1	55.9	55.9	8.0	20.3
043	C	1	37.0	36.6	17.0	37.0
044	C	1	49.6	6.3	29.9	49.6
045	D	1	35.2	15.1	38.3	10.3
平均答對率			65.63			

8年級 第03次 段考 英語文 試題分析表

題號	高分組	低分組	難易度	鑑別度
001	1.00	0.67	0.83(易)	0.33(優良)
002	0.99	0.56	0.78(易)	0.43(非常優良)
003	1.00	0.86	0.93(易)	0.14(不判)
004	0.79	0.18	0.48(中)	0.61(非常優良)
005	0.99	0.43	0.71(易)	0.57(非常優良)
006	0.92	0.57	0.74(易)	0.35(優良)
007	0.96	0.42	0.69(中)	0.55(非常優良)
008	1.00	0.33	0.66(中)	0.67(非常優良)
009	0.96	0.21	0.59(中)	0.74(非常優良)
010	0.84	0.35	0.60(中)	0.50(非常優良)
011	0.99	0.26	0.62(中)	0.74(非常優良)
012	1.00	0.46	0.73(易)	0.54(非常優良)
013	0.91	0.37	0.64(中)	0.55(非常優良)
014	0.80	0.23	0.51(中)	0.57(非常優良)
015	0.93	0.25	0.59(中)	0.68(非常優良)
016	0.96	0.21	0.59(中)	0.75(非常優良)
017	0.99	0.25	0.62(中)	0.74(非常優良)
018	0.99	0.45	0.72(易)	0.54(非常優良)
019	0.99	0.45	0.72(易)	0.54(非常優良)
020	0.94	0.23	0.59(中)	0.72(非常優良)
021	0.99	0.48	0.73(易)	0.51(非常優良)
022	0.96	0.25	0.61(中)	0.72(非常優良)
023	1.00	0.45	0.73(易)	0.55(非常優良)
024	0.96	0.40	0.68(中)	0.57(非常優良)
025	0.96	0.35	0.66(中)	0.61(非常優良)
026	0.99	0.37	0.68(中)	0.62(非常優良)
027	0.92	0.33	0.62(中)	0.60(非常優良)
028	0.60	0.28	0.44(中)	0.32(優良)
029	0.74	0.18	0.46(中)	0.57(非常優良)
030	0.99	0.25	0.62(中)	0.74(非常優良)
031	0.99	0.26	0.62(中)	0.72(非常優良)
032	1.00	0.33	0.67(中)	0.67(非常優良)
033	1.00	0.30	0.65(中)	0.70(非常優良)
034	0.62	0.30	0.46(中)	0.32(優良)
035	1.00	0.45	0.72(易)	0.55(非常優良)
036	0.96	0.28	0.62(中)	0.68(非常優良)
037	0.99	0.23	0.61(中)	0.78(非常優良)
038	0.94	0.27	0.60(中)	0.67(非常優良)
039	0.99	0.28	0.63(中)	0.72(非常優良)
040	0.57	0.33	0.45(中)	0.24(尚可)
041	0.94	0.16	0.55(中)	0.78(非常優良)
042	0.99	0.10	0.55(中)	0.89(非常優良)
043	0.57	0.26	0.42(中)	0.31(優良)
044	0.87	0.25	0.56(中)	0.62(非常優良)
045	0.73	0.25	0.49(中)	0.48(非常優良)

新北市立鷺江國中 112 學年度第一學期第三次定期評量

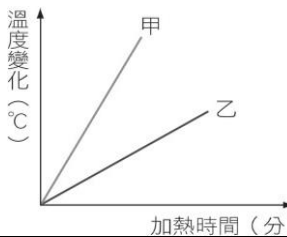
__八__ 年級 __數學__ 科 試題分析

題號	答對率/ 鑑別度指 標	題目																				
5	0.25	<p>5. () 右圖是某次數學競賽分數的累積相對次數分配折線圖。已知共有 100 人報考，若小穎的分數為 60 分，則小穎的分數贏過多少人？ 課 P208</p> <p>(A) 35 人 (B) 65 人</p> <p>(C) 80 人 (D) 45 人</p> <table border="1"><caption>Data points from the cumulative relative frequency graph</caption><thead><tr><th>分數(分)</th><th>累積相對次數 (%)</th></tr></thead><tbody><tr><td>20</td><td>0</td></tr><tr><td>30</td><td>30</td></tr><tr><td>40</td><td>40</td></tr><tr><td>50</td><td>45</td></tr><tr><td>60</td><td>65</td></tr><tr><td>70</td><td>80</td></tr><tr><td>80</td><td>90</td></tr><tr><td>90</td><td>95</td></tr><tr><td>100</td><td>100</td></tr></tbody></table>	分數(分)	累積相對次數 (%)	20	0	30	30	40	40	50	45	60	65	70	80	80	90	90	95	100	100
分數(分)	累積相對次數 (%)																					
20	0																					
30	30																					
40	40																					
50	45																					
60	65																					
70	80																					
80	90																					
90	95																					
100	100																					
分析 內容	此題答對率較高,顯示同學們對此概念較為熟悉																					

1. 各班平均分數分布 49.55 分-73.42 分

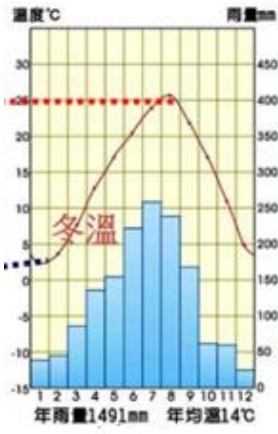
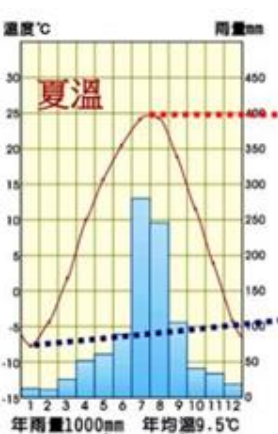
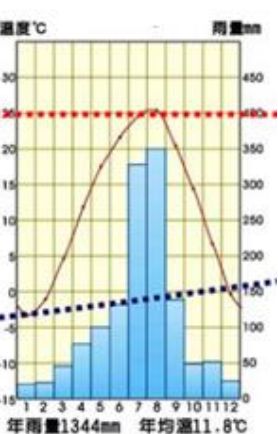
2. 難易度:難易適中


3. 平均答對率:61.45%


題號	答對率/ 鑑別度指標	題目												
6	答案:(D) 答對率:30.2% 難易度:0.37(中) 鑑別度:0.59 (非常優良)	用供熱均勻的酒精燈加熱甲、乙兩物質，實驗後得到溫度變化與加熱時間的關係如右圖所示。 6. 關於實驗的敘述，下列何者正確？ (A)甲、乙必為兩種不同的物質 (B)由圖可知兩者的比熱不同 (C)兩者開始加熱時的初溫都是 0℃ (D)加熱時間代表酒精燈提供熱量的多寡。 												
分析 內容	本題主要測驗學生是否理解溫度升降受物質質量及比熱影響。然而有 32.9%學生選(B)，可知學生粗心未考慮質量的影響僅習慣以比熱角度來判斷答案。													
12	答案:(A) 答對率:34.0% 難易度:0.43(中) 鑑別度:0.37(優良)	右表為一些常見物質的比熱，請回答下列第 10-12 題： 承上題，若再將這三種金屬固體分別投入 100℃ 且同體積的水中，當達到熱平衡之後，這三種金屬溫度的高低，下列何者正確？ (A)鉛>銀>鋁 (B)鋁>銀>鉛 (C)銀>鉛>鋁 (D)鉛=銀=鋁。 <table><tr><th>物質</th><th>比熱 (卡 / 公克 · °C)</th><th>物質</th><th>比熱 (卡 / 公克 · °C)</th></tr><tr><td>鉛</td><td>0.031</td><td>鋁</td><td>0.217</td></tr><tr><td>銀</td><td>0.056</td><td>水</td><td>1.0</td></tr></table>	物質	比熱 (卡 / 公克 · °C)	物質	比熱 (卡 / 公克 · °C)	鉛	0.031	鋁	0.217	銀	0.056	水	1.0
物質	比熱 (卡 / 公克 · °C)	物質	比熱 (卡 / 公克 · °C)											
鉛	0.031	鋁	0.217											
銀	0.056	水	1.0											
分析 內容	此題對學生而言應屬於多層次思考問題，測驗學生是否了解是否理解熱平衡原理及考量比熱對溫度變化的影響。由此題學生答題分佈情形中發現有近四成學生選(D)錯誤選項，表示學生認為三個物體皆可達到 100℃，卻忽略比熱的影響，可知此觀念需再加強。													
13	答案:(C) 答對率:31.0% 難易度:0.36(中) 鑑別度:0.51 (非常優良)	品諭想要自己製造一個溫度計，若由物質熱脹冷縮難易程度來考量，他應該以哪一種材料來做溫度計，靈敏度比較高？ (A)固態物質 (B)液態物質 (C)氣態物質 (D)目前溫度計皆以液態物質製作，故無法比較。												
分析 內容	此題主要測驗學生是否了解體積受溫度影響程度。由此題學生答題分佈情形中發現有近五成學生選(B)錯誤選項，可知學生受常用酒精溫計影響產生液態物質最適合做溫度計材料的迷失概念，應於課堂上再加強觀念。													

15	<p>答案:(B)</p> <p>答對率:41.3%</p> <p>難易度:0.53(中)</p> <p>鑑別度:0.70</p> <p>(非常優良)</p>	<p>最近天氣寒冷，<u>宛妘</u>想泡個熱水澡，若原來浴缸中的水溫度為30℃，在他加入80℃的熱水後，浴缸中的水溫度達到40℃。</p> <p>假設此過程中熱量損失很小，可以忽略，則<u>宛妘</u>一開始浴缸內的水質量是後來加入熱水質量的幾倍？</p> <p>(A)6 (B)4 (C) 3 (D) 2.5 。</p>
分析 內容	<p>此此題主要測驗學生是否理解熱平衡原理並正確使用 $H=M \times S \times \Delta T$ 進行推論。學生必須要先了解冷熱水混合時，吸收的熱量與放出熱量相同。學生若能列出算式，即可了解冷熱水質量與溫度變化成反比，即可求出答案，但邏輯能力差的學生可能因為無法推論出反比關係而亂猜，可於課堂上再加強推理能力。</p>	

新北市立鷺江國中 112 學年度第一學期第三次定期評量
八年級 社會科 試題分析

題號	答對率/ 鑑別度指標	題目
2	47.7	<p>圖一為朝鮮半島三大都市的氣候圖。下列關於三地氣候圖的解釋何者<u>錯誤</u>？(A)三地夏天雨量豐沛，主要是受到夏季西南季風的影響 (B)乙圖年溫差較大，代表緯度較高(C)甲圖年均溫較高，與緯度有關 (D)三地乾溼季分明皆為季風氣候區。</p> <div style="display: flex; justify-content: space-around; align-items: flex-end;"> <div style="text-align: center;">  <p>(甲)</p> </div> <div style="text-align: center;">  <p>(乙)</p> </div> <div style="text-align: center;">  <p>(丙)</p> </div> </div>
分析 內容		東北亞所處位置與中國北方差不多，所以季風方向和中國北方一樣，冬天西北季風，夏天吹東南季風，所以(A)選項夏天吹西南季風是錯誤的。宜再加強學生中國秦嶺—淮河以南和以北季風吹拂方向的不同。
3	45.2	<p>承上題，若要將以上三張圖(甲、乙、丙)由低緯度排至高緯度，其排列順序應該為何?(A)甲→乙→丙 (B)甲→丙→乙 (C)乙→丙→甲 (D)丙→乙→甲。</p>
分析 內容		緯度越高，年溫差越大；緯度越低，年溫差越小。從氣候圖中的月均溫曲線大小即可判斷年溫差大小。宜再加強學生年溫差大小的概念。
6	35.6	<p>日本政府一再強調「百歲人生時代」即將來臨，並積極推動勞動力市場改革，讓銀髮族繼續留在勞動隊伍。2013 年，日本《老年人就業穩定法》正式實施，規定企業有義務讓員工繼續工作至 65 歲。這個法令去年再修訂，將退休年齡延長至 70 歲。面對人口結構老化的社會，以下何者<u>不是</u>日本政府可能採取的因應措施？(甲)開放全面二胎，鼓勵生育並給予育兒津貼 (乙)鼓勵企業到海外投資，以解決勞工短缺的問題 (丙)推出無人商店，推行自動化機器服務系統 (丁)創新科技產業，如醫療發展遠距看診與外骨骼輔具 (A)甲 (B)乙 (C)丙 (D)丁。</p>
分析 內容		日本未實施一胎化，所以不會有開放二胎的問題，因此(甲)選項錯誤。
23	45	23. 老師要同學以自強運動為主題做一份報告，請問下列哪一個同學選的題目

		「不」恰當？(A) 京師大學堂的沿革 (B) 劉銘傳在台的建設 (C) 中國第一批留美學生的故事 (D) 總理各國事務衙門的設立。【正解：(A)】
分析內容		本提是測驗學生是否知道，自強運動推行的重要建設，其中 (A) 選項的京師大學堂為戊戌變法的改革內容，故答案選 (A)，答錯的學生大部分選 (B) 劉銘傳在台的建設，這是跨冊七年級學過的內容，建議教師在教學時，可以提醒學生做跨冊相關內容的連結。
30	41	<p>【題組二】小宇在書中看到右側的圖文，這是清末所留下的一份史料，標題「京城各國暫分界址全圖」，地圖上標示出北京城內外各國暫管地面和衙門的範圍，並且提及還有某一國士兵進據東北地區，請回答下列問題：</p> <p>30. 根據清末歷史發展判斷，請問下列哪一場戰爭，是由於當時進據東北地區的國家所引起？ (A) 日俄戰爭 (B) 八國聯軍 (C) 英法聯軍 (D) 甲午戰爭</p> <p>【正解：(A)】</p> 
分析內容		本題是測驗學生是否了解，日俄戰爭的起因是兩國為爭奪中國東北而開戰，答錯的學生大部分選 (B) 八國聯軍，推測學生應該是沒有正確解讀文意內容，而選擇了題幹一開始所敘述的八國聯軍的情形，教師在教學時可以多提醒，解題時要注意題目的關鍵字句再做答。
38	39.3%	<p>【題組 38-39】短文閱讀：</p> <div style="border: 1px solid black; padding: 10px; margin: 10px 0;"> <p>行政院長在聽取交通部報告「2030 年客運車輛電動化推動計畫 (113 年至 119 年)」後表示，經由 2020 年至 2022 年示範型計畫的推動，已成功扶植國內車廠投入電動公車自主設計開發及生產。而「2030 市區公車全面電動化」為達成「2050 淨零排放」非常重要的一步，除中央政府持續精進車輛技術、產業與補貼制度外，亦請各地方政府視各地情況與需求，協助輔導市區公車業者推動電動大客車，共同打造節能減碳的生活環境，讓民眾享受高品質的公共運輸。</p> <p style="text-align: right;">節錄改寫自《行政院網頁-新聞與公告》- 2023 年 06 月 01 日</p> </div> <p>38. 根據本文畫線段落，推知該政策能用以說明下列哪一項政治理念？ (A) 地方自治 (B) 均權制度 (C) 分權制衡 (D) 主權在民</p> <p>【正解：(B)】</p>
分析內容		❖ 畫線文字敘及中央政府與地方政府各司其職，分工合作，可知中央管全國一致性事務，地方可因地制宜，故正確答案應選(B)均權制度。多數(43.7%)答錯同學選(A)的理由是地方政府完成上級政府交辦的工作，有些誤解文意，也混淆地方自治和均權制度二者涵義，未來教學時應加強釐清。

43	47.9%	<p>【題組 43-44】附圖為我國第 17 案全國性公民投票的主文與投票數據：</p> <div style="border: 1px dashed black; padding: 5px; margin: 10px 0;"> <p>公投主文： 您是否同意核四啟封商轉發電？</p> </div> <div style="display: flex; align-items: center; justify-content: flex-end;">  <div> <p>同意 3804755</p> <p>不同意 4262451</p> </div> </div> <p>重啟核四</p> <p>註：這一項公投案將決定政府是否要規劃核四啟封並放入燃料棒運轉發電，或是維持封存狀態。</p> <p>43. 關於第 17 案全國性公投，下列相關敘述何者正確？</p> <p>(A) 本案公投結果是通過，核四重啟商轉發電</p> <p>(B) 形成集體決議，展現間接民主的理念</p> <p>(C) 實踐《憲法》保障人民的基本權利-複決權</p> <p>(D) 等待一年之後，可重新提出議案討論</p> <p style="text-align: right;">【正解：(C)】</p>
分析內容		<p>❖此題答對率不低(47.9%)，多數學生能選出正確答案。公民投票是「直接民主」理念的展現，而非「間接民主」，(34.7%)答錯同學選(B)，應是未仔細看題目或混淆直接民主和間接民主兩理念，未來教學時應加強說明，幫助學生辨別。</p>
44	41.2%	<p>44. 有關「公民投票」的資格和規定，下列敘述何者正確？</p> <p>(A) 公職人員替人民處理公共事務，落實人民主權精神</p> <p>(B) 公民投票流程依序：提案→公告→人民連署→投票</p> <p>(C) 年滿 20 歲的國民，設籍投票區四個月，享有投票權</p> <p>(D) 年滿 18 歲的國民，若被褫奪公權者，仍享有投票權</p> <p style="text-align: right;">【正解：(D)】</p>
分析內容		<p>❖此題其實是簡單的記憶題，但考驗學生是否夠仔細看題目敘述：</p> <p>(A) 公職人員替人民處理公共事務，落實人民主權精神 》選項敘述的是選舉，而非公投</p> <p>(B) 公民投票流程依序：提案→公告→人民連署→投票 》提案後要先連署</p> <p>(C) 年滿 20 歲的國民，設籍投票區四個月，享有投票權 》公投年齡是 18 歲</p> <p>(D) 年滿 18 歲的國民，若被褫奪公權者，仍享有投票權 》褫奪公權不剝奪投票權</p> <p>綜上，學生若不仔細閱讀題目，就很容易答錯。</p>
46	49.8%	<p>【題組 45-47】附圖為新北市行政區劃圖，下轄 29 區：</p> <p>46. 關於「蘆洲區」與「烏來區」的說明，何者正確？</p> <p>(A) 皆享有地方自治團體的地位 (B) 蘆洲區區民代表由新北市市長依法派任</p> <p>(C) 年滿 26 歲可參選蘆洲區區長 (D) 烏來區區長則是由烏來區居民投票選出</p> <p style="text-align: right;">【正解：(D)】</p>
分析內容		<p>❖此題考驗學生能否分辨一般「區」和「山地原住民區」的差別，有(49.8%)學生答對。若學生未能正確判斷「蘆洲區是直轄市下轄一般區，烏來區則是直轄市山地原住民區」，就會誤選其他三個答案。未來授課時，要請學生熟記六個直轄市山地原住民區，並釐清其中差別。</p>

49	38.7%	<p>【題組 48-50】新聞快訊：「中央選舉委員會公布，經中選會委員會議討論通過第 16 任總統、副總統與第 11 屆立法委員選舉投票日期及工作進程序表，定於 113 年 1 月 13 日（星期六）同日舉行投票。」</p> <p>49. 不斷有人呼籲當日於投票所要注意如右宣導事項(如右二則附圖)，請問：關於宣導圖片所示的措施，下列相關敘述何者正確？</p> <p>(A)右列措施是為了符合選舉的直接原則 (B)祕密投票原則，落實主權在民的精神 (C)保障不受威脅利誘，自由表達支持誰 (D)亮票是展現民主風度，並非違法行為</p> <div style="display: flex; justify-content: space-around; align-items: center;">   </div> <p style="text-align: right;">【正解：(C)】</p>
分析 內容		<p>❖學生看圖片內容很容易判斷出措施是符合<u>無記名</u>原則，又稱<u>祕密投票</u>原則，而該原則設計的目的為(C)保障不受威脅利誘。(50.2%)答錯學生選(B)，據學生表示是因看到選項(B)中的<u>祕密投票</u>四字就馬上作答，未把後續文字看完，更沒注意到(C)才是正確答案。請學生未來作答時，一定要仔細閱讀題目，把四個選項完整閱讀完再選擇答案，避免誤答。</p>
50	39.8%	<p>50. 上述兩項公職選舉於 1 月 13 日合併舉行，下列相關敘述何者正確？</p> <p>(A)定期舉行上述公職選舉，落實《憲法》保障人民的受益權 (B)我國總統、副總統選舉制度別有特色，採用單一選區兩票制 (C)政黨票得票比率 3%以上的政黨，才能分配全國不分區立委 (D)投票當日，原則上每位符合資格的選民，應領取三張選票</p> <p style="text-align: right;">【正解：(D)】</p>
分析 內容		<p>❖此題將簡單的記憶題混合詢問，考驗學生是否融會貫通：</p> <p>(A)定期舉行上述公職選舉，落實《憲法》保障人民的<u>受益權</u> ➤ <u>參政權</u> (B)我國總統、副總統選舉制度別有特色，採用單一選區兩票制 ➤ <u>立法委員</u> (C)政黨票得票比率 3%以上的政黨，才能分配全國不分區立委 ➤ <u>5%以上</u> (D)投票當日，原則上每位符合資格的選民，應領取三張選票</p> <p>綜上，學生若不背誦基礎知識，自然容易答錯，也要仔細看清楚題目。</p>